

কর্মসংস্থান

www.karmosangsthan.com

Vol. 35 ■ Issue No. 52 ■ 31st December 2022 ■ Saturday ■ Kolkata ■ R.N.I. 44167/88

রেলের গ্রুপ 'ডি'র ফল বেরোল

নিজস্ব সংবাদদাতা, কলকাতা : রেলের বিজ্ঞপ্তি নং আর.আর.সি ১/২০১৯ লেভেল-১ এর গ্রুপ 'ডি' পদের যে সি.বি.টি টেস্ট ১৭ আগস্ট থেকে ১১ অক্টোবর পর্যন্ত বিভিন্ন ফেজ 'এ' হয়েছিল, তার ফল বেরোল। সফলদের তালিকা সংশ্লিষ্ট বেলগুয়ে রিক্রুটমেন্ট বোর্ডের অফিসের **এরপর ৩ পাতায়**

ইসরোতে ৫২৬ ক্লার্ক, স্টেনো, অ্যাসিস্ট্যান্ট

গ্র্যাজুয়েট ছেলেমেয়ের জন্য

বোর্ড 'অ্যাসিস্ট্যান্ট', 'জুনিয়র পার্সোন্যাল অ্যাসিস্ট্যান্ট', 'আপার ডিভিশন ক্লার্ক' ও

নিজস্ব সংবাদদাতা, শ্রীহরিকোটা : ইন্ডিয়ান স্পেস রিসার্চ অর্গানাইজেশনের ইসরো সেন্ট্রালইজড রিক্রুটমেন্ট বোর্ড 'অ্যাসিস্ট্যান্ট', 'জুনিয়র পার্সোন্যাল অ্যাসিস্ট্যান্ট', 'আপার ডিভিশন ক্লার্ক' ও 'স্টেনোগ্রাফার' পদে ৫২৬ জন লোক নিচ্ছে। কারা কেন পদের জন্য যোগ্য : অ্যাসিস্ট্যান্ট: মোট অসুত ৬০% নম্বর পেয়ে ডিগ্রি কোর্স পাশরা যোগ্য। কম্পিউটারে কাজ চালানোর মতো দক্ষতা থাকতে হবে। 'শূন্য' পদ : আহমেদাবাদে ২৬টি (জেনার: ১০, ও.বি.সি. ৮, তজা: ২, তউজজা: ৪, ই.জু.এস. ২)। **এরপর ১৬ পাতায়**

কম্বাইন্ড ডিফেন্স সার্ভিস ও ন্যাশনাল ডিফেন্স অ্যাকাডেমি অ্যান্ড ন্যাভাল অ্যাকাডেমি পরীক্ষার মাধ্যমে

আর্মি, নেভি ও এয়ারফোর্সে ৭৩৬ অফিসার

ন্যাশনাল ডিফেন্স অ্যাকাডেমিতে ৩৯৫ অফিসার নিজস্ব সংবাদদাতা, নয়া দিল্লি : স্থলবাহিনী, নৌবাহিনী ও বিমানবাহিনী ৯ আস থেকে ২ বছর ১১ মাস ট্রেনিং দিয়ে অফিসার পদে ৩৪১ জন লোক নিচ্ছে। নেওয়া হবে এইসব বিভাগে: ইন্ডিয়ান মিলিটারি অ্যাকাডেমি, অফিসার ট্রেনিং অ্যাকাডেমি, ন্যাভাল অ্যাকাডেমি ও এয়ারফোর্স অ্যাকাডেমিতে। কারা **এরপর ৩ পাতায়**

কম্বাইন্ড ডিফেন্স সার্ভিসে ৩৪১ অফিসার নিজস্ব সংবাদদাতা, নয়া দিল্লি : ভারতীয় স্থলবাহিনী, নৌবাহিনী ও বিমানবাহিনী ৯ আস থেকে ২ বছর ১১ মাস ট্রেনিং দিয়ে অফিসার পদে ৩৪১ জন লোক নিচ্ছে। নেওয়া হবে এইসব বিভাগে: ইন্ডিয়ান মিলিটারি অ্যাকাডেমি, অফিসার ট্রেনিং অ্যাকাডেমি, ন্যাভাল অ্যাকাডেমি ও এয়ারফোর্স অ্যাকাডেমিতে। কারা **এরপর ৩ পাতায়**

Academic Excellence & Education Conclave Award 2022 'Uttaran' গ্রাপু প্রতিষ্ঠান

বিবেকানন্দ আশ্রমিক কোটিং সেন্টার An ISO 9001 : 2015 Certified, Govt. Regn. No : [MAS-1/471, L-76204], Maslandapur, North 24 Parganas জীবন মুক্কে থাকবো পাশে **শুক্র দাব কোটিং: ২৪ বছর**

RPF ব্যাচ শুরু জানুয়ারি প্রথম সপ্তাহে

আপার প্রাইমারী ব্যাচ শুরু 10th January 2023 ক্লাস হবে বারাসাত, সিমলাপাল, সোনারপুর, তমলুক ও হেড অফিসে

SLST ক্লাস চলছে M: 9091003392

আর্মি নার্সিং ক্লাস শুরু 25th January 2023

AIRFORCE X&Y ব্যাচ শুরু 5th January 2023

রাইল গ্রুপ C/D ব্যাচ শুরু 5th January 2023

WBCS ক্লাস চলছে বারাসাত শাখায় যোগাযোগ- 9091003392

সমাবর্তন অনুষ্ঠান 26 জানুয়ারি, সবার আমন্ত্রণ রইল

হেড কন্সট্রাক্টর-এ গার্ডের Measurements হয়ে গেছে, তাদের ক্লাস শুরু 5th January, 2023 থেকে।

সরকারি চাকরি পেতে গেলে চাই কর্তার পরিচয়। তাই, শুধুও Serious Student রই কর্তি বন **বাকুইপরের পরিবর্তে নতুন ব্রাঞ্চ সোনারপুর বিদ্যালয়** **বাকুইপের** **কেন-150**

হেড অফিস M: 9733894444	বারাসাত M: 9635428886	বাকুড়া M: 8001693133
সিমলাপাল M: 7001867319	তমলুক M: 8328770363	বসিরহাট M: 9647303005
সোনারপুর M: 7557050701	খড়গপুর M: 8670644061	কোড়ালপুর M: 9733894444

বার্ণপুর স্টিল প্লান্টে ১৩৩ টেকনিশিয়ান

নিজস্ব সংবাদদাতা, পশ্চিম বর্মান: কেন্দ্রীয় সরকারের অধীন সংস্থা স্টিল অথরিটি অফ ইন্ডিয়ায় বার্নপুর ইস সকে। স্টিল প্ল্যান্ট 'অপারেটর-কাম-টেকনিশিয়ান ট্রেনিং' ও 'অ্যাট্টেন্ড্যান্ট কাম টেকনিশিয়ান (ট্রেনিং)' পদে ১৩৩ জন ছেলেমেয়ে নিচ্ছে। কারা কেন পদের জন্য যোগ্য : অপারেটর কাম টেকনিশিয়ান **এরপর ১৫ পাতায়**

৮ বাহিনীর লিখিত পরীক্ষায় সফল পরীক্ষার্থীদের দিয়ে তৈরি করা মডেল প্রোগ্রামের সম্পূর্ণ ব্যাখ্যা সহ) পেতে আজই যোগাযোগ করুন এই নম্বরে : **9830624170**

ভেতরের পাতায় : ৮ কেন্দ্রীয় বাহিনীর কনস্টেবল পদের পরীক্ষার সম্ভাব্য প্রশ্নোত্তর ■ কেন্দ্রীয় সংস্থায় ১৮২ চাকরি ■ পোট ট্রাস্টে ৫০ **এরপর ১৫ পাতায়**

কেন্দ্রীয় 'সি-টেট' পাশরাও রাজ্যের শিক্ষক নিয়োগের পরীক্ষা দিতে পারবে

নিজস্ব সংবাদদাতা, কলকাতা : কেন্দ্রীয় সরকারের সেন্ট্রাল বোর্ড অফ সেকেন্ডারি এডুকেশনের নেওয়া 'সি-টেট' পরীক্ষায় পাশ করা প্রার্থীরা এবার থেকে রাজ্যের প্রাথমিক শিক্ষক পদের জন্য সরাসরি ইন্টারভিউ দিতে পারবেন। কলকাতা হাই কোর্টের

বিচারপতি অজিতিং গঙ্গোপাধ্যায় ২২ ডিসেম্বর এক নির্দেশে জানান, 'সি-টেট' পাশ প্রার্থীরা প্রাথমিক শিক্ষক নিয়োগে অংশগ্রহণ করতে পারবেন। তবে তাদের চাকরির সুপারিশপত্র দেওয়া হবে কিনা, সে বিষয়ে চূড়ান্ত সিদ্ধান্ত **এরপর ৩ পাতায়**

জর্জি চলাই কম খরচে ফার্মেসি কোর্স করে **LLB LLM Ph.D.** Retail বা Wholesale গুণের দোকান খুলুন **D.Pharmacy • B.Pharmacy** HS Science (PCB/M with 50% Marks) | PCI Approved **HALDAR GROUP (সোনারপুর) 7980447585** GOVT. REG. No. : IV-1903-00118/2022 www.haldargroup.org

প্রাইমারি ইন্টারভিউ শুরু হল ২৭ ডিসেম্বর থেকে

রঞ্জিৎ ঘোষ, কলকাতা : প্রথম শ্রেণি থেকে পঞ্চম শ্রেণি পর্যন্ত স্কুলে 'প্রাইমারি টিচার' পদে ১১,৭৬৫টি শূন্যপদে 'টেট' পাশ প্রার্থীদের জন্য ২১ অক্টোবর থেকে ২১ নভেম্বর পর্যন্ত যে দরশন নেওয়া হয়েছিল, তার প্রথম পর্যায়ের ইন্টারভিউ প্রক্রিয়া শুরু হয়েছে ২৭ ডিসেম্বর থেকে। এই পর্যায়ের শুধুমাত্র কলকাতা জেলার জন্য যারা দরশন করেছিলেন, তাঁদেরই ইন্টারভিউ নেওয়া হবে। প্রথম পর্যায়ে ২০০ জন প্রার্থীকে ইন্টারভিউয়ে ডাকা হয়েছে। তবে, কাঙ্গার ইন্টারভিউ হবে তা ওয়েবসাইটে পাবেন। ইন্টারভিউয়ে থাকবে ৫ নম্বর আর অ্যাপ্টিটিউড টেস্ট থাকবে ৫ নম্বর। এবার ইন্টারভিউ হবে কেন্দ্রীয়ভাবে, কড়া নিরাপত্তায়। প্রত্যেক প্রার্থীর ইন্টারভিউ ও অ্যাপ্টিটিউড টেস্টের ভিডিও রেকর্ডিং করা হবে। এবার কোনো জেলায় **এরপর ৫ পাতায়**

এবারের ইন্টারভিউ ও অ্যাপ্টিটিউড টেস্টে কেমন প্রশ্ন আসতে পারে তা নিয়ে বিস্তারিত আলোচনা ভেতরের পাতায়

মুর্শিদাবাদ জেলায় অঙ্গনওয়াড়ী কর্মী

নিজস্ব সংবাদদাতা, মুর্শিদাবাদ : মুর্শিদাবাদ জেলার অন্তর্গত সুসংহত শিশু বিকাশ সেবা প্রকল্পের অধীন বিভিন্ন ব্লকে কাজের জন্য 'অঙ্গনওয়াড়ী কর্মী' ও 'অঙ্গনওয়াড়ী সহায়িকা' পদে **এরপর ১৬ পাতায়**

এয়ারপোর্টে ৩৫৬ এক্সিকিউটিভ

নিজস্ব সংবাদদাতা, নয়া দিল্লি : এয়ারপোর্টস অথরিটি অফ ইন্ডিয়া জুনিয়র এক্সিকিউটিভ (এয়ার ট্রাফিক কন্ট্রোল) পদে ৩৫৬ জন ছেলেমেয়ে নিচ্ছে। ফিজিক্স ও অঙ্ক বিষয় নিয়ে সায়ের **এরপর ২ পাতায়**

১৫৮ ভেটেরিনারি অফিসার রাজ্যে

নিজস্ব সংবাদদাতা, কলকাতা : রাজ্য সরকারের অ্যানিম্যাল রিসোর্সেস ও অ্যানিম্যাল হেলথ দফতরে কাজের জন্য 'ভেটেরিনারি অফিসার' পদে ১৫৮ জন ছেলেমেয়ে নিচ্ছে। ভেটেরিনারি সায়ের অ্যান্ড **এরপর ২ পাতায়**

সরকারি স্বীকৃত প্যারামেডিকেল কোর্স করে স্বাস্থ্য পরিষেবায় চাকরি পাওয়া যায় সরকারি এবং বেসরকারি ক্ষেত্রে

প্রতি বছর পনরো থেকে কুড়ি হাজারের মতো দক্ষ মেডিকেল টেকনোলজিস্টের চাহিদা থাকে পশ্চিমবঙ্গ সহ ভারতের বিভিন্ন প্রতিষ্ঠানে, হাসপাতাল এবং বিভিন্ন সরকারি প্রকল্পে, বিশেষ করে covid পরবর্তী সময়ে এর চাহিদা আরো বৃদ্ধি পেয়ে যায়। ভারত সরকারের Ministry of Skill Development এবং NSDC যৌথ উদ্যোগে ও আর্থিক সহায়তায় সারা ভারতে কিছু Vocational Training Centre অনুমোদন করে, তার মধ্যে পশ্চিমবঙ্গ স্কুল অফ মেডিকেল টেকনোলজি একটি সেরা প্রতিষ্ঠান, এই সংস্থাটি পরিকাঠামো, প্রশিক্ষণ ও গুণগত মানের জন্য NSDC এর পক্ষ থেকে 'A' ক্যাটাগরি সংস্থা হিসাবে স্বীকৃতি পেয়েছে। এই প্রতিষ্ঠানটি পশ্চিমবঙ্গ ক্যাঙ্গারি সংসদ অধিবেশিত চারটি প্যারামেডিকেল কোর্স করে ২০০১ সাল থেকে ২০১২ সাল পর্যন্ত। তাছাড়া রবীন্দ্র ভারতী বিশ্ববিদ্যালয় ও আলিয়া বিশ্ববিদ্যালয়ের সাথে যৌথ উদ্যোগে এই সংস্থায় প্যারামেডিকেল ডিপ্লোমা কোর্স করােনো হয়। এখন থেকে পাস করা ছাত্রছাত্রীরা পশ্চিমবঙ্গ সহ বিভিন্ন রাজ্যের সরকারি-বেসরকারি হাসপাতালে কর্মরত। যেহেতু এই সংস্থাটি সরকারি সাহায্যপ্রাপ্ত, তাই যে সব কোর্স এখন থেকে করােনো হয় তার ফিস বুঝি কম এবং ছাত্রছাত্রীরা যে কোর্স ফিস দিয়ে কোর্স করেন তা তাদের OJT / Internship পরিষেবে পেয়ে যান। কোর্স পাস করার পর Campus Interview সংস্থার পক্ষ থেকে আয়োজন করা হয়। এই সংস্থার সাথে নামি দামি হাসপাতালের সাথে Internship এবং চাকুরীর নিয়োগের LOI স্বাক্ষরিত আছে।

সরকারি স্বীকৃত যে সব ডিপ্লোমা কোর্স করােনো হয় — (১) মেডিকেল ডায়াগনস্টিক টেকনোলজি (২) এক্সরে উইথ ইমাজিং টেকনোলজি (CT Scan), (৩) ফিজিওথেরাপি টেকনোলজি, (৪) অপারেশন থিয়েটার টেকনোলজি। এই কোর্সগুলির মেয়াদ ২ বছর এবং Internship ৬ মাসের। প্রতিটি কোর্স ফিস ৪০,০০০-৫০,০০০ এর মধ্যে। **সার্টিফিকেশন কোর্স :** (১) আডভান্স জিডিই-ক্রিটিকাল কোয়ার (নার্সিং), (২) ফ্লোরোশোথি (রাদ কালেক্টর)। এই কোর্সগুলির মেয়াদ ৬ মাসের এবং Internship ৩ মাসের, প্রতিটি কোর্স ফিস ১২,০০০-১৫,০০০ এর মধ্যে। **ভর্তির শেষ তারিখ ১০ই জানুয়ারি, ২০২৩**

যোগাযোগ : **স্কুল অফ মেডিক্যাল টেকনোলজি** ২৪ গিরিশচন্দ্র বোস রোড, এন্টলি, কোলকাতা- ৭০০০১৪ **মোবাইল : ৯২৩০২৫০৪৮০ / ৯৬৪৪৭৬০০১২ / ০৩৩-২২২২৩১৩** **Website : www.ssmthope.org** **বর্ধমান : ৮০০১৫০৮৭৩০, পুরুলিয়া : ৯৯৩২৯৬৫৬৩৬** **বাড়ুগ্রাম : ৬২৯৪২৮৯৪৭৮, বহরমপুর : ৯৭৩০৭১২২৭৩**

SSC CHSL'র প্রস্তুতি ও সাফল্যের দিশা

সম্প্রতি স্টাফ সিলেকশন কমিশনের অন্যতম জনপ্রিয় পরীক্ষা কন্সাইন্ড হায়ার সেকেন্ডারি লেভেল-এর বিজ্ঞপ্তি বেরিয়েছে। শূন্যপদের সংখ্যা প্রায় ৫ হাজার। এছাড়াও সামনেই রয়েছে অনেক সরকারি পরীক্ষা যার শূন্যপদের সম্মিলিত সংখ্যা প্রায় ২ লাখের কাছাকাছি। এই ধরনের পরীক্ষায় ঠিক কীরকম প্রস্তুতি নিলে সাধারণ ছাত্রছাত্রীরাও সরকারি চাকরির সুনিশ্চিত কেরিয়ার তৈরি করতে পারবে তা জানালেন দীর্ঘ ৩৬ বছর ধরে সুনামের সাথে চলাতে থাকা, চাকরি পরীক্ষার অন্যতম সেরা প্রতিষ্ঠান RICE-এর শিক্ষক সায়ান সুন্দর লাহিড়ী।



সম্প্রতি প্রধানমন্ত্রী নরেন্দ্র মোদীর যোগ্য অনুযায়ী আগামী ২ বছরের মধ্যে প্রায় ১০ লাখ কর্মী নিয়োগের জন্য বিজ্ঞপ্তি বেরিয়েছে। সেই অনুযায়ী, বিভিন্ন দফতরের কাছে শূন্যপদের সংখ্যাও জানতে চাওয়া হয়েছে। এই নিয়োগের যোগ্য অনুযায়ী স্টাফ সিলেকশন কমিশন কেন্দ্রীয় সরকারের বিভিন্ন দফতর, মন্ত্রালয়, বিভাগ ও অফিসে কাজের জন্য 'সোয়ার ডিভিশন ক্লার্ক / জুনিয়র সেক্রেটারিয়েট / অ্যাসিস্ট্যান্ট' ও 'ডাটা এন্ট্রি অপারেটর' পদে ৪,৫০০ শূন্যপদ পূরণের বিজ্ঞপ্তি বের করেছে। অন্যতম গুরুত্বপূর্ণ এই পরীক্ষার পেশাগিক নাম কন্সাইন্ড HS সেকেন্ডারি। SSC CHSL-এ পরীক্ষার মূল কাঠামো ও নিয়মকানুনেও বেশ কিছু বদল এসেছে। এই পরীক্ষাকে বেশ কয়েকটি স্তরে বিভক্ত করা হয়েছে। Tier-I-এ আগের মতোই English Language, General Intelligence, Quantitative Aptitude ও General Studies এই ৪টি বিষয় থেকে ২০০ নম্বরের প্রশ্ন বরাদ্দ থাকবে। প্রতিটি বিভাগ থেকে ২৫টি করে অর্থাৎ মোট ১০০টি প্রশ্ন থাকবে Tier-I-এ। প্রতিটি প্রশ্নের মান ২ নম্বর। নেগেটিভ মার্কিং থাকবে ০.৫০ ও সময় ১ ঘণ্টা। এক্ষেত্রে মূল কাঠামোতে বদল বিশেষ না থাকলেও চূড়ান্ত মেধাতালিকায় Tier-I-এর পাওয়া নম্বরের যোগ হবে না, অর্থাৎ Tier-I শুধুমাত্র কোয়ালিফাই করতে হবে। তবে সবচেয়ে বড় বদল এসেছে Tier-II-এ। নতুন নিয়মে কম্পিউটার সোফটওয়্যার বৈশিষ্ট্য বিশিষ্ট প্রশ্নের বিভাগে Reasoning ও Mathematical Abilities-এর ওপর ৩০টি প্রশ্নের উত্তর দিতে হবে ১ ঘণ্টা সময়ের মধ্যে ও প্রতিটি প্রশ্নের মান ০ নম্বর থাকবে। দ্বিতীয় বিভাগে English Language and Comprehension ও General Awareness-এর ওপর প্রশ্ন থাকবে, English-এর ক্ষেত্রে ৪০টি ও General Studies-এর ক্ষেত্রে ২০টি প্রশ্নের উত্তর দিতে হবে ১ ঘণ্টা সময়ের মধ্যে আর প্রতিটি প্রশ্নের মান ০ নম্বর থাকবে। তৃতীয় বিভাগে Computer Knowledge-এর

ওপর ১৫টি প্রশ্নের উত্তর দিতে হবে ১৫ মিনিটের মধ্যে ও প্রতিটি প্রশ্নের মান ০ নম্বর থাকবে। Tier-II-এর ক্ষেত্রে প্রতিটি ভুল উত্তরের জন্য পেনালটি মার্কিং থাকবে ১ নম্বর ও চূড়ান্ত মেধাতালিকা তৈরি হবে Tier-II-এ পাওয়া নম্বরের ভিত্তিতে। লিখিত পরীক্ষায় পাশ করলে পদ অনুযায়ী ছেলেমেয়েদের Skill Test ও Typing Test-এর পরীক্ষা দিতে হবে। আরো একটি অত্যন্ত গুরুত্বপূর্ণ বিষয় হল নতুন পরীক্ষা-কাঠামোয় descriptive English (অথবা হিন্দি) সোফটওয়্যার আর থাকবে না। পরীক্ষা কাঠামো বিশ্লেষণ করে দেখা গেল Mathematics ও English-এর সঙ্গে Reasoning ও General Studies-এরও গুরুত্ব বাড়ল। CHSL পরীক্ষায় Computer Knowledgeও তার একটি স্বতন্ত্র জায়গা করে নিল। Tier-I-এর পাশাপাশি Tier-II-এ Reasoning ও General Studies যুক্ত হওয়ায় CHSL পরীক্ষায় প্রথম থেকেই Tier-I ও Tier-II-এর জন্য বৌদ্ধভাবে প্রস্তুতি নিতে হবে। Hard Work ও Smart Work হল প্রতিযোগিতামূলক পরীক্ষার সাফল্যের মূল চাবিকাঠি। তাই পরীক্ষায় সাফল্যের জন্য ছেলেমেয়েদের প্রত্যেকটি বিষয় যুট্টোয় পড়তে হবে ও তার সঙ্গে প্রতিদিন সময় ধরে মকটেস্ট দিয়ে অনুশীলন করতে হবে। সঠিক সিলেকশন অনুযায়ী বিজ্ঞানসম্মত পদ্ধতিতে পড়াশোনা করলে ও বিশেষজ্ঞ শিক্ষক-শিক্ষিকাদের পরামর্শ মেনে চললে সহজেই পরীক্ষায় ভালো ফল পাওয়া যাবে।

সরকারি চাকরির জন্য নিজেকে প্রস্তুত রেখে ভবিষ্যৎ সুনিশ্চিত করুন

নিউ জেনারেশন কোচিং সেন্টার

Govt. Regd. No- L- 75797 • An ISO 9001:2015 Certified • www.ngcc.in

SSC-GD 2023 ভর্তি চলছে

BSF, CRPF, CISF, SSB, ITBP, AR, NIA, SSF, ARMY, RPF, WBP, KP এবং সেনাবাহিনী

কন্সাইন্ড কোর্সে ভর্তি চলছে

SSC (CGL, CHSL, MTS) PSC (Gr. C & D), Railway Gr-D WBP-SI & Other Exam

Head Office- সুমতি প্যালেস

দেবীপুর, পোঃ- চাঁদপাড়া, গাইঘাটা, উত্তর ২৪ পরগনা

9836306785

পথ নির্দেশ : শিয়ালদহ থেকে ট্রেনে বনগাঁ লোকাল ধরে চাঁদপাড়া Station-এ নেমে টোটে বা ভানে করে দেবীপুর বাসস্ট্যান্ড অথবা বনগাঁ থেকে DN44 বা অটো ধরে দেবীপুর।

গঙ্গারামপুর এবং রায়গঞ্জ ব্রাঞ্চে নতুন ব্যাচে ভর্তি চলছে

গঙ্গারামপুর ব্রাঞ্চ হাইস্কুল রোড, (ফায়ার ব্রিগেডের পাশে), দক্ষিণ দিনাজপুর (গঙ্গারামপুর ব্রাঞ্চে Physical করানো হয়) M- 9073360106

রায়গঞ্জ ব্রাঞ্চ BBD মোড়, রায়গঞ্জ, উত্তর দিনাজপুর ফোন : 9051149723

প্রাইমারি ইন্টারভিউ শুরু হল

১ পাতার পর

অফিসে ইন্টারভিউ হবে না। প্রাথমিক শিক্ষা পর্বদ সূত্রে জানানো হয়েছে, সব জেলার প্রার্থীদের ইন্টারভিউ শেষ করতে সময় লাগবে। প্রথমে কলকাতা জেলার সব প্রার্থীদের ইন্টারভিউ শেষ করে অন্যান্য জেলার প্রার্থীদের ইন্টারভিউ শুরু হবে। তখন কোন জেলার প্রার্থীদের ইন্টারভিউ হবে তা ওয়েবসাইটে জানানো হবে। পর্বদ সূত্রে জানা গেছে, প্রাথমিক ইন্টারভিউয়ের জন্য প্রায় ৩৪ হাজার দরখাস্ত জমা পড়েছে। প্রত্যেকেরই 'টেস্ট' পাশ ও ডি.এড. বা, বি.এড. যোগ্যতা আছে। বীরা দরখাস্ত করেছেন, তাঁদের দরখাস্ত বাতিল না হলে প্রত্যেককেই ইন্টারভিউয়ের জন্য ডাকা হবে। ইন্টারভিউয়ের দিনই প্রার্থীদের ডকুমেন্ট ভেরিফিকেশন হবে। ইন্টারভিউয়ের দিন সঙ্গে নিয়ে যেতে হবে এইসব প্রমাণপত্রের মূল ও স্ব-তয়িত জেরস : (ক) 'টেস্ট' পাশের আডমিট কার্ড, (খ) 'টেস্ট' যোগ্যতার প্রমাণপত্র, (গ) বয়সের প্রমাণপত্র হিসাবে মাধ্যমিকের আডমিট কার্ড বা, সার্টিফিকেট, (ঘ) মাধ্যমিক পাশের মার্কশীট ও সার্টিফিকেট, (ঙ) উচ্চমাধ্যমিক পাশের মার্কশীট ও সার্টিফিকেট, (চ) ডি.এড., ডি.এল.এড. বা, বি.এড. পাশের মার্কশীট ও সার্টিফিকেট, (ছ) ডিগ্রি কোর্স পাশের মার্কশীট ও সার্টিফিকেট (যদি থাকে), (জ) কাস্ট সার্টিফিকেট, (ঝ) প্রতিবন্ধী সার্টিফিকেট (যদি থাকে), (ঞ) এক্সমেন্টেড ক্যাটাগোরি সার্টিফিকেট, (ট) প্রাক্তন সরকারী সার্টিফিকেট (যদি থাকে), (ঠ) প্যারা টিচারদের বেলায় সংশ্লিষ্ট কর্তৃপক্ষের দেওয়া প্রথম এনগেজমেন্ট লেটার, (ড) প্যারা টিচারদের অভিজ্ঞতার প্রমাণপত্র হিসাবে ডি.পি.ও. /এস.ডি.ও.-এর দেওয়া সার্ভিস কার্ডিং ও বয়স ছাড়ের প্রমাণপত্র, (ঢ) অতিরিক্ত যোগ্যতা হিসাবে যা প্রমাণপত্র আছে, নিয়োগ বিধি অনুযায়ী সেওলি, (ণ) ভোটার /আধার কার্ড, (ত) ১ কপি পাশপোর্ট সাইজের ফটো। ইন্টারভিউয়ের কল লেটার প্রার্থীর ই-মেল আই.ডি.-তে পাঠানো হয়েছে। এছাড়া প্রার্থীরা সরাসরি ওয়েবসাইটে থেকে ই-আডমিট কার্ড ডাউনলোড করতে পারবেন।

হাই কোর্টের নির্দেশে ২০১৪ ও ২০১৭ সালের 'টেস্ট' ৮২ নম্বর পাওয়া সরকারি ক্যাটাগোরি প্রার্থীদের 'টেস্ট' উত্তীর্ণ যোগ্যতা করা হয়েছিল। ওইসব প্রার্থীদের অলাইনে রেজিস্ট্রেশনের পর আলাদাভাবে ইন্টারভিউ নেওয়া হবে। বিস্তারিত তথ্য পাবেন এই ওয়েবসাইটে : www.wbbpe.org. www.wbbprimaryeducation.org

পোর্ট ট্রাস্টে ৫০ অ্যাপ্রেন্টিস

নিজস্ব সংবাদদাতা, মুম্বই : মুম্বই পোর্ট অথরিটি 'কম্পিউটার অপারেটর অ্যান্ড প্রোগ্রামিং অ্যাসিস্ট্যান্ট' ট্রেড অ্যাপ্রেন্টিস হিসাবে ৫০ জন লোক নিচ্ছে।

মাধ্যমিক পাশের আই.টি.আই. থেকে কম্পিউটার অপারেটর অ্যান্ড প্রোগ্রামিং অ্যাসিস্ট্যান্ট ট্রেডের সার্টিফিকেট কোর্স পাশ হলে যোগ্য। বয়স হতে হবে ১৪ থেকে ১৮ বছরের মধ্যে। ৬ মাসের ট্রেনিং। স্টাইপেন্ড মাসে ৭,৭০০ টাকা। সীট ৫০টি।

প্রার্থী বাছাই হবে মেধার ভিত্তিতে। মেধা তালিকা প্রকাশিত হবে ওয়েবসাইটে।

আগ্রহী প্রার্থীদের প্রথমে মাম রেজিস্ট্রেশন করতে হবে এই ওয়েবসাইটে : www.apprenticeshipindia.org নাম রেজিস্ট্রেশন করার পর এনরোলমেন্ট বা, রেজিস্ট্রেশন নম্বর প্রিন্ট করে নেবেন। এবার মুম্বই পোর্ট অথরিটির ওয়েবসাইটে গিয়ে দরখাস্তের ফর্ম ডাউনলোড করে নেবেন। তারপর ওই দরখাস্ত পূরণ করে ডাকে পাঠাতে হবে ১০ জানুয়ারির মধ্যে। তখন পরীক্ষা ফী বাদ ১০০ টাকা জমা দিতে হবে। তখন সঙ্গে দেবেন যাবতীয় প্রমাণপত্রের প্রত্যয়িত নকল, টাকা জমা দেওয়ার রিসিপ্ট ইত্যাদি। দরখাস্ত পাঠানো এই ঠিকানা : Apprentice Training Centre (ATC), 3rd Floor, Bhandar Bhavan, N.V. Nakhwa Marg, Mazgaon (East), Mumbai-400010 আরো বিস্তারিত তথ্য পাবেন এই ওয়েবসাইটে : www.mumbaiport.gov.in

সংগঠিত ক্রীড়া

সাধারণ জ্ঞান

কেন সব রকমের চাকরির পরীক্ষার সাধারণ জ্ঞান বিষয়ে প্রশ্ন আসতে? বুকের কথা এ নিয়ে বড়টা প্রশ্নই মেওয়া উচিত...
১৫। ভারতের কোন রাজ্যে 'সোপা' আন্তর্জাতিক বিমানবন্দরের উদ্বোধন করবেন প্রধানমন্ত্রী নরেন্দ্র মোদী — গোয়া।

সাধারণ বিজ্ঞান

১। মানুষের কান্নাঝিঁড়ি কোন নীতির পরিচিতি? — অর্ধবৃত্তীয় নীতি।
২। কোন প্রকরণের প্রথম তড়িৎ প্রেরণকে ক্যারল লুইস ব্রাউনিয়ার নামে রাখা হয়? — ইলেক্ট্রিক প্রকরণের প্রথম তড়িৎ প্রেরণকে ক্যারল লুইস ব্রাউনিয়ার নামে রাখা হয়।

ইতিহাস

১। দয়ারাম সাহনি কোন শহরে? — হরদ্বার।
২। কোন দেশে সর্বথেকে বেশি সেনার বর্ন আছে — চীন।
৩। কোন দেশে সর্বথেকে বেশি ইউনিয়নীয় পাওয়া যায় — কানাডা।

৩১। ভারতের কোন রাজ্যে 'সোপা' আন্তর্জাতিক বিমানবন্দরের উদ্বোধন করবেন প্রধানমন্ত্রী নরেন্দ্র মোদী — গোয়া।
৩২। ভারতের কোন রাজ্যে 'সোপা' আন্তর্জাতিক বিমানবন্দরের উদ্বোধন করবেন প্রধানমন্ত্রী নরেন্দ্র মোদী — গোয়া।



৩৩। ভারতের কোন রাজ্যে 'সোপা' আন্তর্জাতিক বিমানবন্দরের উদ্বোধন করবেন প্রধানমন্ত্রী নরেন্দ্র মোদী — গোয়া।
৩৪। ভারতের কোন রাজ্যে 'সোপা' আন্তর্জাতিক বিমানবন্দরের উদ্বোধন করবেন প্রধানমন্ত্রী নরেন্দ্র মোদী — গোয়া।

ভূগোল

১৬। ১৯৭৭ সালে ভারতের অর্থনৈতিক পরীক্ষা কেমন হয়েছিল? — দুর্বল।
১৭। কোন অধিবেশনে পাক-ই-স্তানের প্রথম সূত্রিত হয়? — লাহোর।
১৮। অর্পিলি জেলার কোন জাদুঘর মৌর্যসাম্রাজ্যের তৈরি হয়? — তিম্বনসাত্রে।

অর্থনীতি

২৮। সম্প্রতি ২ মহিলায় স্বাক্ষর-সহ প্রথম ব্যাংক নোট (কারেন্সি নোট) ছাপায়ে কোন দেশ? — মার্কিন যুক্তরাষ্ট্র।
২৯। ১৯৭৭ সালে ভারতের অর্থনৈতিক পরীক্ষা কেমন হয়েছিল? — দুর্বল।

৪০। ভারতের কোন রাজ্যে 'সোপা' আন্তর্জাতিক বিমানবন্দরের উদ্বোধন করবেন প্রধানমন্ত্রী নরেন্দ্র মোদী — গোয়া।
৪১। ভারতের কোন রাজ্যে 'সোপা' আন্তর্জাতিক বিমানবন্দরের উদ্বোধন করবেন প্রধানমন্ত্রী নরেন্দ্র মোদী — গোয়া।

৪২। ভারতের কোন রাজ্যে 'সোপা' আন্তর্জাতিক বিমানবন্দরের উদ্বোধন করবেন প্রধানমন্ত্রী নরেন্দ্র মোদী — গোয়া।
৪৩। ভারতের কোন রাজ্যে 'সোপা' আন্তর্জাতিক বিমানবন্দরের উদ্বোধন করবেন প্রধানমন্ত্রী নরেন্দ্র মোদী — গোয়া।

বেলাপুলী

৪৪। 'আন্তর্জাতিক ক্রিকেট কাউন্সিল' এর সভাপতি কে? — স্টুয়ার্ট স্মিথ।
৪৫। 'আন্তর্জাতিক ক্রিকেট কাউন্সিল' এর সভাপতি কে? — স্টুয়ার্ট স্মিথ।



৪৬। ভারতের কোন রাজ্যে 'সোপা' আন্তর্জাতিক বিমানবন্দরের উদ্বোধন করবেন প্রধানমন্ত্রী নরেন্দ্র মোদী — গোয়া।
৪৭। ভারতের কোন রাজ্যে 'সোপা' আন্তর্জাতিক বিমানবন্দরের উদ্বোধন করবেন প্রধানমন্ত্রী নরেন্দ্র মোদী — গোয়া।



৪৮। ভারতের কোন রাজ্যে 'সোপা' আন্তর্জাতিক বিমানবন্দরের উদ্বোধন করবেন প্রধানমন্ত্রী নরেন্দ্র মোদী — গোয়া।
৪৯। ভারতের কোন রাজ্যে 'সোপা' আন্তর্জাতিক বিমানবন্দরের উদ্বোধন করবেন প্রধানমন্ত্রী নরেন্দ্র মোদী — গোয়া।

টেট ইন্টারভিউ ও অ্যাপ্টিটিউড টেস্ট

কীভাবে ইন্টারভিউতে সফল হবেন

২৭শে ডিসেম্বর কলকাতা জেলার জন্য টেট ২০২২ ইন্টারভিউ শুরু হচ্ছে। পরবর্তী পর্যায়ে শীঘ্রই ধাপে ধাপে রাজ্যের বাকি সব জেলার ইন্টারভিউ হবে। এখন এই অতি গুরুত্বপূর্ণ ইন্টারভিউয়ে কীভাবে যাওয়া উচিত, কীভাবে কথা বলা উচিত, ঠিক কী কী বিষয়ে প্রস্তুতি থাকা উচিত, কোন কোন বিষয় থেকে প্রশ্ন



টেটের ইন্টারভিউয়ে

আসতে পারে — এরকমই অতি প্রয়োজনীয় কিছু টিপস শেয়ার করলেন চাকরি পরীক্ষার বিশেষজ্ঞ ও সরকারি আধিকারিক সামিম সরকার। এছাড়াও দেওয়া হল টেটের ইন্টারভিউয়ে আসতে পারে এমন সম্ভাব্য ১২৪টি গুরুত্বপূর্ণ প্রশ্ন।

টেট ইন্টারভিউ কী

টেট অর্থাৎ টিচার এলিজিবিটি টেস্ট বা শিক্ষক যোগ্যতা পরীক্ষার বসার জন্য একটি নির্দিষ্ট আকারের ম্যাক্রোগ্রাউন্ডের প্রয়োজন যার মধ্যে ডি.এল.এড একটি গুরুত্বপূর্ণ অংশ। এই প্রশিক্ষণের মাধ্যমে একজন প্রার্থীকে কিছু শিক্ষা দেওয়া হয় যা শিশু মনোবিজ্ঞান, শিশু আচরণ, জ্ঞান প্রদানের শিল্প ও শিক্ষাদানের উপর এমনভাবে ফোকাস করে যাতে বিষয়ের প্রাথমিক জ্ঞান শিশুদের মনে গেঁথে যায়। এটি একটি সাধারণ ঘটনা যে শুধুমাত্র শিক্ষাগত যোগ্যতা এই একজন ভালো শিক্ষক হওয়ার জন্য যথেষ্ট নয়। শিক্ষকতা একটি দক্ষতা যার দ্বারা শিক্ষার্থীরা পড়াশোনা সঠিক ভাবে বুঝতে পারে। ফলে তারা পড়াশোনা করতে আগ্রহ পায়।

টেট-এর মাধ্যমে একজন প্রার্থীর জ্ঞানের গভীরতা, শিক্ষাদানের যোগ্যতা ও শেখানোর দক্ষতা ইত্যাদি মূল্যায়ন করা হয়। সুতরাং, একজন প্রার্থীকে অবশ্যই ডি.এল.এড-এর পাঠক্রমের ওপর ভালো দখল থাকতে হবে। উপরন্তু, ওয়েস্টবেঙ্গল বোর্ডের—এর পাঠ্যক্রম ও 'বিশেষত' ব্যাকরণগত অংশ অনুযায়ী অষ্টম থেকে দশম—এর বিষয়গুলি পুঙ্খানুপুঙ্খভাবে পড়তে হবে। এটি, বাংলা/উর্দু/হিন্দি/নেপালি ভাষার ক্ষেত্রেও প্রযোজ্য। জীবন বিজ্ঞান-এর ক্ষেত্রে, পরিবেশগত দিক সম্পর্কে জ্ঞান থাকা জরুরি। নবম ও দশম শ্রেণীর ইংরিজি আর বাংলার ব্যাকরণগত অংশ অত্যন্ত গুরুত্বপূর্ণ।

একজনকে অবশ্যই 'বিশেষ' বিষয়টির যত্ন নিতে হবে, যেটি সে স্বাচ্ছন্দ্য বোধ করে, যাতে যতটা সম্ভব সেই সব বিষয়ে ভালো নম্বর পাওয়া যায়।

অ্যাপ্টিটিউড টেস্ট

প্রাথমিক শিক্ষক নিয়োগের শেষ পর্যায়ে ইন্টারভিউয়ের সঙ্গে রয়েছে এ নম্বরের অ্যাপ্টিটিউড টেস্ট। অ্যাপ্টিটিউড টেস্ট ব্যাপারটি একটি নতুন কনসেপ্ট। সাফল্যকারের সময় অল্প সময়ে এই টেস্টটি নেওয়া বেশ কঠিন। অ্যাপ্টিটিউড টেস্ট বিষয়টি কী অনেক পরীক্ষার্থীরই অজানা। ইন্টারভিউ দিতে যাওয়ার আগে অতি অবশ্যই অ্যাপ্টিটিউড টেস্ট সম্পর্কে ধারণা থাকা ভালো। এই টেস্টের উদ্দেশ্য, সারবস্তা ও মাধ্যম সম্পর্কে জেনে রাখা দরকার। উক্ত জ্ঞানের আলোকে নিজেকে উদ্ভাসিত করে ইন্টারভিউ বোর্ডের সামনে হাজির হলে সাফল্য লাভ করা অবশ্যই সম্ভব।

'নিউ এডুকেশন পলিসি -২০২০'তে বলা হয়েছে বিদ্যালয়ে ছাত্রছাত্রীদের থিওরিটিক্যাল নলেজের পাশাপাশি প্র্যাকটিক্যাল নলেজের প্রতিও গুরুত্ব প্রদান করা হবে। পড়াশুনার পাশাপাশি ছাত্রছাত্রীদের বিভিন্ন বিষয়ে জ্ঞান বা দক্ষতা বৃদ্ধির বন্দোবস্ত করা হবে, যা ছাত্রছাত্রীদের সর্বাঙ্গীণ বিকাশে অসেকটাই সাহায্য করবে।

প্রার্থীদের মেটাল এবিলাটি ও স্কিল পরিমাপের মাধ্যম হল অ্যাপ্টিটিউড টেস্ট। অ্যাপ্টিটিউডে কোন থিওরিটিক্যাল প্রশ্ন জিজ্ঞাসা করা হয় না, মেটাল এবিলাটি বা মানসিক দক্ষতার প্রশ্ন করা হয়। যেমন মাথ রিজনিং, লজিক্যাল রিজনিং, ভার্বাল রিজনিং ইত্যাদি। বর্তমান সময়ে অ্যাপ্টিটিউড-এর গুরুত্ব উত্তরোত্তর বৃদ্ধি পেয়ে চলেছে। যে কোন চাকরী পরীক্ষার ক্ষেত্রে অ্যাপ্টিটিউড টেস্ট অপরিহার্য অঙ্গ হয়ে উঠেছে। সরকারী বা বহুজাতিক কোম্পানীতে নিয়োগের ক্ষেত্রে হোক কিংবা শিক্ষক নিয়োগের পরীক্ষা এমনকি ফুল কলেজ-ইউনিভার্সিটিতে ভর্তি জনাও অ্যাপ্টিটিউড টেস্ট নেওয়া হয়। অ্যাপ্টিটিউড এর মাধ্যমে প্রার্থীর দক্ষতা, সক্ষমতা, যোগ্যতা যাচাই করা হয়। এখানে সাধারণত এমন প্রশ্ন করা হয় যা হঠাতে সফলেরই জ্ঞান, কিন্তু প্রার্থী অন্যদের চেয়ে কত তাড়াতাড়ি উত্তর দিচ্ছে তাই বিবেচ্য। এমনও হতে পারে প্রার্থী অ্যাপ্টিটিউড এর কোন প্রশ্নের উত্তর দিতে পারল না, কিন্তু কীভাবে সে উত্তর করছে তা লক্ষ্য করা হয়।

অ্যাপ্টিটিউড টেস্টের বিভিন্ন পদ্ধতি:

১। স্প্যাটিয়াল রিজনিং - এই পদ্ধতির মাধ্যমে ছাত্রছাত্রীদের স্থানিক ধারণা সংক্রান্ত কল্পনাশক্তি যাচাই করা হয়। কোন ইমেজ বা চিত্রকে নিজের অভ্যন্তরীণ মানসিক শক্তি দ্বারা বিশ্লেষণ করে দ্রুত উত্তর দিতে হয় এই ধরনের টেস্ট। নিজের মৌলিক চিন্তাশক্তির ক্ষিপ্ততার অভাব থাকলে এই ধরনের প্রশ্নের উত্তর দিতে অসুবিধা হবে। এটি ছাত্রছাত্রীদের কোন এক পরিস্থিতিতে ঘটনা পরস্পরায় প্রসেসিং-এর মাধ্যমে মস্তিষ্কের কার্যকারিতাও যাচাই করে। পরিবর্তনশীল পরিবেশে মানসিক অভিযোজনের চিহ্নটিও সঠিকভাবে ফুটে ওঠে এই টেস্টের মাধ্যমে। ক্রিমাতিক চিত্র, মিসর ইমেজ, চিত্রের কমিশনেশন সংক্রান্ত প্রশ্ন সচরাচর করা হয় এই ধরনের পদ্ধতিতে। এই ধরনের প্রশ্নের উত্তর দিতে উত্তর দেওয়ার জন্য দরকার চিত্তার মৌলিকত্ব, ধৈর্য ও বিশ্লেষণী ক্ষমতা। তাছাড়া দরকার প্রাথমিক গভীর মনোযোগ দিয়ে শেষ পর্যন্ত শোনা।

২। অ্যাবস্ট্রাক্ট রিজনিং - অ্যাপ্টিটিউড টেস্টের একটি অন্যতম পদ্ধতি হল অ্যাবস্ট্রাক্ট রিজনিং। এটির মাধ্যমে প্রার্থীর নিজস্বতা বা স্বকীয়তা, সৃজনশীলতা বা উদ্ভাবনী ক্ষমতা পরিমাপ করা হয়। সেই সঙ্গে সেখানে নেওয়া হয় দ্রুত সমস্যা সমাধানের ক্ষমতা। ফলে এর মাধ্যমে দক্ষ প্রার্থীরা সমস্যা সমাধানের মৌলিক উপায় খুঁজে নিতে সক্ষম হয়, পুরনো বিষয়বস্তুকে প্রয়োজনমুত্ব নতুনভাবে দেখানো হয়।

৩। সাইকোমেট্রিক টেস্ট - এই টেস্টকে সিচুয়েশনাল জাজমেন্ট টেস্টও বলা হয়। এটির মাধ্যমে বিভিন্ন দৃশ্যকল্প বা অর্থহীন বস্তু নিয়ে সিদ্ধান্ত নেওয়ার ক্ষমতাকে যাচাই করা হয়। এটি প্রার্থীর 'প্রজ্ঞেয় অর্থ মাইন্ড' বা উপস্থিত বুদ্ধি যাচাই করে। সমস্যা সমাধানের ক্ষেত্রে এই দক্ষতা বেশী থাকলে, সেইমতো মার্কসও বেশী উঠবে। ইন্টারভিউয়ে 'সিচুয়েশনাল জাজমেন্ট টেস্টের' মাধ্যমে দেখে নেওয়া হয় প্রার্থী কতটা দ্রুততার সাথে সমস্যা সমাধানে সক্ষম। এই টেস্টের মাধ্যমে কর্মক্ষেত্রে প্রার্থী কিভাবে টাফ সিচুয়েশনকে হ্যান্ডেল করেন — তা দেখে নেওয়া হয়।

৪। ভার্বাল রিজনিং - অ্যাপ্টিটিউড টেস্টের অন্যতম মাধ্যম হল ভার্বাল রিজনিং। এটির মাধ্যমে প্রার্থীর বোধশক্তি এবং কমিউনিকেশন স্কিল যাচাই করা হয়। একটি প্যাসেজ উদ্ধৃত করে বিভিন্ন ধরনের প্রশ্ন করা হতে পারে। এর দ্বারা একদিকে যেমন প্রার্থীর মস্তিষ্কের ধারণক্ষমতা ও চট করে বুঝে নেওয়ার ক্ষমতা বোঝা যায়, অপরদিকে তেমন বিশ্লেষণী ক্ষমতার প্রয়োগে বাস্তবসম্মত সিদ্ধান্ত নেওয়ার দক্ষতারও পরিচয় পাওয়া যায়।

অ্যাপ্টিটিউড টেস্টের আরও কয়েকটি প্রক্রিয়া আছে, যেমন- নিউমেরিক্যাল রিজনিং, জেনারেল রিজনিং, লজিক্যাল রিজনিং ইত্যাদি। পড়াশুনা, ডিপ্রি-উপাধির বাইরে একজন প্রার্থীর স্বাভাবিক প্রবণতা বা মানসিক দক্ষতা তাকে অন্যদের চেয়ে আলাদা করে দেয়।

ক্রাস ডেমনস্ট্রেশন

প্রাথমিক শিক্ষক নিয়োগের একটি গুরুত্বপূর্ণ অংশ হল টিচিং ডেমনস্ট্রেশন এই বিষয়ের জন্য আলাদাভাবে মার্কস বরাদ্দ না থাকলেও ইন্টারভিউ বোর্ডের সামনে ডেমনস্ট্রেশন গুরুত্ব অপরিহার্য। প্রার্থীরা তাঁদের প্রশিক্ষণে এই ধাপ অতিক্রম করে এসেছেন। শিখন সামগ্রী (TLM) পরিমিত ও সঠিক ব্যবহার এই বিভাগে সাফল্য এনে দেবে। আপনাকে মাথায় রাখতে হবে আপনি শিক্ষক হতে চলেছেন।

সেক্ষেত্রে আপনার প্রাইভেট টিউশনের ইচ্ছেও লো টিচিং ডেমনস্ট্রেশন প্রকাশ পেলে চাকরির আশা ছেড়ে দেওয়া ছাড়া উপায় নেই। কারণ, প্রাইভেট টিউশনে আমরা বেশির ভাগ শিক্ষকতার শর্ত মানতে পারি না। যেগুলি হলো — চক-ডাস্টব্রের ব্যবহার, বোর্ডে লেখার ধরন, চার্টের ব্যবহার, নিজের শরীর ভঙ্গিমার ব্যবহার, গলার আওয়াজ, প্রশ্ন করার ধরন, নিজের সীমাবদ্ধতার সম্বন্ধে জ্ঞান প্রভৃতি। এগুলি সম্পর্কে নিজের ধারণা স্পষ্ট করা দরকার। এই বিভাগটাই অন্য সমস্ত পরীক্ষার থেকে অন্যরকম। ব্যান্ড, রোল, স্টাফ সিলেকশন কমিশন, ডুবুবিএস পরীক্ষা এই বিভাগটির পরীক্ষা দিতে হয় না। বলা বাহুল্য, প্রাথমিক শিক্ষক নিয়োগে এটিই পার্থক্য গড়ে দেবে কে চাকরি পাবে আর কে পাবে না।

প্রাথমিক শিক্ষক নিয়োগের এই পর্যায়ে প্রার্থীদের একটু বাড়তি চাপ থাকবেই। তাঁরা ভাবছেন যে কী থাকবে। আগে ভালোভাবে পড়ে নিতে হবে প্রাইমারী স্তরের সিলেবাসগুলি। যথাক্রমে — বাংলা, ইংরিজি, অঙ্ক ও পরিবেশ। এগুলি থেকেই মূলত প্রশ্ন আসবে। এছাড়া সৃজনশীল কর্মক্ষমতা থেকেও প্রশ্ন আসার সম্ভাবনা থাকে।

ক্রাস ডেমনস্ট্রেশন হল একটি সম্পূর্ণ ক্রাস সংক্ষিপ্ত রূপ মাত্র। বিদ্যালয়ের একটি সম্পূর্ণ ক্রাসের জন্য বরাদ্দ সময় ৪০-৪৫ মিঃ কিন্তু ক্রাস ডেমনস্ট্রেশন এর জন্য সময় পাবেন মাত্র ৩-৫ মিঃ। সে কারণেই ক্রাস ডেমনস্ট্রেশন দেওয়ার সময় একটি সম্পূর্ণ ক্রাসকেই আনুপাতিক ভাবে সূচনিত করতে হবে কিন্তু যার মধ্যে একটি সম্পূর্ণ ক্রাসের সমূহ উপাদান গুলি বজায় থাকবে।

ক্রাস ডেমনস্ট্রেশন প্রকৃতপক্ষে সংক্ষিপ্ত শিক্ষাদানের প্রক্রিয়া বা একটি কৃত্রিম পরিবেশে কিছুটা অভিনয় করে দেখাতে হয়। যাই হোক না কেন এক্ষেত্রে শিক্ষাবিজ্ঞানের কিছু মৌলিক জ্ঞান থাকা প্রয়োজন ও কিছু মৌলিক নীতি প্রয়োগ করা প্রয়োজন। ক্রাস ডেমনস্ট্রেশন এর ক্ষেত্রে সেই মৌলিক নীতিগুলি প্রযুক্ত হাচ্ছে কিনা সেটাই ইন্টারভিউ বোর্ড খেয়াল রাখে।

ডেমনস্ট্রেশন কেন গুরুত্বপূর্ণ? শিক্ষক-শিক্ষকদের প্রধান ও অন্যতম কাজ হল পড়ানো অর্থাৎ ক্রাস নেওয়া। পারসোনেলিটি টেস্টে একজন ভাষী শিক্ষক-শিক্ষিকার সাথে কথোপকথনে, তার বিষয়ের জ্ঞান, কথোপকথনের দক্ষতা বোঝা গেলেও তিনি শ্রেণীকে ছেলেমেয়েদের কতটা পড়াতে সক্ষম, তা জানা সম্ভব নয়। তাই আপনার শিক্ষকতার দক্ষতা যাচাই করার জন্যই এই ডেমনস্ট্রেশন।

ডেমনস্ট্রেশন আপনাকে নিতে বললে, প্রথমেই আপনাকে দেখে নিতে হবে, সেই ঘরে কোনো ব্ল্যাকবোর্ড ও চকের ব্যবস্থা আছে কিনা। ব্ল্যাকবোর্ড থাকলে আপনাকে বোর্ডের বা দিকে উপরে লিখতে হবে বিষয়। বিষয় লিখে আপনি কী বিষয় পড়াবেন সেটি লিখবেন। তার নীচে শ্রেণী অর্থাৎ কেন শ্রেণীর জন্য আপনি পড়াচ্ছেন। ডান দিকের উপরে তারিখ, তার নীচে আজকের পাঠ লিখে বিষয়ের কোন ভাগটি আপনি পড়াচ্ছেন তা নীচে দেখানো হল

বিষয় - সংস্কৃত	তারিখ : ২৪/০৯/২০১৬
শ্রেণী - অষ্টম	আজকের পাঠ — কারক
(এটি পড়ানোর সময় পর লিখবেন)	

ব্ল্যাকবোর্ডের কাজ সম্পন্ন করে পড়ানোর পর্যায়গুলি আমাদের ঠিকঠাক করতে হবে। আপনাকে দেওয়া ওই সামান্য সময়ের মধ্যেই।

ক্রাস ডেমনস্ট্রেশনের পাঁচটি ধাপ নীচে বিস্তারিত ব্যাখ্যা করা হল —

১। পাঠ অবতারণা : পড়ানো শুরু করার পূর্বে আপনাকে পাঠের অবতারণা করতে হবে। অর্থাৎ সরাসরি আপনি কী পড়াবেন, সেটা না বলে সেই প্রসঙ্গে দু-এক কথা বলে, তারপর কী পড়াবেন সেটা

১ জানুয়ারি থেকে ৩১ ডিসেম্বর

আর মাত্র কয়েকদিন

সফল

আপনার হাতের মুঠোয়

কীভাবে? যোগাযোগ করুন 9830624170

জেনারেল ইন্টেলিজেন্স

নেতাজী সুভাষ মুক্ত বিশ্ববিদ্যালয় স্বীকৃত কর্মমুখী কোর্সে ভর্তি

1. I bought a number of books one day, four times as many the next day and eight books the third day. In all I bought 38 books. How many books did I buy the second day? (A) 16 (B) 25 (C) 24 (D) 8

failed in Hindi - 78. (vi) The number of examinees failed in Mathematics - 275. (vii) The number of examinees failed in History - 149. (ix) The number of examinees failed in Geography - 147. (x) The number of examinees failed in Sanskrit - 221. 16. How many examinees failed in all subject. (A) 4518 (B) 2768 (C) 362 (D) 3713

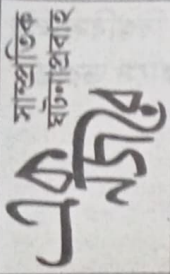
Ram'. Which of the following represents 'Ram had lost' in that code language? (A) 168 (B) 368 (C) 831 (D) Can't be determined 29. Four of the following five are alike in a certain way and so form a group. Which is the one that does not belong to that group? (A) Fox (B) Dog (C) Camel (D) Cod

সৈকত হানদার, কলকাতা : ভারত সেবাশ্রম সঙ্ঘের প্রবাসিন্স ইনস্টিটিউট অফ ম্যানেজমেন্ট অ্যান্ড টেকনোলজি (পি.আই.এম.টি) ও নেতাজী সুভাষ মুক্ত বিশ্ববিদ্যালয়ের যৌথ প্রয়াসে ডিপ্লোমা /

কেন্দ্রীয় উত্তরের কৌশল

1(C). এখানে প্রথমে, শব্দে কেলো ৪টি বই মোট 38x৪ বই থেকে বাকি নিয়ে হলে (38-৪) = 30টি এবার অর্ধে আছে প্রথম ফেলো বইয়ের 4 গুণ

এক ঘর অন্তর একটি করে সংখ্যা পরপর বসিয়ে ও তারপর আবার পিছন দিক থেকে অন্য সংখ্যাগুলি এক ঘর অন্তর বসিয়ে code হচ্ছে। তাই 357642 হবে 265473. 13(C). তিনটি শব্দ হবে যথাক্রমে TOP লাতু POT পার ও OPT পছন্দ করা। 14 ও 15



১৪ ডিসেম্বর : তত্ত্বাবধায়ক পরিচালক ড. অক্ষয় কুমার সরকারের নেতৃত্বে গঠিত একটি সার্বজনীন পরিষদের সভা অনুষ্ঠিত হয়েছে।

১৪ ডিসেম্বর : তত্ত্বাবধায়ক পরিচালক ড. অক্ষয় কুমার সরকারের নেতৃত্বে গঠিত একটি সার্বজনীন পরিষদের সভা অনুষ্ঠিত হয়েছে।

পরিচয়ের প্রতীক 'গামছা' (আঞ্চলিক ভাষায় 'গামোসা' নামে পরিচিত) জিওগ্রাফিক্যাল ইন্ডিকেশন ট্যাগ শেল। এই তরুণীরা পাওয়ার অর্থ হল, কোনো জিনিসের জ্যোতিষিক স্ব স্ব স্বাভাবিক করে রাখা। এই ধরনের গামছা লাল পাড় সাদা জামি ওপর সুভার বেড়ের কাজ সহযোগে তৈরি। 'বিহ' বা বিয়ের কোনো অনুষ্ঠানে এই গামছা বা 'গামোসা'কে সম্মানের প্রতীক হিসাবে ব্যবহার করা হয়।

□ বিশ্বের প্রথম দেশ হিসাবে, ভবিষ্যৎ প্রজন্মের জন্য সিগারেট নিষিদ্ধ করে আইন পাস করল নিউজিল্যান্ড। ফলে, ২০২৩ সাল থেকে তামাক প্রায় নিষিদ্ধ হচ্ছে এই দেশে।

□ বিশ্বের প্রথম দেশ হিসাবে, ভবিষ্যৎ প্রজন্মের জন্য সিগারেট নিষিদ্ধ করে আইন পাস করল নিউজিল্যান্ড। ফলে, ২০২৩ সাল থেকে তামাক প্রায় নিষিদ্ধ হচ্ছে এই দেশে।

□ বিশ্বের প্রথম দেশ হিসাবে, ভবিষ্যৎ প্রজন্মের জন্য সিগারেট নিষিদ্ধ করে আইন পাস করল নিউজিল্যান্ড। ফলে, ২০২৩ সাল থেকে তামাক প্রায় নিষিদ্ধ হচ্ছে এই দেশে।

১৪ ডিসেম্বর : তত্ত্বাবধায়ক পরিচালক ড. অক্ষয় কুমার সরকারের নেতৃত্বে গঠিত একটি সার্বজনীন পরিষদের সভা অনুষ্ঠিত হয়েছে।

১৪ ডিসেম্বর : তত্ত্বাবধায়ক পরিচালক ড. অক্ষয় কুমার সরকারের নেতৃত্বে গঠিত একটি সার্বজনীন পরিষদের সভা অনুষ্ঠিত হয়েছে।

১৪ ডিসেম্বর : তত্ত্বাবধায়ক পরিচালক ড. অক্ষয় কুমার সরকারের নেতৃত্বে গঠিত একটি সার্বজনীন পরিষদের সভা অনুষ্ঠিত হয়েছে।

১৬ ডিসেম্বর : রিসবেন ২০২২ অলিম্পিক ও প্যারালিম্পিক গেমস অর্গানাইজিং কমিটি'র চিফ এক্সিকিউটিভ অফিসার হলেন মার্কিন এক্সিকিউটিভ সিডি ব্রুস।



এবছর পুরস্কারের বিভাগে 'আন্তর্জাতিক টেনিস ফেডারেশন' বিশ্ব চ্যাম্পিয়ানের পুরস্কার পেলেন স্প্যানিশ টেনিস তারকা রাফায়েল নাদাল। এই নিয়ে মোট ৬ বার (২০০৮, ২০১০, ২০১৭, ২০১৯ ও ২০২২) এই পুরস্কার পেলেন তিনি। অন্যদিকে, মহিলাদের বিভাগে এই পুরস্কার পেলেন পোলিশ টেনিস তারকা ইগা সুহিয়াটেক।

□ কেন্দ্রীয় সংখ্যালঘু বিয়াক মন্ত্রী স্মৃতি জুবিন ইরানি লোকভায় এক প্রবন্ধ লিখিত উত্তরে জানিয়েছেন, 'প্রধানমন্ত্রী কৌশল কো কাম কার্যক্রম'এর নাম বদল করে নতুন নাম রাখা হয়েছে 'প্রধানমন্ত্রী বিরসাত কা সর্ধর্ন' প্রকল্প। কেন্দ্রীয় মন্ত্রকের ৫টি ('শিখো অউর কামাও', 'উজাদ', 'হামারি মরহাভার', 'মরি রোশনি' ও 'নরি মঞ্জিল') প্রকল্পকে একত্রিত করেছে এই প্রকল্পটি।

□ 'তামাকমুক্ত অঞ্চল' হিসাবে ঘোষিত হল 'অল ইন্ডিয়া ইনস্টিটিউট অফ মেডিক্যাল সায়েন্সেস' নয়াদিল্লি। হাসপাতাল চর্চায় ধূমপান বা তামাক সেবন করলে চিকিৎসক, স্বাস্থ্য বা চুক্তিভিত্তিক কর্মচারী ও নিরাপত্তা কর্মী, রোগী, রোগীর বাড়ির লোক-সহ যেকোনো লোকের বিরুদ্ধে কঠোর ব্যবস্থা নেওয়া হবে ও ২০০ টাকা জরিমানা করা হবে বলে জানানো হয়েছে।

জন্ম ও কাশীরের (এখন মুম্বইয়ে থাকেন) ৩২ বছর বয়সি সারথ। দ্বিতীয় ভারতীয় হিসাবে এই শিরোপা পেলেন তিনি। ২০০১ সালে প্রথম ভারতীয় হিসাবে 'মিসেস ওয়াস্ট'এর খেতাব পেয়েছিলেন অদিতি পোবিকর।

□ রাণাপ্তরকারীদের গড়টিকে স্বীকৃতি দিতে, অক্টব পদক্ষেপ মিল 'কেমব্রিজ অভিশ্রাম'। 'উওয়ান' ও 'মায়' শব্দের সংজ্ঞা নতুন সংযোজন আনল তারা। নতুন সংজ্ঞা অনুযায়ী, 'উওয়ান' শব্দের অর্থ হল 'এমন একজন প্রাপ্তবয়স্ক, যিনি অন্য লিঙ্গের পরিচয় নিয়ে জন্মেও নিজেকে মহিলা ভাবেন ও মহিলার মতোই বাচেন'। অন্যদিকে, 'মায়' শব্দের অর্থ হল - 'এমন একজন প্রাপ্তবয়স্ক, যিনি অন্য লিঙ্গের পরিচয় নিয়ে জন্মেও নিজেকে পুরুষ ভাবেন ও পুরুষের মতোই বাচেন'।

□ মার্কিন যুক্তরাষ্ট্রের 'ন্যাশনাল সায়েন্স ফাউন্ডেশন'এর তরফ থেকে প্রকাশিত এক রিপোর্ট অনুযায়ী, বৈজ্ঞানিক গবেষণাপত্র প্রকাশের নিরিখে বিশ্বে তৃতীয় স্থান পেয়ে ভারত। ২০১০ সালে বিজ্ঞান ও প্রযুক্তিবিষয়ক গবেষণাপত্র প্রকাশের নিরিখে প্রথম স্থানে ছিল ভারত। সেসময় থেকেই '৪ ধাপ উঠে নতুন নজির গড়ল ভারত। রিপোর্ট অনুযায়ী, ২০১০ সালে সারা দেশে মোট ৬০,৫৫৫টি বিজ্ঞানবিষয়ক গবেষণাপত্র প্রকাশিত হয়। ২০২০ সালে সেটি দাঁড়িয়েছে ১,৪৯,২১৩। প্রসঙ্গত উল্লেখ্য, ফাউন্ডেশনের সায়েন্স ও ইঞ্জিনিয়ারিং নির্দেশকের সাহায্যে এটি মাথা হয়।

□ উৎপাদনশীলতা বাড়ানোর লক্ষে, দেশীয় বস্ত্রী পরন লিপনত উন্নতি ঘটানোর সিদ্ধান্ত নিল উত্তরাখণ্ড সরকার। এই বস্ত্রী জাতের নামটি এসেছে বস্ত্রীনাথের চারধামের পবিত্র মন্দির থেকে। এই পরন শুধুমাত্র উত্তরাখণ্ডের পার্বত্য জেলাগুলিতে দেখতে পাওয়া যায়, যা আগে 'পাহাড়ি পরন' নামে পরিচিত ছিল। এই বস্ত্রী পরন উৎপাদনশীলতা বাড়াতে সেরা-সের্টিফি সিমেন্ট টেকনোলজি ব্যবহার করার সিদ্ধান্ত নিয়েছে রাজ্যের পশুপালন দফতর।

□ উত্তর প্রদেশের ৪টি জেলায় শোভ সম্প্রদায়কে তপশিলি উপজাতি তালিকার অন্তর্ভুক্ত করতে বিবেচক পাস করল রাজ্যসভা। সংবিধান (তপশিলি জাতি ও তপশিলি উপজাতি) অংশ (দ্বিতীয় সংশোধন) বিধেয়ক, ২০২২ অনুযায়ী, উত্তর প্রদেশের ৪টি জেলায় (চান্দৌলি, কুশীনগর, সন্ত কবির নগর ও সন্ত রবিদাস নগর) শোভ সম্প্রদায়কে তপশিলি উপজাতি তালিকার অন্তর্ভুক্ত করা হবে।

□ বাংলাদেশকে ১২০ রানে হারিয়ে, এবছর অক্ষয়ের জন্য টোয়েন্টি-২০ বিশ্বকাপ জিতল ভারত।

□ স্পেনকে ১-০ ব্যবধানে হারিয়ে, ভ্যাঙ্কোভিয়ায় উদ্বোধনী এক্সাইট্রইট নেশনস কাপ জিতল ভারতীয় মহিলা হকি দল।

□ পুনেরি পল্টনকে ৩৩-২৯ ব্যবধানে হারিয়ে, এবছর নবম 'গ্লো কবাডি লিগ' জিতল জয়পুর শিক প্যাছার্স। এই নিয়ে দ্বিতীয়বার এই লিগে চ্যাম্পিয়ান হল তারা। এর আগে, ২০১৪ সালে এই প্রতিযোগিতা জিতেছিল জয়পুর দল।

১৮ ডিসেম্বর : 'হার্ডার বিশ্ববিদ্যালয়'এর প্রথম কৃষাজ্য হেসিডেট হলেন ক্রাউডিন পে।



পাক-ই স্তানের বিরুদ্ধে করাটি টেস্টের প্রথম একাদশে নিৰ্বাচিত হয়ে এক নতুন নজির গড়লেন ইল্যান্ডের ক্রিকেটার রেহান আহমেদ। ইল্যান্ডের সবথেকে কম বয়সি টেস্ট ক্রিকেটারে পরিণত হলেন তিনি। রেহানের বয়স এখন ১৮ বছর ১২৬ দিন। এতদিন এই নজির ছিল প্রয়াত রায়ান ক্রোজের নামে। ১৯৪৯ সালে নিউজিল্যান্ড বনাম ইল্যান্ড ম্যাচে খেলতে নামার সময় তাঁর বয়স ছিল ১৮ বছর ১৪৯ দিন। শুধু তাই নয়, এই ম্যাচে খেলতে নেমেও নজির গড়লেন রেহান। কনিষ্ঠতম ক্রিকেটার হিসাবে অভিষেক টেস্টে ইনিংসে ৫ উইকেট নেওয়ার নজির গড়েছেন তিনি। রেহানের শিকারের তালিকায় রয়েছে পাক-ই স্তানের বাবর আজম (৫৪), সাউদ শাকিল (৫৩), মহশ্বদ রিজওয়ান (৭), আঘা সলমন (২১) ও মহশ্বদ ওয়াসিম (২)। সেইসঙ্গে, অস্ট্রেলিয়ার প্যাট কামিঙ্গের নজির ভাঙলেন তিনি। কামিঙ্গ অভিষেকে টেস্টে ৫ উইকেট নিয়েছিলেন ১৮ বছর ১৯৬ দিন বয়সে। ২০১১ সালের নভেম্বরে জোহানসবার্গে মদিল আফ্রিকার বিরুদ্ধে এই নজির গড়েছিলেন কামিঙ্গ।

বিশেষ বিজ্ঞপ্তি

কর্মসংস্থান পত্রিকায় প্রকাশিত যে কোনো বিতর্কিত আলোচনা বা, নিবন্ধে যাবতীয় দায়িত্ব লেখকের। কর্মসংস্থান কর্তৃপক্ষ কোনোভাবেই এজন্য দায়ী থাকবে না। এই মতামত কারো পছন্দসই না হলে, প্রতিবাদ জানাতে পারেন। সেফেক্রে তাও যথাযোগ্য মর্মেদালা ছাড়া হবে। কারণ, এটি গণমাধ্যম।



এবছর 'পেটা ইন্ডিয়া'র তরফ থেকে, 'বর্ষসেরা ব্যক্তিত্ব'র খেতাব পেলেন বলিউড অভিনেত্রী সোনামুখী সিনহা। কুকুর ও বিড়ালের অধিকারের জন্য তাঁর দৃঢ় সমর্থন তাঁকে এই পুরস্কার জিততে সহায়তা করেছে। তিনি সক্রিয়ভাবে প্রাণী কল্যাণমূলক কর্মকাণ্ডে জড়িত ও নিয়মিত পশু সুরক্ষা আইনের প্রয়োজনীয়তার বিষয়ে কথা বলেন।

□ ভাদেশ্বরায়, 'পতি শক্তি বিশ্ববিদ্যালয়'এর প্রথম চ্যালেঞ্জর হলেন কেন্দ্রীয় রেল মন্ত্রী অশ্বিনী বৈষ্ণব।

□ জম্মু-কাশ্মীরে, ভারতের দীর্ঘতম এককোণ টানেল চালু করল ভারতীয় রেলওয়ে। উৎসবের স্রীণশর ব্যারামুলা জেল

1. Select the most appropriate ANTONYM of the given word.

Ample

(a) Enough (b) Plenty (c) Spare (d) Scarce
2. Select the option that can be used as a one-word substitute for the given group of words.

Handwritten book

(A) Draft (b) Edition (c) Manuscript (d) Outline
3. Select the most appropriate option to fill in the blank.

Hill stations like Darjeeling and Nainital offer _____ to weary tourists during summer.

(a) strain (b) activity (c) solace (d) aid
4. Select the option that can be used as a one-word substitute for the given group of words.

Something that can be carried easily
(a) Portable (b) Convenient (c) Handy (d) Reachable
5. Select the most appropriate option to fill in the blank.

The Sports Minister _____ the Badminton Association officials that all help will be given to them to conduct the tournament.

(A) committed (b) ascertained (c) assured (d) demonstrated
6. The following sentence has been split into four segments. Identify the segment that contains a grammatical error.

The photographer climb / the tree and took pictures / of the leopard / chasing its prey.
(A)The photographer climb (b) the tree and took pictures (c) of the leopard (d) chasing its prey

7. Select the most appropriate synonym of the given word.

Convert
(a) Dazzle (b) Transform (c) Radical (d) Affect
8. Select the option that can be used as a one-word substitute for the given group of words.

Fluent or persuasive in speaking or writing
(a) Presenter (b) Magnificent (c) Eloquent (d) Persuader

9. The following sentence has been split into four segments. Identify the segment that contains a grammatical error.

The Great Wall of China (a) / is no long (b) / a continuous structure (c) / owing to erosion.(d)
(a) a continuous structure (b) is no long (c) The Great Wall of China (d) owing to erosion

10. Select the INCORRECTLY spelt word.
(a) Solitary (b) Individual (c) Criteria (D) Ledgible

11. Select the most appropriate ANTONYM of the given word.

Opponent
(a) Supporter (b) Professor (c) Mentor (D)Presenter

12. Select the INCORRECTLY spelt word.
(a) Hostel (b) Hold (c) Hospitaliti (d) Hoist

13. Select the most appropriate synonym of the given word.

Similar
(a) Alien (b) Alike (c) Several (d) Equal

14. Select the most appropriate option that can substitute the underlined segment in the given sentence. If there is no need to substitute it, select 'No substitution required'.
If you are in trouble, Tommy is the friend who stands by you.

(a) No substitution required (b) will stand by (c) was standing by (d) stood by

15. Select the most appropriate meaning of the given idiom.
To pull a fast one on someone

(a) To drive very fast (b) To cheat someone (c) To win against someone (D)To enchant someone
Comprehension (16-20): In the following passage, some words have been deleted. Read the passage carefully and select the most appropriate option to fill

৮ কেন্দ্রীয় বাহিনীর কনস্টেবল

কেন্দ্রীয় সরকারের স্বরাষ্ট্র মন্ত্রকের অধীন বর্ডার সিকিউরিটি ফোর্স, সেন্ট্রাল ইন্ডাস্ট্রিয়াল সিকিউরিটি ফোর্স, ইন্দো-তিব্বত সীমান্ত পুলিশ, সশস্ত্র সীমা বল ও সেক্রেটারিয়েট সিকিউরিটি ফোর্স (এস.এস.এফ.)'এ 'কনস্টেবল (জেনারেল ডিউটি)' পদে আর অসম রাইফেলসে 'রাইফেলম্যান (জেনারেল ডিউটি)' আর 'নারকোটিক্স কন্ট্রোল ব্যুরোতে (সেপাই)' পদে ৪৫২৮৪ জন ছেলেমেয়ে নেওয়া হচ্ছে। প্রার্থী বাছাইয়ের জন্য প্রথমে 'কম্পিউটার বেসড পরীক্ষা (সি.বি.ই.)' হবে ১০ জানুয়ারি থেকে ১৪ ফেব্রুয়ারি। এই পরীক্ষায় ১৬০ নম্বরের ৮০টি অবজেক্টিভ মাল্টিপল চয়েজ টাইপের প্রশ্ন হবে এইসব বিষয়ে : (১) পার্ট-এ : জেনারেল ইন্টেলিজেন্স অ্যান্ড রিজনিং - ৪০ নম্বরের ২০টি প্রশ্ন, (২) পার্ট-বি : জেনারেল নলেজ অ্যান্ড জেনারেল অ্যাওয়ারনেস - ৪০ নম্বরের ২০টি প্রশ্ন, (৩) পার্ট-সি : এলিমেন্টারি ম্যাথমেটিক্স - ৪০ নম্বরের ২০টি প্রশ্ন, (৪) পার্ট-ডি : ইংরিজি / হিন্দি - ৪০ নম্বরের ২০টি প্রশ্ন। সময় থাকবে ১ ঘণ্টা। পরীক্ষায় প্রশ্ন হবে ইংরিজি, হিন্দিতে। প্রশ্ন হবে মাধ্যমিক মানের। এই পরীক্ষায় যেমন ধরনের প্রশ্ন এবার আসার সম্ভাবনা তেমনই ১'সেট প্রসঙ্গের নিয়ে আলোচনা করছেন চাকরির পরীক্ষায় বিশেষজ্ঞ অমিয় দে (শংকর দা)।



in each blank.
On 14th April 1912, the Titanic received warnings all the day about(16) icebergs. The first message was received at 9 a.m. Similar messages(17)Around 9 p.m., Captain Smith(18) with his second officer, before retiring for the night. They knew that on such a clear, moonless night it would be(19) difficult to spot icebergs.

Why did they not change the course of the ship and take the ice-free southern route? It remains one of the(20) mysteries surrounding the Titanic.
16. Select the most appropriate option to fill in blank no. 16

(a) floating (b) stacking (c) sinking (d) soaring
17. Select the most appropriate option to fill in blank no. 17
(a) rejected (b) adapted (c) followed (d) influenced
18. Select the most appropriate option to fill in blank no. 18
(a) emigrated (b) conferred (c) gimmicked (d) disunited

19. Select the most appropriate option to fill in blank no. 19
(a) obviously (b) extremely (c) dangerously (d) automatically
20. Select the most appropriate option to fill in blank no. 20.
(a) disheveled (b) declaimed (c) resolved (d) unsolved

GENERAL KNOWLEDGE

21. In which of the following years was Bahadur Shah II deposed by the British and exiled to Rangoon?
(a) 1698 (b) 1798 (c) 1857 (d) 1834
22. Chutka Atomic Power Plant is situated in which of the following states?
(a) Haryana (b) Gujarat (c) Madhya Pradesh (d) Rajasthan
23. Who among the following was the first woman commando trainer in India?
(a) Avani Chaturvedi (b) Damyanti Beshra (c) Dr. Seema Rao (d) Rani Rampal
24. In which of the following years was the Reserve Bank of India nationalised?

৮ বাহিনীর কনস্টেবল পদের বিগত ৫ বছরের কয়েক হাজার প্রশ্নোত্তরের বিশ্লেষণ সহ বেরলো স্পেশাল সংখ্যা

সফল সাধারণ জ্ঞান

Appointment & Career News

হেল্পলাইন : 9830624170

(a) 1935 (b) 1949 (c) 1927 (d) 1965
25. In which of the following sections of the Punjab Reorganisation Act, 1966 is Chandigarh defined as a Union Territory?

(a) Section 3 (b) Section 6 (c) Section 4 (d) Section 1
26. Which of the following is the highest mountain in Bhutan?

(a) Gangkhar Puensum (b) Kula Kangri (c) Jomolhari (d) Gimpochi

27. In which of the following states is Pichola Lake located?

(a) Sikkim (b) Manipur (c) Rajasthan (d) Maharashtra

28. Which of the following Articles of the Constitution of India deals with the duties and powers of the Comptroller and Auditor-General of India?

(a) Article 234 (b) Article 149 (c) Article 189 (d) Article 354

29. Which of the following diseases is caused by fungus?

(a) Ringworm (b) Diarrhoea (c) Small pox (d) Polio

30. Which of the following gases is present under pressure in soft drinks?
(a) Carbon dioxide (b) Oxygen (c) Nitrous oxide (d) Nitrogen

31. What is the full form of OCD?
(a) Obesity-Compulsive Disorder (b) Obsession-Controlling Device (c) Obesity-Controlling Device (d) Obsessive-Compulsive Disorder

32. Indian Universities Commission was set up in which of the following years?

(a) 1902 (b) 1897 (c) 1882 (d) 1909

33. On which of the following dates is International Tiger Day observed?

(a) 12th May (b) 10th January (c) 5th November (d) 29th July

34. With which of the following states is the dance form 'Povadas' associated?

(a) Odisha (b) Bihar (c) Maharashtra (d) West Bengal

35. Fundamental Duties of citizens were added to the Constitution of India in the year.

(a) 1976 (b) 1983 (c) 1967 (d) 1951

36. Burning of coal is a _____ reaction.
(a) displacement (b) decomposition (c) combination (d) double displacement

37. The Khalji Dynasty ruled over Delhi from _____.
(a) 1290 to 1320 (b) 1206 to 1290 (c) 1320 to 1414 (d) 1414 to 1451

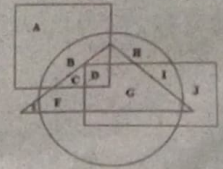
38. The human shoulder joint is an example of a _____ joint.
(a) fixed (b) pivotal (c) hinge (d) ball and socket

39. The first printed edition of the Ramcharitmanas by Tulsidas was published from _____ in 1810.
(a) Delhi (b) Calcutta/Kolkata (c) Madras/Chennai (d) Bombay/Mumbai

40. Dina Boluarte was recently selected as the first female President of which country?
(a) France (b) Peru (c) Brazil (d) Australia

GENERAL INTELLIGENCE

41. In the following Venn diagram, the triangle represents "tall", the circle represent "black eyes", the rectangle represents "brown hair", and the square represents "boys". Which of the following letters represents tall boys with black eyes but NOT brown hair?



(a) C (b) F (c) D (d) G
42. Eight friends, K, L, M, N, O, P, Q and R, are sitting at two circular tables, one smaller inner table and one bigger outer table. Both the circular tables have the

same centre. Four persons are sitting at each table at equal distances between them, facing the centre. M is to the immediate right of L. Q and N are sitting in the south and are facing R and L. M is sitting opposite to O at the same table. P is sitting opposite K at the outer table. N is between P and K at the same table. L is between M and O at the same table. Who is sitting in the north at the outer table?

(a) K (b) P (c) R (d) L

43. Read the given statements and conclusions carefully. Assuming that the information given in the statements is true, even if it appears to be at variance with commonly known facts, decide which of the given conclusions logically follow(s) from the statements.

Statements:
All rats are dogs.
Some rats are hens.

Conclusions:
I. Some rats are dogs.
II. Some hens are rats.

(a) Only conclusion I follows (b) Neither conclusion I nor II follows (c) Only conclusion II follows (d) Both conclusions I and II follow

44. Select the option that is related to the third number in the same way as the second number is related to the first number and the sixth number is related to the fifth number.

7: 113 :: 11 : ? :: 15 : 481

(a) 388 (b) 155 (c) 340 (d) 265

45. Select the number from among the given options that can replace the question mark (?) in the following series.

2, 5, 11, 17, ?, 31, 41

(a) 23 (b) 25 (c) 21 (d) 19

46. In a certain code language, 'RAT' is coded as '39' and 'DOG' is coded as '26'. How will 'YAK' be coded in that language?

(a) 31 (b) 37 (c) 25 (d) 43

47. Pointing towards a boy, Ranjita said, 'He is my husband's father-in-law's only daughter's son's father's only sister's son'. How is that boy's mother related to Ranjita's husband?

(a) Daughter (b) Paternal aunt (c) Mother (d) Sister

48. Select the option that is related to the third term in the same way as the second term is related to the first term.

TONGUE : PUHOFFV :: MASTER : ?

(a) PCTHVS (b) TBOSFU (c) BNUTSF (d) SFUTBN

49. 'Viticulture' is related to 'Grapes' in the same way as 'Floriculture' is related to _____.

(a) Silkworm (b) Fluorine (c) Flowers (d) Plants

50. In a certain code language, 'FLOAT' is written as 'ROU', 'CLAIM' is written as 'OAV'. How will 'ARMED' be written in that language?

(a) RFC (b) DMK (c) SMI (d) TFE

51. Study the given pattern carefully and select the number that can replace the question mark (?) in it.

6 15 48
7 17 55
13 29 ?

(a) 79 (b) 78 (c) 97 (d) 87

52. What will be the value of the given expression if 'A' means '+', 'B' means '-', 'C' means 'x', and 'D' means '÷'?

36 (15 C 4) B (21 A 13) A 24 D (16 D 2) = ?

(a) 96 (b) 83 (c) 65 (d) 51

53. P, Q, R, S, T, U and V are sitting in a row on a wall facing towards the west. R is just to the left of S. Q is at one of the end points and T is his neighbour. V is sitting between T and U. S is fifth from the north end. Who among the following persons is sitting exactly in the middle of the row?

(a) T (b) V (c) S (d) Q

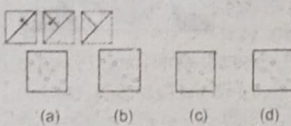
54. Four letter-clusters have been given, out of which three are alike in some manner and one is different.

৮ কেন্দ্রীয় বাহিনীর কনস্টেবল

Select the letter-cluster that is different.

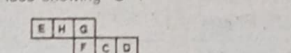
(a) FHLR (b) DFJP (c) NPTZ (d) GIMU

55. The sequence of folding a piece of paper and the manner in which the folded paper has been cut is shown in the following figures. How would this paper look when unfolded?



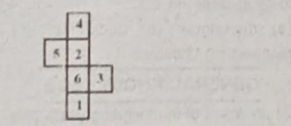
(a) (b) (c) (d)

56. A cube is made by folding the given sheet. In the cube so formed, which letter will be on the face opposite to the face showing 'C'?



(a) H (b) E (c) G (d) F

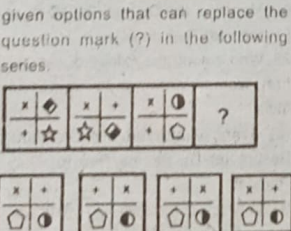
57. Select the dice that can be formed by folding the given sheet along the lines.



(a) (b) (c) (d)

(a) Only A and C (b) Only A, C and D (c) Only A (d) Only A and D

58. Select the figure from among the given options that can replace the question mark (?) in the following series.

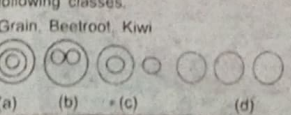


(a) (b) (c) (d)

59. Select the option that is related to the third word in the same way as the second word is related to the first word. Speed : Speedometer :: Air pressure : ?

(a) Variometer (b) Altimeter (c) Hypsometer (d) Barometer

60. Select the Venn diagram that best represents the relationship between the following classes.



(a) (b) (c) (d)

MATHEMATICS

61. A student got 160 marks and required 50 more marks to secure the minimum 35% marks to pass. Find the maximum marks.

(a) 600 (b) 750 (c) 800 (d) 500

62. Rs. 1,26,672 is divided between A and B in the ratio 7:8. The difference between the share of B and that of A (in Rs.) is

(a) 18,654 (b) 21,317 (c) 15,834 (d) 13,485

63. Find the least number of five digits which is exactly divisible by 18, 21 and 24.

(a) 10080 (b) 10286 (c) 11310 (d) 10060

64. A sold article to B at 20% profit. B sold it to C at 12% loss and C sold it to D at 25% profit. If B had a loss of Rs.72, then D would have bought the article for:

(a) Rs.660 (b) Rs.396 (c) Rs.594 (d) Rs.528

65. A man bought some eggs at Rs. 60 per dozen and bought another lot of the same number of eggs at Rs.50. If he gained Rs.930 after selling all these eggs at Rs. 70 per dozen, what was the total number of eggs bought by him?

(a) 54 dozens (b) 48 dozens (c) 62 dozens (d) 70 dozens

66. If the radius of the base of a cylinder is increased by 20% and its height is decreased by $33\frac{1}{2}\%$, then what will be the change in percentage in its volume?

(a) Decreased by 0.4% (b) Increased by 2% (c) Decreased by 4% (d) Decreased by 2%

67. A train travelling at a speed of 45 km/h crosses a house in 12 sec. what is the length of the train?

(a) 150 m (b) 10 m (c) 230 m (d) 180 m

68. The compound interest (Rs. nearest to a rupee) sum of Rs. 7,500 at 24% p.a for 3 month, interest compound monthly is

(a) 459 (b) 439 (c) 303 (d) 465

69. If $(a+b-c) : (b+c-a) : (a+c-b) = 4 : 5 : 9$, then $a-b : c-b : c-a = ?$

(a) 4:1:5 (b) 5:1:4 (c) 1:4:5 (d) 4:5:1

70. A mixture contains alcohol and water in the ratio of 3:4. On adding 8 litres of water, the ratio of alcohol to water becomes 5: 8. The original quantity of the mixture (in litres) is

(a) 70 (b) 63 (c) 35 (d) 84

71. X takes twice as much time as Y, and thrice as much as Z to finish a job. Working all together, they can finish it in 2 days. Y alone can finish the job in:

(a) 14 days (b) 10 days (c) 12 days (d) 6 days

72. An iron is bought for Rs. ₹210. Decide its MRP so that after a discount of 5%. You still gain 90%

(a) Rs. 385.50 (b) Rs. ₹254 (c) Rs. ₹630 (d) Rs. ₹420

73. The average of the marks scored by Amit in 5 subjects is 72. If the average of the marks scored in 3 of these subjects is 70, then what is the average of the marks in the remaining subjects?

(a) 25 (b) 75 (c) 50 (d) 71

74. Four number are in the ratio 2:3:5:7 and their HCF = 6. What is the sum of the squares of the largest and the smallest numbers?

(a) 486 (b) 324 (c) 54 (d) 1908

75. If P is 220% of Q, then what percentage of P+Q will Q be

(a) 37% (b) 48.12% (c) 31.25% (d) 25%

76. The value of $(\frac{2}{5} \text{ of } 7\frac{1}{2} - 2\frac{1}{4}) + (5\frac{1}{2} + 3\frac{1}{2} \text{ of } 6 - \frac{1}{3} \times \frac{5}{8})$ is :

(a) Rs. $\frac{3}{2}$ (b) $\frac{1}{4}$ (c) $\frac{2}{3}$ (d) $\frac{16}{21}$

77. An article was sold at $\frac{11}{8}$ times of its cost price.

The profit per cent is:

(a) 36.5% (b) 35% (c) 37.5% (d) 36%

78. A retailer gains 18% after allowing 12% discount on the cost price. If the cost price is Rs. 16,500, then what is the selling price?

(a) Rs. ₹17354.60 (b) Rs. ₹16155.50 (c) Rs. ₹17550 (d) Rs. ₹17133.60

79. A 243 meter long train running at 60/h takes 42 seconds to cross a tunnel. The length (in meter) of the tunnel is:

(a) 457 (b) 567 (c) 477 (d) 447

80. A sum of money is put on compound interest for 2 years at 20%. It would fetch Rs. ₹964 more if the interest was payable half-yearly than if it was payable yearly. Find the sum.

(a) Rs. ₹40,000 (b) Rs. ₹80,000 (c) Rs. ₹60,000 (d) Rs. 70,000.

ENGLISH

1(d), 2(c), 3(c), 4(a), 5(c), 6(a), 7(b), 8(c), 9(b), 10(d), 11(a), 12(c), 13(b), 14(b), 15(b), 16(a), 17(c), 18(b), 19(b), 20(d).

GENERAL KNOWLEDGE

21(c), 22(c), 23(c), 24(b), 25(c), 26(a), 27(c), 28(b), 29(a), 30(a), 31(d), 32(a), 33(d), 34(c), 35(a), 36(c), 37(a), 38(d), 39(b), 40(b).

GENERAL INTELLIGENCE

41(a), 42(c), 43(c), 44(d), 45(a), 46(b), 47(d), 48(c), 49(c), 50(c), 51(c), 52(c), 53(a), 54(d), 55(a), 56(a), 57(d), 58(d), 59(d), 60(d).

MATHEMATICS

61(a). 35% of 160+50 = 210

$$\frac{1}{100} \times \frac{219}{35} \times 100 = \boxed{600}$$

62(c). $\frac{A}{7} = \frac{B}{9} = 16 = \frac{126672}{16} \times 2$

$$\sqrt{2 \times 2} = \boxed{15834}$$

63(a). 18, 21, 24

$$72, 21 = 3 \times 24 \times 7 = 504$$

$$504 \left| \begin{array}{r} 10000 \\ 504 \end{array} \right| 19$$

$$\begin{array}{r} 4960 \\ 4560 \\ \hline 424 \end{array}$$

$$\frac{1000}{+80} = \boxed{10080}$$

$$\frac{504}{-424} = 80$$

64(a), A B C D
100 120 105.6 132

$$120 \times \frac{12}{17} = 14.4 \quad \uparrow \quad 105.6 = \frac{1}{4} \times 105.6 = \boxed{105.6}$$

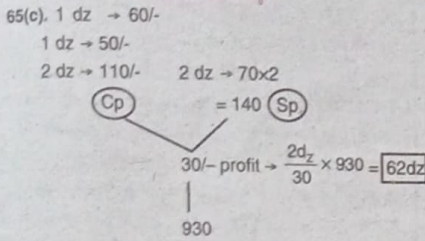
$$14.4 = \frac{72 \times 10}{144} \times 132 = \boxed{660}$$

$$\frac{72 \times 10}{144} \times 132 = \boxed{660}$$

$$14.4 = \frac{72 \times 10}{144} \times 132 = \boxed{660}$$

$$\frac{72 \times 10}{144} \times 132 = \boxed{660}$$

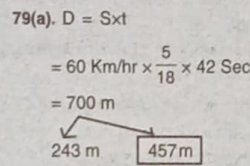
১৪ পাতার পর পি



76(d). $\left(\frac{2}{5} \text{ of } 7\frac{1}{2} + 2\frac{1}{4}\right) + \left(5\frac{1}{2} + 3\frac{1}{2} \text{ of } 6\right) - 1\frac{1}{3} \times \frac{5}{8}$
 $= \left(\frac{2}{5} \text{ of } \frac{15}{2} + 9\right) + \left(\frac{11}{2} + 7 \text{ of } 6\right) - \frac{4}{3} \times \frac{5}{8}$
 $= 3 \times \frac{4}{9} + \frac{11}{2} \times \frac{1}{21} - \frac{5}{6}$
 $= \frac{4}{3} + \frac{11}{42} - \frac{5}{6}$
 $= \frac{56 + 11 - 35}{42} = \frac{67 - 35}{42} = \frac{32}{42} = \frac{16}{21}$

77(c). Cp : Sp
8 : 11
 $\frac{3}{8} \times 100 = \frac{75}{2} = 37.5\%$

78(d). New cp → $16500 \times \frac{88}{100} = 14520$
 Sp → $14520 \times \frac{118}{100} = 17133.60$

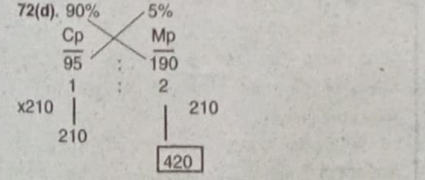


80(a). 20% 10%
C.I. (2 term) C.I. (4 term)
44% 46.41%

66(c). $20\% = \frac{1}{5}$ $r \Rightarrow 5^2 : 6^2$ $v = \pi r^2 h$
 $33\frac{1}{3}\% = \frac{1}{3}$ $h \Rightarrow 3 : 2$
 $v : 75 : 72$
 $\frac{3}{75} \times 100 = 4\% \text{ des.}$
 67(a). D = Sxt
= 45 km/hr × $\frac{5}{18}$ × 12 Sec.
= 150 m.
68(a). $12 - \frac{24}{12}\% = 2\% [3 \text{ month} \Rightarrow 3 \text{ term}]$
 $7500 \times \frac{2}{100} = 150$
 $150 \times \frac{2}{100} = 3$
 $3 \times \frac{2}{100} = 0.6$
 $\frac{450}{9} = 50.96$
 69(d). $(a+b-c) = 4$
 $b+c-a = 5$
 $a+c-b = 9$
 $a+b+c = 18$
 $b+c-a = 5$
 $2a = 13$
 $a = 6.5$ $b = 4.5$ $c = 7$

70(a). A : W 8!!
(3 : 4) × 5 = 15 : 20
(5 : 8) × 3 = 15 : 24
 $4 \equiv \frac{8!!}{4} \times 35$
35 ⇒ 70 lt.

71(d). z x y
Effl. 1 1 2
3 1 1
Effl. 3 : 1 : 2
 $T.w \Rightarrow 6 \times 2 \text{ day} = \frac{12}{2} = 6 \text{ day.}$



73(b). Sub
 $\frac{5 \rightarrow 72}{-3 \rightarrow 70} \Big] +2$
 $2 \rightarrow 72 + \frac{2 \times 3}{2}$
 $72 + 3 = 75$

74(d). (2 : 3 : 5 : 7) × 6
12² + 42²
144 + 1764 = 1908

75(c). P : Q
220 : 100
11 : 5
 $\frac{5}{16} \times 100 = \frac{125}{4} = 31.25\%$

সেনাবাহিনীতে ৭৯ চাকরি ১ পাতার পর পি

জন লোক নিচ্ছে। কারা কোন পদের জন্য যোগ্য :
সাব্বইওয়লা : ক্লাস এইট পাশরা যোগ্য। শূন্যপদ : ৩২টি (জেনাঃ ১৩, তঃউঃজাঃ ১১, ও.বি.সি. ৫, ই.ডব্লু.এস. ৩)।
মালি : ক্লাস এইট পাশরা যোগ্য। শূন্যপদ : ২টি (জেনাঃ ১, তঃউঃজাঃ ১)।
আমা : ক্লাস এইট পাশরা যোগ্য। শূন্যপদ : ১টি (জেনাঃ)।
পিওন : ক্লাস এইট পাশরা যোগ্য। শূন্যপদ : ১টি (তঃউঃজাঃ)।
চৌকিদার : ক্লাস এইট পাশরা যোগ্য। শূন্যপদ : ১টি (তঃউঃজাঃ)।
আ্যাসিস্ট্যান্ট টিচার : যে কোনো শাখার গ্র্যাডুয়েটের বি.এড. কোর্স পাশ হলে যোগ্য। শূন্যপদ : ৫টি (জেনাঃ ৩, তঃজাঃ ১, তঃউঃজাঃ ১)।
স্যানিটারি ইন্সপেক্টর : বি.এস.সি. কোর্স পাশরা স্যানিটারি ইন্সপেক্টরের ডিপ্লোমা কোর্স পাশ হলে যোগ্য। শূন্যপদ : ২টি (জেনাঃ ১, তঃউঃজাঃ ১)।
 সব পদের বেলায় বয়স হতে হবে ৮-১-২০২৩ এর হিসাবে ২১ থেকে ৩০ বছরের মধ্যে। তপশিলী, ও.বি.সি. 'রা যথারীতি বয়সে ছাড় পানেন। প্রার্থী বাছাই হবে লিখিত পরীক্ষা, দক্ষতা, প্রাক্তিক্যাল বা, ট্রেড টেস্টের মাধ্যমে। কোনো ইন্টারভিউ নেই। লিখিত পরীক্ষায় থাকবে জেনারেল ইন্টেলিজেন্স ও রিজনিং, নিউমেরিক্যাল অ্যাপ্লিকেশন, জেনারেল ইংলিশ ও জেনারেল অ্যাওয়ারেনেস। ১৫০ নম্বরের ১৫০টি প্রশ্ন হবে। সমগ্র থাকবে ২ ঘণ্টা। মেগেটিভ মার্কিং আছে। সফল হলে স্ট্রিক্টলি দরখাস্ত করবেন অনলাইনে, ৮ জানুয়ারির মধ্যে। এই ওয়েবসাইটে : www.mponline.gov.in তখন পরীক্ষা ফী বাবদ ১.০০ টাকা অনলাইনে জমা দেবেন। টাকা জমা দেওয়ার পর সিস্টেম জেনারেটেড অ্যাপ্লিকেশন ফর্ম প্রিন্ট করে নেন। আরো বিস্তারিত তথ্য পানেন এই ওয়েবসাইটে : www.jabalpur.cantt.gov.in

সেনাবাহিনীতে ৩৫ চাকরি

নিজস্ব সবেদাদাতি, নয়া দিল্লি : আহমেদনগর ক্যান্টনমেন্ট বোর্ড সাব্বই কর্মচারী, পিওন, মালি, ওয়ার্ড বয়, প্লাম্বার, মজদুর, জুনিয়র ক্লার্ক পদে ৩৫ জন লোক নিচ্ছে। কারা কোন পদের জন্য যোগ্য :
সপ্তম শ্রেণি পাশরা সাব্বই কর্মচারী ও মজদুর পদের জন্য যোগ্য। শূন্যপদ : সাব্বই কর্মচারী পদে ২৩টি (জেনাঃ ১২, তঃউঃজাঃ ২, ও.বি.সি. ৬, ই.ডব্লু.এস. ৩)। মূল মাইনে : ১৫,০০০-৪৭,৬০০ টাকা। মজদুর পদে ৪টি (জেনাঃ ২, তঃউঃজাঃ ১, ই.ডব্লু.এস. ১)। মূল মাইনে : ১৫,০০০-৪৭,৬০০ টাকা।
মাধ্যমিক পাশরা পিওন, চৌকিদার ও ওয়ার্ড বয় পদের জন্য যোগ্য। শূন্যপদ : পিওন পদে ১টি (জেনাঃ)। ওয়ার্ড পদে ১টি (জেনাঃ)। চৌকিদার পদে ১টি (ও.বি.সি.)। মূল মাইনে : ১৫,০০০-৪৭,৬০০ টাকা।
মাধ্যমিক পাশরা ১ বছরের গার্ভেনিয়েন্টের কাজে অভিজ্ঞতা থাকলে 'মালি' পদের জন্য যোগ্য। শূন্যপদ : ৩টি (জেনাঃ ২, ও.বি.সি. ১)। মূল মাইনে : ১৮,০০০-৫৬,৯০০ টাকা।
মাধ্যমিক পাশরা আই.টি.আই থেকে প্লাস্টিক ট্রেডের ১ বছরের সার্টিফিকেট কোর্স পাশ হলে 'প্লাম্বার' পদের জন্য যোগ্য। শূন্যপদ : ১টি (জেনাঃ)। মূল মাইনে : ১৯,৯০০-৬৩,২০০ টাকা।
মাধ্যমিক পাশরা আই.টি.আই থেকে ম্যাসন ট্রেডের ১ বছরের সার্টিফিকেট কোর্স পাশ হলে 'ম্যাসন' পদের জন্য যোগ্য। শূন্যপদ : ১টি (ও.বি.সি.)। মূল মাইনে : ১৯,৯০০-৬৩,২০০ টাকা।
এছাড়াও জুনিয়র ক্লার্ক পদে ১টি (তঃজাঃ) শূন্যপদ আছে। মূল মাইনে : ১৯,৯০০-৬৩,২০০ টাকা।
 বয়স হতে হবে সাব্বই কর্মচারী পদে ২১ থেকে ৩০ বছরের মধ্যে আর অন্যান্য পদের বেলায় ২৩ থেকে ৩৫ বছরের মধ্যে। সব ক্ষেত্রে বয়স প্রাপ্ত হতে হবে ৩-১-২০২৩ এর হিসাবে।
 দরখাস্ত করবেন অফলাইনে, নিম্নলিখিত ফর্ম দরখাস্তের ফর্ম ডাউনলোড করতে পারবেন এই ওয়েবসাইট থেকে : <https://aurangabad.cantt.gov.in> তখন পূরণ করা দরখাস্তের সঙ্গে দেবেন বয়স, শিক্ষাপত্র যোগ্যতা, কাঙ্ক্ষিত সার্টিফিকেটের স্ব-প্রত্যয়িত নকল, এখনকার তোলা ১০ টাকার ডাকটিকিট পাঁচটা ৫x১১ সেমি মাপের দুটি বাম আর ৭০০ (তপশিলী, মহিলা হলে ৩৫০) টাকার ডিমান্ড ড্রাফট। 'Chief Executive Officer, Ahmednagar Cantonment Board' এর অনুকূলে ও শেষেরল অ্যাট লিখবেন 'Ahmednagar'। দরখাস্ত পাঠানোর সাধারণ জাকে, রেজিষ্ট্রি জাকে বা, পিষ্ট ডাকে। পৌঁছনো চাই ৩ জানুয়ারির মধ্যে। দরখাস্ত-ভরা খামের ওপর লিখবেন 'Application for the post of..... in Category..... (UR/SC/ST/OBC/EWS)'. দরখাস্ত পাঠানোর এই ঠিকানা : The Cantonment Board, Ahmednagar, AMX Chowk Camp, Ahmednagar - 414002 (Maharashtra).

কর্মসংস্থান
বার্ণপুর স্থির প্লান্টে ১ পাতার পর পি
 2.41 = $\frac{964}{241} \times 100 \times 100$
 100 ⇒ 40,000

ট্রেনি (বয়লার অপারেশন) : পলিটেকনিক থেকে মেকানিক্যাল, ইলেক্ট্রিক্যাল, কেমিক্যাল, পাওয়ার প্ল্যান্ট, প্রোডাকশন, ইন্সট্রুমেন্টেশন ইঞ্জিনিয়ারিংয়ের ডিপ্লোমা কোর্স পাশরা মোট অন্তত ৫০% (তপশিলী ও প্রতিবন্ধী হলে ৪০%) নম্বর পেয়ে থাকলে আর বয়লার অ্যাটোম্যান্ট কম্পিউটারের প্রথম শ্রেণির সার্টিফিকেট কোর্স পাশ হলে যোগ্য। বয়স হতে হবে ৩০ বছরের মধ্যে। মূল মাইনে : ২৬,৬০০-৩৮,৯২০ টাকা। শূন্যপদ : ১০টি (জেনাঃ ২, তঃজাঃ ৭, তঃউঃজাঃ ২, ও.বি.সি. ২)।
অ্যাটোম্যান্ট কাম টেকনিশিয়ান (বয়লার অপারেশন) : মাধ্যমিক পাশরা আই.টি.আই থেকে বয়লার অপারেশন ট্রেডের সার্টিফিকেট কোর্স পাশ হলে আর বয়লার অ্যাটোম্যান্ট কম্পিউটারের দ্বিতীয় শ্রেণির সার্টিফিকেট কোর্স পাশ হলে যোগ্য। বয়স হতে হবে ২৮ বছরের মধ্যে। মূল মাইনে : ২৫,০৭০-৩৫,০৭০ টাকা। শূন্যপদ : ৭টি (জেনাঃ ৩, ও.বি.সি. ১, তঃজাঃ ৩)।
অপারেটর কাম টেকনিশিয়ান (ট্রেনি) : মাধ্যমিক পাশরা পলিটেকনিক থেকে মেকানিক্যাল, মেটালার্জি, ইলেক্ট্রিক্যাল, ইন্সট্রুমেন্টেশন, কেমিক্যাল, সিভিল বা, সেরামিক ইঞ্জিনিয়ারিংয়ের ৩ বছরের ডিপ্লোমা কোর্সে মোট অন্তত ৫০% (তপশিলী ও প্রতিবন্ধী হলে ৪০%) নম্বর পেয়ে থাকলে আবেদন করতে পারেন। বয়স হতে হবে ২৮ বছরের মধ্যে। মূল মাইনে : ২৬,৬০০-৩৮,৯২০ টাকা। শূন্যপদ : মেকানিক্যাল ২০টি। মেটালার্জি ১৪টি, ইলেক্ট্রিক্যাল ২০টি, ইন্সট্রুমেন্টেশন ৫টি, কেমিক্যাল ৫টি, সিভিল ৫টি, সেরামিক ৪টি। মোট শূন্যপদের মধ্যে জেনাঃ ২৭, তঃজাঃ ১৯, তঃউঃজাঃ ৫, ও.বি.সি. ১৯, ই.ডব্লু.এস. ৩)। এর মধ্যে অস্থি প্রতিবন্ধী ৩, বধির ১১, প্রাঃসঃকঃ ১০।
অ্যাটোম্যান্ট কাম টেকনিশিয়ান (ট্রেনি) : মাধ্যমিক পাশরা আই.টি.আই থেকে ফিটার, ইলেক্ট্রিশিয়ান, টার্নার, ওয়েল্ডার ট্রেডের সার্টিফিকেট কোর্স পাশ হলে যোগ্য। বয়স হতে হবে ২৮ বছরের মধ্যে। মূল মাইনে : ২৫,০৭০-৩৫,০৭০ টাকা। শূন্যপদ : ফিটারে ১০টি, ইলেক্ট্রিশিয়ানে ১০টি, টার্নার ৫টি, ওয়েল্ডার ২টি। মোট শূন্যপদের মধ্যে জেনাঃ ৬, তঃজাঃ ১১, তঃউঃজাঃ ৯, ও.বি.সি. ১৪)। এর মধ্যে বধির ৩, প্রাঃসঃকঃ ৬।
অ্যাটোম্যান্ট কাম টেকনিশিয়ান (ট্রেনি)-হেভি ভেহিক্যাল ড্রাইভার : মাধ্যমিক পাশরা ভারি গাড়ি চালানোর বৈধ লাইসেন্স থাকলে আবেদন করতে পারেন। গাড়ি চালানোর কাজে এক বছরের অভিজ্ঞতা

