

সরকারি সংস্থায় ১৬৬

সিনিয়র মেডিক্যাল অফিসার, জুনিয়র ইঞ্জিনিয়ার এবং সিনিয়র অ্যাকউন্ট্যান্ট পদে ১৬৬ জনকে নেবে এন এইচ পি সি লিমিটেড। প্রার্থী বাছাই করা হবে একটি জাতীয় স্তরের পরীক্ষার মাধ্যমে। কলকাতায় পরীক্ষাকেন্দ্র আছে। এই নিয়োগের বিজ্ঞপ্তি নম্বর NH/Rec/H/02/2021.

শূন্যপদের বিবরণ: সিনিয়র মেডিক্যাল অফিসার: ১০টি। শিক্ষাগত এরপর হলের পাতায়

মিশ্র খাতু নিগমে চাকরি

বিভিন্ন পদে ৩৯ জন কর্মী নেবে মিশ্র খাতু নিগম। এটি ভারতের প্রতিরক্ষা মন্ত্রকের অধীনস্থ একটি সংস্থা। নিয়োগ করা হবে সিনিয়র অপারেটিভ ট্রেনি, জুনিয়র অ্যাসিস্ট্যান্ট, জুনিয়র সিকিউরিটি ইন্সপেক্টর ও জুনিয়র অপারেটিভ ট্রেনি পদে। এই নিয়োগের বিজ্ঞপ্তি নম্বর: MDN/HR/NE/4/21.

শূন্যপদের বিবরণ: সিনিয়র অপারেটিভ ট্রেনি-এন ডি টি অপারেটর: শূন্যপদ ৬টি (সাধারণ ১, এরপর হলের পাতায়

ব্যাঞ্জে ১৯০ স্পেশ্যালিস্ট অফিসার

বিভিন্ন বিভাগে ১৯০ জন স্পেশ্যালিস্ট অফিসার নিয়োগ করবে ব্যাঞ্জে অব মহারাষ্ট্র। নিয়োগ করা হবে এগ্রিকালচারাল ফিল্ড অফিসার, সিকিউরিটি অফিসার, আই টি সাপোর্ট অ্যাডমিনিস্ট্রেটর, ল অফিসার, উইজোল্ড অ্যাডমিনিস্ট্রেটর-সহ বিবিধ পদে জুনিয়র ম্যানেজমেন্ট গ্রেড স্কেল-৩য়ান এবং মিজেল ম্যানেজমেন্ট গ্রেড স্কেল-১য়ে। প্রবেশানের মেয়াদ স্কেল ওয়ানের ক্ষেত্রে ২ বছর এবং স্কেল ট্রয়ের ক্ষেত্রে ১ বছর। এই নিয়োগের বিজ্ঞপ্তি নম্বর:

AXI/ST/SP/Specialist Officers in Scale I & II/2021-22.

শূন্যপদের বিন্যাস: এগ্রিকালচারাল ফিল্ড অফিসার (জে এম জি এস-ওয়ান): শূন্যপদ ১০০টি (সাধারণ ৪১, তফসিলি জাতি ১৫, তফসিলি উপজাতি ৭, ও বি সি ২৭, আর্থিক ভাবে অনগ্রসর ১০)। এর মধ্যে ২টি করে শূন্যপদ দুটি, অহি, শ্রবণসংক্রান্ত এবং বৌদ্ধিক বা একাধিক প্রতিবন্ধকতাসম্পন্ন প্রার্থীদের জন্য সংরক্ষিত থাকবে। শিক্ষাগত যোগ্যতা: মোট অন্তত ৬০ শতাংশ

নম্বর-সহ এগ্রিকালচার, হার্টিকালচার, অ্যানিম্যাল হাজবেন্ড্রি ডেপার্টমেন্টের সার্ভিস, ডেয়ারি সার্ভিস, ফিয়ারি সার্ভিস, পিসিকালচার, এগ্রিকালচারাল মার্কেটিং অ্যান্ড কো-অপারেশন, কো-অপারেশন অ্যান্ড ব্যাঙ্কিং, অ্যাগ্রো-ফরেস্ট্রি, ফরেস্ট্রি, এগ্রিকালচারাল বায়োটেকনোলজি, ফুড সার্ভিস, এগ্রিকালচারাল বিজনেস ম্যানেজমেন্ট, ফুড টেকনোলজি, ডেয়ারি টেকনোলজি, এগ্রিকালচারাল ইঞ্জিনিয়ারিং, সেরি

এরপর হলের পাতায়

পাঁচ পুলিশ বাহিনীতে ৫৪৬ মেডিক্যাল অফিসার

৫৪৬ জন মেডিক্যাল অফিসার ও স্পেশ্যালিস্ট মেডিক্যাল অফিসার নেবে সেন্ট্রাল আর্মড পুলিশ ফোর্স। যথাক্রমে অ্যাসিস্ট্যান্ট কমান্ড্যান্ট এবং ডেপুটি কমান্ড্যান্ট পদে নিয়োগ করা হবে বর্তার সিকিউরিটি ফোর্স, সেন্ট্রাল রিজার্ভ পুলিশ ফোর্স, সশস্ত্র সীমা বল, ইন্সে-টিবেটান বর্তার পুলিশ এবং অসম রাইফেলস। প্রবেশন ২ বছরের। প্রার্থী বাছাই করবে ইন্সে-টিবেটান বর্তার পুলিশ ফোর্স (রিজুটমেন্ট ব্রাঞ্চ)।

শূন্যপদের বিন্যাস: মেডিক্যাল অফিসার (অ্যাসিস্ট্যান্ট কমান্ড্যান্ট): বর্তার সিকিউরিটি ফোর্স: ৮৫টি (সাধারণ ১১, তফসিলি জাতি ১২,

তফসিলি উপজাতি ১, ও বি সি ৫০, আর্থিক ভাবে অনগ্রসর ৮)। এর মধ্যে প্রাক্তন সমরকর্মীদের জন্য ৮টি শূন্যপদ সংরক্ষিত হবে। সেন্ট্রাল রিজার্ভ পুলিশ ফোর্স: ৭৭টি (সাধারণ ২৬, তফসিলি জাতি ১৯, তফসিলি উপজাতি ৩, ও বি সি ২০, আর্থিক ভাবে অনগ্রসর ৯)। এর মধ্যে প্রাক্তন সমরকর্মীদের জন্য ৮টি শূন্যপদ সংরক্ষিত হবে। সশস্ত্র সীমা বল: ৫১টি (সাধারণ ১২, তফসিলি জাতি ১০, তফসিলি উপজাতি ১, ও বি সি ১৮)। এর মধ্যে প্রাক্তন সমরকর্মীদের জন্য ৫টি শূন্যপদ সংরক্ষিত হবে। ইন্সে-টিবেটান বর্তার

পুলিশ: ১০১টি (সাধারণ ২৫, তফসিলি জাতি ২০, তফসিলি উপজাতি ১, ও বি সি ৪৬, আর্থিক ভাবে অনগ্রসর ৯)। এর মধ্যে প্রাক্তন সমরকর্মীদের জন্য ১০টি শূন্যপদ সংরক্ষিত হবে। অসম রাইফেলস: ৩১টি (সাধারণ ১৩, তফসিলি জাতি ৭, তফসিলি উপজাতি ১, ও বি সি ৭, আর্থিক ভাবে অনগ্রসর ৩)। এর মধ্যে প্রাক্তন সমরকর্মীদের জন্য ৩টি শূন্যপদ সংরক্ষিত হবে।

শিক্ষাগত যোগ্যতা: এম বি বি এস। রাজ্য মেডিক্যাল কলেজ বা মেডিক্যাল কলেজ অথবা ইন্ডিয়ায় রেজিস্ট্রেশন করে থাকতে হবে।

এরপর হলের পাতায়

রায়পুর এইমসে ২১৮

প্রফেসর, অ্যাডিশনাল প্রফেসর, অ্যাসোসিয়েট প্রফেসর ও অ্যাসিস্ট্যান্ট প্রফেসর পদে ২১৮ জনকে নেবে রায়পুরের অল ইন্ডিয়া ইনস্টিটিউট অব মেডিক্যাল সায়েন্সেস। এর মধ্যে ৫০ জন অ্যাসিস্ট্যান্ট প্রফেসর নিয়োগ করা হবে চুক্তিতে।

শূন্যপদের বিবরণ: প্রফেসর: ৩৭টি, অ্যাডিশনাল প্রফেসর: ৩১টি, অ্যাসোসিয়েট প্রফেসর: ৫২টি, অ্যাসিস্ট্যান্ট প্রফেসর: ৪৮টি। এই নিয়োগের বিজ্ঞপ্তি নম্বর Admin/Rec./Regular/Faculty/2021/AIIMS.RPR/365.

উপরোক্ত পদগুলির ক্ষেত্রে অনলাইন দরখাস্তের শেষ তারিখ ৪ অক্টোবর।

চুক্তিভিত্তিক অ্যাসিস্ট্যান্ট প্রফেসর: ৫০টি। এই নিয়োগের বিজ্ঞপ্তি নম্বর Admin/Rec./Contract/Faculty/2021/AIIMS.RPR/370। এই পদে অনলাইন দরখাস্তের শেষ তারিখ ১৪ সেপ্টেম্বর।

দরখাস্ত করতে হবে এই ওয়েবসাইটের মাধ্যমে: www.aiimsraipur.edu.in. বিশদ তথ্যের জন্য আইআইআই দেখুন উপরোক্ত ওয়েবসাইট।

সরকারি শিক্ষা প্রতিষ্ঠানে চাকরি

প্রফেসর, অ্যাসোসিয়েট প্রফেসর এবং অ্যাসিস্ট্যান্ট প্রফেসর পদে ৪৮ জনকে নেবে ইন্দিরা গান্ধি দিল্লি টেকনিক্যাল ইউনিভার্সিটি ফর উইমেন। নিয়োগ করা হবে ইনফরমেশন টেকনোলজি, কম্পিউটার সায়েন্স ইঞ্জিনিয়ারিং, ইলেক্ট্রনিক্স অ্যান্ড কমিউনিকেশন ইঞ্জিনিয়ারিং, মেকানিক্যাল অ্যান্ড অটোমেশন ইঞ্জিনিয়ারিং, আর্কিটেকচার অ্যান্ড প্ল্যানিং, অ্যাথলেটিক্স, ফিজিক্স, কেমিস্ট্রি এবং ইংরেজি বিষয়ে।

শূন্যপদের বিবরণ: প্রফেসর: ১২টি, অ্যাসিস্ট্যান্ট প্রফেসর: ১৯টি, অ্যাসোসিয়েট প্রফেসর: ১৭টি। অনলাইন দরখাস্ত করতে হবে এই ওয়েবসাইটের মাধ্যমে: www.igdw.ac.in দরখাস্তের শেষ তারিখ ৪ অক্টোবর। অনলাইনে দরখাস্ত সাবমিটের পর সাবমিট করা দরখাস্তের এক কপি প্রিন্ট আউট নিয়ে নেবেন। এটি পাঠাতে হবে। ১১ অক্টোবরের মধ্যে প্রয়োজনীয় নথিপত্র-সহ দরখাস্তের প্রিন্ট আউট পৌঁছাতে হবে এই ঠিকানায়: Additional Registrar (HR), Indira Gandhi Delhi Technical University for Women, Room no. 205, First floor, Administrative Block, Kashmir Gate, Delhi-110006.

বিশদ তথ্যের জন্য দেখুন উপরোক্ত ওয়েবসাইট।

পুজোর বাজারে কাঁথা স্টিচের শাড়ি ও পোশাক

বিক্রির ব্যবসা লাভজনক

শীতের নকশি কাঁথা এখন অতীত। কিন্তু কাঁথার সৃষ্টিশিল্প মাতাচ্ছে আধুনিক ফ্যাশন-দুনিয়া। পোশাক থেকে ব্যাগ- নকশায় কাঁথা স্টিচের কাজ থাকা মানেই তাতে সুরুতির মাত্রা যোগ হওয়া। এ বছরের বহু দক্ষ সৃষ্টিশিল্পী কাঁথা স্টিচের কাজ করে আজ নিজেরা প্রতিষ্ঠিত, কাজ শিখিয়ে অনেককে তাঁরা উপার্জনের পথও দেখাচ্ছেন। সামনে উৎসবের মরশুম। কাজ না শিখেও কাঁথা স্টিচের কাজ করা বিভিন্ন সামগ্রী হোলসেলে কিনে ও বিক্রি করে ভালো উপার্জন করতে পারেন।



নিজস্ব প্রতিষ্ঠান: বাংলার অতি প্রাচীন ঘরোয়া সৃষ্টিশিল্প 'কাঁথা স্টিচ'। সেই কাঁথা স্টিচের কাজ করা শাড়ি, পাঞ্জাবি, সেপাতি, কুর্তি ও অন্যান্য পোশাক রাজ্য বা দেশের গণিতে আটকে না থেকে এখন বিপুল কদর পাচ্ছে বিদেশেও। কাঁথা স্টিচের ব্যাগ, বেডকভার, কুশন কভার, রুমাল, গরমার বাগ ইত্যাদিও বেশ জনপ্রিয়। এমনকী এখন কাঁথা স্টিচের কাজ করা মাস্কও পাওয়া যাচ্ছে। এই বসে এমন অনেকেই আছেন যারা এই শিল্পের মাধ্যমে নিজেদের প্রতিষ্ঠিত করেছেন, সমান পেয়েছেন, সেইসঙ্গে অন্যদেরও উপার্জনের ভঙ্গনা জুগিয়ে চলেছেন।

পোশাক বা অন্যান্য সামগ্রীতে এখন যে-কাঁথা স্টিচ আমরা দেখছি, তার উৎপত্তি নকশি কাঁথা থেকে। এই স্টিচ তখন সীমাবদ্ধ ছিল শুধু কাঁথা তৈরির মধ্যে। নকশি কাঁথা ভারত ও বাংলাদেশের লোকশিল্পের অংশ। মেলাই করার আগে কাপড়ে নকশা একে নেওয়া হয়। তারপর সূচ ও নানা রঙের সূতো দিয়ে ওই আঁকা বরাবর স্লেজি করা হয়। কাঁথায় সাধারণত মধ্যের অংশের নকশা আগে করা হয় এবং তারপর ঘিরে ঘিরে চারপাশের নকশা করা হয়।

কাঁথার নকশার কোনও নির্দিষ্ট ছাঁদ নেই। যিনি স্লেজি করেন তাঁর মনে যা আসে তা সূচ ও সূতে কাপড়ে। সূচ, চাঁদ, গাছ, পাখি, মাছ, ফল, মানুষ, কুলো, অলংকার, হাতি, বাঘ, ঘোড়া, নৌকা, জগন্নাথদেবের রথ, নৃত্য, শিকার, নৌকাবাঁচ, রাখা-

কুশ- প্রকৃতি, পুরাণ থেকে শুরু করে এমনকী সমকাল ধরা থাকে নকশি কাঁথায়। কাঁথার মোটিক শিল্পীদের বিভিন্ন আবেগ ও অনুভূতি প্রতিফলিত হয়।

২০০৮ সালে পশ্চিমবঙ্গ নকশি কাঁথার ভৌগোলিক স্বীকৃতি পেয়েছে। কাঁথার ব্যবহার কমে গেলেও কাঁথায় করা স্টিচ এখনও অত্যন্ত জনপ্রিয়। যে-স্টিচগুলো আগে শিল্পীরা কাঁথায় করতেন, তা এখন শাড়ি, পোশাক, পাঞ্জাবি, ব্যাগ, কুশন কভার, বেডকভার ইত্যাদি বিভিন্ন সামগ্রীর উপর করেন। বিশেষ করে সিল্ক বা তসরের উপর কাঁথা স্টিচের কাজ করা শাড়ি, গুড়না, পাঞ্জাবি ও সালোয়ার কমিঞ্জের চাহিদা অত্যন্ত বেশি এবং বাজারের ভালো দামও পাওয়া যায়।

শুধু কাঁথা স্টিচ করে সুনাম অর্জন করেছেন এমন বহু মানুষ আছেন আমাদের রাজ্যে। বীরভূমের বিধান মণ্ডল, মুর্শিদাবাদের বিলকিস রাবিয়া, সেনালি করেরা নিজেরা প্রতিষ্ঠিত, পাশাপাশি অন্যদেরও উপার্জনের দিশা দেখাচ্ছেন। এদের কাছে 'কাঁথা শিখে এবং কাজ করে অনেকেই ভালো উপার্জন করছেন। বিশেষ করে উপকৃত হয়েছেন গ্রাম ও মহলসলের দরিদ্র পরিবারের মেয়েরা। এদের অনেকে স্বাধীন ভাবেও কাঁথা স্টিচের কাজ করছেন।

এদের কাছ থেকে হোলসেলে কাঁথা স্টিচ করা শাড়ি, পোশাক ইত্যাদি নানা জিনিস

এরপর হলের পাতায়

WB Nursing & Multi Services

Nursing & Multi Services

Admission Open

GNM & B.Sc

নার্সিং

কেটিং করেই মনকে
কোর্স করার সুযোগ পাবেন

STUDENT

অল্প খরচে পশ্চিমবঙ্গে নার্সিং
পড়ার জন্য সিট বুকিং চলছে

**MBBS, BDS
Paramedical**

D. Pharm, B. Pharm

Hospital More, Tamluk
Purba Medinipur, Pin-721636
7384783625/8116669515

6, Seals Garden Lane
Kolkata - 700 002
8116669615/8116669516

কর্মমেষ

শ্রেণিবদ্ধ বিজ্ঞাপন

কর্মখালি

আর্জেন্ট কাজের সুযোগ
পাণ্ডা প্রকৃষ্টি জেলায় Pvt. ব্যাঙ্ক, NC, MNC, Pvt. Ltd. Co. ATM ও টাওয়ার Co. Pvt. ব্যাঙ্কের অফিসিয়াল ও অন্যান্য পুরো M/F নিয়োগ। বৈতন্য: (12,500/- - 23,700/-), M: 78725-38656

প্রাচ্য ব্যাঙ্ক স্থায়ী জব
পাণ্ডা বাল্যের বিভিন্ন প্রান্তের জব ব্যাঙ্ক DSA-এর জন্য জরুরি M/F নিয়োগ করাচ্ছে। বিভিন্ন পদের ও বিভিন্ন বৈতন্য: (12,500/- - 18,500/-), M: 95938-58611

জেলাভিত্তিক স্থায়ী কাজ
প্রকৃষ্টি জেলায় Pvt. ব্যাঙ্ক, ATM, টাওয়ার Co. ক্যাশিয়ার, শপিংমলে কর্মী নিয়োগ। বৈতন্য: (12,500/- - 18,500/-), M: 90514-56985

সরাসরি কর্মী নিয়োগ
প্রকৃষ্টি জেলায় ATM গার্ড, টাওয়ার Co., নার্সিং হোম, Pvt. Co. শপিংমলে কর্মী নিয়োগ। বৈতন্য: (12,500/- - 18,500/-), বাংলা খণ্ডের সুবিধা আছে। M: 90732-45736

কর্মখালি

7 দিনে স্পট জয়েনিং
কিনা জোনেশনে Airport ও ব্যাঙ্ক অটম-মাসিক M/F কর্মী চাই। বৈতন্য: 17,400/- - 45,300/-, বাংলা-খণ্ডের সুবিধা। M: 97349-70483

Jobs for Machinist & Fitter
Urgent reqd. Machinist & Fitter for Engg. MNC in Howrah, III Pass 5-7 yrs exp Attractive Salary. Apply: info@hunger-hydraulics.in

স্কুল-কলেজ শিক্ষা

টিচার ট্রেনিং

প্রি-প্রাইমারী, প্রাইমারী ও মধ্যমশ্রেণী
টিচার ট্রেনিং-এ ভর্তি চলছে। Approved by B.S.S Govt. of India & IAO (USA). Placement Assistance. কলিকাতা-কলকাতা, শ্যামবাজার, টলিগঞ্জ, হাওড়া: 98308-15220 / 90510-74736

প্রি-প্রাইমারী ও প্রাইমারী

টিচার ট্রেনিং (১/২ বছর)
(নতুন শিক্ষার্থী অনুমোদিত) Approved by BSS & NSDC Govt. of India কোর্সে ভর্তি চলছে। চাকরির বিশেষ সুযোগ। Global Technical Institute, বেলখোলা-ফুলবাগান: 92315-51285 / 92301-13485, বড়িগা: 90516-29028 / 82407-96873

পাঠকের প্রতি

কোনও বেসরকারি প্রতিষ্ঠানের বিজ্ঞাপনের উত্তরে আবেদন বা সাাক্ষ্য করার সময় কোনওরকম টাকা চাওয়া হলে সেই টাকা দেওয়া সম্পূর্ণ ন্যায়সঙ্গত কিনা সেবিষয়ে পুরোপুরি নিশ্চিত না হয়ে টাকা দেবেন না। যে-কোনও বেসরকারি শিক্ষা প্রতিষ্ঠানে ভর্তি হওয়ার আগে সংস্থাটির ব্যবস্থায় স্বীকৃতিপত্র বাচাই করে নেওয়া সঙ্গত। বিজ্ঞাপনদাতারা কোনও প্রতিশ্রুতি পালনে ব্যর্থ হলে তার জন্য প্রকাশক, মুদ্রক, সম্পাদক এবং স্বাক্ষর প্রকাশনী প্রাইভেট লিমিটেড-এর মালিকপক্ষকে কোনওভাবেই দায়ী করা যাবে না।

DISCLAIMER

SWARNAKSHAR PRAKASANI PVT. LTD. assumes no responsibility for the authenticity or reliability of any advertisement published in this newspaper. The advertisements carried in the newspaper are accepted on good faith.

কলকাতা পুরসভায় ডাক্তার

৭৩ জন ডাক্তার নেবে কলকাতা পুরসভা। ন্যাশনাল আর্বাণ হেলথ মিশনের অধীনে পূর্ণ ও আংশিক সময়ের জন্য চুক্তিতে নিয়োগ করা হবে বিভিন্ন আর্বাণ প্রাইমারি হেলথ সেন্টারে। প্রার্থী বাছাই করা হবে ওয়াক-ইন-ইন্টারভিউয়ের মাধ্যমে। ইন্টারভিউ ১০ সেপ্টেম্বর। এই নিয়োগের বিজ্ঞপ্তি নম্বর 06/Kolkata City NUHM Society/2021-22.

শূন্যপদের বিবরণ: মেডিক্যাল অফিসার (পূর্ণ সময়): ১৬টি (সাধারণ ৪, তফসিলি জাতি ৪, তফসিলি উপজাতি ৫, ও বি সি-এ ২, ও বি সি-বি ২, সাধারণ-দৈহিক প্রতিবন্ধী ১)। মেডিক্যাল অফিসার (আংশিক সময়): ৫৫টি।
শিক্ষাগত যোগ্যতা: মেডিক্যাল কাউন্সিল অব ইন্ডিয়া কর্তৃক স্বীকৃত প্রতিষ্ঠান থেকে এম বি বি এস, সঙ্গে ১ বছরের বাধ্যতামূলক ইন্টার্নশিপ সম্পূর্ণ করে থাকতে হবে। বয়স: ১৯-২০২১ তারিখে ৬২ বছরের মধ্যে হতে হবে।
বেতন: পূর্ণ সময়ের ক্ষেত্রে প্রতি মাসে ৬০,০০০ টাকা এবং আংশিক সময়ের ক্ষেত্রে প্রতি মাসে ২৪,০০০ টাকা।
দরখাস্ত করতে হবে নির্দিষ্ট বয়সে। দরখাস্তের বয়ান ডাউনলোড করে নেবেন এই ওয়েবসাইট থেকে: www.knecgov.in

ইন্টারভিউয়ে সঙ্গে নিয়ে যাবেন এই সব নথি

- প্রার্থীর এক কপি ফটো। ফটোটি দরখাস্তের নির্দিষ্ট স্থানে স্টেট সেলেন এবং ফটোর উপর সহ করে দেবেন।
- বয়স এবং শিক্ষাগত যোগ্যতার ব্যবস্থায় নথিপত্রের নকল।
- কার্ড এবং ও বি সি সার্টিফিকেটের নকল।
- দৈহিক প্রতিবন্ধকতার সার্টিফিকেটের নকল।
- সচিব পরিচালক হিসেবে ভোটার কার্ড বা পাসপোর্টের নকল।
- প্রার্থী বাবিন্দ্য হওয়ার প্রমাণপত্র হিসেবে ভোটার কার্ড বা আধার কার্ড বা পাসপোর্টের নকল।

খাপস নথিপত্রগুলিও সঙ্গে নিয়ে যাবেন। ইন্টারভিউ ১০ সেপ্টেম্বর, সকাল সাতটা ১০টা থেকে। ইন্টারভিউ কেন্দ্রের ঠিকানা: Room No. 254, 2nd Floor, PMU, Kolkata City NUHM Society, 5, S.N Banerjee Road, Kolkata-700013.
বুটিনাটি ত্যাগের জন্য পেশন উপায়োক্ত ওয়েবসাইটে।

পুজোর বাজারে কাঁথা স্টিচের শাড়ি ও পোশাক বিক্রির ব্যবসা লাভজনক

প্রথম পাতার পর

কিনে ব্যবসাও করতে পারেন। হোলসেল ফ্রেজারের জন্য জিনিসের দাম বেশ কিছুটা কম রাখা হয়। সেখানেই আপনার বলে দেওয়া ডিজাইন অনুসারেও কাজ করে দেন এরা। সামনেই বাজারের বড় উৎসব ঘুর্ণাপুড়ে। উৎসব উপলক্ষে কেনাকাটা চলবেই। বছরের এই সময়ের দিকে তাকিয়ে থাকেন ব্যবসায়ীরা। নতুন করে ব্যবসা বা কাজ শুরু করার কথা ভাবলে এই সময়টা নির্বাচন করতে পারেন। বাজারে কাঁথা স্টিচের কাজের বেহেতু একটা নির্দিষ্ট চাহিদা আছেই, সেখানে এই সময়টা কাজে লাগিয়ে আপনিও কাঁথা স্টিচের শাড়ি, গুড়না, পোশাক ইত্যাদি হোলসেলে কিনে ব্যবসা করার কথা ভাবতে পারেন।
যোগাযোগ: বিলকিস রাবিয়া (৯৭০২৬-০১০০১), বিধান মণ্ডল (৯৪৩৪০-৯৭২৬২), সোনালি কবি (৩০১৬৭-৯৭২১১)

দেশের বাইরেও কাঁথা স্টিচের কদর বাড়ছে

বিলাসিনী রাবিয়া, কাঁথাসিল্পী ও বিদ্যেতা, মুর্শিদাবাদ
সাত বছর বয়স থেকে আমি কাঁথা স্টিচ করছি। শিখেছিলাম আমার মায়ের কাছে। তিনি অত্যন্ত দক্ষ কাঁথাসিল্পী ছিলেন। আজ আমি বাট পরিচয়ে গিয়েছি। দেশবাইরের ভর্তি এই ভালোবাসাই আমাকে উপার্জনের পিলা দেবিয়াচ্ছে। পেয়েছি সম্মান ও পুরস্কার। এ ব্যাপারে সবচেয়ে বেশি উৎসাহ পেয়েছিলাম আমার স্বামীর কাছ থেকে। নিজের শাড়ি নিজেই কাঁথা স্টিচ করে পরি। ৩৫-৪০ বছর আগে এমনই শাড়ি পরে যেতাম রাজ্য সরকারের সচিব তত্ত্বাবধায়। তত্ত্বাবধায় কর্মীরা সেটা লক্ষ করেন এবং সেখান থেকেই প্রথম অর্ডার পাঠি কাঁথা স্টিচের শাড়ি বানানোর। ওরা যখন কিনে দিত, আমি নকশা করে স্টিচের কাজও করে দিতাম। সেই আমার পথ চলা শুরু। এর পরে বেশ ছুটে বিভিন্ন হস্তশিল্প মেলায় আমি নিজের কাজ নিয়ে গিয়েছি। এখনও যাই বাজার আমার অধীনে প্রায় ২০০ জন মেয়ে কাজ করছেন। পাশাপাশি পশ্চিমবঙ্গের বিভিন্ন জেলা থেকে মেয়েরা এসে কাজ শিখছেন, প্রায় সকলেই উপার্জন করছেন। কাজ শিখে অনেকে আমার সঙ্গেই কাজ করেন। আসলে আমি এক এগোতে চাইনি। গ্রামের মেয়েদের দুর্দশার কথা আমি জানি। অনেক মেয়ের পাশেই এসেছি, সন্তান ফেলে বাইরে গিয়ে রোজগার করা সম্ভব হয় না, তাঁদের জন্য এই সেলাইয়ের কাজ উপযুক্ত।
বর্তমানে সাধারণত রান, জিরে রান, বুড়ি রান, হ্রীপ, ক্রশ ইত্যাদি প্রায় ১০টি কাঁথা স্টিচ জানাকপড়ে ফুটিয়ে তোলা হয়। কিন্তু অনেকেই জানেন না কাঁথা স্টিচের সংখ্যা আসলে ৭০। মায়ের সঙ্গে সব ক’টি আমি জানি। তবে শিক্ষার্থীদের ওই ১০টি স্টিচ-ই ভালো করে শেখাই, কারণ বাকি স্টিচগুলি বেশ জটিল। আরও মনোহর ও বৈশিষ্ট্যবলে তাঁকে নিশ্চয় শেখাব। শেখার সময়সীমা এক মাস। দি ২,০০০ টাকা। উপকারীদের জন্য অতিরিক্ত ১০০ থেকে ১৫০ টাকা লাগে। ১০টির বেশি স্টিচ শিখতে হলে অবশ্য সময় ও পারিশ্রমিক বাড়বে। আমার বাড়িতে থেকে শিখতে গেলে সে ব্যবস্থাও আছে। আমি ঘর ভাড়া দিই। এক মাসের জন্য দেড় হাজার টাকা। বাবিশ, বিছানা সবই দেওয়া হয়। শিক্ষার্থী নিজে রান্না করে খেতে পারেন, সে ব্যবস্থা আছে। আবার চাইলে আমাদের সঙ্গেও খাওয়াদাওয়া করতে পারেন। তার জন্য একটা চার্জ লাগে।
শ্রী বঙ্গ রাজ্য সরকারের বিভিন্ন হস্তশিল্প মেলায় যোগ দিই। সেখানে অনেকেই হোলসেলে কেনার জন্য বা প্রশিক্ষণ নেওয়ার জন্য যোগাযোগ করেন। মুর্শিদাবাদ ছাড়াও বোলপুরে আমি প্রশিক্ষণ নিয়ে থাকি। যারা আমার থেকে হোলসেলে কাঁথা স্টিচের শাড়ি, পোশাক ইত্যাদি কিনতে চান, তাঁরা যোগাযোগ করার পরে মুর্শিদাবাদে আমার বাড়িতে এসে দেখে পছন্দ করে কিনে নিয়ে যেতে পারেন। মুর্শিদাবাদে আমার সমস্যা থাকলে মোবাইল ফোন-অ্যাপের মাধ্যমে ছবি পাঠিয়ে দিই এবং সুরিয়ারের বসে বা থাকলে মারফত জিনিস পাঠিয়ে দেওয়ারও ব্যবস্থা করি। ফ্রেজার বলে দেওয়া ডিজাইন অনুসারেও কাজ করে দিই।

লকডাউনেও কারিগরদের কাজ বন্ধ রাখিনি

বিধান মণ্ডল, কাঁথাসিল্পী ও বিদ্যেতা, বীরভূম
রাজ্য সরকার আয়োজিত মেলা ছাড়াও বিভিন্ন হস্তশিল্প মেলায় আমি অংশ নিই। কাজে কাজ করি, সঙ্গে বাড়ি চলেও বিভিন্ন পেশাগত কদর ও চাহিদা দুইই আছে। সব জায়গাতেই পেয়েছি কাঁথা স্টিচের পেশাগত কদর ও চাহিদা দুইই আছে। নিজে কাজ করি, সঙ্গে বাড়ি চলেও বিভিন্ন পেশাগত কদর ও চাহিদা দুইই আছে। নিজে কাজ করি, সঙ্গে বাড়ি চলেও বিভিন্ন পেশাগত কদর ও চাহিদা দুইই আছে। নিজে কাজ করি, সঙ্গে বাড়ি চলেও বিভিন্ন পেশাগত কদর ও চাহিদা দুইই আছে।
নতুন কেউ এই কাজে যোগ দিতে চাইলে তাঁর বাড়িতে গিয়ে হাতে-কলমে কাঁথা স্টিচের কাজ শিখিয়ে দিই। এর জন্য কোনও পারিশ্রমিক নিই না। অর্ডারের কাজ হয়ে গেলে, উপযুক্ত পারিশ্রমিক দিয়ে আবার তাঁদের বাড়ি থেকে কাপড়গুলো নিয়ে আনি। কারিগররা পুরো কাজটাই ঘরে বসে করেন। ফলে করোনার সময় কাজ করতে তাঁদের কোনও সমস্যা হয়নি। যদিও অতিমারির প্রভাবে কাপড় বিক্রি একেবারে বন্ধ হয়ে গিয়েছিল। কিন্তু শ্রোতৃবাহিনী বন্ধ রাখিনি। তাহলে শিল্পীদের আর্থিক সমস্যা হত। লকডাউনের মধ্যেও নিজে কাপড় ও সূতা কারিগরদের বাড়িতে দিয়ে এনেছি এবং তাঁদের কাজ শেষ হলে পারিশ্রমিক দিয়ে নিয়েও এনেছি।
যারা বীরভূমের বাইরে থাকেন, তাঁরা আমার কাছ থেকে হোলসেলে জিনিস কিনে বিক্রি করতে পারেন। সেখানে আমার বাড়িতে এসে জিনিস দেখে পছন্দ করে নিতে পারেন অথবা চাইলে ছবি পাঠাতে পারি।

হস্তশিল্প মেলা করার উদ্যোগ নিচ্ছে

সোনালি কবি, কাঁথাসিল্পী ও বিদ্যেতা, মুর্শিদাবাদ
মায়ের কাছে কাঁথা স্টিচ শিখেছি। পরে ম্যানন ডিজাইনিং নিয়ে পড়েছি। তবে কাঁথা স্টিচ যে আমার জীবনের মোড় ঘুরিয়ে দেবে, সে কথা আগে ভাবিনি। নিজে কাজ করার পাশাপাশি আমি বিনামূল্যে মেয়েদের কাজ শিখিয়েছি। এখন আমার অধীনে প্রায় ১৫৫ জন মহিলা কাজ করছেন এবং উপার্জন করছেন। নিজেদের প্রয়োজনীয় জিনিস কেনার জন্য তাঁরা বাবা বা স্বামীর কাছে আর হাত পাতে না, বরং বসবার সাহায্য করেন।
বর্তমানে আমি নিজের বিপণি 'ক্রিয়েটিভ বেলল সৃষ্টিশক্তি' নিয়ে ভীষণ ব্যস্ত। এই দোকানে কাঁথা স্টিচের জিনিস ছাড়া আরও বিভিন্ন ধরনের হস্তশিল্প সামগ্রী আছে। হস্তশিল্পের এত বড় দোকান বহরমপুরে এই প্রথম। আমার কাছে অনেকেই কাজ শিখতে আসেন। তাঁদের আমি সম্পূর্ণ বিনামূল্যে কাজ শেখাই। কিন্তু ক্রমশ ব্যস্ত হয়ে পড়ায় এখন আমার ছাত্রীরাই পারিশ্রমিকের বিনিময়ে যত্ন নিয়ে কাজ শেখান। ছাত্রীদের সঙ্গে শিক্ষার্থীদের যোগাযোগ আমি করিয়ে দিই। কাজ শিখে আমার সঙ্গে কাজ করতে পারেন বা আমার কাছে থেকে হোলসেলে জিনিস কিনে ব্যবসাও করতে পারেন। কাঁথা স্টিচের শাড়ি, গুড়না, সালোয়ার কামিজের পিস, অন্যান্য পোশাক ও সামগ্রীর কদর সারা বিশ্বে। পুজোর সময় বাতাবিক তাই এই ব্যবসা আরও ভালো হবে, আশা করা যায়। আমার কাজ থেকে হোলসেলে কিনে নিজেরা ব্যবসা করতে ইচ্ছুক ব্যক্তিরা সব রকমের সহযোগিতা পাবেন।
লকডাউনের ফলে শুধু কাঁথাসিল্পীরা নয়, অন্যান্য হস্তশিল্পীরাও ভালো বিক্রি না হওয়ায় সমস্যায় পড়ছেন। রাজ্যে হস্তশিল্প মেলাগুলি ঠিকমতো না হওয়ায় তাঁরা ক্ষতির সম্মুখীন। তাঁদের অনেকেই আমার সঙ্গে যোগাযোগ করেছেন। ক্রিয়েটিভ বেলল নামে একটি ট্রাস্টের স্বেচ্ছা সেবা 'সোনালি কবি' নামে মেলা আয়োজন করার চেষ্টা করছি। ইতিমধ্যে এই মেলা করছে মালদা ও বহরমপুরে। সেপ্টেম্বরের ১০ থেকে ১৩ তারিখ অবধি এই মেলা বসবে কলকাতার কেষ্টপুর অঞ্চলে। মেলায় ক’দিন শিল্পীদের নিবন্ধনায় থাকা-নাওয়ার ব্যবস্থা আমরা করে দিচ্ছি।

অয়েল ইন্ডিয়ায় ৫৩৫

বিভিন্ন বিভাগে ৫৩৫ জন শ্রেণি প্রকৃষ্টি কর্মী নেবে অয়েল ইন্ডিয়া। প্রার্থীদের অসম ও অন্যান্য রাজ্যের বিভিন্ন জেলায় নিয়োগ করা হবে। প্রথম ১ বছরের প্রবেশন। এই নিয়োগের বিজ্ঞপ্তি নম্বর HRAQ/REC-WP-B/2021-06.
শূন্যপদের বিবরণ: পোস্ট কোড AEL12021: শূন্যপদ ৩৮টি (সাধারণ ১৯, তফসিলি জাতি ২, তফসিলি উপজাতি ৪, ও বি সি ১০, আর্থিক ভাবে অনগ্রসর ৩)।
শিক্ষাগত যোগ্যতা: মাধ্যমিক। সেই সঙ্গে ইলেক্ট্রিশিয়ান ট্রেডে ট্রেড সার্টিফিকেট। পাশাপাশি, সরকারি ইলেক্ট্রিক্যাল লাইসেন্সিং বোর্ড কর্তৃক অনুমোদিত ইলেক্ট্রিক্যাল ওয়্যাক্যাননাল পারমিট (পার্ট/ক্রাস ওয়ান এবং পার্ট/ক্রাস ৬) থাকতে হবে।
পোস্ট কোড AF12021: শূন্যপদ ১৪৪টি (সাধারণ ৬৫, তফসিলি জাতি ১০, তফসিলি উপজাতি ১৭, ও বি সি ৩৮, আর্থিক ভাবে অনগ্রসর ১৪)।
শিক্ষাগত যোগ্যতা: মাধ্যমিক। সেই সঙ্গে ফিটার ট্রেডে ট্রেড সার্টিফিকেট থাকতে হবে।
পোস্ট কোড AMA12021: শূন্যপদ ৪২টি (সাধারণ ১৯, তফসিলি জাতি ৩, তফসিলি উপজাতি ৫, ও বি সি ১১, আর্থিক ভাবে অনগ্রসর ৪)।
শিক্ষাগত যোগ্যতা: মাধ্যমিক। সেই সঙ্গে মেকানিক মোটর ভেহিকল ট্রেডে ট্রেড সার্টিফিকেট থাকতে হবে।
পোস্ট কোড AMCI12021: শূন্যপদ ১৩টি (সাধারণ ৭, তফসিলি জাতি ১, তফসিলি উপজাতি ১, ও বি সি ৩, আর্থিক ভাবে অনগ্রসর ১)।
শিক্ষাগত যোগ্যতা: মাধ্যমিক। সেই সঙ্গে মেশিনিস্ট ট্রেডে ট্রেড সার্টিফিকেট থাকতে হবে।
পোস্ট কোড AMD12021: শূন্যপদ ৬৭টি (সাধারণ ৪৪, তফসিলি জাতি ৭, তফসিলি উপজাতি ১১, ও বি সি ২৬, আর্থিক ভাবে অনগ্রসর ৯)।
শিক্ষাগত যোগ্যতা: মাধ্যমিক। সেই সঙ্গে মেকানিক ডিজেল ট্রেডে ট্রেড সার্টিফিকেট থাকতে হবে।
পোস্ট কোড AME12021: শূন্যপদ ৪০টি (সাধারণ ১৯, তফসিলি জাতি ৩, তফসিলি উপজাতি ৪, ও বি সি ১০, আর্থিক ভাবে অনগ্রসর ৪)।
শিক্ষাগত যোগ্যতা: মাধ্যমিক। সেই সঙ্গে ইলেক্ট্রিশিয়ান মেকানিক ট্রেডে ট্রেড সার্টিফিকেট থাকতে হবে।
পোস্ট কোড AOB12021: শূন্যপদ ৮টি (সাধারণ ৫, তফসিলি জাতি ১, ও বি সি

২)।
শিক্ষাগত যোগ্যতা: মাধ্যমিক। সেই সঙ্গে সর্বশ্রেণি ট্রেডে ২ বছরের সার্টিফিকেট কোর্স পাশ করে থাকতে হবে। পাশাপাশি, স্বীকৃত প্রতিষ্ঠান কর্তৃক অনুমোদিত সেকেন্ড ক্রাস বালার অ্যাটেন্ড্যান্ট সার্টিফিকেট থাকতে হবে।
পোস্ট কোড AOT12021: শূন্যপদ ৪টি (সাধারণ ৩, ও বি সি ১)।
শিক্ষাগত যোগ্যতা: মাধ্যমিক। সেই সঙ্গে টার্নার ট্রেডে ট্রেড সার্টিফিকেট থাকতে হবে।
পোস্ট কোড ATP12021: শূন্যপদ ৪৪টি (সাধারণ ২১, তফসিলি জাতি ৩, তফসিলি উপজাতি ৫, ও বি সি ১১, আর্থিক ভাবে অনগ্রসর ৪)।
শিক্ষাগত যোগ্যতা: মাধ্যমিক। সেই সঙ্গে ড্রাফটসম্যান সিভিল ট্রেডে ট্রেড সার্টিফিকেট থাকতে হবে।
পোস্ট কোড ATH12021: শূন্যপদ ৮১টি (সাধারণ ৩৮, তফসিলি জাতি ৫, তফসিলি উপজাতি ৯, ও বি সি ২১, আর্থিক ভাবে অনগ্রসর ৮)।
শিক্ষাগত যোগ্যতা: মাধ্যমিক। সেই সঙ্গে ইনস্ট্রুমেন্ট মেকানিক ট্রেডে ট্রেড সার্টিফিকেট থাকতে হবে।
পোস্ট কোড ATO12021: শূন্যপদ ৪৪টি (সাধারণ ২১, তফসিলি জাতি ৩, তফসিলি উপজাতি ৫, ও বি সি ১১, আর্থিক ভাবে অনগ্রসর ৪)।
শিক্ষাগত যোগ্যতা: ফিজিক্স, কেমিস্ট্রি ও ম্যাথমেটিক্স নিয়ে উচ্চমাধ্যমিক।
পোস্ট কোড ATW12021: শূন্যপদ ৪টি (সাধারণ ৪, ও বি সি ১)।
শিক্ষাগত যোগ্যতা: মাধ্যমিক। সেই সঙ্গে সার্ভের ট্রেডে ট্রেড সার্টিফিকেট থাকতে হবে।
পোস্ট কোড ATW12021: শূন্যপদ ৬টি (সাধারণ ৫, ও বি সি ১)।
শিক্ষাগত যোগ্যতা: মাধ্যমিক। সেই সঙ্গে ওয়েল্ডার ট্রেডে ট্রেড সার্টিফিকেট থাকতে হবে।
পোস্ট কোড AFI12021: শূন্যপদ ৫টি (সাধারণ ৪, ও বি সি ১)।
শিক্ষাগত যোগ্যতা: মাধ্যমিক। সেই সঙ্গে ইনফর্মেশন টেকনোলজি অ্যান্ড ইলেক্ট্রিক্যাল সিস্টেম মেন্টেন্যান্স বা ইনফর্মেশন কমিউনিকেশন টেকনোলজি সিস্টেম মেন্টেন্যান্স বা ইনফর্মেশন টেকনোলজি ট্রেডে ট্রেড সার্টিফিকেট থাকতে হবে।
সেই শূন্যপদের মধ্যে ২১টি দৈহিক প্রতিবন্ধীদের জন্য সংরক্ষিত থাকবে।
মোট: ২৩-৯-২০২১ তারিখে ১৮ থেকে ৩০ বছরের মধ্যে হতে হবে।
এসএস হলের পাঠ্য



MSME-TOOL ROOM, KOLKATA

(Central Tool Room & Training Centre)

Ministry of MSME, Govt. of India

Bon Hooghly Industrial Area, Kolkata- 700108, Ph.: 9330193304, (033) 25788769

E-mail : ctc.msme@gov.in, Website : www.msmetoolroomkolkata.com



ISO 9001:2000
(ENXAS 15001:2007)
ISO 20000:2005
CERTIFIED

ADMISSION GOING ON

SC/ST
FREE

For the following NSQF Compliant Courses

Sl No.	Course Name	Duration & Course Fee	Eligibility	NSQF Level
1	Advance Certificate Course in Welding Technology	1 year Rs. 52,000/-	ITI/Class XII / Class X	4
2	Certificate Course in Machine Operation	1 Year Rs. 48,000/-	Passed 8th Class	3
3	Certificate Course in CNC Turning & Milling	1 Year Rs. 52,000/-	10th Passed	4
4	Certificate Course in CNC Turning	6 Months Rs. 33,000/-	10th Passed	4
5	Master Certificate Course in CAD/CAM	6 Months Rs. 45,000/-	Preferably Diploma / Degree (Mech Engg. Or equivalent)	6
6	Advance Diploma in Structural Design & Analysis	6 Months Rs. 44,500/-	Diploma (Civil) / Degree (Civil)	6
7	Certificate Course in CNC Milling	6 Months Rs. 33,000/-	10th Passed	4
8	Advance Diploma in Machine Maintenance & Automation	6 Months Rs. 43,000/-	Diploma in Electrical, Instrumentation equivalent Engg.	6
9	Master Certificate Course in Automation & Process Control	6 Months Rs. 44,500/-	Degree in Electrical Instrumentation, Electronics or Equivalent	7
10	Advance Diploma in Computer Hardware & Networking Management	6 Months Rs. 44,500/-	B.Sc, Diploma/ Degree, Engg. Pass	6
11	Cisco Certified Network Associate	4 Months Rs. 25,000/-	Graduation in any Discipline/ Diploma / Degree (Engineering Pursuing / Passed	6
12	Certificate Course in Audio Video	3 Months Rs. 15,000/-	12th Pass / Vocational/ ITI/ Diploma/ B.Sc/ B.E/ B.Tech	5
13	Certificate Course in Hand Held Product	3 Months Rs. 15,000/-	12th Pass / Vocational/ ITI/ Diploma/ B.Sc/ B.E/ B.Tech	5
14	Certificate Course in Room Air Conditioner & Home Appliances	4 Months Rs. 20,000/-	12th Pass / Vocational/ ITI/ Diploma/ B.Sc/ B.E/ B.Tech	5
15	Advance Embedded Technology	6 Months Rs. 44,500/-	Diploma or Degree in Electrical/ Electronics/Computer/Biomedical/ IT/ Instrumentation, B. Sc./ M. Sc. in IT/Electronics/Physics	6
16	Master Certificate Course in Mechatronics	6 Months Rs. 44,500/-	Diploma/ Degree in Mechanical Engineering or equivalent.	6

For Further Details, Please Contact

Mr. Arjun Biswas : 9830487179 (For Sl. No. 1 to 7) & Mr. M. Rama Rao : 9038578065 (For Sl. No. 8 to 16)

Note: For Sl. No. 1 to 4, Charges of Fooding & Lodging for Eligible Residential SC/ST Candidates will be borne by West Bengal SC, ST and OBC Development & Finance Corporation.

How to Apply:

(1) Application/Registration will be done through Online or by visiting Centre. Kindly visit our website www.msmetoolroomkolkata.com for further details. (2) Application Fee (Rs. 1,200/-) must be paid through online as Bank Details given in the Online Application Form or at the Centre through Debit/Credit Card. (3) For SC/ST Candidates no Course Fees will be charged (Except Registration Fees) subject to uploading/production of Caste Certificate & Aadhaar Card. (4) Interested Candidates should apply as early as possible. (5) Placement assistance will be provided.

West Bengal Student Credit Card facility may be availed

facebook.com/subhartiuni

www.subharti.org



SUBHARTI UNIVERSITY

Meerut



Where Education is a Passion...

ADMISSION OPEN - Apply now for session 2021-22 at www.subharti.org

GOOD NEWS

SUBHARTI UNIVERSITY IS NOW LISTED IN WEST BENGAL STUDENT CREDIT CARD SCHEME

ACTIVITIES OF TRAINING & PLACEMENT CELL

- Industrial Visits
- Career Guidance
- Pre-placement Counselling
- Personality Development framework
- Group Discussions with Interview Skills Development Sessions
- Management Development Programmes / Seminars / Workshops

Follow us on



UNIVERSITY OFFERS MORE THAN 220+ PROFESSIONAL PROGRAMMES

ENGINEERING | MANAGEMENT | HOTEL MANAGEMENT | LAW | POLYTECHNIC | SCIENCE
PARAMEDICAL | NURSING | PHARMACY | FINE ARTS & FASHION DESIGN | PHYSIOTHERAPY |
JOURNALISM & MASS COMM. | EDUCATION | PHYSICAL EDUCATION | NATUROPATHY & YOGIC
SCIENCES | HOME SCIENCE | LIBRARY & INFORMATION SCIENCES | BUDDHIST STUDIES



9639841122, 9045954345, 9639011202
Subhartipuram, NH-58, Delhi-Haridwar Bypass Road, Meerut.



MARITIME EDUCATION TRAINING & RESEARCH INSTITUTE

Affiliated to the : Directorate General of Shipping, Ministry of Shipping, Govt. Of India
নৌ পরিবহন মহাপরিচালক, নৌপরিবহন মন্ত্রণালয়, ভারত সরকার কর্তৃক পক্ষ দ্বারা স্বীকৃত

মার্চেন্ট নেভি - ভর্তি বিজ্ঞপ্তি

1. জিপি রেটিং (সীমেন) এবং 2. সিসিএমসি (কুক এবং জিএস) এর জন্য শিক্ষাগত যোগ্যতা :

জিপি রেটিং এর জন্য: দশম পরীক্ষায় উত্তীর্ণ। অথবা কোন স্বীকৃত বোর্ড, রাজ্য বা কেন্দ্রীয় বোর্ড এবং এনআইওএস, নয়াদিল্লি থেকে সমতুল্য, একটি বিষয় হিসাবে বিজ্ঞান, গণিত এবং ইংরেজি সহ মোট 40% নম্বর সহ, 10 তম স্কোর এবং ইংরেজিতে 40% নম্বর প্রয়োজন।
CCMC- এর জন্য: দশম শ্রেণী উত্তীর্ণ কোনো স্বীকৃত বোর্ড, রাজ্য বা কেন্দ্রীয় বোর্ড এবং NIOS, নয়াদিল্লি থেকে বা সমমানের পরীক্ষায় উত্তীর্ণ হন, যেকোনো প্রবাহে ন্যূনতম 40% নম্বর সঞ্চালিত এবং ইংরেজিতে একটি বিষয় হিসাবে, ইংরেজিতে 40% নম্বর প্রয়োজন দশম শ্রেণীতে
বয়স সীমা: কোর্স শুরু করার সময় 17 বছরের 6 মাস এর কম নয় এবং 25 বছরের বেশি নয়।
For SC/ST 30 বছর এবং OBC 28 বছর এবং Graduate বা Diploma এর জন্য 27 বছর
মেডিকেল ফিটনেস: এম এস মেডিক্যাল পরীক্ষা সীফার্স এর জন্য M.S rule 2000 নিয়ম অনুযায়ী, সময়ে সময়ে সংশোধন করা হয়েছে।
কোর্স ফি:

জিপি রেটিং এর জন্য: 1,80,000/- (এক লাখ আশি হাজার) CCMC- এর জন্য : 1,60,000/- (এক লাখ ষাট হাজার) এর মধ্যে Training fees, খাবার, হোস্টেল, ইউনিফর্ম এবং Basic STCW-2010 কোর্স সহ (সেমন PST, PSSR, EFA, PFPF, STS&DSD)

কোর্সের সময়কাল: 6 (ছয়) মাস আসন প্রতি ব্যাচ: জিপি রেটিং: 90 (Ninty) CCMC এর জন্য 40 প্রতি ব্যাচ কোর্স শুরু: 1 লা জানুয়ারি, 2022

Selection : ব্যক্তিগত পরীক্ষার ভিত্তিতে, এবং আগে আসুন আগে পাওয়া ভিত্তিতে
Interview date/ পরীক্ষার দিন : প্রত্যেক মঙ্গলবার
কার্যক্রমের সূচনা/ Career scope : সফলভাবে কোর্স শেষ করার পর (Board of seafarers of examiners কর্তৃক পক্ষ দ্বারা Exit পরীক্ষায় উত্তীর্ণ হন।) প্রার্থী শিপিং মাস্টার, মুম্বাই বা কলকাতার কার্যালয় থেকে CDC/ সিডি সি পাওয়ার অধিকারী হবেন এবং মার্চেন্ট নৌবাহিনীতে যোগদানের যোগ্য হবেন।

Valid documents : কোর্সে যোগদানের আগে প্রার্থীকে অবশ্যই আঞ্চলিক পাসপোর্ট অফিসারের অফিস থেকে পাসপোর্ট হবে প্রাপ্ত করতে হবে।

Prospectus/ প্রসপেক্টাস: আমাদের ওয়েবসাইট www.metrikolkata.org থেকে ডাউনলোডের জন্য উপলব্ধ

যোগাযোগ করুন: Maritime Education Training & Research Institute (METRI), আভিসেক পয়েন্ট 4th ফ্লোর, কলকাতা - 700026 (কালীঘাট মেট্রো স্টেশনের পাশে) ফোন: 033-24657161/62/64
Admission Helpline : 9339838932/9830053096

দ্রষ্টব্য: সারা ভারতে আমাদের কোন শাখা বা কোন অনুমোদিত ব্যক্তি/এজেন্ট নেই এবং এই ইনস্টিটিউট কোন অবাস্তব/অননুমোদিত ব্যক্তিদের সাথে কোন ধরনের ভর্তি/অর্থ প্রদান/আর্থিক লেনদেনের জন্য দায়ী নয়

৪ অগস্ট কোভিডের বিকল্পে দুটো ডোজে দুটো আলসো ডাকসিন নিলে ফল ভালোই হবে বলে ধরা দেবে আইসিএমআর। দুটো ডোজে দুটো আলসো ডাকসিন দিয়ে সেওয়ার অর্থনৈতিক ক্ষতি-সহ দেশের সর্বত্রই কখনও না কখনও ঘটবে। তাতে স্বাস্থ্যও পেরিয়ে আসবে। কিন্তু উত্তরপ্রদেশ এমন টিকা

কারেন্ট অ্যাফেয়ার্স

৭ অগস্ট-১২ অগস্ট

রাষ্ট্রপুঞ্জের নিরাপত্তা পরিষদে সভাপতিত্ব মৌদীর



৯ অগস্ট: রাষ্ট্রপুঞ্জের নিরাপত্তা পরিষদে উচ্চ পর্যায়ের বিতর্ক সভায় সভাপতিত্ব করলেন ভারতের প্রধানমন্ত্রী নরেন্দ্র মোদী। এই প্রথম কোনও ভারতীয় প্রধানমন্ত্রীকে এই ভূমিকা দেয়া গেল। যদিও বৈতনিক ছিল ভাড়া। বৈতনিক সমুদ্র জলসীমায় নিরাপত্তা বিষয়ে আলোচনা হয়। আলোচনার অংশ নিলেই একাধিক দেশের রাষ্ট্রনেতা এবং নিরাপত্তা পরিষদের সদস্য রাষ্ট্রের প্রতিনিধি। নরেন্দ্র মোদী জল্পনামূলক অর্থনৈতিক স্বাধীনতা কীভাবে কমানো যায় সে ব্যাপারে ভারতের মতামত তুলে ধরলেন। এ দিনের আলোচনাসভায় এ ব্যাপারে আন্তর্জাতিক সহযোগিতা বাড়ানোর কথাও বলা হয়েছে।

বিহারের শিকারপুর উপর সমীক্ষা করে আইসিএমআর জানাল এতে বলা ভালোই হয়েছে। টিকা মিশ্রণ বা ককটেল ডাকসিনেডামে লাভ বেশি টিকা প্রাপ্তদেরই। তবে সরকারি কর্মসূচিতে এই ডাকসিন মিশ্রিতের বিঘাটি কবে অতিক্রম হবে বা আসবে হবে কি না সে বিষয়ে কোনও স্পষ্ট সুশীল করেনি আইসিএমআর।

ইজরায়েলি সংস্থার কাছ থেকে পেগাসাস সফটওয়্যার কেনা নিয়ে বিরোধীদের তোলা প্রশ্নের জবাবে এতদিন চুপ থাকলেও এবার জবাব দিল কেশ। সুপ্রিম কোর্ট পেগাসাস মামলা ওঠার মুহূর্তে জাজসভায় এই সংক্রান্ত প্রশ্নের উত্তরে প্রতিমন্ত্রী অজয় ভট্টাচার্য বলেছিলেন, পেগাসাস নির্মাতা এনএসও-র সঙ্গে প্রতিরক্ষা মন্ত্রকের কোনও লেনদেনই হয়নি। যদিও এতে বিতর্কের নিরসন হয়নি কারণ বিরোধীরা যদি তুলেছিলেন প্রধানমন্ত্রী নরেন্দ্র মোদী এবং বরাট মন্ত্রী অমিত শাহকেই আদি পাতার জবাব দিতে হবে।

৯ অগস্ট

জাতীয় স্তরে বিজেপিকে রুখতে তৃণমূলের সঙ্গে সিপিএম বৈধ আলোচনায় থাকবে বলে জানালেন শীর্ষ স্তরের সিপিএম নেতা সীতারাম ইয়্যাচারি। এদিন নয়ালিগে নগের এই অবস্থানের কথা স্পষ্ট করলেন তিনি। তবে তিনি এও জানিয়েছেন যে পশ্চিমবঙ্গে বিজেপির বিরুদ্ধে তৃণমূলের সঙ্গে যাওয়ার কোনও সম্ভাবনা নেই। ত্রিপুরার ক্ষেত্রে রথকৌশল কী হবে, তা সেই রাজ্যের সিপিএম নেতৃত্বই ঠিক করবেন বলে জানা তিনি। বায়ান সিপিএমের এই অবস্থানকে 'আছাঘাটী' রাজনীতি হিসেবেই মন্তব্য করছে তৃণমূল।

কোউইন পোর্টাল রেজিস্ট্রেশন করে এবার ভারতে খালি বিদেশিরাও করলেন টিকা পাওয়ার ছাড়পত্র পেলেন। এ দিন স্বাস্থ্যমন্ত্রকের তরফে এক বিবৃতি প্রকাশ করে এ বিষয়ে জানিয়েছেন কেন্দ্রীয় স্বাস্থ্যমন্ত্রী মনসুখ মাণ্ডব্য। মন্ত্রকের বিবৃতি অনুযায়ী বিদেশিরা কোউইন পোর্টালে তাদের পাসপোর্টকে আইডেটিফি উন্ডুন্ট হিসেবে ব্যবহার করে রেজিস্ট্রেশন করতে পারেন। স্বাস্থ্যমন্ত্রকের

শতাব্দী জুড়ে সমুদ্রের জলতল বাড়ার ঝঁশিয়ারি রাষ্ট্রপুঞ্জের রিপোর্টে



১০ অগস্ট: একবিংশ শতাব্দী জুড়ে সমুদ্রের জলতল বাড়বে উপকূলীয় অঞ্চলগুলিতে। রাষ্ট্রপুঞ্জের রিপোর্ট এবং আইসিসিসি-র বর্ষ রিপোর্টে বলা হয়েছে, পৃথিবী অনুমানের তুলনায় অনেক দ্রুত উত্তপ্ত হচ্ছে ও সমুদ্রের জলস্তর বাড়ছে। তার ভিত্তিতেই মার্কিন গবেষণা সংস্থা নাসা এ দিন জানাল, মানব সভ্যতার জন্য সমুদ্র বিপন্ন অপেক্ষা করে আছে। কড়লড় বিপর্যয়ের আশঙ্কা তৈরি হচ্ছে ভারতেও। নাসার ওই রিপোর্ট অনুযায়ী এই শতকের শেষে দেশের মুখই, চেন্নাই, কোচি এবং দিশাখাপকদম-সহ অসংখ্য এক ডজন উপকূলীয় শহর দু'পেতে তিন ফুট জলের তলায় চলে যাওয়ার আশঙ্কা দেয়া হয়েছে। ১৯৮০ সাল থেকে প্রতি ৫-৭ বছর অধিক পরিষ্কার আবহাওয়া সন্ধ্যায় খটখটে, তার উপর নগর রাস্তা কাঁচাও পরিবর্তন সন্ধ্যায় রাষ্ট্রপুঞ্জের আন্তঃরাষ্ট্র প্যানেল বা আইসিসিসি। ২০০৮-১৮ সালের মধ্যে সমুদ্রের জলস্তরের যে সমীক্ষা করা হয়েছে তাতে দেখা গিয়েছে, গোটা বিশ্বে প্রতিবছর জলস্তরের গড় পৃষ্টি হয়েছে ০.৭ মিলিমিটার।



রাহুল গান্ধী, কংগ্রেস নেতা ও সাংসদ

দেশজুড়ে বেকারত্বের বিপরীত্ব ছবি নিয়ে নরেন্দ্র মোদী সরকারকে নিশানা করে

“এই সরকার 'যত্ন' নয়, এ সরকার কারও জন্য ব্যবসা বা কর্মসংস্থান বৃদ্ধির আশা দেয় না। উন্টো যাদের চাকরি আছে, তাদের থেকেও তা ছিনিয়ে নিতে চায়। দেশবাসীর জন্য শুধু অপেক্ষা করে থাকে আত্মনির্ভরতার তত্ত্ব।”

অবসর নিলেন বিচারপতি নরিমান



১২ অগস্ট: সুপ্রিম কোর্টের বিশিষ্ট বিচারপতি রোহিনিনি এফ নরিমান অবসর নিলেন। কর্মজীবনের শেষ দিনে প্রমাণে প্রধান বিচারপতির বেঞ্চে বসেছিলেন বিচারপতি নরিমান। তাঁর বিদায় অনুষ্ঠানে প্রধান বিচারপতি এন ডি রম্বা বলেন, 'বিচারপতি নরিমান তাঁর জ্ঞান ও বুদ্ধির জন্য পরিচিত। তিনি সব সময়েই যা ঠিক তার পক্ষে পড়েছিলেন।' বিশিষ্ট আইনজীবী ফলি নরিমানের ছেলে রোহিনিনি বিচারপতি পদে নিযুক্ত হওয়ার আগে সলিসিটর জেনারেলের দায়িত্ব সামলেছেন।

মায়ানমারের সামরিক জুটী সরকারকে বিভিন্ন প্রকারে সাহায্য করতে বড় অঙ্কের আর্থিক সহায়তার কথা ঘোষণা করল চীন। এই বিষয়ে দু'দেশের মধ্যে একটি সমঝোতা স্মারক স্বাক্ষরিত হয়েছে। এই আর্থিক সাহায্যের পরিমাণ ৬০ লক্ষ ডলার। মায়ানমারে মোট ২১টি উন্নয়ন প্রকল্প এই বিপুল অর্থ দিতে চলছে চীন। প্রকল্পগুলির মধ্যে রয়েছে পুন্ডের টিকা, কৃষি, বিজ্ঞান, পটিন, বিপর্যয় মোকাবেলা ও নানা ধরনের সাংস্কৃতিক লেনদেনের মতো বিষয়। নেপিদ-র চীনা দুতাবাসের ফেসবুক পেজে বিষয়টির সত্যতাও স্বীকার করা হয়েছে। মায়ানমারের সামরিক সরকারের সঙ্গে চীনের আঁতাত নিয়ে বহু দেশই সন্দেহ রয়েছে। গতাত্তিক পত্রিকায় নিব্বাচিত সরকারকে সিরিয়ে মায়ানমারের সেনা অত্যাচারের পিছনে পড়শি চীনের একটা বড় সমর্থন রয়েছে বলে বারবার অভিযোগ করে এসেছেন বিরোধীরা।

প্রথম মুচাপাখ্যায় দেশের অর্থমন্ত্রী থাকাকালীন পুরনো ব্যবসায়িক লেনদেন থেকে কর আদায় বা 'রেসপেঞ্জিটি ট্যাক্স'-এর নীতিতে ইতি চীনাতে প্রধানমন্ত্রী নরেন্দ্র মোদী 'অতীতের ভুল শোধরানো' বলে ব্যাখ্যা করলেন। ভোডাফোন-হাচিনসনের ব্যবসায়িক লেনদেন থেকে কর আদায় করতে ইউপিএ সরকারের তৎকালীন অর্থমন্ত্রী প্রবু মুচাপাখ্যায় ওই কবের ঘোষণা করেছিলেন। মোদী সরকার নীতিগত ভাবে এর বিরুদ্ধে বলে জানালেও এতদিন সেই নীতিতে স্থল করেনি। সম্মতি ভোডাফোন, কোর্না এনার্জির সঙ্গে কর-মামলায় হেরে যাওয়ার পর বিল এনে এই

কুস্তিতে ব্রোঞ্জ পেলেন বজরং



৭ অগস্ট: টোকিও থেকে ব্রোঞ্জ নিয়ে ফিরলেন ভারতের আর এক কুস্তিগীর বজরং পুনিয়া। অলিম্পিকের শেষ দিনে দেশকে গর্বিত করলেন পালায়ান বজরং। কাজাখস্তানের দাউলেত নিয়াজমেকভকে ৮-০ উড়িয়ে দিয়ে তৃতীয় স্থান দখল করলেন তিনি। এদিন বজরং পুনিয়ার ব্রোঞ্জ ও নীলজ চোপড়ার সোনা জয়ে ভারত অলিম্পিকে সবথেকে ভালো ফল করল। এর আগে লন্ডন অলিম্পিকে ভারত ৬টি পদক পেলেও সেখানে কোনও সোনা ছিল না। এবার সেখানে ১ সোনা, ২ রুপা ও ৬ ব্রোঞ্জ মোট ৭ পদক দখল করল ভারত।

মার্শাল নামিয়ে বিমা বিল পাশ রাজ্যসভায়



১১ অগস্ট: বিরোধীদের সর্বকম প্রতিবাদ অগ্রাহ্য করে রাজ্যসভায় মার্শাল নামিয়ে মৌদী সরকার রাষ্ট্রপতি বিমা সংস্থার কেসরকারিকরণের বিল পাশ করাল। সাধারণ বিমা ব্যবসা (জাতীয়করণ) আইনের সংশোধনী বিলে রাষ্ট্রপতি বিমা সংস্থার সরকারের হাতে ৫১ শতাংশ মালিকানা রাখার বাধ্যবাধকতা তুলে নেওয়া হচ্ছে। ফলে সরকারি বিমা সংস্থা কেসরকারি হাতে তুলে দেওয়ার পথে আর কোনও বাধা থাকবে না। বিরোধীরা অভিযোগ তুলেছেন, সংযোগগরিষ্ঠতার জোরে মৌদী সরকার গণতন্ত্রকে খুন করেছে। সরকারি বিমা সংস্থাসিলে বন্ধু শিল্পপতির হাতে তুলে দেওয়ার বন্দোবস্ত করছেন প্রধানমন্ত্রী নরেন্দ্র মোদী।

কর প্রত্যাহার করেছে তারা। এদিন নিব্বাইআইয়ের বার্ষিক সভায় মৌদী বলেন, 'অতীতের ভুল শোধরানো রেসপেঞ্জিটি ট্যাক্স রদ করার সিদ্ধান্ত নিয়েছি। এই সিদ্ধান্তকে শিল্পমহল যেভাবে স্বাগত জানাচ্ছে তাতে আমার বিশ্বাস শিল্পমহল ও সরকারের পারস্পরিক আস্থা আরও মজবুত হবে।'

২১ বছর পর দল বদল মেরিস



১০ অগস্ট: একটানা একুশ বছরের বায়োনেসো পর্ব শেষ করে প্যারিস সঁ জার প্রত্যাবে রাজি হলেন লিওনেল মেরিস। পিএসজি-র সঙ্গে দু'বছরের চুক্তিতে রাজি হলেন তিনি। এদিনই প্যারিসে সম্পন্ন হয়েছে মেরিসের দল পরিবর্তন। মেরিসের প্রাক্তন দল বার্সেলোনা প্রত্যাবে রাজি হলেন মেরিস। মেরিসের প্রাক্তন দল বার্সেলোনা প্রত্যাবে রাজি হলেন মেরিস। মেরিসের প্রাক্তন দল বার্সেলোনা প্রত্যাবে রাজি হলেন মেরিস।

১২ অগস্ট

রাষ্ট্রপুঞ্জের নারী সংগঠন, ইউএন উইমেনের মধ্যে ভারতের প্রতিনিধিত্ব করলেন, এয়ার ইন্ডিয়ায় পাইলট জ্যোতা আগরওয়াল। তিনি বলেন, 'দেশের পতাকা নিয়ে দেশের প্রতিনিধিত্ব করতে গেলে আমি গর্বিত।' আন্তর্জাতিক যুব দিবস এবং নিলু বৈশ্বা-বিরোধী মঞ্চ জেনারেশন ইকুয়ালিটি ফোরামে ভারতের হয়ে যোগ দিয়েছেন জ্যোতা। বিশ্বায়ত পরিবেশকর্মী শ্রোতা খুববার্গের সঙ্গে এক সারিতে দাঁড়াতে গেলে তিনি খুবই সম্মানিত যোগ করলেন বলে জানিয়েছেন জ্যোতা। বড় মাপের রদবদল হল রাজ্য বন দপ্তরে। এর মধ্যে রয়েছে প্রধান মুখ্য বনপাল (বন্যপ্রাণ) পদও। ওসকলের বিচারে এই পদটি বনবিভাগের প্রধান পদের পরেই। প্রধান মুখ্য বনপাল (বন্যপ্রাণ) পদে থাকে ১৯৮৮ যাচের ইন্ডিয়ান ফরেস্ট

অলিম্পিকে ফুটবলে সোনা থাকল ব্রাজিলেই



৭ অগস্ট: অলিম্পিকে ফুটবলে সোনা থাকল ব্রাজিলেই। স্পেনকে ২-১ হারিয়ে ফুটবলে সোনা জিতল তারা। গতবার রিও অলিম্পিকেও সোনা জিতেছিল ব্রাজিল। স্পেনের সামনে ১৯৯২ সালের পর আবার সুযোগ এসেছিল সোনা পাওয়ার। কিন্তু রপোতেই সঙ্কট থাকতে হল। অন্যদিকে বাস্কেটবলে সেরা হল আমেরিকাই। হেলেনদের বাস্কেটবলে টানা চারবার সোনা জিতল তারা। ফাইনালে ফ্রান্সকে ৮৭-৬২ হারাল আমেরিকা। এই নিয়ে হেলেনদের বাস্কেটবলে মোট সাতবার সোনা এল আমেরিকায়। অপরদিকে, ইক্বোকেহামা স্টেডিয়ামে বেসবলে সোনা জিতে উত্তীর্ণ গড়ল জাপান। ছেলেরের বেসবলের ফাইনালে তারা ২-০ আমেরিকাকে হারিয়ে সোনা জিতল। সর্গঠক দেশ হিসেবে এর আগে কেউই বেসবলে সোনা পায়নি। জাপানের এটা বেসবলে প্রথম সোনা।

ব্যাঞ্চে ১৯০ স্পেশ্যালিস্ট অফিসার

প্রথম পাতার পর

কলকাতা— মে-কেনও একাধি বিষয়ে চার বছরের সাতক ডিগ্রি। তফসিলি, ও বি সি এবং সৈনিক প্রতিবন্ধী প্রার্থীদের ৫৫ শতাংশ নম্বর থাকলেই চলবে। ব্যাস: ২০ থেকে ৩০ বছরের মধ্যে হতে হবে।

সিকিউরিটি অফিসার (এম এম জি এস-টু): শূন্যপদ ১০টি (সামর্যণ ৬, তফসিলি জাতি ১, ও বি সি ২, আর্থিক ভাবে অনগ্রসর ১)। শিক্ষাগত যোগ্যতা: স্নাতক। সেইসঙ্গে ভারতীয় সেনাবাহিনীতে অন্তত কাশ্মিরি রায়ে ৫ বছরের অভিজ্ঞতা অথবা ভারতীয় নৌবাহিনী বা বায়ুসেনার সমতুল্য রায়ে ৫ বছরের কমিশন্ড সার্ভিসের অভিজ্ঞতা থাকতে হবে। অথবা পুলিশ বা সেন্ট্রাল প্যারামিলিটারি ফোর্সে অফিসার পদে সমতুল্য রায়ে ৫ বছরের অভিজ্ঞতা থাকতে হবে। ব্যাস: ২৫ থেকে ৩৫ বছরের মধ্যে হতে হবে।

লেক অফিসার (এম এম জি এস-টু): শূন্যপদ ১০টি (সামর্যণ ৬, তফসিলি জাতি ১, ও বি সি ২, আর্থিক ভাবে অনগ্রসর ১)। শিক্ষাগত যোগ্যতা: স্নাতক। সেইসঙ্গে ভারতীয় সেনাবাহিনীতে অন্তত কাশ্মিরি রায়ে ৫ বছরের অভিজ্ঞতা অথবা ভারতীয় নৌবাহিনী বা বায়ুসেনার সমতুল্য রায়ে ৫ বছরের কমিশন্ড সার্ভিসের অভিজ্ঞতা থাকতে হবে। অথবা পুলিশ বা সেন্ট্রাল প্যারামিলিটারি ফোর্সে অফিসার পদে সমতুল্য রায়ে ৫ বছরের অভিজ্ঞতা থাকতে হবে। ব্যাস: ২৫ থেকে ৩৫ বছরের মধ্যে হতে হবে।

এইচ আর/পার্সোনেল অফিসার (এম এম জি এস-টু): শূন্যপদ ১০টি (সামর্যণ ৬, তফসিলি জাতি ১, ও বি সি ২, আর্থিক ভাবে অনগ্রসর ১)। শিক্ষাগত যোগ্যতা: স্নাতক। সেইসঙ্গে ভারতীয় সেনাবাহিনীতে অন্তত কাশ্মিরি রায়ে ৫ বছরের অভিজ্ঞতা অথবা ভারতীয় নৌবাহিনী বা বায়ুসেনার সমতুল্য রায়ে ৫ বছরের কমিশন্ড সার্ভিসের অভিজ্ঞতা থাকতে হবে। অথবা পুলিশ বা সেন্ট্রাল প্যারামিলিটারি ফোর্সে অফিসার পদে সমতুল্য রায়ে ৫ বছরের অভিজ্ঞতা থাকতে হবে। ব্যাস: ২৫ থেকে ৩৫ বছরের মধ্যে হতে হবে।

আই টি সার্ভেইল্যান্স অ্যাডমিনিস্ট্রেটর (জে এম জি এস-ওয়ান): শূন্যপদ ৩০টি (সামর্যণ ৬, তফসিলি জাতি ৪, তফসিলি উপজাতি ২, ও বি সি ৮, আর্থিক ভাবে অনগ্রসর ৩)। শিক্ষাগত যোগ্যতা: স্নাতক। সেইসঙ্গে ভারতীয় সেনাবাহিনীতে অন্তত কাশ্মিরি রায়ে ৫ বছরের অভিজ্ঞতা অথবা ভারতীয় নৌবাহিনী বা বায়ুসেনার সমতুল্য রায়ে ৫ বছরের কমিশন্ড সার্ভিসের অভিজ্ঞতা থাকতে হবে। অথবা পুলিশ বা সেন্ট্রাল প্যারামিলিটারি ফোর্সে অফিসার পদে সমতুল্য রায়ে ৫ বছরের অভিজ্ঞতা থাকতে হবে। ব্যাস: ২৫ থেকে ৩৫ বছরের মধ্যে হতে হবে।

ডেপুটি অ্যাডমিনিস্ট্রেটর (এম এম এস কিউ এল/ওয়ানকল) (এম এম জি এস-টু): শূন্যপদ ৩টি (সামর্যণ)। শিক্ষাগত যোগ্যতা: স্নাতক। সেইসঙ্গে ভারতীয় সেনাবাহিনীতে অন্তত কাশ্মিরি রায়ে ৫ বছরের অভিজ্ঞতা অথবা ভারতীয় নৌবাহিনী বা বায়ুসেনার সমতুল্য রায়ে ৫ বছরের কমিশন্ড সার্ভিসের অভিজ্ঞতা থাকতে হবে। অথবা পুলিশ বা সেন্ট্রাল প্যারামিলিটারি ফোর্সে অফিসার পদে সমতুল্য রায়ে ৫ বছরের অভিজ্ঞতা থাকতে হবে। ব্যাস: ২৫ থেকে ৩৫ বছরের মধ্যে হতে হবে।

ইউজোজ অ্যাডমিনিস্ট্রেটর (এম এম জি এস-টু): শূন্যপদ ১২টি (সামর্যণ ৭, তফসিলি জাতি ১, ও বি সি ৩, আর্থিক ভাবে অনগ্রসর ১)। শিক্ষাগত যোগ্যতা: স্নাতক। সেইসঙ্গে ভারতীয় সেনাবাহিনীতে অন্তত কাশ্মিরি রায়ে ৫ বছরের অভিজ্ঞতা অথবা ভারতীয় নৌবাহিনী বা বায়ুসেনার সমতুল্য রায়ে ৫ বছরের কমিশন্ড সার্ভিসের অভিজ্ঞতা থাকতে হবে। অথবা পুলিশ বা সেন্ট্রাল প্যারামিলিটারি ফোর্সে অফিসার পদে সমতুল্য রায়ে ৫ বছরের অভিজ্ঞতা থাকতে হবে। ব্যাস: ২৫ থেকে ৩৫ বছরের মধ্যে হতে হবে।

এমসি ডিগ্রি। তফসিলি, ও বি সি এবং সৈনিক প্রতিবন্ধী প্রার্থীদের ক্ষেত্রে ৫০ শতাংশ নম্বর থাকলেই চলবে। সার্ভেইল্যান্স অ্যাডমিনিস্ট্রেটর (এম এম জি এস-টু): শূন্যপদ ৩টি (সামর্যণ)। শিক্ষাগত যোগ্যতা: স্নাতক। সেইসঙ্গে ভারতীয় সেনাবাহিনীতে অন্তত কাশ্মিরি রায়ে ৫ বছরের অভিজ্ঞতা অথবা ভারতীয় নৌবাহিনী বা বায়ুসেনার সমতুল্য রায়ে ৫ বছরের কমিশন্ড সার্ভিসের অভিজ্ঞতা থাকতে হবে। অথবা পুলিশ বা সেন্ট্রাল প্যারামিলিটারি ফোর্সে অফিসার পদে সমতুল্য রায়ে ৫ বছরের অভিজ্ঞতা থাকতে হবে। ব্যাস: ২৫ থেকে ৩৫ বছরের মধ্যে হতে হবে।

নেটওয়ার্ক অ্যান্ড সিকিউরিটি অ্যাডমিনিস্ট্রেটর (এম এম জি এস-টু): শূন্যপদ ১০টি (সামর্যণ ৬, তফসিলি জাতি ১, ও বি সি ২, আর্থিক ভাবে অনগ্রসর ১)। শিক্ষাগত যোগ্যতা: স্নাতক। সেইসঙ্গে ভারতীয় সেনাবাহিনীতে অন্তত কাশ্মিরি রায়ে ৫ বছরের অভিজ্ঞতা অথবা ভারতীয় নৌবাহিনী বা বায়ুসেনার সমতুল্য রায়ে ৫ বছরের কমিশন্ড সার্ভিসের অভিজ্ঞতা থাকতে হবে। অথবা পুলিশ বা সেন্ট্রাল প্যারামিলিটারি ফোর্সে অফিসার পদে সমতুল্য রায়ে ৫ বছরের অভিজ্ঞতা থাকতে হবে। ব্যাস: ২৫ থেকে ৩৫ বছরের মধ্যে হতে হবে।

ইমেল অ্যাডমিনিস্ট্রেটর (এম এম জি এস-টু): শূন্যপদ ২টি (সামর্যণ)। শিক্ষাগত যোগ্যতা: স্নাতক। সেইসঙ্গে ভারতীয় সেনাবাহিনীতে অন্তত কাশ্মিরি রায়ে ৫ বছরের অভিজ্ঞতা অথবা ভারতীয় নৌবাহিনী বা বায়ুসেনার সমতুল্য রায়ে ৫ বছরের কমিশন্ড সার্ভিসের অভিজ্ঞতা থাকতে হবে। অথবা পুলিশ বা সেন্ট্রাল প্যারামিলিটারি ফোর্সে অফিসার পদে সমতুল্য রায়ে ৫ বছরের অভিজ্ঞতা থাকতে হবে। ব্যাস: ২৫ থেকে ৩৫ বছরের মধ্যে হতে হবে।

ইমেল অ্যাডমিনিস্ট্রেটর (এম এম জি এস-টু): শূন্যপদ ২টি (সামর্যণ)। শিক্ষাগত যোগ্যতা: স্নাতক। সেইসঙ্গে ভারতীয় সেনাবাহিনীতে অন্তত কাশ্মিরি রায়ে ৫ বছরের অভিজ্ঞতা অথবা ভারতীয় নৌবাহিনী বা বায়ুসেনার সমতুল্য রায়ে ৫ বছরের কমিশন্ড সার্ভিসের অভিজ্ঞতা থাকতে হবে। অথবা পুলিশ বা সেন্ট্রাল প্যারামিলিটারি ফোর্সে অফিসার পদে সমতুল্য রায়ে ৫ বছরের অভিজ্ঞতা থাকতে হবে। ব্যাস: ২৫ থেকে ৩৫ বছরের মধ্যে হতে হবে।

৩১-০৬-২০২১ তারিখে প্রার্থীর নির্দিষ্ট বয়স হতে হবে। তফসিলিরা ৫, ও বি সি-রা ৩ এবং সৈনিক প্রতিবন্ধীরা ১০ বছরের ছাড় পাবেন। প্রাক্তন সমরকর্মীরা নিম্নমানসূত্রে ছাড় পাবেন।

বেতনক্রম: স্কেল-ওয়ানের ক্ষেত্রে ৩৬,০০০-৬৩,৮০০ টাকা এবং স্কেল-টুয়ের ক্ষেত্রে ৪৮,১৭০-৬৬,৮১০ টাকা।

প্রার্থী বাছাই করা হবে অনলাইন পরীক্ষা ও ইন্টারভিউয়ের মাধ্যমে। পরীক্ষার পরীক্ষাকেন্দ্রে কলকাতা। পরীক্ষার বিষয়বস্তুক প্রমাণ হবে। প্রতিটি প্রশ্নের মান ২ নম্বর। মোট ১০০ নম্বরের পরীক্ষা। সময় ১ ঘণ্টা। ইন্টারভিউ ১০০ নম্বরের। অনলাইন দরখাস্ত করতে হবে এই ওয়েবসাইটের মাধ্যমে: www.bankofmaharashtra.in অনলাইন দরখাস্তের শেষ তারিখ ১৯ সেপ্টেম্বর। মান রাখবেন, অনলাইন দরখাস্ত পূরণের সময় প্রার্থীর স্বাক্ষর করা পাসপোর্ট সাইজের ফটো (২০০x২০০ পিক্সেল ডাইমেনশনে ২০-৫০ কেবি সাইজের মধ্যে), সেই (১৪০x৬০ পিক্সেল ডাইমেনশনে ১০-২০ কেবি সাইজের মধ্যে), বা-হাতের বুড়ো আঙুলের ছাপ (২৪০x২৪০ পিক্সেল ডাইমেনশনে ২০-৫০ কেবি সাইজের মধ্যে) এবং হোখা ডিক্লারেশন (৩০০x৪০০ পিক্সেল ডাইমেনশনে ৫০-১০০ কেবি সাইজের মধ্যে) আপলোড করতে হবে।

ফি বাবদ দিতে হবে ১,১৮০ টাকা (তফসিলিদের ক্ষেত্রে ১১৮ টাকা)। মহিলা ও সৈনিক প্রতিবন্ধীদের ক্ষেত্রে ফি দিতে লাগবে না। অনলাইন দরখাস্তের ডেডলাইন কার্ড বা ডেভিট কার্ড বা নেট ব্যাঙ্কিংয়ের মাধ্যমে ফি দিতে হবে। ফি জমা দেওয়ার পর ই-রিজিস্ট্রেশন এক কপি প্রিন্ট আউট নিয়ে নেবেন। এটি কোথাও পাঠাতে হবে না। নিজের কাছে রাখবেন। পরে প্রয়োজন হবে।

বুটিনাটি শুধুরে জন্য সেধুন উপরোক্ত ওয়েবসাইট।

পাঁচ পুলিশ বাহিনীতে ৫৪৬ মেডিক্যাল অফিসার

প্রথম পাতার পর

পাশাপাশি, কম্পালসরি রোগট্রিইং ইন্টানশিয়াল সম্পূর্ণ করে থাকতে হবে। ইন্টানশিয়াল সম্পূর্ণ না হলেও আবেদন করা যাবে, সেক্ষেত্রে নিয়োগের আগে ইন্টানশিয়াল সম্পূর্ণ করে থাকতে হবে। ব্যাস: ২৭-১০-২০২১ তারিখে ৩০ বছরের মধ্যে হতে হবে। বেতনক্রম: ৫৬,১০০-১,৭৭,৫০০ টাকা। সঙ্গে অন্যান্য সুযোগ-সুবিধা।

স্পেশ্যালিস্ট মেডিক্যাল অফিসার (ডেপুটি কম্যান্ড্যান্ট): বর্তমান সিকিউরিটি ফোর্স: ৫২টি (সামর্যণ ২৯, তফসিলি জাতি ৬, ও বি সি ১২, আর্থিক ভাবে অনগ্রসর ৫)। সেন্ট্রাল রিজার্ভ পুলিশ ফোর্স: ১৩৬টি (সামর্যণ ৪১, তফসিলি জাতি ১৮, তফসিলি উপজাতি ৯, ও বি সি ৩৬, আর্থিক ভাবে অনগ্রসর ১২)। সশস্ত্র সীমা বল: ১৮টি (সামর্যণ)। ইন্সে-টিবোন বর্তমান পুলিশ: ১১টি (সামর্যণ ৪, তফসিলি জাতি ১, তফসিলি উপজাতি ১, ও বি সি ৩, আর্থিক ভাবে অনগ্রসর ২)। অসম রাইফেলস: ৪টি (সামর্যণ)।

স্পেশ্যালিস্ট মেডিক্যাল অফিসার নিয়োগ করা হবে চিকিৎসাশাস্ত্রের এই সমস্ত শাখায় (বহুদূরত্রে শূন্যপদ): মেডিসিন (৩৬টি), সার্জরি (৩৬টি), গাইনিকোলজি অ্যান্ড অবস্টেট্রিসি (২২টি), অ্যানায়েসিয়া (২৪টি), রেডিওলজি (৩৯টি), ইন এম টি (১টি), প্যাথোলজি (২০টি), অপথ্যালমোলজিস্ট/আই (১৯টি), সাইকিয়ারিষ্ট্রিক (১টি), পেন্ডিয়াট্রি (২টি) এবং অর্থোপেডিক (১টি)।

শিক্ষাগত যোগ্যতা: সার্ভেইল্যান্স অ্যাডমিনিস্ট্রেটর (এম এম জি এস-টু)। পোস্ট-গ্রাজুয়েট ডিগ্রি বা ডিপ্লোমা। পোস্ট-গ্রাজুয়েট ডিগ্রি/ডায়াগনস্টিকাল রিসার্চের ক্ষেত্রে স্নাতক এবং পোস্ট-গ্রাজুয়েট ডিপ্লোমারীদের ক্ষেত্রে আড়াই বছরের চিকিৎসা বা অভিজ্ঞতা থাকতে হবে। অথবা রাষ্ট্র মেডিক্যাল কলেজ বা মেডিক্যাল কলেজ অথবা ইন্ডিয়ান মেডিক্যাল কলেজ থেকে থাকতে হবে। পাশাপাশি, কম্পালসরি রোগট্রিইং ইন্টানশিয়াল সম্পূর্ণ করে থাকতে হবে। ব্যাস: ২৭-১০-২০২১ তারিখে ৪০ বছরের মধ্যে হতে হবে। বেতনক্রম: ৬৭,৭০০-২,০৮,১০০ টাকা। সঙ্গে অন্যান্য সুযোগ-সুবিধা।

নিয়মানুসারে সরবরিক্ট কার্টেগরি প্রার্থীরা ব্যয়সে ছাড় পাবেন।

সৈনিক মাপসূত্র: উচ্চতা অন্তত ১৫৭.৫ সেনি (মহিলাদের ক্ষেত্রে ১৪২ সেনি)। গোষ্ঠার ২ সেনি এবং তফসিলি উপজাতি প্রার্থীরা ৩ সেনি ছাড় পাবেন। বৃক্কের ছাতি শুভ্রাঙ্গ পুরুষদের ক্ষেত্রে না-ফুলিয়ে ও ফুলিয়ে স্বাভাবিক ৭৭ ও ৮২ সেনি।

দৃষ্টিশক্তি: কাছের ক্ষেত্রে ভালো চোখে ৬-৯ ও যারাপ চোখে ৬-৯। বৃক্কের ক্ষেত্রে ভালো চোখে ৬/৬ বা ৬/৬ এবং যারাপ চোখে ৬/১২ বা ৬/১২। স্বাভাবিক দৃষ্টি শি-প্রি মানের হতে হবে।

প্রার্থী বাছাই করা হবে ২০০ নম্বরের ইন্টারভিউয়ের মাধ্যমে।

অনলাইন দরখাস্ত করতে হবে এই ওয়েবসাইটের মাধ্যমে: www.recruitment.itbpolice.nic.in দরখাস্ত করা যাবে ১৩ সেপ্টেম্বর থেকে ২৭ অক্টোবর পর্যন্ত। দরখাস্তের সময় প্রার্থীর স্বাক্ষর করা যাবে, সেই এবং প্রয়োজনীয় সার্টিফিকেট আপলোড করতে হবে। ফি বাবদ অনলাইনে দিতে হবে ৪০০ টাকা। মহিলা, তফসিলি এবং প্রাক্তন সমরকর্মীদের কোনও ফি লাগবে না।

বিস্তারিত তথ্যের জন্য অগ্রহণীয়া সেধুন উপরোক্ত ওয়েবসাইট।

অয়েল ইন্ডিয়ায় ৫৩৫

দুইয়ের পাতার পর

তফসিলিরা ৫, ও বি সি-রা ৩ বছর এবং সৈনিক প্রতিবন্ধীরা নিম্নমানসূত্রে ছাড় পাবেন।

বেতনক্রম: ২৬,৬০০-৯০,০০০ টাকা। প্রার্থী বাছাই করা হবে কম্পিউটার ভিত্তিক পরীক্ষার মাধ্যমে। পরীক্ষার অবজেক্ট ভায়েন মাল্টিপল চয়েস প্রশ্ন হবে এই সব বিষয়ে: ইংলিশ ল্যাঙ্গুয়েজ অ্যান্ড জেনারেল নলেজ/আওয়ারেনেস এবং অয়েল ইন্ডিয়া সংক্রান্ত বিবরণ, রিজনিং, এরিথমেটিক/নিউমেরিক্যাল অ্যান্ড মেন্টাল এবিলিটি, সার্ভেইল্যান্স ট্রেন্ড-সক্রোজ। সময় ২ ঘণ্টা। কোনও মেগেটিভ মার্কিং নেই।

অনলাইন দরখাস্ত করতে হবে এই ওয়েবসাইটের মাধ্যমে: www.oil-india.com অনলাইন দরখাস্তের শেষ তারিখ ২৩ সেপ্টেম্বর। প্রার্থীর চালু ই-মেল আই ডি থাকতে হবে। অনলাইন দরখাস্তের পরে ইউজার আইডি ও পাসওয়ার্ড পাওয়া যাবে। এগুলি গিয়ে রাখবেন।

অনলাইন পদ্ধতিতে ফি বাবদ দিতে হবে ২০০ টাকা (জি এস টি অতিরিক্ত)। তফসিলি, আর্থিক ভাবে অনগ্রসর, সৈনিক প্রতিবন্ধী ও প্রাক্তন সমরকর্মীদের ফি দিতে লাগবে না।

বুটিনাটি শুধুরে জন্য সেধুন উপরোক্ত ওয়েবসাইট।

থাকলে অগ্রাধিকার। ব্যাস: ৩০ বছরের মধ্যে হতে হবে।

জুনিয়র অপারেটিভ ট্রেনিং-এন ডি টি অপারেটর: শূন্যপদ ৩টি (সামর্যণ ২, তফসিলি উপজাতি ১, ও বি সি ১)। শিক্ষাগত যোগ্যতা: ম্যাগনিক-সহ আই টি আই। সেইসঙ্গে আর্টস/সাইন্স/সোশ্যাল সাইন্স বা ম্যাগনেটিক প্যাট্রিক টেস্টিং বা রেডিওগ্রাফি টেস্টিংয়ে এন ডি টি-সেলেকশ ২ সার্টিফিকেট থাকতে হবে। সার্ভেইল্যান্স ক্ষেত্রে ২ বছরের অভিজ্ঞতা থাকতে হবে। ব্যাস: ৩০ বছরের মধ্যে হতে হবে।

সৈনিক প্রতিবন্ধী ও প্রাক্তন সমরকর্মীদের জন্য নিম্নমানসূত্রে শূন্যপদ সরবরিক্ট থাকবে। ৪-৯-২০২১ তারিখে প্রার্থীর নির্দিষ্ট বয়স হতে হবে।

প্রার্থী বাছাই করা হবে কম্পিউটার ভিত্তিক পরীক্ষার মাধ্যমে। কলকাতায় পরীক্ষাকেন্দ্রে আছে। ২০০ নম্বরের পরীক্ষার সময় সার্ভেইল্যান্স বিষয়, রিজনিং এবং জেনারেল আওয়ারেনেস বিষয়ক প্রশ্ন। সময়সীমা ২ ঘণ্টা।

অনলাইন দরখাস্ত করতে হবে এই ওয়েবসাইটের মাধ্যমে: www.nhpindia.com দরখাস্তের শেষ তারিখ ৩০ সেপ্টেম্বর।

ফি বাবদ অনলাইনে দিতে হবে ২৫০ টাকা। তফসিলি, সৈনিক প্রতিবন্ধী ও প্রাক্তন সমরকর্মীদের ফি দিতে লাগবে না।

বুটিনাটি শুধুরে জন্য সেধুন উপরোক্ত ওয়েবসাইট।

সরকারি সংস্থায় ১৬৬ মিশ্র ধাতু নিগমে চাকরি

প্রথম পাতার পর

যোগ্যতা: এম বি বি এস, সঙ্গে কমপালসরি ইন্টানশিয়াল সম্পূর্ণ করে থাকতে হবে। এর পাশাপাশি ১-৭-২০২১ তারিখ অনুসারে সার্ভেইল্যান্স কাজে অন্তত ২ বছরের অভিজ্ঞতা থাকতে হবে। ব্যাস: ১-৭-২০২১ তারিখে ৩০ বছরের মধ্যে হতে হবে। বেতনক্রম: ৬০,০০০-১,৮০,০০০ টাকা।

জুনিয়র ইঞ্জিনিয়ার: সিভিল ৬৮টি, ইলেক্ট্রিক্যাল ৩৪টি, মেকানিক্যাল ৩১টি। শিক্ষাগত যোগ্যতা: অন্তত ৬০ শতাংশ নম্বর-সহ সার্ভেইল্যান্স ইঞ্জিনিয়ারিং শাখায় ডিপ্লোমা। অটোক্যাড বিষয়ে জ্ঞান থাকলে অগ্রাধিকার। ব্যাস: ১-৭-২০২১ তারিখে ৩০ বছরের মধ্যে হতে হবে। বেতনক্রম: ২৯,৬০০-১,১৯,৫০০ টাকা।

সিনিয়র অ্যাকাউন্ট্যান্ট: ২০টি। শিক্ষাগত যোগ্যতা: অন্তত সি এম এ বা বি এ ইন্টারমিডিয়েট পাশ। ব্যাস: ১-৭-২০২১ তারিখে ৩০ বছরের মধ্যে হতে হবে। বেতনক্রম: ২৯,৬০০-১,১৯,৫০০ টাকা।

নিম্নমানসূত্রে তফসিলি, ও বি সি, আর্থিক ভাবে অনগ্রসর এবং সৈনিক প্রতিবন্ধী প্রার্থীদের জন্য শূন্যপদ সরবরিক্ট হবে। তফসিলি, ও বি সি এবং সৈনিক প্রতিবন্ধীরা যথাক্রমে ৩, ৩ ও ১০ বছরের ছাড় পাবেন।

প্রার্থী বাছাই করা হবে কম্পিউটারভিত্তিক পরীক্ষার মাধ্যমে। কলকাতায় পরীক্ষাকেন্দ্রে আছে। ২০০ নম্বরের পরীক্ষার সময় সার্ভেইল্যান্স বিষয়, রিজনিং এবং জেনারেল আওয়ারেনেস বিষয়ক প্রশ্ন। সময়সীমা ২ ঘণ্টা।

অনলাইন দরখাস্ত করতে হবে এই ওয়েবসাইটের মাধ্যমে: www.nhpindia.com দরখাস্তের শেষ তারিখ ৩০ সেপ্টেম্বর।

ফি বাবদ অনলাইনে দিতে হবে ২৫০ টাকা। তফসিলি, সৈনিক প্রতিবন্ধী ও প্রাক্তন সমরকর্মীদের ফি দিতে লাগবে না।

বুটিনাটি শুধুরে জন্য সেধুন উপরোক্ত ওয়েবসাইট।

প্রথম পাতার পর

তফসিলি জাতি ২, ও বি সি ৩)। শিক্ষাগত যোগ্যতা: স্নাতক। সেইসঙ্গে ভারতীয় সেনাবাহিনীতে অন্তত কাশ্মিরি রায়ে ৫ বছরের অভিজ্ঞতা অথবা ভারতীয় নৌবাহিনী বা বায়ুসেনার সমতুল্য রায়ে ৫ বছরের কমিশন্ড সার্ভিসের অভিজ্ঞতা থাকতে হবে। অথবা পুলিশ বা সেন্ট্রাল প্যারামিলিটারি ফোর্সে অফিসার পদে সমতুল্য রায়ে ৫ বছরের অভিজ্ঞতা থাকতে হবে। ব্যাস: ২৫ থেকে ৩৫ বছরের মধ্যে হতে হবে।

জুনিয়র অ্যাকাউন্ট্যান্ট: শূন্যপদ ১০টি (সামর্যণ ৪, তফসিলি জাতি ১, তফসিলি উপজাতি ১, ও বি সি ৩, আর্থিক ভাবে অনগ্রসর ১)। শিক্ষাগত যোগ্যতা: স্নাতক। সেইসঙ্গে ভারতীয় সেনাবাহিনীতে অন্তত কাশ্মিরি রায়ে ৫ বছরের অভিজ্ঞতা অথবা ভারতীয় নৌবাহিনী বা বায়ুসেনার সমতুল্য রায়ে ৫ বছরের কমিশন্ড সার্ভিসের অভিজ্ঞতা থাকতে হবে। অথবা পুলিশ বা সেন্ট্রাল প্যারামিলিটারি ফোর্সে অফিসার পদে সমতুল্য রায়ে ৫ বছরের অভিজ্ঞতা থাকতে হবে। ব্যাস: ২৫ থেকে ৩৫ বছরের মধ্যে হতে হবে।

জুনিয়র সিকিউরিটি ইন্সপেক্টর: শূন্যপদ ৬টি (প্রাক্তন সমরকর্মী)। শিক্ষাগত যোগ্যতা: স্নাতক। সেইসঙ্গে ভারতীয় সেনাবাহিনীতে অন্তত কাশ্মিরি রায়ে ৫ বছরের অভিজ্ঞতা অথবা ভারতীয় নৌবাহিনী বা বায়ুসেনার সমতুল্য রায়ে ৫ বছরের কমিশন্ড সার্ভিসের অভিজ্ঞতা থাকতে হবে। অথবা পুলিশ বা সেন্ট্রাল প্যারামিলিটারি ফোর্সে অফিসার পদে সমতুল্য রায়ে ৫ বছরের অভিজ্ঞতা থাকতে হবে। ব্যাস: ২৫ থেকে ৩৫ বছরের মধ্যে হতে হবে।

জুনিয়র অপারেটিভ ট্রেনিং-ইলেক্ট্রিক্যাল: শূন্যপদ ৬টি (সামর্যণ ৩, তফসিলি জাতি ১, ও বি সি ২)। শিক্ষাগত যোগ্যতা: ম্যাগনিক-সহ ইলেক্ট্রিক্যাল ট্রেন্ড আই টি আই। সেইসঙ্গে ইলেক্ট্রিক্যাল মেইটেন্যান্সের কাজে ২ বছরের অভিজ্ঞতা থাকতে হবে। সিভিল ইন্ডাস্ট্রিতে কাজের অভিজ্ঞতা থাকলে অগ্রাধিকার। ব্যাস: ৩০ বছরের মধ্যে হতে হবে।

জুনিয়র অপারেটিভ ট্রেনিং-ফিটার: শূন্যপদ ৭টি (সামর্যণ ৩, তফসিলি জাতি ১, ও বি সি ২, আর্থিক ভাবে অনগ্রসর ১)। শিক্ষাগত যোগ্যতা: ম্যাগনিক-সহ ফিটার ট্রেন্ড আই টি আই। সেইসঙ্গে মেইটেন্যান্সের কাজে ২ বছরের অভিজ্ঞতা থাকতে হবে। সিভিল ইন্ডাস্ট্রিতে কাজের অভিজ্ঞতা থাকলে অগ্রাধিকার। ব্যাস: ৩০ বছরের মধ্যে হতে হবে।

কী পড়বেন, কোথায় পড়বেন

পাটের ব্রিচিং ও ডাইংয়ের সরকারি প্রশিক্ষণ



নিম্নের সংবাদবহন: পাটের ব্রিচিং ও ডাইংয়ের প্রশিক্ষণ দেবে আই সি এ আর-ন্যাশনাল ইনস্টিটিউট অব ন্যাচারাল ফাইবার ইঞ্জিনিয়ারিং অ্যান্ড টেকনোলজি। এটি কেন্দ্রের ইন্ডিয়ান কাউন্সিল অব এগ্রিকালচারাল রিসার্চের অধীনস্থ একটি সংস্থা। প্রশিক্ষণের মেয়াদ এক সপ্তাহ। কোর্সে চলবে ৮ থেকে ১২ নভেম্বর পর্যন্ত। ক্লাস হবে সকাল ১০টা থেকে বিকেল ৪টা পর্যন্ত। প্রশিক্ষণ শেষে সার্টিফিকেট দেওয়া হবে। আসন সংখ্যা সীমিত। আগে এলে আগে ভর্তি। কোর্সে ফি: ৮০০ টাকা (ডি এস টি অন্তর্ভুক্ত)। হোস্টেলে থাকার ব্যবস্থা আছে। ভর্তির জন্য যোগাযোগ করুন এই ঠিকনায়: ন্যাশনাল ইনস্টিটিউট অব ন্যাচারাল ফাইবার ইঞ্জিনিয়ারিং অ্যান্ড টেকনোলজি, ১২, রিজেন্ট পার্ক, কলকাতা-৪০। ফোন নম্বর: ডাঃ বিদ্যা কুমার শঙ্কু (৮৭৭৭৬-৭৫২১১, ২০৬২১-০২৫২০)।

জ্যাম পরীক্ষা ১৩ ফেব্রুয়ারি

২০২২ সালের জ্যামে আডমিশন ট্রেস্ট ফর এম এসসি বা 'জ্যাম' পরীক্ষা হবে ১৩ ফেব্রুয়ারি (বুধবার)। পশ্চিমবঙ্গে পরীক্ষাকেন্দ্র আছে কলকাতা, শিলিগুড়ি, বড়পুপুর, আসনসেখা-দুর্গাপুর ও কলাগাঁতে। পরীক্ষার আয়োজক আই আই বুরকি।

'জ্যাম' পরীক্ষায় সফল হলে বেঙ্গালুরু ইন্ডিয়ান ইনস্টিটিউট অব সায়েন্স, এম আই টি, আই আই ই এস টি শিবপুর, এস এল আই ই টি পাল্লাব, আই আই এস ই আর, বড়পুপুর আই আই টি-সহ কুড়িটি আই আই টি (ইন্ডিয়ান ইনস্টিটিউটস অব টেকনোলজি)-তে দু'বছরের এম এসসি, জ্যামেট এম এসসি-পি এইচ ডি, এম এসসি-পি এইচ ডি ডুয়াল ডিগ্রি, এম এসসি-এম এস (রিসার্চ), পি এইচ ডি ডুয়াল ডিগ্রি-সহ বিভিন্ন স্নাতকোত্তর ডিগ্রি কোর্সে পড়ার সুযোগ পাওয়া যাবে।

শিক্ষাগত যোগ্যতা: মোট অঙ্কত ৫৫ শতাংশ নম্বর-সহ সংশ্লিষ্ট বিষয়ে স্নাতক প্রার্থীরা আবেদন করতে পারবেন। তফসিলি ও সৈনিক প্রতিবন্ধীদের ক্ষেত্রে মোট অঙ্কত ৫০ শতাংশ নম্বর থাকতে হবে।

জ্যাম-২০২২ অনলাইন পরীক্ষার থাকবে সাতটি পত্র— ইকনমিক্স, বায়োটেকনোলজি, কেমিস্ট্রি, জিওলজি, মাথমেটিক্স, মাথমেটিক্যাল স্ট্যাটিস্টিক্স এবং ফিজিক্স। প্রার্থী একটি বা দু'টি পত্রের পরীক্ষায় বসতে পারেন। পরীক্ষা হবে দু'টি সেশনে। প্রথম সেশনে পরীক্ষা হবে বায়োজিক্যাল সায়েন্স, মাথমেটিক্স ও ফিজিক্স বিষয়ে।

দ্বিতীয় সেশনে পরীক্ষা হবে বাকি চারটি পত্রের। অনলাইন আবেদন করতে হবে এই ওয়েবসাইটের মাধ্যমে: <http://jam.iitr.ac.in> আবেদন করা যাবে ১১ অক্টোবর পর্যন্ত। ফি বাবদ নিতে হবে একটি পত্রের জন্য ১,৫০০ টাকা (মহিলা, তফসিলি ও সৈনিক প্রতিবন্ধীদের ক্ষেত্রে ৭৫০ টাকা) ও দু'টি পত্রের জন্য ২,১০০ টাকা (মহিলা, তফসিলি ও সৈনিক প্রতিবন্ধীদের ক্ষেত্রে ১,০৫০ টাকা)। বিস্তারিত জানতে দেখুন উপরোক্ত ওয়েবসাইট। প্রয়োজনে যোগাযোগ করতে পারেন এই ফোন: ০৩২২২-২৮২০১১।

যাদবপুর বিশ্ববিদ্যালয়ে মাস কমিউনিকেশন ও জার্নালিজমের স্নাতকোত্তর ডিগ্রি কোর্স

মাস কমিউনিকেশন ও জার্নালিজমের স্নাতকোত্তর ডিগ্রি কোর্সে ভর্তি নিচ্ছে যাদবপুর বিশ্ববিদ্যালয়। কোর্সের মেয়াদ ২ বছর।

আসনসংখ্যা ৫০টি। শিক্ষাগত যোগ্যতা: মোট অঙ্কত ৫০ শতাংশ (তফসিলিদের ক্ষেত্রে ৪০ শতাংশ এবং ও বি সি এবং সৈনিক প্রতিবন্ধীদের ক্ষেত্রে ৪৫ শতাংশ) নম্বর-সহ স্নাতক। কোর্সে ফি: ২৬,২০০ টাকা। মেধার ভিত্তিতে বাছাই করা প্রার্থীদের নির্বাচিত করা হবে অনলাইন গ্রুপ ডিসকালেশনের ভিত্তিতে।

অনলাইনে আবেদন করতে হবে এই ওয়েবসাইটের মাধ্যমে: www.jaduniv.edu.in অনলাইন আবেদনের শেষ তারিখ ১৫ সেপ্টেম্বর। আবেদনের পদ্ধতি-সহ বিস্তারিত তথ্যের জন্য দেখুন উপরোক্ত ওয়েবসাইট।

যাদবপুর বিশ্ববিদ্যালয়ে বি এড কোর্সে ভর্তি

বিভিন্ন বিষয়ের বি এড কোর্সে ভর্তি নেবে যাদবপুর বিশ্ববিদ্যালয়। কোর্সের মেয়াদ ২ বছর।

মোট শূন্যপদ: ১০০টি। শিক্ষাগত যোগ্যতা: মোট অঙ্কত ৫০ শতাংশ (তফসিলি ও সৈনিক প্রতিবন্ধীদের ক্ষেত্রে ৪০ শতাংশ এবং ও বি সিসের ক্ষেত্রে ৪৫ শতাংশ) নম্বর-সহ স্নাতক। বয়স: ১৫-২-২০২১ তারিখে ৩৫ বছরের মধ্যে হতে হবে। ডেপুটেন্ট প্রার্থীদের ক্ষেত্রে বয়সের কোনও উচ্চসীমা নেই।

সরকারি এবং সরকারি সাহায্যগ্রাহ্য স্কুলে পঞ্চম থেকে দ্বাদশ শ্রেণির শিক্ষক-শিক্ষিকারা ডেপুটেন্ট প্রার্থী হিসেবে গণ্য হবেন। প্রার্থী বাছাই করা হবে শিক্ষাগত যোগ্যতার ভিত্তিতে। অনলাইনে আবেদন করতে হবে এই ওয়েবসাইটের মাধ্যমে: www.jaduniv.edu.in অনলাইন আবেদনের শেষ তারিখ ১৫ সেপ্টেম্বর। আবেদনের পদ্ধতি-সহ বিস্তারিত তথ্যের জন্য দেখুন উপরোক্ত ওয়েবসাইট।

ফল বেরোল

ইন্ডিয়ান পাবলিক সার্ভিস কমিশন কর্তৃক গত ১৮ জুলাই অয়োজিত ইঞ্জিনিয়ারিং সার্ভিসেস (প্রিলিমিনারি) এক্সামিনেশন, ২০২১-এর ফল প্রকাশিত হয়েছে এই ওয়েবসাইটে: www.upsoc.gov.in নির্বাচিত প্রার্থীদের মেনে এক্সমিনেশন হবে ২১ নভেম্বর। পরীক্ষার তিন সপ্তাহ আগে থেকে প্রার্থীরা ই-ম্যানুয়াল কার্ড ডাউনলোড করতে পারবেন উপরোক্ত ওয়েবসাইটের মাধ্যমে। বিশদ জানতে দেখুন উপরোক্ত ওয়েবসাইট। অথবা ফোন করতে পারেন এই নম্বরে: (০১১) ২০০৮৮-০৮৮/১১২৫/৫২৭১, ২০০৮৮-৫৪৩ (ফোন-কেন্দ্র কাছের দিন সকাল ১০টা থেকে বিকেল ৫টা পর্যন্ত)।

NETAJI SUBHAS OPEN UNIVERSITY
DD - 26, Sector - I, Salt Lake City, Kolkata - 700064
ESTABLISHED BY WB ACT (XIX) OF 1977, RECOGNIZED BY UGC-DEB, NAAC ACCREDITED WITH GRADE A
Email: nsou@wbnsou.ac.in Website: www.wbnsou.ac.in

Memo No. : Reg/0925 Date : 01.09.2021

ADMISSION NOTIFICATION FOR UNDER GRADUATE DEGREE PROGRAMME (UG), ACADEMIC YEAR 2021-22

Online applications are invited from eligible Indian nationals for admission to the following Under Graduate (Hons.) Degree Programmes under CBCS system (B.A. in Public Administration under old syllabus) for July-2021 session.

PROGRAMMES OFFERED BY SCHOOL OF HUMANITIES

- (1) B.A. in Bengali; HBG; Passed 10+2 Examination or equivalent / Passed 10+2 in Vocational Courses.
- (2) B.A. in English; HEG; Passed 10+2 Examination with 40% marks in English or equivalent / Passed 10+2 in Vocational Courses with 40% marks in English.

PROGRAMMES OFFERED BY SCHOOL OF SOCIAL SCIENCES

- (1) B.A. in History; HHI; (2) B.A. in Political Science; HPS; (3) B.A. in Sociology; HSO; (4) * B.A. in Public Administration; EPA; Passed 10+2 Examination or equivalent / Passed 10+2 in Vocational Courses.

* University has implemented Choice Based Credit System (CBCS) for 14 Under Graduate Degree Programmes from the Academic Year 2021-22 except B.A. in Public Administration (EPA).

PROGRAMMES OFFERED BY SCHOOL OF SCIENCES

- (1) B.Sc. in Physics; HPH & (2) B.Sc. in Chemistry; HCH; Passed 10+2 examination or equivalent with 40% marks in respective subject and pass marks in Mathematics. (3) B.Sc. in Mathematics; HMT; Passed 10+2 examination or equivalent with 50% marks in Mathematics. (4) B.Sc. in Geography; HGR; Passed 10+2 examination or equivalent with 50% marks in Geography. (5) B.Sc. in Zoology; HZO; Passed 10+2 examination or equivalent with 50% marks in Biology. (6) B.Sc. in Botany; HBT; Passed 10+2 examination or equivalent with 40% marks in Biology.

PROGRAMME OFFERED BY SCHOOL OF EDUCATION

B.A. in Education; HED; Passed 10+2 examination or equivalent (Arts & Science streams only) with 45% marks.

PROGRAMMES OFFERED BY SCHOOL OF PROFESSIONAL STUDIES

- (1) Bachelor of Commerce (B.Com.); HCO; Passed 10+2 examination or equivalent / Passed 10+2 in Vocational Courses.
- (2) B.A. in Economics; HEC; Passed 10+2 Examination or equivalent / Passed 10+2 in Vocational Courses.

For detail admission notification, eligibility criteria, programme duration, list of Learner Support Centres, fee structure, steps to be followed and other guidelines please visit our admission website (bdp.wbnsouadmissions.com) on and from 14.08.2021.

Registrar

BNG

Hotel Management Institute
AN ISO 9001 : 2015 CERTIFIED

TIMES BUSINESS AWARDS KOLKATA 2020

Winner of Times leading Hotel Management School 2020



PLACEMENT ASSISTANCE

HOTEL MANAGEMENT TOURISM & HOSPITALITY

Program Duration	Total FEE	Special Fees for COVID 19
1 Year	55,000/-	35,000/-
2 Year	1,00,000/-	70,000/-
3 Years	2,20,000/-	1,50,000/-
6 Months	40,000/-	23,000/-

PLACEMENT AT India, Dubai, Germany, Thailand, Singapore, Muscat, Malaysia, Mauritius, European Countries, Canada etc.

কলকাতায় ক্যাম্পাস : সল্টলেক, সেক্টর-৫

- Residential (In Campus) Hostel
- Easy Installments
- Impeccable Training & Placement record

আসন থাকা অবধি ভর্তি চলবে

Campus : Near Sector V - Saltlake and New Town Bridge, Bus stop - Coal Bhawan.
City Office : 32, Dr. Lal Mohon Bhattacharya Road, Opp. Ramliia Park, Moulali, Kol-14

W : www.bngkolkata.com | E : admin@bngkolkata.com | P : +91 98307 96307

Toll Free No. : 18008911508

FREE International Course

INTERNATIONAL STUDY TOUR

WE WELCOME EDUCATIONAL CONSULTANTS

bindumedia.co.in

গড়ে তুলুন নিজেকে

স্নাতক বা স্নাতকোত্তর স্তরে পড়াশোনা শেষ করেই মনে হয় এবারে একটা চাকরি চাই। কেউ কেউ উচ্চমাধ্যমিক দিয়েই চাকরির জন্য খোঁজখবর শুরু করে। কিন্তু শুধু সিলেবাস ধরে পড়াশোনা করলেই চাকরির বাজারের জন্য সম্পূর্ণ উপযুক্ত হওয়া যায় না। দরকার আরও কিছু। আধুনিক কাজের জগৎ কী চাইছে? কীভাবে নিজেই নিজেকে উপযুক্ত করে গড়ে তুলবেন আধুনিক এই কর্মজগতের জন্য? এই নিয়েই এই বিভাগ। বিভিন্ন নামী সরকারি-বেসরকারি সংস্থার বাস্তব পেশাদাররা জানাচ্ছেন তাঁদের নিজেদের গড়ে ওঠার কথা, পরামর্শ দিচ্ছেন কীভাবে আপনারাও নিজেদের গড়েপটিতে নেবেন দ্রুত বদলাতে থাকা এই কর্মজগতের জন্য।

বড় কোম্পানির বাজারকে চ্যালেঞ্জ করছে ছোট উদ্যোগগুলি



একনবা নিয়োগী
হেড, মডার্ন রিটেল
কামিও ইন্ডিয়া

কোনো সংক্রমণের হার ওঠানোর সঙ্গে আমাদের জীবন এখন অনেকটাই অভ্যস্ত হয়ে গিয়েছে। চাকরির বাজারও খোলা। কর্মী নিয়োগ খেমে নেই। এই সময় কাজ বাছাইয়ে তুলে নেওয়া। এই বাজারে টিকে থাকতে হলে কাজ সম্পর্কিত এতদিনের প্রচলিত ধারণাগুলোকে মাথা থেকে একেবারে বের করে দাও।

করোনা এসে এই ধারণাগুলোকে একেবারে ওলটপালট করে দিয়েছে। বড় কোম্পানির একচেটিয়া বাজারকে রীতিমতো চ্যালেঞ্জ করছে এখনকার ছোট উদ্যোগগুলি। সেশাল মিডিয়ায় ব্যবসা বা কাজ সংক্রান্ত হাজারো বিজ্ঞাপনে অনেকেই বিরক্ত হয়ে যাও টিকিই। কিন্তু অস্বীকার করে লাভ নেই যে, এই ভাবেই একটা নতুন কাজের জগতের দিগন্ত খুলে গিয়েছে। শুধু সেশাল মিডিয়াই নয়, আমাদের চারপাশে তাকালে দেখা যাবে অনেকেই কিছু না কিছু উদ্যোগ নিচ্ছে, কী হবে ভেবে হাত-পা গুটিয়ে বসে থাকছে না। একজন এগোলে সঙ্গে আরও পাঁচ জন থাকছে। ধরা যাক, এক জনের উদ্যোগে পাঁচ জনের দল তৈরি হল। তারা কাজে উন্নতি করল। ফলে আরও কর্মীর প্রয়োজন হল। এই সাধারণ স্তরটাই এখন যথেষ্ট সক্রিয়। বড় সংস্থায় কাজ পেলে যেমন এগিয়ে যাই আমরা, একই ভাবে এই নতুন সংস্থাকলার সঙ্গে কাজ করেও উন্নতির পথেই এগোবে। উচ্চশিক্ষা এবং অনেক দক্ষতা ও অভিজ্ঞতার দাম দেওয়ার মতো পুঁজি এই সব উন্নতি সংস্থায় থাকে না। এই সব সংস্থায় শিক্ষাগত যোগ্যতার থেকে পরিশ্রম করার ক্ষমতাকে গুরুত্ব দেওয়া হয় বেশি। তোমার সততা, পরিশ্রম এবং সময় কটানো দিতে পারছ তাই দেখা হবে। তাই এ ধরনের সংস্থায় কাজের সুযোগ পেলে ছাড়া একেবারেই উচিৎ হবে না।

নিজের চারপাশের খবর রাখো। কেউ জামাকাপড়ের ব্যবসা করছে, কেউ হয়তো রান্না করা খাবারের ব্যবসা শুরু করেছে। তার সঙ্গে কথা বলে কাঁচামাল জোগাড়ের দায়িত্ব নিয়ে নাও। সামান্য অর্থেই রাজি হয়ে যাও প্রথমে। এই কাজকেই তোমার প্রথম চাকরি বলে ধরে নিয়ে মন দিয়ে শেখার চেষ্টা



করো। এখান থেকেই কিন্তু জনপরিচিতি আরেক খাপ বাড়াবে, অন্য কাজের সুযোগ আসবে।

পড়াশোনা সমান তালে চলুক এই পরিহিতিতে, যত দূর সম্ভব। অভিজ্ঞতা, পড়াশোনা এবং পরিশ্রমের অভ্যাস, পরিহিতি অনুকূল হলে ভালো সুযোগের জন্য তোমাকে তৈরি রাখবে।

ভারত একটা বিশাল বাজার। তার চাহিদার গ্রাফ সর্বদাই ঊর্ধ্বমুখী থাকে। ছোট ছোট পরিসরে সেই চাহিদার জোগান দিতে পারলেও যথেষ্ট। তাই শুধু বড় চাকরি হচ্ছে না, পড়া হচ্ছে না— এই সব না ভেবে পরিশ্রম করার জন্য তৈরি হও। পড়াশোনা তো এখন ঘরে বসেই করা যায়। শিক্ষার ভিত শক্ত হতে থাকুক, চাকরিও উন্নতির পথ বরক।

ভারত হেভি ইলেক্ট্রিক্যালসে চাকরি

ইঞ্জিনিয়ার এবং সুপারভাইজার পদে ২২ জনকে নেবে ভারত হেভি ইলেক্ট্রিক্যালস লিমিটেড (ভেল)। নিয়োগ করা হবে ২ বছরের চুক্তিতে। এই নিয়োগের বিজ্ঞপ্তি নম্বর: PSER-01/2021.

সুপারভাইজার: ইঞ্জিনিয়ার: ৭টি। শিক্ষাগত যোগ্যতা: সিলভি ইঞ্জিনিয়ারিংয়ে স্নাতক বা ২ বছরের ইন্সটিটিউটে স্নাতকোত্তর ডিগ্রি কোর্স পাশ বা ডুয়াল ডিগ্রি কোর্স পাশ।

সুপারভাইজার: ১৫টি। শিক্ষাগত যোগ্যতা: অন্তত ৬০ শতাংশ (তফসিলিদের ক্ষেত্রে ৫০ শতাংশ) নম্বর-সহ সিলভি ইঞ্জিনিয়ারিংয়ে ডিপ্লোমা।

সব ক্ষেত্রেই মোট অন্তত ৬০ শতাংশ তফসিলিদের ক্ষেত্রে ৫০ শতাংশ) নম্বর পেয়ে থাকতে হবে এবং সিলভি কাজে ২ বছরের অভিজ্ঞতা থাকতে হবে। পাওয়ার সেক্টরে কাজের অভিজ্ঞতা থাকলে অগ্রাধিকার।

বি ভোক কোর্সে ভর্তির সময়সীমা বাড়ানো হল

নিজস্ব প্রতিনিধি: রাজ্যসভার ডিরেক্টিভ মেমোরিয়াল কলেজে বি ভোক কোর্সে ভর্তির সময়সীমা বাড়ানো হল। উচ্চমাধ্যমিক বা সমতুল পরীক্ষায় উত্তীর্ণ প্রার্থীরা ২৯ সেপ্টেম্বর অবধি সরাসরি অনলাইনে ভর্তি হতে পারবেন, এই ওয়েবসাইটগুলির যে-কোনওটির মাধ্যমে: www.dmc.ac.in, www.dmcibvocacs.in কিংবা dmcadmission.co.in। ভর্তির জন্য বয়সের কোনও বাধানিধেই নেই। বি ভোক গুরুত্বের দিক থেকে বি এ, বি এসসি, বি কম-এর সমতুল। ডিরেক্টিভ মেমোরিয়াল কলেজে যে-কোনো বিষয়ে বি ভোক পড়ানো হয়, তার সবকিছুই পশ্চিমবঙ্গ রাষ্ট্রীয় বিশ্ববিদ্যালয় কর্তৃক অনুমোদিত। ব্যবহারিক শিক্ষা ও দক্ষ কারিগরি যোগ্যতা অর্জনের মাধ্যমে ছাত্রছাত্রীদের বিভিন্ন শিল্পক্ষেত্রে চাকরির উপযোগী করে গড়ে তোলার বি ভোক পাঠ্যক্রমের মূল লক্ষ্য। ডিরেক্টিভ মেমোরিয়াল কলেজে বেসরকারি বি ভোক পড়ানো হয় সেগুলি হল: পাবলিক রিলেশনস ও ইন্টারন্যাশনাল মার্কেটিং, ব্রডকাস্ট জার্নালিজম, প্রিন্টিং আন্ড বুক পাবলিশিং। হাতে-কলমে কাজ শেখার উপযোগী আধুনিক পরিকাঠামো রয়েছে কলেজে। পাঠ্যক্রম তৈরি হয়েছে শিল্পমহল, বিশেষজ্ঞ এবং পেশাদারদের সঙ্গে আলোচনার ভিত্তিতে। ডিগ্রি বি ভোক কোর্সেরই শেষে ইন্টারশিপ ও প্রেসেন্টেশন সুযোগ রয়েছে।

ভর্তির সময় দিতে হবে ৪,৫০০ টাকা। সরকারি ও বেসরকারি স্কলারশিপের সুযোগ পাওয়া যাবে। অনলাইন ভর্তি চলবে। ভর্তির ক্ষেত্রে কোনও অনুবিধার সম্বন্ধীয় হল বা তথ্য জানার থাকলে যোগাযোগ করতে পারেন এই নম্বরগুলিতে: ৯৮৩০৫-৫২৭৭৪, ৯০০০২-২০৩৭৫, ৯৬৭৪৬-৭০৪০৭।

বয়স: ১৯-২০২১ তারিখে ৩৪ বছরের মধ্যে হতে হবে। সংশ্লিষ্ট ক্যাটাগরির প্রার্থীরা নিয়মনুসারে বয়সের ছাড় পাবেন। বেতন: ইঞ্জিনিয়ার পদের ক্ষেত্রে ৭১,০৪০ টাকা এবং সুপারভাইজার পদের ক্ষেত্রে ৩৯,৬৭০ টাকা।

প্রার্থী বাছাই করা হবে পার্সোনাল ইন্টারভিউয়ের মাধ্যমে। অনলাইন দরখাস্ত করতে হবে এই ওয়েবসাইটের মাধ্যমে: <https://careers.bhel.in>। দরখাস্তের শেষ তারিখ ২৪ সেপ্টেম্বর।

ফি বাবদ অনলাইনে স্টেট ব্যাঙ্ক অব ইন্ডিয়া কালেক্টর মাধ্যমে দিতে হবে ২০০ টাকা। এছাড়া ফি জমা দেওয়া যাবে ডিমান্ড ড্রাফটের মাধ্যমে। ড্রাফট 'BHEL, PSER-এর অনুকূলে কলকাতায় প্রদেয় হতে হবে। ড্রাফটের মাধ্যমে দৈনিক প্রতিবন্ধীদের কোনও ফি লাগবে না। ফি জমা দিয়ে পাওয়া রসিদটি রেখে নেবেন। এটি পাঠাতে হবে। অনলাইনে দরখাস্ত সাবমিট করার পর সাবমিট করা দরখাস্তের এক কপি প্রিন্ট আউট নিয়ে নেবেন। এটি পাঠাতে হবে। প্রয়োজনীয় নথিপত্র-সহ দরখাস্তের প্রিন্ট আউট ভরা খামের উপর লিখবেন: "Application for the Post of Engineer (FTA-Civil) or Supervisor (FTA-Civil)". দরখাস্ত ১ নভেম্বরের মধ্যে পৌঁছাতে হবে এই ঠিকানায়: Sr. Deputy General Manager (HR), BHEL, Power Sector Eastern Region, BHEL Bhawan, Plot No. DJ- 9/1, Sector- II, Salt Lake City, Kolkata-700 091. খুঁটানি তথ্যের জন্য দেখুন উপরোক্ত ওয়েবসাইট।

অম্বুজার কারিগরি ও পেশাদারি প্রশিক্ষণ

নিজস্ব প্রতিনিধি: চাকরি ও ব্যবসার উপযোগী বিভিন্ন পেশাদারি ও কারিগরি কোর্সে প্রশিক্ষণ দিচ্ছে অম্বুজা সিমেন্ট ফাউন্ডেশনের প্রতিষ্ঠান ছিল আন্ড এগ্রিগেটরশিপ ডেভেলপমেন্ট ইনস্টিটিউট (সেডি)। অতিমাত্রি পরিহিতিতে অনলাইন ও অফলাইন মাধ্যমে মিলিয়ে রুস করানো হবে। ৩ মাসের প্রশিক্ষণ। প্রশিক্ষণের শেষে পরীক্ষা নেওয়া হয়। পরীক্ষায় সফল শিক্ষার্থীদের সার্টিফিকেট দেওয়া হয়। কোর্সের শেষে সফল শিক্ষার্থীদের বিভিন্ন সংস্থায় গ্রেসেন্টেশন সুযোগ রয়েছে।

প্রশিক্ষণ দেওয়া হবে এই সব কোর্সে: কাস্টমার কেয়ার এনালিসিস, 'স্মার্টফোন রিপেয়ারিং টেকনিশিয়ান, অ্যান্ডিস্ট্যান্ট ও অ্যান্ডভালুড বিউটিশিয়ান, সিউরিং মেশিন অপারেটর এবং অটোমোবাইল টেকনিশিয়ান কোর্স।

শিক্ষাগত যোগ্যতা: অষ্টম শ্রেণি বা সমতুল পাশ। **বয়স:** ২০ থেকে ৩০ বছরের মধ্যে হতে পারে। **ন্যূনতম কোর্স ফি:** ১,০০০ টাকা।

কোর্সে ভর্তির জন্য আবেদনপত্র জমা নেওয়া শুরু হয়েছে। আসনসংখ্যা সীমিত। আগে এলে আগে সুযোগ পদ্ধতিতে ভর্তি নেওয়া হবে।

ভর্তির জন্য যোগাযোগ করতে পারেন এই ঠিকানায়: অম্বুজা সিমেন্ট ফাউন্ডেশন (অম্বুজা সিমেন্ট কারখানার ভিতরে), সাঁকরাইল, ধুলাগড়ি, হাওড়া (সময়: সকাল ৯টা থেকে বিকেল ৬টা)। অথবা ফোন করতে পারেন এই নম্বরে: ৯৯৮০৭-২০৮৩৬/৯৭৪৪৮-০৭৯০০।

নেতাজি সুভাষ মুক্ত বিশ্ববিদ্যালয়ে ডিগ্রি কোর্স

বিভিন্ন বিষয়ের ডিগ্রি কোর্সে ভর্তি নিচ্ছে নেতাজি সুভাষ মুক্ত বিশ্ববিদ্যালয়। বিষয়গুলি হল বাংলা, ইংরেজি, ইতিহাস, পলিটিক্যাল সায়েন্স, সোশিওলজি, পাবলিক অ্যাডমিনিস্ট্রেশন, ফিলিসফি, কেমিস্ট্রি, ম্যাথমেটিক্স, জিওগ্রাফি, জুলজি, বটানি, এডুকেশন, কমার্শ, ইকনমিক্স।

অনলাইনে আবেদন করতে হবে এই ওয়েবসাইটের মাধ্যমে: <http://www.wbnsou.ac.in> অনলাইন আবেদনের শেষ তারিখ ১০ সেপ্টেম্বর। আবেদনের পদ্ধতি-সহ বিস্তারিত তথ্যের জন্য দেখুন উপরোক্ত ওয়েবসাইট।

জি পি বিড়লা স্কলারশিপ ২০২১

২০২১ সালে উচ্চমাধ্যমিক পাশ কিছু ছাত্রছাত্রীকে স্কলারশিপ দেবে জি পি বিড়লা এডুকেশন ফাউন্ডেশন। স্নাতক স্তরে সায়েন্স বা আর্টস বা কমার্শ বা ইঞ্জিনিয়ারিং বা মেডিসিন বা আর্কিটেকচার বা ল বা পেশাদারি বিষয় নিয়ে পড়তে ইচ্ছুকরা আবেদন করতে পারেন।

আবেদনের যোগ্যতা: ওয়েস্ট বেঙ্গল কাউন্সিল অব হায়ার সেকেন্ডারি এডুকেশন বোর্ডের ৮-৫ শতাংশ এবং আই এস সি বা সি বি এস ই বোর্ডের ক্ষেত্রে ৯০ শতাংশ নম্বর-সহ উচ্চমাধ্যমিক পাশ। বার্ষিক পারিবারিক আয় হতে হবে ৩ লাখ টাকার নিচে।

স্কলারশিপের পরিমাণ: বছর প্রতি ৫০,০০০ টাকা। শর্তসাপেক্ষে স্কলারশিপ দেওয়া হবে সর্বাধিক ৪ বছরের জন্য। এ ছাড়াও বইয়ের খরচ বাবদ এককালীন ৭,০০০ টাকা দেওয়া হবে।

প্রার্থীমতাবে বাছাই করা প্রার্থীদের নির্বাচিত করা হবে ইন্টারভিউয়ের মাধ্যমে। আবেদন করতে পারেন অনলাইন-অফলাইন উভয় পদ্ধতিতেই। অফলাইনে আবেদনের ক্ষেত্রে আবেদনের ফর্ম ডাউনলোড করে নেবেন এই ওয়েবসাইটে থেকে: www.gpbirlafoundation.com আবেদনপত্রের নির্দিষ্ট স্থানে প্রার্থীর এক কপি ফটো স্টেট দেবেন। প্রয়োজনীয় নথিপত্র-সহ পূরণ করা আবেদনপত্র ৩০ সেপ্টেম্বরের মধ্যে পৌঁছাতে হবে এই ঠিকানায়: G.P. Birla Educational Foundation, 78, Syed Amir Ali Avenue, Kolkata - 700 019.

অথবা অনলাইন আবেদন করতে পারেন উপরোক্ত ওয়েবসাইটের মাধ্যমে। দরখাস্তের শেষ তারিখ ৩০ সেপ্টেম্বর। দরখাস্তের সময় প্রার্থীর ফটো (৩০ কেবি সাইজের মধ্যে), পারিবারিক বার্ষিক আয়ের প্রমাণপত্র (২ এম বি সাইজের মধ্যে), উচ্চমাধ্যমিকের মার্কশিট (২ এম বি সাইজের মধ্যে), প্রবোজা ক্ষেত্রে প্রতিষ্ঠানে ভর্তির প্রমাণপত্র (২ এম বি সাইজের মধ্যে) স্কান করে আপলোড করতে হবে।

অনলাইন আবেদনের পদ্ধতি-সহ অন্যান্য তথ্যের জন্য দেখুন উপরোক্ত ওয়েবসাইট।

#EDUCATIONBEYONDORDINARY

30 INSTITUTIONS | 140 PROGRAMMES | 37000+ STUDENTS



JIS GROUP
Educational Initiatives

STEP OUT INTO THE WORLD
With WORLD-CLASS EDUCATION

AVAIL WEST BENGAL

STUDENT CREDIT CARD SCHEME

For Details Contact Our Institutes

ADMISSIONS
- OPEN 2021 -

APPLY NOW

www.jisgroup.org

COURSES OFFERED

ENGINEERING & TECHNOLOGY
Ph.D | M.Tech | B.Tech | B.Tech Lateral | Diploma | Diploma Lateral

COMPUTER APPLICATION
MCA | BCA

PHARMACY
Ph.D | M.Pharm | B.Pharm | B.Pharm Lateral | BMLT | D.Pharm

MANAGEMENT
MBA | BBA- Hospital Management | BBA- Digital Marketing

LAW
Ph.D | LLM | LLB | BBA-LLB Integrated

SCIENCE
Ph.D | M.Sc- Physics | Biochemistry | Microbiology | Biotechnology | Geology | Remote Sensing & GIS | Genetics | Medical Biotechnology & Bioinformatics | Polymer Science & Technology | B.Sc (H)- Biochemistry | Microbiology | Biotechnology | Geology | Genetics

AGRICULTURAL SCIENCE
B.Tech (4 Years) | B.Sc (H) (4 Years) [As per ICAR Syllabus]

HOSPITALITY & HOTEL ADMINISTRATION
MBA | B.Sc | BA | Diploma

EDUCATION
Ph.D | MA | B.Ed

OUR INSTITUTIONS

JIS University
86977 43361/62 | www.jisuniversity.ac.in

JIS Institute of Advanced Studies & Research
98743 75544 | www.jisiasr.org

JIS College of Engineering
86977 43363 | www.jiscollage.ac.in

Narula Institute of Technology
89024 98851 | www.nit.ac.in

Guru Nanak Institute of Technology
94320 12881 | www.gnit.ac.in

Sur Tech (Dr. Sudhir Chandra Sur Institute of Technology & Sports Complex)
890249 8852 | www.surtech.edu.in

Guru Nanak Institute of Pharmaceutical Science & Technology
89024 98853 | www.gnipst.ac.in

JIS School of Polytechnic
82407 86831 | www.jissp.ac.in

Guru Nanak Institute of Hotel Management
98361 08964 | www.gnihm.ac.in

Greater Kolkata College of Engineering and Management (JV)
90736 83914/15 | www.gkcem.ac.in

Abacus Institute of Engineering and Management (JV)
90736 83913 | www.abacusinstitute.org

Asansol Engineering College (JV)
90736 83912 | www.aecwb.edu.in

Gargi Memorial Institute of Technology, (JV)
83369 42309 | www.gmitkolkata.org

up to 100%* SCHOLARSHIP AVAILABLE

89% Placement in 2020

267+ Recruiters

HELPDESK

86977 43361
90736 83911

7 Sarat Bose Road, Kolkata - 700 020



চাকৰিৰ পৰীক্ষায় কৰ্মমেষ্টা কোচিং

চাৰ কেন্দ্ৰীয় বাহিনী, সেক্রেট্যৰিয়েট সিকিউৰিটি ফোর্স ও অসম ৰাইফেলসে

২৫২৭১ কনস্টেবল, ৰাইফেলম্যান

নিয়োগ-পৰীক্ষাৰ নমুনা প্ৰশ্নোত্তৰ

General Knowledge and General Awareness

- The Indian Independence League was set up by:
 - Joy Prakash Narayan
 - SM Joshi
 - Ras Behari Bose
 - Aruna Asaf Ali
- 'Kalamkari' is a folk painting of which state?
 - Andhra Pradesh
 - Bihar
 - Punjab
 - Uttar Pradesh
- Which of the following states primarily depends upon the thermal power?
 - Kerala
 - West Bengal
 - Karnataka
 - Tamil Nadu
- National Aquatic Animal of India is:
 - Gangetic Dolphin
 - Olive ridely Turtles
 - Ganges Shark
 - Golden Mahseer
- 'Centre for Earth Science Studies' is located in:
 - Goa
 - Bangladesh
 - Thiruvananthapuram
 - Patna
- The Central Government's exclusive powers are enumerated in the:
 - Concurrent list
 - State list
 - Union list
 - Federal list
- Farade is the unit of:
 - Resistance
 - Conductance
 - Capacitance
 - Inductance
- The Rashtrapati Bhawan was designed by:
 - Edward Stove
 - Le Corbusier
 - Edwin Lutyens
 - Tarun Dutt
- Which National Highway is known as 'Sher Shah Suri Marg'?
 - NH8
 - NH7
 - NH1
 - NH3
- The Minimum wages Act was first passed in India in the year:
 - 1947
 - 1948
 - 1950
 - 1951
- Which among the following bodies regulate Mutual Funds in India?
 - RBI
 - SEBI
 - NABARD
 - AMFI
- Which Five year plan was based upon Mahalanobis Model?
 - First
 - Second
 - Third
 - Fourth
- The film Salaam Bombay is directed by:
 - Ruskin Bond
 - Mira Nair
 - Shyam Benegal
 - Mrinal Sen
- Which State gives Mewar Award?
 - Delhi
 - Punjab
 - Hararyana
 - Rajasthan
- Human rights day is observed on:
 - 10 December
 - 14 December
 - 25 December
 - 28 December
- The name Kunjaurani Devi is associated with:
 - Weight Lifting
 - Target Shooting
 - Athletics
 - Swimming
- Who was called 'flying sikh'?
 - Ajmer Singh
 - Makhan Singh
 - Shamsher Singh
 - Milkha Singh
- Who was the first Captain of Indian Test team?
 - Vijay Hazare
 - C K Naydu
 - Lala Amarnath
 - Vijay Merchant
- The tenure of the Rajya Sabha is:
 - 2 yrs
 - 5 yrs
 - 6 yrs
 - Permanent
- What is a modem connected to?
 - Processor
 - Mother Board
 - Printer
 - Phone line
- Mitochondria is absent in:
 - Fungi
 - Algae
 - Bacteria
 - Yeast
- The main source of national income in India is:
 - Service Sector
 - Agriculture
 - Industrial Sector
 - Trade Sector
- Which river crosses the equator twice?
 - Amazon
 - Congo
 - Nile
 - Orinoco
- Calorimeters are generally made of:
 - Copper
 - Brass
 - Aluminium
 - Zinc
- Which one of the following element is the poorest conductor of heat?
 - Sodium
 - Lead
 - Zinc
 - Mercury

General Intelligence and Reasoning

Direction (26 to 31): Find the related word/letters/number to complete the analogy.

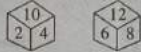
- Carbon : Diamond :: Corundum : ?
 - Garnet
 - Ruby
 - Pukhraj
 - Pearl
- Smoke : Pollution :: War : ?
 - Victory
 - Peace
 - Treaty
 - Destruction
- Ink : Pen :: Blood : ?
 - Accident
 - Doctor
 - Vein
 - Donation
- BOQD : ERTG :: ANPC : ?
 - DQSF
 - FSHU
 - SHFU
 - DSQF
- AFKP : ZUPK :: BGLQ : ?
 - YUQM
 - XURO
 - YXWV
 - YTOJ

31. 182 : ? :: 210 : 380

- 342
- 272
- 240
- 156

Direction (32 to 34): Find out the odd word.

- CINTHOL (b) RIN (c) HAMAM (d) PEARS
- Pen - Ink (b) Brush - Paint (c) Crayon - Chart (d) Pencil - Lead
- Sparrow (b) Kingfisher (c) Crane (d) Humming Bird
- From the given blocks when 10 is at the bottom, which number will be at the top?



- 8
- 12
- 6
- 4

36. X walks Southwards and then turns right, then left and then right. In which direction is moving now?

- South
- North
- West
- South-West

37. Six friends A, B, C, D, E and F are sitting in a row facing East. C is between A and E. B is just to the right of E but left of D. F is not at the right end. Who is at the left end?

- A
- F
- C
- D

Direction (38 to 40): Find the missing number.

48	12	64	16	?	15
25	5	81	9	49	7

- 75
- 60
- 30
- 90

3	6	2
4	27	5
2	5	37

- 37
- 45
- 47
- 57

2	3	5	1	4	3
30	5	-5	-1	7	-1

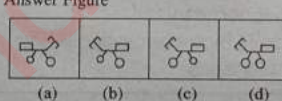
- 7
- 12
- 12
- 9

Direction: If a mirror is placed on the line MN then when of the answer figures is the correct image of the given question figure?

41. Question Figure



Answer Figure



42. Direction: Arrange the following words according to dictionary arrangement.

- Wound
- Writer
- Whiter
- Worst
- Worked

43. Direction: One of which word cannot be formed by using the letters of the given word. Find that word.

LIBERATIONIST

- LIBERAL
- RELATION
- SERIAL
- BITTERN

44. ROSE = TQUG, BISCUIT = ?

- CJTDVJU
- DKVEWKV
- DKUEWKY
- DKUEWKV

Direction (45 to 47): Complete the series.

- 2460, 3570, 4680, ?
- 8640, 5670, 5970, 5790
- 7714, 7916, 8109, ?
- 8311, 8312, 8509, 8515

47. ac _ ga _ eg _ ce _

- dbag
- ecag
- deag
- cbdg

48. From the given answer figures select the one in which the question figures is hidden/embedded.

Question Figure



Answer Figure



ৰাজ্য পুলিছে ৮৬৩২ কনস্টেবল

নিয়োগ-পৰীক্ষাৰ নমুনা প্ৰশ্নোত্তৰ

- কৰে পালিত হ'ল 'World Refugee Day'?
 - 20 জুন
 - 20 মে
 - 20 জানুৱাৰি
 - 20 মাৰ্চ
- নীচৰ কে 'One plus' কোম্পানিৰ ব্ৰাণ্ড আৰ্থসেডৰ হিসেবে নিযুক্ত হ'লেন?
 - শৰ্টান ডেভেলপৰ
 - সৌৱত গাৰ্জলি
 - আসপ্ৰিত বৃন্দা
 - কেউই নন
- 'Pitha on Wheels' লক্ষ কৰল:
 - ওড়িশা
 - পাঞ্জাব
 - কেৰল
 - কৰ্ণাটক
- হাটৰ কমিশন গঠন কৰেছিলেন?
 - লৰ্ড লিটন
 - লৰ্ড ৰায়েল
 - লৰ্ড ডাফৰিন
 - লৰ্ড ৱিলিয়াম
- বাৰাণসী কোন নদীৰ তীৰে অৱস্থিত?
 - কাৱেৰী
 - মহানন্দা
 - গোমতী
 - গঙ্গা
- Indian National Association গঠন কৰেন:
 - তিলক
 - গান্ধীজি
 - সুভ্ৰেননাথ ব্যানার্জি
 - কেউই নন
- কাপড় কাচা সোঁতাৰ ৰাসায়নিক নাম:
 - সোডিয়াম কাৰ্বনেট
 - সোডিয়াম বাই-কাৰ্বনেট
 - সোডিয়াম ক্লোৰাইড
 - কেন-ওটাই নয়
- বস্ত তৰ্বনে সাহায্য কৰে কোন ভিটামিন?
 - ভিটামিন-B
 - ভিটামিন-C
 - ভিটামিন-K
 - ভিটামিন-A
- মাইটোকণ্ড্ৰিয়াৰ কোষায় ATP-ৰ সংশ্লেষ হয়?
 - অন্তৰ্জক্ৰিস্টি অৱস্থানে
 - বহিঃপৰ্দায়
 - মাট্ৰিক্স
 - ক্ৰিস্টিমে
- কোন কোষ দিয়ে তৰ্কনাহি গঠিত হয়?
 - কণ্ড্ৰোসাইট
 - জক্ৰিট'প্লাষ্ট
 - পিনাকোসাইট
 - মাষ্ট'কোষ
- কোষায় ইউৰিয়া তৈৰি হয়?
 - ফুফুস
 - হৃৎ
 - বৃক
 - কেন-ওটাই নয়
- আয়ামিবাৰ গমন অঙ্গৰ নাম:
 - সিটা
 - সিলিয়া
 - ট্ৰায়েজেল
 - সিউডোপোডিয়া
- নীচৰ কোন উপাদানটি বস্ততৰ্বনে খুৰই গুৰুত্বপূৰ্ণ ভূমিকা গ্ৰহণ কৰে:
 - ৰক্তৰস
 - হেপাৰিন
 - অনুচক্ৰিকা
 - শ্বেতৰক্ত কণিকা
- ৰক্তচাপ নিয়ন্ত্ৰণ কৰে কোন হৰমোন:
 - স্ট্ৰেপ্ট'কোৰিন
 - ইন্সুলিন
 - ভেলোপ্ৰেচিন
 - অক্সিটোচিন
- কোন ধৰনেৰে ৰাসায়নিক কামেৰাৰ ক্ৰিমশ্ব থাকে?
 - সিলভাৰ সায়ানাইড
 - সিলভাৰ নাইট্ৰেট
 - সিলভাৰ ক্লোৰাইড
 - সিলভাৰ ব্ৰোমাইড
- দন্ত চিকিৎসকৰা বাবুহাৰ কৰেন:
 - উল্ল অয়না
 - অবতল অয়না
 - সমতল অয়না
 - বিশেষ ধৰনেৰে অয়না
- যে পদ্ধতিতে এল পি জি সিলভাৰ হাতত গ্যাস মুক্ত হয় তাকে বলে:
 - প্ৰেচাৰ
 - ডিফিউচন
 - ভেলিউশন
 - এফিউচন
- খাম, লালা এবং অক্ষতে লাইসোজেন নামে এক উৎসেচক থাকে বা ধৰণ কৰে:
 - ভাইৰাস
 - ব্যাকটেরিয়া
 - প্ৰোটোজোয়া
 - ভাইৰাস
- 1946 সালে কোন কমিশন ভাৰতে আৰে?
 - সাইমন কমিশন
 - হাটৰ কমিশন
 - কাৰ্বনেট মিশন
 - ক্ৰিপস মিশন
- ভাৰতৰ টকা পূৰ্ণ পৰিবৰ্তনযোগ্য কোন ক্ষেত্ৰে?
 - ফ্ৰেইড আকাউন্ট
 - কাৰেণ্ট আকাউন্ট
 - ক্যাপিটাল আকাউন্ট
 - কেন-ওটাই নয়
- বালগন্ধাৰ তিলক কত সালে 'কৰ দেব না' অভিনয় কৰেছিলেন?
 - 1898
 - 1899
 - 1895
 - 1896
- কোন মামলায় ভগৎ সিংহৰে ধৰ্মি হয়?
 - মণিকতলা বোমা মামলা
 - লাহোৰে যত্নম মামলা
 - দিল্লি যত্নম মামলা
 - ওপৰে কোন-ওটাই নয়
- নিজৰে বন্ধুৰ জন্মায় ব্ৰিটিশৰে হাতে, বৰা পড়েছিলেন সিপাহি বিদ্ৰোহেৰে কোন নেতা এবং ব্ৰিটিশৰা তাকে মৃত্যুদণ্ড দিয়েছিল?
 - বাহাদুৰ খান
 - নানাসাহেব
 - তাহিয়া টোপি
 - কুনওয়ার সিং
- কে পাকিস্তান প্ৰস্তাব দিয়েছিলেন?
 - মহম্মদ আলি জিন্না
 - লিলাকত হোসেন
 - সৈকত আলি
 - চৌধুৰি ৰহমত আলি
- ভাৰতৰ জাতীয় কংগ্ৰেছেৰে প্ৰথম মুসলিম সভাপতি কে ছিলেন?
 - বদৰুদ্দিন তায়েবজি
 - মৌলানা আবুল কালাম আজাদ
 - মহম্মদ আলি জিন্না
 - মহম্মদ ইকবাল
- আত্মীয় সভা প্ৰতিষ্ঠিত কৰেন কে?
 - বিপিনচন্দ্ৰ পাল
 - দয়ানাম সৰস্বতী
 - ৰাজা ৰামমোহন ৰায়
 - ৰবীন্দ্ৰনাথ ঠাকুৰ
- কৰে থেকে 'শকাব্দ' গণনা কৰা হয়?
 - 78 খ্ৰিস্টাব্দে
 - 77 খ্ৰিস্টাব্দে
 - 78 খ্ৰিস্টপূৰ্বাব্দে
 - 76 খ্ৰিস্টাব্দে
- জিঞ্জিয়া কৰেৰে অৱলম্বিত কৰেন কোন সম্ৰাট?
 - শেৰশাহ
 - আলাউদ্দিন খলজি
 - বলবন
 - আকবৰ
- 'ইনকিলাব জিন্দাবাদ'-কে এই শ্লোগান দিয়েছিলেন?
 - লালুপত ৰায়
 - ইকবাল
 - সুভাষচন্দ্ৰ বসু
 - ভগৎ সিং
- কে প্ৰতিষ্ঠা কৰেন 'অভিনব ভাৰত'?
 - লালা হৰদয়াল
 - ভগৎ সিং
 - বিপিনচন্দ্ৰ পাল
 - বিনায়ক সাভাৰকাৰ
- সিনেমাৰ পৰ্দা অমসৃণ হওয়ার কাৰণ:
 - নিয়মিত প্ৰতিফলনেৰে জন্মে
 - বিক্ষিপ্ত প্ৰতিফলনেৰে জন্মে
 - নিয়মিত ও বিক্ষিপ্ত উভয় প্ৰতিফলনেৰে জন্মে
 - আভাস্তৰীয় পূৰ্ণ প্ৰতিফলনেৰে জন্মে
- কে কোষ আবিষ্কাৰ কৰেন?
 - ৰবাৰ্ট ব্ৰাউন
 - পাৰকিন্সন
 - ট্ৰাকমান
 - ৰবাৰ্ট হুক
- ভাৰতৰ কোন স্থানে 'বোগ জলপ্ৰপাত' আছে?
 - দাৰ্জিলিং
 - মহীশূৰ
 - হায়দাবাদ
 - কাডব্ৰগ
- কোন জেলায় শুভনিয়া পাহাড় রয়েছে?
 - অসম
 - আৰুণাচল প্ৰদেশ
 - মিজোৰাম
 - নাগাল্যান্ড

চাকরির পরীক্ষায় বঙ্গবন্ধু কোচিং

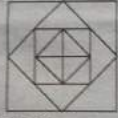
চার কেন্দ্রীয় বাহিনীতে

২৫২৭১ কনস্টেবল, রাইফেলম্যান
নিয়োগ-পরীক্ষার নমুনা প্রশ্নোত্তর

দেশের পাতার পর

49. How many Squares are there in this figure?

Question figure



(a) 19 (b) 7 (c) 17 (d) 21

50. Pointing to Kapil Shilpa Said, His mother's brother is the father of my son Ashish. How is Kapil related to Shilpa?

(a) Sister-in-law (b) Nephew (c) Niece (d) Aunt

Elementary Mathematics

51. The L.C.M. of two numbers is 2310 and their H.C.F is 30. If one of these numbers is 210, the second number is:

(a) 330 (b) 1470 (c) 2100 (d) 16170

52. The value of $\frac{(0.09)^2 - (0.03)^2}{0.09 + 0.03}$ is:

(a) 0.012 (b) 0.06 (c) 0.12 (d) 0.6

53. $999\frac{1}{7} + 999\frac{2}{7} + 999\frac{3}{7} + 999\frac{4}{7} + 999\frac{5}{7} + 999\frac{6}{7} = ?$

(a) 2997 (b) 5979 (c) 5997 (d) 5994

54. The value of $\sqrt{5 + \sqrt{11 + \sqrt{19 + \sqrt{29 + \sqrt{99}}}}}$ is:

(a) 3 (b) 5 (c) 7 (d) 9

55. Three years ago the average age of A and B was 18 yrs. with C joining them now, the average becomes 22 yrs. How old is C now?

(a) 24 yrs (b) 27 yrs (c) 28 yrs (d) 30 yrs

56. The ratio of a man's age to his son's age is 4 : 1. The product of their ages is 196. The ratio of their ages after 5 yrs will be:

(a) 3 : 1 (b) 10 : 3 (c) 11 : 4 (d) 14 : 5

57. Two numbers are respectively 20% and 50% nine than a third number. These two numbers are in the ratio:

(a) 2 : 5 (b) 4 : 5 (c) 6 : 7 (d) 3 : 5

58. A radio is sold for Rs. 990 at a profit of 10%. What would have been the gain or loss percent, had it been sold for Rs. 890?

(a) loss 10% (b) gain $1\frac{1}{9}\%$ (c) loss $1\frac{1}{9}\%$ (d) loss 1%

59. If 15% of A = 20% of B, then A : B = ?

(a) 3 : 4 (b) 4 : 3 (c) 17 : 16 (d) 16 : 17

60. A and B started a Business with initial investments in the ratio 12 : 11 and their annual profits were in the ratio 4 : 1. If A invested the money for 11 months, B invested the money for:

(a) 3 months (b) 4 months (c) 5 months (d) 7 months

61. 3 men and 5 women can finish a piece of work in 12 days. How long will 6 men and 5 women take to finish the work?

(a) 4 days (b) 10 days (c) 15 days (d) 20 days

62. A can do $\frac{1}{3}$ of a work in 5 days and B can do $\frac{2}{5}$ of the work in 10 days. In how many days both A and B together can do the work?

(a) $7\frac{3}{4}$ (b) $8\frac{4}{5}$ (c) $9\frac{3}{5}$ (d) 10

63. If two pipes function simultaneously, the reservoir will be filled in 12 hrs. one pipe fills the reservoir 10 hrs. faster than the other. How many hours does the faster pipe take to fill the reservoir?

(a) 25 hrs. (b) 28 hrs. (c) 30 hrs. (d) 35 hrs.

64. A constable is 114m behind a thief. The constable runs 21m and the thief 15m in a minute. In what time will the constable catch the thief?

(a) 16 minute (b) 17 minute (c) 18 minute (d) 19 minute

65. In what ratio must a grocer mix teas worth Rs. 60 a kg and Rs. 65 a kg so that by selling the mixture at Rs. 68.20 a kg. he may gain 10%?

(a) 3 : 2 (b) 3 : 4 (c) 3 : 5 (d) 4 : 5

66. A certain sum is invested on simple interest. If it trebles in 10 yrs. what is the rate of interest?

(a) 18% p.a (b) 20% p.a (c) 22% p.a (d) 25% p.a

67. $(\tan\theta + \cot\theta) = 5$, then $(\tan^2\theta + \cot^2\theta) = ?$

(a) 25 (b) 27 (c) 23 (d) 24

68. $\frac{\cos 60^\circ + \sin 60^\circ}{\cos 60^\circ - \sin 60^\circ} = ?$

(a) $-\sqrt{3}+2$ (b) -1 (c) $\sqrt{3}-2$ (d) $\sqrt{3}+2$

69. $\sin 60^\circ \cos 30^\circ + \cos 60^\circ \sin 30^\circ = ?$

(a) $\frac{3}{2}$ (b) $\frac{5}{2}$ (c) 1 (d) 2

70. The perimeter of a rectangle is 60m. If its length is twice its breadth, then its area is:

(a) 160m² (b) 180m² (c) 200m² (d) 220m²

71. The difference between the simple interest and the compound interest on Rs. 5000 at 10% p.a. for 3 yrs is:

(a) Rs. 145 (b) Rs. 150 (c) Rs. 155 (d) Rs. 180

72. $\frac{147 \times 147 + 147 \times 143 + 143 \times 143}{147 \times 147 \times 147 - 143 \times 143 \times 143}$

(a) $\frac{1}{290}$ (b) 290 (c) $\frac{1}{4}$ (d) 4

73. If $a + b + c = 2s$, then $((s-a)^2 + (s-b)^2 + (s-c)^2 + s^2) = ?$

(a) $(s^2 - a^2 - b^2 - c^2)$ (b) $(s^2 + a^2 + b^2 + c^2)$ (c) $(a^2 + b^2 + c^2)$ (d) $(4s^2 - a^2 - b^2 - c^2)$

74. $\left(2 - \frac{1}{3}\right) \left(2 - \frac{3}{5}\right) \left(2 - \frac{5}{7}\right) \dots \left(2 - \frac{999}{1001}\right) = ?$

(a) $\frac{999}{1001}$ (b) $\frac{1003}{3}$ (c) $\frac{1001}{3}$ (d) None of these

75. Which of the following fractions is greater than $\frac{3}{4}$ but less than $\frac{5}{6}$?

(a) $\frac{1}{2}$ (b) $\frac{2}{3}$ (c) $\frac{4}{5}$ (d) $\frac{9}{10}$

English

Direction (76 to 78): Choose the correct prepositions to fill in the blanks.

76. The woman is standing _____ the door.

(a) by (b) on (c) at (d) in

77. The father was vexed _____ the son.

(a) with (b) about (c) to (d) in

78. Shylock nurtured a deep-rooted hatred _____ Antonio.

(a) fer (b) to (c) against (d) about

Direction (79 to 81): Choose the correct alternative from the ones supplied.

79. Detect where the adjective 'Public' is used in a derogatory sense:

(a) Public house (b) Public woman (c) Public Servant (d) Public Speech

80. A duck is a bird, but to duck is:

(a) to feel shy (b) to refuse (c) to abandon (d) to avoid

81. 'Concrete' is a substance used to erect buildings but 'Concrete' can also mean:

(a) Solid face (b) Reason (c) Argument (d) Essay

82. Insert correct phrasal verb.

Monalisa was _____ (Depressed) by her failure.

(a) cast out (b) cast about (c) cast down (d) cast aside

83. Choose the word opposite in meaning to the word underlined below.

Feud.

(a) Quarrel (b) Cruel (c) Affection (d) Fraternity

84. The study of the origin, evolution and eventual fate of universe:

(a) cosmography (b) cosmology (c) cosmic (d) None

85. Sudden surprise may be expressed by the following interjections.

(a) Hmmm! (b) Bravo! (c) Ahh! (d) Bingo!

Direction (86 to 89): In these questions choose the word similar in meaning to the word given.

86. Concealed.

(a) Covered (b) Closed (c) Sealed (d) Hidden

87. Relish.

(a) Realise (b) Taste (c) Enjoy (d) Reveal

88. Acute.

(a) Dull (b) Drowsy (c) Unpleasant (d) Sharp

89. A soporific speech would tend to

(a) Prone to sleep (b) Stimulate action (c) appeal primarily to emotions (d) Be incomprehensible

Direction (90 to 94): Choose the word opposite in meaning to the underlined word.

90. The hubbub in the cities makes one tired and irritable.

(a) roar (b) quiet (c) disorder (d) disturbance

91. His conduct had always been licentious.

(a) controlled (b) uncontrolled (c) illegal (d) unofficial

Direction (92 to 94): Select the correct meanings of the idioms underlined below.

92. In trying to climb the tree he came a cropper.

(a) Became calm (b) was enthusiastic (c) fell heavily (d) became afraid

93. He came off with flying colours is the contest.

(a) won (b) was defeated (c) felt disappointed (d) None of these

94. He carried the day against all opposition.

(a) surrendered (b) felt uneasy (c) won (d) became defeated

95. Complete the following proverbs with words given below:

Don't Judge a book by its:

(a) contents (b) cover (c) words (d) story

এরপর বাছুরের পাতার

রাজ্য পুলিশে ৮৬৩২ কনস্টেবল

নিয়োগ-পরীক্ষার নমুনা প্রশ্নোত্তর

দেশের পাতার পর

(a) বীরভূম (b) বাঁকুড়া (c) পুকুরিয়া (d) বর্ধমান

35. কে রচনা করেছেন 'লাইফ ডিভাইন'?

(a) কেশবচন্দ্র সেন (b) স্বামী বিবেকানন্দ (c) শ্রী অরবিন্দ ঘোষ (d) নিবেদিতা

36. বঙ্গভঙ্গ করে রদ হয়?

(a) 1909 (b) 1911 (c) 1905 (d) 1906

37. 'We shall make the settled fact unsettled' - কে বলেছিলেন?

(a) তিলক (b) লর্ড কার্জন (c) গান্ধীজি (d) সুরেন্দ্রনাথ বন্দ্যোপাধ্যায়

38. ভারতের জাতীয় কংগ্রেসের দ্বিতীয় অধিবেশনে কে সভাপতি ছিলেন?

(a) বঙ্গকবিদীন তায়েবজি (b) ফিরোজ শাহ মেহতাব (c) দাদাভাই নৌরজি (d) উমেশচন্দ্র বন্দ্যোপাধ্যায়

39. গদ্যের পাঠি কোথায় প্রতিষ্ঠিত হয়?

(a) গুয়াশিয়টিন (b) অমৃতসর (c) সানফ্রান্সিসকো (d) ল্যাংগের

40. কত সালে লখনউ চুক্তি স্বাক্ষরিত হয়?

(a) 1908 (b) 1917 (c) 1918 (d) 1916

41. মুদ্রাস্ফীতি কাসের পক্ষে সবচেয়ে বেশি লাজজনক?

(a) স্বল্পদাতা (b) শ্রমিক শ্রেণি (c) বেতনভুক্ত মানুষ (d) ঋণগ্রহীতা

42. শীতের কোনটি মৌলিক অধিকার নয়?

এরপর বাছুরের পাতার

পাবনা ইলেক্ট্রিক্যালস লিমিটেড
BHARAT HEAVY ELECTRICALS LIMITED
(পাবনা সরকারি কাণ্ড কারখানা / A Government of India Undertaking)

পাবনা সেক্টর পূর্ব ধৌর / Power Sector Eastern Region
ফ্ল্যাট নং স্ট্রীট-৭/১ সেক্টর II ফ্লাট নং সিটি কলকাতা-700091
Plot No. DJ-9/1, Sector-II, Salt Lake City, Kolkata - 700091

REQUIRES
EXPERIENCED GRADUATE ENGINEERS & DIPLOMA HOLDERS (CIVIL)
for Appointment on Fixed Tenure Basis for two years at various power project sites.

For details visit websites:-
<https://pser.bhel.com> or <https://careers.bhel.in>

দামোদর ডালি কর্পোরেশন
DAMODAR VALLEY CORPORATION
ডিভিসি টাওয়ার, ডিআইপি রোড, কলকাতা-700054
DVC Towers, VIP Road, Kolkata 700054

ওয়াক-ইন-ইন্টারভিউ
পরিচালনা নং/2021/02

দামোদর ডালি কর্পোরেশন (ডিভিসি) সমগ্র পশ্চিমবঙ্গ এবং আড়খণ্ডে অবস্থিত ডিভিসি 'বি' বিভাগ প্রায়টসমূহ/স্টেশনসমূহে হসপিটাল এবং ডিসপেনসারির জন্য চুক্তির ভিত্তিতে ৪৬ জন জেনারেল ডিভিটি মেডিকেল অফিসার (জিডিএমও) প্রয়োজন। স্থায়ী বেতন-৪3500/- প্রতি মাসে। আগ্রহী প্রার্থীরা ডিভিসি'র ওয়েবসাইট www.dvc.gov.in (Careers->Recruitment Notices)-এ 14/09/2021 থেকে বিশদ বিজ্ঞাপন অনুযায়ী তারিখ এবং স্থানে শব্দোপত্র / প্রাথমিক সাক্ষাৎ সহ ওয়াক-ইন-ইন্টারভিউতে অধিভুক্ততা এবং যোগাযোগের পূর্বসংস্থানে আবেদন করতে পারেন।

এলেক্ট্রিক্যাল ডিভিসি (এইচআর) ডিভিসি'র তরফে

INF/62/B/Recr./21-22

ABS Academy....
Durgapur
Affiliated to MAKAUT, WBSC & VE & SD, WBUTTEPA, WBBPE
Approved by AICTE, NCTE

Courses
HEALTH SCIENCE
M. Optom., B. Optom., BMLT,
BBA (Hospital Management)
MANAGEMENT
MBA, BBA, BCA
POLYTECHNIC
ME, EE, CE, CST, Mining Engg
EDUCATION
M.Ed, B.Ed, D.El.Ed

SAGARBHANGA, DURGAPUR 713211, 98434789201 / 02 / 05 / 29, 9474422222
info@absacademy.com, www.absacademy.com

চাকরির পরীক্ষায় কর্মক্ষেত্র কোচিং

চার কেন্দ্রীয় বাহিনীতে

২৫২৭১ কনস্টেবল, রাইফেলম্যান নিয়োগ-পরীক্ষার নমুনা প্রশ্নোত্তর

এগারোর পাতার পর

96. 'To refuse' is to deny but when used as a noun.

The word can mean:

(a) garbage (b) dust (c) prohibition (d) fuel

97. A day in winter is cold but 'to turn a cold shoulder' to a person is to:

(a) persuade him (b) ignore him (c) approach him (d) hurt him

Direction (98 to 100): Use suitable auxiliary verb in the following sentence.

98. _____ we use the phone?

(a) May (b) Shall (c) Will (d) Would

99. Do you think I _____ take a break now?

(a) would (b) must (c) might (d) None of these

100. You _____ not work this Saturday.

(a) Must (b) Need (c) Can (d) None of these

Answers

- 1(c), 2(a), 3(b), 4(a), 5(c), 6(c), 7(c), 8(c), 9(c), 10(b), 11(b), 12(b), 13(b), 14(d), 15(a), 16(a), 17(d), 18(b), 19(c), 20(d), 21(c), 22(a), 23(b), 24(a), 25(b), 26(b), 27(d), 28(c), 29(a), 30(d), 31(a), 32(b), 33(a), 34(a), 35(b), 36(c), 37(b), 38(b), 39(d), 40(b), 41(b), 42(c), 43(a), 44(d), 45(d) 46(a), 47(b), 48(b), 49(b), 50(b), 51(a), 52(b), 53(c), 54(a), 55(a), 56(c), 57(b), 58(c), 59(b), 60(a), 61(a), 62(c), 63(c), 64(d), 65(a), 66(b), 67(c), 68(a), 69(c), 70(c), 71(c), 72(c), 73(c), 74(b), 75(c), 76(c), 77(a), 78(c), 79(b), 80(d), 81(a), 82(c), 83(d), 84(b), 85(d), 86(d), 87(c), 88(d), 89(a), 90(b), 91(a), 92(c), 93(a), 94(c), 95(b), 96(a), 97(b), 98(a), 99(c), 100(b).

Solutions

Direction (26 to 31):

26(b): Diamond is a transparent precious stone of pure carbon.

Similarly corundum is equivalent to Ruby.

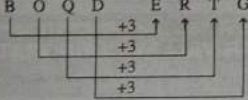
27(d): Smoke leads to pollution

Similarly, war leads to destruction.

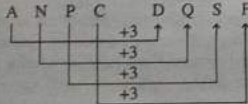
28(c): Pen is filled with ink

Similarly, Vein is filled with blood.

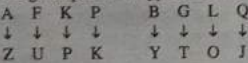
29(a): 2 15 17 4 5 18 20 7



Similarly 1 14 16 3 4 17 19 6



30(d): The given pair is of opposite letters



31(a): $182 = (13)^2 + 13$

$(18)^2 + 18 = 342, 210 = (14)^2 + 14, 380 = (19)^2 + 19$

Direction (32 to 34):

32(b): Except Rin, all others are bathing Soap. Rin is a detergent bar used for cleaning cloths.


33(a): Inks is filled in the pen. Brush is used with paint.

A Pencil contains lead. Caryon is used for colouring.

34(a): Except Sparrow, all others have long and sharp beak.


35(b): From the two views of Blocks it is clear that when 10 is at the bottom, number 12 will be at the top.

36(c):



Now, he is moving towards West.

37(b):



Direction (38 to 40):

38(b): In first figure = $5^2 = 25$

$12 \times 4 = 48$

In 2nd figure $9^2 = 81$

$16 \times 4 = 64$

In 3rd figure $7^2 = 49$

$15 \times 4 = 60$

39(d): $\frac{4^2 + 3^2 + 5^2 + 2^2}{2} = 27$

$\frac{5^2 + 6^2 + 2^2 + 9^2}{2} = 37, \frac{5^2 + 2^2 + 2^2 + 9^2}{2} = 57$

40(b): In first figure = $2 \times 3 \times 5 = 30$

In 2nd figure = $5 \times 1 \times -1 = -5$

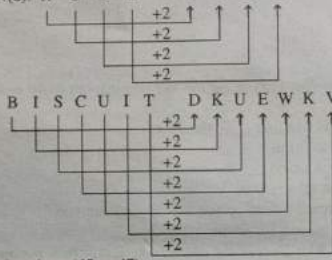
In 3rd figure = $4 \times 3 \times -1 = -12$

41(b):



43(a): There is only one 'L' in the keyword while there are two Ls in the word LIBERAL.

44(d): R O S E T O U G



Directions (45 to 47):

45(d): The given number is based on the following pattern.

$24 + 11 = 35$ and $60 + 10 = 70$

$35 + 11 = 46$ and $70 + 10 = 80$

$46 + 11 = 57$ and $80 + 10 = 90$

∴ The number 5790 would come in place of question mark.

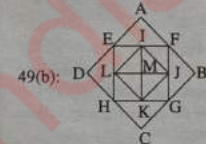
46(a): $77 + 2 = 79$ and $14 + 2 = 16$

Similarly, $81 + 2 = 83$ and $09 + 2 = 11$

∴ ? = 8311.

47(b): a c e g / a c e g / a c e g

48(b):



The squares are EFGH, EIML, IFJM, MJGK, LMKH, ABCD, IJKL.

50(b): Father of Shilpa's son = Shilpa's Husband.

So Kapil is the son of Sister of Shilpa's husband.

Kapil is Shilpa's nephew.

51(a): Let the second number be x

Then $2310 \times 30 = 210 \times x \Rightarrow x = \frac{2310 \times 30}{210} = 330$.

52(b): Given Exp. = $\frac{(0.09 + 0.03)(0.09)}{(0.09 + 0.03)} = (0.09 - 0.03) = 0.06$.

53(c): Given Exp.

$= (999 \times 6) + \left(\frac{1}{7} + \frac{2}{7} + \frac{3}{7} + \frac{4}{7} + \frac{5}{7} + \frac{6}{7}\right)$
 $= 5994 + \frac{(1+2+3+4+5+6)}{7} = 5994 + \frac{21}{7} = 5994 + 3 = 5997$.

54(a): Given Exp. = $\sqrt{5 + \sqrt{11 + \sqrt{19 + \sqrt{29 + 7}}}}$
 $= \sqrt{5 + \sqrt{11 + \sqrt{19 + 6}}} = \sqrt{5 + \sqrt{11 + 5}}$
 $= \sqrt{5 + \sqrt{16}} = \sqrt{5 + 4} = \sqrt{9} = 3$.

55(a): Sum of the ages of A and B, 3 yrs. ago = (18×2) yrs = 36 yrs

Sum of the present ages of A and B = $(36 + 3 \times 2)$ yrs = 42 yrs

Sum of the present ages of A, B and C = (22×3) = 66 yrs

∴ C's present age = $(66 - 42)$ yrs. = 24 yrs.

56(c): Let man's age be 4x years and Son's age be x years.

$4x \times x = 196 \Rightarrow 4x^2 = 196 \Rightarrow x^2 = 49 \therefore x = 7$

এরপর তেরোর পাতায়

রাজ্য পুলিশে ৮৬৩২ কনস্টেবল

নিয়োগ-পরীক্ষার নমুনা প্রশ্নোত্তর

এগারোর পাতার পর

(a) সম্পত্তির অধিকার (b) বাক স্বাধীনতার অধিকার (c) সংবিধানের প্রতিকারের অধিকার (d) কোনওটিই নয়

43. ভারতের কোন রাজ্যের দুটি রাজধানী?

(a) উত্তরপ্রদেশ (b) ছত্তিশগড় ও কাশ্মীর (c) হিমাচল প্রদেশ (d) বিহার

44. ভারত আক্ষরমলে ব্যবহারকে আমন্ত্রণ কে করেছিলেন?

(a) লোলত খাঁ লোদি (b) শের খাঁ (c) ইব্রাহিম লোদি (d) সিকান্দর লোদি

45. নীচের মধ্যে কে দীন-ই-ইলাহী-র সদস্য হন?

(a) রাজা বীরবল (b) তানসেন (c) টোডরমল (d) রাজা মান সিং

46. ঐতিহাসিক সোসাইটির পতন হয় কত সালে?

(a) 1796 (b) 1785 (c) 1798 (d) 1784

47. টিপু র চূড়ান্ত পরাজয় ঘটেছিল কার হাতে?

(a) লর্ড ডালহৌসি (b) জন শোর (c) লর্ড কর্নওয়ালিস (d) লর্ড ওয়েলেসলি

48. কে 'স্বতন্ত্রিলোপ নীতি' প্রবর্তন করেছেন?

(a) লর্ড ক্যানিং (b) লর্ড ওয়েলেসলি (c) লর্ড লিনলিথগো (d) লর্ড ডালহৌসি

49. পদর পাটি কাকে মারতে চেয়েছিল?

(a) নর্থব্রুক (b) কিসেলোর্ড (c) টোগার্ট (d) হার্ডিজ

50. 'Poverty And Unbritish Rule in India' বইটির রচয়িতা কে?

(a) মিরজালাহ মেহতা (b) অরবিন্দ ঘোষ (c) সুরেন্দ্রনাথ ব্যানার্জি (d) দাদাভাই নৌরজি

51. সাতটি পর পর সংখ্যার যোগফল 181, বৃহত্তম সংখ্যাটি হল:

(a) 32 (b) 31 (c) 30 (d) 29

52. রাম একই টাকায় দুটি কামেরা বিক্রি করল। একটিতে তার 20% লাভ এবং অন্যটিতে তার 20% ক্ষতি হয়। তার শতকরা কত লাভ বা ক্ষতি হয়?

(a) 4% লাভ (b) 4% ক্ষতি (c) 1% লাভ (d) 1% ক্ষতি

53. $0.02 = (?)\%$

(a) 2 (b) .2 (c) .02 (d) 3

54. $\frac{1}{3}\%$ কে ডগ্মাশে পরিণত করলে হয়:

(a) $\frac{1}{12}$ (b) $\frac{3}{17}$ (c) $\frac{25}{4}$ (d) $\frac{1}{4}$

55. রাম একটি চশমা 150 টাকায় বিক্রয় করলে 25% ক্ষতি হয়। ওই চশমার ক্রয়মূল্য:

(a) 300 টাকা (b) 240 টাকা (c) 270 টাকা (d) 200 টাকা

56. একটি বালতি 425 টাকায় বিক্রয় করলে যা লাভ হয় 355 টাকায় বিক্রয় করলে সমপরিমাণ ক্ষতি হয়। চশমার ক্রয়মূল্য:

(a) 290 টাকা (b) 390 টাকা (c) 405 টাকা (d) 410 টাকা

57. দুটি সংখ্যা যথাক্রমে তৃতীয় সংখ্যার 20% ও 25% কম। তবে প্রথম সংখ্যাটি দ্বিতীয় সংখ্যাটির কত%?

(a) 60% (b) 70% (c) 80% (d) 85%

58. চিনির দাম 20% বৃদ্ধি পেলে মনি চিনির ব্যবহার 20% কমিয়ে দিল। এতে খরচের ওপর কী প্রভাব পড়ল?

(a) 4% হ্রাস (b) 4% বৃদ্ধি (c) 5% হ্রাস (d) 5% বৃদ্ধি

59. টাকায় 24টি করে মালা ক্রয় করা হল। টাকায় কতগুলি বিক্রয় করলে 20% লাভ হবে?

(a) 22টি (b) 20টি (c) 25টি (d) 30টি

60. A-এর 40%-এর মান ও B-এর 60%-এর মান এক হলে A : B হবে:

(a) 7 : 8 (b) 8 : 7 (c) 3 : 2 (d) 4 : 5

61. 3টি গাড়ির বেগের অনুপাত 2 : 3 : 4। গাড়িগুলি সম দূরত্ব অতিক্রম করতে যে সময় নেবে তার অনুপাত:

(a) 4 : 3 : 6 (b) 6 : 4 : 3 (c) 3 : 4 : 6 (d) 2 : 3 : 4

62. $879 \times 439 + 879 \times 321 =$ কত?

(a) 668040 (b) 669040 (c) 668040 (d) 667030

63. 3 : 4 অনুপাতটির পদবন্দের সঙ্গে কত যোগ করলে এটি 7 : 9 অনুপাতটির সমান হবে?

(a) $\frac{1}{2}$ (b) 2 (c) $\frac{1}{3}$ (d) 3

64. রহিম, মোহন সোমা তিনজন মিলে ফুলের দরজাগুলি পালিশ করবে ঠিক করল। তারা যদি প্রত্যেকে একাধিক পালিশ করতে চেষ্টা করে তবে যথাক্রমে 8 দিনে, 6 দিনে এবং 12 দিনে পালিশ হয়। তারা একসঙ্গে পালিশ করলে কতদিনে পালিশের কাজ শেষ হবে?

(a) $3\frac{1}{3}$ দিন (b) 2 দিন (c) 1 দিন (d) $2\frac{2}{3}$ দিন

65. একটি পুকুর কাটতে 24 জন গ্রামবাসীর প্রায় 12 দিন সময় লাগবে এই ভেবে কাজের পরিচালনা করা হল। কিন্তু কাজের সময় দেখা গেল অতিরিক্ত 12 জন এসে পুকুর কাটার কাজে যোগ দেন। পুকুরটি কাটতে কতদিন সময় লাগবে?

(a) 20 দিন (b) 30 দিন (c) 8 দিন (d) 40 দিন

66. মনোজ বাড়ি থেকে 10 কিমি/ঘণ্টা গতিবেগে কোনও স্থানে গিয়ে 20 কিমি/ঘণ্টা গতিবেগে ফিরে এল এবং এতে তার সময় লাগল 5 ঘণ্টা। বাড়ি থেকে ওই স্থানের দূরত্ব হবে:

(a) 35 কিমি (b) 38 কিমি (c) 20 কিমি (d) $33\frac{1}{3}$ কিমি

67. একটি ব্যবসায় সোনা, মিস্ট্রি, সুপ্রতিম এর মূলধনের অনুপাত 3 : 4 : 5। যদি সুপ্রতিমের মুনাক, সোনা অপেক্ষা 200 টাকা বেশি হয় তাহলে মোট কত টাকা লাভ হয়েছিল?

(a) 1800 টাকা (b) 1100 টাকা (c) 1300 টাকা (d) 1200 টাকা

এরপর তেরোর পাতায়

চাকরির পরীক্ষায় বঙ্গবন্ধু কোচিং

রাজ্য পুলিশে ৮৬৩২ কনস্টেবল

নিয়োগ-পরীক্ষার নমুনা প্রশ্নোত্তর

বারের পাতার পর

68. যদি 3টি আমকে 4টির কমমূল্যে বিক্রয় করা হয় তবে লাভ হয়:

- (a) $40\frac{1}{2}\%$ (b) $33\frac{1}{3}\%$ (c) $33\frac{1}{4}\%$ (d) 20%

69. রামবাবু, রমেনবাবু ও হরিবাবু যে বাড়িতে ভাড়া থাকেন তার বাৎসরিক জলকরের পরিমাণ 595 টাকা। তাদের পরিবারের সদস্য সংখ্যা যথাক্রমে 6, 3, 8 জন, সদস্যসংখ্যার হিসাবে জলকর নির্ধারিত হলে রমেনবাবু বছরে কত জলকর দেন?

- (a) 105 টাকা (b) 110 টাকা (c) 130 টাকা (d) 140 টাকা

70. 140-এর 30% = 840 এর 7%

- (a) 15 (b) 20 (c) 25 (d) 5

71. যদি A : B = 1 : 2, B : C = 3 : 2, C : D = 1 : 3 হয় তাহলে A : B : C : D = ?

- (a) 3 : 4 : 8 : 10 (b) 3 : 6 : 4 : 12 (c) 3 : 6 : 9 : 12 (d) 2 : 6 : 8 : 10

72. $999 + \frac{995}{999} \times 999 = ?$

- (a) 998996 (b) 999824 (c) 998999 (d) 990809

73. 0, 6, 24, 60, 120, 210, ?

- (a) 323 (b) 225 (c) 515 (d) 336

74. $8\frac{5}{6} \div 10\frac{11}{36} = ?$

- (a) $\frac{5}{8}$ (b) $\frac{5}{7}$ (c) $\frac{6}{11}$ (d) $\frac{6}{7}$

75. $4780 + 296 \times (23)^2 = ?$

- (a) 3430 (b) 6760 (c) 9870 (d) 8540

76. ORGANISE-কে সাংকেতিকভাবে BHSPDRHM লেখা হলে, DESTINED-কে কী লেখা হবে?

- (a) UTFEEFMH (b) SRDCEFOJ (c) SRDCCDMH (d) UTFECDMH

77. 23, 33, 46, 62, 81, 103, ?

- (a) 126 (b) 128 (c) 130 (d) 127

78. 11, 19, 31, 47, 67, ?

- (a) 96 (b) 81 (c) 78 (d) 91

79. 748, 460, 316, 244, 208, ?

- (a) 172 (b) 168 (c) 219 (d) 190

80. Boy-কে সাংকেতিকভাবে ZPC লেখা হলে, GIRL-কে লেখা হবে:

- (a) HMSJ (b) MSJH (c) SJHM (d) JHMS

81. Number : Mathematics :: Notes : ?

- (a) Currency (b) Language (c) Doctor (d) Music

$$= \frac{-\sqrt{3}+1}{\sqrt{3}-1} \times \frac{\sqrt{3}+1}{\sqrt{3}+1} = \frac{-(\sqrt{3}+1)^2}{(3-1)} = \frac{-(3+1+2\sqrt{3})}{2}$$

$$= \frac{-2+2\sqrt{3}}{2} = -(2+\sqrt{3}) = -(\sqrt{3}+2)$$

69(c): $\sin 60^\circ \cos 30^\circ + \cos 60^\circ \sin 30^\circ$

$$= \frac{\sqrt{3}}{2} \times \frac{\sqrt{3}}{2} + \frac{1}{2} \times \frac{1}{2} = \left(\frac{3}{4} + \frac{1}{4}\right) = \frac{4}{4} = 1$$

70(c): Let the breadth be x metres

Length = 2x metres

$$2(2x + x) = 60 \Rightarrow 6x = 60 \Rightarrow x = 10$$

Length = 20 m, Breadth = 10 m, Area = (20 × 10) m²

$$= 200 \text{ m}^2$$

$$71(c): SI = Rs. \left(5000 \times \frac{10}{100} \times 3\right) = Rs. 1500$$

$$CI = Rs. \left[5000 \times \left(1 + \frac{10}{100}\right)^3 - 5000\right]$$

$$= Rs. \left[5000 \times \frac{11}{10} \times \frac{11}{10} \times \frac{11}{10} - 5000\right] = Rs. (6655 - 5000) = Rs. 1655$$

$$C.I. - S.I. = Rs. (1655 - 1500) = Rs. 155$$

$$72(c): \text{Given Exp.} = \frac{a^2 + ab + b^2}{a^3 - b^3} = \frac{1}{a-b} = \frac{1}{(147-143)} = \frac{1}{4}$$

$$73(c): (s-a)^2 + (s-b)^2 + (s-c)^2 + s^2$$

$$= 4s^2 + (a^2 + b^2 + c^2) - 2(sa + sb + sc)$$

$$= 4s^2 + (a^2 + b^2 + c^2) - 2s(a + b + c)$$

$$= 4s^2 + (a^2 + b^2 + c^2) - 4s^2 = a^2 + b^2 + c^2$$

$$74(b): \text{Given Exp.} = \frac{5}{3} \times \frac{7}{9} \times \frac{9}{7} \times \dots \times \frac{1003}{1001} = \frac{1003}{3}$$

$$75(c): \frac{3}{4} = 0.75, \frac{5}{6} = 0.833$$

$$\text{Now, } \frac{1}{2} = 0.5, \frac{2}{3} = 0.666, \frac{4}{5} = 0.8, \frac{9}{10} = 0.9$$

$$\therefore 0.75 < 0.8 < 0.833 \therefore \frac{3}{4} < \frac{4}{5} < \frac{5}{6}$$

প্রস্তুত করেছেন: অভিষেক রায়

চার কেন্দ্রীয় বাহিনীতে ২৫২৭১ কনস্টেবল, রাইফেলম্যান নিয়োগ-পরীক্ষার নমুনা প্রশ্নোত্তর

বারের পাতার পর

Man's present age = (4 × 7) = 28 years

Son's present age = 7 years

Required Ratio = (28 + 5) : (7 + 5) = 33 : 12 = 11 : 4

57(b): Let the third number be x

$$1st \text{ number} = 120\% \text{ of } x = \left(\frac{120}{100} \times x\right) = \frac{6x}{5}$$

$$2nd \text{ number} = 150\% \text{ of } x = \left(\frac{150}{100} \times x\right) = \frac{3x}{2}$$

$$\text{Ratio of the number} = \frac{6x}{5} : \frac{3x}{2} = 12 : 15 = 4 : 5$$

58(c): Let the CP be x

$$x \times \frac{110}{100} = 990 \therefore x = 990 \times \frac{100}{110} = 900$$

Now C.P = Rs. 900

SP = 890

$$\text{Lose \%} = \left(\frac{10}{900} \times 100\right) \% = 1\frac{1}{9}\%$$

$$59(b): \frac{15}{100} A = \frac{20}{100} B \Rightarrow 15A = 20B \Rightarrow \frac{A}{B} = \frac{20}{15}$$

$$\therefore A : B = 2 : 15 = 4 : 3$$

60(a): Let the investments of A and B be Rs. 12x and 11x. Suppose B invested the money for y months

$$A : B = (12x \times 11) : (11x \times y) = 132x : 11xy = 12 : y$$

$$\therefore \frac{12}{y} = \frac{4}{1} \Rightarrow 4y = 12 \Rightarrow y = 3$$

61(a): 3 men = 5 women \Rightarrow 6 men = 10 women

\Rightarrow (6 men + 5 women) = 15 women

set the required number of days be x

more women less days (indirect)

$$15 : 5 :: 12 : x$$

$$\Rightarrow \frac{15}{5} = \frac{12}{x} \Rightarrow 15x = 5 \times 12 \therefore x = \frac{5 \times 12}{15} = 4 \text{ days}$$

62(c): $\frac{1}{3}$ work is done by A in 5 days

Whole work will be done by A in 15 days

$\frac{2}{5}$ work is done by B in 10 days

whole work will be done by B in $10 \times \frac{5}{2}$ days i.e. 25 days

$$(A + B)'s 1 \text{ days work} = \left(\frac{1}{15} + \frac{1}{25}\right) = \frac{8}{75}$$

$$\therefore A \text{ and B can do the work in } \frac{75}{8} \text{ days i.e. } 9\frac{3}{8} \text{ days}$$

63(c): Suppose that one pipe takes x hours to fill the reservoir

$$\therefore \frac{1}{x} + \frac{1}{(x-10)} = \frac{1}{12} \Rightarrow \frac{x-10+x}{x(x-10)} = \frac{1}{12}$$

$$\Rightarrow 12(x-10+x) = x(x-10)$$

$$\Rightarrow x^2 - 34x + 120 \Rightarrow (x-30)(x-4) = 0 \Rightarrow x = 30/x = 4$$

So the faster pipe takes 30 hrs. to fill the reservoir.

64(d): (21 - 15) m i.e. 6 m is covered in 1 min

114 m will be covered in $\left(\frac{1}{6} \times 114\right)$ min = 19 min.

65(a): Sp of 1 kg mix = Rs. 68.20, gain = 10%

$$CP \text{ of } 1 \text{ kg mix} = Rs. \left(\frac{100}{110} \times 68.20\right) = Rs. 62$$

CP of 1 kg cheaper tea 60

CP of 1 kg dearer tea 65

Main price 62

3

2

cheaper tea : dearer tea = 3 : 2

66(b): Let the sum be Rs. x

S.I. = Rs. (34 - x) = Rs. 2x

$$x \times \frac{10}{100} \times t = 2x \therefore t = 20 \text{ yrs.}$$

67(c): $(\tan \theta + \cot \theta)^2 = 5^2 = 25$

$$\Rightarrow \tan^2 \theta + \cot^2 \theta + 2 \tan \theta \cot \theta = 25$$

$$\Rightarrow \tan^2 \theta + \cot^2 \theta + 2 = 25$$

$$\Rightarrow \tan^2 \theta + \cot^2 \theta = 23$$

$$68(a): \frac{\cos 60^\circ + \sin 60^\circ}{\cos 60^\circ - \sin 60^\circ} = \frac{1 + \frac{\sqrt{3}}{2}}{1 - \frac{\sqrt{3}}{2}}$$

$$= \frac{(1 + \sqrt{3})}{2} \times \frac{2}{(1 - \sqrt{3})} = \frac{-(\sqrt{3} + 1)}{(\sqrt{3} - 1)}$$

82. 17, 98, 147, 172, 181, 7

(a) 180 (b) 184 (c) 189 (d) 182

$$83. \frac{7}{12} - \frac{3}{4} + \frac{2}{3} = ?$$

$$(a) \frac{5}{6} (b) \frac{5}{12} (c) \frac{1}{2} (d) \frac{1}{6}$$

84. 4, 10, 22, 46 ... পরবর্তী পদটি হল:

- (a) 94 (b) 68 (c) 56 (d) 75

85. ভুল পদটি নির্বাচন করুন:

- 2, 6, 12, 20, 30, 40, 42

- (a) 6 (b) 40 (c) 42 (d) 20

86. সকল মুদ্রারই আছে:

- (a) তামা (b) মূল্য (c) বিপদ (d) চাকচিক্য

87. সকল পাবিরই আছে:

- (a) চৌকি (b) ডিম (c) বাসা (d) গান

88. TERMINAL-এর সাংকেতিক রূপ যদি SDQLJOBM হয় তাহলে

CREDIBLE-এর সাংকেতিক রূপ হবে:

- (a) BQDCJCMF (b) BQDCHAKD (c) DSFEHAKD (d) None of these

$$89. \frac{15 \times 15 \times 15}{5 \times 3 \times 2} = ?$$

- (a) 60 (b) 112 (c) 112.5 (d) 113

90. BRIGHT-কে সাংকেতিক রূপে JSCSGF লেখা হলে, JOINED-কে লেখা হবে?

- (a) JPKMDC (b) JPKEFO (c) HNEIFO (d) JPKCDM

91. "ভারী জল" কী?

- (a) গুজনে গ্যাস মিশ্রিত জল (b) বর্ষিক মিশ্রিত জল (c) হাইড্রোজেন অক্সিজেনের মিশ্রিত জল (d) ভারী ধাতুর বর্ষিক মিশ্রিত জল

92. নীল গ্রহ কাকে বলে?

- (a) শনি (b) পৃথিবী (c) বুধ (d) ইউরেনাস

93. জ্বাৰ কথাটি কোন খেলার সঙ্গে যুক্ত?

- (a) বক্সিং (b) গলফ (c) বিলিয়ার্ডস (d) টেনিস

94. স্পঞ্জ কী?

- (a) উদ্ভিদ (b) জীবাশ্ম (c) ছত্রাক (d) জীবদেহ

95. ELISA টেস্টটি কোন রোগ শনাক্ত করতে সাহায্য করে?

- (a) স্তন টিউমার (b) ক্যানসার (c) ম্যালেরিয়া (d) এইচ আই ভি/এইডস

96. পশ্চিমবঙ্গের পঞ্চায়ত ব্যবস্থায় ক'টি স্তর আছে?

- (a) চারটি (b) তিনটি (c) দুটি (d) একটি

97. নীচের কোন রংগুলিকে মৌলিক রং বলা হয়?

- (a) হলুদ, নীল, সবুজ (b) নীল, লাল, হলুদ (c) লাল, হলুদ, সবুজ (d) কোনওটিই নয়

98. তথ্য জানার অধিকার আইন কত সালে পাস হয়:

- (a) 2005 (b) 2004 (c) 2003 (d) 2002

99. খাজা মহম্মদ চিত্রিত নরগা কোন শহরে অবস্থিত?

- (a) উরঙ্গহাব (b) আত্রা (c) আজমের (d) হায়দ্রাবাদ

100. রাণা প্রতাপ কোন রাজ্যের শাসক ছিলেন?

- (a) মেঘার (b) পারস্য (c) দিল্লীর (d) আলওয়ার

উত্তর

1(a), 2(c), 3(a), 4(d), 5(d), 6(c), 7(a), 8(c), 9(d), 10(a), 11(d), 12(d),

13(c), 14(c), 15(d), 16(a), 17(b), 18(b), 19(c), 20(b), 21(d), 22(b),

23(d), 24(d), 25(a), 26(c), 27(c), 28(d), 29(d), 30(d), 31(b), 32(b),

33(b), 34(c), 35(c), 36(b), 37(d), 38(c), 39(c), 40(d), 41(d), 42(a),

43(b), 44(a), 45(a), 46(d), 47(d), 48(d), 49(d), 50(d), 51(d), 52(b),

53(a), 54(a), 55(d), 56(b), 57(c), 58(a), 59(b), 60(c), 61(b), 62(c),

63(a), 64(d), 65(c), 66(d), 67(d), 68(b), 69(a), 70(d), 71(b), 72(a),

73(d), 74(d), 75(d), 76(d), 77(b), 78(d), 79(d), 80(b), 81(d), 82(d),

83(c), 84(a), 85(b), 86(b), 87(a), 88(a), 89(c), 90(d), 91(c), 92(b),

93(a), 94(d), 95(d), 96(b), 97(b), 98(a), 99(c), 100(a).

সমাধান

51(d): মনে করি, সংখ্যাগুলি x, x + 1 ... x + 6

$$\therefore \text{এদের যোগফল} = 7x + \frac{6 \times 7}{2} = 7x + 21$$

$$\text{শর্তানুসারে, } 7x + 21 = 182$$

$$7x = 182 - 21, x = 23 \therefore \text{বৃহত্তম সংখ্যাটি} = 23 + 6 = 29$$

$$52(b): \text{ক্ষতি} = \frac{20 \times 20}{100} = 4\%$$

$$53(a): 0.02 = (0.02 \times 100)\% = 2\%$$

$$54(a): \frac{1}{3}\% = \frac{1}{3 \times 100} = \frac{1}{300}$$

$$55(d): \frac{100}{100-25} \times 150 = 200 \text{ টাকা}$$

56(b): মনে করি, লব্ধটির ক্রয়মূল্য = x টাকা

$$\therefore (425 - x) = (x - 355)$$

$$\text{বা, } 425 + 355 = 2x \text{ বা, } x = 390 \text{ টাকা}$$

$$57(c): \left(\frac{20}{25} \times 100\right)\% = 80\%$$

$$58(a): \frac{20^2}{100} = \frac{400}{100} = 4\% \text{ হ্রাস}$$

$$59(b): \frac{100}{120} \times 24 = 20\%$$

রাজ্য পুলিশে ৮৬৩২ কনস্টেবল

নিয়োগ-পরীক্ষার নমুনা প্রশ্নোত্তর

তেরোর পাতার পর

77(d): আসল = 20000 টাকা, R = বার্ষিক 20% এবং $n = \frac{3}{2}$ বছর

$$1\frac{1}{2} \text{ বা, } \frac{3}{2} \text{ বছর পর সবুজিমূল} = P \left(1 + \frac{R}{2 \times 100}\right)^{2n}$$

$$= 20000 \left(1 + \frac{20}{2 \times 100}\right)^{2 \times \frac{3}{2}} \text{ টাকা} = 20000 \left(1 + \frac{1}{10}\right)^3 \text{ টাকা}$$

$$= \left(\frac{20000 \times 11 \times 11 \times 11}{10 \times 10 \times 10}\right) \text{ টাকা} = (20 \times 11 \times 11 \times 11) \text{ টাকা} = 26620 \text{ টাকা}$$

∴ নির্ণয় চক্রবৃদ্ধি সুদ = (26620 - 20000) = 6620 টাকা।

78(c): 55 লিটার জল মিশ্রিত সুদে, দুইবার পরিমাণ = $\left(55 \times \frac{7}{11}\right) = 35$ লিটার

∴ জলের পরিমাণ = (55 - 35) = 20 লিটার

মনে করি x লিটার জল মেশাতে হবে

$$\frac{\text{প্রধানদ্রব্য}}{20+x} = \frac{7}{6} \Rightarrow \frac{5}{20+x} = \frac{1}{6}$$

$$20+x = 30, x = 30 - 20, x = 10 \text{ লিটার।}$$

79(a): একইদিকে বাবমান ট্রেন দুটির গতির পার্থক্য = (45 - 36) = 9 কিমি/ঘণ্টা

$$= 9 \times \frac{5}{18} \text{ মিটার/সেকেন্ড}$$

$$\text{ট্রেন দুটি 80 সেকেন্ডে যায়} = \left(9 \times \frac{5}{18} \times 80\right) = 200 \text{ মিটার}$$

∴ দ্বিতীয় ট্রেনের দৈর্ঘ্য = (200 - 120) = 80 মিটার।

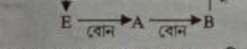
80(b): 40 জন ছাত্রের বয়সের সমষ্টি = 40 × 15 = 600 বছর

10 জন নতুন ছাত্র ভর্তি হলে (40 + 10) বা, 50 জনের বয়সের সমষ্টি = 50 × 15.2 = 760 বছর

$$\therefore \text{নতুন ছাত্রদের বয়সের গড়} = \frac{760 - 600}{10} = \frac{160}{10} = 16 \text{ বছর।}$$

81(b): শব্দটিকে re-arrange করলে হবে SERVICE

এই শব্দটির তালিক থেকে পঞ্চম অক্ষরটি হবে R।



83(d): এখানে প্রথমক্ষেত্রে প্রথম নম্বরটির মাঝের নম্বর বাদ দিয়ে তৃতীয় নম্বরটি প্রথম ও শেষে প্রথম নম্বরটি লেখা হয়েছে তাই দ্বিতীয় ক্ষেত্রেও একইরকম হবে অর্থাৎ 429 : 94 হবে।

84(c): $24 : 24 \times \frac{24}{2}, 24 : 24 \times 12 = 24 : 288$

একইভাবে, $22 : 22 \times \frac{22}{2}, 22 : 22 \times 11 = 22 : 242$

85(d): w → a, s → r, r → w

একইভাবে, a n s w e r

↓ ↓ ↓ ↓ ↓ ↓

a n r a e w

86(a): 2 (5) (3) books are (old)

(5) 4 6 man is (old)

(3) 7 8 buy good (books)

books-এর কোড 3

old-এর কোড 5

are-এর কোড হবে 2.

87(b): 4270 কারণ বাকি সংখ্যাগুলি 11 দ্বারা সম্পূর্ণ বিভাজ্য

$$\frac{5270}{11} = 520, \frac{6710}{11} = 610, \frac{2640}{11} = 240$$

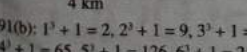
$$\frac{4270}{11} = 388.18$$

88(d): BAR-এর attendant-কে BARMAN বলে, ঠিক একইভাবে CHURCH-এর attendant-কে SEXTON বলে।

89(c): Modesty বলতে বোঝায় বিস্ময় এবং Arrogance বলতে বোঝায় গুন্ডাজ। তাই এর পরস্পর বিপরীত শব্দ।

Debility অর্থাৎ দুর্বলতা ও Strength অর্থাৎ শক্তিশালী পরস্পর বিপরীত শব্দ।

90(a):



91(b): $1^3 + 1 = 2, 2^3 + 1 = 9, 3^3 + 1 = 28$

$4^3 + 1 = 65, 5^3 + 1 = 126, 6^3 + 1 = 217$

92(b): $15^2 = 225 + 15 = 240$

$21^2 = 441 + 21 = 462$

93(a): $38 + 23 = 61, 61 - 1 = \frac{60}{2} = 30$

$8 + 17 = 25, 25 - 1 = \frac{24}{2} = 12$

চাকরির পরীক্ষায় কর্মেজ কোচিং

রাজ্য পুলিশে ৮৬৩২ কনস্টেবল

নিয়োগ-পরীক্ষার নমুনা প্রশ্নোত্তর

তেরোর পাতার পর

60(c): A-এর 40% = B-এর 60%

$$A \times \frac{40}{100} = B \times \frac{60}{100} \Rightarrow \frac{A}{B} = \frac{60}{40} = \frac{3}{2}$$

61(b): গতিবেগের অনুপাত = 2 : 3 : 4

$$\text{সময়ের অনুপাত} = \frac{1}{2} : \frac{1}{3} : \frac{1}{4}$$

2, 3, 4-এর লস.ও. = 12 ∴ $\frac{12}{2} : \frac{12}{3} : \frac{12}{4} = 6 : 4 : 3$

62(c): $879 \times 439 + 879 \times 321 = 879(439 + 321) = 879 \times 760 = 668040$

63(a): মনে করি, x যোগ করতে হবে

$$\text{শর্তনুসারে, } \frac{3+x}{4+x} = \frac{7}{9} \text{ বা, } 27 + 9x = 28 + 7x, 2x = 1 \Rightarrow x = \frac{1}{2}$$

64(d): প্রস্থানুসারে, $\frac{8 \times 6 + 6 \times 12 + 12 \times 8}{8 \times 6 + 6 \times 12 + 12 \times 8} = \frac{8 \times 6 \times 12}{48 + 72 + 96} = \frac{8}{3} = 2\frac{2}{3}$

65(c): পুকুর কাটতে সময় লাগবে = $\frac{24 \times 12}{36} = 8$ দিন।

66(d): প্রস্থানুসারে, $\frac{10 \times 20}{10 + 20} \times 5 \text{ কিমি} = 33\frac{1}{3} \text{ কিমি}$

67(d): মোট লাভ = $200 \times \frac{3+4+5}{5-3} = 1200$

68(b): ∴ লাভ = $\left(\frac{1-\frac{1}{4}}{1} \times 100\right)\% = \left(\frac{3}{4} \times 100\right)\% = \left(\frac{1}{12} \times \frac{4}{1} \times 100\right)\%$

$$= \frac{100}{3}\% = 33\frac{1}{3}\%$$

69(a): রামবাবু, রমেনবাবু এবং হরিবাবুর প্রদেয় জলকরের অনুপাত = 12 × 6 : 12 × 3 : 12 × 8 = 72 : 36 : 96 = 6 : 3 : 8

∴ রমেনবাবু জলকর দেবেন = $595 \times \frac{3}{17} = 105$ টাকা।

70(d): 140-এর 30% = $140 \times \frac{30}{100} = 42$

42, 840-এর $\frac{42}{840} \times 100 = 5\%$

71(b): $\frac{A}{B} = \frac{1}{2} \times \frac{3}{3} = \frac{3}{6}, \frac{B}{C} = \frac{3}{2} \times \frac{2}{2} = \frac{6}{4}, \frac{C}{D} = \frac{1}{3} \times \frac{4}{4} = \frac{4}{12}$

A : B : C : D = 3 : 6 : 4 : 12

72(a): $999 + \frac{999}{999} \times 999 = (1000 - 1) + \frac{999}{999} \times 999$

$$= \frac{(1000 - 1) \times 999 + 999}{999} \times 999$$

$$5 + 2 = 7, 7 - 1 = \frac{6}{2} = 3$$

94(a):

```

    13          1          3
    M+6 → 19  A+6 → 7  C+6 → 9
    8          9          14
    H+6 → 14  I+6 → 15  N+6 → 20
    5
    E+6 → 11
    
```

একইভাবে, $\frac{4}{D+6} \rightarrow 10, \frac{1}{A+6} \rightarrow 7, \frac{14}{N+6} \rightarrow 20$

$\frac{7}{G+6} \rightarrow 13, \frac{5}{E+6} \rightarrow 11, \frac{18}{R+6} \rightarrow 24$

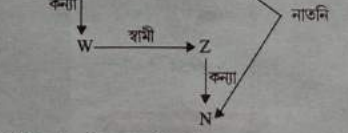
∴ DANGER = 10 - 7 - 20 - 13 - 11 - 24

95(a): $2463 \rightarrow (2 + 4 + 6) \times 3 = 12 \times 3 = 36$

$5552 \rightarrow (5 + 5 + 5) \times 2 = 15 \times 2 = 30$

$6732 \rightarrow (6 + 7 + 3) \times 2 = 16 \times 2 = 32$

96(d):



97(b): $(6 - 3) \times (5 - 1) = 12$

$(8 - 3) \times (7 - 3) = 20, (6 - 3) \times (7 - 2) = 15$

98(c): $4 + 5 = 9 - 1 = 8, 8 + 7 = 15 + 1 = 16$

$12 + 9 = 21 - 1 = 20$

$1 + 11 = 12 + 1 = 13$

99(b): $915 - 364 = 551, 789 - 543 = 246$

$863 - 241 = 622$

100(d): $(4^2 + 5^2) - (6^2 + 1^2) = 4$

$(10^2 + 3^2) - (8^2 + 4^2) = 29$

$(7^2 + 2^2) - (3^2 + 5^2) = 19$ উত্তর হবে 5.

= 999000 - 999 + 995 = 999000 - 4 = 998996

73(d):

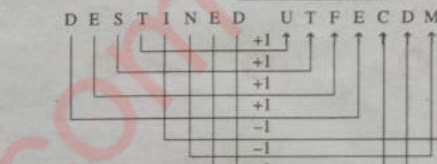
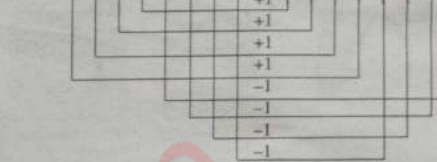
```

    0      6      24      60      120      210      336
    ↑      ↑      ↑      ↑      ↑      ↑
    +6     +18    +36    +60    +90    +126
    6x1    6x3    6x6    6x10   6x15   6x21
    
```

74(d): $8\frac{5}{6} \div 10 = \frac{11}{36} = \frac{53}{36} = \frac{371}{36} = \frac{53}{6} \times \frac{371}{6} = 7$

75(d): $4780 \div 296 \times (23)^2 = \frac{4780 \times 23 \times 23}{296} = 8542.6 = 8540$

76(d): O R G A N I S E B H S P D R H M



77(b):

```

    23      33      46      62      81      103      128
    ↑ ↑ ↑ ↑ ↑ ↑
    +10 +13 +16 +19 +22 +25
    
```

78(d):

```

    11      19      31      47      67      91
    ↑ ↑ ↑ ↑ ↑
    +8 +12 +16 +20 +24
    
```

79(d): $748 - 460 = 288, 460 - 316 = 144, 316 - 244 = 72$

$244 - 208 = 36 \therefore 208 - 18 = 190$

80(b):

```

    B +1 O +1 Y
    ↓ ↓ ↓
    Z P C
    M +1 S +1 J +1 H
    
```

82(d): $17 + 9^2 = 98, 98 + 7^2 = 147, 147 + 5^2 = 172$

$172 + 3^2 = 181, 181 + (1)^2 = 182$

83(c): $\frac{7}{12} \times \frac{3}{4} \times \frac{2}{3} \therefore \frac{7-9+8}{12} = \frac{6}{12} = \frac{1}{2}$

84(a):

```

    4      10      22      46      94
    ↑ ↑ ↑ ↑
    +6 + (6 × 2) + (6 × 2^2) + (6 × 2^3)
    
```

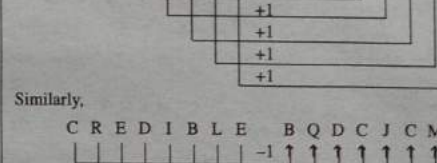
85(b): $2 + 4 + 6 + 8 + 10 + 12 + 14 + 16 + 18 + 20 + 22 + 24 + 26 + 28 + 30 + 32 + 34 + 36 + 38 + 40 + 42 = 420$

30 ও 42-এর মাঝের 40টি হল ভুল পদ।

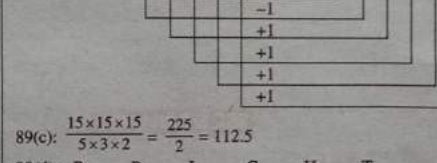
86(b): সকল মুদ্রারই একটি নির্দিষ্ট মূল্য আছে।

87(a): ∴ সকল পাখিরই টেট আছে।


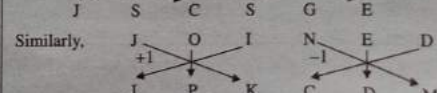
88(a): T E R M I N A L S D Q L J O B M



Similarly,



89(c): $\frac{15 \times 15 \times 15}{5 \times 3 \times 2} = \frac{225}{2} = 112.5$



প্রস্তুত করেছেন: স্বামী মুখার্জি

প্রস্তুত করেছেন: স্বীমান ঘোষ

এবার মিসেলেনিয়াসে সেঞ্চুরি

RICE EDUCATION

স্বপ্ন। সাফল্য। সম্মান।

২০১৮ পিএসসি মিসেলেনিয়াসে শতাধিক ছাত্রছাত্রীর সাফল্য নিশ্চিত করেছে RICE

সাফল্যের মুকুটে নতুন পালক। এবারের পিএসসি মিসেলেনিয়াস পরীক্ষায় সফল প্রার্থীর মধ্যে একটা বড় অংশের ছাত্রছাত্রীই প্রস্তুতি নিয়েছেন RICE-এ। অন্যান্য সমস্ত পরীক্ষার মতো, এক্ষেত্রেও RICE-এর ছাত্রছাত্রীরা বাকিদের থেকে এগিয়ে আছেন অনেকটাই।



Arpita Bose
Kolkata
ID: 1516/RICE/6292
Revenue Inspector



Subhasis Banerjee
Burdwan
ID: 1415/RICE/8788
West Bengal
Sub-Ordinate Labour Service



Ayan Bhaumik
Kolkata
ID: 1415/RICE/15012
Savings Development
Officer



Md Shadab Alam
Uttar Dinajpur
ID: 1617/RICE/8060
Extension Officer
(Mass Education)



Mohul Guha
Hooghly
ID: 1415/RICE/14476
Extension Officer
(Mass Education)



Niladri Nath
North 24 Parganas
ID: 1516/RICE/4902
Consumer Welfare
Officer



Riya Mondal
Burdwan
ID: 1718/RICE/5090
Youth Officer



Santanu Sarkar
Hooghly
ID: 1718/RICE/4938
Revenue Inspector



Santwana Das
Bardhaman
ID: 1617/RICE/1017
Inspector for
Backward Classes



Sudipta Saha
North Dinajpur
ID: 1617/RICE/4562
West Bengal
Sub-Ordinate Labour Service



Susmita Mallick
Behrampur
ID: 1718/RICE/3391
Disaster Management Officer



Titir Saha
Hooghly
ID: 1516/RICE/235
Extension Officer
(Mass Education)



Baishakhi Roy
Hooghly
ID: 1617/RICE/5403
Inspector for
Backward Classes



Nima Eden Sherpa
Dajjajling
ID: 1920/RICE/3740
Youth Officer



Javed Imran
Midnapore
ID: 1819/RICE/1884
Revenue Inspector



Arindam Bhattacharyya
North 24 Parganas
ID: 1617/RICE/8504
Youth Officer



Srijita Jana
South 24 Parganas
ID: 1718/RICE/2146
Revenue Inspector



Soma Biswas
Burdwan
ID: 1617/RICE/6343
Inspector for
Backward Classes

সাফল্যের তালিকায় নিজের নাম দেখতে হলে আজই যোগাযোগ করুন 98747 12112

অফলাইন ক্লাস শুরু ৬ সেপ্টেম্বর থেকে

www.ricesmart.in

কেন্দ্রীয় (দেউ অফিস) 84799 02065 / 84799 16061 | শিখারদেউ (দেউ অফিস) 84799 16013 / 84799 17958 | কলকাতা 84799 17961 | পানবাজার 84799 17962 | বাঁড়ো মার্গেট 84799 17956 | বারাসাত 84799 00574 | শিলিগাড়া 84799 17965 | পালকিগাড়া 84799 00576 | দুর্গাপুর 84799 00578 | অঙ্গলসাতল 84799 00577 | বর্ডমান 84799 00575 | বরগাড়া 84799 17952 | রাণচ 84799 17953 | অর্ধাঙ্গীড় 84799 17954 | খড়কপুর 84799 17955 | তমলুক 84799 17957

ricesmart

WBCS-এর পাঁচটি অপশনাল বিষয়ে বিশেষ প্রশিক্ষণ RICE Smart-এ

Anthropology, Geography,
Political Science, History এবং Sociology,
এই পাঁচটি অপশনাল বিষয় পড়াছেন সেরা শিক্ষকেরা।
RICE Smart অ্যাপের সাহায্যে প্রস্তুতি নেওয়ার
সুযোগ যখন খুশি, যেখান থেকে খুশি।

বিশেষ সুবিধা

এক বছরের কোর্স | সাপ্তাহিক ক্লাস | স্টাডি মেটেরিয়াল
শিক্ষকদের বিশেষ নোট | নিয়মিত পরীক্ষা

অ্যাডমিশনের জন্য যোগাযোগ 98747 12112

WBCS & PSC SSC & RAILWAYS BANKING (Bengali & Hindi)

www.ricesmart.in



ANTHROPOLOGY

GEOGRAPHY

Political Science

HISTORY

SOCIOLOGY

ricesmart