

Best Training For
WBCS, SSC
(CGL, CHSL, MTS),
PSC, BANK, RAIL
7427927701
grassroot
Dunlop, Gariahat, Sonarpur, Tamluk

কর্মক্ষেত্র

ISSN 0971-7765

www.ekarmakshetra.com

SSC (CGL)/WBCS/ BANK/ RLY
LIVE CLASS BEST TRAINER OF INDIA
MATH-ABHINAV SHARMA
ENG-GOPAL VERMA
REASONING-GUPTA SIR
GS-RAM SIR
শিক্ষকদের নাম চিহ্নিত করে এ প্রস দেবেন
নিম্ন কোচিং অফিসের মাধ্যমে কলকাতা
MIDNAPUR, BANKURA, BURDWAN
MALDA, JALPAIGURI, COOCHBEHAR
KOLKATA-9748914137

বর্ষ ৩৯ সংখ্যা ২০ কলকাতা বুধবার, ১৯ ডিসেম্বর ২০১৮/১ বাঙালির কর্মজীবনের প্রবেশপথ ৩ পৃষ্ঠা ১৪২৫ দাম ৪.০০ টাকা ১৬ পাতা R. N. 37120/80

পশ্চিম রেল ৩৫৫৩ অ্যাপ্রেন্টিস

৩,৫৫৩ জন তরুণ-তরুনীকে বিভিন্ন ট্রেডে অ্যাপ্রেন্টিসশিপ ট্রেনিং দেবে পশ্চিম রেলওয়ে। অ্যাপ্রেন্টিস অ্যাক্ট, ১৯৬১ অনুসারে ফিটার, ওয়েল্ডার, মেশিনিস্ট, কার্পেন্টার, মেকানিক, প্রাস্তার, ইলেক্ট্রিশিয়ান, পেইন্টার-সহ বিভিন্ন ট্রেডে এক বছরের ট্রেনিং দেওয়া হবে। ট্রেনিং চলাকালীন প্রতি মাসে নির্দিষ্ট হারে স্টাইপেন্ড পাওয়া যাবে। এই ট্রেনিংয়ের নোটিফিকেশন নম্বর: RRC/AWR/04/2018.

অনুসারে আসনসংখ্যার বিন্যাস: বি সি টি ডিভিশন: মেকানিক্যাল ডিপার্টমেন্ট: ফিটার: ১৫০টি (সাধারণ ৭৮, তফসিলি জাতি ২৩, তফসিলি উপজাতি ১১, ও বি সি ৪১)। এর মধ্যে ২টি করে আসন অস্থি ও দৃষ্টিসংক্রান্ত প্রতিবন্ধীদের জন্য, ১টি আসন শ্রবণসংক্রান্ত প্রতিবন্ধীদের জন্য, ৫টি আসন প্রাক্তন সমরকর্মীদের জন্য সংরক্ষিত। ওয়েল্ডার (জি অ্যান্ড ই): ৩টি (সাধারণ ২, ও বি সি ১)। টার্নার: ১টি (সাধারণ)। কার্পেন্টার: ২৩টি

(সাধারণ ১২, তফসিলি জাতি ৩, তফসিলি উপজাতি ২, ও বি সি ৬)। এর মধ্যে ১টি করে আসন অস্থিসংক্রান্ত প্রতিবন্ধীর জন্য ও প্রাক্তন সমরকর্মীর জন্য সংরক্ষিত। পেইন্টার (জেনারেল): ৫টি (সাধারণ ৩, তফসিলি জাতি ১, ও বি সি ১)। ডিজেল মেকানিক: ২৫টি (সাধারণ ১২, তফসিলি জাতি ৪, তফসিলি উপজাতি ২, ও বি সি ৭)। এর মধ্যে ১টি করে আসন অস্থিসংক্রান্ত প্রতিবন্ধীর জন্য ও প্রাক্তন সমরকর্মীর জন্য সংরক্ষিত। মেকানিক মোটর

ভেহিক্যাল: ৪টি (সাধারণ ২, তফসিলি জাতি ১, ও বি সি ১)। ইলেক্ট্রিক্যাল ডিপার্টমেন্ট: ফিটার: ১৫টি (সাধারণ ৮, তফসিলি জাতি ২, তফসিলি উপজাতি ১, ও বি সি ৪)। ওয়েল্ডার (জি অ্যান্ড ই): ৮টি (সাধারণ ৪, তফসিলি জাতি ১, তফসিলি উপজাতি ১, ও বি সি ২)। ডিজেল মেকানিক: ৩২টি (সাধারণ ১৬, তফসিলি জাতি ৫, তফসিলি উপজাতি ২, ও বি সি ৯)। এর মধ্যে ১টি করে

পূর্ব-মধ্য রেল ২২৩৪ ট্রেড অ্যাপ্রেন্টিস

২,২৩৪ জন তরুণ-তরুনীকে অ্যাপ্রেন্টিসশিপ ট্রেনিং দেবে ইস্ট সেন্ট্রাল রেল। অ্যাপ্রেন্টিস অ্যাক্ট, ১৯৬১ অনুসারে এই প্রশিক্ষণ দেওয়া হবে। ফিটার, ইলেক্ট্রিশিয়ান, কার্পেন্টার-সহ আই টি আইয়ের বিভিন্ন ট্রেডে দানাপুর, ধানবাদ, মোগলসরাই-সহ বিভিন্ন ডিভিশন এবং ওয়ার্কশপে ট্রেনিং হবে। ট্রেনিং চলাকালীন নির্দিষ্ট হারে স্টাইপেন্ড পাওয়া যাবে। এই প্রশিক্ষণের

বিজ্ঞপ্তি নম্বর: RRC/ECR/HRD/A.Ct. App./02/2018. আসনসংখ্যার বিবরণ: দানাপুর ডিভিশন: ফিটার: ২১০টি (সাধারণ ১০৬, তফসিলি জাতি ৩১, তফসিলি উপজাতি ১৬, ও বি সি ৫৩)। ইলেক্ট্রিক মেকানিক: ১৪৪টি (সাধারণ ৭৩, তফসিলি জাতি ২২, তফসিলি উপজাতি ১০, ও বি সি ৩৯)। এরপর পাঠের পাতায়

সি আর পি এফে ৩৫৯ খেলোয়াড়

বিভিন্ন ক্রীড়াক্ষেত্র থেকে ৩৫৯ জন খেলোয়াড় নেবে সেন্ট্রাল রিজার্ভ পুলিশ ফোর্স। নিয়োগ হবে কনস্টেবল ও হেড কনস্টেবল পদে। মোট শূন্যপদ: কনস্টেবল (জেনারেল ডিউটি): ৩৩৯টি (পুরুষ ২৯৫, মহিলা ৪৪)। হেড কনস্টেবল এরপর চোদ্দের পাতায়

রেল প্রতিরক্ষায় ৭৯৮ কনস্টেবল

৭৯৮ জন কনস্টেবল (অ্যাঙ্গিলারি) নেবে রেলওয়ে প্রোটেকশন ফোর্স (আর পি এফ) ও রেলওয়ে প্রোটেকশন স্পেশ্যাল ফোর্স (আর পি এস এফ)। নিয়োগ হবে বিভিন্ন ট্রেডে। আর পি এফ নিয়োগ করা হবে দক্ষিণ রেল, দক্ষিণ-পশ্চিম রেল, দক্ষিণ-মধ্য রেল, মধ্য রেল, পশ্চিম রেল, পশ্চিম-মধ্য রেল, দক্ষিণ-পূর্ব-মধ্য রেল, পূর্ব রেল, পূর্ব-মধ্য রেল, দক্ষিণ-পূর্ব রেল, ইস্ট-কোস্ট রেল, উত্তর রেল, উত্তর-পূর্ব রেল, উত্তর-পশ্চিম রেল, উত্তর-মধ্য রেল

এবং নর্দান ফ্রন্টিয়ার রেল। আর পি এফে শূন্যপদ ৫৩৯টি। আর পি এস এফের ক্ষেত্রে শূন্যপদ ২৫৯টি। আর পি এস এফের শূন্যপদে শুধুমাত্র পুরুষরা আবেদন করতে পারবেন। এই নিয়োগের নোটিফিকেশন নম্বর: Constable (Ancillary)/RPF-03/2018. ট্রেড অনুসারে শূন্যপদ: ওয়াটার কারিয়ার: ৪৫২টি (সাধারণ ২০২, তফসিলি জাতি ৪৮, তফসিলি উপজাতি ২৬, ও বি সি ১৭৬)। সাফাইওয়াল:

১৯৯টি (সাধারণ ১০৯, তফসিলি জাতি ২০, তফসিলি উপজাতি ৯, ও বি সি ৬)। ওয়াশার ম্যান: ৪৯টি (সাধারণ ২৯, তফসিলি জাতি ৬, তফসিলি উপজাতি ৩, ও বি সি ১১)। বার্বার: ৪৯টি (সাধারণ ২৭, তফসিলি জাতি ৭, তফসিলি উপজাতি ৩, ও বি সি ১২)। মালি: ৭টি (সাধারণ ২, তফসিলি জাতি ২, ও বি সি ৩)। টেলর: ২০টি (সাধারণ ১৫, তফসিলি জাতি ২, ও বি সি ৩)। কবলার: ২২টি (সাধারণ ১৪, তফসিলি

কলকাতা পুলিশে ৬১৩ সিভিক ভলান্টিয়ার

৬১৩ জন সিভিক ভলান্টিয়ার নেবে কলকাতা পুলিশ। নিয়োগ করা হবে কলকাতা পুলিশের বিভিন্ন ডিভিশন ও ইউনিটে। প্রথমে ২ সপ্তাহের ট্রেনিং। মহিলারাও আবেদন করতে পারেন। এই নিয়োগের বিজ্ঞপ্তি নম্বর: FRC/Recruit/12/2018. শূন্যপদের বিবরণ: ট্রাফিক বিভাগ: ১৯০টি, নর্থ ও নর্থ সুবার্বন ডিভিশন:

৩৭টি, সেন্ট্রাল ডিভিশন: ৪৩টি, সাউথ ডিভিশন: ১৬টি, ইস্ট ডিভিশন: ৭৫টি, ইস্টার্ন সুবার্বন ডিভিশন: ২৪টি, সাউথ ইস্ট ডিভিশন: ১২টি, সাউথ সুবার্বন ডিভিশন: ১১টি, সাউথ ওয়েস্ট ডিভিশন: ৪০টি, ফাস্ট-ব্যাটেলিয়ন, কলকাতা আর্মড পুলিশ: ৫টি, কলকাতা পুলিশ ট্রেনিং অ্যাকাডেমি: ২৫টি, খার্ড এরপর চারের পাতায়

পশ্চিমবঙ্গ সরকার
যুব কল্যাণ দপ্তর
VOCATIONAL TRAINING INSTITUTE
UNDER STATE YOUTH CENTRE, MOULALI

YOUTH SERVICE DEPT. Govt. of West Bengal & WB URBAN ACADEMY-একটি যৌথ উদ্যোগ

মাধ্যমিক/উচ্চ মাধ্যমিক পরীক্ষার্থীদের আবেদন গ্রাহ্য হবে

ADVANCE DIPLOMA/DIPLOMA			CERTIFICATE		
COURSE	DURATION	AMOUNT	COURSE	DURATION	AMOUNT
INTERIOR DECORATING & DESIGN	18 Months	10,100/-	TEXTILE DESIGNING	6 Months	2,500/-
FASHION DESIGNING	18 Months	8,150/-	BEAUTICIAN	6 Months	2,100/-
COMPUTER HARDWARE & NETWORKING	12 Months	5,000/-	AIR CONDITION & REFRIGERATOR ENGINEERING	6 Months	2,500/-
TELEPHONE & MOBILE REPAIRING	12 Months	5,000/-	ANCHORING	6 Months	2,100/-
STILL PHOTOGRAPHY	12 Months	3,350/-	ELECTRICAL/ELECTRONICS EQUIPMENT SERVICE & REPAIRING	6 Months	2,500/-

সমস্ত কোর্সের টাকা মাসিক কিস্তিতে দেওয়ার সুবিধা আছে।

MOULALI:
New Campus - 53, Sir Nilratan Sircar Sarani (Creek Row), IMA Building Gr. Floor, (Behind GD Hospital), Lenin Sarani & From Moulali towards Subodh Mallick Square through Creek Row) Kolkata - 700 014, Bus Stop Talta. Ph.: 033-22492552, 9831974348, 9433153569, 9874126490

DURGAPUR:
2nd Administrative Building, City Centre, Ph.: 0343 2544432 / 9830275795

HOWRAH:
158/11, 158/12, Bellious Road (Near Pusposree Cinema) Near UCO Bank, Hazra Building, Howrah - 711101 Ph.: 9230704344/9143163495/9433045288

SOUTH KOLKATA YOUTH VOCATIONAL TRAINING CENTRE
Kalikapur, Embyepass, Avisikta, 3 No. Hospital Road, 1st Lane Connector (Near Hd/c/bandu Tirtha Club) Kol-78, Ph.: 8240425239

ভর্তি চলিতেছে **ভর্তি চলিতেছে**

অসম রাইফেলসে ৭৪৯ গ্রুপ 'বি' ও 'সি' কর্মী

ক্রাফ, নার্স, পার্সোনাল অ্যাসিস্ট্যান্ট, ফিজিও থেরাপিস্ট-সহ মোট ৩৩টি ট্রেডে বিভিন্ন রাজ্য থেকে ৭৪৯ জন গ্রুপ 'বি' ও গ্রুপ 'সি' কর্মী নেবে অসম রাইফেলস। র্যালির মাধ্যমে প্রার্থী বাছাই হবে। র্যালি আয়োজিত হবে ২৮ জানুয়ারি থেকে অসম, মেঘালয় ও নাগাল্যান্ডের বিভিন্ন কেন্দ্রে। কলনেটোরে র্যালিকেন্দ্র জানিয়ে দেওয়া হবে। যে-কোনও একটি রাজ্যের

শূন্যপদে আবেদন করবেন। রাজ্য ও ট্রেড অনুসারে শূন্যপদের বিন্যাস: পশ্চিমবঙ্গ: সিরিয়াল নম্বর ৩৬: মোট শূন্যপদ ৩৪টি (সাধারণ ১৯, তফসিলি জাতি ৮, তফসিলি উপজাতি ১, ও বি সি ৬)। (এ) হাবিলদার (ক্রাফ): ৮টি (সাধারণ ৪, তফসিলি উপজাতি ২, ও বি সি ২)। (বি) ওয়ারেন্ট অফিসার (পার্সোনাল অ্যাসিস্ট্যান্ট): ১টি এরপর তেরের পাতায়

রাজ্যের জয়েন্ট এন্ট্রান্স পরীক্ষা ১৯ মে

রাজ্যের বিভিন্ন কলেজ এবং বিশ্ববিদ্যালয়ে ইঞ্জিনিয়ারিং ও টেকনোলজি, ফার্মাসি ও আর্কিটেকচারের স্নাতক কোর্সে ভর্তির প্রবেশিকা পরীক্ষা পশ্চিমবঙ্গ জয়েন্ট এন্ট্রান্স এক্সামিনেশন-২০১৯ আয়োজিত হবে ১৯ মে (রবিবার)। পরীক্ষাটি পরিচালনা করবে ওয়েস্ট বেঙ্গল জয়েন্ট এন্ট্রান্স এক্সামিনেশনস বোর্ড। বিষয় অনুসারে শিক্ষাগত যোগ্যতা: ইঞ্জিনিয়ারিং: ফিজিক্স, ম্যাথমেটিক্স এবং কেমিস্ট্রি বা বায়োলজি বা বায়োমেডিক্যাল বা কম্পিউটার সায়েন্স বা কম্পিউটার অ্যাপ্লিকেশন বা টেকনিক্যাল ভোকেশনাল বিষয়ের মধ্যে যে-কোনও একটি বিষয়-সহ উচ্চমাধ্যমিক পাশ। তিনটি বিষয়ে মোট অন্তত ৪৫ শতাংশ (তফসিলি, ও বি সি এবং দৈহিক প্রতিবন্ধীদের ক্ষেত্রে ৪০ শতাংশ) নম্বর পেয়ে থাকতে হবে। মেরিন ইঞ্জিনিয়ারিং: ফিজিক্স, কেমিস্ট্রি এবং ম্যাথমেটিক্স-সহ উচ্চমাধ্যমিক পাশ। তিনটি বিষয়ে মোট অন্তত ৬০ শতাংশ নম্বর পেয়ে থাকতে হবে। এর পাশাপাশি মাধ্যমিক বা উচ্চমাধ্যমিকে ইংরেজিতে অন্তত ৫০ শতাংশ নম্বর পেয়ে থাকতে হবে। আর্কিটেকচার: ম্যাথমেটিক্স-সহ উচ্চমাধ্যমিক পাশ। উচ্চমাধ্যমিকে মোট অন্তত ৪৫ শতাংশ (তফসিলি, ও বি সি এরপর পাঠের পাতায়

এই প্রথম ম্যানেজমেন্ট, লিডারশিপ এবং স্কিল ট্রেনিং-এর পাঠ্যক্রম একই কোর্সে

INTRODUCING

DIPLOMA in MANAGEMENT & LEADERSHIP

Specialisation on Domain like
Automobile / Accounting / IT-Hardware & Networking

এখন দাঁড় Course Fees-এর 10%* বাকিটা চাকরি পাওয়ার পর

FREE Laptop • Grooming Kit • Tool Kit • Interview Dress

Accredited & Certified by

ASCENSIVE EDUCARE
Training Partner of NSDC

AMTALA- 6290450570/8335069124
ARAMBAGH- 8336902886/9732863555
BARASAT- 8336902873/8335069116
BAGNAN- 8336902884/7439474395
CHANDANNAGAR- 8336902867/9330698329
UTTARPARA- 8336902887/8335069105

Corporate Office: BF-32, Sec-1, Salt Lake City, Bidhannagar, Kolkata - 700 054
Phone: (033) 4071 5661 | info@aimetr.com
www.ascensiveeducare.com

কলকাতা, ১৯ ডিসেম্বর ২০১৮/৪

নেহরু যুব কেন্দ্র সংগঠনে ২২৮

ডিস্ক্রিট ইউথ কোঅর্ডিনেটর, অ্যাকাউন্টস ক্লার্ক-কাম-টাইপিষ্ট এবং মাল্টি ট্যাক্সি স্টাফ পদে ২২৮ জনকে নেবে নেহরু যুব কেন্দ্র সংগঠন। এটি কেন্দ্রের ক্রীড়া এবং যুব মন্ত্রকের অধীনস্থ একটি স্বশাসিত সংস্থা। ট্রেনিং-কাম-প্রবেশন ২ বছরের। প্রার্থী বাছাইয়ের জন্য পরীক্ষা নেওয়া হবে। পশ্চিমবঙ্গের পরীক্ষাকেন্দ্র কলকাতা।

শূন্যপদের বিবরণ: ডিস্ক্রিট ইউথ কোঅর্ডিনেটর: ১০১টি (সাধারণ ৫১, তফসিলি জাতি ১৫, তফসিলি উপজাতি ৮, ও বি সি ২৯)। এর মধ্যে ৪টি শূন্যপদ দৈহিক প্রতিবন্ধীদের জন্য সংরক্ষিত থাকবে। শিক্ষাগত যোগ্যতা: মে-কোনও বিষয়ে স্নাতকোত্তর ডিগ্রি। গ্রামোন্নয়ন বা যুবকল্যাণ বা স্বেচ্ছা-সমাজসেবার কাজে ৩ বছরের অভিজ্ঞতা থাকলে অগ্রাধিকার। বয়স: ১-১২-২০১৮ তারিখে ২৮ বছরের মধ্যে হতে হবে। বেতনক্রম: ৫৬,১০০-১,৭৭,৫০০ টাকা।

অ্যাকাউন্টস ক্লার্ক-কাম-টাইপিষ্ট: ৭৫টি (সাধারণ ৩৭, তফসিলি জাতি ১১, তফসিলি উপজাতি ৫, ও বি সি ২০)। এর মধ্যে দৈহিক প্রতিবন্ধীদের জন্য ৫টি এবং প্রাক্তন সমরকর্মীদের জন্য ৭টি শূন্যপদ সংরক্ষিত থাকবে। শিক্ষাগত যোগ্যতা: বি কম। অথবা মে-কোনও শাখায় স্নাতক, সঙ্গে অ্যাকাউন্টসের কাজে ২ বছরের অভিজ্ঞতা। উভয় ক্ষেত্রেই পাশাপাশি ইংরেজিতে প্রতি মিনিটে ৩০টি শব্দ বা হিন্দিতে প্রতি মিনিটে ২৫টি শব্দ টাইপ করার দক্ষতা থাকতে হবে এবং কম্পিউটার অ্যাপ্লিকেশন বিষয়ে জ্ঞান থাকতে হবে। রাজীব গান্ধী ন্যাশনাল ইনস্টিটিউট অব ইউথ ডেভেলপমেন্ট থেকে মে-কোনও বিষয়ে স্নাতকোত্তর ডিগ্রি কোর্স করে থাকলে, ন্যাশনাল সার্ভিস ভলান্টিয়ার বা রাষ্ট্রীয় সন্তাবনা যোজনা ভলান্টিয়ার বা ন্যাশনাল ইউথ কার ভলান্টিয়ার হিসেবে ২ বছরের কাজের অভিজ্ঞতা থাকলে অগ্রাধিকার। বয়স: ৩১-১২-২০১৮ তারিখে ২৮ বছরের মধ্যে হতে হবে। বেতনক্রম: ২৫,৫০০-৮১,১০০ টাকা।

মাল্টি ট্যাক্সি স্টাফ: ৫২টি (সাধারণ ২৬, তফসিলি জাতি ৮, তফসিলি উপজাতি ৪, ও বি সি ১৪)। এর মধ্যে দৈহিক প্রতিবন্ধীদের জন্য ২টি এবং প্রাক্তন সমরকর্মীদের জন্য ৫টি শূন্যপদ সংরক্ষিত থাকবে। শিক্ষাগত যোগ্যতা: মাধ্যমিক। হোম গার্ড বা সিভিল ডিফেন্স বেসিক অ্যান্ড রিফ্রেশার কোর্স করে থাকলে, ন্যাশনাল সার্ভিস ভলান্টিয়ার বা রাষ্ট্রীয় সন্তাবনা যোজনা ভলান্টিয়ার বা ন্যাশনাল ইউথ কার ভলান্টিয়ার হিসেবে ১ বছরের কাজের অভিজ্ঞতা থাকলে অগ্রাধিকার। বয়স: ৩১-১২-২০১৮ তারিখে ১৮ থেকে ২৫ বছরের মধ্যে হতে হবে। বেতনক্রম: ১৮,০০০-৫৬,৯০০ টাকা।

তফসিলি, ও বি সি, দৈহিক প্রতিবন্ধী এবং প্রাক্তন সমরকর্মীরা নিয়মানুসারে বয়সের ছাড় পাবেন।

প্রার্থী বাছাই করা হবে অনলাইন পরীক্ষা এবং প্রযোজ্য ক্ষেত্রে পার্সোনাল ইন্টারভিউ ও টাইপিং স্কিল টেস্টের মাধ্যমে। ডিস্ক্রিট ইউথ কোঅর্ডিনেটর পদের ক্ষেত্রে প্রশ্ন হবে রিজনিং, জেনারেল নলেজ, ইংরেজি, কোয়ান্টিটেটিভ অ্যাপ্টিটিউড এবং ইন্ডিয়ান ইকনমি, সোশ্যাল, কানচারাল, লিগাল অ্যান্ড পলিটিক্যাল এনভায়রনমেন্ট, কমিউনিটি অ্যান্ড ইউথ ডেভেলপমেন্ট প্রোগ্রাম বিষয়ে। অ্যাকাউন্টস ক্লার্ক পদের ক্ষেত্রে প্রশ্ন হবে রিজনিং, অ্যাকাউন্টস, ইংরেজি, কম্পিউটার নলেজ এবং কোয়ান্টিটেটিভ অ্যাপ্টিটিউড বিষয়ে। মাল্টি ট্যাক্সি স্টাফ পদের ক্ষেত্রে রিজনিং, জেনারেল অ্যাওয়ারেনেস, জেনারেল ইংলিশ এবং কোয়ান্টিটেটিভ অ্যাপ্টিটিউড বিষয়ে প্রশ্ন হবে। সময়সীমা ২ ঘণ্টা। নেগেটিভ মার্কিং

কলকাতা পুলিশে ৬১৩ সিভিক ভলান্টিয়ার

প্রথম পাতার পর

ব্যাটেলিয়ন, কলকাতা আর্মড পুলিশ: ৫টি, সিবিআর ব্যাটেলিয়ন, কলকাতা আর্মড পুলিশ: ৫টি, কলকাতা পুলিশ ব্যান্ড অ্যান্ড অর্কেস্ট্রা: ২০টি, পোর্ট ডিভিশন: ২৩টি, কলকাতা হোম গার্ড অর্গানাইজেশন: ১০টি, পুলিশ হার্ডসিং এস্টেট: ২৫টি, কমিউনিটি পুলিশিং উইং: ৩০টি, রিভার ট্রাফিক পুলিশ: ১৭টি।

শিক্ষাগত যোগ্যতা: ক্লাস এইট। শারীরিকভাবে সুস্থ হতে হবে। খেলাধুলায় পারদর্শী হলে এবং এন সি সি ক্যাডেট বা বয় স্কাউট বা এন এস এস গাইড বা সিভিল ডিফেন্স ভলান্টিয়ার হিসেবে কাজের অভিজ্ঞতা থাকলে অগ্রাধিকার। কলকাতা পুলিশের আওতাধীন এলাকার স্থায়ী বাসিন্দার অগ্রাধিকার পাবেন। পুলিশ হার্ডসিং এস্টেটের ক্ষেত্রে প্রাথিত, কাপেইন্ডি বা ম্যাসনারির কাজে অভিজ্ঞতা থাকলে অগ্রাধিকার। রিভার ট্রাফিক পুলিশ ইউনিটের ক্ষেত্রে সাঁতার জানা আবশ্যিক। এর পাশাপাশি ইঞ্জিনিয়ারিং ডিগ্রি এবং সার্বিক হিসেবে কাজের অভিজ্ঞতা থাকতে হবে।

বয়স: ১-১২-২০১৮ তারিখে ২০ থেকে ৬০ বছরের মধ্যে হতে হবে।

প্রার্থী বাছাই করা হবে ইন্টারভিউয়ের মাধ্যমে। তবে, কর্তৃপক্ষের তরফে জানানো হয়েছে, নির্বাচিত প্রার্থীরা কলকাতা পুলিশ বা রাজ্য সরকারের অন্য কোনও দপ্তরে এই নিয়োগকে স্থায়ী চাকরি বলে দাবি করতে পারবেন না।

দরখাস্ত করতে হবে নির্দিষ্ট বয়ানে। দরখাস্তের বয়ান পাবেন এই ওয়েবসাইটে: www.kolkatapolice.gov.in দরখাস্তের বয়ান এ-ফরম মাপের কাগজে প্রিন্ট করিয়ে নেবেন। মে-কোনও একটি ইউনিটের শূন্যপদের জন্য আবেদন করবেন। দরখাস্ত পূরণ করবেন যথাযথভাবে।

পূরণ করা দরখাস্তের সঙ্গে দেবেন

- ✓ প্রার্থীর এক কপি পাসপোর্ট মাপের স্বপ্রত্যয়িত ফটো। ফটোটো দরখাস্তের নির্দিষ্ট স্থানে স্টেটে দেবেন।
- ✓ বয়স এবং শিক্ষাগত যোগ্যতার বাবতীয় প্রমাণপত্রের স্বপ্রত্যয়িত নকল।
- ✓ প্রার্থীর সচিব পরিচয়পত্রের স্বপ্রত্যয়িত নকল।
- ✓ প্রযোজ্য ক্ষেত্রে কাজের অভিজ্ঞতার সার্টিফিকেটের স্বপ্রত্যয়িত নকল।
- ✓ প্রার্থীর স্থায়ী বাসিন্দা হওয়ার প্রমাণপত্রের স্বপ্রত্যয়িত নকল।

প্রয়োজনীয় নথিপত্র-সহ দরখাস্ত-ভরা খামের উপর লিখবেন: APPLICATION FOR THE POST OF CIVIC VOLUNTEER. দরখাস্ত মে-ইউনিটের শূন্যপদের জন্য আবেদন করেছেন সেই ইউনিটের ঠিকানায় রাখা নির্দিষ্ট ড্রপ বক্সে ২০

আছে। পশ্চিমবঙ্গের পরীক্ষাকেন্দ্র বৃহত্তর কলকাতা।

অনলাইন দরখাস্ত করতে হবে এই ওয়েবসাইটের মাধ্যমে: www.nyks.nic.in। অনলাইন দরখাস্ত করতে হবে এই ওয়েবসাইটের মাধ্যমে: www.nyks.nic.in। অনলাইন দরখাস্ত করা যাবে ৩১ ডিসেম্বর প্রার্থীর চালু ই-মেল আই ডি থাকতে হবে। অনলাইন দরখাস্ত করার সময় প্রার্থীর স্ক্যান করা পাসপোর্ট পর্যন্ত। মনে রাখবেন, অনলাইন দরখাস্ত করার সময় প্রার্থীর স্ক্যান করা পাসপোর্ট মাপের রঙিন ফটো (জে পি জি বা জেপেগ ফর্ম্যাটে ২০০x২৩০ পিক্সেল ডাইমেনশনে ২০-৫০ কেবি সাইজের মধ্যে), কালো কালির সই (জে পি জি বা ডাইমেনশনে ২০-৫০ কেবি সাইজের মধ্যে), জেপেগ ফর্ম্যাটে ১৪০x৬০ পিক্সেল ডাইমেনশনে ১০-২০ কেবি সাইজের মধ্যে), জেপেগ ফর্ম্যাটে ১৪০x৬০ পিক্সেল ডাইমেনশনে ১০-২০ কেবি সাইজের মধ্যে), বাহাতের বুড়ো আঙুলের ছাপ (জে পি জি বা জেপেগ ফর্ম্যাটে ২৪০x২৪০ পিক্সেল ডাইমেনশনে ২০-৫০ কেবি সাইজের মধ্যে) এবং হাতে লেখা ডিক্লারেশন (জে পি জি বা জেপেগ ফর্ম্যাটে ৮০০x৪০০ পিক্সেল ডাইমেনশনে ৫০-১০০ কেবি সাইজের মধ্যে) আপলোড করতে হবে।

অনলাইন পদ্ধতিতে ফি বাবদ দিতে হবে ৭০০ টাকা (মহিলাদের ক্ষেত্রে ৩৫০ টাকা)। তফসিলি, দৈহিক প্রতিবন্ধী এবং প্রাক্তন সমরকর্মীদের কোনও ফি লাগবে না। অনলাইনে ক্রেডিট কার্ড বা ডেবিট কার্ড (ক্রেডিট/ভিসা/মাস্টার কার্ড/মায়ের্স্ট্রো), ইন্টারনেট ব্যাঙ্কিং, আই এম পি এস (ইমিডিয়েট পেমেন্ট সার্ভিস), ক্যাশ কার্ড বা মোবাইল ওয়ালেটের মাধ্যমে ফি জমা দেওয়া যাবে। ফি জমা দেওয়ার পর ই-রিসিট এবং পূরণ করা দরখাস্তের এক কপি সিস্টেম জেনারেটেড প্রিন্ট আউট নিয়ে নেবেন। এগুলি কোথাও পাঠাতে হবে না। নিজের কাছে রাখবেন, পরে প্রয়োজন হবে।

খুঁটিনাটি তথ্য পাবেন উপরোক্ত ওয়েবসাইটে।

এয়ার ইন্ডিয়া ট্রান্সপোর্ট সার্ভিসেসে ২৪৪

ওয়াক-ইন ইন্টারভিউ ৫, ১২ ও ১৯ জানুয়ারি, কলকাতায় হ্যাভিম্যান, কাস্টমার এজেন্ট, ইউটিলিটি এজেন্ট-কাম-র‍্যাম্প ড্রাইভার এবং র‍্যাম্প সার্ভিস এজেন্ট পদে ২৪৪ জনকে নেবে এয়ার ইন্ডিয়া এয়ার ট্রান্সপোর্ট সার্ভিসেস। এটি এয়ার ইন্ডিয়ার অধীনস্থ একটি সংস্থা। প্রাথমিকভাবে ৩ বছরের চুক্তিতে নিয়োগ হবে। প্রার্থী বাছাই করা হবে ওয়াক-ইন-ইন্টারভিউয়ের মাধ্যমে, কলকাতায়।

ইন্টারভিউ হ্যাভিম্যান ও কাস্টমার এজেন্ট পদের ক্ষেত্রে যথাক্রমে ১৯ জানুয়ারি ও ৫ জানুয়ারি, র‍্যাম্প সার্ভিস এজেন্ট এবং ইউটিলিটি এজেন্ট-কাম-র‍্যাম্প ড্রাইভার পদের ক্ষেত্রে ১২ জানুয়ারি। ইন্টারভিউ সকাল ৯টা থেকে বেলা সাড়ে ১১টা পর্যন্ত।

আবেদন করতে হবে নির্দিষ্ট বয়ানে। আবেদনের বয়ান ডাউনলোড করে নেবেন এই ওয়েবসাইটে থেকে: www.airindia.in ফি বাবদ দিতে হবে ৫০০ টাকার ডিম্যান্ড ড্রাফট। ড্রাফটটি "AIR INDIA AIR TRANSPORT SERVICES LTD"-এর অনুকূলে মুহূর্তে প্রদেয় হতে হবে। তফসিলি জাতি এবং প্রাক্তন সমরকর্মীদের কোনও ফি লাগবে না।

প্রয়োজনীয় নথিপত্র সঙ্গে নিয়ে যাবেন। ইন্টারভিউ কেন্দ্রের ঠিকানা: Air India Ltd. Engineering Complex, New Technical Area, Dum Dum, Kolkata-700 052.

বিশদ তথ্যের জন্য দেখুন উপরোক্ত ওয়েবসাইটে।

হেভি ইঞ্জিনিয়ারিং কর্পোরেশনে ১৪৮ তরুণ-তরুণীকে অ্যাপ্রেন্টিসশিপ ট্রেনিং

১৪৮ জন আই টি আই, স্নাতক ও ডিপ্লোমাদারী তরুণ-তরুণীকে বিভিন্ন শাখায় অ্যাপ্রেন্টিসশিপ ট্রেনিং দেবে হেভি ইঞ্জিনিয়ারিং কর্পোরেশন। প্রধানমন্ত্রী কৌশল বিকাশ যোজনার অধীনে তিন বছরের ট্রেনিং দেওয়া হবে। ট্রেনিং চলাকালীন স্টাইপেন্ড পাওয়া যাবে। এই ট্রেনিংয়ের বিজ্ঞপ্তি নম্বর: RT/15/2018.

শাখা ও যোগ্যতা অনুসারে আসনবিন্যাস: আই টি আই ট্রেনিং: ইলেক্ট্রিশিয়ান: ১৩টি। ফিটার: ১২টি। মেশিনিস্ট: ১০টি। টার্নার: ১০টি। ফাউন্ড্রিয়ান/মোল্ডার: ১০টি। ওয়েল্ডার: ৮টি। শিক্ষাগত যোগ্যতা: মাধ্যমিক, সঙ্গে সংশ্লিষ্ট ট্রেডে আই টি আই কোর্স পাশ।

ডিপ্লোমা ইঞ্জিনিয়ার ট্রেনিং: মেকানিক্যাল টুল অ্যান্ড ডাই মেকিং: ২৩টি। সিভিল ৫টি। মেটালার্জি/ফাউন্ড্রি টেকনোলজি/ফর্জ টেকনোলজি: ১০টি। ইলেক্ট্রিক্যাল: ১০টি। কেমিক্যাল: ৭টি। শিক্ষাগত যোগ্যতা: সংশ্লিষ্ট ইঞ্জিনিয়ারিং শাখায় ডিপ্লোমা। পার্সোনেল ট্রেনিং: ১৮টি। ফিন্যান্স ট্রেনিং: ৮টি। শিক্ষাগত যোগ্যতা: উভয় ক্ষেত্রেই ৫৫ শতাংশ (তফসিলি এবং দৈহিক প্রতিবন্ধীদের ক্ষেত্রে ৫০ শতাংশ) নম্বর এবং পার্সোনাল ম্যানেজমেন্ট বা হিউম্যান রিসোর্স বা ফিন্যান্স বা সমতুল্য বিষয়ে স্পেশালাইজেশন-সহ এম বি এ।

আই টি ট্রেনিং: ৪টি। শিক্ষাগত যোগ্যতা: মোট ৫৫ শতাংশ (তফসিলি এবং দৈহিক প্রতিবন্ধীদের ক্ষেত্রে ৫০ শতাংশ) নম্বর-সহ ইনফর্মেশন টেকনোলজিতে বি টেক অথবা এম সি এ।

নিয়মানুসারে তফসিলি, ও বি সি এবং দৈহিক প্রতিবন্ধীদের জন্য আসন সংরক্ষিত থাকবে।

বয়স: ১-১২-২০১৮ তারিখে ২৮ বছরের মধ্যে হতে হবে। তফসিলি ৫, ও বি সি-রা ৩ বছর এবং দৈহিক প্রতিবন্ধীরা নিয়মানুসারে বয়সের ছাড় পাবেন।

স্টাইপেন্ড: আই টি আই ট্রেনিংর ক্ষেত্রে ট্রেনিংয়ের প্রথম, দ্বিতীয় এবং তৃতীয় বছরে যথাক্রমে নির্দিষ্ট মাসিক ৬,০০০ টাকা, ৭,০০০ টাকা এবং ৮,০০০ টাকা। ডিপ্লোমা ইঞ্জিনিয়ার ট্রেনিদের ক্ষেত্রে ট্রেনিংয়ের প্রথম, দ্বিতীয় এবং তৃতীয় বছরে যথাক্রমে নির্দিষ্ট মাসিক ৮,০০০ টাকা, ৯,০০০ টাকা এবং ১০,০০০ টাকা। বাকি সবক'টি শাখার ট্রেনিদের ক্ষেত্রে ট্রেনিংয়ের প্রথম, দ্বিতীয় এবং তৃতীয় বছরে যথাক্রমে নির্দিষ্ট মাসিক ১০,০০০ টাকা, ১১,০০০ টাকা এবং ১২,০০০ টাকা।

প্রার্থী বাছাই করা হবে লিখিত পরীক্ষা এবং ট্রেড টেস্ট বা টাঙ্ক অবজার্ভেশন টেস্ট বা অ্যাপ্টিটিউড টেস্টের মাধ্যমে।

অনলাইন দরখাস্ত করতে হবে এই ওয়েবসাইটের মাধ্যমে: <http://hecltd.com/jobs-at-hec.php> অনলাইন দরখাস্তের শেষ তারিখ ৮ জানুয়ারি। প্রার্থীর চালু ই-মেল আই ডি থাকতে হবে। মনে রাখবেন, অনলাইন দরখাস্ত পূরণের সময় প্রার্থীর স্ক্যান করা ফটো (জে পি জি বা জেপেগ ফর্ম্যাটে ২০ থেকে ৫০ কেবি সাইজের মধ্যে) ও কালো কালির সই (জে পি জি বা জেপেগ ফর্ম্যাটে ১০ থেকে ২০ কেবি সাইজের মধ্যে) আপলোড করতে হবে। তিন মাসের পূর্বনো ফটো চলবে না।

অনলাইনে ফি বাবদ দিতে হবে ৮০০ টাকা। তফসিলি ও দৈহিক প্রতিবন্ধীদের কোনও ফি লাগবে না। ফি জমা দেওয়া যাবে অনলাইন-অফলাইন উভয় পদ্ধতিতেই। অনলাইনে ফি জমা দিতে হবে ইন্টারনেট ব্যাঙ্কিং বা ক্রেডিট বা ডেবিট কার্ড (ভিসা বা মাস্টার)-এর মাধ্যমে। অফলাইনে ফি দেওয়া যাবে ব্যাঙ্ক চালানের মাধ্যমে। চালান ডাউনলোড করা যাবে উপরোক্ত ওয়েবসাইটে থেকে। চালানের মাধ্যমে ফি দিলে ফি জমা দেওয়ার পর আবার উপরোক্ত ওয়েবসাইটে লগ-ইন করে ফি জমা দেওয়ার তথ্যাদি দিতে হবে। ফি জমা দেওয়ার শেষ তারিখ ১০ জানুয়ারি। রেজিস্ট্রেশন নম্বর-সহ রেজিস্ট্রেশন স্লিপ এবং ফি জমা দেওয়ার পর ই-রিসিটের এক কপি প্রিন্ট আউট নিয়ে নেবেন। অনলাইন আবেদনপত্র পূরণের সময় এস বি আই কালেক্ট রেফারেন্স নম্বরের অবশ্যই উল্লেখ করতে হবে।

খুঁটিনাটি তথ্যের জন্য দেখুন এই ওয়েবসাইটে: www.hecltd.com

বি এস এন এল-এ ১৫০ ম্যানেজমেন্ট ট্রেনিং

১৫০ জন ম্যানেজমেন্ট ট্রেনিং (টেলিকম অপারেশনস) নেবে ভারত সফটার নিগম (বি এস এন এল)। প্রবেশন-কাম-ট্রেনিং ২ বছরের। সফলভাবে ট্রেনিং শেষে নিয়োগ করা হবে ম্যানেজার পদে। প্রার্থী বাছাই করা হবে অনলাইন পরীক্ষার মাধ্যমে। পশ্চিমবঙ্গের পরীক্ষাকেন্দ্র কলকাতা। এই নিয়োগের বিজ্ঞপ্তি নম্বর 74-1 (2)/2018-Recit.

মোট শূন্যপদ: ১৫০টি (সাধারণ ৭৬, তফসিলি জাতি ২৩, তফসিলি উপজাতি ১১, ও বি সি ৪০)। এর মধ্যে ৩টি করে শূন্যপদ শ্রবণসংক্রান্ত প্রতিবন্ধী এবং অস্থিসংক্রান্ত প্রতিবন্ধীদের জন্য সংরক্ষিত থাকবে। শিক্ষাগত যোগ্যতা: ৬০ শতাংশ (তফসিলিদের ক্ষেত্রে ৫৫ শতাংশ) নম্বর-সহ টেলিকমিউনিকেশন বা ইলেক্ট্রিক্যাল বা কম্পিউটার বা ইনফর্মেশন টেকনোলজি বা ইলেক্ট্রিক্যাল ইঞ্জিনিয়ারিংয়ের মধ্যে মে-কোনও একটি বিষয়ে বি ই বা বি টেক, সঙ্গে এম বি এ বা এম টেক। বয়স: ১-১২-২০১৯ তারিখে ৩০ বছরের মধ্যে হতে হবে। তফসিলি ৫, ও বি সি ৩ এবং দৈহিক প্রতিবন্ধীরা ১০ বছরের বয়সের ছাড় পাবেন। প্রাক্তন সমরকর্মীদের নিয়মানুসারে বয়সের ছাড় পাবেন। বেতনক্রম: ২৪,৯০০-৫০,৫০০ টাকা।

প্রার্থী বাছাই করা হবে একটি অনলাইন পরীক্ষা, গ্রুপ ডিসকাশন এবং ইন্টারভিউয়ের মাধ্যমে। পরীক্ষায় অবজেক্টিভ ধরনের মাল্টিপল চয়েস প্রশ্ন হবে। ম্যানেজমেন্ট অ্যাপ্টিটিউড (১৫০ নম্বর), কগনিটিভ এবিলিটি (১৫০ নম্বর) এবং টেকনিক্যাল নলেজ (১৫০ নম্বর) বিষয়ে। পরীক্ষা ১৭ মার্চ, সকাল ১০টা থেকে দুপুর ১টা। নেগেটিভ মার্কিং আছে।

অনলাইন দরখাস্ত করতে হবে এই ওয়েবসাইটের মাধ্যমে: www.bsnl.co.in। প্রার্থীর চালু ই-মেল আই ডি থাকতে হবে। দরখাস্ত করা যাবে ২৬ ডিসেম্বর থেকে ২৯ জানুয়ারি পর্যন্ত।

ফি বাবদ অনলাইনে দিতে হবে ২,২০০ টাকা (তফসিলিদের ক্ষেত্রে ১,১০০ টাকা)। ফি জমা দেওয়া যাবে ডেবিট বা ক্রেডিট কার্ড বা ইন্টারনেট ব্যাঙ্কিংয়ের মাধ্যমে। ফি দিয়ে পাওয়া ই-রিসিট এবং অনলাইনে সাবমিট করা দরখাস্তের এক কপি করে প্রিন্ট আউট নিয়ে নেবেন। এগুলি কোথাও পাঠাতে হবে না। নিজের কাছে রাখবেন। পরে কাজে লাগবে। খুঁটিনাটি তথ্যের জন্য দেখুন উপরোক্ত ওয়েবসাইটে।

কী পড়বেন, কোথায় পড়বেন

যাদবপুর বিশ্ববিদ্যালয়ে

ফার্মাকোভিজিলাসের সার্টিফিকেট কোর্স

ফার্মাকোভিজিলাসের সার্টিফিকেট কোর্সে ভর্তি নিচ্ছে যাদবপুর বিশ্ববিদ্যালয়ের ক্লিনিক্যাল রিসার্চ সেন্টার। কোর্সটি কলকাতার এ এম আর আই হাসপাতালের সঙ্গে যৌথ উদ্যোগে পড়ানো হবে। কোর্সটির পুরো নাম 'সার্টিফিকেট কোর্স ইন ফার্মাকোভিজিলাস ইন ক্লিনিক্যাল রিসার্চ'। কোর্সের মেয়াদ ৯ মাস। কোর্সটি শুরু হবে ফেব্রুয়ারিতে।

শিক্ষাগত যোগ্যতা: বি এসসি, স্নাতক স্তরে লাইফ সায়েন্স পড়ে থাকতে হবে। অথবা এম বি বি এস বা বি ডি এস বা এম ডি বা এম ডি এস বা বি ফার্ম বা বি ফার্ম (আয়ুর্বেদ) বা এম ফার্ম বা এম ফার্ম (আয়ুর্বেদ) বা বি এইচ এম এস বা বি ডি এসসি বা নার্সিং অথবা প্যারামেডিক্যাল কোর্সে ডিপ্লোমা থাকলেও আবেদন করা যাবে।

ভর্তির জন্য আবেদনপত্র সংগ্রহ করা যাবে যাদবপুর বিশ্ববিদ্যালয়ের ইনফর্মেশন সেন্টার থেকে। আবেদনের শেষ তারিখ ১৮ জানুয়ারি। প্রয়োজনে ফোন করতে পারেন এই নম্বরে: ৯০৮৮৪-০১৩৫৫৪।



স্কলারশিপের খোঁজখবর

ফাউন্ডেশন ফর এক্সেলেন্স স্কলারশিপ ২০১৮-১৯

২০১৮-১৯ শিক্ষাবর্ষে বি ই বা বি টেক বা এম বি বি এস বা ইন্টিগ্রেটেড ডুয়াল ডিগ্রি কোর্সের প্রথম বর্ষে পাঠরতদের স্কলারশিপ দিচ্ছে ফাউন্ডেশন ফর এক্সেলেন্স। বার্ষিক পারিবারিক আয় হতে হবে আড়াই লাখ টাকার নিচে।

আবেদনের যোগ্যতা: রাজ্য বা জাতীয় স্তরের প্রবেশিকা পরীক্ষার মাধ্যমে ইঞ্জিনিয়ারিং বা টেকনোলজি বা মেডিসিন নিয়ে স্নাতক বা ইন্টিগ্রেটেড ডুয়াল ডিগ্রি কোর্সে ভর্তি হয়ে থাকতে হবে।

অনলাইন আবেদন করতে হবে এই ওয়েবসাইটের মাধ্যমে: <http://www.b4s.in/karma/FFES> আবেদনের শেষ তারিখ ৩১ ডিসেম্বর।

সংস্কৃতি-কলাকৃতি ফেলোশিপ ২০১৮

নৃত্যে পারদর্শী ছাত্রছাত্রীদের স্কলারশিপ দিচ্ছে সংস্কৃতি ফাউন্ডেশন। স্কলারশিপের পরিমাণ: ৫০,০০০ টাকা।

আবেদনের যোগ্যতা: ইন্ডিয়ান ক্লাসিক্যাল ড্যান্স অন্তত ১০ বছরের ট্রেনিং নিয়ে থাকতে হবে। এর পাশাপাশি ২-৩টি একক নৃত্য প্রদর্শন করে থাকতে হবে। বয়স হতে হবে ২৫ থেকে ৪০ বছরের মধ্যে।

অনলাইন আবেদন করতে হবে এই ওয়েবসাইটের মাধ্যমে: <http://www.b4s.in/karma/KFS> আবেদনের শেষ তারিখ ৩১ ডিসেম্বর।

(তথ্য সহায়তা: buddy4study)

কবে কোন পরীক্ষা

বিজ্ঞপ্তি নম্বর 9(2(B))/2018 অনুসারে পশ্চিমবঙ্গ পাবলিক সার্ভিস কমিশন দ্বারা পরিলেখিত সিনিয়র কার্টোগ্রাফার পদে নিয়োগের ইন্টারভিউ ৩ ও ৪ জানুয়ারি। অ্যাডমিট কার্ড ২৭ ডিসেম্বর থেকে ডাউনলোড করা যাবে এই ওয়েবসাইট থেকে: www.pscwbapplication.in

রাজ্যের জয়েন্ট এন্ট্রান্স পরীক্ষা ১৯ মে

প্রথম পাতার পর

অন্তত ৫০ শতাংশ নম্বর পেয়ে থাকতে হবে। এর পাশাপাশি কাউন্সিল অব আর্কিটেকচার দ্বারা পরিচালিত 'ন্যাশনাল অ্যাপ্টিটিউড টেস্ট ইন আর্কিটেকচার' পরীক্ষা অথবা জয়েন্ট এন্ট্রান্স এক্সামিনেশন-মেন, ২০১৯ পরীক্ষার পেপার টুয়ে উত্তীর্ণ হতে হবে।

বয়স: ৩১-১২-২০১৯ তারিখে অন্তত ১৭ বছর হতে হবে। মেরিন ইঞ্জিনিয়ারিং কোর্সে ভর্তির ক্ষেত্রে বয়স হতে হবে ১৭ থেকে ২৫ বছরের মধ্যে।

জয়েন্ট এন্ট্রান্স পরীক্ষাটি নেওয়া হবে দু'টি পত্র—পেপার ওয়ান ও পেপার টু। পেপার ওয়ানে প্রশ্ন হবে ম্যাথমেটিক্স (১০০ নম্বর) এবং পেপার টুয়ে প্রশ্ন হবে ফিজিক্স (৫০ নম্বর) ও কেমিস্ট্রি (৫০ নম্বর) বিষয়ে। প্রশ্ন হবে মাল্টিপল চয়েস ধরনের। পরীক্ষার সময় পেপার ওয়ানের ক্ষেত্রে সকাল ১১টা থেকে দুপুর ১টা এবং পেপার টুয়ের ক্ষেত্রে দুপুর ২টা থেকে বিকেল ৪টা। পরীক্ষার বিস্তারিত সিলেবাস পাবেন এই ওয়েবসাইটে: www.wbjeeb.in ৭ মে (সম্ভাব্য) থেকে পরীক্ষার অ্যাডমিট কার্ড ডাউনলোডও করা যাবে এই ওয়েবসাইট থেকে।

অনলাইন দরখাস্ত করা যাবে ২৬ ডিসেম্বর থেকে ২২ জানুয়ারি পর্যন্ত এই ওয়েবসাইটের মাধ্যমে: www.wbjeeb.in প্রার্থীর চালু ই-মেল আই ডি থাকতে হবে। অনলাইন আবেদনের সময় প্রথমে রেজিস্ট্রেশন করতে হবে। মনে রাখবেন, অনলাইন আবেদনের সময় জে পি জি বা জেপেগ ফর্ম্যাটে প্রার্থীর স্ক্যান করা রঙিন ফটো (হালকা রঙের ব্যাকগ্রাউন্ডে, ৩ থেকে ১০০ কেবি সাইজের মধ্যে) এবং সই (৩ থেকে ৩০ কেবি সাইজের মধ্যে) আপলোড করতে হবে। আবেদনপত্র পূরণ করবেন যথাযথভাবে।

ফি বাবদ দিতে হবে ৫০০ টাকা। ফি জমা দেওয়া যাবে অনলাইনে নেট ব্যাঙ্কিং বা ডেবিট বা ক্রেডিট কার্ডের মাধ্যমে। ফি জমা দিয়ে পাওয়া ই-রিসিপ্টের এক কপি প্রিন্ট আউট নিয়ে নেবেন।

অনলাইনে আবেদনপত্র যথাযথভাবে সাবমিটের পর কনফার্মেশন পেজের এক কপি প্রিন্ট আউট নিয়ে নেবেন। এটি কোথাও পাঠাতে হবে না। নিজের কাছে রেখে দেবেন। পরে কাজে লাগবে। কনফার্মেশন পেজ ডাউনলোড করা যাবে ২৩ থেকে ২৫ জানুয়ারি পর্যন্ত।

খুঁটিনাটি তথ্যের জন্য দেখুন উপরোক্ত ওয়েবসাইট অথবা যোগাযোগ করতে পারেন এই ঠিকানায়: ওয়েস্ট বেঙ্গল জয়েন্ট এন্ট্রান্স এক্সামিনেশনস বোর্ড, এ কিউ-১৩/৩, সেক্টর ফাইভ, সফ্ট লেক সিটি, কলকাতা ৭০০০৯১। প্রয়োজনে যোগাযোগ করতে পারেন এই ফোন নম্বরে: ১৮০০-১০২৩-৭৮১, ১৮০০-৩৪৫০-০৫০।

পূর্ব-মধ্য রেল ২২৩৪ ট্রেড অ্যাপ্রেন্টিস

ইলেক্ট্রিশিয়ান: ১৪৮টি (সাধারণ ৭৫, তফসিলি জাতি ২২, তফসিলি উপজাতি ১১, ও বি সি ৪০)। ওয়েল্ডার (গ্যাস অ্যান্ড ইলেক্ট্রিক): ৮টি (সাধারণ ৪, তফসিলি জাতি ১, তফসিলি জাতি ১, ও বি সি ২)। মেকানিক (ডিজেলে): ৩৮টি (সাধারণ ১৯, তফসিলি জাতি ৬, তফসিলি উপজাতি ৩, ও বি সি ১০)। রেফ্রিজারেশন অ্যান্ড এসি মেকানিক: ৭৬টি (সাধারণ ৩৮, তফসিলি জাতি ১১, তফসিলি উপজাতি ৬, ও বি সি ২১)। ফর্জার অ্যান্ড হিট ট্রিটার: ২৪টি (সাধারণ ১২, তফসিলি জাতি ৪, তফসিলি উপজাতি ২, ও বি সি ৬)। কাপেন্টার: ১২টি (সাধারণ ৬, তফসিলি জাতি ২, তফসিলি উপজাতি ১, ও বি সি ৩)। পেইন্টার (জেনারেল): ১৬টি (সাধারণ ৯, তফসিলি জাতি ২, তফসিলি উপজাতি ১, ও বি সি ৪)। ওয়্যারম্যান: ২৬টি (সাধারণ ১৩, তফসিলি জাতি ৪, তফসিলি উপজাতি ২, ও বি সি ৭)।

ধানবাদ ডিভিশন: ফিটার: ৪২টি (সাধারণ ২১, তফসিলি জাতি ৬, তফসিলি উপজাতি ৩, ও বি সি ১২)। টার্নার: ২৩টি (সাধারণ ১২, তফসিলি জাতি ৩, তফসিলি উপজাতি ২, ও বি সি ৬)। মেশিনিস্ট: ৭টি (সাধারণ ৪, তফসিলি জাতি ১, ও বি সি ২)। কাপেন্টার: ৭টি (সাধারণ ৪, তফসিলি জাতি ১, ও বি সি ২)। ওয়েল্ডার (গ্যাস অ্যান্ড ইলেক্ট্রিক): ৪৫টি (সাধারণ ২৩, তফসিলি জাতি ৭, তফসিলি উপজাতি ৩, ও বি সি ১২)। মেকানিক ডিজেলে: ১৫টি (সাধারণ ৮, তফসিলি জাতি ২, তফসিলি উপজাতি ১, ও বি সি ৪)। ওয়্যারম্যান: ২২টি (সাধারণ ১১, তফসিলি জাতি ৩, তফসিলি উপজাতি ২, ও বি সি ৬)।

মোগলসরাই ডিভিশন: ফিটার: ৫২০টি (সাধারণ ২৬৩, তফসিলি জাতি ৭৮, তফসিলি উপজাতি ৩৯, ও বি সি ১৪০)। মেশিনিস্ট: ৪টি (সাধারণ ২, তফসিলি জাতি ১, ও বি সি ১)। ওয়েল্ডার (গ্যাস অ্যান্ড ইলেক্ট্রিক): ৩০টি (সাধারণ ১৫, তফসিলি জাতি ৫, তফসিলি উপজাতি ২, ও বি সি ৮)। ইলেক্ট্রিশিয়ান: ৪০টি (সাধারণ ২০, তফসিলি জাতি ৬, তফসিলি উপজাতি ৩, ও বি সি ১১)। মেকানিক মেশিন টুল মেইন্টেন্যান্স: ২টি (সাধারণ ১, ও বি সি ১)। টার্নার: ৬টি (সাধারণ ৩, তফসিলি জাতি ১, ও বি সি ২)। ওয়্যারম্যান: ৭০টি (সাধারণ ৩৫, তফসিলি জাতি ১১, তফসিলি উপজাতি ৫, ও বি সি ১৯)। রেফ্রিজারেশন অ্যান্ড এ সি মেকানিক: ২০টি (সাধারণ ১০, তফসিলি জাতি ৩, তফসিলি উপজাতি ২, ও বি সি ৫)। ইলেক্ট্রিশিয়ান মেকানিক: ১৬০টি (সাধারণ ৮১, তফসিলি জাতি ২৪, তফসিলি উপজাতি ১২, ও বি সি ৪৩)। মেকানিক (ডিজেলে): ৮০টি (সাধারণ ৪০, তফসিলি জাতি ১২, তফসিলি উপজাতি ৬, ও বি সি ২২)।

সমস্তিপুর ডিভিশন: ফিটার: ১৬টি (সাধারণ ৮, তফসিলি জাতি ২, তফসিলি উপজাতি ১, ও বি সি ৫)। টার্নার: ৫টি (সাধারণ ৩, তফসিলি জাতি ১, ও বি সি ১)। ওয়েল্ডার (গ্যাস অ্যান্ড ইলেক্ট্রিক): ৫টি (সাধারণ ৩, তফসিলি জাতি ১, ও বি সি ১)। ইলেক্ট্রিশিয়ান: ১২টি (সাধারণ ৬, তফসিলি জাতি ২, তফসিলি উপজাতি ১, ও বি সি ৩)। কাপেন্টার: ২টি (সাধারণ ১, ও বি সি ১)। মেকানিক (ডিজেলে): ২৩টি (সাধারণ ১২, তফসিলি জাতি ৩, তফসিলি উপজাতি ২, ও বি সি ৬)।

ল্যাবরেটরি অ্যাসিস্ট্যান্ট (সি পি): ৫টি (সাধারণ ৩, তফসিলি জাতি ১, ও বি সি ১)।

প্লান্ট ডিপো/মোগলসরাই: ফিটার: ৬০টি (সাধারণ ৩০, তফসিলি জাতি ১০, তফসিলি উপজাতি ৪, ও বি সি ১৬)। মেশিনিস্ট: ১৩টি (সাধারণ ৭, তফসিলি জাতি ২, তফসিলি উপজাতি ১, ও বি সি ৩)। ওয়েল্ডার (গ্যাস অ্যান্ড ইলেক্ট্রিক): ১৩টি (সাধারণ ৭, তফসিলি জাতি ২, তফসিলি উপজাতি ১, ও বি সি ৩)। ইলেক্ট্রিশিয়ান: ৫টি (সাধারণ ৩, তফসিলি জাতি ১, ও বি সি ১)। মেশিনিস্ট প্রাইভার: ১৫টি (সাধারণ ৮, তফসিলি জাতি ২, তফসিলি উপজাতি ১, ও বি সি ৪)। টার্নার: ১৩টি (সাধারণ ৭, তফসিলি জাতি ২, তফসিলি উপজাতি ১, ও বি সি ৩)। মেকানিক মোটর ভেহিকল: ৯টি (সাধারণ ৫, তফসিলি জাতি ১, তফসিলি উপজাতি ১, ও বি সি ২)। মেকানিক (ডিজেলে): ৯টি (সাধারণ ৫, তফসিলি জাতি ১, তফসিলি উপজাতি ১, ও বি সি ২)।

মেকানিক্যাল ওয়ার্কশপ/সমস্তিপুর: ফিটার: ৫৫টি (সাধারণ ২৮, তফসিলি জাতি ৮, তফসিলি উপজাতি ৪, ও বি সি ১৫)। মেশিনিস্ট: ১১টি (সাধারণ ৬, তফসিলি জাতি ১, তফসিলি উপজাতি ১, ও বি সি ৩)। ওয়েল্ডার (গ্যাস অ্যান্ড ইলেক্ট্রিক): ৩৫টি (সাধারণ ১৭,

তফসিলি জাতি ৫, তফসিলি উপজাতি ৩, ও বি সি ১০)। ইলেক্ট্রিশিয়ান: ৯টি (সাধারণ ৫, তফসিলি জাতি ১, তফসিলি উপজাতি ১, ও বি সি ২)।

কারেজ রিপেয়ার ওয়ার্কশপ/হারনট: ফিটার: ৭৪টি (সাধারণ ৩৭, তফসিলি জাতি ১১, তফসিলি উপজাতি ৬, ও বি সি ২০)। মেশিনিস্ট: ১২টি (সাধারণ ৬, তফসিলি জাতি ২, তফসিলি উপজাতি ১, ও বি সি ৩)। ওয়েল্ডার: ১৬টি (সাধারণ ৮, তফসিলি জাতি ৩, তফসিলি উপজাতি ১, ও বি সি ৪)। ইলেক্ট্রিশিয়ান: ৮টি (সাধারণ ৪, তফসিলি জাতি ১, তফসিলি উপজাতি ১, ও বি সি ২)।

সরকারি নিয়মানুসারে দৈহিক প্রতিবন্ধী এবং প্রাক্তন সমরকর্মীদের জন্য আসন সংরক্ষিত থাকবে। শিক্ষাগত যোগ্যতা: মাধ্যমিক। সেই সঙ্গে সংশ্লিষ্ট ট্রেডে আই টি আই সার্টিফিকেট কোর্স পাশ। সব ক্ষেত্রেই মোট অন্তত ৫০ শতাংশ নম্বর পেয়ে থাকতে হবে।

বয়স: ১২-১২-২০১৮ তারিখে ১৫ থেকে ২৪ বছরের মধ্যে। তফসিলিরা ৫, ও বি সিরা ৩, দৈহিক প্রতিবন্ধীরা ১০ বছরের ছাড় পাবেন। প্রাক্তন সমরকর্মীরা সরকারি নিয়মানুসারে বয়সের ছাড় পাবেন। প্রার্থী বাছাই করা হবে শিক্ষাগত

যোগ্যতার ভিত্তিতে। অনলাইন আবেদন করতে হবে এই ওয়েবসাইটের মাধ্যমে: www.rcecr.gov.in প্রার্থীর চালু ই-মেল আই ডি থাকতে হবে। অনলাইন আবেদনের শেষ তারিখ ১০ জানুয়ারি।

মনে রাখবেন, অনলাইন আবেদনের সময় প্রার্থীর জে পি জি বা জেপেগ ফর্ম্যাটে স্ক্যান করা রঙিন ফটো (২০ থেকে ৭০ কেবি সাইজের মধ্যে) ও সই (১০ থেকে ৩০ কেবি সাইজের মধ্যে) আপলোড করতে হবে। ফি বাবদ অনলাইনে দিতে হবে ১০০ টাকা। ফি জমা দিতে পারবেন ডেবিট বা ক্রেডিট কার্ড বা ইন্টারনেট ব্যাঙ্কিংয়ের মাধ্যমে। ফি জমা দিয়ে পাওয়া ই-রিসিপ্টের এক কপি প্রিন্ট আউট নিয়ে নেবেন। এটি কোথাও পাঠাতে হবে না। মহিলা, তফসিলি এবং দৈহিক প্রতিবন্ধীদের কোনও ফি লাগবে না।

অনলাইনে আবেদনপত্র যথাযথভাবে সাবমিটের পর পূরণ করা আবেদনপত্রের এক কপি প্রিন্ট আউট নিয়ে নেবেন। এটিও কোথাও পাঠাতে হবে না। নিজের কাছে রেখে দেবেন। পরে কাজে লাগবে। খুঁটিনাটি তথ্যের জন্য দেখুন এই ওয়েবসাইট: www.rcecr.gov.in প্রয়োজনে যোগাযোগ করতে পারেন এই হেল্প ডেস্ক নম্বরে: ০৬১২-২৫৬০০২৯/২৫৬০০৩৫।



বাক্সের
বাক্সের কবজনের প্রবেশপথ



Great careers start here

Shine.com now brings you great jobs
in partnership with **KARMAKSHETRA**
Companies Recruiting This Week

<p>Company: PB AVIATION ACADEMY PVT.LTD</p> <p>Position Title: Ground Staff & Cabin Crew</p> <p>Experience, Location: Fresher, Kolkata, Delhi, Vizag</p> <p>Profile: Hiring Fresher Candidates for International and domestic Airlines. Qualification minimum 12th Passed. Starting salary for cabin crew-30000 to 35000 p.m. Ground staff- 15000 to 19000 p.m. Age limit for cabin crew -18 to 26 Age limit for Ground staff -18 to 28.Male female both can apply. Contact No-8240117926/ 9007421048, mail id -career@p aviation.in</p> <p>To apply for this job, log on to www.shine.com and search using 9246724 as keyword.</p>	<p>Company: Narayan Industries</p> <p>Position Title: Sr Back Office Executive</p> <p>Experience, Location: Min 10 yr, Kolkata</p> <p>Profile: We need a Sr. Techno Commercial Person for our own Steel Fabrication Company. Salary - as per experience and standard. Candidate can send their cv at narayanindustries@gmail.com. Or call on 9433044453</p> <p>To apply for this job, log on to www.shine.com and search using 9472680 as keyword.</p>	<p>Company: JT Aviation Academy</p> <p>Position Title: Ground Staff & Cabin Crew</p> <p>Experience, Location: Fresher, Kolkata/Delhi</p> <p>Profile: JT Aviation Academy offers courses to the eligible candidates. After completion of the courses placement will be provided by the institute at Kolkata/Delhi airport. Age 18yr - 27yr. Edu- Min HS pass. Starting Salary- 15K-45K per month. For interview or other information please call 8772594448 & 9331957894 or on Email ID-careers@jtaaviation.in.</p> <p>To apply for this job, log on to www.shine.com and search using 8339835 as keyword.</p>
<p>Company: Crowd Link Staffing</p> <p>Position Title: Customer Relationship Executive</p> <p>Experience, Location: Fresher, Kolkata</p> <p>Profile: Vacancy under a Corporate Bank as a Customer Relationship Executive. Qualification - HS (Fresher) & Basic Knowledge Excel & Word. Language: know- Basic Hindi & English. Salary - 12K-20K. Call HR @ 9674440217. EMAIL- 7sujoydas@gmail.com</p> <p>To apply for this job, log on to www.shine.com</p>	<p>Company: Companion Placements</p> <p>Position Title: HR Recruiter</p> <p>Experience, Location: Min 1 Yr , Kolkata</p> <p>Profile: We are looking for experienced "HR Recruiters" for our placement company based in Park street. Salary will be in the range of 12k to 20k with high incentive. Candidate should be a minimum graduate with good communication in English and minimum work experience of 1 year. Candidates with recruitment background will be preferred. If you are interested then mail your resume to - meno@companionplacements.com or call: 40014772</p> <p>To apply for this job, log on to www.shine.com</p>	<p>Company: Dona World Technical Training Institute</p> <p>Position Title: Back Office - Photoshop</p> <p>Experience, Location: Any Experience, Kolkata</p> <p>Profile: We need Back Office Executive for our own organisation based at Birati - Kolkata. Candidate should have knowledge in Photoshop. Interested candidate may send their resume to director@donaworld.com or call on 8910216634</p> <p>To apply for this job, log on to www.shine.com</p>

To apply log on to www.shine.com and search using the relevant Job ID as keyword. For more jobs, log on to Shine.com now!
To avail Shine.com Data Base Services, Call Atanu Ghosh @ 7980979203
*Not for Candidates



Great careers start here

এই বিভাগে প্রতি সপ্তাহে পাওয়া চিঠি থেকে প্রথম আসা চিঠিগুলি উত্তর দেওয়ার জন্য বেছে নেওয়া হয়। তার পরও খুব জরুরি কোনও চিঠি থাকলে বা যে প্রশ্নের উত্তর বহু পাঠকের কাজে লাগবে এমন কিছু চিঠিও উত্তরের জন্য বাছা হয়। অনুগ্রহ করে একসঙ্গে একটির বেশি প্রশ্ন পাঠাবেন না। প্রশ্নের সঙ্গে অবশ্যই নীচের কুপনটি পূরণ করে পাঠাবেন। খামের ওপরে 'জীবিকাভিজ্ঞানসা' কথাটি লিখে আপনার প্রশ্ন এই ঠিকানায় পাঠান: কর্মক্ষেত্র, ২৯/১-এ ওল্ড বালিগঞ্জ সেকেন্ড লেন, কলকাতা-১৯।

জীবিকাভিজ্ঞানসা

সংশ্লিষ্ট ডিসিপ্লিন-সংক্রান্ত প্রশ্ন অবজ্ঞেষ্টিভ টাইপ প্রশ্ন হবে। পেপার-ওয়ানের মোট নম্বর ২০০ (সময় ২ ঘণ্টা), পেপার-টুয়ের মোট নম্বর ৩০০ (সময় ৩ ঘণ্টা)। দ্বিতীয় পর্যায়ে সংশ্লিষ্ট ইঞ্জিনিয়ারিং বিষয়ে কনভেনশনাল প্রশ্ন হয় দুটি পত্রে। প্রতি পত্রের নম্বর ৩০০, সময় ৩ ঘণ্টা করে। অর্থাৎ লিখিত পরীক্ষার মোট নম্বর ১,১০০। ভুল উত্তরের ক্ষেত্রে নেগেটিভ মার্কিং আছে। লিখিত পরীক্ষায় উত্তীর্ণ হলে পার্সোনালিটি টেস্টের (২০০ নম্বর) জন্য ডাক পাওয়া যাবে। খুঁটিনাটি জানতে দেখুন এই ওয়েবসাইট: www.upsc.gov.in

নার্সিং
□ **নয়াদিল্লি এইমসে বি এসসি নার্সিং (পোস্ট বেসিক) কোর্সে ভর্তি হতে চাই। এ ক্ষেত্রে কী ধরনের শিক্ষাগত যোগ্যতা থাকা প্রয়োজন? আবেদনপত্র গ্রহণের শেষ তারিখ কবে? —সাত্যকি দত্ত, নন্দনপুর, পশ্চিম মেদিনীপুর।**
□ নার্সিংয়ের স্নাতক কোর্সে ভর্তি নিচ্ছে অল ইন্ডিয়ান ইনস্টিটিউট অব মেডিক্যাল সায়েন্সেস (এইমস)। বি এসসি নার্সিং (পোস্ট বেসিক) কোর্সের ক্ষেত্রে শিক্ষাগত যোগ্যতা: উচ্চমাধ্যমিক। সেই সঙ্গে ইন্ডিয়ান নার্সিং কাউন্সিল দ্বারা স্বীকৃত প্রতিষ্ঠান থেকে জেনারেল নার্সিং অ্যান্ড মিডওয়াইফারিতে ডিপ্লোমা। পাশাপাশি, স্টেট নার্সিং কাউন্সিলে নার্স বা মিডওয়াইফ হিসেবে নাম নথিভুক্ত থাকতে হবে। তবে, পুরুষ নার্সরা যদি ২০০৩ সালে ইন্টিগ্রেটেড কোর্সে চালু হওয়ার আগে জেনারেল নার্সিংয়ের সার্টিফিকেট কোর্সে পাশ করে থাকেন সেক্ষেত্রে মিডওয়াইফারির

ডিপ্লোমা কোর্স না করে থাকলেও আবেদন করতে পারবেন। সেক্ষেত্রে স্টেট নার্সিং কাউন্সিলে নার্স হিসেবে নাম নথিভুক্ত থাকতে হবে। সেই সঙ্গে ও টি টেকনিক বা অপথ্যালমিক নার্সিং বা লেপ্রোসি নার্সিং বা টি বি নার্সিং বা সাইকিয়াট্রিক নার্সিং বা নিউরোলজিক্যাল অ্যান্ড নিউরো সার্জিক্যাল নার্সিং বা কমিউনিটি হেলথ নার্সিং বা ক্যানসার নার্সিং বা অর্থোপেডিক নার্সিংয়ে অন্তত ৬ মাস মেয়াদের প্রশিক্ষণ নিয়ে থাকতে হবে। অনলাইন আবেদন করতে হবে এই ওয়েবসাইটের মাধ্যমে: www.aiimsexams.org প্রথমে বেসিক রেজিস্ট্রেশন করতে হবে। রেজিস্ট্রেশনের শেষ তারিখ ৩ জানুয়ারি। বেসিক রেজিস্ট্রেশনে কোনও ভুল হয়ে থাকলে তা সংশোধন করার সুযোগ পাওয়া যাবে ৮ জানুয়ারি থেকে ১৮ জানুয়ারি পর্যন্ত। বেসিক রেজিস্ট্রেশনের পর ফাইনাল রেজিস্ট্রেশন করতে হবে। ফাইনাল রেজিস্ট্রেশন করা যাবে ১৪ মার্চ থেকে ২৫ মার্চ পর্যন্ত। ফি জমা দেওয়া যাবে ২৯ মার্চ থেকে ৫ এপ্রিল পর্যন্ত।

কোর্স, ট্রেনিং
□ **কলকাতা বিশ্ববিদ্যালয়ে স্কুল কাউন্সেলিংয়ে পোস্ট-গ্রাজুয়েট ডিপ্লোমা কোর্স করতে চাই। বিস্তারিত জানাবেন। —রামশি সরকার, মদনপুর, নদিয়া।**
□ **স্কুল কাউন্সেলিংয়ের পোস্ট পোস্ট-গ্রাজুয়েট ডিপ্লোমা কোর্সে ভর্তি নিচ্ছে কলকাতা বিশ্ববিদ্যালয়ের অ্যাপ্রোয়েড সাইকোলজি বিভাগ। কোর্সের মেয়াদ ১ বছর। আসনসংখ্যা: ২০। শিক্ষাগত যোগ্যতা: অ্যাপ্রোয়েড সাইকোলজি বা সাইকোলজিতে এম এ**

বা এম এসসি। কোর্স ফি: ২০,০০০ টাকা। প্রার্থী বাছাই করা হবে ইন্টারভিউয়ের মাধ্যমে। ইন্টারভিউ ১৫ জানুয়ারি, দুপুর ২টো থেকে। আবেদন করতে হবে নির্দিষ্ট বয়সে। আবেদনের বয়ান ডাউনলোড করে নেবেন এই ওয়েবসাইট থেকে: www.caluniv.ac.in ফি বাবদ দিতে হবে ২০০ টাকা (তফসিলিদের ক্ষেত্রে ১০০ টাকা)–র ডিম্যান্ড ড্রাফট। এটি 'University of Calcutta'-র অনুকূলে কলকাতায় প্রদেয় হতে হবে। প্রয়োজনীয় নথিপত্রের স্বপ্রত্যয়িত নকল-সহ আবেদনপত্র ২৮ ডিসেম্বরের মধ্যে সাধারণ ডাকে অথবা সরাসরি জমা দিতে হবে এই ঠিকানায়: The Office of the Secretary, University College of Science, Technology & Agriculture, Calcutta University, 92, A.P.C. Road, Kolkata 700 009.

ব্যাক
□ **ব্যাক অব বরোদায় স্পেশ্যালিস্ট অফিসার পদের ক্ষেত্রে কী ধরনের শিক্ষাগত যোগ্যতা থাকতে হবে? প্রার্থী বাছাই করা হবে কোন প্রক্রিয়ায়? দরখাস্ত গ্রহণের শেষ তারিখ কবে? —চন্দন সেনগুপ্ত, বসিরহাট, উত্তর ২৪ পরগনা।**
□ **ব্যাক অব বরোদায় স্পেশ্যালিস্ট অফিসার পদের ক্ষেত্রে শিক্ষাগত যোগ্যতা: যে-কোনও শাখায় স্নাতক। সেই সঙ্গে সংশ্লিষ্ট কাজে ২ বছরের অভিজ্ঞতা থাকা বাধ্যতামূলক। প্রার্থী বাছাই করা হবে অনলাইন পরীক্ষার মাধ্যমে। এ ছাড়া ব্যাক কর্তৃপক্ষ মনে করলে, গ্রুপ ডিসকাশন বা পার্সোন্যাল ইন্টারভিউ বা সাইকোমেট্রিক টেস্টও**

নিতে পারে। অনলাইন পরীক্ষায় অবজ্ঞেষ্টিভ ধরনের প্রশ্ন হবে এই সমস্ত বিষয়ে: রিজনিং (৫০ নম্বর), ইংলিশ ল্যান্ডুয়েজ (২৫ নম্বর), কোয়ান্টিটেটিভ অ্যাপ্রিটিউড (৫০ নম্বর) ও পেশাদারি বিষয় (৭৫ নম্বর)। সময় ২ ঘণ্টা। ভুল উত্তরের ক্ষেত্রে নেগেটিভ মার্কিং আছে। ২৬ ডিসেম্বরের মধ্যে অনলাইন দরখাস্ত করতে হবে এই ওয়েবসাইটের মাধ্যমে: www.bankofbaroda.co.in

অন্যান্য চাকরি
□ **এয়ার ইন্ডিয়ায় কেবিন ক্রু পদে দরখাস্ত করতে চাই। এ ক্ষেত্রে কী ধরনের শিক্ষাগত যোগ্যতা থাকা প্রয়োজন? —রথীজিং কুন্ডু, খানাকুল, হুগলি।**
□ **এয়ার ইন্ডিয়ায় কেবিন ক্রু পদের ক্ষেত্রে শিক্ষাগত যোগ্যতা: যে-কোনও শাখায় উচ্চমাধ্যমিক। কোনও স্বীকৃত প্রতিষ্ঠান থেকে হোটেল ম্যানেজমেন্ট অ্যান্ড কাটারিং টেকনোলজিতে তিন বছর মেয়াদের ডিগ্রি বা ডিপ্লোমা কোর্স করে থাকলে, বিমানে কেবিন ক্রু হিসেবে কাজের অভিজ্ঞতা থাকলে এবং ফার্স্ট এইড সার্টিফিকেট কোর্স করে থাকলে অগ্রাধিকার। ওয়েবসাইট: www.airindiaexpress.in**
□ **নিউক্লিয়ার পাওয়ার কর্পোরেশন অব ইন্ডিয়ায় হিউম্যান রিসোর্স বিভাগে ডেপুটি ম্যানেজার পদের ক্ষেত্রে কী ধরনের শিক্ষাগত যোগ্যতা থাকা প্রয়োজন? প্রার্থী বাছাই প্রক্রিয়া সম্পর্কে বিস্তারিত জানাবেন। —অরিন্দম মণ্ডল, কোচবিহার।**
□ **নিউক্লিয়ার পাওয়ার কর্পোরেশন অব ইন্ডিয়ায় হিউম্যান রিসোর্স বিভাগে ডেপুটি ম্যানেজার পদের ক্ষেত্রে শিক্ষাগত যোগ্যতা: মোট অন্তত ৬০ শতাংশ নম্বর-সহ গ্রাজুয়েট। সঙ্গে পার্সোনেল ম্যানেজমেন্ট ও ইন্ডাস্ট্রিয়াল রিলেশনসে স্পেশ্যালাইজেশন-সহ এম বি এ ডিগ্রি অথবা পার্সোনেল ম্যানেজমেন্ট ও ইন্ডাস্ট্রিয়াল রিলেশনসে পোস্ট-গ্রাজুয়েট ডিগ্রি বা ডিপ্লোমা। ডিগ্রি বা ডিপ্লোমার ৬০ শতাংশ নম্বর থাকতে হবে। প্রার্থী বাছাই করা হবে দু'পর্যায়ের লিখিত বা অনলাইন পরীক্ষার মাধ্যমে। প্রথম পাঠে কোয়ান্টিটেটিভ অ্যাপ্রিটিউড, রিজনিং, এথিক্স অব পাবলিক সার্ভিস, আর টি আই আন্ট, ইংলিশ ল্যান্ডুয়েজ, ডেটা-ইন্টারপ্রিটেশন ও জেনারেল অ্যাপ্রোয়ানেনস বিষয়ে ৫০টি অবজ্ঞেষ্টিভ টাইপ প্রশ্ন হবে। দ্বিতীয় অংশে প্রার্থীর সংশ্লিষ্ট পেশাদারি বিষয়ে ৭০টি অবজ্ঞেষ্টিভ টাইপ প্রশ্ন হবে। ভুল উত্তরের জন্য নেগেটিভ মার্কিং হবে। দেখুন এই ওয়েবসাইট: www.npcilcareers.co.in**

থাকলে অগ্রাধিকার। এর পাশাপাশি উচ্চতা থাকতে হবে ১৫৭ সেমি উচ্চতার সঙ্গে মানানসই ওজন ও বুকের ছাতি থাকতে হবে। বুকের ছাতি অন্তত ৫ সেমি ফোলানোর ক্ষমতা থাকতে হবে। দৃষ্টিশক্তি হতে হবে চশমা ছাড়া উভয় চোখে ৬/১২ এবং চশমা-সহ ভালো চোখে ৬/৯ এবং খারাপ চোখে ৬/১২। দেখুন এই ওয়েবসাইট: www.joinindiannavy.gov.in

□ **নিউ ইন্ডিয়া আর্শিওরেন্সে ফিল্ড অ্যান্ড অ্যাকাউন্টস শাখায় অ্যাডমিনিস্ট্রেটিভ অফিসার পদের নিয়োগের ক্ষেত্রে কী ধরনের শিক্ষাগত যোগ্যতা থাকা প্রয়োজন? দরখাস্ত গ্রহণের শেষ তারিখ কবে? —জগদীশ মাইতি, গাইঘাটা, উত্তর ২৪ পরগনা।**

□ **নিউ ইন্ডিয়া আর্শিওরেন্সে ফিল্ড অ্যান্ড অ্যাকাউন্টস শাখায় অ্যাডমিনিস্ট্রেটিভ অফিসার পদের ক্ষেত্রে শিক্ষাগত যোগ্যতা: এম কম অথবা ফিল্ডে স্পেশ্যালাইজেশন-সহ এম বি এ অথবা ম্যানেজমেন্টে পোস্ট-গ্রাজুয়েট ডিপ্লোমা। অথবা যে-কোনও শাখায় স্নাতক বা স্নাতকোত্তর ডিগ্রি, সঙ্গে চার্টার্ড অ্যাকাউন্টেন্ট বা কন্সল্ট্যান্ট ম্যানেজমেন্ট অ্যাকাউন্টেন্ট কোর্সে পাশ। সব ক্ষেত্রেই অন্তত ৬০ শতাংশ (তফসিলিদের ক্ষেত্রে অন্তত ৫৫ শতাংশ) নম্বর পেয়ে থাকতে হবে। ২৬ ডিসেম্বরের মধ্যে অনলাইন দরখাস্ত করতে হবে এই ওয়েবসাইটের মাধ্যমে: www.newindia.co.in**

□ **মাজাগন ডক শিপবিড্ডানে স্ট্রাকচারাল ফেরিকটর পদের ক্ষেত্রে কী ধরনের শিক্ষাগত যোগ্যতা থাকা প্রয়োজন? দরখাস্ত গ্রহণের শেষ তারিখ কবে? —জীবন পলো, হাওড়া।**

□ **মাজাগন ডক শিপবিড্ডানে স্ট্রাকচারাল ফেরিকটর পদের ক্ষেত্রে শিক্ষাগত যোগ্যতা: মাধ্যমিক বা সমতুল। সঙ্গে স্ট্রাকচারাল ফিটার বা ফেরিকটর ট্রেডে ন্যাশনাল অ্যাপ্রেন্টিসশিপ সার্টিফিকেট (এন এ সি) পরীক্ষায় পাশ করে থাকতে হবে। শিট মেটাল ওয়ার্কার ট্রেডে এন এ সি থাকলেও আবেদন করতে পারেন। সেক্ষেত্রে ট্রেনি স্ট্রাকচারাল ফেরিকটর পদে নিয়োগ করা হবে। অন্য কোনও ট্রেডে ন্যাশনাল অ্যাপ্রেন্টিসশিপ সার্টিফিকেটধারী প্রার্থীদের যদি স্ট্রাকচারাল ফিটার পদে মাজাগন ডক বা কোনও শিপবিড্ডানে ইন্ডাস্ট্রিতে অন্তত ১ বছর কাজের অভিজ্ঞতা থাকে তাহলে তাঁরাও আবেদনের যোগ্য। ২৪ ডিসেম্বরের মধ্যে অনলাইন দরখাস্ত করতে হবে এই ওয়েবসাইটের মাধ্যমে: www.mazdock.com**

□ **নিউক্লিয়ার পাওয়ার কর্পোরেশন অব ইন্ডিয়ায় লিগ্যাল বিভাগে ডেপুটি ম্যানেজার পদের ক্ষেত্রে কী ধরনের শিক্ষাগত যোগ্যতা থাকা প্রয়োজন? —পার্থ তালুকদার, আর্লিনগর, মান্দা।**

□ **নিউক্লিয়ার পাওয়ার কর্পোরেশন অব ইন্ডিয়ায় লিগ্যাল বিভাগে ডেপুটি ম্যানেজার পদের ক্ষেত্রে শিক্ষাগত যোগ্যতা: মোট অন্তত ৬০ শতাংশ নম্বর-সহ আইনের স্নাতক। প্রার্থীকে রাজ্যস্তরের বার কাউন্সিল বা বার কাউন্সিল অব ইন্ডিয়ায় নথিভুক্ত থাকতে হবে। আইনজীবী হিসেবে গ্র্যাজুয়েট অথবা কোনও সংস্থায় কোম্পানি বা সিভিল বা লেবার ল অফিসার হিসেবে ৩ বছরের কাজের অভিজ্ঞতা থাকতে হবে। খুঁটিনাটি বিষয়ে বিস্তারিত জানতে দেখুন এই ওয়েবসাইট: www.npcilcareers.co.in**

পরীক্ষায় নম্বর দেওয়ার পদ্ধতি বদলেছে, অ্যাকাডেমিক স্কোর বর্তমানে অর্থহীন

আমি স্কুল সার্ভিস কমিশনের সহ-শিক্ষক পদের চাকরিপ্রার্থী। বর্তমানে শিক্ষক নিয়োগের ক্ষেত্রে যে সকল শর্ত বা নিয়মাবলি আরোপ করা হয়েছে, তার মধ্যে অন্যতম হল অ্যাকাডেমিক নম্বর বিভাজন। কিন্তু এই পদ্ধতিটি অনেকাংশেই ত্রুটিপূর্ণ বলে আমার মনে হয়েছে। এর ফলে আমার মতো লক্ষাধিক চাকরিপ্রার্থী ক্ষতিগ্রস্ত হচ্ছেন। এর অনেকগুলি কারণ আছে— (১) সময়ের সঙ্গে সঙ্গে মাধ্যমিক, উচ্চমাধ্যমিক প্রভৃতি পরীক্ষার প্রশ্নের রকমফের, সিলেবাস ও নম্বর বিভাজনের পাশাপাশি, পরীক্ষায় নম্বর দেওয়ার পদ্ধতিতে ব্যাপক পরিবর্তন ঘটেছে। তাই ভিন্ন সময়ে, ভিন্ন পদ্ধতিতে নেওয়া পরীক্ষাগুলির অ্যাকাডেমিক স্কোরকে এক মাপকাঠিতে বিচার করা একেবারেই অনুচিত। (২) রাজ্যের প্রতিটি শিক্ষাবিদ্যালয়গুলি থেকে স্নাতক বা স্নাতকোত্তর স্তরে ভালো নম্বর পাওয়া বেশ কঠিন। অর্থাৎ সদ্য এমন কিছু বিশ্ববিদ্যালয় গড়ে উঠেছে, যেখান থেকে তুলনামূলকভাবে অনেক সহজে বেশি নম্বর পাওয়া যায়। ফলে নম্বর মাপকাঠি হওয়ায়, সেখানেও গলদ থেকে যাচ্ছে। (৩) নব্বইয়ের দশক বা তারও

আগে উচ্চমাধ্যমিক স্তরে বিজ্ঞান ও বাণিজ্য শাখার তুলনায় কলা বিভাগে ভালো নম্বর পাওয়া বেশ কঠিন ছিল। বর্তমানে সেই অবস্থার আমূল পরিবর্তন ঘটেছে। এখন কলা বিভাগেও ৯৯ শতাংশ নম্বর-সহ উচ্চমাধ্যমিকে পাশ করার ঘটনা ঘটেছে। (৪) স্কুল সার্ভিস কমিশনের সহ-শিক্ষক পদে নিয়োগের ক্ষেত্রে অ্যাকাডেমিক নম্বর বিভাজন নিয়মানুযায়ী মাধ্যমিক বা উচ্চমাধ্যমিকে ৫৯.৯ শতাংশ নম্বর পাওয়া একজন চাকরিপ্রার্থীর অ্যাকাডেমিক স্কোর হয় ১০-এর মধ্যে ৮। আবার ৫৯.৯ শতাংশের থেকে মাত্র ০.১ শতাংশ (অর্থাৎ ৬০ শতাংশ) বেশি নম্বর পাওয়া প্রার্থীর অ্যাকাডেমিক স্কোর দাঁড়াবে ১০-এর মধ্যে ১০। অর্থাৎ, যেখানে মাত্র ০.১ শতাংশের জন্য অ্যাকাডেমিক স্কোরের ফারাক হয়ে যাচ্ছে ২ নম্বর, সেখানে ৬০ শতাংশ থেকে ৯৯ শতাংশ নম্বর-প্রাপ্ত মধ্যবর্তীস্তরের প্রার্থীদের অ্যাকাডেমিক স্কোরের সামান্যতমও ফারাকও নেই। এই পদ্ধতি কি সত্যিই যুক্তিসঙ্গত? (৫) নেট বা স্টেট পরীক্ষার মাধ্যমে কলেজে শিক্ষক নিয়োগের ক্ষেত্রে অ্যাকাডেমিক স্কোরকে গুরুত্ব দেওয়া হয় না। সেক্ষেত্রে শুধুমাত্র স্নাতকোত্তরে ন্যূনতম নম্বরের যোগ্যতামান নির্দিষ্ট করা আছে। তা হলে কি কলেজের অধ্যাপকরা মেধাবী নন? স্কুল সার্ভিস কমিশনের মাধ্যমে শিক্ষক নিয়োগের ক্ষেত্রে অ্যাকাডেমিক স্কোর তুলে দিলে শিক্ষকদের যোগ্যতা বিচার করা যাবে না— এ খারণা অমূলক।

সময়ের সঙ্গে সঙ্গে মাধ্যমিক, উচ্চমাধ্যমিক প্রভৃতি পরীক্ষার প্রশ্নের রকমফের, সিলেবাস ও নম্বর বিভাজন এবং পরীক্ষায় নম্বর দেওয়ার প্রবণতায় ব্যাপক পরিবর্তন ঘটেছে। তাই ভিন্ন সময়ে, ভিন্ন পদ্ধতিতে নেওয়া পরীক্ষাগুলির অ্যাকাডেমিক স্কোরকে এক মাপকাঠিতে বিচার করা একেবারেই অনুচিত।

রাজ্যের শিক্ষামন্ত্রী মাননীয় শ্রী পার্থ চট্টোপাধ্যায়ের কাছে আমার একান্ত অনুরোধ, স্কুল সার্ভিস কমিশনের মাধ্যমে শিক্ষক নিয়োগের ক্ষেত্রে অ্যাকাডেমিক স্কোরের মাধ্যমে প্রার্থী বাছাইয়ের রীতির বিষয়ে দ্রুত কোনও সদর্পক পদক্ষেপ গ্রহণ করুন। এই রীতির অপসারণে লক্ষাধিক চাকরিপ্রার্থীর সামনে সৃষ্ট প্রতিযোগিতার বাতাবরণ তৈরি হবে বলে আমার বিশ্বাস।
বিজয় নাড়ু, সোনানপুর, দক্ষিণ ২৪ পরগনা।

ইউ পি এস সি

□ **ইউনিয়ন পাবলিক সার্ভিস কমিশন কর্তৃক আয়োজিত ইন্ডিয়ান ইকনমিক সার্ভিস/ইন্ডিয়ান স্ট্যাটিস্টিক্যাল সার্ভিস, ২০১৮-র ফল কবে ঘোষিত হবে? —সৌরভ মাল্লাকার, মহেশতলা, দক্ষিণ ২৪ পরগনা।**
□ **ইউ পি এস সি আয়োজিত ইন্ডিয়ান ইকনমিক সার্ভিস/ইন্ডিয়ান স্ট্যাটিস্টিক্যাল সার্ভিস, ২০১৮' পরীক্ষার ফল ঘোষিত হয়েছে। গত জুন-জুলাই মাসে লিখিত পরীক্ষা এবং নভেম্বর মাসে ইন্টারভিউ হয়েছিল। পরীক্ষার চূড়ান্ত ফল প্রকাশিত হয়েছে এই ওয়েবসাইটে: www.upsc.gov.in**
□ **ইউ পি এস সি-র ইঞ্জিনিয়ারিং সার্ভিসেস পরীক্ষা সম্পর্কে বিস্তারিত জানাবেন। —কল্লোল জানা, ডিহিপাড়া, বাঁকুড়া।**
□ **ইউনিয়ন পাবলিক সার্ভিস কমিশনের 'ইঞ্জিনিয়ারিং সার্ভিসেস এজমিনেশন'-এর ক্ষেত্রে প্রার্থী বাছাই করা হয়ে থাকে লিখিত পরীক্ষা ও ইন্টারভিউয়ের মাধ্যমে। লিখিত পরীক্ষা হয় দু'টি পর্যায়ে। প্রথম পর্যায়ের পেপার-ওয়ানে থাকে জেনারেল স্টাডিজ ও ইঞ্জিনিয়ারিং অ্যাপ্রিটিউড এবং পেপার-টুয়ে ইঞ্জিনিয়ারিংয়ের**

চাই সুবিচার

আপনি কি চাকরির পরীক্ষা দিচ্ছেন? কোনও পেশাদারি কোর্স করছেন? নিজের উদ্যোগে ছোটখাটো কোনও ব্যবসা করছেন? কোনও অবিচারের সম্মুখীন হলে বা দুর্ভোগের শিকার হলে এই বিভাগে চিঠি লিখুন। উপযুক্ত তথ্য-প্রমাণ সহ সংক্ষেপে লিখবেন। আপনার চিঠি প্রকাশ করা হবে 'চাই সুবিচার' বিভাগে। চিঠিতে নিজের পুরো নাম-ঠিকানা লিখতে ভুলবেন না। চিঠি পাঠাবেন এই ঠিকানায়: চাই সুবিচার, 'কর্মক্ষেত্র', ২৯/১-এ, ওল্ড বালিগঞ্জ সেকেন্ড লেন, কলকাতা-৭০০০১৯ ই-মেল পাঠাতে পারেন এই ঠিকানায়: karmakshetra@swarnakshar.in পাঠাতে পারেন ফেসবুকেও। এই ঠিকানায়: www.facebook.com/karmakshetra

নাম : _____
ঠিকানা : _____
আপনি কি 'পেশাপ্রবেশ' পড়েন? হ্যাঁ/না


কলকাতা, ১১ ডিসেম্বর ২০১৮/৮

৫ ডিসেম্বর আমেরিকার সর্বোচ্চ আয়েগিরি পিকে দে ওরিজাবা (৫,৬০৬ মিটার) জয় করলেন বাংলার পর্বতারোহী সত্যরূপ সিদ্ধান্ত। এ দিন ভারতীয় সময় রাত ২টা নাগাদ আয়েগিরির শীর্ষে ওঠেন সপ্তশৃঙ্গরী সত্যরূপ। খুব শীঘ্রই দক্ষিণ মেরুর সর্বোচ্চ আয়েগিরি মাউন্ট সিভলিতে যাবেন

কারেন্ট অ্যাফেয়ার্স

৫ ডিসেম্বর-১১ ডিসেম্বর

দলাই লামা প্রশ্নে চিনের বিপক্ষে আমেরিকা



৬ ডিসেম্বর: চিন যদি দলাই লামার জায়গায় নিজেদের বেছে রাখা কাউকে বসাতে চায়, আমেরিকা তা মেনে নেবে না বলে স্পষ্ট জানিয়ে দিল। তাদের দাবি, ধর্মীয় প্রথা মেনে যেভাবে এত কাল দলাই লামা নির্ধারণ হয়েছে, সেভাবেই হবে। কর্তৃত্বভাৱে ভারতে নিবাসিত চতুর্দশ দলাই লামা সম্পর্কে চিনের অভিযোগ, তিনি বিচ্ছিন্নতাবাদী। যদিও দলাই লামার বক্তব্য, তিনি তিব্বতের স্বায়ত্তশাসন এবং ধর্মীয় স্বাধীনতা চান শুধু। তিব্বতের বৌদ্ধ প্রথা অনুযায়ী, দলাই লামা তাঁর মৃত্যুর আগে ঠিক করে যান উত্তরসূরি কে হবেন। যদিও চিনের দাবি, দলাই লামা নির্ধারণের অধিকার তাদের আছে।

তিনি। সেটি জয় করতে পারলেই সর্বকর্ত্তিত্ব হিসেবে সপ্ত আয়েগিরি এবং সপ্তশৃঙ্গ জয়ের বিধিরেকর্ড করবেন তিনি।

৬ ডিসেম্বর কলকাতা হাইকোর্ট বিজেপির 'গণতন্ত্র বাঁচাও যাত্রা' (রথযাত্রা) পিছিয়ে দিতে নির্দেশ দিল। এ দিন বেলা দশটায় কোর্টবিহার থেকে ওই যাত্রা শুরু হওয়ার কথা ছিল। দিনভর স্তানির পরে বিচারপতি তপোব্রত চক্রবর্তী জানান, এত কম সময়ের মধ্যে পর্যাপ্ত পুলিশের ব্যবস্থা করা সম্ভব নয়। কোর্টবিহারে অপ্রতিরোধ্য ঘটনা বা জীবনহানি ঘটলে তার দায় বিজেপির জেলা সভাপতি নবেন দিলা সেই প্রসঙ্গ তুলেছেন বিচারপতি।

উত্তরপ্রদেশে নিহত পুলিশ ইনস্পেক্টর সুবোধকুমার সিংয়ের পরিবারের সঙ্গে পেশা করলেন সে রাজ্যের মুখ্যমন্ত্রী দেবী অমিতাভ সিন্ধু। রাজ্যের মন্ত্রী অতুল গুপ্ত জানিয়েছেন, এটি জেলায় সুযোগের

গ্রামে যাওয়ার রাজ্য, জৈধরা-কুরাভলী রোডের নতুন নাম হবে 'শ্রী সুবোধকুমার সিং শহিদ মার্গ'। তাঁর নামে একটি কলেজেরও নাম রাখা হবে। ২৫-৩০ লক্ষ টাকার গৃহ ও শিক্ষাক্ষয় রয়েছে সুবোধের পরিবারের। সরকারই তা মেটাতে বলে বলা হয়েছে।

৭ ডিসেম্বর ত্রিপুরায় পূর্ণ-উপনির্বাচনে ১৫৮টি আসনের মধ্যে ৯১টিতেই বিজেপি বিনা প্রতিদ্বন্দ্বিতায় জিতল। এই ৯১টি আসনে বিজেপি ছাড়া অন্য কোনও দলের প্রার্থী মনোনয়নপত্র জমা দেননি। এ দিনই ছিল মনোনয়নপত্র প্রত্যাহারের শেষ দিন। নির্বাচন দপ্তর সূত্রে খবর বাকি ৬৭টি আসনে নির্বাচন হবে।

টানা ছ'বছর আশ্রয় দেওয়ার পরে ইকুয়েডরের প্রেসিডেন্ট লেলিন মোরেনো জানানলেন, উইকিনিকস কর্ণার জুলিয়ান অ্যাসাঞ্জ এ বার নির্ভয়ে লন্ডনে ইকুয়েডরের দূতাবাস আশ্রয় করতে পারেন। ব্রিটেন যে তাঁকে আমেরিকার

রিচার্ড ব্যাঙ্কের নতুন গভর্নর শক্তিকান্ত দাস




১১ ডিসেম্বর: প্রাক্তন অর্থ বিষয়ক সচিব শক্তিকান্ত দাসকে রিচার্ড ব্যাঙ্কের গভর্নর হিসেবে নিয়োগ করল কেন্দ্রীয় সরকার। পেশাদার অর্থনীতিবিদ না হলেও অভিজ্ঞ এই আমলার ওপরই শীর্ষ ব্যাঙ্কের দায়িত্ব দিল কেন্দ্র। সরকারি সূত্রে যুক্তি দেওয়া হয়েছে, অর্থনীতিবিদ না হলেও শক্তিকান্ত বরাবরই অফিসিনাটু ও কেন্দ্রীয় সরকারের অর্থ দপ্তর সামলেছেন। নীতি আয়োগের সিইও অমিতাভ সিন্ধু বলেছেন, 'শক্তিকান্ত অসাধারণ টিম লিডার, একমাত্র্য তৈরিতেও দক্ষ। উনি রিচার্ড ব্যাঙ্কের স্বাধীনতা বজায় রেখেই আর্থিক বৃদ্ধিতে নজর দেবেন।' ছবি: পি টি আই



বিচারপতি এস মুরলীধর ও বিচারপতি বিনোদ গোগোল, দিল্লি হাইকোর্ট ১৭ ডিসেম্বর কংগ্রেস নেতা সজ্জন কুমারকে শিবিরোধী দাঙ্গায় বাবাজীবন কারাদণ্ডের আদেশ দিয়ে

অকাদেমি পাচ্ছেন সঞ্জীব



৫ ডিসেম্বর: শ্রীকৃষ্ণের শেষ কটা দিন' উপন্যাসের জন্য এ বার সাহিত্য অকাদেমি পুরস্কারের জন্য নিবাচিত হলেন সাহিত্যিক সঞ্জীব চট্টোপাধ্যায়। আগামী জানুয়ারির শেষে দিল্লিতে সাহিত্য অকাদেমির বার্ষিক অঙ্কর উৎসবে এই স্বীকৃতি পাবেন তিনি। অকাদেমির সভাপতি করুণা নাট্যকার চন্দ্রশেখর কাম্বার প্রবীণ সাহিত্যিককে এই সম্মান অর্পণ করবেন।

হাতে তুলে দেবে না, সে বিষয়ে মোরেনো নিশ্চিত বলে জানিয়েছেন।

৮ ডিসেম্বর

বাংলাদেশের মুক্তিযুদ্ধে নিহত ভারতীয় সেনাদের সম্মানিত করার কথা জানাল সে দেশের সরকার। এ দিন ফোর্ট উইলিয়ামে আয়োজিত একটি অনুষ্ঠানে এ কথা জানানলেন কলকাতায় বাংলাদেশের

বিজয় মালার প্রতাপনে সায় ব্রিটিশ আদালতের



১০ ডিসেম্বর: ব্রিটেনের আদালত ভারতে ৯ হাজার কোটি টাকার ব্যাঙ্ক প্রত্যাহার অধিকৃত প্রাক্তন কিম্বিশার কর্ণার বিজয় মালার প্রতাপনে সায় দিল। অর্থমন্ত্রী অরুণ জেটলি এই ব্যাঙ্ক প্রত্যাহারের পক্ষে বড় ভূমিকা পালন করেছেন। বন্ধনামের আগে লন্ডনের ওয়েস্টমিনস্টার ম্যাজিস্ট্রেটস কোর্টে প্রতাপন মামলাটি শুরু হয়। যদিও মালার দাবি, মামলা 'রাষ্ট্রনৈতিক উদ্দেশ্যপ্রসৌচিত'। তিনি বলেন, 'আমি চুরি করে পালিয়েছি, এই ধারণাই তুলে। কখন নিজেছিল কিম্বিশার। তুলে সিদ্ধান্তের ফলে সবেট দেখা দেয়।' মালু জানিয়েছেন, ১৪ হাজার কোটি টাকার সম্পত্তি বিক্রি করে তিনি পাওনা মেটানোর প্রস্তাব দিয়েছেন ভারতের আদালতে।

১৯৪৭-এর গ্রীষ্মে, দেশভাগের সময়, গোটা দেশ একবার দেবেছিল ভয়াবহ নিধন কাণ্ড, যেখানে লক্ষ লক্ষ সাধারণ মানুষ, হিন্দু, মুসলিম, শিখ নিহত হন। ৩৭ বছর পর দেশ আবার এক ট্রাজেডির মুখোমুখি হল। নভেম্বরের ১ থেকে ৪ এই চারদিনে ওই বছরে (১৯৮৪) গোটা দিল্লিতে ২,৭০০ জন শিবিকে নৃশংসভাবে হত্যা করা হল।

ডেপুটি হাইকমিশনার তৌফিক হাসান। তিনি বলেন, নিহত সেনাদের পরিবারের হাতে ১৬ ডিসেম্বর, 'বিজয় দিবস'-এ 'মুক্তিযুদ্ধ সন্মান' তুলে দেবেন বাংলাদেশের মুক্তিযুদ্ধ বিষয়ক মন্ত্রী মোজাম্মেল হক। নিহত ১৬০০ ভারতীয় সেনাদের প্রত্যেককেই ধাপে ধাপে সন্মান জানানো হবে। পাকিস্তানের স্বাধেই মুখইয়ে জসি হামলা সক্রান্ত মালার দ্রুত নিষ্পত্তি হওয়া প্রয়োজন বলে জানানলেন পাকিস্তানের প্রধানমন্ত্রী ইমরান খান। তিনি বলেন, 'ওই ঘটনা জসি হামলা। আমরাও চাই মুখইয়ে হামলাকারীদের বিরুদ্ধে পদক্ষেপ করা হোক।' ভারত বরাবরই অভিযোগ করে এসেছে, এই ঘটনার মূল চরমী হামিদ মহম্মদ সইদ, জাকির রহমান লকভির মতো লঙ্ঘর নেতারা। অর্থ পাকিস্তান তাদের বিরুদ্ধে কোনও পদক্ষেপই করেনি। তবে ইমরান এক সাক্ষাৎকারে বলেছেন, 'আমাদের প্রশাসনকে মুখই হামলার মামলা সম্পর্কে খোঁজ নেওয়ার নির্দেশ দিয়েছি। মুখইয়ে জসিরা হামলা

ইত্তফা দিলেন উর্জিত পটেল



১০ ডিসেম্বর: রিচার্ড ব্যাঙ্কের গভর্নরের পদ থেকে ইত্তফা দিলেন উর্জিত পটেল। শীর্ষ ব্যাঙ্কের গভর্নরের মেয়াদ তিন বছর। তারপর সাধারণভাবে আরও দু'বছর মেয়াদ বৃদ্ধি করা হা। উর্জিত গভর্নর হয়েছিলেন ২০১৬-র ৪ সেপ্টেম্বর। প্রথম মফার মেয়াদ ফুরানোর ১ মাস আগেই 'বক্তিত্বও করণ' দেখিয়ে বিদায় নিলেন তিনি। সাম্প্রতিক জটীতে এত কম সময় রিচার্ড ব্যাঙ্কের গভর্নর থাকার নজির আর কারও নেই। উর্জিতের ঠিক আগেই গভর্নর ছিলেন রঘুরাম রাজন। তাঁর সঙ্গেও সরকারের মতের মিল না হওয়ার মেয়াদ ফুরানোর আগেই পদ থেকে কিদায় নেন তিনি। রাজনের আমলেই ডেপুটি গভর্নর পদে ছিলেন উর্জিত। সবচেয়ে প্রাক্তন রিচার্ড ব্যাঙ্কের উদ্বৃত্ত তহবিল থেকে টাকার চেয়ে সরকারের পক্ষ থেকে চাপ বাড়ছিল গভর্নরের ওপর। ব্যাঙ্কি ব্যবস্থার নগদের জোপান নিয়ন্ত্রণে কেন্দ্রের সঙ্গে তাঁর মতপার্থক্য দেখা দেয়। ব্যাঙ্কি আইনের ৭ নম্বর ধারা প্রয়োগ করে নজিরবিহীনভাবে 'পর্যায়'ও দেয় কেন্দ্র। ছবি: পি টি আই

পাঁচ রাজ্যের ভোটে ধরাশায়ী বিজেপি




১১ ডিসেম্বর: পাঁচ রাজ্যে বিধানসভা ভোটে বিজেপি পরাজিত হল। বিজেপি শাসিত তিন রাজ্য ছত্তীসগড়, রাজস্থান ও মধ্যপ্রদেশে কংগ্রেস সংখ্যাগরিষ্ঠতা লাভ করেছে। মধ্যপ্রদেশে ২৩০ আসনের মধ্যে কংগ্রেস ১১৪ ও বিজেপি ১০৯টি আসন এবং রাজস্থানে ১৯৯ আসনের মধ্যে কংগ্রেস ৯৯ ও বিজেপি ৯০টি আসন পেয়েছে। সংখ্যাগরিষ্ঠতার প্রসঙ্গে মধ্যপ্রদেশে ২টি এবং রাজস্থানে ১টি আসন দুইই ধর্মকে বেতে হয়েছে কংগ্রেসকে। তবে সরকার গড়ার ক্ষেত্রে প্রয়োজনীয় সমর্থন পেতে গেছে তারা। ছত্তীসগড়ে বিপুল ভোটে জিতেছে কংগ্রেস। মোট ৯০ আসনের মধ্যে ৬৮ আসন পেয়েছে তারা। বিজেপি পেয়েছে মাত্র ১৫টি আসন। তেলঙ্গানার ১১৯ আসনের মধ্যে ৮৮ আসন পেয়ে তেলঙ্গানা রাষ্ট্র সমিতি ও মিছোরামে ৪০ আসনের মধ্যে ২৬ আসন পেয়ে জয়ী হয়েছে মিছো ন্যাশনালিস্ট ফ্রন্ট। ছবি: পি টি আই

করেছিল। তাই পাকিস্তানের স্বাধেই ওই মামলার দ্রুত নিষ্পত্তি হওয়া উচিত। আমরাও চাই মুখইয়ে হামলাকারীদের বিরুদ্ধে পদক্ষেপ করা হোক।

৯ ডিসেম্বর ফ্রান্সে টানা চার সপ্তাহ ধরে চলা বিক্ষোভের মধ্যেই এ দিন 'জাতীয় ঐক্য' ফোনানোর ডাক দিলেন ফরাসি প্রধানমন্ত্রী এদুয়া ফিলিপ। জ্বালানির দাম বাড়ানোর সিদ্ধান্ত প্রত্যাহার করার পরেও বিক্ষোভ ধামার কোনও লক্ষণ দেখা যায়নি। নতুন করে বিক্ষোভ মাথাচাড়া দেওয়ার পরে দেশের বানা জায়গা থেকে ১,৭০০ জনকে প্রেরণার করার পরও পরিস্থিতি নিয়ন্ত্রণ করতে পারেনি সরকার।

১০ ডিসেম্বর: সূত্রিম কোর্ট বর্ষণ ও যৌন হেনস্থার ঘটনায় নিষ্পত্তিতার নাম ও পরিচয় প্রকাশ্যে না আনার নির্দেশ দিল। এ দিন শীর্ষ আদালতে বিচারপতি মল্ল বি লোকুরের বেক বলেছে, 'ধর্মিতাদের যেভাবে আত্মতের মতো করে দেখা হয়, তা দুর্ভাগ্যজনক।' সংবাদমাধ্যমকেও আদালত নির্দেশ দিয়েছে, বর্ষণ ও যৌন হেনস্থার ঘটনায় কোনও ভাবেই যেন নিষ্পত্তিতার পরিচয় প্রকাশ করা না হয়। সেই সঙ্গে একআইয়ারও হাতে জনসমক্ষে না আসে, তা-ও নিশ্চিত করতে বলেছে শীর্ষ আদালত।

আডিলেডে জয়ী ভারত



১০ ডিসেম্বর: অস্ট্রেলিয়া সফরে গিয়ে আডিলেডে প্রথম টেস্ট অস্ট্রেলিয়াকে ৩১ রানে হারিয়ে জয়ী হল ভারত। ভারতের প্রথম ইনিংসে ২৫০ রানের জবাবে অস্ট্রেলিয়া তাদের প্রথম ইনিংসে ২৩৫ রান করে। ভারতের দ্বিতীয় ইনিংসে ৩০৭ রানে শেষ হয়। চেতেশ্বর পূজারা দুই ইনিংসে ১২৩ ও ৭১ রান করেন। অস্ট্রেলিয়া ৩২৩ রানের জয়ের লক্ষ্য নিয়ে ব্যাট করতে নেমে ২৯১ রানে সকলে আউট হয়ে যায়। মার্চের সেরা হয়েছেন পূজারা। এই মাঠে ১১টি ক্যাচ ধরে এক টেস্টে সবচেয়ে বেশি ক্যাচ নেওয়ার বিশ্বরেকর্ড স্পর্শ করলেন উইকেটকিপার রববত পথ। এর আগে এক টেস্টে ১১ ক্যাচের রেকর্ড ছিল দুই উইকেটকিপার দক্ষিণ আফ্রিকার এ বি ডিভিলিয়ার্স এবং ইংল্যান্ডের জ্যাক রাসেলের।

চাকরির পরীক্ষায় **কর্মে** কোচিং

ডব্লু বি সি এস প্রিলিমিনারি

পরীক্ষার নমুনা প্রশ্নোত্তর

- A good judge never jumps _____ the conclusion.
(a) to (b) at (c) on (d) for
 - The murder of parent or a near relative:
(a) Patricide (b) Parricide (c) Matricide (d) Homicide
 - I wish I _____ younger.
(a) am (b) were (c) have been (d) was
 - The poet and the dramatist _____ dead.
(a) is (b) are (c) has (d) have
- Nearest meaning**
- Emancipation
(a) Autonomy (b) Sovereignty (c) Freedom (d) Servitude
 - To cast aspersions:
(a) to act as the pillar of support (b) to make unpleasant remarks (c) to raise aspirations (d) to dissolve all the differences
 - A _____ of arrows.
(a) troop (b) forum (c) sheaf (d) heap
- Idiom**
- Cold comfort
(a) absurdity (b) deception (c) slight satisfaction (d) foolish proposal
 - One who can think about the future with imagination and wisdom.
(a) Dreamer (b) Seer (c) Idealist (d) Visionary
- Antonyms**
- Sujal is an outrageous boy.
(a) wicked (b) jolly (c) justifiable (d) lusty
 - My younger sister wears modern _____.
(a) clothes (b) dressing (c) cloth (d) clothings
 - I wondered if they _____ for Chicago next month.
(a) are leaving (b) will leave (c) had left (d) were leaving
 - The art of good eating:
(a) gastronomy (b) astronomy (c) vegetarianism (d) gourmet
- Opposite word**
- The food was toothsome.
(a) unpleasant (b) faultless (c) winsome (d) pleasant
- Synonym**
- Doleful
(a) Sober (b) Regretful (c) Mournful (d) Cheerless
 - He is blind _____ the faults of his son.
(a) at (b) of (c) to (d) with
 - He entrusted me _____ lot of money.
(a) to (b) with (c) for (d) upon
 - In the sentence 'All men must die', 'all' is:
(a) adjective (b) noun (c) pronoun (d) preposition
 - English is the Lingua franca of the world:
(a) easy language (b) official language (c) common language (d) most respected language
 - An Epicurean is one who:
(a) suffers (b) loves (c) endures (d) enjoys pleasure
 - He wanted to _____ out.
(a) want (b) call (c) ask (d) order
 - We should _____ for a rainy day.
(a) put something by (b) put down (c) put into (d) put things off
 - 'Hand and glove' means:
(a) Arrogance (b) Enemy (c) Maintain a distance (d) Intimate terms
 - You _____ catch the train at once.
(a) can (b) will (b) shall (d) must
 - The man _____ briefcase was lost, reported to the police.
(a) that (b) whose (c) which (d) whom
 - কোন পর্বের প্রাদীদেহ বর্ণিত?
(a) মৌলানা (b) একইনোডার্মাটা (c) পরিফেরা (d) অ্যানিলিডা
 - কার অতিরিক্ত শ্বাসপ্রশ্বাস অনুপস্থিত?
(a) কই মাছ (b) মাগুর মাছ (c) রুই মাছ (d) শিবি মাছ
 - কার গমনাঙ্গ সিঁড়িয়া?
(a) হাইড্রা (b) কেঁচো (c) প্যারাসিটিসিয়া (d) অ্যানিমি
 - পিত্তরস ক্ষরণের জন্য দায়ী অঙ্গটি হল:
(a) যকৃৎ (b) বৃক্ক (c) অগ্ন্যাশয় (d) পাকস্থলী
 - দু'টি পদার্থের বিকরণ হলে সেই পদার্থদুটি হল:
(a) উভয়ই চুম্বক (b) উভয়ই পদার্থ (c) একটি চুম্বক ও অপরটি অচৌম্বক পদার্থ (d) একটি চুম্বক ও অপরটি চৌম্বক পদার্থ
 - ব্যাটারির ধনাত্মক মেরুর সঙ্গে সংযুক্ত— তড়িৎস্রোতকে বলা হয়:
(a) ক্যাথোড (b) ক্যাটায়ন (c) অ্যানোড (d) অ্যানায়ন

- কোনটি স্বচ্ছ উদ্ভিদ নয়?
(a) পদ্ম (b) স্পাইরোগাইরা (c) অ্যাগারিকাস (d) কর্ন
- ইউক্যারিওটিক কোষের যে অঙ্গাণুটি সবচেয়ে বড় এবং সর্বোচ্চ জলীয়তা থাকে:
(a) ক্রোমোসোম (b) মাইটোকন্ড্রিয়া (c) গলগিভি (d) লাইসোজোম
- কোন পদার্থটি 'বাকি-বল' নামে অভিহিত?
(a) হীরক (b) সোনা (c) কুলেরিন (d) গ্রাফাইট
- পদার্থের ভিতরে স্থির কক্ষপথের ধারণা দেন:
(a) রাদারফোর্ড (b) ডাল্টন (c) নীলস বোর (d) জে জে টমসন
- হোয়াইট ভিট্রিয়ল এর রাসায়নিক সংকেত হল:
(a) FeSO₄ (b) CaSO₄ (c) ZnSO₄ (d) MgSO₄
- রক্ত তন্ত্রের প্রয়োজনীয় পদার্থটি হল:
(a) বিলিভরিন (b) প্রোথ্রম্বিন (c) অ্যালবুমিন (d) ট্রোবিটলিন
- প্রোক্যারিওটিক কোষে থাকে না:
(a) কোষপর্দা (b) কোষপ্রাচীর (c) নিউক্লিয়ার পর্দা (d) রাইবোজোম
- DNA দ্বিতীয় গঠনের আবিষ্কারক হলেন:
(a) হারগোপিন্ড বুরান (b) ওয়াটসন (c) রবার্ট হুক (d) ওয়াটসন ও ক্রিক
- সালোক-সংশ্লেষণের সময় মুক্তকৃত অক্সিজেন আসে:
(a) H₂O থেকে (b) CO₂ থেকে (c) H₂O ও CO₂ থেকে (d) বাতাসের অক্সিজেন থেকে
- নির্দিষ্ট উষ্ণতায় চাপের বৃদ্ধিতে গ্যাসের বাষ্প-ঘনত্ব:
(a) বৃদ্ধি পায় (b) হ্রাস পায় (c) একই থাকে (d) কখনও কখনও বৃদ্ধি পায়
- কোন যৌগের গলনাঙ্ক সর্বনিম্ন?
(a) NaCl (b) KCl (c) RbCl (d) LiCl
- কোন ধূমকেতু 76 বছর অন্তর দেখা যায়?
(a) হ্যালি (b) টেম্পেল টার্নল (c) আলকাস সেটোরি (d) কেনওটিই নয়
- পারমাণবিক চুল্লিতে সংঘটিত বিক্রিয়া হল:
(a) অক্সিডেশন (b) নিউক্লিয়ার সংযোজন (c) নিউক্লিয়ার বিভাজন (d) সমাবরণীভবন
- যখন কলিচুলে জল যোগ করা হয় তখন বিক্রিয়াটি:
(a) বিস্ফোরক হয় (b) তাপশোষী হয় (c) তাপদায়ী হয় (d) আলোক রাসায়নিক হয়
- অটোমোবাইল দুর্ঘটনা রোধে ব্যবহৃত CNG-এর উপাদান কী?
(a) CH₄ (b) CO₂ (c) N₂ (d) H₂
- অ্যান্টিসেপটিক তৈরিতে কোনটি ব্যবহৃত হয়?
(a) পটাশিয়াম নাইট্রেট (b) আয়োডিন (c) আয়োডিন ক্লোরাইড (d) পটাশিয়াম ক্লোরাইড
- আফিমের প্রধান উপাদান হল:
(a) অ্যাট্রোপিন (b) কুইনিন (c) মরফিন (d) হিরেইন
- কোন গ্যাসকে Stranger gas বলা হয়?
(a) আর্গন (b) নিয়ন (c) নাইট্রাস অক্সাইড (d) জেনন
- প্রাপ্তবয়স্ক মানুষের 24 ঘন্টার কত পরিমাণ মূত্র নির্গত হয়?
(a) 6 লিটার (b) 3 লিটার (c) 1.5 লিটার (d) 9 লিটার
- 'দু-আসপা' ও 'শে-আসপা' পদদুটি কোন স্নায়ুর স্নায়ুসংক্রমণের সময়ে সৃষ্টি করা হয়?
(a) বাবর (b) জাহাঙ্গির (c) শাহজাহান (d) আকবর
- ঔষধের ভাঙ্গনহলের একটি অনুপ্রাণ স্থাপত্য কোষায় নির্মাণ করেন?
(a) দৌলতাবাদ (b) হোসেনাবাদ (c) আহমেদাবাদ (d) উরসাবাদ
- বৌদ্ধ মহাজনপদের তালিকা কোষায় পাওয়া যায়?
(a) মহাভারত (b) সমুদ্র নিকায় (c) অসুত্ত নিকায় (d) ছান্দোগ্য উপনিষদ
- কোন সুলতান ইজা ব্যবস্থা রদ করেন?
(a) আলতুন্সিন খানজি (b) ইলতুন্সিন (c) কলকন (d) কুতুবউদ্দিন আইবক
- গুরু নামক কোষায় জন্মগ্রহণ করেন?
(a) নানকানা (b) অম্বুতর (c) নাতা (d) নানদের
- 'মহোদয়' শব্দের প্রাচীন নাম কী?
(a) এলাহাবাদ (b) কনৌজ (c) পাটনা (d) বাজপুর
- কোন স্নায়ুর সময়ে হিউমেন সাং ভারতে আসেন?
(a) দ্বিতীয় চন্দ্রগুপ্ত (b) যানসেন (c) হর্ষবর্নন (d) যক্ষগুপ্ত
- কোন মারাঠা পেশোয়া 'হিন্দু-পান-পান-হিন্দু'র আদর্শ তুলে ধরেছিলেন?
(a) মাধব রাও (b) নারায়ণ রাও (c) বালাজি-বিন্ধ্যনাথ (d) প্রথম বাজিরাও
- সিদ্ধসভাটা ছিল:
(a) নগরকেন্দ্রিক (b) গ্রামীণ (c) লৌহ যুগের (d) বৈদিক যুগের
- 'মহাভারত' বাঙ্গালার অনুবাদ করেন কে?
(a) কুন্ডবাস ওয়া (b) কলীপ্রসন্ন সিংহ (c) কলীরাম দাস (d) অম্বোদয়
- ভানসেন-এর আসল নাম কী?
(a) জালালাউদ্দিন (b) অইল টৌয়ুরি (c) তারতগুপ্ত পাণ্ডে (d) রামচন্দ্র পাণ্ডে
- হলদিঘাটের যুদ্ধ কাদের মধ্যে হয়েছিল?
(a) বাবর ও হুমায়ুন (b) আকবর ও হুমায়ুন (c) জাহাঙ্গির ও হুমায়ুন (d) বাবর ও হিন্দু
- গুরু অর্জুন শিষ্যদের কতজন গুরু?
(a) নবম (b) দশম (c) ষোল (d) পঞ্চদশ
- বাঙ্গালার নবাবদের মধ্যে শেষ নবাব কে?
(a) মিরজাদপুর (b) মিরকাসিম (c) সৈফউদ্দৌলা (d) নব্বইদৌলা
- ভারতের প্রথম সূত্র কত খ্রিস্টাব্দে সংঘটিত হয়?
(a) 1857 (b) 1858 (c) 1859 (d) 1860

সাব-ইনস্পেক্টর

নিয়োগ-পরীক্ষার নমুনা প্রশ্নোত্তর

- গত সংখ্যার পর**
- একটি সংখ্যা প্রথমে 20% বাড়িয়ে তারপর 20% কমালে সংখ্যাটির কী পরিবর্তন হবে?
(a) 4% বাড়বে (b) 4% কমবে (c) বাড়বে না বা কমবে না (d) এর কোনওটিই নয়
 - একটি যাত্রীবাহী ট্রেনের গতিবেগ 80 কিমি/ঘন্টা। এই যাত্রীবাহী ট্রেনটি একটি মালবাহী ট্রেনের 6 ঘন্টা পর স্টেশন থেকে বাত্মা করে এবং ছাড়ার 4 ঘন্টা পরে মালবাহী ট্রেনটিকে অতিক্রম করে, মালবাহী ট্রেনটির গতিবেগ:
(a) 32 কিমি/ঘন্টা (b) 60 কিমি/ঘন্টা (c) 40 কিমি/ঘন্টা (d) 50 কিমি/ঘন্টা
 - 40.50 টাকা প্রতি কিলোগ্রাম দরের চাচার সঙ্গে 95.50 টাকা প্রতি কিলোগ্রাম দরের চা মেশানো হল। মিশ্রিত চাচার প্রতি কিলোগ্রামের দাম 55.50 টাকা। ভালো জাতের চা এবং খারাপ জাতের চা কী অনুপাতে মেশানো হয়েছিল?
(a) 4 : 3 (b) 3 : 8 (c) 3 : 4 (d) 8 : 3
 - একটি শ্রেণির ছাত্র-ছাত্রীদের গড় বয়স 15.8 বছর। যদি ছাত্রদের গড় বয়স 16.4 বছর এবং ছাত্রীদের গড় বয়স 15.4 বছর হয়, তবে শ্রেণিতে ছাত্রী এবং ছাত্রদের সংখ্যার অনুপাত:
(a) 2 : 1 (b) 4 : 3 (c) 3 : 2 (d) নির্ণয় করা যাবে না
 - এক পরীক্ষার্থী পরীক্ষায় 25% নম্বর পায় এবং পাস নম্বরের থেকে 30 নম্বর কম পায়। আর একজন পরীক্ষার্থী 50% নম্বর পায় এবং পাস নম্বরের থেকে 20 নম্বর বেশি পায়। পাস নম্বরের কত?
(a) 40 (b) 80 (c) 50 (d) 60
 - একজন লোকনগর 80 টাকা প্রতি কিলোগ্রাম দরে 10 কিলোগ্রাম চাচার সঙ্গে 90 টাকা প্রতি কিলোগ্রাম দরে 15 কিলোগ্রাম চা মেশান। যদি তিনি ক্রয়মূল্যের ওপর 10% লাভ করতে চান তবে মিশ্রিত চাচার প্রতি কিলোগ্রামের বিক্রয়মূল্য হবে:
(a) 96 টাকা (b) 95.20 টাকা (c) 94 টাকা (d) 94.60 টাকা
 - 1300 টাকা লিখিত মূল্যের একটি বস্তুর লিখিত মূল্যের ওপর 10% ছাড় দেওয়া হয়। এরপর আবার 8% ছাড় দেওয়া হয়। তবে বস্তুর বিক্রয়মূল্য হবে:
(a) 1,076.00 টাকা (b) 1,206.00 টাকা (c) 1,196.00 টাকা (d) 1,076.40 টাকা
 - একটি বর্গক্ষেত্রের ক্ষেত্রফল একটি বৃত্তের ক্ষেত্রফলের সমান বৃত্তের পরিধি 2πx হয় তবে বর্গক্ষেত্রের পরিধি:
(a) $\sqrt{\pi x}$ (b) πx (c) πx² (d) 4x√π
 - একটি রম্বসের কর্ণের দৈর্ঘ্য 24 সেমি এবং এক বাহুর দৈর্ঘ্য 20 সেমি। রম্বসের ক্ষেত্রফল কত?
(a) 384 সেমি² (b) 386 সেমি² (c) 385 সেমি² (d) 380 সেমি²
 - একটি পাইপ একটি ট্রোব্যাচাকে 8 ঘন্টার ভর্তি করে এবং অপর একটি পাইপ ট্রোব্যাচাটিকে 16 ঘন্টার খালি করে। যদি দুটি পাইপ একসঙ্গে খুলে দেওয়া হয় তবে ট্রোব্যাচাটি পূর্ণ হতে কত সময় লাগবে?
(a) 8 ঘন্টা (b) 10 ঘন্টা (c) 36 ঘন্টা (d) 24 ঘন্টা
 - 12 জন লোক এবং 16 জন মহিলা একটি নির্দিষ্ট সময়ে যে কাজ করে, 6 জন লোক এবং 26 জন মহিলা ওই সময়ে ওই কাজেই পরিমাণ কাজ করে। একজন মহিলা এবং একজন লোকের কাজ করার ক্ষমতার অনুপাত কত?
(a) 5 : 3 (b) 3 : 5 (c) 9 : 13 (d) 13 : 9
 - একটি ঘড়ি এবং দুটি ক্যালকুলেটরের মোট দাম 1,825 টাকা। যদি একটি ক্যালকুলেটরের দাম একটা ঘড়ির দামের থেকে 125 টাকা বেশি হয় তবে ক্যালকুলেটরের দাম কত?
(a) 450 টাকা (b) 440 টাকা (c) 375 টাকা (d) 350 টাকা
 - কিছু সংখ্যক লোক একটি কাজ 60 দিনে করতে পারে। যদি আরও 8 জন লোক বাড়িয়ে দেওয়া যায় তবে আরও 10 দিনে কাজটি শেষ করা যায়। প্রথমে কতজন কাজটি শুরু করেছিল?
(a) 30 (b) 32 (c) 36 (d) 40
 - একটি লোক পাহাড়ের ওপর ২৪ কিলোমিটার বেগে ওঠে এবং ঘন্টার 36 কিলোমিটার বেগে নামে। উভয়ক্ষেত্রেই অতিক্রান্ত পথ সমান। পুরো সময়ের গড় বেগ কত?
(a) 28 কিমি/ঘন্টা (b) 28.8 কিমি/ঘন্টা (c) 30 কিমি/ঘন্টা (d) 32.6 কিমি/ঘন্টা
 - 4320 সংখ্যাটিকে কত দ্বিগুণ করলে তা একটি পূর্ণবর্গসংখ্যায় পরিণত হবে?
(a) 10 (b) 25 (c) 45 (d) 50
 - 312 টাকা 100 জন বালক ও বালিকার মধ্যে ভাগ করে দেওয়া হল। যদি প্রতি বালক 3.6 টাকা ও প্রতি বালিকা 2.4 টাকা পায়, তবে বালিকার সংখ্যা কত?
(a) 35 (b) 40 (c) 60 (d) 65
 - $3.87 - 2.59 = ?$
(a) 1.28 (b) 1.27 (c) 1.2 (d) 1.2
 - যখন বালতির ধারণক্ষমতা 13.5 লিটার তখন একটি পাত্র ভরতে 12 বালতি জল লাগে। যদি বালতির ধারণক্ষমতা 9 লিটার হয় তবে কত বালতি জল প্রয়োজন?
(a) 8 (b) 15 (c) 16 (d) 18
 - 125 লিটার লম্বা একটি ট্রেন ঘন্টার 5 কিলোমিটার বেগে একইদিকে ধাবমান একজন ব্যক্তিকে 10 সেকেন্ডে অতিক্রম করে। ট্রেনের গতিবেগ (কিমি/ঘন্টার) কত?
(a) 45 (b) 50 (c) 54 (d) 55
 - একজন ক্রিকেট খেলোয়াড়ের 10টি ইনিংসে নির্দিষ্ট গড় আছে। একাদশ ইনিংসে যদি 108 রান করে, তবে গড় 6 বৃদ্ধি পায়। নতুন গড় হল:
(a) 48 (b) 52 (c) 55 (d) 60

ডব্লু বি সি এস প্রিলিমিনারি পরীক্ষার নমুনা প্রশ্নোত্তর

দশের পাতার পর

- (a) 1190 (b) 1191 (c) 1192 (d) 1193
66. জাহাঙ্গিরের মৃত্যু/শাহজাহানের সিংহাসন লাভ/শিবাজির জন্ম কত খ্রিস্টাব্দে
(a) 1627 (b) 1727 (c) 1628 (d) 1728
67. তবাক্বা-ই-নাসিরি কার লেখা?
(a) মিনহাজ-উস-সিরাজ (b) হাসান নিজামি (c) জিয়াউদ্দিন বরনি (d) আকবাস শেরওয়ানি
68. স্বপ্নবাসবদত্তা কার লেখা?
(a) অশ্বমেধ (b) বসুমিত্র (c) কালিদাস (d) ভাস
69. 'নীল জল নীতি' বা 'Blue Water Policy' কার সাম্রাজ্যবাদী নীতিকে বলা হয়ে থাকে?
(a) আলমিতা (b) ভান্ডো-ডা-গামা (c) আলবুকার্ক (d) জব চার্নক
70. 'সুফি' কথার অর্থ কী?
(a) সংগীত (b) সুর (c) পশম (d) ছন্দ
71. বাবরের আত্মজীবনী 'তুজুক-ই-বাবরি' কোন ভাষায় রচিত?
(a) পারসি (b) ফারসি (c) উর্দু (d) তুরকি
72. 'ভগবানের নিপীড়ন যন্ত্র'— কাকে বলা হত?
(a) চেঙ্গিস খান (b) মামুদ (c) তৈমুর লং (d) উরঙ্গজেব
73. তৈমুর লং ভারতে কতদিন ছিলেন?
(a) 11 (b) 12 (c) 14 (d) 15
74. কলিযুগ কোন যুগের সমসাময়িক?
(a) তাম্রযুগ (b) লৌহ যুগ (c) নব্যপ্রস্তর যুগ (d) মধ্যপ্রস্তর যুগ
75. আলেকজান্ডারের ঘোড়ার নাম কী ছিল?
(a) চেতক (b) বসিফেলাস (c) হিরামন (d) ছান্দো
76. ভারতীয় স্বাধীনতা আন্দোলনের সরকারি ঐতিহাসিক কে ছিলেন?
(a) রমেশচন্দ্র মজুমদার (b) তারাচাঁদ (c) ডি ডি সাতারকার (d) এস এন সেন
77. আলিপুর বোমা মামলায় কোন আইনজীবী বিপ্লবী অরবিন্দ ঘোষের পক্ষে সওয়াল করেন?
(a) বিপিনচন্দ্র পাল (b) মোতিলাল নেহরু (c) চিত্তরঞ্জন দাশ (d) বীরেন্দ্র শাসমল
78. ভারতের জাতীয় কংগ্রেসের শেষ কোন অধিবেশনে বাল গঙ্গাধর তিলক যোগদান করেন?
(a) কলকাতা অধিবেশন, 1906 (b) সুরাট অধিবেশন, 1907 (c) কলকাতা অধিবেশন, 1917 (d) অমৃতসর অধিবেশন, 1919
79. কোন ব্রিটিশ শাসককে সে দেশের সংসদে ইমপিচ করা হয়েছিল?
(a) হেন্সিংস (b) লর্ড মেয়ো (c) ক্লাইভ (d) জন হলওয়েল
80. ভারতছাড়া আন্দোলনের সময় কোথায় জাতীয় সরকার গড়ে ওঠে?
(a) তমলুক (b) সাতারা (c) নাগপুর (d) বালিয়া
81. কোন কারাগারে নেহরু তাঁর বিখ্যাত 'Discovery of India' বইটি লেখেন?
(a) আমেদাবাদ ফোর্ট জেল (b) আলিপুর সেন্ট্রাল জেল (c) ইয়ারভেদা জেল (d) দেউলি ক্যাম্প জেল
82. তৃতীয় গোলটেবিল বৈঠক কবে হয়েছিল?
(a) 1930 (b) 1931 (c) 1932 (d) 1933
83. অসহযোগ আন্দোলনের সূচনা হয়:
(a) 1920 (b) 1820 (c) 1720 (d) 1821
84. ভারতীয় স্বাধীনতা আন্দোলনের প্রথম মহিলা শহিদ কে?
(a) মাতঙ্গিনী হাজরা (b) প্রীতিলতা ওয়াদেদার (c) কনকলতা বরুয়া (d) উষা মেহতা
85. শ্রীমতি নেয়ো-র 'Mother India' গ্রন্থের প্রত্যুত্তরে লালা লাজপত রায় যে গ্রন্থটি রচনা করেন তা হল:
(a) India Divided (b) Indian Mirror (c) India Unrest (d) Unhappy India
86. গান্ধীজিকে 'Half naked Fakir' কে বলেছিলেন?
(a) মেয়ো (b) চার্চিল (c) এটলি (d) এঁদের কেউই নন
87. মঙ্গলপাণ্ডে কত নম্বর রেজিমেন্টের সিপাহি ছিলেন?
(a) 34 নম্বর (b) 32 নম্বর (c) 33 নম্বর (d) 35 নম্বর
88. প্রথম জাতীয়তাবাদী কবি কাকে বলা হয়?
(a) আনি বেসান্ত (b) তিলক (c) রজনীকান্ত দত্ত (d) ডিরোজিও
89. ভারতের প্রথম আধুনিক মানুষ কাকে বলা হয়?
(a) বিদ্যাসাগর (b) রামমোহন (c) গান্ধীজি (d) নেতাজি
90. লর্ড ক্যানিং কত খ্রিস্টাব্দে আয়কর প্রচলন করেন?
(a) 1758 (b) 1857 (c) 1858 (d) 1757
91. এশিয়াটিক সোসাইটি কত সালে স্থাপিত হয়?
(a) 1784 (b) 1884 (c) 1785 (d) 1782
92. 'Man of Peace' কাকে বলা হত?
(a) গান্ধীজি (b) অমৃতলাল বসু (c) লাল বাহাদুর শাস্ত্রী (d) সখারাম ভাত ওয়াদেকর
93. কোন ভারতীয় প্রথম কলকাতা কর্পোরেশনের মেয়র হন?
(a) চিত্তরঞ্জন দাশ (b) আশুতোষ মুখোপাধ্যায় (c) উমেশচন্দ্র বন্দ্যোপাধ্যায় (d) নৃপেন্দ্রনাথ সরকার
94. মিল করুন:
গান্ধীজি: I. প্রথম অনশন 1. রাওলাট সত্যগ্রহ
II. আইন অমান্য 2. খেদা সত্যগ্রহ
III. সারা ভারত সত্যগ্রহ 3. চম্পারণ সত্যগ্রহ
IV. অসহযোগ আন্দোলন 4. আমেদাবাদ
- (a) I-3, II-4, III-2, IV-1 (b) I-4, II-3, III-2, IV-1 (c) I-4, II-3, III-1, IV-2 (d) I-3, II-2, III-1, IV-4
95. কে মহারাষ্ট্রে মিত্রমেলা নামে একটি বিপ্লবী সংস্থা প্রতিষ্ঠা করেন?

চাকরির পরীক্ষায় কয়েকটি কোটিং

- (a) বীর সাতারকার (b) লালা হরদয়াল (c) রাসবিহারী বসু (d) বাসুদেব বলবন্ত ফাড়কে
96. Jadavpur University-র পূর্বনাম কী?
(a) স্বদেশ বান্দব পরিষদ (b) জাতীয় শিক্ষা বিভাগ (c) জাতীয় শিক্ষা পরিষদ (d) স্বদেশ শিক্ষা পরিষদ
97. The Blue Mutiny কার লেখা?
(a) কার্ল ব্রাম (b) ব্রোয়ার কিং (c) লুই বোনোর্ড (d) লর্ড নর্থব্রুক
98. আন্দামানে ভারতের কোন গভর্নর জেনারেল নিহত হন?
(a) লিটন (b) কার্জন (c) মেয়ো (d) কেউই নন
99. বিবেকানন্দের লেখা বই:
(a) কথামৃত (b) কথামালা (c) বর্তমান ভারত (d) A Nation in Making
100. তত্ত্ববোধিনী পত্রিকা শুরু করেছিলেন:
(a) মধুসূদন দত্ত (b) বিদ্যাসাগর (c) রামতনু লাহিড়ী (d) দেবেন্দ্রনাথ ঠাকুর
101. কোনটির সঙ্গে কোনটি মিল করুন।
- | A | B |
|-----------|-----------------|
| I. 1872 | 1. চিড়িয়াখানা |
| II. 1875 | 2. হাইকোর্ট |
| III. 1876 | 3. যাদুঘর |
| IV. 1921 | 4. বিশ্বভারতী |
- | A | B | A | B | A | B |
|-------|---|-------|---|-------|---|
| (a) I | 2 | (b) I | 2 | (c) I | 4 |
| II | 3 | II | 4 | II | 3 |
| III | 1 | III | 1 | III | 2 |
| VI | 4 | IV | 3 | IV | 1 |
102. A B
- | A | B | A | B |
|---------------|------------------------------|---|---|
| I. হাইকোর্ট | 1. গ্রিক স্থাপত্য | A | B |
| II. শহিদমিনার | 2. ইতালীয় স্থাপত্য | A | B |
| III. GPO | 3. মিশরীয় ও তুর্কি স্থাপত্য | A | B |
| IV. যাদুঘর | 4. বেলজিয়াম স্থাপত্য | A | B |
- | A | B | A | B | A | B |
|-------|---|-------|---|-------|---|
| (a) I | 2 | (b) I | 2 | (c) I | 1 |
| II | 1 | II | 3 | II | 3 |
| III | 3 | III | 1 | III | 2 |
| IV | 4 | IV | 4 | IV | 4 |
103. বসিরহাট কোন নদীর তীরে অবস্থিত?
(a) ইছামতি (b) সিলাই (c) হুগলি (d) সুবর্ণরেখা
104. A B
- | A | B |
|----------------------|-------------------------------------|
| I. Baralacha Pass | 1. Himachal Pradesh with Tibet |
| II. Chang La Pass | 2. Leh with Siachen Glacier |
| II. Khardung La Pass | 3. Himachal Pradesh with Leh-Ladakh |
| III. Niti Pass | 4. Ladakh with Tibet |
| IV. Sipki La Pass | 5. Uttarakhand with Tibet |
- (a) I-3, II-4, III-2, IV-5, V-1 (b) I-3, II-5, III-4, IV-2, V-1 (c) I-1, II-5, III-2, IV-4, V-3 (d) I-1, II-4, III-5, IV-2, V-3
105. পশ্চিমবঙ্গ বিধানসভার প্রথম অধ্যক্ষ:
(a) অজয় কুমার মুখার্জি (b) রাজেন্দ্র মল্লিক (c) প্রফুল্ল চন্দ্র ঘোষ (d) ঈশ্বর দাস জালান
106. কলকাতা থেকে সুরাট জাতীয় সড়ক:
(a) NH-41 (b) NH-34 (c) NH-6 (d) NH-7
107. সিদ্ধুর বঁদিকের উপনদী:
(a) জাহ্নবী (b) গিলগিট (c) সাইয়ক (d) টোনস
108. ব্রিটিশ আমলে 'বাংলার অক্সফোর্ড' কাকে বলা হত?
(a) তমলুক (b) কল্যাণী (c) নবদ্বীপ (d) কলকাতা
109. গঙ্গার শাখানদী ভাগীরথী-হুগলির দৈর্ঘ্য:
(a) 500 km (b) 400 km (c) 421 km (d) 300 km
110. পৃথিবীর উচ্চতম রেসকোর্স অবস্থিত:
(a) লাদাখ (b) লেবং (c) কাশ্মির (d) হ্রাস
111. জাতীয় উদ্যান (NP) স্থান
- | I. ক্যাম্পবেল বে (NP) | 1. গোয়া |
|-----------------------|-----------------|
| II. মরুগাভানি (NP) | 2. আন্দামান |
| III. মোলেম (NP) | 3. কর্ণাটক |
| IV. বানার ঘাটা (NP) | 4. অন্ধ্রপ্রদেশ |
- (a) I-4, II-2, III-1, IV-3 (b) I-2, II-4, III-1, IV-3 (c) I-2, II-1, III-4, IV-3 (d) I-1, II-4, III-2, IV-3
112. জনসংখ্যা বৃদ্ধির হার সর্বাধিক কোন রাজ্যে?
(a) নাগাল্যান্ড (b) হরিয়ানা (c) উত্তরপ্রদেশ (d) বিহার
113. আয়তনে সর্বনিম্ন জেলা কোনটি?
(a) কচ্ছ (b) সারচিপ (c) মাহে (d) দমন দিউ
114. কাকে হিমালয়ের প্রবেশদ্বার বলা হয়?
(a) হরিদ্বার (b) সোমনাথ (c) হাথীকেশ (d) কেদারনাথ
115. ভারতের প্রাচীনতম তৈলখনি কোনটি?
(a) মোরান (b) বম্বে হাই (c) ডিগবয় (d) আফলেশ্বর
116. ভারতের পশ্চিম উপকূলের কৃত্রিম পোতাশ্রয় কোনটি?
(a) নিউ ম্যান্ডালোর (b) কোচিন (c) কাড্ডালা (d) মার্মাগাঁও
117. দিলওয়ারা মন্দির কোথায় অবস্থিত?
(a) কর্ণাটক (b) মধ্যপ্রদেশ (c) অন্ধ্রপ্রদেশ (d) রাজস্থান
118. কোন রেখা ভারতকে প্রায় সমান দুটি ভাগে ভাগ করেছে?
(a) মকরক্রান্তি রেখা (b) কর্কটক্রান্তি রেখা (c) নিরক্ষরেখা (d) অক্ষরেখা
119. কোন প্রাণী সংরক্ষণের জন্য World Wild LifeFund for Nature (WWF)-এর লোগোটি ব্যবহৃত হয়?
(a) মেরু ভাঙ্গুক (b) বাঘ (c) গভার (d) জায়ান্ট পান্ডা

120. কোন ধরনের উদ্ভিদ ভারতে বেশি দেখা যায়?
(a) চিরহরিৎ (b) সরলবর্গীয় (c) পর্ণমোচী (d) অঙ্গীয়
121. জাতীয় বনসংরক্ষণ নীতি অনুসারে দেশের মোট আয়তনের — শতাংশ অংশে বনভূমি থাকা দরকার।
(a) 30% (b) 33% (c) 41% (d) 45%
122. কোনটি পূর্বঘাট পর্বতের পাহাড় নয়?
(a) বালঘাট (b) পালকোতা (c) নাল্লামালি (d) সেভারয়
123. সিয়াজেন হিমবাহের দৈর্ঘ্য:
(a) 75 কিলোমিটার (b) 62 কিলোমিটার (c) 70 কিলোমিটার (d) 80 কিলোমিটার
124. 8" চ্যানেল:
(a) মিনিকয় ও মালদ্বীপ (b) আন্দামান ও মায়ানমার (c) লাক্ষাদ্বীপ ও মিনিকয় (d) লাক্ষাদ্বীপ ও মালদ্বীপ
125. আন্দামান ও নিকোবর দ্বীপপুঞ্জের সবথেকে বড় দ্বীপ কোনটি?
(a) Middle Andaman (b) North Andaman (c) South Andaman (d) Great Nicobar
126. ভারতীয় সংবিধানের অভিভাবক কাকে বলা হয়?
(a) রাষ্ট্রপতি (b) প্রধানমন্ত্রী (c) প্রধান বিচারপতি (d) উপরাষ্ট্রপতি
127. 'সার্বভৌম' শব্দটির কোন অর্থটি সঠিক?
(a) বৈদেশিক নিয়ন্ত্রণ থেকে মুক্ত (b) সীমানা সম্পর্কিত বিতর্ক থেকে মুক্ত (c) আন্তর্জাতিক সংস্থার নিয়ন্ত্রণ-মুক্ত (d) অভ্যন্তরীণ নিয়ন্ত্রণ থেকে মুক্ত
128. ভারতে আর্থিক নীতি প্রণয়নে কোন প্রতিষ্ঠান সরাসরি যুক্ত?
(a) RBI (b) LIC (c) SBI (d) SEBI
129. আমাদের দেশে বৈদেশিক মুদ্রার তহবিল রক্ষা করে কে?
(a) RBI (b) SBI (c) Exim Bank (d) Finance Advisory Board
130. রাজনৈতিক দলগুলিকে আঞ্চলিক অথবা জাতীয় স্তরের দলরূপে কে স্বীকৃতি দেওয়ার অধিকারী?
(a) রাষ্ট্রপতি (b) পার্লামেন্ট (c) নির্বাচন কমিশন (d) সুপ্রিম কোর্ট
131. বিধানসভা আছে নীচের কোন কেন্দ্রশাসিত অঞ্চলে?
(a) দিল্লি ও পুদুচেরি (b) লাক্ষাদ্বীপ (c) পুদুচেরি (d) দিল্লি
132. ভারতীয় সংবিধানের 42তম সংশোধন অনুযায়ী রাষ্ট্রপতি কার পরামর্শ মতো কাজ করতে বাধ্য থাকেন?
(a) মন্ত্রিসভা (b) প্রধানমন্ত্রী (c) সংসদ (d) সুপ্রিম কোর্টের প্রধান বিচারপতি
133. সংবিধানের কত নম্বর ধারা অনুসারে ভারতে আর্থিক জরুরি অবস্থা জারি করা হয়?
(a) 352 নম্বর (b) 355 নম্বর (c) 356 নম্বর (d) 360 নম্বর
134. মিনার্ভা মিনাস মামলার রায় অনুযায়ী— ভারতীয় সংবিধানে কীসের পরিবর্তন করা যাবে না?
(a) মৌলিক অধিকার সংক্রান্ত বিষয় (b) মূল কাঠামো (c) নির্দেশমূলক নীতি (d) নাগরিকতা সংক্রান্ত নিয়মাবলি
135. কত সালে বিহার ভেঙে ঝাড়খণ্ড রাজ্য সৃষ্টি হয়?
(a) 1987 (b) 2000 (c) 2001 (d) 2003
136. শপথ গ্রহণ সংক্রান্ত বিষয় কোন তফশিলের অন্তর্গত?
(a) দ্বিতীয় তফশিল (b) তৃতীয় তফশিল (c) চতুর্থ তফশিল (d) পঞ্চম তফশিল
137. মিল করুন:
I. রাষ্ট্রের নির্দেশমূলক নীতি i. অষ্ট্রেলীয় সংবিধান
II. যুগ্ম তালিকা ii. ব্রিটিশ সংবিধান
III. একনাগরিকত্ব iii. আইরিশ সংবিধান
IV. জরুরি অবস্থা iv. জার্মান সংবিধান
- (a) I-i, II-ii, III-iii, IV-iv (b) I-i, II-iii, III-ii, IV-iv (c) I-iii, II-i, III-ii, IV-iv (d) I-iii, II-ii, III-iv, IV-i
138. GST-এর ক্ষেত্রে অগ্রত্যক্ষ করে বিনিয়াদ (indirect tax base) কোন রাজ্যে সর্বোচ্চ?
(a) উত্তরপ্রদেশ (b) হরিয়ানা (c) তামিলনাড়ু (d) মহারাষ্ট্র
139. বিদেশ থেকে ভারতে আসার পর কোনও ব্যক্তি বিদেশি মুদ্রা কতদিন পর্যন্ত নিজের কাছে রাখতে পারেন?
(a) 30 দিন (b) 60 দিন (c) 90 দিন (d) 180 দিন
140. কোন FYP-এ মানবসম্পদ উন্নয়নকে সমস্ত উন্নয়নমূলক কর্মের কেন্দ্রে রাখা হয়েছিল? (FYP পঞ্চবার্ষিকী পরিকল্পনা)
(a) পঞ্চম পরিকল্পনা (b) ষষ্ঠ পরিকল্পনা (c) সপ্তম পরিকল্পনা (d) অষ্টম পরিকল্পনা
141. কোন পরিকল্পনায় কৃষিক্ষেত্রে ব্যয়বৃদ্ধি সর্বোচ্চ ছিল?
(a) ষষ্ঠ পরিকল্পনা (b) পঞ্চম পরিকল্পনা (c) চতুর্থ পরিকল্পনা (d) তৃতীয় পরিকল্পনা
142. ভারতে কো-অপারেটিভ আন্দোলন কোন ক্ষেত্রে প্রথম শুরু হয়?
(a) কৃষিকাজ (b) ভোগ্যপণ্য (c) কৃষিজ পণ্য (d) কৃষিক্ষণ
143. RuPay Card কোন সংস্থা বাজারে এনেছে?
(a) RBI (b) SBI (c) অর্থমন্ত্রক (d) National Payment Corporation of India
144. শিল্পের জন্য ঋণদান করে থাকে:
(a) IDBI (b) IFCI (c) SFC (d) সবক'টি
145. চতুর্থ পঞ্চবার্ষিকী পরিকল্পনা:
(a) হ্যারও ভোমার তত্ত্ব (b) সোলোর তত্ত্ব (c) মহলানবিশ তত্ত্ব (d) ক্যালডার
146. মানবিক উন্নয়ন সূচক প্রথম ব্যবহৃত হয়:
(a) 1980 সালে (b) 1990 সালে (c) 1995 সালে (d) 2000 সালে
147. উর্জিত প্যাটেল RBI-এর কততম গভর্নর:
(a) 22তম (b) 23তম (c) 24তম (d) 25তম
148. Composition of the House of the People কোন ধারা?
(a) 79 নম্বর (b) 78 নম্বর (c) 80 নম্বর (d) 81 নম্বর
149. Comptroller and Auditor General of India:
(a) 147 নম্বর (b) 148 নম্বর (c) 149 নম্বর (d) 150 নম্বর
150. Equal Opportunity in Public Employment:
(a) 15 নম্বর (b) 16 নম্বর (c) 17 নম্বর (d) 20 নম্বর
151. নীচের সিরিজেরে ভুল সংখ্যাটি হল:

কর্মক্ষেত্র কলকাতা, ১৯ ডিসেম্বর ২০১৮/১২

ডব্লু বি সি এস প্রিলিমিনারি

পরীক্ষার নমুনা প্রশ্নোত্তর

- এগারো পাতার পর
7, 28, 63, 124, 215, 342, 511
(a) 7 (b) 28 (c) 124 (d) 215
152. কোনও সংখ্যার বর্গমূলের সঙ্গে ৪ যোগ করলে 34 হয়। তাহলে সংখ্যাটি কত?
(a) 566 (b) 872 (c) 766 (d) 676
153. $\sqrt{169} = 13$ হলে, $\sqrt{0.000169} + \sqrt{0.0169}$ -এর মান কত?
(a) 0.143 (b) 0.139 (c) 0.133 (d) 0.153
154. গৌতম একট টেবিল 540 টাকায় ক্রয় করে 10% ক্ষতি করল। সে যদি 10% লাভ করতে চাইত তাহলে ওই টেবিলের ক্রয়মূল্য কত হত?
(a) 660 টাকা (b) 680 টাকা (c) 580 টাকা (d) 550 টাকা
155. কোনও ক্রিকেট মাঠে প্রথমে 10 ওভারে রান রেট ছিল 3.2, 202 রানের টার্গেট করতে হলে বাকি 40 ওভারে কত রান রেট রাখতে হবে?
(a) 6.25 (b) 6.5 (c) 6.75 (d) 7
156. সিরিজের তুল সংখ্যাটি চিহ্নিত করুন—
5, 10, 40, 80, 320, 550, 2560
(a) 80 (b) 320 (c) 550 (d) 2560
157. Missing number টি খুঁজে বের করুন:
(a) 21 (b) 25 (c) 27 (d) 33
158. যদি $R > O = A > S < T$ হয় তবে নীচের কোনটি অবশ্যই সঠিক?
(a) $O > T$ (b) $S < R$ (c) $T > A$ (d) $S = O$
159. নীচের কোনটি অন্যগুলি থেকে পৃথক?
(a) ADGJ (b) FILO (c) LORU (d) IJKL
160. সমীচণ তার বাড়ি থেকে বেরিয়ে পূর্বদিকে মুখ করে হাঁটতে থাকল, কিছুদূর গিয়ে প্রথমে 45° বাঁয়ে ঘুরল। এরপর আরও কিছুদূর গিয়ে সে 90° ডানদিকে ঘুরে হাঁটতে থাকল। এখন সে কোনদিকে হাঁটছে?
(a) উত্তর (b) উত্তর-পশ্চিম (c) উত্তর-পূর্ব (d) পশ্চিম
161. যদি A x B মানে হয় A, B-এর ভাই, A + B মানে হয় A, B-র মাতা, A ÷ B মানে হয় A, B-এর পুত্র এবং A - B মানে হয় A, B-এর স্বামী তবে নীচের কোনটির দ্বারা বোঝায় M, N-এর বাবা?
(a) $M ÷ N + O$ (b) $M \times O - N$ (c) $M + O \div W$ (d) $M - O + N$
162. xx ____ zyx ____ yzz ____ xyz ____
(a) xyxz (b) zyx (c) yxxy (d) yxxz
163. 411 : 441 :: 755 : ?
(a) 705 (b) 775 (c) 635 (d) 665
164. 162 : 9 :: 310 : ?
(a) 33 (b) 27 (c) 16 (d) 4
165. A, B, C, D, E এবং F বৃত্তাকারে বসে রয়েছে। A, B-এর মুখোমুখি বসেছে। B, E-এর ডানদিকে এবং C-এর বাঁদিকে বসেছে। C, D-এর বাঁদিকে বসেছে। F, A-এর ডানদিকে বসেছে। এখন D, F-এর সঙ্গে জায়গা বদল করলে এবং F, B-এর সঙ্গে জায়গা বদল করলে D-এর বাঁদিকে কে বসেছে?
(a) D (b) E (c) A (d) B
166. 100 থেকে 300 পর্যন্ত ক্রমিক বিজোড় সংখ্যাগুলির গড় কত?
(a) 125 (b) 175 (c) 200 (d) 150
167. A, B-কে 1200 টাকা 5 বছরের জন্য এবং C-কে 1500 টাকা 2 বছরের জন্য ধার দিয়ে মোট 900 টাকা সুদ পায়। সুদের হার কত?
(a) 5% (b) 15% (c) 8% (d) 10%
168. 5 টাকায় 8টি পেনসিল কিনে 2 টাকায় কাঁচি বিক্রয় করলে তার 60% লাভ হবে?
(a) 2 (b) 5 (c) 3 (d) 4
169. কোনও সংখ্যাকে 20% কমালে 96 হয়। সংখ্যাটি শতকরা কত বাড়ালে 156 হবে?
(a) 30% (b) 50% (c) 33 $\frac{1}{3}$ % (d) 25%
170. 12 মিটার বাহুবিশিষ্ট একটি সমবাহু ত্রিভুজের ক্ষেত্রফল:
(a) 61.69 বর্গমিটার (b) 62.28 বর্গমিটার (c) 63.04 বর্গমিটার (d) 64.62 বর্গমিটার
171. $\frac{a}{b} = \frac{2}{3}$, $\frac{b}{c} = \frac{4}{5}$ হলে, $\frac{a+b}{b+c}$ -এর মান কত?
(a) $\frac{20}{27}$ (b) $\frac{27}{20}$ (c) $\frac{6}{8}$ (d) $\frac{8}{6}$
172. 1008-কে কোন এক অঙ্কবিশিষ্ট সংখ্যা দ্বারা ভাগ করলে ভাগফল পূর্ণবর্গ সংখ্যা হবে?
(a) 9 (b) 4 (c) 8 (d) 7
173. দু'টি সংখ্যার অনুপাত 5 : 6 এবং তাদের গ.সা.গু. 7 হলে সংখ্যা দু'টির সমষ্টি কত?
(a) 77 (b) 78 (c) 70 (d) 76
174. $\frac{2}{3} + \frac{4}{7} \times \frac{1}{2} \div \frac{4}{21} - 2\frac{1}{6} = ?$
(a) 1 (b) 0 (c) 3 (d) 5
175. $x + y = 5$, $xy = 6$ হলে $(x^2 + y^2)(x^3 + y^3) = ?$
(a) 455 (b) 205 (c) 465 (d) 232
176. হকি ইন্ডিয়া ভারতের পুরুষ দলের মুখ্য কোচ হিসেবে কাকে নিযুক্ত করা হয়েছে?
(a) মহেন্দ্র সিং (b) হরেন্দ্র সিং (c) গুরুজিৎ সিং (d) নরেন্দ্র সিং
177. গুগলের 'পেজেন্ট কোম্পানি' কোন সংস্থা?
(a) অ্যালফাবেট (b) আউটলুক (c) আমাজন (d) মাইক্রোসফট

চাকরির পরীক্ষায় কর্মক্ষেত্র কোচিং

রাজ্য সরকারের খাদ্য দপ্তরে

সাব-ইনস্পেক্টর

নিয়োগ-পরীক্ষার নমুনা প্রশ্নোত্তর

- দেশের পাতার পর
89. একটি গাছ প্রতি বছর তার উচ্চতার $\frac{1}{8}$ অংশ করে বৃদ্ধি পায়। যদি গাছটি আজ 64 সেমি হয়, তবে 2 বছর পর তার উচ্চতা হবে (সেমি):
(a) 72 সেমি (b) 74 সেমি (c) 81 সেমি (d) 85 সেমি
90. কোনও সংখ্যার তিন-সপ্তমাংশের দুই-পঞ্চমাংশ 198, সংখ্যাটি কত?
(a) 1255 (b) 1145 (c) 1155 (d) 1055
91. যদি সরল সুদের হারে কোনও আসলের সুদ হয় আসলের $\frac{9}{16}$ অংশ এবং যদি সুদের হার ও বছরের সংখ্যা সমান হয় তবে সুদের হার কত?
(a) 5 $\frac{1}{2}$ % (b) 6 $\frac{1}{2}$ % (c) 6 $\frac{1}{4}$ % (d) 7 $\frac{1}{2}$ %
92. যদি একটি জমি 18,700 টাকায় বিক্রি করে 15% ক্ষতি হয়, তবে 15% লাভ পেতে হলে কত টাকায় জমিটি বিক্রয় করতে হবে?
(a) 22,500 টাকা (b) 21,000 টাকা (c) 25,800 টাকা (d) 25,300 টাকা
93. 18টি বস্তুর ক্রয়মূল্য 15টি বস্তুর বিক্রয়মূল্যের সমান। লাভের শতকরা হার:
(a) 15% (b) 20% (c) 25% (d) 18%
94. যদি বর্গক্ষেত্র 'A'-র বাহুর দৈর্ঘ্য বর্গক্ষেত্র 'B'-র অর্ধেক হয় এবং যদি 'A'-র ক্ষেত্রফল 36 বর্গমিটার হয় তবে 'B'-র ক্ষেত্রফল বর্গমিটারে কত হবে?
(a) 100 বর্গমিটার (b) 125 বর্গমিটার (c) 144 বর্গমিটার (d) 150 বর্গমিটার
95. একটি বস্তুর ধার্যমূল্য 200 টাকা। ধার্যমূল্যের ওপর 12 $\frac{1}{2}$ % ছাড় দিয়ে 25% লাভ হল। বস্তুর আসল দাম কত?
(a) 200 টাকা (b) 175 টাকা (c) 120 টাকা (d) 140 টাকা
96. যদি একজোড়া জিনিসের 15% ছাড় দিয়ে দাম হয় 37.40 টাকা তবে প্রতিটি দ্রব্যের বাজারমূল্য কত?
(a) 44 টাকা (b) 33 টাকা (c) 22 টাকা (d) 11 টাকা
97. 45 মিনিটকে 1 দিনের অংশ হিসেবে প্রকাশ করুন:
178. বি আর আয়েদকর-এর জন্মদিন 14 এপ্রিল সারা দেশে কী হিসেবে পালিত হচ্ছে?
(a) সর্বাধিক দিবস (b) জাতীয় গণতন্ত্র দিবস (c) সামাজিক ন্যায় দিবস (d) অস্তিত্বদায় দিবস
179. 2019 সালের প্রবাসী ভারতীয় দিবসের থিম কী?
(a) Role of Indian Diaspora in building a New India (b) Role of Science in building a New India (c) Role of Indian Culture in building a new India (d) Role of Indians in Building a new India
180. কোন খেলা এশিয়ান গেমসে অন্তর্ভুক্ত হতে চলেছে?
(a) কবাডি (b) হকি (c) ব্রিজ (d) খো-খো
181. 18তম আন্তর্জাতিক শিশু চলচ্চিত্র উৎসব (2018) কোথায় হয়েছে?
(a) কনটিক (b) মুম্বই (c) দিল্লি (d) পশ্চিমবঙ্গ
182. এঁদের মধ্যে কে বর্তমানে ভারতের রিজার্ভ ব্যাঙ্কের ডেপুটি গভর্নর নন?
(a) N S Viswanathan (b) V V Acharya (c) M K Jain (d) S S Mundra
183. 2022 এশিয়ান গেমস কোথায় অনুষ্ঠিত হবে?
(a) জাপান (b) ভারত (c) কোরিয়া (d) চীন
184. ভারতের Chief Election Commissioner কে?
(a) Sunil Arora (b) Om Prakash Rawat (c) Ashok Lavasa (d) Ajit Doval
185. বর্তমানে Comptroller and Auditor General of India কে?
(a) Rajiv Mehrishi (b) Y C Modi (c) Ashish Bahuguna (d) Rajiv Kumar
186. Global Corruption Index-এ ভারতের স্থান কত?
(a) 80 (b) 83 (c) 79 (d) 81
187. নতুন 500 টাকার নোটে কোন স্থানের চিত্রায়ন হয়েছে?
(a) রানি কি ভাব (b) হাম্পি (c) লালকেলা (d) সাঁচী স্তূপ
188. পৃথিবীর প্রথম হিন্দিভাষী রোবট কোনটি?
(a) রেশমি (b) মানব (c) মিত্র (d) ইন্দু
189. 'সর্বাঙ্গিক অভিযান' কোন সরকার দ্বারা কার্যকর হয়েছিল?
(a) Monmohan Singh (b) A B Bajpayee (c) Narashimha Rao (d) Inder K Gujral
190. Human Resource Development Minister:
(a) Harsh Vardhan (b) Prakash Javadekar (c) Smriti Irani (d) J P Nadda
191. যাত্রীবাহী ট্রেনের প্রথম মহিলা চালক কে?
(a) দুর্বা ব্যানার্জি (b) সুরেশা যাদব (c) গীতা চন্দ (d) রেজিনা গুহ
192. Biggest Economy-তে ভারতের স্থান কত?
(a) 5th (b) 6th (c) 7th (d) 8th
193. National Technology Day (11th May) কোন দিনটিকে স্মরণ করে পালিত হয়?
(a) ISRO-র প্রতিষ্ঠা দিবস (b) প্রথম স্যাটেলাইট লঞ্চ (c) APJ Abdul Kalam-এর জন্মদিন (d) পোখরানে পরমাণু পরীক্ষা
194. Civil Service Day কবে পালিত হয়?

- (a) $\frac{1}{40}$ (b) $\frac{1}{32}$ (c) $\frac{1}{60}$ (d) $\frac{1}{24}$
98. দ্বিতীয় বর্গক্ষেত্রের ক্ষেত্রফল প্রথমটির দ্বিগুণ। প্রথমটির কর্ণ $4\sqrt{2}$ সেমি। দ্বিতীয়টির কর্ণ কত?
(a) $8\sqrt{2}$ সেমি (b) 16 সেমি (c) $\sqrt{32}$ সেমি (d) 8 সেমি
99. তিনটি সংখ্যা মধ্যে দ্বিতীয়টি প্রথমটির দ্বিগুণ ও তৃতীয়টির তিনগুণ। যদি তিনটি সংখ্যার গড় হয় 44, বৃহত্তম সংখ্যাটি কত?
(a) 24 (b) 72 (c) 36 (d) 108
100. একটি বর্গক্ষেত্র ও আয়তক্ষেত্রের ক্ষেত্রফল সমান। আয়তক্ষেত্রের বাহুর দৈর্ঘ্য বর্গক্ষেত্রের একটি বাহুর দৈর্ঘ্যের থেকে 5 সেমি বেশি দীর্ঘ। কিন্তু প্রস্থ 3 সেমি কম। আয়তক্ষেত্রের পরিসীমা কত?
(a) 17 সেমি (b) 26 সেমি (c) 30 সেমি (d) 34 সেমি
উত্তর
69(b), 70(a), 71(b), 72(c), 73(b), 74(d), 75(d), 76(d), 77(a), 78(c), 79(b), 80(b), 81(d), 82(b), 83(d), 84(b), 85(a), 86(d), 87(b), 88(a), 89(c), 90(c), 91(d), 92(d), 93(b), 94(c), 95(d), 96(c), 97(b), 98(d), 99(b), 100(d).
সমাধান
51(b): ধরি, গোলকের বাহুর অংশের ব্যাসার্ধ = r₁ এবং ভিতরের অংশের ব্যাসার্ধ = r₂
 $\therefore 2\pi r_2 = 352$ এবং $2\pi r_1 = 396$
 $\therefore 2\pi r_1 - 2\pi r_2 = (396 - 352)$
 $\therefore (r_1 - r_2) = \frac{44}{2\pi} = \frac{44 \times 7}{2 \times 22} = 7$ মিটার
অথবা, [পরিধির পার্থক্য 22 হলে ব্যাসার্ধের পার্থক্য = 3.5]
 $\therefore (396 - 352) = 44 \therefore 44 = 3.5 \times 2 = 7$ মিটার।
52(b): C-র আয়ের 20% = $\frac{20}{100} \times 2000 = 400$ টাকা
 \therefore B-র আয় = $(400 \times \frac{100}{10}) = 4000$ টাকা, B-র আয়ের 15% = $4000 \times \frac{15}{100} = 600$ টাকা \therefore A-র আয় = $(600 \times \frac{100}{5}) = 12000$ টাকা
 \therefore A, B এবং C-র মোট আয় = 12000 + 4000 + 2000 = 18000 টাকা।
এরপর আগামী সংখ্যায়
প্রস্তুত করেছেন: চঞ্চল ঘোষ ও পলাশ কান্তি মণ্ডল
(a) 21 এপ্রিল (b) 22 এপ্রিল (c) 21 মে (d) 22 মে
195. Asian Games-2018-এর সমাপ্তি অনুষ্ঠানে পতাকাবাহক কে?
(a) নিরোজ চোপড়া (b) রানি রামপাল (c) দিব্যা কাকরান (d) মনজিৎ সিং
196. কেন্দ্রীয় সরকার নমামি গঙ্গা প্রকল্প কবে চালু করেন?
(a) 10 July, 2014 (b) 12 June, 2014 (c) 20 June, 2014 (d) 11 July 2014
197. 'Imperfect' আত্মজীবনী কার?
(a) যুবরাজ সিং (b) ম্যাথিউ গোর্কি (c) সঞ্জয় মঞ্জরেকর (d) অভিনব বিন্দা
198. ওড়িশার চাঁদপুর থেকে 21 ফেব্রুয়ারি যে মিসাইলটি উৎক্ষেপণ করা হল তার নাম কী?
(a) ধনুষ (b) পৃথ্বী-II (c) পৃথ্বী-IV (d) ধনুষ-II
199. 2018-র অস্কারপ্রাপ্ত শ্রেষ্ঠ অভিনেতা কোন সিনেমার জন্য পুরস্কার পান?
(a) The Shape of Water (b) Three Billboards Outside Elbing, Missouri (c) Darkest Hour (d) Dun Kink
200. 'Golden Girl' autobiography:
(a) P V Sindhu (b) Dipa Karmakar (c) Geeta Phogat (d) P T Usha
উত্তর
1(a), 2(b), 3(b), 4(b), 5(c), 6(b), 7(c), 8(c), 9(d), 10(c), 11(a), 12(d), 13(a), 14(a), 15(c), 16(c), 17(b), 18(a), 19(c), 20(d), 21(b), 22(a), 23(d), 24(d), 25(b), 26(d), 27(c), 28(c), 29(a), 30(a), 31(c), 32(c), 33(b), 34(c), 35(c), 36(c), 37(b), 38(c), 39(d), 40(b), 41(c), 42(d), 43(a), 44(c), 45(c), 46(a), 47(b), 48(c), 49(d), 50(c), 51(b), 52(d), 53(c), 54(a), 55(a), 56(b), 57(c), 58(d), 59(a), 60(c), 61(d), 62(b), 63(d), 64(c), 65(b), 66(a), 67(a), 68(d), 69(a), 70(c), 71(d), 72(a), 73(d), 74(b), 75(b), 76(b), 77(c), 78(d), 79(a), 80(a), 81(a), 82(c), 83(a), 84(b), 85(d), 86(b), 87(a), 88(d), 89(b), 90(c), 91(a), 92(c), 93(a), 94(c), 95(a), 96(c), 97(b), 98(c), 99(c), 100(d), 101(a), 102(d), 103(a), 104(a), 105(d), 106(c), 107(a), 108(c), 109(d), 110(b), 111(b), 112(b), 113(c), 114(c), 115(c), 116(a), 117(d), 118(b), 119(d), 120(c), 121(b), 122(a), 123(a), 124(d), 125(a), 126(c), 127(c), 128(a), 129(a), 130(b), 131(a), 132(a), 133(d), 134(b), 135(b), 136(b), 137(c), 138(d), 139(c), 140(d), 141(c), 142(d), 143(d), 144(d), 145(d), 146(b), 147(c), 148(d), 149(b), 150(b), 151(b), 152(d), 153(a), 154(a), 155(a), 156(c), 157(b), 158(b), 159(d), 160(c), 161(d), 162(d), 163(b), 164(d), 165(c), 166(c), 167(d), 168(a), 169(a), 170(b), 171(a), 172(d), 173(a), 174(b), 175(a), 176(b), 177(a), 178(c), 179(a), 180(d), 181(d), 182(d), 183(d), 184(b), 185(a), 186(d), 187(c), 188(a), 189(b), 190(b), 191(b), 192(b), 193(d), 194(a), 195(b), 196(a), 197(c), 198(b), 199(c), 200(d).
প্রস্তুত করেছেন: অনিবার্ণ হাজারী
উচ্চপদস্থ সরকারি আধিকারিক

