

কর্মসংস্থান

★★ ২৪ পাতার সংখ্যা (দাম: ৪ টাকা)

www.karmosangsthan.com

Vol. 31 ■ Issue No. 21 ■ 26th May 2018 ■ Saturday ■ R.N.I. 44167/88

রাজ্য সরকারের হাসপাতালে পশ্চিমবঙ্গের বাসিন্দাদের জন্য

২,১৭৫ ছেলেমেয়েকে নার্সিং ট্রেনিং দিয়ে চাকরি

উচ্চমাধ্যমিক পাশদের জন্য পশ্চিমবঙ্গ সরকারের স্বাস্থ্য ও পরিবার কল্যাণ বিভাগের অধীন রাজ্যের বিভিন্ন নার্সিং ট্রেনিং স্কুলে 'জেনারেল নার্সিং অ্যান্ড মিডওয়াইফারি (জি.এন.এম.)' সাড়ে ৩ বছরের কোর্সে ভর্তি শুরু হয়েছে।

উচ্চমাধ্যমিক পাশ ছেলেমেয়েরা আবেদন করতে পারেন। বয়স হতে হবে ১১-১২-২০১৮ হিসাবে ১৭ থেকে ২৭ বছরের মধ্যে। কোনো প্রার্থীই বয়সের ছাড় পাবেন না। প্রার্থীকে ৫ বছর পশ্চিমবঙ্গের স্থায়ী বাসিন্দা হতে হবে। ট্রেনিংয়ে সফল হলে শূন্যপদ অনুযায়ী 'স্টাফ নার্স' পদে চাকরি পেতে পারেন। **এরপর ১৭ পাতায়**

৫৫ গ্রুপ 'ডি', ক্লার্ক, স্টেনো
বাকুড়া জেলা জাজেস কোর্টে 'ইংলিশ স্টেনোগ্রাফার গ্রেড-III, লোয়ার ডিভিশন ক্লার্ক, গ্রন্থস সার্ভার, গ্রুপ-ডি (পিওন, নাইট গার্ড, ফরাস) ৫৫ জন **এরপর ৪ পাতায়**

ন্যাশনাল ফার্টাইলিজারে ১২৯ অ্যাসিস্ট্যান্ট
ন্যাশনাল ফার্টাইলিজার লিমিটেড 'জুনিয়র ইঞ্জিনিয়ারিং অ্যাসিস্ট্যান্ট গ্রেড-II' পদে ১২৯ জন লোক নিচ্ছে। কারা কোন পদের জন্য **এরপর ১৫ পাতায়**

প্রধান শিক্ষক শূন্যপদ বাড়ল
রঞ্জিত ঘোষ: পশ্চিমবঙ্গের বিভিন্ন মাধ্যমিক, উচ্চমাধ্যমিক ও জুনিয়র হাই বয়েজ, গার্লস ও কো-এড স্কুলে 'প্রধান শিক্ষক-শিক্ষিকা' পদের 1st SLST'র যে লিখিত পরীক্ষা গত বছর ১৭ ডিসেম্বর হয়েছিল, তার ফল বেরিয়েছে। ১৪ সংখ্যার রোল নম্বর ও জন্ম-তারিখ দিয়ে সার্চ **এরপর ২১ পাতায়**

BRUVAN GROUP OF INSTITUTIONS
Venkata, Bangalore- 560064
GNM, B.Sc./M.Sc (নার্সিং)
P.B.B.Sc. D.Pharm, FREE Engineering, Law
Coordinator (East), Kol-74
Ph : 9830617459, 8017250976
Admission Guidance
B.Ed. / D.El.Ed. (WB)
ITI (WB / Odisha)
LLB • BDS • MBBS
BHMS (NEET) • MBA
MHA • MA • M.Sc. etc.
ECCS - 8240565056

জেলা স্বাস্থ্যকেন্দ্রে ২,৮৪২ স্বাস্থ্যকর্মী

পশ্চিমবঙ্গ সরকারের স্বাস্থ্য ও পরিবার কল্যাণ বিভাগ পশ্চিমবঙ্গ ছেলে মেয়েদের জন্য 'মেডিক্যাল টেকনোলজিস্ট', 'ফার্মাসিস্ট গ্রেড-III', 'কিডনি থেরাপিস্ট গ্রেড-III' পদে ২,৮৪২ জন ছেলেমেয়ে নিচ্ছে। কারা কোন পদের জন্য যোগ্য:

মেডিক্যাল টেকনোলজিস্ট (এন্ড-রে / আর.ডি.): ফিজিক্স, কেমিস্ট্রি ও ব্যায়োলজি বিষয় নিয়ে উচ্চমাধ্যমিক পাশের রেডিওগ্রাফি (ডায়াগনস্টিক) টেকনোলজির ২ বছরের ডিপ্লোমা কোর্স পাশ হলে যোগ্য। শূন্যপদ: ২১৫টি (জেনাঃ ১০৯, তাজাঃ ৪৯, তঃউঃজাঃ ১৩, ও.বি.সি. এ ক্যাটেগরি ২১, ও.বি.সি. - বি ক্যাটেগরি ১৬, প্রতিবন্ধী ৭)।

মেডিক্যাল টেকনোলজিস্ট (ই.সি.জি.): ফিজিক্স, কেমিস্ট্রি ও ব্যায়োলজি বিষয় নিয়ে উচ্চমাধ্যমিক পাশের ই.সি.জি. টেকনোলজির ২ বছরের ডিপ্লোমা কোর্স পাশ **এরপর ১২ পাতায়**

পশ্চিমবঙ্গের ছেলেমেয়েদের গভঃ স্বীকৃত প্রাইভেট নার্সিং কলেজে সরাসরি ১৫০০ ছেলেমেয়েকে নার্সিং ট্রেনিং দিয়ে চাকরি

বিশেষ প্রতিবেদন: ভিন রাজ্য সরকার স্বীকৃত ও কাউন্সিল অনুমোদিত স্বাস্থ্য বিভাগের অধীনে (গ্রুপ অফ ইনস্টিটিউশন) বিভিন্ন প্রসিদ্ধ নার্সিং ট্রেনিং স্কুলে 'জেনারেল নার্সিং অ্যান্ড মিডওয়াইফারি (GNM) ও বছরের নার্সিং কোর্সে ও ৪ বছরের B.Sc. নার্সিং কোর্সে সরাসরি ভর্তি চলছে।

যোগ্যতা: উচ্চ মাধ্যমিকে যে কোনো শাখার পাশ ছেলেমেয়েরা সরাসরি GNM ও সাতের শাখায় সরাসরি B.Sc. নার্সিং কোর্সে আবেদন যোগ্য। (ন্যূনতম 55%-60%) বয়স- ১৭-৩৫ বছর। (বিঃদ্রঃ- এই বছরের উচ্চমাধ্যমিক প্রার্থীরাও আবেদন যোগ্য)

স্বীকৃতি: কোর্সগুলি স্টেট নার্সিং কাউন্সিল তথা গভঃ ও UGC স্বীকৃত বিশ্ববিদ্যালয় অনুমোদনপ্রাপ্ত বাহা পশ্চিমবঙ্গ সহ সারা ভারতবর্ষে সরকারি ও বেসরকারি চাকরিতে মান্যতাপ্রাপ্ত।

সুযোগ সুবিধা

- সরাসরি কলেজের নামে Demand Draft কেটে ভর্তির সুযোগ।
- এডুকেশন লোনের সহায়তা।
- SC, ST, OBC, মাইনোরিটি ছাত্রছাত্রীদের ভর্তি ফি-এর ওপর বিশেষ ছাড়।
- স্কলারশিপের বিশেষ সুযোগ সুবিধা।
- কোনো ডোনেশন ছাড়া সরাসরি ভর্তির সুযোগ ও কিস্তির সুবিধা।
- কোর্স ফি তুলনামূলক ভাবে খুবই কম যা মধ্যবিত্তদের সাধের মধ্যে।
- সরাসরি কলেজ Director-এর সঙ্গে কোলকাতা Regional Office এ সাক্ষাৎ ও ভর্তির সুযোগ।

যোগাযোগ করুন বা আবেদন পান এই ঠিকানা:

ন্যাশনাল ইনস্টিটিউট অফ হারার স্টাডিজ CS
(An ISO 9001 : 2008 Certified Institute - Govt. Regd.)
ঠিকানা - 37A, Broad Street, Kolkata- 700019
Phone : 033-4066 1266, 9830687078, 9163636902

ভর্তি চলছে সরাসরি 2018
LLB, ANM, GNM, B.Sc. নার্সিং, DMLT, কিডনি থেরাপি, X-Ray
NINPS (Govt. Regd.), Ph : 033-4602 8297, 9836442992

ভারি জল পর্যদে ১৬৭

কেন্দ্রীয় সরকারের পারমাণবিক শক্তি দফতরের অধীন হেভি ওয়াটার বোর্ড 'ট্রেনি (ক্যাটেগরি-I ও ক্যাটেগরি-II)' পদে ১৬৭ জন ছেলেমেয়ে নিচ্ছে।

ক্যাটেগরি-I: এ নেওয়া হবে এইসব শাখায়: কেমিক্যাল, মেকানিক্যাল, ইলেক্ট্রিক্যাল, বায়ো-সায়েন্স ও কেমিস্ট্রি (ল্যাবরেটরি)। কারা কোন শাখার জন্য যোগ্য:

কেমিক্যাল: কোনো সরকার স্বীকৃত প্রতিষ্ঠান থেকে কেমিক্যাল ইঞ্জিনিয়ারিংয়ের ডিপ্লোমা কোর্স পাশের মোট অন্তত ৬০% নম্বর পেয়ে থাকলে আবেদন করতে পারেন। শূন্যপদ: ৩৫টি (জেনাঃ ১৪, ও.বি.সি. ১৩, তাজাঃ ৫, তঃউঃজাঃ ৩)। পোস্টনং: 1.

মেকানিক্যাল: কোনো সরকার স্বীকৃত **এরপর ১২ পাতায়**

রেলের গ্রুপ 'ডি' পদের পরীক্ষার সম্ভাব্য প্রশ্নোত্তর আছে ১৮ ও ১৯ পাতায়

ইন্দিরা গান্ধী জাতীয় মুক্ত বিশ্ববিদ্যালয়ে

ডিগ্রি ও পোস্ট-গ্রাজুয়েট কোর্স

ইউ.জি.সি.'র অনুমোদিত ইন্দিরা গান্ধী জাতীয় মুক্ত বিশ্ববিদ্যালয়ে বিভিন্ন বিষয়ের ডিগ্রি কোর্স, পোস্ট-গ্রাজুয়েট ডিগ্রি কোর্সে ভর্তি শুরু হয়েছে। সেশন জানুয়ারি ও জুলাইয়ে। এখন জুলাই সেশনে ভর্তির জন্য দরখাস্ত নেওয়া চলছে। কোন কোন কোর্স পড়ানো হবে:

কোন কোন বিষয়ের মাস্টার ডিগ্রি কোর্স পড়ানো হবে:

(১) মাস্টার অফ কমার্স: কমার্স শাখার গ্রাজুয়েটরা যোগ্য। ২ থেকে ৫ বছরের কোর্স।

(২) মাস্টার অফ আর্টস (ইংলিশ): যে কোনো শাখার গ্রাজুয়েটরা যোগ্য। ২ থেকে ৫ বছরের কোর্স।

(৩) মাস্টার অফ আর্টস (হিন্দি): যে কোনো শাখার গ্রাজুয়েটরা যোগ্য। ২ থেকে ৫ বছরের কোর্স।

(৪) মাস্টার অফ সোশ্যাল ওয়ার্ক: যে কোনো শাখার **এরপর ১৫ পাতায়**

২৪৮ অ্যাসিস্ট্যান্ট, ক্লার্ক

কেন্দ্রীয় সরকারের পারমাণবিক শক্তি দফতরের অধীন ইন্দিরা গান্ধী সেন্টার ফর অ্যাটোমিক রিসার্চ 'সায়েন্টিফিক অ্যাসিস্ট্যান্ট /C', 'স্টাইপেন্ডিয়ারি ট্রেনি ক্যাটেগরি-I', 'স্টাইপেন্ডিয়ারি ট্রেনি-II', কোচ নং SA-01: সিভিল: 'আপার ডিভিশন ক্লার্ক' ও 'স্টেনো' উচ্চমাধ্যমিক পাশের পর পদে ২৪৮ জন লোক নিচ্ছে। কারা কোন পদের জন্য যোগ্য:

সায়েন্টিফিক অ্যাসিস্ট্যান্ট /C মোট অন্তত ৬০% নম্বর পেয়ে পদে নেওয়া হবে এইসব পদে: **এরপর ২১ পাতায়**

৫৮ টেকনিশিয়ান

কানপুরের ইন্ডিয়ান ইনস্টিটিউট অফ টেকনোলজি 'জুনিয়র অ্যাসিস্ট্যান্ট' ও 'জুনিয়র টেকনিশিয়ান' পদে ৫৮ জন লোক নিচ্ছে। কারা কোন পদের জন্য যোগ্য:

জুনিয়র অ্যাসিস্ট্যান্ট: যে কোনো শাখার গ্রাজুয়েটরা কম্পিউটার **এরপর ৫ পাতায়**

পুরসভায় ৩৩

চাকরির পুরসভা 'সাব-অ্যাসিস্ট্যান্ট ইঞ্জিনিয়ার (সিভিল)' ও 'অ্যাসিস্ট্যান্ট ইলেক্ট্রিক্যাল মিস্ট্রি' পদে ৪ জন আর নিউ ব্যারাকপুর পুরসভা মজদুর, হেল্লার, অ্যাসিস্ট্যান্ট মিস্ট্রি, ট্যাক্স কালেক্টিং সরকার ইত্যাদি পদে ২৭ জন লোক নিচ্ছে। কারা **এরপর ৪ পাতায়**

চাকরির টুকরো খবর

দার্জিলিং জেলা স্বাস্থ্য দফতরে ১০৬ আশা কর্মী

দার্জিলিং জেলার স্বাস্থ্য ও পরিবার কল্যাণ সমিতির অধীন মিরিক ডেভেলপমেন্ট ব্লকের বিভিন্ন গ্রাম বা, লোকালিটিতে কাজের জন্য 'আশা' কর্মী পদে ১০৬ জন তরুণী নেওয়া হচ্ছে।

১০৬ জন তরুণী নেওয়া হচ্ছে। ল্যাব অ্যাসিস্ট্যান্ট গ্রেড II পদে মাধ্যমিক পাশ বা, মাধ্যমিকে অকৃতকার্য বিবাহিতা, বিধবা বা, বিবাহবিচ্ছিন্না মহিলারা আবেদন করতে পারেন। বয়স হতে হবে সাধারণ প্রার্থীদের বেলায় ৩০ থেকে ৪০ বছরের মধ্যে। তপশিলী উপজাতিদের বেলায় বয়স হতে হবে ২ থেকে ৪০ বছরের মধ্যে। কোন সাব-ডিভিশনে কটি শূন্যপদ তা ওয়েবসাইটে পাবেন।

দরখাস্তের ব্যান-সহ বিস্তারিত তথ্য পাবেন এই ওয়েবসাইটে: www.darjeeling.gov.in

দরখাস্ত জমা দেওয়ার শেষ তারিখ ৩১ মে। দরখাস্ত জমা দেবেন মিরিকব্লক ডেভেলপমেন্ট অফিসে।

এইমসে ৩০ চাকরি

রায়পুরের অল ইন্দিরা ইনস্টিটিউট অফ মেডিক্যাল সায়েন্সেসে ল্যাব অ্যাসিস্ট্যান্ট গ্রেড II, ল্যাব টেকনিশিয়ান, আপার ডিভিশন ক্লার্ক, ক্যাশিয়ার, ওয়ার্ডেন (হেল্পিং/গার্ডেন), স্ট্রেক্টপার পদে ৩০ জন লোক নিচ্ছে।

ল্যাব অ্যাসিস্ট্যান্ট গ্রেড II পদে শূন্যপদ: ৮টি। ল্যাব টেকনিশিয়ান পদে শূন্যপদ: ৮টি। আপার ডিভিশন ক্লার্ক পদে শূন্যপদ: ৪টি। ক্যাশিয়ার পদে শূন্যপদ: ১টি। ওয়ার্ডেন পদে শূন্যপদ: ২টি। স্ট্রেক্টপার পদে শূন্যপদ: ২টি।

টেকনিক্যাল অ্যাসিস্ট্যান্ট / ও পদের সব পদের বেলায় বিস্তারিত শিক্ষাগত যোগ্যতা ইত্যাদি পাবেন এই ওয়েবসাইটে: www.aimsraipur.edu.in

দরখাস্ত করবেন অনলাইনে, ১৮ জুনের মধ্যে।

মহাকাশ দফতরে চাকরি

কেন্দ্রীয় সরকারের মহাকাশ দফতরের অধীন ইন্ডিয়ান স্পেস রিসার্চ অর্গানাইজেশনে প্রাইমারি টিচার (শূন্যপদ ৩টি), ট্রেনিং গ্রাজুয়েট টিচার (শূন্যপদ ৩টি) লোক নিচ্ছে। কোন পদের জন্য কোন শিক্ষাগত যোগ্যতা, বয়স থাকা দরকার তা পাবেন এই ওয়েবসাইটে: www.isro.gov.in

দরখাস্ত করবেন অনলাইনে, ৮ জুনের মধ্যে।

বিদ্যুৎ সংস্থায়

পশ্চিমবঙ্গ পাওয়ার ডেভেলপমেন্ট কর্পোরেশন লিমিটেড এজেন্ট হিসাবে ২ জন লোক নিচ্ছে। প্রার্থী বাহাইয়ের ইন্টারভিউ ২৮ মে, বেলা সাড়ে ১০টা, কলকাতার বিদ্যুৎ উদ্যান ভবনে। বিস্তারিত তথ্য পাবেন এই ওয়েবসাইটে: www.wbpdcl.co.in

কর্মসংস্থান
মাসিক পত্রিকা
 প্রধান কার্যালয়
 ১২/৩/৪ জামির লেন,
 কলকাতা - ৭০০ ০১৯
 বালিগঞ্জ বাস টার্মিনাসে
 পড়িয়াহাট মালের সুখোমুখি
হেল্প লাইন
 ☎ : (০৩৩) ২৪৬০ ৬২১১/
 ৬২১২/৮২৩৪
 ফ্যাক্স নং : ২৪৬০ ৮২৩৩

ন্যায়াধিনি কার্যালয়
 ক্রম নং - ১০২ আনন্দ, আই.এম.এস বিল্ডিং, রফি মার্গ
 ন্যায়াধিনি-১১০ ০০১
 ফোন : ০৯৮১৮৬৭৫২৮৩

কাড়খত কার্যালয়
 পিস রোড নং ৩,
 হোলি ক্রস স্কুল রোড,
 লালপুর, রাঁচি-৮৪০০১
 ফোন : ৯০৯৩০৩৮৭০২

কুল-কলেজ-শিক্ষা
CARREOGRAPH
 Medical Representative
 Training for Graduates
 below 24 Years.
 Kolkata - 9836970475,
 Asansol - 9874197671,
 Durgapur - 9874182795.

GNM - B.Sc নার্সিং ট্রেনিং INC
 স্বীকৃত। H.S পাশ। অনলাইন
 (gnmnursingjyoti.org) ভর্তি
 চলছে। JECT - জ্যোতি নার্সিং
 হোম। নলহাট। 9232034121

ভর্তি চলিতেছে
 B.Ed, D.El.Ed., M.Ed, LLB,
 ITI, ANM, GNM, BBA, BCA,
 MBA, MCA, B.Tech,
 Diploma, MBBS, MP, HS,
 BA, B.Sc., B.Com, MA,
 M.Sc, M.Com, M.Phil. &
 Ph.D- 8073075123.

কর্মখালি
WALK IN VACANCY
 MNC reqd. Video Analysts,
 Project Basis, (Entry Level,
 Back Office Job).
 Interview : 24, 25, 26, 28, 29,
 30, 31, & 1, 2 June btw 11am-
 6pm. Come with CV & Photo.
 Salary: Bk + Incentives.
 Benefits: On time Salary,
 PF, ESI, Medclaim, Bonus.
 10+2/Graduates/Diploma/
 Polytechnic/Basic
 Computer knowledge.
 Location: DN-14, Vishnu
 Tower, 8th Floor, Salt Lake
 Sec-V, (near College More Bus
 Stop, Bank of Baroda bldr.)

মাধ্যমিক, উচ্চমাধ্যমিক
 পরীক্ষার্থীদের জন্য স্থায়ী কাজের
 সুবর্ণ সুযোগ বিনা ডোনেশনে
 স্ট্যাম্প পেপারে লিখিত গ্যারান্টি
 সহ স্থায়ী কাজ। সম্পূর্ণ বিনা
 ডোনেশনে উত্তরবঙ্গ-সহ
 পশ্চিমবঙ্গের সমস্ত জেলার
 বেকার কর্মপ্রার্থীদের শিক্ষাগত
 যোগ্যতানুযায়ী কন্ট্রোলিং অধীনে
 Airport, মেট্রোরেল ও ব্যাঙ্ক
 (DSA)-এ সরাসরি M/F নিয়োগ
 চলছে। যোগ্যতা - নামসই -
 স্নাতক। বেতন - (13600 -
 42800)। OT, PF, ESI, ছুটি,
 বোনাস, প্রমোশনের সুবিধা আছে।
 থাকা ও খাওয়া কোম্পানির।
 বিশদ জানতে M-8597936242

কুল-কলেজ-শিক্ষা
NURSING
GNM, B.Sc
 Paramedical, B.Pharm.
 কলকাতা 50K. নিশ্চিত চাকরি
 দেশে ও বিদেশে। (GNM - 2.5L,
 B.Sc - 4.10L লোনের সুবিধা।
 সিটি বুকিং - 10K Cont.- সূত্র-
 মাদরাসপুর - 9163292000,
 মেদিনীপুর - 9163528048.

LL.B তে সরাসরি ভর্তির জন্য
 যোগাযোগ। B.A, LL.B (Hons)
 5 yrs. (H.S) LL.B (3 yrs).
 Phone - U.D - 9038329397

PIHM Hotel Management
 কোর্স করে দেশে বিদেশে চাকুরী
 পেতে সহায়তা করে।
 Certificate, Diploma, B.Sc.
 (HM). Garia. Ph :
 8336946660 / 61 / 62 / 63.

নার্সিং ভর্তি !!!
 পূ. স্বী GNM (মোট ১,৫০,০০০)
 & BSC নার্সিং (মোট ৩,০০,০০০)
 INC. কলকাতায় স্থান।
 MNCC - (M) 8336015296.

RAIL, CGL, BCS
 মাসিক মাহিনার MATH (Arith +
 Advnce) ব্রত ও শর্ট ট্রিক-সহ
 ENG (গ্রামার + রাইটিং) Spcl
 ভাবে Chapter হয়ে ক্রমো হয়।
 মগুরা (বুর্গলি), নৈহাটী -
 8017947874, 8420285338.

মস্তষ্কীয় টিচার্স ট্রেনিং
ও চাকরি, বালিগঞ্জ
 Pre-Primary & Primary
 Teachers Training approved
 by (BSS Govt. of India)
 সরাসরি ভর্তি চলছে। রবীন্দ্র পাঠ
 ভবন, বালিগঞ্জ : 7478430465,
 9732684328.

কর্মখালি
আর্জেন্ট ভ্যাকাপ্সি
M - 8327062826
 সম্পূর্ণ বিনা ডোনেশনে কন্ট্রোলিং
 অধীনে Airport, মেট্রোরেল ও
 প্রাইভেট BANK সংস্থায় সরাসরি
 কোম্পানির পে-রোলে কর্মপ্রার্থী
 নিয়োগ চলছে। যোগ্যতা -
 (নামসই - স্নাতক)। বেতন -
 (10500 - 42700)। OT, PF,
 ESI, ছুটি, বোনাস, প্রমোশন-সহ
 থাকা-খাওয়ার সুবিধা আছে।

মাধ্যমিক, HS ও স্নাতক
 পরীক্ষার্থীদের নিজ জেলায়
 স্থায়ী কাজের সুবর্ণ সুযোগ
 Govt. Regd. L/No. WB
 6668. সম্পূর্ণ বিনা ডোনেশনে
 স্ট্যাম্প পেপারে লিখিত গ্যারান্টি-
 সহ কোম্পানির Direct পে-
 রোলে স্থায়ীভাবে Airport,
 মেট্রোরেল ও প্রাইভেট BANK
 (DSA) সংস্থায় সরাসরি M/F
 নিয়োগ চলছে। যোগ্যতা - নামসই
 - স্নাতক। বেতন - (9500 -
 48600)। সবকটি পদে থাকা-
 খাওয়া ফ্রী। এছাড়া OT, PF,
 ESI, ছুটি, বোনাস, প্রমোশন-
 এর বিশেষ সুবিধা। নিজের পছন্দ
 মতো স্থানে কাজ পেতে অতি
 সস্তর যোগাযোগ করুন।
 M : 9734828617.

কুল-কলেজ-শিক্ষা
BASE
 ১০ বছরের শিক্ষিততা ও সততার
 বহন। B.Ed, M.Ed (W.B,
 A.P), D.Ed / D.El.Ed (WB).
 পাশের হার ১০০%। M :
 8585059747, 9051702807

Math, GI বেলঘরিয়া
 বরানগর, Sourav Sir - CGL,
 Rail, Bank, WBCS প্রচুর
 প্র্যাক্টিস, Mock. 9674431403.

ভর্তির বিজ্ঞপ্তি
 পাবনা সরকারের অনুমোদিত HS
 পাশ (Science) ছাত্রছাত্রীদের
 প্যাথলজি ও ওটি টেকনিশিয়ান
 কোর্সে বিনামূল্যে ট্রেনিং দেওয়া
 হবে। আসন সংখ্যা ৩০। BTHWS
 -9434214164, 9083807196

100/- মাসে
 WBCS, RAIL, PA পড়ানো হয়।
 দুপুরে খাবার Free প্রতিদিন। পড়িয়া
 টেক্সন - 7797278679

ANM নার্সিং ট্রেনিং
 কোর্সের কর্ম দেওয়া হচ্ছে। সস্তর
 যোগাযোগ করুন। এছাড়া X-Ray,
 E.C.G., DMLT (প্যাথোঃ),
 DPT (ফিজিও) কোর্সে সরাসরি
 ভর্তি চলছে। 20তম বর্ষ পূর্তিতে
 প্রতিটি কোর্সের ভর্তির সম্পূর্ণ
 বিনামূল্যে স্কুল ব্যাগ দেওয়া হচ্ছে।
 MRIT, শ্রীরামপুর 9231839309

Vision Institute
B.Ed & M.Ed.
Ph.D, LLB, Pharmacy
Engg. & Management
 এছাড়া সব বিষয়ে ডিগ্রি ও মাস্টার
 ডিগ্রি কোর্স (Regular & Distance)
 কলকাতা -
 7603004971, 7603004973
 দুর্গাপুর : 9007829310
 শিলিগুড়ি : 8370997985

কর্মখালি
আর্জেন্ট ভ্যাকাপ্সি
 স্ট্যাপ পেপারে লিখিত-সহ সম্পূর্ণ
 বিনা ডোনেশনে কন্ট্রোলিং
 অধীনে Airport ও মেট্রোতে M/
 F নিয়োগ চলছে। যোগ্যতা - চম-
 স্নাতক। বেতন : 14500/- -
 42700/-, সস্তর যোগাযোগ
 করুন। M : 7797525900.

কর্মখালি
আর্জেন্ট ভ্যাকাপ্সি
Airport, মেট্রো ও
Pvt. ব্যাঙ্কে স্থায়ী জব
 বিনা ডোনেশনে কন্ট্রোলিং
 অধীনে স্ট্যাম্প পেপারে লিখিত-
 সহ বিভিন্ন অফিসিয়াল পদে M/F
 কর্মী নিয়োগ চলছে। যোগ্যতা চম
 - স্নাতক। বেতন 18700 -
 45500. এছাড়াও PF, ESI,
 OT-সহ থাকা-খাওয়ার সুবিধা
 আছে। সস্তর যোগাযোগ করুন -
 M : 8768473942.

কুল-কলেজ-শিক্ষা
GNM এবং B.Sc নার্সিং
 Nursing Council, কর্ম জনা
 করুন। Spoken Eng. ট্রেনিং ফ্রী।
 Scholarship & Bank Loan-
 এর সুবিধা। ভর্তির সময় Job Offer
 Letter. AA - 9883628878

FUTURE GUIDE LINE
 ৮ বছরের অভিজ্ঞতা সম্পন্ন
 B.Ed/M.Ed-(WB/AP), D.Ed-
 (W.B). পাশের হার ১০০%। M :
 7003352616, 9836302957.

Math & Eng সোনারপুর
 Rail, Bank, WBCS, SSC,
 প্রাইমারি, পুলিশ, 9 exp. টিচার
 Alakesh Sir - 9836045234.

COSMOPOLIS
 INSTITUTE OF MANAGEMENT STUDIES
 ISO 9001 : 2015 Certified

HOTEL / HOSPITALITY
 মাসেকোর্সে ভর্তি চলছে
 100% JOB ASSURANCE
 HURRY UP!
 ADMISSION GOING ON

Our Training & Placement Associates:
 HYATT, TAJ, LE MERIDIEN, CLARKS,
 THE LEELA, American Cruise, UAE
 12a, Sourin Roy Road, Behala, Kolkata - 34
 Web : www.cismmanagement.com
 M : 8420029777

প্যারামেডিকেল ও নার্সিং
 DMLT (প্যাথোলজি), DPT
 (ফিজিওথেরাপি), ECG, ANM ও
 GNM (নার্সিং), RMP (ব্রনাল
 মেডিকেল প্রাকটিশনার) কোর্সে
 ভর্তি চলছে। ক্লাস - শনি ও রবি।
 নার্সিং ট্রেনিং শেষে চাকরি।
 ক্যারিয়ার একাডেমি, স্টেশন গড়িয়া,
 কলি-৮৪, নন্দাচন্দ্র স্কুলের বিপরীত।
 8272911322, 9062362321

কর্মখালি
আর্জেন্ট ভ্যাকাপ্সি
 স্ট্যাপ পেপারে লিখিত-সহ সম্পূর্ণ
 বিনা ডোনেশনে কন্ট্রোলিং
 অধীনে Airport ও মেট্রোতে M/
 F নিয়োগ চলছে। যোগ্যতা - চম-
 স্নাতক। বেতন : 14500/- -
 42700/-, সস্তর যোগাযোগ
 করুন। M : 7797525900.

জাহাজে চাকরি
BLUE CRYSTAL MARINE
 Govt Regd L/C No- 224212
 গভঃ স্বীকৃত অফিস। একমাত্র
 চাকরি সেরা ঠিকানা। দেশের
 বিভিন্ন স্থানে জাহাজে ও বন্দরে
 অঞ্চলে ছেলেদের জন্য
 জরুরিভিত্তিক যোগ্যতার ওপর
 নিয়োগ চলছে। যোগ্যতা - (চম-
 স্নাতক), বয়স (17-42) এর
 মধ্যে। বেতন - (17,400 -
 53,300) পর্যন্ত। বেতনের সাথে
 সুবিধা : PF, ESI, OT, থাকা,
 খাওয়া, বোনাস, প্রমোশন,
 কোয়ার্টার ফ্রী, ৫ মাসে 1 মাস, ছুটি
 বেতন-সহ। পোস্টিং - কলকাতা,
 বিদ্যাপুর, হলদিয়া, আন্দামান,
 গোয়া, চেমাই, মুম্বাই,
 বিশাখাপত্তনম প্রভৃতি স্থানে।
 পছন্দ মতো জায়গায় কাজ নিতে
 অতি শীঘ্রই যোগাযোগ করুন
 পরিচয়পত্র ও যোগ্যতার
 কাগজপত্র-সহ। যোগাযোগ করুন
 -ফর্ম - 101 টাকা। দেবজিৎ
 ঘোষ- M : 9564998882.

কর্মখালি
আর্জেন্ট ভ্যাকাপ্সি
 স্ট্যাপ পেপারে লিখিত-সহ সম্পূর্ণ
 বিনা ডোনেশনে কন্ট্রোলিং
 অধীনে Airport ও মেট্রোতে M/
 F নিয়োগ চলছে। যোগ্যতা - চম-
 স্নাতক। বেতন : 14500/- -
 42700/-, সস্তর যোগাযোগ
 করুন। M : 7797525900.

কুল-কলেজ-শিক্ষা
Math, G.I, GK বেলঘরিয়া
 CGL, রেল (Gr.D/SM), Police,
 ব্যাঙ্ক (ক্লার্ক/PO), WBCS, PSC,
 600PM. চম্ব স্যার-9903500682

ভর্তি শিক্ষার
ভর্তি চলছে
RKDF UNIVERSITY
 Affiliated by-UGC, AICTE, INC, CCH, PCI

GNM
B.Sc.(IN)
HOMEOPATHY
B-PHARMA B-PHARMA
 (Practition)
 Paramedical (স্বাস্থ্য সেবা)
VISION INSITUTE

৭৬০৩০০৪৭১, ৭৬০৩০০৪৭৩
 www.visiongroup.in

শান্তনু চ্যাটার্জী
নেতাজী-100% চ্যালেঞ্জ
 মাজেশন, BA, MA, ইতিহাস,
 বাংলা, রাষ্ট্রবিজ্ঞান, এডুকেশন,
 MSW. B.Ed / D.Ed ভর্তি,
 রেলওয়ে-D. M-9732237591

C.I.M.S.T
 GNM & B.Sc Nursing &
 B.S.S. Govt of India স্বীকৃত
 DMLT, DPT, ECG, X-Ray,
 Scan, MRI, Dialysis, O.T.,
 ICU, DDH, D.Opt.,
 হোমিওপ্যাথি, আয়ুর্বেদ কোর্সে ভর্তি
 চলছে। যোগ্যতা- MP / HS. হেড
 অফিস- 22 রাধানাথ মল্লিক লেন,
 কোল- 12, কলেজ স্কোয়ার, C.U-
 র কাছে। কলেজ ক্যাম্পাস- 126B,
 রাজা রামমোহন সরণী, কোল- 9,
 শিয়ালদা পুরবী সিনেমার কাছে।
 9331062421.

কর্মখালি
স্থায়ী চাকরি
 JIO 4G টাওয়ার, প্রাঃ ব্যাঙ্ক, Co.
 ও বিভিন্ন সংস্থায় কাজের জন্য M/
 F কর্মী চাই। বেতন : 12-29.
 যোগ্যতা-চম-স্নাতক। রেজিঃ 101
 + ফর্ম। RCM - 9163462100

কন্ট্রোলিং অধীনে এয়ারপোর্ট
ও মেট্রোতে নিয়োগ
 সম্পূর্ণ পেপার সহ জয়েনিং।
 নামসই - স্নাতক। M/F কর্মপ্রার্থী
 প্রয়োজন। বয়স: ১৭ থেকে ৪২।
 বেতন: ১৪৫০০/- - ৩৬০০০/-,
 ESI, OT, PF, বোনাস-সহ থাকা
 খাওয়ার সুবিধা। 7797609745

চাকরি পেতে একটি
ফোনের অপেক্ষা। বেতন
:(10600 - 28700)
 শহর থেকে গ্রামের প্রত্যেক
 কর্মপ্রার্থীদের জন্য বিনা ডোনেশনে
 চাকরি। যোগ্যতা অষ্টম - স্নাতক।
 পশ্চিমবঙ্গের প্রত্যেকটি জেলাতে
 স্থায়ী কাজ। অফিসিয়াল ও
 অন্যান্য পদে নিয়োগ চলছে।
 পোস্টিং : S/V, অফিস বয়, ক্লার্ক,
 ইনচার্জ, পিজন, ATM গার্ড, PVT
 (BANK)-এ প্রচুর লোক
 প্রয়োজন। PF, ESI, OT,
 বোনাস, থাকা ও খাওয়া ফ্রী।
 যোগাযোগের সাথে সাথে
 কর্মপ্রার্থীকে লিখিতভাবে পোস্টিং
 এরিয়া জানানো হবে। AG - (M)
 8348222418

কুল-কলেজ-শিক্ষা
 LL.B (3Yrs.), যে কোনো বয়সে।
 গ্রাজুয়েট/মাস্টার ডিগ্রি 45% বন্ড,
 SC/ST-40%, OBC-42%, পাশ
 100%, 'ব' পয়েন্ট-9830132343

সুবর্ণ সুযোগ
 Nursing-GNM, B.Sc, P.B.Sc,
 M.Sc, D.Pharm, B.Pharm,
 X-Ray অন্যান্য মেডিক্যাল
 কোর্সে ভর্তি চলছে। কল্যাণী, HPS
 -7003479868, 8335051985

WBCS (Pim. / Main)
 ভর্তি চলছে। 55% (110) কমন না
 পেলে টাকা ফেরত। সোনারপুর,
 মুনাল স্যার - 9007736900.

Tarun Da, Barasat
 MATH, GI & G.K of All
 Competitive Exam &
 WBCS. Mob : 9830989770.

WBCS, Govt - Jobs
At ICE Ballygunge
 Best Faculty, Study Mat &
 Mock Test. Sure Success!
 New Batch-9163191187.

B.Ed. / D.El.Ed.
BARASAT SUBHAS
CHANDRA COLLEGE
OF EDUCATION
 Affiliated to WBUTTEPA &
 WBBPE. Recognised by NCTE
 Digital Class & Instalment Facility

9073421580
 8697132020
 Patincha, Mirhat, Barasat,
 North 24 Parganas, W.B
 Web : www.bscce.org

কর্মখালি
Airport, মেট্রো ও Pvt.
Bank-এ স্থায়ী জব।
ATM-এ নিয়োগ
 বিনা ডোনেশনে কন্ট্রোলিং
 অধীনে স্ট্যাম্প পেপারে লিখিত-
 সহ বিভিন্ন অফিসিয়াল পদে M/F
 কর্মী নিয়োগ চলছে। যোগ্যতা -
 চম - স্নাতক। বেতন : 17600/-
 - 45600/-, এছাড়া OT, PF,
 ESI-সহ থাকা-খাওয়ার সুবিধা
 আছে। যোগাযোগ করুন।
 M : 7797498558.

সঠিক জায়গায় ফোন করে
কাজ নিয়ে যান। স্ট্যাম্প
পেপারে লিখিত গ্যারান্টি-সহ
৪ দিনের মধ্যে নিজের জেলায়
স্থায়ী কাজ। Govt. Regd. L/
No. - G.B.L.39526. সম্পূর্ণ
বিনা ডোনেশনে উত্তরবঙ্গ-সহ
পশ্চিমবঙ্গের সমস্ত জেলার
বেকার কর্মপ্রার্থীদের শিক্ষাগত
যোগ্যতানুযায়ী কন্ট্রোলিং অধীনে
Airport, মেট্রোরেল ও
BANK (DSA) সংস্থায় সরাসরি
M/F নিয়োগ চলছে। এছাড়া
Tower গার্ড, ATM গার্ড, SV-
সহ বিভিন্ন কোম্পানিতে M/F
নিয়োগ চলছে। যোগ্যতা : নামসই
- স্নাতক। বেতন : (10500 -
46800)। OT, PF, ESI, ছুটি,
বোনাস, প্রমোশনের সুবিধা-সহ
থাকা-খাওয়া ফ্রী। কাজ পেতে
অথবা কাজের বিশদ জানতে
যোগাযোগ- M : 9734828710

কর্মখালি
আর্জেন্ট ভ্যাকাপ্সি
 স্ট্যাপ পেপারে লিখিত-সহ সম্পূর্ণ
 বিনা ডোনেশনে কন্ট্রোলিং
 অধীনে Airport ও মেট্রোতে M/
 F নিয়োগ চলছে। যোগ্যতা - চম-
 স্নাতক। বেতন : 14500/- -
 42700/-, সস্তর যোগাযোগ
 করুন। M : 7797525900.

কুল-কলেজ-শিক্ষা
 TET, WBCS, WBSSC, কুল
 সার্ভিস, রেল, Bank, PSC, SSC.
 মাসে 500/-, শিলালহর, কুমিলপুর,
 রাণাঘাট, বড় জাভলি, কাচরাপাড়া,
 শ্যামনগর। PH - 7564006555.

B.Ed — 2018 -'20
 পশ্চিমবঙ্গ, অন্ধ্রপ্রদেশ। নার্সিং -
 GNM / B.Sc / ANM. 100%
 লোনের ব্যাবস্থা। BA, MA, BSc,
 M.Sc, B.Com, M.Com,
 লাইব্রেরি সায়েন্স, Work
 Education, মাধ্যমিক ও উচ্চ
 মাধ্যমিক। Time Institute,
 বার-ই পুর, কলকাতা।
 9830811622, 9903188856
 ব্রাহ্মাছাড়া নিতে : 9804750085

কর্মখালি
এক কোলে চাকরি
আপনার ভবিষ্যৎ আর্থনিক গড়ন
Govt. R/L No. WB 41637
 Airport তে কন্ট্রোলিং অধীনে ও
 Pvt. ব্যাঙ্কে (DSA) তে এবং
 কোম্পানি পে-রোলে বিনা
 ডোনেশনে M/F জয়েনিং চলছে।
 যোগ্যতা চম - স্নাতক, বয়স (18-
 48)। বেতন : 13500 - 46300.
 OT, PF, ESI, ছুটি, বোনাস,
 প্রমোশন-সহ থাকা ও খাওয়ার
 সুবিধা। অরন- 8348427919

ফোন করলেই নিশ্চিত
চাকরি। কন্ট্রোলিং অধীনে
Airport, মেট্রোরেল ও
প্রাইভেট BANK সংস্থায়
Govt. Regd. L/No. - 6630.
 সম্পূর্ণ বিনা ডোনেশনে শিক্ষাগত
 যোগ্যতানুযায়ী স্ট্যাম্প পেপারে
 লিখিত-সহ কোম্পানির Direct
 পে-রোলে সরাসরি লোক নিয়োগ
 চলছে। যোগ্যতা-নামসই/ স্নাতক।
 বেতন - (9500 - 48700)।
 সবকটি পদে OT, PF, ESI, ছুটি,
 বোনাস, প্রমোশন-সহ থাকা এবং
 খাওয়ার সুবিধা আছে।
 যোগাযোগ-M- 7718543880.

ARISE SHIPPING
মার্চেন্ট নেভিতে চাকরি
Govt. Regd. N- 662416
 সরাসরি যোগ্যতার উপর নির্ভর
 করে মার্চেন্ট নেভিতে চাকরি।
 যোগ্যতা (চম-স্নাতক) পর্যন্ত।
 বয়স (17-42) এর মধ্যে।
 প্যারামেডিক্যাল চাকরি। বেতন-
 15,500 - 52,500. Direct
 Company - র পেপোলে।
 এখানে বেতনের সাথে খাওয়া-
 থাকা Company-র খরচ।
 এছাড়া সাথে PF, ESI, OT,
 বোনাস ও প্রমোশনের সুবিধা
 আছে। প্রত্যেক 5 মাস Duty
 করলে 1 মাসের ছুটি WITH
 SALARY. পোস্টিং এরিয়া -
 কলকাতা, শিদিরপুর, হলদিয়া,
 মুম্বাই, গোয়া, চেমাই, আন্দামান,
 কোচি ও বিশাখাপত্তনম। দেশের
 মধ্যে নিজের পছন্দ মতো জায়গায়
 কাজ পেতে শীঘ্রই BIO DATA
 পরিচয়পত্র ও যোগ্যতার কাগজপত্র
 সহ যোগাযোগ করুন। ফর্ম
 101 টাকা। বিশাল রায়।
 M : 9564998098.

কর্মখালি
আর্জেন্ট ভ্যাকাপ্সি
 স্ট্যাপ পেপারে লিখিত-সহ সম্পূর্ণ
 বিনা ডোনেশনে কন্ট্রোলিং
 অধীনে Airport ও মেট্রোতে M/
 F নিয়োগ চলছে। যোগ্যতা - চম-
 স্নাতক। বেতন : 14500/- -
 42700/-, সস্তর যোগাযোগ
 করুন। M : 7797525900.

All disputes regarding sales and advertisement of all publications of Sangsthaan Prakashan Pvt. Ltd. are subject to Kolkata Jurisdiction only.

রক্ষা শক্তি ইউনিভার্সিটিতে পুলিশ অ্যাডমিনিস্ট্রেশন, ক্রিমিনোলজি, সাইবার ল' ও ইন্টেলেকচুয়াল প্রপার্টি রাইটস'এর পেশাদারি কোর্স

রক্ষা শক্তি ইউনিভার্সিটি ২০১৮-১৯ সেশনে এইসব কোর্সে ভরতি নিচ্ছে :
 (১) মাস্টার অফ আর্টস ইন পুলিশ অ্যাডমিনিস্ট্রেশন। যে কোনো শাখার ডিগ্রি কোর্স পাশ ছেলেমেয়েরা আবেদন করতে পারেন। ২ বছরের কোর্স। কোর্স ফী প্রতি বছর ৩০ হাজার টাকা। মেয়েদের ক্ষেত্রে ১৫ হাজার টাকা। সীট : ৩০টি।
 (২) মাস্টার অফ আর্টস ইন ক্রিমিনোলজি। যে কোনো শাখার ডিগ্রি কোর্স পাশ ছেলেমেয়েরা আবেদন করতে পারেন। কোর্স ফী, মেয়াদ ও সীট আগের মতো।
 (৩) পোস্ট-গ্রাজুয়েট ডিপ্লোমা ইন সাইবার ল' অ্যান্ড ইন্টেলেকচুয়াল প্রপার্টি রাইটস। যে কোনো শাখার ডিগ্রি কোর্স পাশ ছেলেমেয়েরা আবেদন করতে পারেন। মেয়াদ : ১ বছর। সীট : ৩০টি। কোর্স ফী ছেলেদের ক্ষেত্রে ২০ হাজার টাকা ও মেয়েদের ক্ষেত্রে ১০ হাজার টাকা।
 (৪) পোস্ট-গ্রাজুয়েট ডিপ্লোমা ইন সাইবার সিকিউরিটি অ্যান্ড সাইবার ফরেনসিক। যে কোনো শাখার ডিগ্রি কোর্স / মাস্টার ডিগ্রি কোর্স পাশ ছেলেমেয়েরা আবেদন করতে পারেন। মেয়াদ : ১ বছর। সীট : ৩০টি। কোর্স ফী ছেলেদের ক্ষেত্রে ৫০ হাজার টাকা ও মেয়েদের ক্ষেত্রে ২৫ হাজার টাকা।
 (৫) পোস্ট-গ্রাজুয়েট

ডিপ্লোমা ইন ইন্ডাস্ট্রিয়াল সিকিউরিটি। যে কোনো শাখার ডিগ্রি কোর্স পাশ ছেলেমেয়েরা আবেদন করতে পারেন। ১ বছরের কোর্স। সীট : ৩০টি। কোর্স ফী ছেলেদের ক্ষেত্রে ৩০ হাজার টাকা ও মেয়েদের ক্ষেত্রে ১৫ হাজার টাকা।
 (৬) এম.এসসি ইন স্পোর্টস সায়েন্স। সাতের শাখার ডিগ্রি কোর্স পাশ ছেলেমেয়েরা আবেদন করতে পারেন। ২ বছরের কোর্স। সীট : ৩০টি।
 (৭) ২ বছরের এল.এল.এম ইন ফ্রাইম অ্যান্ড সিকিউরিটি ল' অ্যান্ড ইন্টেলেকচুয়াল প্রপার্টি রাইটস। যে কোনো শাখার ডিগ্রি কোর্স পাশ ছেলেমেয়েরা আবেদন করতে পারেন। সীট : ৩০টি। এছাড়াও এখানে সার্টিফিকেট কোর্স ইন ফটোগ্রাফি পড়ানো হবে। যে কোনো শাখার উচ্চমাধ্যমিক পাশ ছেলেমেয়েরা ভরতি হতে পারেন। ৩ মাসের কোর্স। দরখাস্ত জমা দেওয়ার শেষ তারিখ ৫ জুলাই। ফর্মের দাম ৩০০ টাকা।
 ঠিকানা : রক্ষা শক্তি ইউনিভার্সিটি, মিউনিসিপ্যাল কমিউনিটি, মেডানিগর, আহমেদাবাদ - ৩৮০০১৬, গুজরাট। ফোন : (০৭৯) ২২৩৯৪২২২। ওয়েবসাইট : www.rsu.ac.in

কুলিনারি আর্টের বি.বি.এ কোর্স

ইন্ডিয়ান কুলিনারি ইন্সটিটিউট (ডিপ্লোমা ও ডিপ্লোমা) কুলিনারি আর্টের ৩ বছরের বি.বি.এ কোর্সে ভরতি নিচ্ছে। এই কোর্সটি ইন্ডিয়ান পাতী ব্যান্ডার টাইমার ইউনিভার্সিটি, সমসাময়িক ইন্ডিয়া, অক্সফোর্ড ৩০৯, তেপনিনী জাতি ও উপজাতিদের ক্ষেত্রে ২৫%) নম্বর পেলে যে কোনো শাখার উচ্চমাধ্যমিক বা সমতুল কোর্স পাশ ছেলেমেয়েরা আবেদন করতে পারেন। কোর্স হতে হবে ১৮-২০১৮ তার হিসাবে ১২ বছরের মধ্যে। তেপনিনী জাতি ও উপজাতি জাতিগোষ্ঠী দখলীরা ২ বছর মধ্যে ছাড় পাবেন। সীট : ৩০টি।
 (১) মাস্টার অফ আর্টস ও ডিপ্লোমা কোর্স : ৩০টি।
 (২) মাস্টার অফ আর্টস ও ডিপ্লোমা কোর্স : ৩০টি।
 (৩) মাস্টার অফ আর্টস ও ডিপ্লোমা কোর্স : ৩০টি।
 (৪) মাস্টার অফ আর্টস ও ডিপ্লোমা কোর্স : ৩০টি।
 (৫) মাস্টার অফ আর্টস ও ডিপ্লোমা কোর্স : ৩০টি।
 (৬) মাস্টার অফ আর্টস ও ডিপ্লোমা কোর্স : ৩০টি।
 (৭) মাস্টার অফ আর্টস ও ডিপ্লোমা কোর্স : ৩০টি।
 (৮) মাস্টার অফ আর্টস ও ডিপ্লোমা কোর্স : ৩০টি।
 (৯) মাস্টার অফ আর্টস ও ডিপ্লোমা কোর্স : ৩০টি।
 (১০) মাস্টার অফ আর্টস ও ডিপ্লোমা কোর্স : ৩০টি।
 (১১) মাস্টার অফ আর্টস ও ডিপ্লোমা কোর্স : ৩০টি।
 (১২) মাস্টার অফ আর্টস ও ডিপ্লোমা কোর্স : ৩০টি।
 (১৩) মাস্টার অফ আর্টস ও ডিপ্লোমা কোর্স : ৩০টি।
 (১৪) মাস্টার অফ আর্টস ও ডিপ্লোমা কোর্স : ৩০টি।
 (১৫) মাস্টার অফ আর্টস ও ডিপ্লোমা কোর্স : ৩০টি।
 (১৬) মাস্টার অফ আর্টস ও ডিপ্লোমা কোর্স : ৩০টি।
 (১৭) মাস্টার অফ আর্টস ও ডিপ্লোমা কোর্স : ৩০টি।
 (১৮) মাস্টার অফ আর্টস ও ডিপ্লোমা কোর্স : ৩০টি।
 (১৯) মাস্টার অফ আর্টস ও ডিপ্লোমা কোর্স : ৩০টি।
 (২০) মাস্টার অফ আর্টস ও ডিপ্লোমা কোর্স : ৩০টি।
 (২১) মাস্টার অফ আর্টস ও ডিপ্লোমা কোর্স : ৩০টি।
 (২২) মাস্টার অফ আর্টস ও ডিপ্লোমা কোর্স : ৩০টি।
 (২৩) মাস্টার অফ আর্টস ও ডিপ্লোমা কোর্স : ৩০টি।
 (২৪) মাস্টার অফ আর্টস ও ডিপ্লোমা কোর্স : ৩০টি।
 (২৫) মাস্টার অফ আর্টস ও ডিপ্লোমা কোর্স : ৩০টি।
 (২৬) মাস্টার অফ আর্টস ও ডিপ্লোমা কোর্স : ৩০টি।
 (২৭) মাস্টার অফ আর্টস ও ডিপ্লোমা কোর্স : ৩০টি।
 (২৮) মাস্টার অফ আর্টস ও ডিপ্লোমা কোর্স : ৩০টি।
 (২৯) মাস্টার অফ আর্টস ও ডিপ্লোমা কোর্স : ৩০টি।
 (৩০) মাস্টার অফ আর্টস ও ডিপ্লোমা কোর্স : ৩০টি।

জেনেটিক্স, বায়ো-টেকনোলজি, মলিকুলার বায়োলজির ডিগ্রি ও মাস্টার ডিগ্রি কোর্স

ইনস্টিটিউট অফ জেনেটিক ইঞ্জিনিয়ারিং নতুন সেশনে জেনেটিক্স, বায়ো-টেকনোলজি, মলিকুলার বায়োলজি, মাইক্রো বায়োলজি বিষয়ে ডিগ্রি ও পোস্ট-গ্রাজুয়েট ডিগ্রি কোর্সে ভরতি নিচ্ছে। কোর্সগুলি মৌলানা আবুল কালাম আজাদ ইউনিভার্সিটি অফ টেকনোলজির স্বীকৃত। প্রার্থী বাছাই করা হবে কমন এন্ট্রান্স টেস্ট (সি.ই.টি)'র মাধ্যমে। ৩ বছরের বি.এসসি কোর্স পড়ানো হবে এইসব বিষয়ে : বায়ো-টেকনোলজি, জেনেটিক্স, মাইক্রোবায়োলজি, মলিকুলার বায়োলজি ও ব্যাচেলর অফ কম্পিউটার অ্যাপ্লিকেশন। ফিজিক্স / কেমিস্ট্রি / ম্যাথমেটিক্স / বায়োলজি নিয়ে বিজ্ঞান শাখার উচ্চমাধ্যমিক পাশ ছেলেমেয়েরা বি.এসসি কোর্সে ভরতির জন্য আবেদন করতে পারেন। ফাইনাল ইয়ারের পরীক্ষার্থীরাও শর্তসাপেক্ষে যোগ্য। প্রথমটিতে সীট : ৬০টি আর অন্য সব বিষয়ে সীট : ৩০টি। ৩ বছরের ডিগ্রি কোর্স পড়ানো হবে ৬টি সেমেস্টারে। ফিজিক্স / কেমিস্ট্রি / ম্যাথমেটিক্স / বায়োলজি বিষয় নিয়ে উচ্চমাধ্যমিক বা, সমতুল কোর্স পাশ ছেলেমেয়েরা ব্যাচেলর অফ কম্পিউটার অ্যাপ্লিকেশন (বি.সি.এ) কোর্সের জন্য আবেদন করতে পারেন। সীট : ৩০টি।
 ২ বছরের এম.এসসি কোর্স পড়ানো হবে এই ৩টি বিষয়ে : বায়ো-টেকনোলজি,

জেনেটিক্স ও মাইক্রো বায়োলজি। প্রথম বিষয়ে ৩০টি ও অন্য দুটি বিষয়ে ২০টি করে সীট। ২ বছরের কোর্স পড়ানো হবে ৪টি সেমেস্টারে। অন্ততপক্ষে ৪৫% নম্বর নিয়ে বায়োলজিক্যাল সায়েন্স / বায়ো টেকনোলজি / কেমিস্ট্রি / কেমিক্যাল ইঞ্জিনিয়ারিং বা, সমতুল বিষয় নিয়ে বি.এসসি পাশ ছেলেমেয়েরা আবেদন করতে পারেন। আবেদন করতে হবে অনলাইনে, ৩১ মে'র মধ্যে। এই ওয়েবসাইটে মাধ্যমে : www.ige-india.com এছাড়াও প্রার্থীরা এই ওয়েবসাইট থেকে ফর্ম ডাউনলোড করতে পারেন। পূরণ-করা দরখাস্ত যথাযথভাবে পূরণ করতে হবে। দরখাস্তের সঙ্গে দিতে হবে : (১) মূল তেজা রক্তচাপমাপের মাপের ছবি, (২) ব্যাসের প্রমাণপত্র (৩) শিক্ষাপত্র যোগ্যতার প্রমাণপত্র (৩) ৫০০ টাকার ডিমান্ড ড্রাফট বা, পোস্টাল অর্ডার। ড্রাফট পাঠাতে হবে 'Institute of Genetic Engineering'এর অনুকূলে ও পেয়েবল অর্ডার হিসাবে 'কলকাতা'। পূরণ-করা দরখাস্ত ডাকযোগে বা, কুরিয়ারে পাঠাবেন এই ঠিকনায় : Institute of Genetic Engineering, 30 Thakurhat Road, Badli, Kolkata - 700 128. কাউন্সেলিংয়ের সময় প্রার্থীদের জন্ম ও শিক্ষাপত্র যোগ্যতার মূল প্রমাণপত্র নিয়ে আসতে হবে। বিস্তারিত তথ্য পাবেন ওপরের ওয়েবসাইটে।

ফায়ার সেফটি ম্যানেজমেন্ট ও স্পোর্টস ম্যানেজমেন্টের কোর্স



ইন্ডিয়ান ইনস্টিটিউট অফ সোশ্যাল ওয়েলফেয়ার অ্যান্ড বিজনেস ম্যানেজমেন্ট (আই.আই.এস.ডব্লিউ.বি.এম) ফায়ার সেফটি ম্যানেজমেন্ট ও স্পোর্টস ম্যানেজমেন্টের ডিপ্লোমা কোর্সে ভরতি নিচ্ছে।
ফায়ার সেফটি ম্যানেজমেন্ট : ওয়েস্ট বেঙ্গল স্টেট কাউন্সিল অফ টেকনিক্যাল অ্যান্ড ভোকেশনাল এডুকেশন ও স্কিল ডেভেলপমেন্টের সঙ্গে যৌথ উদ্যোগে কয়েকটি ম্যানেজমেন্টের অ্যাডভান্সড ডিপ্লোমা কোর্সটি পড়ানো হয়। যে কোনো শাখার ডিগ্রি কোর্স পাশ বা, ইঞ্জিনিয়ারিংয়ের ডিপ্লোমা কোর্স পাশ ছেলেমেয়েরা আবেদন করতে পারেন। দ্বি-বিভাগের কোর্সটি ১ বছরের ও সাক্ষা বিভাগের কোর্সটি দেড় বছরের। সীট : ৩০টি। প্রার্থী বাছাই করা হবে গ্রুপ ডিসকালন ও ইন্টারভিউয়ের মাধ্যমে, ১১ ও ১২ জুলাই। ক্লাস শুরু হবে ২৮ জুলাই থেকে। ক্লাস হবে সপ্তাহে ৪ দিন। অ্যাসিষ্ট্যান্ট প্রফেসর ও বিভাগীয় প্রধান ডঃ সর্বাশী মিত্র জানান, এই কোর্স করে সরকারি-বেসরকারি শিল্প সংস্থায় প্রচুর চাকরির সুযোগ আছে। ফর্ম ও প্রস্পেক্টাসের দাম ৩০০ টাকা। আবেদনের শেষ দিন ৩০ জুন। ফর্ম ও প্রস্পেক্টাস পাবেন নিচের ঠিকনায়।
স্পোর্টস ম্যানেজমেন্ট : ১ বছরের পূর্ণ সময়ের পোস্ট-গ্রাজুয়েট ডিপ্লোমা কোর্সটি কলকাতা বিশ্ববিদ্যালয় স্বীকৃত। যে কোনো শাখার ডিগ্রি কোর্স পাশ ছেলেমেয়েরা আবেদন করতে পারেন। প্রার্থী বাছাই করা হবে লিখিত পরীক্ষা, গ্রুপ ডিসকালন ও ইন্টারভিউয়ের মাধ্যমে। দরখাস্ত জমা দেওয়ার শেষ তারিখ ৪ জুন। ওপরের দুটি কোর্সে ফর্ম ও প্রস্পেক্টাসের জন্য যোগাযোগ করতে হবে এই ঠিকনায় : IISWBM, College Square (West), Kolkata - 700 073. ফায়ার ম্যানেজমেন্টের ক্ষেত্রে ফোন করবেন এই নম্বরে : 4023 7474, 8336010005. স্পোর্টস ম্যানেজমেন্টের ক্ষেত্রে ফোন করবেন এই নম্বরে : 2241 8694, 9007915886.

সেন্ট জেভিয়ার্স বিশ্ববিদ্যালয়ে ডিগ্রি ও পোস্ট-গ্রাজুয়েট ডিগ্রি কোর্সে ভরতি

সেন্ট জেভিয়ার্স ইউনিভার্সিটি, কলকাতা নতুন সেশনে ডিগ্রি ও পোস্ট-গ্রাজুয়েট ডিগ্রি কোর্সে ভরতি নিচ্ছে। অনলাইনে আবেদন করতে হবে। ডিগ্রি কোর্সে অনার্স বিষয়ে পড়ানো হবে এইসব বিষয় : কমার্স, ম্যানেজমেন্ট স্টাডিজ, ইকনমিক্স, ইংলিজি, মাস কমিউনিকেশন। পোস্ট-গ্রাজুয়েট কোর্স পড়ানো হবে এইসব বিষয়ে : এম.বি.এ, এম.কম, এম.এসসি, এম.এ (ইন্ডিয়ান মাস কমিউনিকেশন, ইকনমিক্স)। ডিগ্রি কোর্সের ক্ষেত্রে ভর্তির যোগ্যতা উচ্চমাধ্যমিক পাশ আর পোস্ট-গ্রাজুয়েট ডিগ্রি কোর্সে ভর্তির যোগ্যতা ডিগ্রি কোর্স পাশ। অনলাইনে অ্যাপ্লিকেশন করতে হবে এই ওয়েবসাইটের মাধ্যমে : www.sxuk.edu.in।
 ঠিকানা : অ্যাকাডেমি এলিট গার্লস, মিউনিসিপ্যাল, কলকাতা - ১৬০। ফোন : (০৩৩) ৬৬২৪-১৮৮১। সীট অফিস : ৩০ হাজার টেংকো সারি, কলকাতা - ১৬। ফোন : (০৩৩) ২২৫২-১১০২।

পরপর **১১** বার **১** নম্বরে

সব সাপ্তাহিক, পাক্ষিক ও মাসিক বাংলা পত্র-পত্রিকার মধ্যে

আবার সর্বাধিক বিক্রির রেকর্ড

কর্মসংস্থান

এখন প্রতি সপ্তাহে শুক্রবার বেরোয়

*As per ABC (Audit Bureau of Circulations) July-Dec. 2017

১৩২ পাতা
দাম : ১০ টাকা

মে সংখ্যা
বেরিয়েছে

সাফল

সাধারণ জ্ঞান

রেলের গ্রুপ 'ডি' পরীক্ষার
৫ সেট সম্ভাব্য প্রশ্নোত্তর

আবগারি দক্ষতরে সাব-ইন্সপেক্টর
পদের পরীক্ষার ১ সেট সম্ভাব্য প্রশ্নোত্তর

রাজ্য পুলিশের কনস্টেবল
পরীক্ষার ২ সেট সম্ভাব্য প্রশ্নোত্তর

- ভারত ও ভারতীয়দের বিশ্বরেকর্ড
- একনজরে জামানি
- শিরোনামে আসা বই
- ইংরেজি, G.I. ও অঙ্কের শটকাট টিপস
- খেলতে খেলতে নজির গড়া
- তথ্যের মোড়কে জানা অজানা
- নোটবুক

ভারতীয় লেখকদের বিখ্যাত ইংরেজি বই

ভারতীয়-বিজ্ঞানীদের অভিধান

৫৮ টেকনিশিয়ান
১ পাতার পর

আগ্রহীকরণের জ্ঞান থাকলে
আবেদন করতে পারেন। ডিগ্রি
কোর্সে ৫০% নম্বর আর
অ্যাকাউন্টস / অডিট /
হসপিটালিটি / পারচেস অ্যান্ড
ইমপোর্ট / লিগ্যাল ইত্যাদি
ক্ষেত্রে অন্তত ২ বছর কাজের
অভিজ্ঞতা থাকলে ভালো হয়।
মূল মাইনে : ২১,৭০০-
৬৯,১০০ টাকা। শূন্যপদ : ২১টি
(জেনাঃ ১৬, ও.বি.সি. ৪,
তঃজাঃ ১)।

জুনিয়র টেকনিশিয়ান : সংশ্লিষ্ট
শাখার গ্রাজুয়েটরা যোগ্য।
ইঞ্জিনিয়ারিংয়ের সংশ্লিষ্ট শাখার
৩ বছরের ডিপ্লোমা কোর্স
পাশরাও যোগ্য। আই.টি.আই.
কোর্স পাশরা ৩ বছর কাজের
অভিজ্ঞতা থাকলেও যোগ্য।
কম্পিউটার অ্যাপ্লিকেশনে জ্ঞান
থাকতে হবে। মূল মাইনে :
২১,৭০০-৬৯,১০০ টাকা।
শূন্যপদ : ৩৭টি। এর মধ্যে
ডিপার্টমেন্ট অফ অ্যারোস্পেস
ইঞ্জিনিয়ারিংয়ে ৩টি (জেনাঃ ১,
ও.বি.সি. ১, তঃজাঃ ১)।
ডিপার্টমেন্ট অফ বি.এস.বি.ই.
১টি (জেনাঃ ১)। ডিপার্টমেন্ট অফ
সিভিল ইঞ্জিনিয়ারিং ৩টি
(জেনাঃ ২, ও.বি.সি. ১)।
সেটোর ফর লেজার অ্যান্ড
ফটোটনিক্স ১টি (জেনাঃ ১)।
সেন্ট্রাল ওয়ার্কশপ ২টি (জেনাঃ
১, তঃজাঃ ১)। ডিপার্টমেন্ট
অফ কেমিক্যাল ইঞ্জিনিয়ারিং
৩টি (জেনাঃ ১, ও.বি.সি. ১,
তঃজাঃ ১)। ডিপার্টমেন্ট অফ
কেমিস্ট্রি ২টি (জেনাঃ ১,
ও.বি.সি. ১)। কম্পিউটার সায়েন্স
১টি (জেনাঃ ১)। ডিপার্টমেন্ট অফ
কম্পিউটার সায়েন্স অ্যান্ড
ইঞ্জিনিয়ারিং - ২টি (জেনাঃ ১,
তঃজাঃ ১)। ডিপার্টমেন্ট অফ
আর্থ সায়েন্স ৩টি (জেনাঃ ২,
ও.বি.সি. ১)। ডিপার্টমেন্ট অফ
ইলেক্ট্রিক্যাল ইঞ্জিনিয়ারিং ২টি
(জেনাঃ ১, তঃজাঃ ১)। সেন্ট্রাল
প্লাস রোয়িং সেকশন ১টি
(জেনাঃ ১), ডিপার্টমেন্ট অফ
মেকানিক্যাল ইঞ্জিনিয়ারিং ৩টি
(জেনাঃ ২, ও.বি.সি. ১)।
ডিপার্টমেন্ট অফ মেটেরিয়াল
সয়েন্স অ্যান্ড ইঞ্জিনিয়ারিং ২টি
(জেনাঃ ১, তঃজাঃ ১)।
ডিপার্টমেন্ট অফ মেটেরিয়াল
সয়েন্স প্রোগ্রাম ২টি (জেনাঃ ১,
ও.বি.সি. ১)। ন্যাশনাল উইন্ড
টানেল ফেসিলিটি ২টি (জেনাঃ
১, ও.বি.সি. ১)। ডিপার্টমেন্ট
অফ ফিজিক্স ১টি (জেনাঃ ১)।
ইন্সটিটিউট ওয়ার্ল্ড ডিপার্টমেন্ট -
ইলেক্ট্রিক্যাল ৩টি (জেনাঃ ২,
ও.বি.সি. ১)।
সব ক্ষেত্রে বয়স হতে হবে ১৯-
৬-২০১৮'এর হিসাবে ২১
থেকে ৩০ বছরের মধ্যে।
কম্পিউটার ৫ বছর, ও.বি.সি. 'রা

মিডিয়া এন্টারটেইনমেন্ট কোর্স
করে চাকরি নিশ্চিত করুন

চাকরি পাওয়ার জন্য শুধু ডিগ্রিই যথেষ্ট নয়, চাই শিক্ষাকে কাজে
লাগানোর উপযুক্ত দক্ষতা। আর সেই কথা মাথায় রেখেই শিক্ষিত
কেন্দ্র যুক্তদের জন্য TISS-SVE চালু করছে ওয়ার্ল্ড ইন্সটিটিউটেড
ট্রেনিং প্রোগ্রাম (WITP)। এই ধরনের ভোকেশনাল এডুকেশনাল
প্রোগ্রাম ভারতে প্রথম যা ছাত্রছাত্রীদের হাতে-কলমে ইন্ডাস্ট্রিয়াল
ট্রেনিং দিয়ে পেশাগতভাবে দক্ষ করে তুলবে। টাটা ইন্সটিটিউট অফ
সেশ্যুয়াল সায়েন্স (TISS)-এর মিডিয়া এন্টারটেইনমেন্ট কোর্সকোনো
হয় IISD Edu World-এ। এই IISD Edu World প্রতিষ্ঠানটি
সুপ্রতিষ্ঠিত শিক্ষাপতি, ব্যাঙ্কায়, সাংবাদিক ও মানবপ্রেমী হিসাবে খ্যাত
ডঃ এইচ. পি. কানোরিয়া মহোদয়ের একটি সমাজসেবামূলক সংস্থা।
চাকরিমুখী কোর্সগুলি হল :

ভোকেশনাল ডিগ্রি কোর্স (বি. ভোক) : (১) গ্রাফিক্স ও মাল্টিমিডিয়ায়
৩ বছরের কোর্স। (২) জার্নালিজমের ৩ বছরের কোর্স।
আডভান্সড ডিপ্লোমা কোর্স : (১) গ্রাফিক্স ও মাল্টিমিডিয়ায় ২ বছরের
আডভান্সড কোর্স। (২) জার্নালিজমের ২ বছরের আডভান্সড কোর্স।
ডিপ্লোমা কোর্স : (১) গ্রাফিক্স ও মাল্টিমিডিয়ায় ১ বছরের কোর্স।
(২) জার্নালিজমের ১ বছরের কোর্স।
আডভান্সড সার্টিফিকেট কোর্স : (১) আডভান্সড ই-জি
ম্যানেজমেন্ট। (২) অ্যানিমেশন আর্ট। (৩) ডিজিটাল মার্কেটিং। (৪)
পাবলিক রিলেশন। (৫) ওয়েব ডিজাইন।
সার্টিফিকেট কোর্স : (১) গ্রাফিক ডিজাইন (কোরেল ড্র)। (২)
ইভেন্ট ম্যানেজমেন্ট। (৩) গ্রাফিক ডিজাইন (ফটোশপ)
ঠিকানা : IISD Edu World, IB-200/1, Salt Lake City,
Kolkata - 700106. Ph. : (033) 2335 2861 / 2378 ,
8585003895.
বিঃ দ্র : সব ধরনের ডিগ্রি, ডিপ্লোমা ও সার্টিফিকেট কোর্সের TISS কর্তৃক প্রদত্ত।

৩ বছর ও প্রতিবছরী আর প্রাক্তন সমরকর্মীরা যথারীতি বয়সে
ছাড় পাবেন।
প্রার্থী বাছাই হবে লিখিত পরীক্ষা ও ফিল টেষ্টের মাধ্যমে। কবে
কোথায় পরীক্ষা হবে তা
ওয়েবসাইটে জানতে
পারবেন।
দরখাস্ত করবেন অনলাইনে,
১৯ জুনের মধ্যে। এই
ওয়েবসাইটে :
www.iitk.ac.in/
inforcell/recruitment
এরূপে বৈধ একটি ই-মেল
আই.ডি. থাকতে হবে।
প্রথমে ওপরের ওই
ওয়েবসাইটে গিয়ে যাবতীয়
তথ্য দিয়ে সাবমিট করলেই
নাম রেজিস্ট্রেশন হয়ে
যাবে। এবার পরীক্ষা ফী
বাবদ ২৫০ টাকা নেট
ব্যাঙ্কিং, ডেবিট কার্ড বা,
ক্রেডিট কার্ডে জমা
দেবেন। টাকা জমা
দেওয়ার পর সিস্টেম
জেনারেটেড অ্যাপ্লিকেশন
প্রিন্ট করে নেবেন।
তপশিলী, প্রতিবন্ধী ও
মহিলাদের ফী লাগবে না।
এবার ওই দরখাস্ত ডাকে
পাঠাতে হবে। তখন সঙ্গে
দেবেন যাবতীয়
প্রমাণপত্রের প্রত্যয়িত
নকল। দরখাস্ত-ভরা খামের
ওপর লিখবেন
'Application for the
post of.....'. দরখাস্ত
পৌঁছনো চাই ২৬ জুনের
মধ্যে। এই ঠিকানা : The
Joint Registrar,
Recruitment Section,
Room No. 224, 2nd
Floor (Faculty
Building), IIT Kanpur
- 208016 (U.P.).

স্টার হোটেলে ও জাহাজে
কয়েক হাজার শূন্যপদ

বিশেষ প্রতিনিধি : জীবনে সবথেকে উন্নতপূর্ণ জিনিস হল সঠিক কেরিয়ার
তৈরি করা। একজন ছেলে বা মেয়ে ভবিষ্যতে কেমন জীবন কাটাতে, সমাজে
কতটা নিজেস্ব স্বপ্রতিষ্ঠিত করতে পারবে সবটাই নির্ভর করবে তার 'কেরিয়ার'
নির্বাচনের ওপর। বর্তমানে সবথেকে সুরক্ষিত ও আকর্ষণীয় পেশা হল -
হোটেল ম্যানেজমেন্ট। এই পেশার একমাত্র নির্ভরযোগ্য, বিশ্বস্ত ও ১৮ বছরের
অভিজ্ঞ প্রতিষ্ঠান HOTS SCHOOL OF HOTEL MANAGEMENT
(বারাসাত), যাদের কোনো hidden cost (গোপন খরচ) নেই। নামমাত্র
কোর্স ফিতে হোটেল ম্যানেজমেন্ট করে এখানকার ছাত্রছাত্রীরা দেশে-বিদেশে
হোটেল, জাহাজে আজ সুপ্রতিষ্ঠিত। কোর্সের বিষয়ে বিশদ জানতে সেখান
www.hotscal.com। HOTS SCHOOL OF HOTEL
MANAGEMENT — একমাত্র ট্রেনিং ও চাকরির ১০০ শতাংশ লিখিত
গ্যারান্টি দেয়। অভিজ্ঞ শিক্ষকেরা প্রতিটি ছাত্রছাত্রীকে Hotel Management
কোর্সের সাথে স্পোকেন ইংলিশ, কম্পিউটার, ফ্রেন্স ভাষা ও গ্লিমিং করিয়ে
পেশার উপযুক্ত করে তোলে। যোগাযোগ : HOTS SCHOOL OF
HOTEL MANAGEMENT, ৮-২, কনমালীপুর রোড, বারাসাত, ৭০০১২৪,
সংখ্যালয় ভবনের বিপরীতে। ফোন : ৯৮৩০৯৭১২২৪, ৮৯০২০০২০৪৩।

প্রগতি ITI-এ ভর্তি
বহরমপুর

NCVT অনুমোদিত বহরমপুর প্রগতি
ITI-এ আগস্ট ২০১৮ সেশনে নিচের
ট্রেডগুলিতে ভর্তির জন্য যোগাযোগ করুন:
কোর্স : ইলেক্ট্রিশিয়ান ও ফিটার
9434900500

Distance / Regular Univeresity
(UGC/ DEB/ AICTE/ BCI/ PCI /
NCI/ NCTE approved)

COURSE

NURING / (Bsc/GNM) LLB / D- Pharma / B-ED
D.ELED / DIP / B.TECH / M.TECH
BBA / MBA / BCA / MCA / FIRE SAFETY
BA / BCOM / MA / MCOM / BSC / MSC
BLIS / MLIS / BSW / MSW / HOTEL MANAGMENT

10th/12th from NIOS/ BBOSE GOVT BOARD
Elec /Fitter/Diesel Mach /Welding
From PVT I.T.I / NCVT Govt of
India at Orissa.

Halisahar Vaskodagama Collage
ESTD - 1991
M : 7980435103 / 9831549706

ITI (NCVT)
ADMISSION GOING ON
Electrician, Surveyor.

কোর্স চলাকালীন
FREEতে সরকারি
জালদি বা HIGHER
STUDY ENTRANCE
EXAMINATION ফেল্ডিং
এর ব্যবস্থা আছে।

TIIME PRIVATE ITI
139 Feeder Road, Balgharia, Kol-56.
PH-(033) 25444644, 9143611891,
9163850359, 8697263515, www.tiimeiti.in

প্যারামেডিক্যাল কোর্স
DMLT • OT • X-RAY/ECG • DIALYSIS

নাসিং **GNM B.Sc**

Admission Going On Book Your Seat Now

Admission Help Line **9051608062**
MK Nursing & Paramedical College
Main Campus - Meena Tower, Chinar Park, kol-136

কর্মসংস্থান পত্রিকার পাঠক-পাঠিকার অনুরোধ-আকারে
এখন বিনা খরচায় প্রতিদিন আপনার ঘরে

দৈনিক সংবাদপত্র **সুখবর**

কম্পিউটারে গুগল সার্চ'এ গিয়ে একবার ক্লিক করুন www.sukhabar.in
পেয়ে যাবেন এই online সংস্করণ। পাবেন চাকরির পরীক্ষার উপযোগী
প্রতিদিনের এ রাজ্য, অন্যান্য রাজ্য, বিদেশ, অর্থনৈতিক ও খেলার খবর।

৮ মেডিক্যাল
টেকনোলজিস্ট

পশ্চিমবঙ্গ সরকারের
ডিরেক্টরেট অফ
ই.এস.আই. (এম. বি.)
স্কিম - মেডিক্যাল
টেকনোলজিস্ট'পদে ৮
জন লোক নিচ্ছে।
ফিজিক্স, কেমিস্ট্রি,
বায়োলজি বিষয় নিয়ে
উচ্চমাধ্যমিক পাশরা
বে ডি ও এ/ফি
(ডায়ালগিস্টিক্স) এর ২
বছরের ডিপ্লোমা কোর্স
পাশ হলে যোগ্য।
ডিপ্লোমা কোর্স পাশের
পর কোনো হাসপাতাল

বা, ক্লিনিকে অন্তত ১ বছর কাজের
অভিজ্ঞতা থাকলে ভালো হয়।
রেডিওগ্রাফি (ডায়ালগিস্টিক্স) এর পোস্ট-
গ্রাজুয়েট ডিপ্লোমা কোর্স পাশ হলেও
যোগ্য। বয়স হতে হবে ১-১-
২০১৮'এর হিসাবে ৩৯ বছরের মধ্যে।
এরপর ৭ পাতায়

N.C.T.E স্বীকৃত বারাসাতে
সব ধরতে
বিষ্ণুপ্রিয়া কলেজে
2018-2020 শিক্ষাবর্ষে
বি.এড. এবং
ডি.এন.এড.
কোনো ভর্তির জন্য
9239074089, 9874776146
9038088242

India's Leading Paramedical Institute
DPMI
!! Opportunity !!
কোর্স শেষে আর কখন
Up to 2 Lakhs টাকা বন্ড
STUDENTS @ Apollo, Woodland,
Fortis, Anandalek, Desun,
SRL, Suraksha, Thyrcare, Scrum
ADMISSION OPEN
DMLT, Blood Bank, Nursing,
OT Technician & E.C.G...
100% Placement Assistance
* SCHOLARSHIP Available *
9051667535/ 9734534986

নাসিং ও ফার্মাসি কোর্সে সরাসরি ভর্তি
GNM & B.Sc নাসিং কোর্স

Approved by West Bengal Govt. WBNC
& West Bengal Health University
এছাড়াও Others State Govt. & Nursing
Council-এর Under-এ অন্য রাজ্যে ভর্তি শুরু হয়েছে

D.Pharm, B.Pharm, M.Pharm (Approv. by PCI)

More Information : কল্যাণী রিলায়েবল
A-1/33, Kalyani, (Near Kalyani Main Station)
Ph. : 9007309541, 7003007707, 8017811251

SOUTH CALCUTTA POLYTECHNIC

Approved by AICTE (Govt. of India) & Affiliated to WBSCTVE&D (Govt. of W.B.)
Atghara, Baruipur, Kolkata - 144

Courses : 1st Shift : 1) Civil Eng. 2) Mech. Eng. 3) Elec. Eng.
4) Computer Sc & Technology 5) Electronics & Telecomm Eng.
2nd Shift : 1) Civil Eng. 2) Mechanical Engineering

Eligibility : As per WBSCT & VE & SD Norms **Sunday Open**

Excellent Placement Record
Admission Helpline
(033) 2423 3031, 8116707612, 7044444427, 8981490232
www.southcalcuttapolytechnic.com

সারা ভারতের সব ধরনের
বাংলা পত্রিকার মধ্যে আজও
১ নম্বর
কর্মসংস্থান

কলকাতা, শিলিগুড়ি বা, বর্ধমানের মতো শহরভিত্তিক বাংলা পত্রিকার
প্রচার সংখ্যার ক্রমানুসারের কোনো তালিকা IRS বা কোনো সংস্থা
করে না। পরিসংখ্যান থেকে মন গড়া শীর্ষস্থান প্রচারের লোক ঠিকানো
চমক থেকে সাবধান হন।
শুধুমাত্র কাজের খবরের পত্রিকার মধ্যেই নয়, সব ধরনের সাপ্তাহিক,
পাক্ষিক ও মাসিক বাংলা পত্রিকার মধ্যে 'কর্মসংস্থান' এখন শীর্ষে। আর
সারা ভারতের সব ভাষা মিলিয়ে সেরা ১০টি পত্রিকার মধ্যে একমাত্র বাংলা
পত্রিকা হিসাবে রয়েছে **কর্মসংস্থান**

* As per Indian Readership Survey, 2017

আরিথমেটিক

চাকরির পরীক্ষার গাইড

Direction (Qs. 1-5) : Study the following table and answer the questions given below.

Number of Tourists who visit different cities by different modes of transport.

Cities	Vehicles				
	Car	Train	Bus	Bike	By Air
Delhi	192	188	172	191	174
Mumbai	180	166	178	187	182
Chandigarh	156	194	163	181	148
Dehradun	132	185	142	170	148
Mussoorie	149	159	155	149	183
Jaipur	168	163	158	142	174

1. What is the average number of tourists who comes by Trains ?
(A) 190.5 (B) 188.5 (C) 175.83
(D) 137.5 (E) None of these
2. What is the difference between the total number of tourists who went to Mumbai and Mussoorie by all vehicles ?
(A) 78 (B) 98 (C) 88 (D) 83 (E) None of these

3. What is the per cent of tourists who went to Dehradun by train to the tourists who went to Chandigarh by Air ?
(A) 125 (B) 145 (C) 137 (D) 160 (E) None of these
4. What is the difference between the average number of tourists who went by Air to the average number of tourists who went by Bus ?
(A) 7.58 (B) 9.97 (C) 6.83 (D) 2.30 (E) None of these
5. What is the respective ratio between the number of tourists of Delhi by car to the Mumbai by air ?
(A) 35 : 83 (B) 45 : 71 (C) 96 : 91
(D) 32 : 7 (E) None of these

6. If the wheel of a bicycle makes 560 revolutions in travelling 1.1 km, what is its radius ?
(Use $\pi = \frac{22}{7}$)
(A) 31.25 cm. (B) 37.75 cm.
(C) 35.15 cm. (D) 11.25 cm. (E) None of these

7. Elena's age after 15 years will be 5 times her age 5 years back. What is the present age of Elena ?
(A) 10 years (B) 37 years
(C) 35 years (D) 11 years (E) None of these

8. A man purchased a cow for Rs. 3,000 and sold it the same day for Rs. 3,600, allowing the buyer a credit of 2 years. If the rate of interest be 10% per annum, then the man has a gain of :
(A) 5% (B) 0% (C) 20% (D) 10% (E) None of these

9. A man takes 3 hours 45 minutes to row a boat 15 km. downstream of a river and 2 hours 30 minutes to cover a distance of 5 km. upstream. Find the speed of the current.
(A) 1 kmph (B) 3 kmph (C) 5 kmph
(D) 2 kmph (E) None of these

10. A cistern 6 metre long and 4 metre wide contains water up to a height of 1 metre 25 cm. Find the total area of the wet surface.
(A) 42 square metre (B) 49 square metre
(C) 52 square metre (D) 64 square metre
(E) Other than those given as options

11. In terms of percentage profit, which among following is the best transaction ?
(A) C.P. Rs. 36, Profit Rs. 17 (B) C.P. Rs. 50, Profit Rs. 24
(C) C.P. Rs. 40, Profit Rs. 19 (D) C.P. Rs. 60, Profit Rs. 29
(E) Other than those given as options

12. The milk and water in two vessels A and B are in the ratio 4 : 3 and 2 : 3 respectively. In what ratio the liquids in both the vessels be mixed to obtain a new mixture in vessel C consisting half milk and half water ?
(A) 8 : 3 (B) 7 : 5 (C) 4 : 3 (D) 2 : 3
(E) Other than those given as options

13. The average price of 10 books is Rs. 12 while the average price of 8 of these books is Rs. 11.75. Of the remaining two books, if the price of one book is 60% more than the price of the other, what is the price of each of these two books ?
(A) Rs. 5, Rs. 7.50 (B) Rs. 8, Rs. 12

- (C) Rs. 10, Rs. 16
- (D) Rs. 12, Rs. 14 (E) None of these
14. A fort has provisions for 60 days. If after 15 days 500 men strengthen them and the food lasts 40 days longer, how many men are there in the fort ?
(A) 3,500 (B) 4,000 (C) 6,000
(D) 8,000 (E) None of these

15. If a commission of 10% is given on marked price of Truck the dealer gains 20%. If the commission is increased to 15% the gain % will be how much ?
(A) $\frac{40}{3}$ (B) 10 (C) 20
(D) 15 (E) None of these

16. If a cartoon containing a dozen of mirrors is dropped, then which of the following cannot be ratio of broken mirrors to unbroken mirrors ?
(A) 7 : 5 (B) 3 : 1 (C) 3 : 2 (D) 2 : 1 (E) Cannot be determined

17. A bag contains Rs. 216 in the form of 1 Rs. 50 Paise and 25 paise coins in the ratio of 2 : 3 : 4 the number of 50 paise coins is
(A) 140 (B) 175 (C) 184
(D) 160 (E) 144

18. A is twice as fast as B and B is thrice as fast as C. The journey is covered by C in 42 minutes. The same will be covered by B in
(A) 14 minutes (B) 4 minutes (C) 5 minutes
(D) 8 minutes (E) 6 minutes

19. The CP of two dozen mangoes is Rs. 32. After selling 18 mangoes at Rs. 12 per dozen, the shopkeeper reduced the rate to Rs. 4 per dozen. Then find the loss per cent.
(A) 15 (B) 20 (C) 25 (D) 37.5
(E) None of these

20. How many kilograms of sugar costing Rs. 9 per kg. must be mixed with 27 kg. of sugar costing Rs. 7 per kg. so that there may be gain of 10% by selling the mixture at Rs. 9.24 per kg ?
(A) 60 kg. (B) 63 kg. (C) 50 kg.
(D) 77 kg. (E) None of these

21. 5% of one number (x) is 25% more than another number (y). If the difference between the numbers is 96, find the value of x.
(A) 90 (B) 100 (C) 92
(D) 96 (E) None of these

22. The ratio of A's age 3 years ago and B's age 5 years ago was 4 : 5. If A is 4 years younger than B then what is the present age of B ?
(A) 16 years (B) 14 years (C) 11 years
(D) 15 years (E) None of these

23. Two pipes A and B can fill a tank in 16 hours and 12 hours respectively. The capacity of the tank is 240 litres. Both the pipes are opened simultaneously and closed after 2 hours. How much more water (in litres) is needed to fill the tank ?
(A) 100 litres (B) 170 litres (C) 70 litres
(D) 190 litres (E) None of these

24. A person covers 32 km. downstream is 240 minutes and same person covers 48 km. upstream in 1,440 minutes. Find the rate of current.
(A) 4 km/hr (B) 5 km/hr (C) 3 km/hr
(D) 2 km/hr (E) None of these

25. The simple interest on a certain sum

at the 15% per annum for 5 years is Rs.1,500 more than the simple interest on the same at the rate of 12% per annum for the same period. Find the sum.
(A) Rs. 12,000 (B) Rs. 12,500 (C) Rs. 8,000 (D) Rs. 10,000 (E) None of these

26. The numerator of a fraction is decreased by 25% and the denominator is increased by 250%. If the resultant fraction is $\frac{6}{5}$, what is the original fraction ?
(A) $\frac{22}{5}$ (B) $\frac{24}{5}$ (C) $\frac{27}{6}$ (D) $\frac{28}{5}$ (E) $\frac{30}{11}$

27. A dishonest vendor professes to sell fruits at the cost price but he uses a weight of 800 grams in lieu of 1 kg. weight. Find his percentage gain.
(A) 22% (B) 24% (C) 25% (D) 30% (E) 20%

সেকেন্ডে উত্তরের কৌশল

1(C). ট্রেনে আসা পর্যটকদের গড় সংখ্যা

$$= \frac{188 + 166 + 194 + 185 + 159 + 163}{6}$$

$$= \frac{1055}{6} = 175.83.$$

2(B). পর্যটকদের মোট সংখ্যা :
 মুম্বই $\Rightarrow 180 + 166 + 178 + 187 + 182 = 893$. মুসোরী $\Rightarrow 149 + 159 + 155 + 149 + 183 = 795$. পার্থক্য $= 893 - 795 = 98$. 3(A).
 $\% = \frac{185}{148} \times 100 = 125\%$.

4(C). পর্যটকদের গড় সংখ্যা :
 মনে আসা $\Rightarrow \frac{174 + 182 + 148 + 183 + 174}{6} = \frac{1009}{6}$
 বাসে আসা $\Rightarrow \frac{172 + 178 + 163 + 142 + 155 + 158}{6} = \frac{968}{6}$
 পার্থক্য $= \frac{1009}{6} - \frac{968}{6} = \frac{41}{6} = 6.83$

5(C). অনুপাত $= 192 : 182 = 96 : 91$
 6(A). চাকর 1 বার ঘূর্ণনে অতিক্রান্ত পথ = চাকর পরিধি $= 2\pi r$. তাহলে, 1 বার ঘূর্ণনে যায় $= \frac{1.1 \times 1000 \times 100}{560}$ সেন্টিমিটার।
 $= \frac{11 \times 125}{7}$ সেন্টিমিটার। তাহলে, $2\pi r = \frac{11 \times 125}{7}$ সেন্টিমিটার। $\Rightarrow 2 \times \frac{22}{7} \times r = \frac{11 \times 125}{7}$
 $\Rightarrow r = \frac{11 \times 125}{2 \times 22} = 31.25$ সেন্টিমিটার।

7(A). মনে করি, এলিনার বর্তমান বয়স x বছর।
 $x + 15 = 5(x - 5)$
 $\Rightarrow x + 15 = 5x - 25$
 $\Rightarrow 5x - x = 15 + 25$
 $\Rightarrow 4x = 40$
 $\Rightarrow x = 10$ বছর।

8(B). সরল সুদ

$$\frac{\text{Principal} \times \text{Time} \times \text{Rate}}{100}$$

$$\frac{3000 \times 2 \times 10}{100} = 600 \text{ টাকা।}$$
 সুদাসল $= (3,000 + 600) = 3,600$ টাকা = বিক্রয়মূল্য। অর্থাৎ কোনো লাভ হয়নি।

9(A). স্রোতের অভিমুখে ব্যক্তির বেগ

$$= \text{প্রতি ঘন্টা} \left(\frac{15}{3} \right) \text{ কিলোমিটার} = \left(\frac{15 \times 4}{15} \right)$$

$= \text{প্রতি ঘন্টা} \left(\frac{5}{2} \right)$ কিলোমিটার = প্রতি ঘন্টা $\left(\frac{5 \times 2}{5} \right)$ কিলোমিটার।
 $= \text{প্রতি ঘন্টা} 2$ কিলোমিটার। তাহলে, স্রোতের বেগ = $\frac{1}{2} (4 - 2) = \text{প্রতি ঘন্টা} 1$ কিলোমিটার।

10(B). ভেজা স্থানের ক্ষেত্রফল
 $= 2 \times h(l + b) + lb$
 $= (2 \times 1.25(6 + 4) + 6 \times 4)$ বর্গ মিটার।
 $= (2.5 \times 10 + 24)$ বর্গ মিটার।
 $= 25 + 24 = 49$ বর্গ মিটার।

11(D). (1) শতকরা লাভ $= \frac{17}{36} \times 100 \approx 47\%$
 (2) শতকরা লাভ $= \frac{24}{50} \times 100 = 48\%$
 (3) শতকরা লাভ $= \frac{19}{40} \times 100 = 47.5\%$
 (4) শতকরা লাভ $= \frac{29}{60} \times 100 = 48.3\%$

12(B). A মিশ্রণে দুধের পরিমাণ $= \frac{4}{7}$ লিটার। B মিশ্রণে দুধের পরিমাণ $= \frac{2}{5}$ লিটার।
 মিশ্রণের নিয়মানুসারে,
 মিশ্রণ-A মিশ্রণ-B

$$\frac{4}{7} \quad \frac{2}{5}$$

$$\frac{1}{2} \quad \frac{2}{5}$$

$$\frac{1}{2} \quad \frac{2}{5}$$

$$\frac{4}{7} \quad \frac{1}{2}$$

$$\frac{5-4}{10} = \frac{1}{10} \quad \frac{8-7}{14} = \frac{1}{14}$$
 অনুপাত $= \frac{1}{10} : \frac{1}{14} = 14 : 10 = 7 : 5$

13(C). বাকি দুটি বইয়ের মোট দাম $= (10 \times 12 - 8 \times 11.75) = (120 - 94) = 26$ টাকা।
 মনে করি, 1টা বইয়ের দাম x টাকা।
 অন্য বইয়ের দাম $= \frac{160x}{100} = \frac{8x}{5}$ টাকা। অর্থাৎ, $x + \frac{8x}{5} = 26 \Rightarrow \frac{5x + 8x}{5} = 26 \Rightarrow \frac{13x}{5} = 26 \Rightarrow x = \frac{26 \times 5}{13} = 10$ টাকা।
 অন্য বইয়ের দাম = 16 টাকা।

14(B). মনে করি, প্রথমে দুর্গে লোকের সংখ্যা ছিল x. দুর্গে x জনের জন্য খাবার আছে 45 দিনের।

লোক সংখ্যা	দিন সংখ্যা
x	45
x + 5	40

 তাহলে, $\frac{x + 500}{x} = \frac{45}{40}$
 $\Rightarrow 45x = 40x + 20,000 \Rightarrow 5x = 20,000$
 $\Rightarrow x = \frac{20000}{5} = 4,000$. 15(A). মনে করি, জিনিসটির ক্রয়মূল্য 100 টাকা। জিনিসটির চিহ্নিত মূল্য যদি x, টাকা হয় তাহলে, $\frac{90x}{100} = 120 \Rightarrow x = \frac{120 \times 100}{90} = \frac{1200}{9} = \frac{400}{3}$ টাকা। আবার, $\frac{400}{3}$ এর 85% $= \frac{400}{3} \times \frac{85}{100} = \frac{340}{3}$ টাকা। লাভ $= \frac{340}{3} - \frac{400}{3} = \frac{40}{3}$ অর্থাৎ $\frac{40}{3}\%$. 16(C). আয়নার সংখ্যা = 12 উত্তরটি হল = 3:2 কারণ 3+2 = 5, 12 এর উৎপাদক নয়। 17(E). 1 টাকার, 50 পয়সার ও 25 পয়সার কয়েনের সংখ্যার অনুপাত = 2 : 3 : 4. দামের অনুপাত = 2 : $\frac{3}{2}$: $\frac{4}{4}$ = 4 : 3 : 2. অনুপাতের যোগফল = 4 + 3 + 2 = 9. 50 পয়সার কয়েনের দাম $= \left(\frac{3}{9} \times 216 \right) = 72$ টাকা। তাহলে, 50 পয়সা কয়েনের সংখ্যা = $2 \times 72 = 144$. 18(A). A = 2B = 6C, B = 3C তাদের গতিবেগের অনুপাত = A : B : C = 6C : 3C : C = 6 : 3 : 1. সময়ের অনুপাত = $\frac{1}{6} : \frac{1}{3} : 1 = 1 : 2 : 6$. তাহলে, B এর সময় বেগেছে $= \frac{2}{6} \times 42 = 14$ মিনিট। 19(D). 24টি আমের ক্রয়মূল্য = 32 টাকা। 18টি আমের বিক্রয়মূল্য = 18 টাকা। 6টি আমের বিক্রয়মূল্য $= \left(\frac{4}{12} \times 6 \right) = 2$ টাকা। মোট বিক্রয়মূল্য = 20 টাকা। শতকরা ক্ষতি

৮ মেডিক্যাল টেকনোলজিস্ট ও পাতার পর

ফুল মাইনে: ৭,১০০-৩৭,৬০০ টাকা ও প্রেড শে ৩,৬০০ টাকা। শূন্যপদ: ৮টি (জেনার: ৪, ডাক্তার: ২, ডেপুটি: ১, ও.বি.সি. -এ ক্যাটাগরি: ১)।
প্রার্থী বাছাই করবে 'পশ্চিমবঙ্গ পাব্লিক সার্ভিস কমিশন'। প্রথমে ক্রিনিং টেস্ট / লিখিত পরীক্ষা হবে। সফল হলে ইন্টারভিউ। বিজ্ঞপ্তি নং: 11/2018.
দরমাত্র করবেন শুধুমাত্র অনলাইনে, ১১ জুন পর্যন্ত। এই ওয়েবসাইটে: www.pscwbapplication.in, www.pscwbonline.gov.in এজন্য বৈধ একটি ই-মেল আই.ডি. থাকতে হবে। এছাড়াও পাশপোর্ট মাপের ফটো ও সিগনেচার ছে.পি.ই.জি. ফর্ম্যাটে ২০ থেকে ৫০ কে.বি.টির মধ্যে স্থান করে নেবেন। ফটো ও

সিগনেচার স্থান করবেন ২০০ ডি.পি.আই. তে। প্রথমে ওপরের ওই ওয়েবসাইটে গিয়ে যাবতীয় তথ্য দিয়ে সাবমিট করবেন। তারপর পরীক্ষা ফী বাবদ ১৬০ (তপশিলী ও প্রতিবন্ধীদের ফী লাগবে না) টাকা দিতে হবে। অফলাইনে টাকা দিতে পারবেন ইউনাইটেড ব্যাঙ্ক অফ ইন্ডিয়া'র চালানে, ১২ জুনের মধ্যে। চালান ভরবেসাইটে থেকে

জমা দেওয়া হবে। অনলাইনে টাকা জমা দিতে চাইলে ক্রেডিট কার্ড, ডেবিট কার্ড ও নেট ব্যাঙ্কিংয়ে দিতে পারবেন, ১১ জুনের মধ্যে।

নিশ্চিত চাকরী
নার্সিং
মাস্টার্স ও INC স্বীকৃত
B.Sc | GNM
4L Pkg | 2.5L Pkg
ধাকা ও বাওয়া সহ ছেলে এবং মেয়ে উভয় বোণা
Educator Park Street Kolkata-16
9735974497

ভর্তির বিজ্ঞপ্তি
মেছেদা বিদ্যাসাগর Pvt. ITI
NCVT, Govt. of India স্বীকৃত
2 yrs. course
FITTER ELECTRICIAN
বিদ্যাসাগর টেকনিক্যাল কলেজ মেছেদা (PNB বিল্ডিং, তৃতীয় তল), পূর্ব মেদিনীপুর
03228-231650, 9434005303

SUNITI EDUCATIONAL TRUST
(B.Ed & D.El.Ed College)
KALYANI, NADIA
NCTE RECOGNIZED
Admission 2018-'20
B.Ed. & D.El.Ed. Course
Contact : 9875397040
9674965751, 8334866979

ভর্তির বিজ্ঞপ্তি
CHINSURAH PVT. ITI
NCVT, Govt. of India স্বীকৃত
(FITTER, ELECTRICIAN)
9432067572, (033) 2686-0071,
9732552726, 9433535299
NCTE স্বীকৃত
WBBPE ও বর্ধমান বিশ্ববিদ্যালয় অনুমোদিত
D.El.Ed এবং B.Ed
Chinsurah College of Education
জগন্নাথবাটা, টুন্ডা স্টেশন রোড, হুগলী
(PHE জলের ট্যাকের কাছে)
7550880866, (033) 2686-0001
9732552726, 9433535299

নেতাজী সুভাষ মুক্ত বিশ্ববিদ্যালয় অনুমোদিত কোর্সে ভর্তি চলছে
ডিপ্লোমা ইন যোগা এডুকেশন
শান্তিদেবী বিদ্যানিকেডন (V-10) বড় চাঁদঘর, পলাশী, নদীয়া
9733638357

WBCS · WBJS
BANK · SSC · RLY
CAT · MAT · JECA
Campus Placement Training
JEXPO
TARGET
SEALDAH-9830461694
www.target-education.org

Bengal Fine Arts College
P.O.- Chandpara Bazar, North 24 Parganas, W.B.- 743 245
21st ADMISSION NOTIFICATION : 2018-19
Applications are invited for admission in B.F.A.- 4 year (8 Semester) Degree Courses in Painting and Sculpture for the session 2018-2019.
Eligibility : Passing of H.S. (10 + 2) or its equivalent examination. Candidates appeared in the same exam in 2018 but result not published may also apply.
Upper age limit (as on 31.7.2018) : 26 Years (29 years for S.C., S.T. and O.B.C.) No age limit for female candidate. Application form & prospectus priced at Rs. 500/- each will be available from college office at 11 a.m. - 6 p.m. on all working days from the 1st June to 19th June, 2018. Form and Prospectus will also be available at www.bfacollege.in from 21st May, 2018.
For Detail log on to www.bfacollege.in
D. Debnath
Principal

AMIK INSTITUTE OF MANAGEMENT SCIENCES & TECHNOLOGY
(Affiliated to Vidyasagar University)
Applications are invited for the following courses for the academic year 2018-19 (Regular)
BSW (Bachelor of Social Work Honours)
3 years (6 semesters) Eligibility- 10 + 2, any stream
MSW (Masters of Social Work)
2 years (4 semesters) Eligibility : Appeared / Passed PG / Honours or Pass Graduate with 45% in any stream
(Last Date of Form Fill up 15th June 2018)
For details contact- 0343-2569890 / 7384885508 or visit- www.amikinstitute.org
3 & 4 Kabiguru Sarani, City Center, Durgapur-16

ITI -তে সরাসরি ভর্তি চলছে
NCVT Govt. of India, SCVT Govt. of W.B Approved
আগস্ট ২০১৮ সেশনে সীমিত সিটে সরাসরি ভর্তি
ফিটার - ২ বছর, ইলেক্ট্রিসিয়ান - ২ বছর, সার্ভেমেন্টার - ১ বছর
কোনোর শেবে **Apprentice** ও চাকুরীর গ্যারান্টি
J.C. Bose Technical Institute Pvt. ITI
Call : 8001383233
9800682256
ক্যাম্পাস : ভাতারা, জেলা- হুগলী
রেলস্টেশন : ভাতারা ও বৈষ্ণবী (হাওড়া-বর্ধমান রও ও লেন)
মার্কেটিংয়ের জন্য লোকের প্রয়োজন
Satyen Bose Technical Institute Pvt. ITI
Call : 9830725607
9830880543
ক্যাম্পাস : ৩৮/৩ মুর্শাবাড়ী পাড়া
রোড, বারাসাত, উত্তর ২৪ পরগনা

GIMS GLOBAL INSTITUTE OF MANAGEMENT STUDIES

JOB ELSE MONEY BACK

Scholarship for Minority / ST / SC / OBC
5% for Boys and 30% for Girls
Valid till 12th June, 2018

- ★ Separate Hostel for Boys & Girls
- ★ Free WIFI & AC Class Room
- ★ Registered with NSP (Govt. of India)

আর্থিক ভাবে দুর্বল Student-দের উচ্চশিক্ষা ও নিজের রোজগারে নিজের ভবিষ্যত গড়ে তোলার সুবর্ণ সুযোগ

- বৈশিষ্ট্য:-**
- ১০০% চাকুরীর গ্যারান্টি-কোর্স সমাপ্ত হবার পর ভারত বা বিদেশে।
 - কোর্স চলাকালীন-পাঁচতারা হোটেলে on job training - এর সুযোগ।
 - শিক্ষা লোনের সুবিধা।

COURSES OFFERED
Hotel Management
(3 yrs, 2 yrs & 1 yrs)

দেশে ও বিদেশে কর্মরত আমাদের কতিপয় ছাত্র



UFC-KUWAIT SILVER SANDS GOA PARADISE ISLAND RESORT MALDIVES JW MARRIOTT KOLKATA TAJ CLUB CHENNAI I.T.C. SONAR KOLKATA LALIT ASHOK BANGALURU

E : info@gimglobal.co.in
W : www.gimglobal.co.in

Call: 1800 274 9009 (Toll Free) | Land: (033) 6555 6100, Mob: +91 98362 43555
Lokenath Park (Atghora), Near Chinar Park, Behind Aminia Restaurant, Kolkata - 700 15

চাকরির পরীক্ষার গাইড

Direction (Q. 1-3) : Find the odd/word/letters/ number from the given alternatives.

- (A) Orange (B) Apple (C) Guava (D) Grapes
- (A) 919, 949 (B) 646, 686 (C) 828, 848 (D) 434, 464
- (A) (23, 14) (B) (36, 27) (C) (29, 82) (D) (18, 45)

Direction (Q. 4-7) : A series is given, with one term/number missing. Choose the correct alternative from the given ones that will complete the series.

- Z1A, X2D, V6G, T21J, R88M, P445P?
(A) N2676S (B) N2676T
(C) N2670N (D) T2676N
- A, CD, GHI, _____, UVWXY
(A) LMNO (B) NOPO
(C) KLMN (D) MNOP

- 48, 24, 72, 36, 108, _____
(A) 180 (B) 144 (C) 72 (D) 54
- 2, 15, 41, 80, ?
(A) 120 (B) 121 (C) 132 (D) 111

Direction (Q. 8) : Choose the wrong alternative from the given ones.

- 1788, 892, 444, 220, 112, 52, 24
(A) 52 (B) 112 (C) 220 (D) 444

Direction (Q. 9-12) : Select the related word/letters/number from the given alternatives.

- MODERATE : INTENSIFY :: NOMINAL : ?
(A) Memorial (B) Expensive
(C) Distance (D) Chaos
- NET : 13227 :: YAM : ?
(A) 22614 (B) 25614
(C) 25113 (D) 14520
- 41537 : 4 :: 421 : ?
(A) 50 (B) 137 (C) 2 (D) 49
- Triangle : Hexagon
(A) Cone : Sphere (B) Rectangle : Octagon (C) Pentagon : Heptagon (D) Angle : Quadrilateral

- At 4 hrs and 40 minutes, what will be the angle between both hands?
(A) 120° (B) 100° (C) 90° (D) 130°
- If it was Saturday on December 17, 1899, what will be the day on December 22, 1901?
(A) Friday (B) Saturday
(C) Sunday (D) Monday

- Six friends A, B, C, D, E and F are sitting in a row facing towards North. C is sitting between A and E. D is not at any end. B is sitting at the immediate right of E. F is not at the right end but D is sitting at 3rd left of E. Which of the following is sitting to the left of D?
(A) F (B) C
(C) E (D) A

- Three positions of a dice are given below. Which is opposite to 3?
(A) 2 (B) 1 (C) 5 (D) 6

- Priyanka and Kalpana start walking in opposite directions. Priyanka covers 3 km and Kalpana covers 4 km. Then, Priyanka turns right and walks 4 km while Kalpana turns left and walks 3 km. How far is each from the starting point?
(A) 10 km (B) 8 km
(C) 5 km (D) 4 km

জেনারেল ইন্টেলিজেন্স

18. How many pairs of letters are there in the word 'PREAMBLE' which have as many letters between them in the words as they have between them in the English alphabet?

- (A) None (B) One
(C) Two (D) Three


19. Arrange the following words as per order in the dictionary

- Aqueous 2. Aquarium 3. Aquiline 4. Aquatic
(A) 4, 3, 2, 1 (B) 1, 2, 3, 4
(C) 2, 4, 1, 3 (D) 3, 1, 4, 2

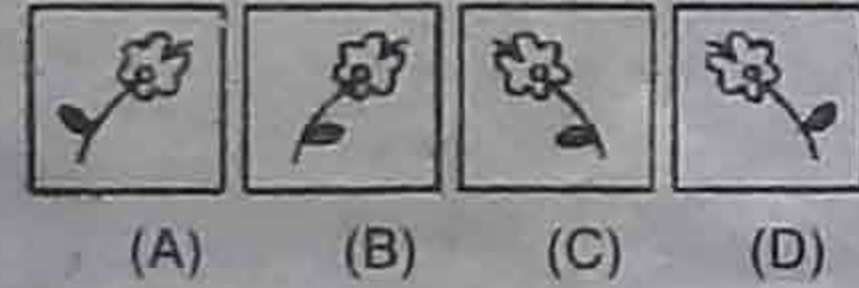
20. From the given alternatives select the word which cannot be formed using the letters of the given word.

- GENERALIZATION
(A) NOTE (B) RATION
(C) LIZARD (D) GOAT

21. Which of the given answer figures will be the correct mirror reflection.



Answer Figure

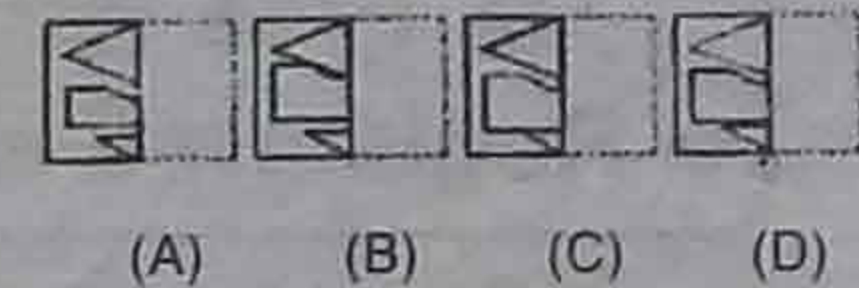


22. In the following questions given format is made on a transparent page and folded along the dotted line, then how will it be visible?

Question Figure



Answer Figure




23. A piece of paper is folded and cut as shown below in the question figures. From the given answer figures, indicate how it will appear when opened?

Question Figure



Answer Figure

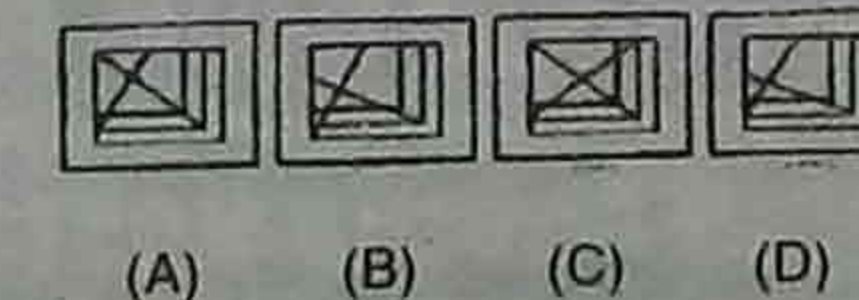


24. Identify the answer figure that completes in the question Figure

Question Figure

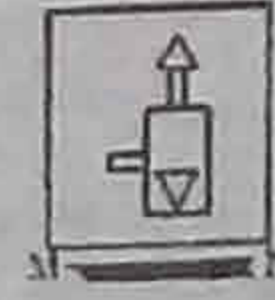


Answer Figure

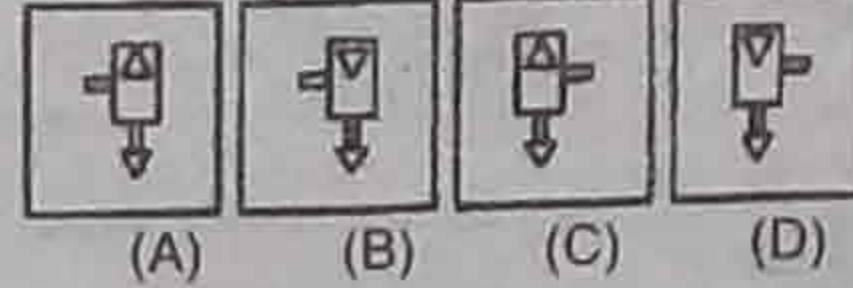


25. From the given figures which figures is the correct water image of the equation figure.

Question Figure



Answer Figure



সেকেন্ডে উত্তরের কৌশল

1(D). এখানে শুধুমাত্র আঙুর এর ক্ষেত্রেই গুচ্ছ বা, Bunch বোঝানো হয়। বাকি ক্ষেত্রে Bushel বা, পরিমাণ বোঝানো হয়।

2(A). Option A ছাড়া বাকিগুলোর মাঝের সংখ্যাটা প্রতি ক্ষেত্রে দ্বিগুণ হয়।

3(C). Option C ছাড়া বাকিগুলো প্রতিটির ডান দিকের সংখ্যার যোগফল ও বাম দিকের সংখ্যার যোগফল সমান।

4(B).
Z1A X2D V6G T21J R88M P445P N2676S
x1+1 x2+2 x3+3 x4+4 x5+5 x6+6

5(D). 6(D). 7(C). 8(B).
1788 892 444 220 112 52 24
+2-2 +2-2 +2-2 +2-2 +2-2 +2-2

9(B). Moderate-এর বিপরীত শব্দ Intensity. একই ভাবে Nominal-এর বিপরীত শব্দ Expensive হবে।

10(A). 11(D).
41537 ⇒ 4+1+5+3+7 = 20
20 = 2+0 = 2

(2)² = 4.
একইভাবে, 421 = 4+2+1 = 7
= (7)² = 49.

12(B). এখানে বাহু সংখ্যা পরস্পর দ্বিগুণ।

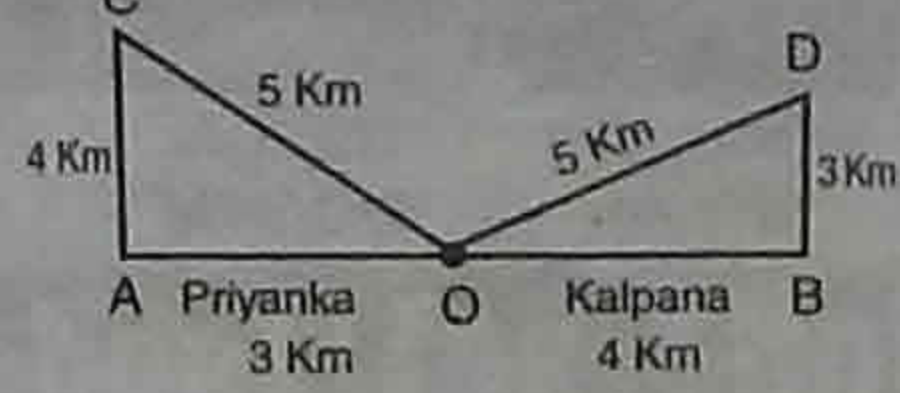
13(B). মিনিট = $\frac{2}{11}$ (ঘন্টা × 30 ± কোণ)
40 = $\frac{2}{11}$ (4 × 30 ± কোণ)
⇒ কোণ = 100°.

14(B). প্রতি সাধারণ বছরে দিন সংখ্যা 1 দিন করে বেড়ে যায় অর্থাৎ, যদি 17th Dec. 1899, Saturday হয়, তবে দু-বছর পরে 1901 সালের 17, Dec. সোমবার হবে ও 17, Dec. সোমবার হলেই 22 Dec. শনিবার হবে।

15(A). F D A C E B

16(A). 2
3 → 4

17(c).



4² + 3² = 5² দূরত্ব 5 km.

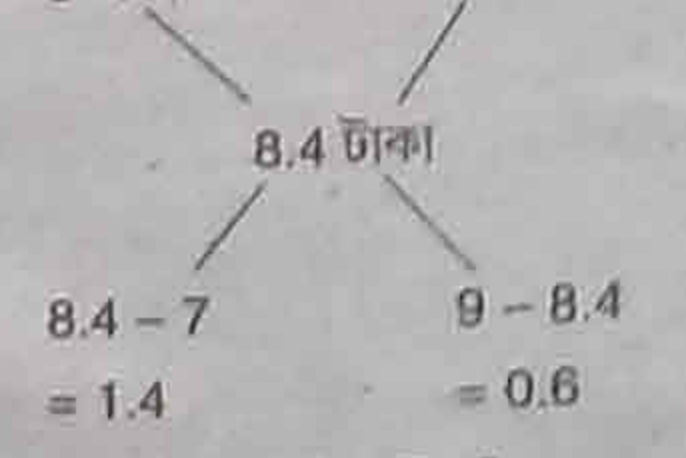
18(C). 19(C). 20(C). 21(D).
22(C). 23(D). 24(B). 25(A).

অ্যারিথমেটিক

৬ পাতার পর

$$= \left(\frac{32-20}{32}\right) \times 100 = \frac{12}{32} \times 100 = 37.5\%, 20(B), 1$$

কিলোগ্রাম মিশ্রণের ক্রয়মূল্য = $\left(\frac{9.24 \times 100}{110}\right) = 8.4$ টাকা।



অনুপাত = 1.4 : 0.6 = 7 : 3
প্রতি কিলোগ্রাম 9 টাকা হিসাবে চিনি লাগবে = $\left(\frac{7}{3} \times 27\right)$ কিলোগ্রাম = 63 কিলোগ্রাম।

21(B). প্রশ্নানুসারে,
x এর 5% = $\frac{y \times 125}{100} \Rightarrow \frac{x \times 5}{100} = \frac{y \times 125}{100} \Rightarrow x = \frac{y \times 125}{5}$
= 25y

তাহলে, x - y = 96 ⇒ 25y - y = 96
⇒ 24y = 96 ⇒ y = $\frac{96}{24} = 4$

তাহলে, x - y = 96 ⇒ x - 4 = 96
⇒ x = 96 + 4 = 100

22(D). মনে করি, A এর বয়স 3 বছর আগে ছিল 4x বছর। B'র বয়স 5 বছর আগে ছিল 5x বছর। তাহলে, A'র এখনকার বয়স (4x + 3) বছর। B'র এখনকার বয়স (5x + 5) বছর। প্রশ্নানুসারে,
5x + 5 - 4x - 3 = 4 ⇒ x + 2 = 4

⇒ x = 4 - 2 = 2. তাহলে, B'র এখনকার বয়স 5 × 2 + 5 = 15 বছর। 23(B). A ও B পাইপ 1 ঘন্টায় ভরতি করে

$\frac{1}{16} + \frac{1}{12} = \frac{3+4}{48} = \frac{7}{48}$

2 ঘন্টায় জলাধারটি ভরতি হয় = $\frac{14}{48} = \frac{7}{24}$ বাকি অংশ = $1 - \frac{7}{24} = \frac{17}{24}$

$\frac{17}{24} = \frac{17}{24}$ বাকি অংশে জল ধরবে = $\frac{17}{24} \times 240 = 170$ লিটার। 24(C). স্রোতের অভিমুখে লোকটির বেগ = প্রতি ঘন্টায়

$\left(\frac{32}{240}\right)$ কিলোমিটার = $\left(\frac{32}{4}\right)$ = প্রতি ঘন্টায় 8 কিলোমিটার।

স্রোতের বিপরীতে বেগ = প্রতি ঘন্টায় $\left(\frac{48}{1440}\right)$ কিলোমিটার = $\left(\frac{48}{24}\right)$

= প্রতি ঘন্টায় 2 কিলোমিটার। তাহলে, স্রোতের বেগ = $\frac{1}{2}$ (স্রোতের

অভিমুখে বেগ - স্রোতের বিপরীতে বেগ) = $\frac{1}{2}$ (8 - 2) = ঘন্টায় 3 কিলোমিটার। 25(D). মনে করি, মূলধন হল x.

সরল সুদ = $\frac{\text{Principal} \times \text{Time} \times \text{Rate}}{100}$

প্রশ্নানুসারে, $\frac{x \times 5 \times 15}{100} - \frac{x \times 5 \times 12}{100} = 1,500 \Rightarrow 75x - 60x = 1500 \times 100$

⇒ 15x = 1,50,000 ⇒ x = $\frac{150000}{15} = 10,000$ টাকা।

26(D). মনে করি, আসল ভগ্নাংশটি হল $\frac{x}{y}$.

প্রশ্নানুসারে,
 $\frac{x \times 75}{100} = \frac{6}{5}$
 $\frac{y \times 350}{100} = \frac{6}{5}$

$\frac{x \times 75}{y \times 350} = \frac{6}{5} \Rightarrow \frac{x}{y} = \frac{6}{5} \times \frac{350}{75} = \frac{28}{5}$

$\frac{200}{800} \times 100 = 25\%$. 27(C). শতকরা লাভে তুল

$\frac{\text{তুল}}{1000 - \text{তুল}} \times 100$

$\frac{200}{800} \times 100 = 25\%$

সাধারণ জ্ঞান

সাম্প্রতিক ঘটনা

১। সাহসিকতার জন্য কে ২০১৭ সালের 'মুখ্যমন্ত্রী সাহসিকতা পুরস্কার' (মরণোত্তর) পেতে চলেছেন — বিমল ক্রুশনায়ের যৌজে তন্নাসি অভিযানে গিয়ে নিহত পুলিশ অফিসার অমিতাভ মলিক।

২। 'ভিরেইটরেট অফ রেভিনিউ ইন্টেলিজেন্স'এর (DRI) সদর দফতর ভারতের কোন শহরে আছে — নয়াদিল্লি।

৩। 'বিশ্ব খ্যালাসেমিয়া দিবস' কবে পালিত হয় — ৮ মে।

৪। 'আন্তর্জাতিক অগ্নিনির্বাপক দিবস' কবে পালিত হয় — ৪ মে।

৫। 'বিশ্ব জীবা দিবস' কবে পালিত হয় — ৭ মে।

৬। সামাজিক ক্ষেত্রে উদ্যোগের জন্য কে ২০১৮ সালে 'শিগল ফর দ্য এথিক্যাল ট্রিটমেন্ট অফ অ্যানিম্যালস' (PETA) সংস্থার 'ডিজিটাল অ্যাক্টিভিজম পুরস্কার' পেতে চলেছেন — বলিউড অভিনেত্রী জ্যাকলিন ফার্নান্ডেজ।

৭। জয়পুর ও লখনৌ ঘরানার প্রখ্যাত নৃত্যশিল্পী রাসী কর্মা (৭৯ বছর) কবে মারা যান — ২০১৮ সালের ৭ মে।

৮। 'সেন্ট্রাল আয়ুর্বেদিক রিসার্চ ইনস্টিটিউট ফর ড্রাগ ডেভেলপমেন্ট'এর অধিকর্তা এখন কে — ড. এম.এম. রাও।

৯। বলিউডের বর্ষীয়ান পরিচালক অর্জুন হিস্পেরানি (৯২ বছর) কবে মারা

যান — ২০১৮ সালের ৫ মে।

১০। বালো চলচ্চিত্রের স্বর্ণযুগের অভিনেত্রী ললিতা চট্টোপাধ্যায় (৮১ বছর) কবে মারা যান — ২০১৮ সালের ৯ মে।

১১। কোন সংস্থা সম্প্রতি ১৬,০০০ কোটিরও বেশি টাকা বিনিয়োগ করে ভারতের সবথেকে বড় ই-কমার্স সংস্থা 'ফ্লিপকার্ট'এর ৭৭% মালিকানা কিনে নিল — মার্কিন রিটেল সংস্থা

'ওয়ালমার্ট'।

১২। ২০১৮ সালে 'ফোর্বস পত্রিকা'র বিচারে 'বিশ্বের অন্যতম শ্রদ্ধাশালী ব্যক্তি'দের মধ্যে ভারতের প্রধানমন্ত্রী নরেন্দ্র মোদোরদাস মোদীর স্থান কত — ৯ (শীর্ষে রয়েছেন চিনের প্রেসিডেন্ট শি জিনপিং)।

১৩। প্রয়াত চলচ্চিত্র পরিচালক অধিক ঘটকের স্ত্রী সুরমা ঘটক (৯২ বছর) কবে মারা যান — ২০১৮ সালের ৮ মে।

১৪। হুমেরিজার কেশ ক্যান্সারের লক্ষণ প্যাড থেকে এই প্রথম মহাকাশে উপস্থিত পাঠালো বাংলাদেশ। এটির নাম কী — বঙ্গবন্ধু-১।

১৫। 'সেন্ট্রাল ব্যাঙ্ক অফ ইন্ডিয়া'র কলকাতা জোনাল অফিসের শীর্ষপদে কে এলেন — ডি.কে. সিং।

১৬। ২০১৮ সালে কে 'স্বরমৌলি' সম্মান পেলেন — কিংবদন্তি গায়িকা

লতা মঙ্গেশকর।

১৭। ২০১৮ সালে ১৫তম 'এশিয়া মিডিয়া সম্মেলন'এর থিম কী ছিল — টেলিং আওয়ার স্টোরিস-এশিয়া অ্যান্ড মোর।

১৮। ২০১৮ সালে ভারতের কোন শহর 'মার্কিন-ভারত অ্যাভিয়েশন সম্মেলন' আয়োজন করেছে — মুম্বই।

১৯। ২০১৮ সালে কোন দেশ 'বিশ্ব রোবট সম্মেলন' (WRC) আয়োজন করেছে — চীন।

২০। মালয়েশিয়ার প্রধানমন্ত্রী এখন কে — মহাথির বিন মহম্মদ।

২১। মধ্য প্রদেশের প্রাক্তন মন্ত্রী ও সিনিয়র কংগ্রেস লিডার ড. নির্মল হিরায়ওয়ত (৭৯ বছর) কবে মারা যান — ২০১৮ সালের ৯ মে।

২২। 'মিথাপুর সোলার পাওয়ার প্রকল্প' ভারতের কোন রাজ্যে আছে — গুজরাত।

২৩। আমেরিয়ার প্রধানমন্ত্রী এখন কে — নিকোল ডোভাই পাসিনইয়ান।

২৪। কোস্টারিকার প্রেসিডেন্ট এখন কে — কার্লোস আলভারাদো কুয়েসাদা।

২৫। 'বালককর্ম জাতীয় উদ্যম'ভঙ্গরে কোন রাজ্যে আছে — মেঘালয়।

২৬। 'জাতীয় প্রযুক্তি দিবস' কবে পালিত হয় — ১১ মে।

২৭। ২০১৮ সালে 'জাতীয় প্রযুক্তি দিবস'এর থিম কী ছিল — সয়েশ অ্যান্ড টেকনোলজি ফর এ সাসটেইনেবল ফিউচার।

২৮। ভারতের কোন রাজ্য সরকার সম্প্রতি মেয়েদের জন্য ৩১টি সরকারি কলেজ গড়ার সিদ্ধান্ত নিল — হরিয়ানা সরকার।

২৯। 'ফুড সেকটি অ্যান্ড স্ট্যান্ডার্ডস অথরিটি অফ ইন্ডিয়া'এর (FSSAI) চিফ এক্সিকিউটিভ অফিসার এখন কে — পবন কুমার আগরওয়াল।

৩০। সিকিম সরকার সম্প্রতি কোন গায়ককে তাদের রাজ্যের 'সবুজ দুত' হিসাবে নিয়োগ করল — গায়ক মোহিত

চৌধান।

৩১। 'কাকোলাটি জলপ্রপাত' ভারতের কোন রাজ্যে আছে — বিহার।

৩২। ২০১৮ সালে 'আন্তর্জাতিক নার্স দিবস'এর থিম কী ছিল — নার্সেস এ জয়েস টু লিভ-হেলথ ইজ এ হিউম্যান রাইট।

৩৩। ব্রিটিশ চলচ্চিত্র সম্পাদক আগে ভোয়াসে কোয়াভেস (৯২ বছর) কবে মারা যান — ২০১৮ সালের ৮ মে।

৩৪। 'Across the Bench - Insight into the Indian Military Judicial System' বইটির লেখক কে — লেফটেন্যান্ট জেনারেল জিয়ান ভূষণ।

৩৫। 'মাজেল পাওয়ার স্টেশন' ভারতের কোন রাজ্যে আছে — মহারাষ্ট্র।

৩৬। ক্যান্সারের যন্ত্রণা থেকে মুক্তি পেতে নিজের সার্ভিস রিভলভার মুখে ঢুকিয়ে গুলি করে মহারাষ্ট্র পুলিশের সঙ্গ্রাম দমন শাখার প্রাক্তন প্রধান হিমাংশু রায় (৫৪ বছর) কবে আত্মহত্যা হলেন — ২০১৮ সালের ১১ মে।

৩৭। ব্রিটেনের লেবার নেত্রী ও প্রাক্তন মন্ত্রী টেসা জোনে হলেন ডগলাস জোয়েল (৭০ বছর) কবে মারা যান — ২০১৮ সালের ১২ মে।

খেলাধলা

৩৮। ভারতীয় ক্রিকেটের রাজস্বের পাল (৮০ বছর) কবে মারা যান — ২০১৮ সালের ৯ মে।

৩৯। ২০১৮ সালে 'মাদ্রিদ ওপন'এ মহিলাদের সিঙ্গেলসে কে চ্যাম্পিয়ন হলেন — ডেজ রিপার্লিকের পেত্রা কিতোভা (নেদারল্যান্ডসের কিফি বাটেনকে ৭-৬ (৮-৬), ৪-৬ ও ৬-৩ ব্যবধানে হারিয়ে)।

৪০। কোন ভারতীয় শটার সম্প্রতি 'টাগেট অলিম্পিক পোডিয়াম ডিম' (TOPS) থেকে বাদ পড়লেন — গণন নারাং।

৪১। ২০১৮ সালে 'ফরাসি কাপ'এ কোন দল চ্যাম্পিয়ন হল — প্যারিস সেইন্ট জার্মেইন (লেস হারবিয়েরসকে ২-০ ব্যবধানে হারিয়ে)।

৪২। কাকে সম্প্রতি নিজেদের বোলিং কোচ হিসাবে বেছে নিল ওয়েস্ট ইন্ডিজ — কিংবদন্তি পাক-ই-স্তানি লেগ স্পিনার মুস্তাক আহমেদ।

৪৩। ২০১৮ সালে 'অনুর্ধ্ব-১৩ যুব আই লিগ'এ কোন দল চ্যাম্পিয়ন হল — মিনার্ভা পঞ্জাব এফসি (মেহামেডান স্পোর্টসকে ৩-০ ব্যবধানে হারিয়ে)।

৪৪। ইতালির জাতীয় ফুটবল দলের কোচ কে হতে চলেছেন — রবার্তো মানচিনি।

৪৫। ২০১৮ সালে 'কোপা ইতালিয়া'য় কোন দল চ্যাম্পিয়ন হল — জুভেন্টাস (এসি মিলানকে ৪-০ ব্যবধানে হারিয়ে)।

৪৬। ২০১৮ সালে সার্বিয়ায় অনুষ্ঠিত

চর দেশীয় অনুর্ধ্ব-১৬ ফুটবল'এ কোন দল চ্যাম্পিয়ন হল — ভারত (জাজাক-ই-স্তানকে ৪-২ ব্যবধানে হারিয়ে)।

৪৭। ২০১৮ সালে 'তুরস্কয় অনুষ্ঠিত 'আন্তর্জাতিক প্যারা ব্যাডমিন্টন'এ পুরুষদের সিঙ্গেলসে কে সোনার পদক পেলেন — বাজালি প্যারা ব্যাডমিন্টন ভারত মনোজ সরকার (জাপানের দাসুকি ফুজিহারাকে ২১-১৭, ১৭-২১ ও ২১-১৭ ব্যবধানে হারিয়ে)।

৪৮। ২০১৮ সালে 'মাদ্রিদ ওপন'এ পুরুষদের সিঙ্গেলসে কে চ্যাম্পিয়ন হলেন — জার্মানির আলেক্সান্ডার জেভেরেভ (অস্ট্রিয়ার ডমিনিক থিয়েমকে ৬-৪ ও ৬-৪ ব্যবধানে হারিয়ে)।

৪৯। ২০১৮ সালে 'ইংলিশ প্রিমিয়র লিগ'এ 'সেরা গোলদাতার পুরস্কার' হিসাবে কে সোনার বুট পেলেন — লিভারপুলের তারকা ফরওয়ার্ড মহম্মদ সালাহ।

৫০। পাক-ই-স্তান হকি দলের প্রাক্তন অধিনায়ক মনসুর আহমেদ (৪৯ বছর) কবে মারা যান — ২০১৮ সালের ১২ মে।

৫১। ২০১৮ সালে 'ইতালিয়ান লিগ'এ কোন দল চ্যাম্পিয়ন হল — জুভেন্টাস (রোমার বিরুদ্ধে গোলশূন্য ড্র করে)।

৫২। ২০১৮ সালে হ্যানোভারে অনুষ্ঠিত 'আন্তর্জাতিক শ্যাটিং চ্যাম্পিয়নশিপ'এ ১০ মিটার এয়ার পিস্তল বিভাগে কে সোনার পদক পেলেন — ভারতের হিনা সিধু।

৫৩। কে 'রাশিয়া বিশ্বকাপ'এ দক্ষিণ কোরিয়া দলের অধিনায়কের দায়িত্ব নিলেন — টমেনহ্যাম তারকা সন হিউগ মিন।

সাধারণ বিজ্ঞান

৫৪। মানব শরীরের কোন পাচকরসে উৎসেচক থাকে না — পিত্তরস।

৫৫। রক্তস্থিত ফ্যাটের নাম কী — ট্রাইগ্লিসারাইড।

৫৬। মানুষের রক্তের স্বাসরঞ্জকে উপস্থিত খনিজ পদার্থটি কী — লোহা।

৫৭। ভেনাস কক্ষপথের কার দেহে থাকে — মাছের দেহে।

৫৮। কোন গ্যাস প্রস্তুতিতে মার্বেল ব্যবহার করা হয় — কার্বন ডাই অক্সাইড।

৫৯। 'সাবমেরিন' কে আবিষ্কার করেন — ডেভিস বাসনেল।

৬০। 'মায়োপিয়া' রোগে কোন লেগ

ব্যবহার করা হয় — অবতল লেন্স।

৬১। আনারসে কোন উৎসেচক থাকে — ব্রামেলিন।

৬২। গমের দেহের ভারসাম্য রক্ষা করে কোনটি — লঘুমস্তিষ্ক।

৬৩। অগ্ন্যাশয় কী প্রকার গ্রন্থি — মিশ্র গ্রন্থি।

৬৪। পারকিঙ্গন রোগে মানব দেহের কোন অংশ আক্রান্ত হয় — স্নায়ুতন্ত্র।

৬৫। 'ভেগাস স্নায়ু' কী প্রকারের স্নায়ু — মিশ্র স্নায়ু।

৬৬। কোন কোন প্রাণীতে পুঞ্জাক্ষি দেখা যায় — আরশোলা ও চিত্রভিত্তে।

৬৭। কোন পদ্ধতিতে ইউরিয়া উৎপন্ন হয় — প্রোটিন বিপাক।

৬৮। কোন প্রাণীতে চক্ষুবিপু দেখা যায় — ইউগ্রিনা।

৬৯। 'গ্লোমেরুলোস' কোন অঙ্গে পাওয়া যায় — বৃক্ক।

৭০। 'বেলচা' কোন শ্রেণির লিভারের অন্তর্গত — প্রথম শ্রেণি।

৭১। কোন যন্ত্রের সাহায্যে বিদ্যুৎ আধানের উপস্থিতি জানা যায় — ইলেক্ট্রোস্কোপ।

ইতিহাস

৭২। 'ভারতের নেপোলিয়ান' কাকে বলা হয় — সম্রাট সমুদ্রগুপ্ত।

৭৩। গুপ্তযুগের সর্বশ্রেষ্ঠ চিকিৎসক কে ছিলেন — ধর্মস্ত্রী।

৭৪। রামানন্দের প্রধান শিষ্য কে ছিলেন — কবীর।

৭৫। তালিকোটর যুদ্ধ কবে হয়েছিল — ১৫৬৫ খ্রিস্টাব্দে।

৭৬। কোন পাল রাজা 'বিক্রমশীল' উপাধি নিয়েছিলেন — রাজা ধর্মপাল।

৭৭। বিজয়নগর সাম্রাজ্যের প্রতিষ্ঠাতা কে ছিলেন — হরিহর ও বৃক্ক।

৭৮। মগধের কোন শাসক বুদ্ধের সমসাময়িক ছিলেন — বিম্বিসার।

৭৯। কোন জাতির রাজারা 'ক্ষত্রপ' নামে পরিচিত ছিলেন — শক।

৮০। গুরু গোবিন্দ সিং কত সালে 'বালসা' প্রতিষ্ঠা করেন — ১৬৬৯ খ্রিস্টাব্দ।

৮১। কণিষ্কের বিখ্যাত মস্তকহীন মূর্তি কোন শিল্পরীতির উদাহরণ — মথুরা।

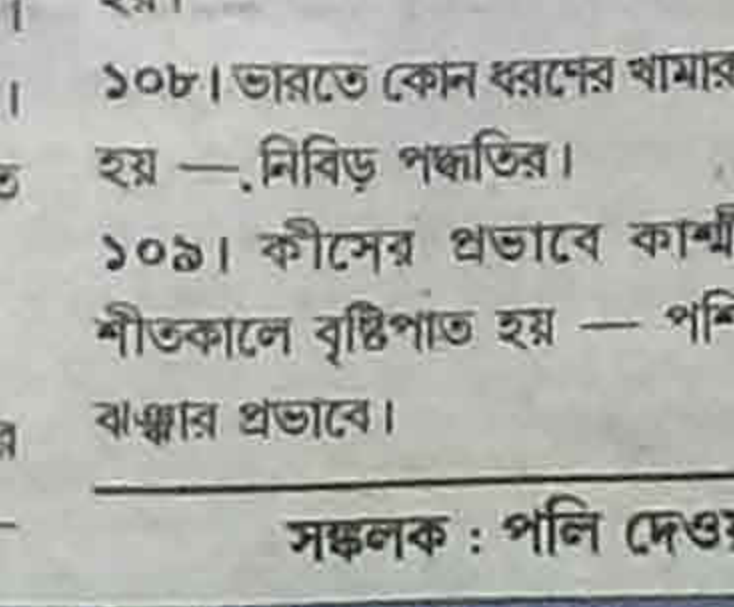
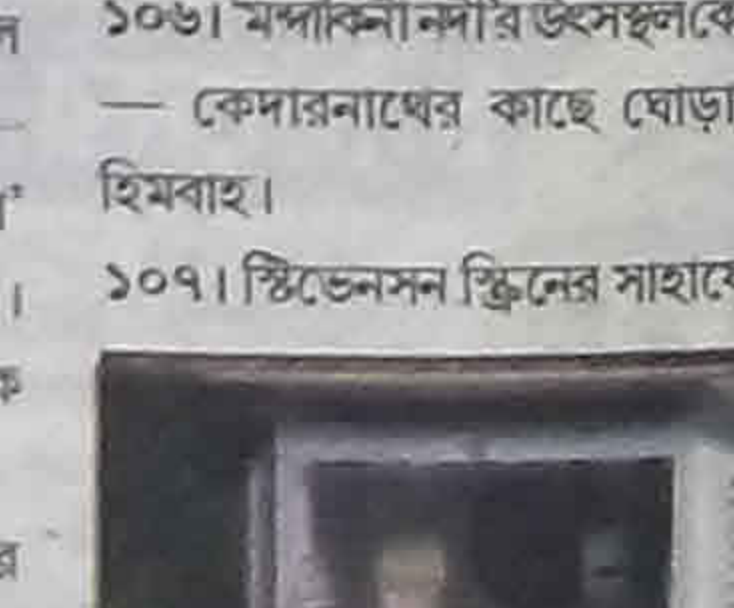
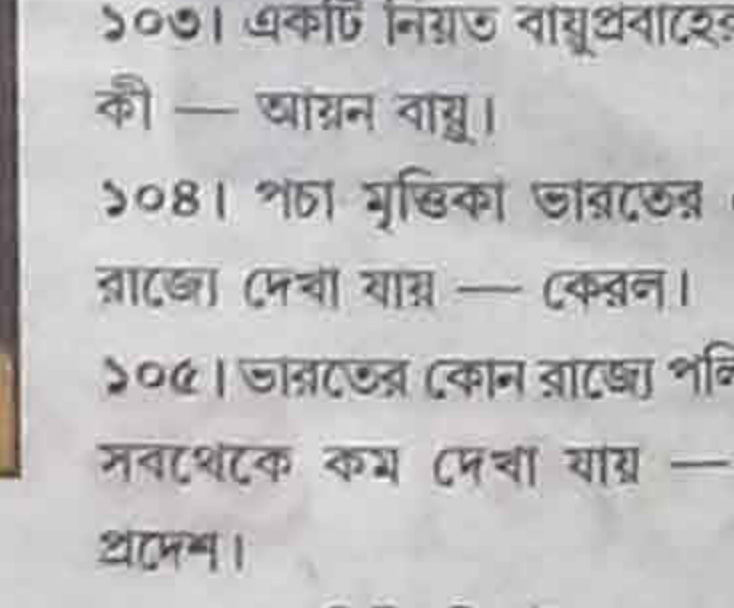
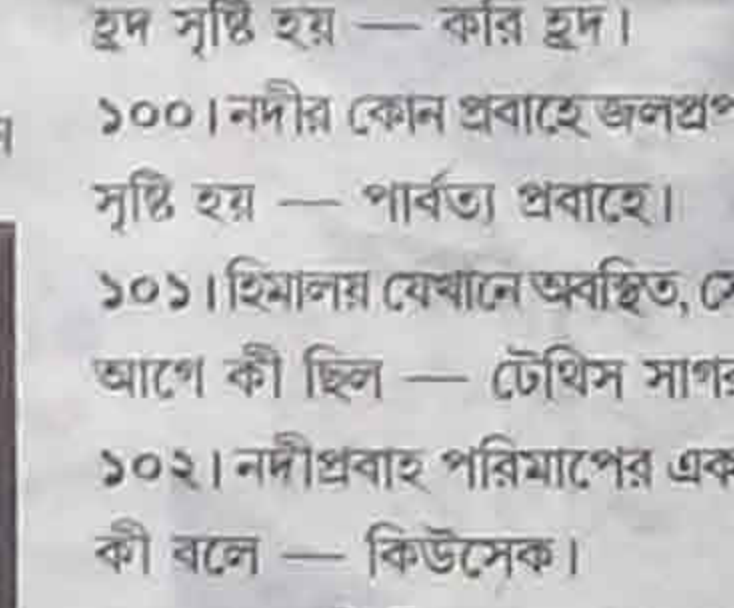
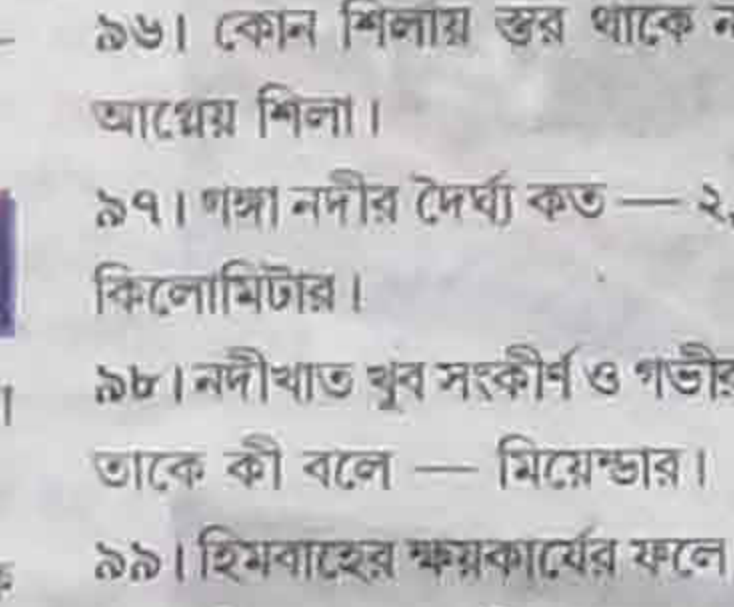
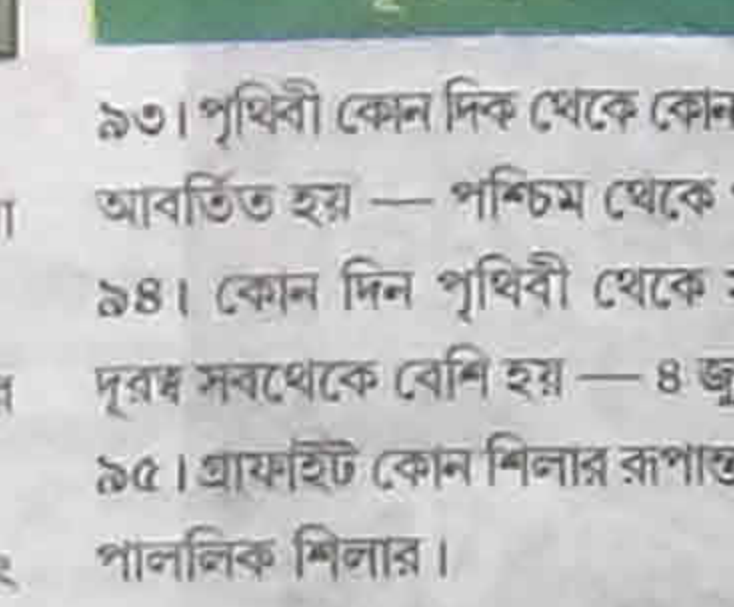
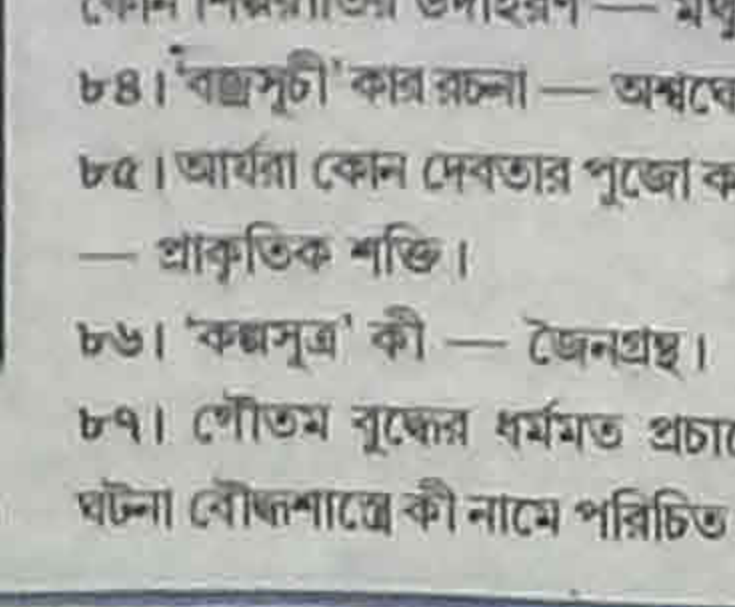
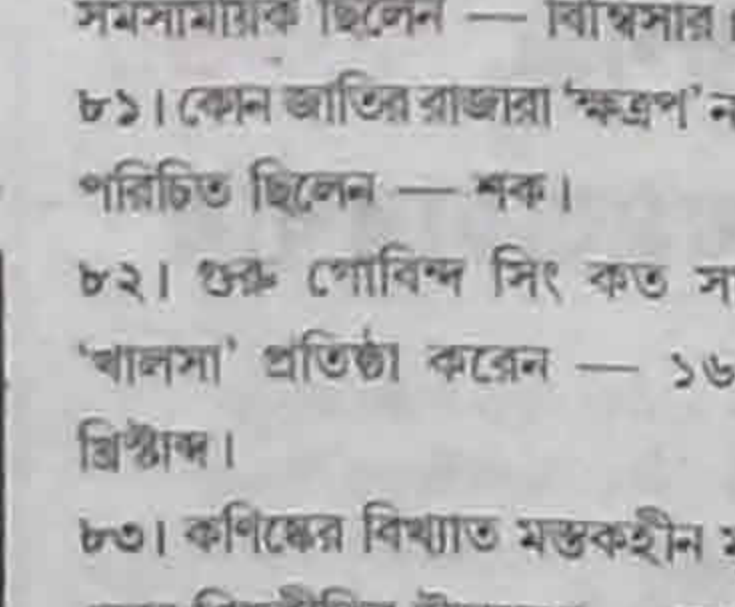
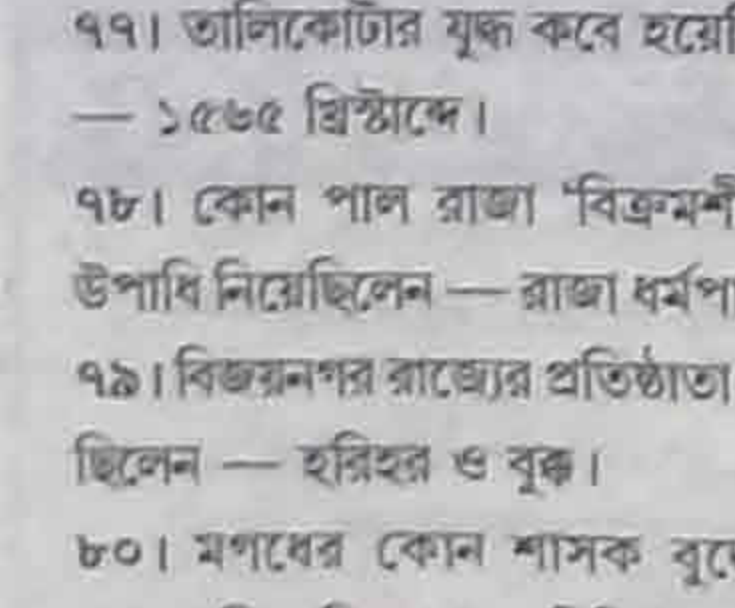

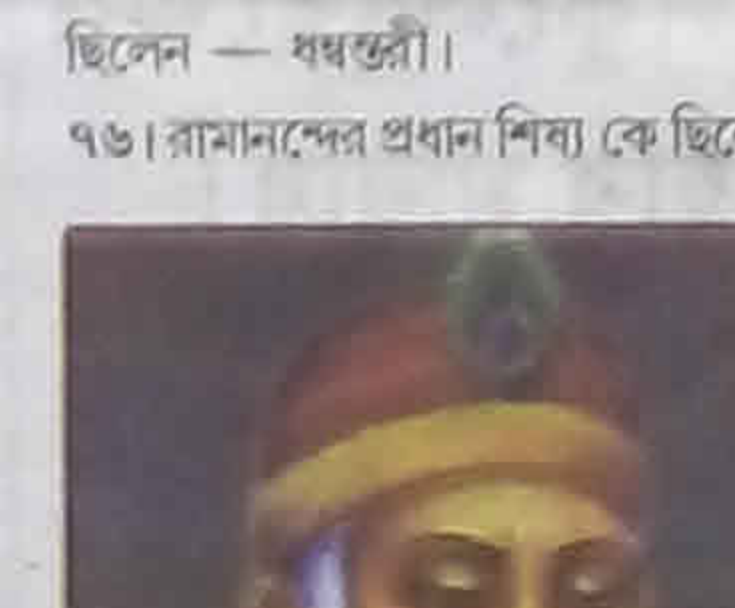
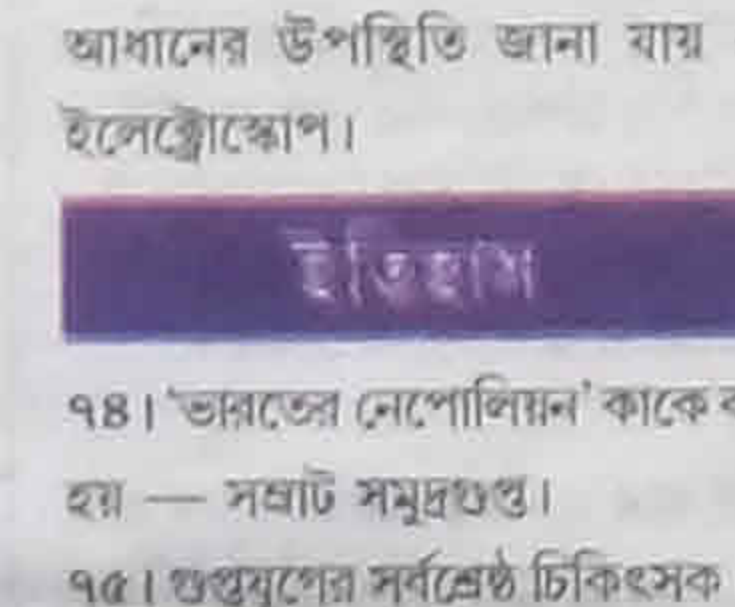
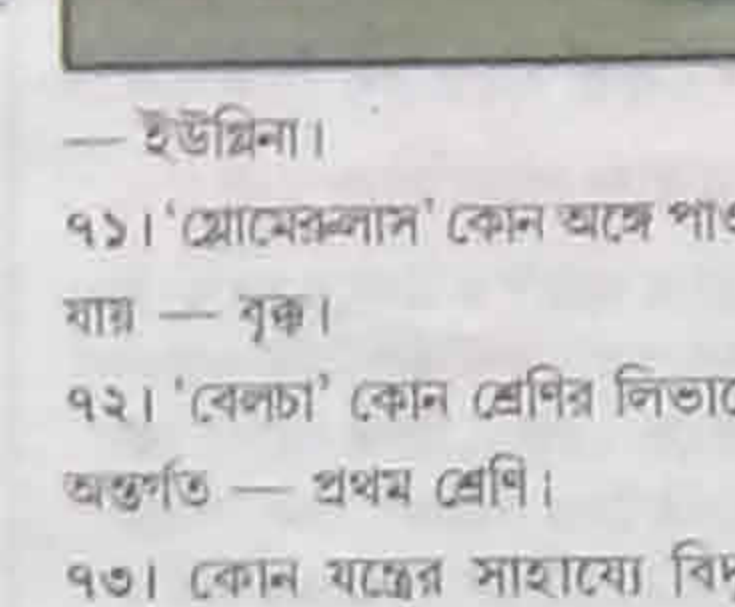
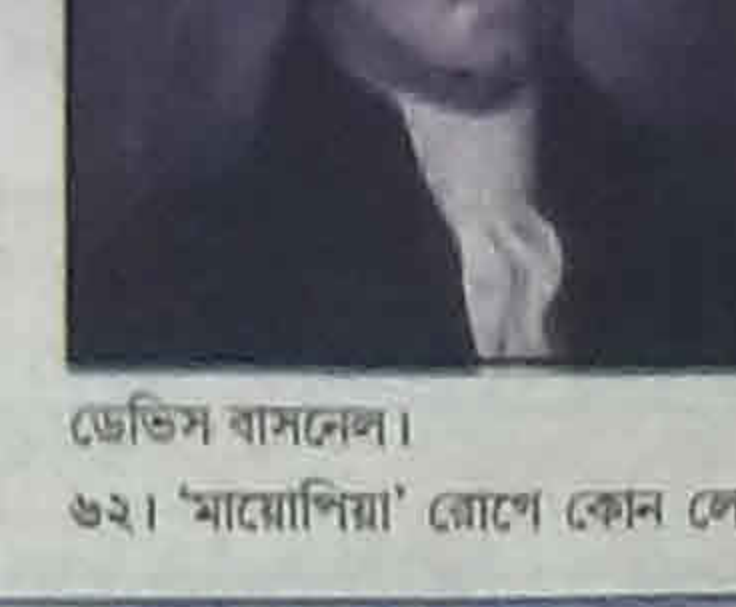
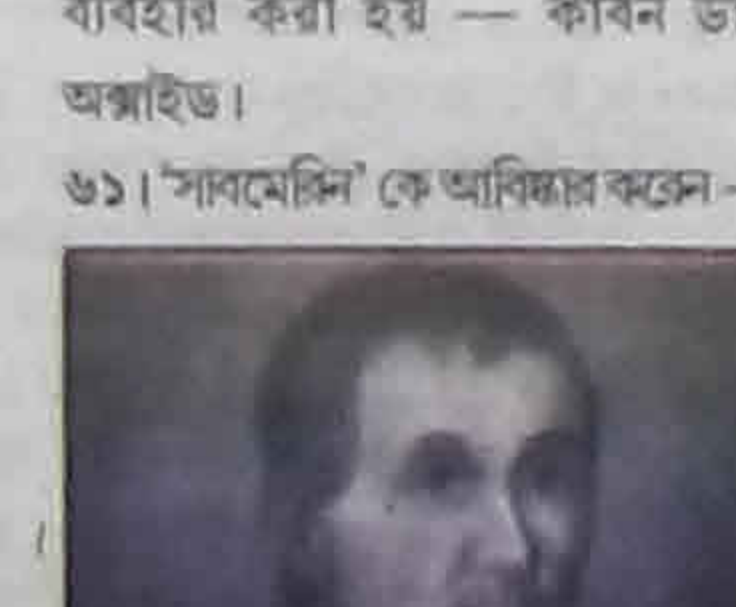
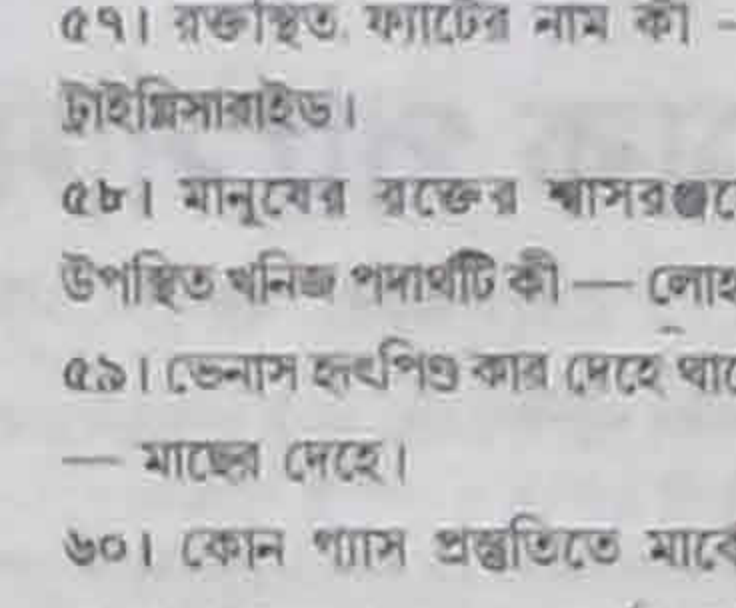
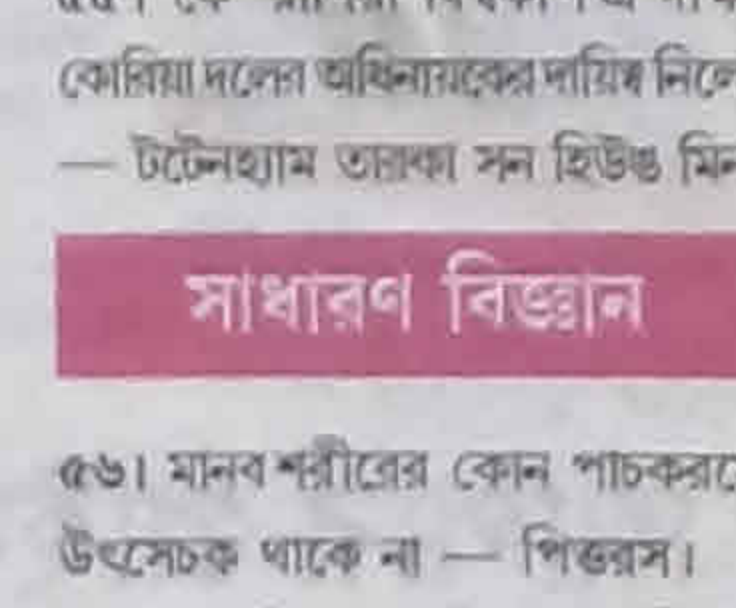
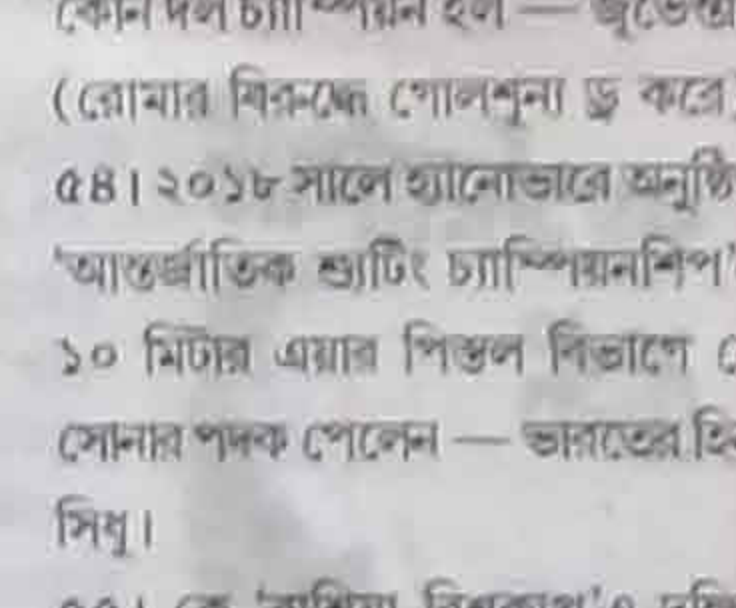
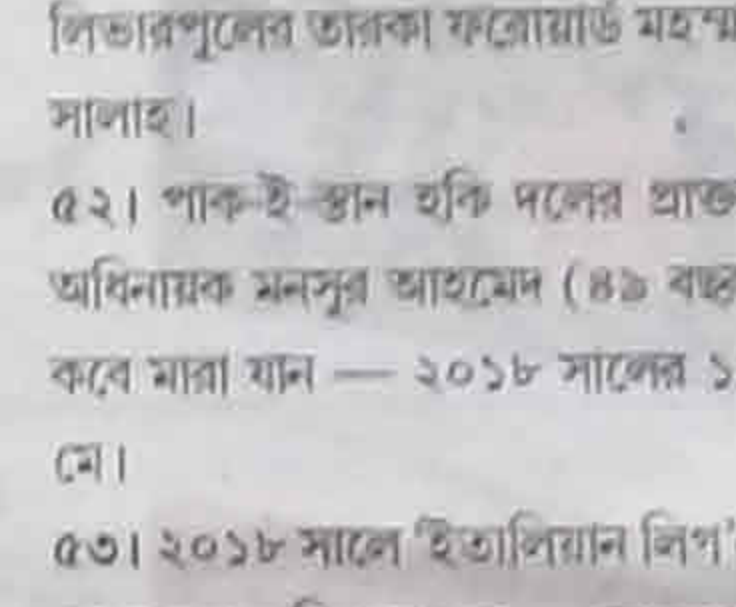
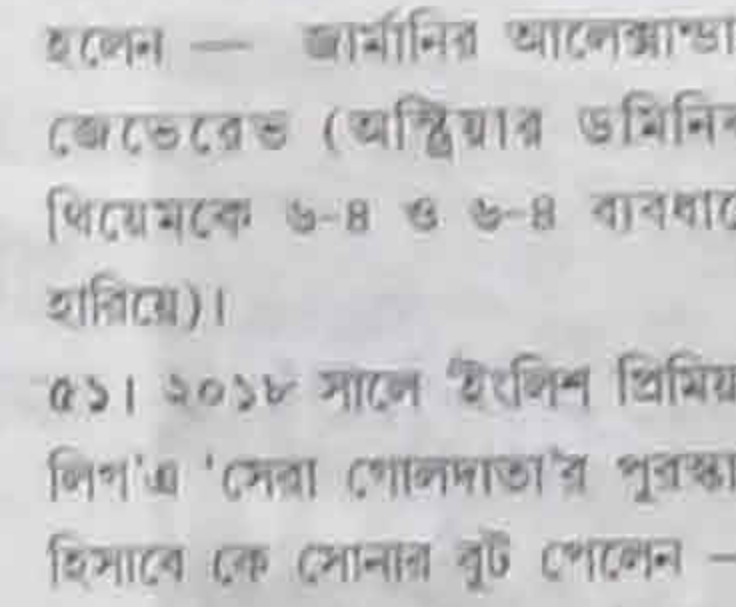
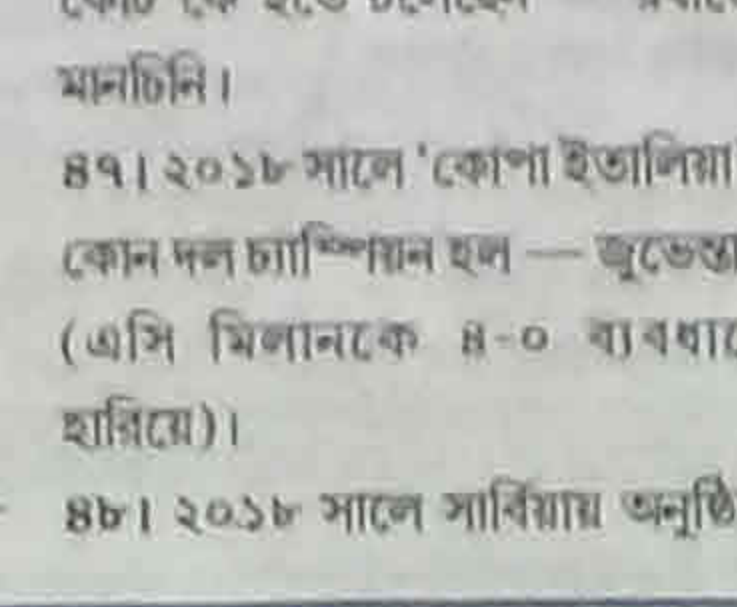
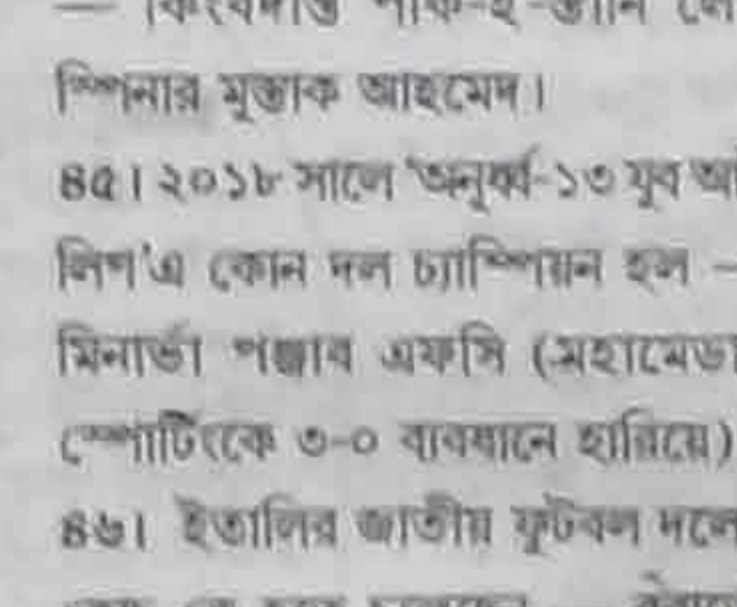
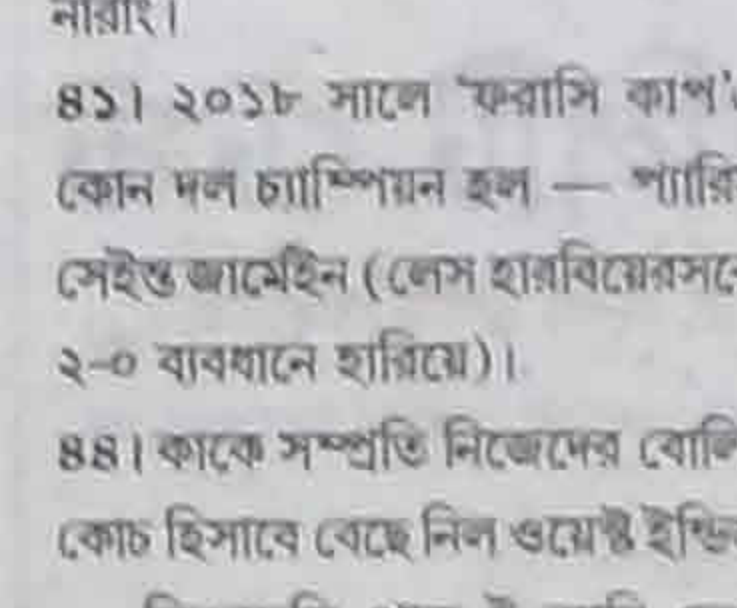
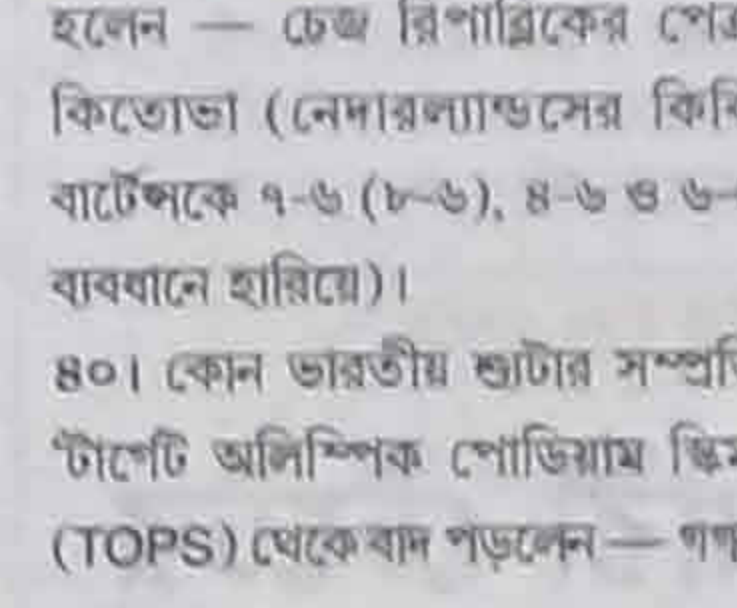
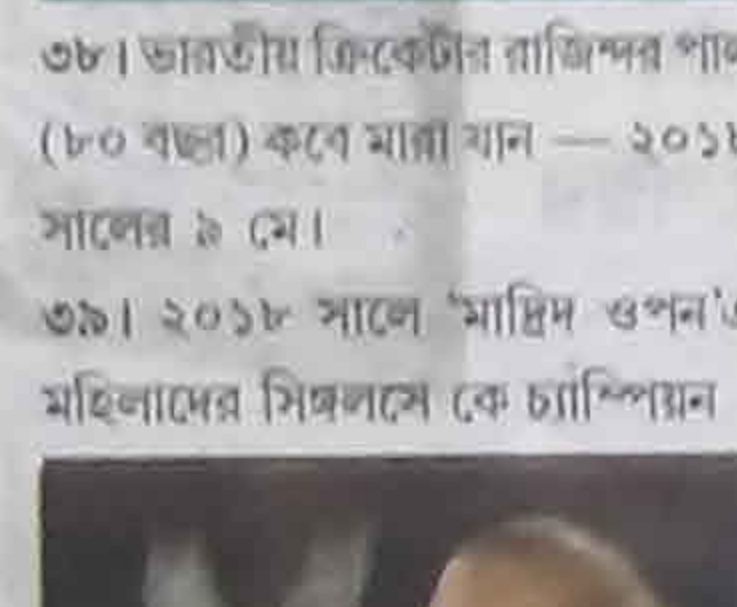
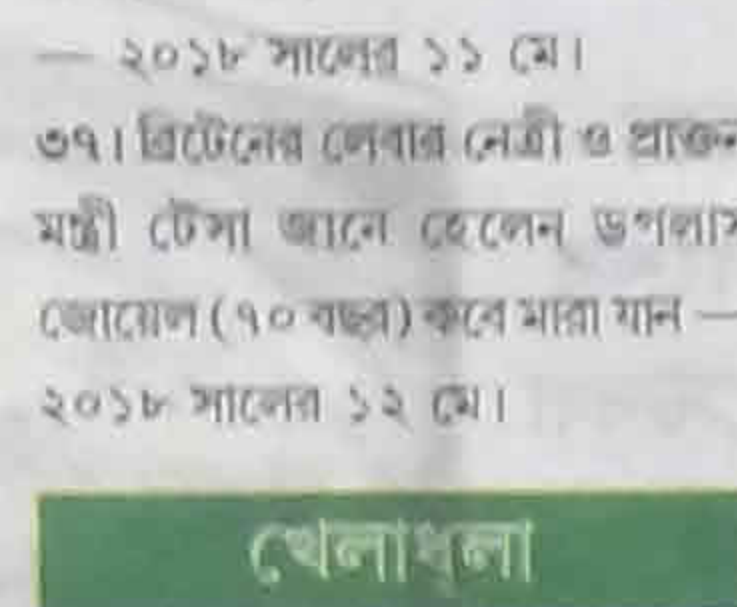
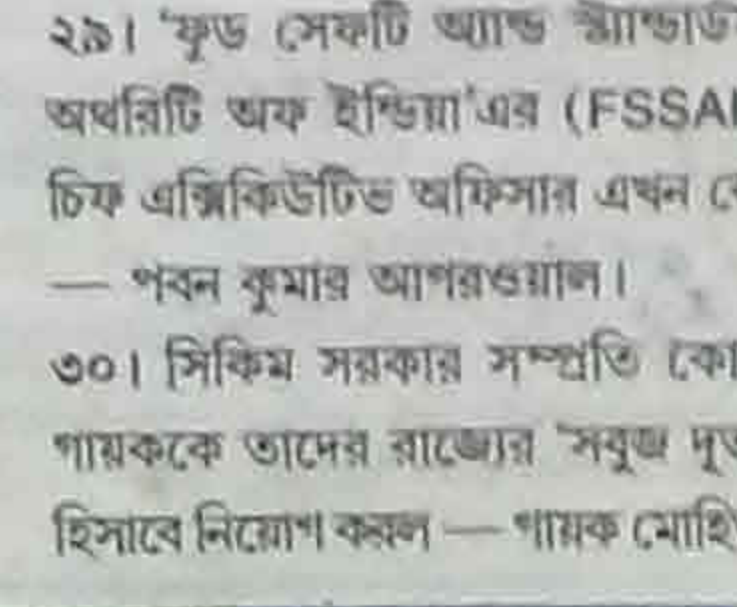
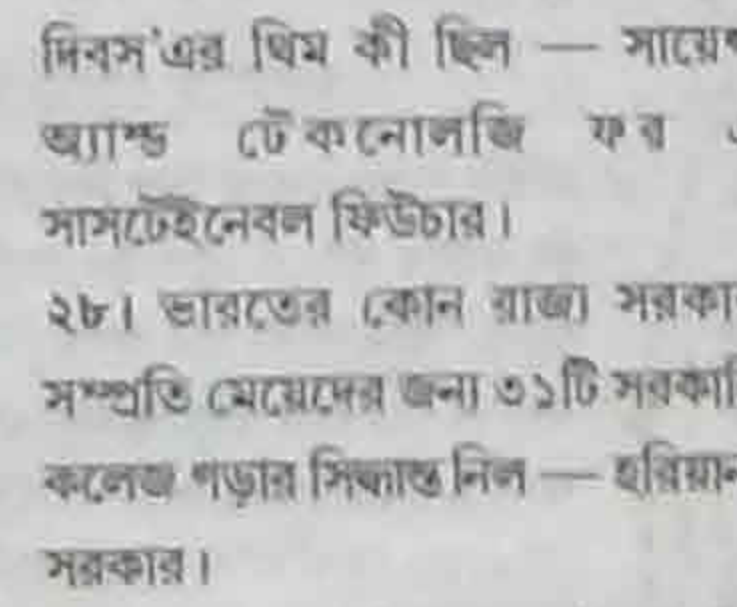
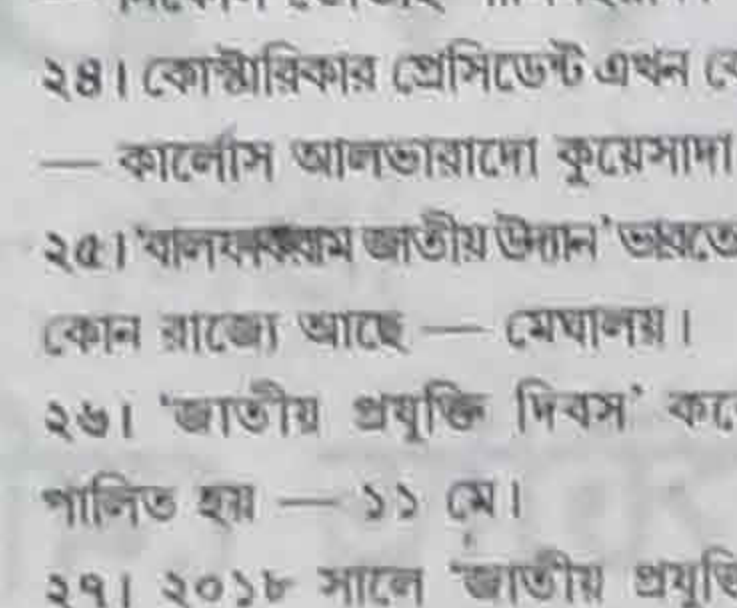
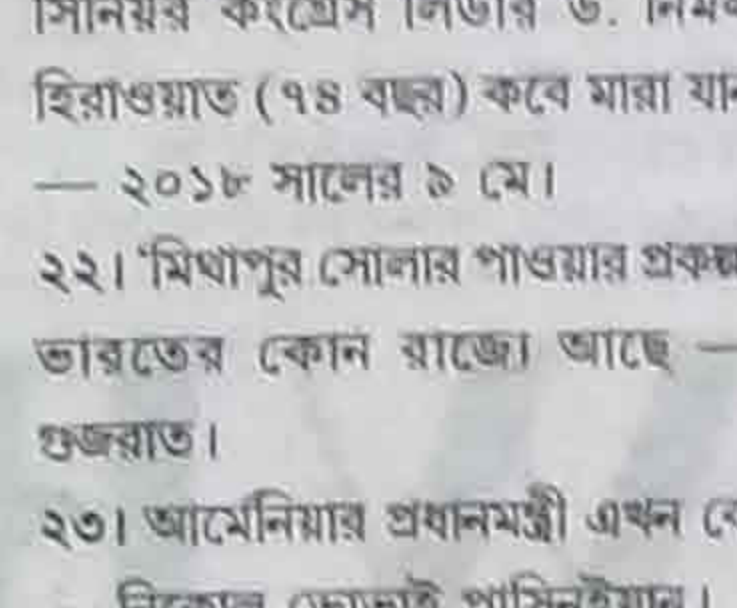
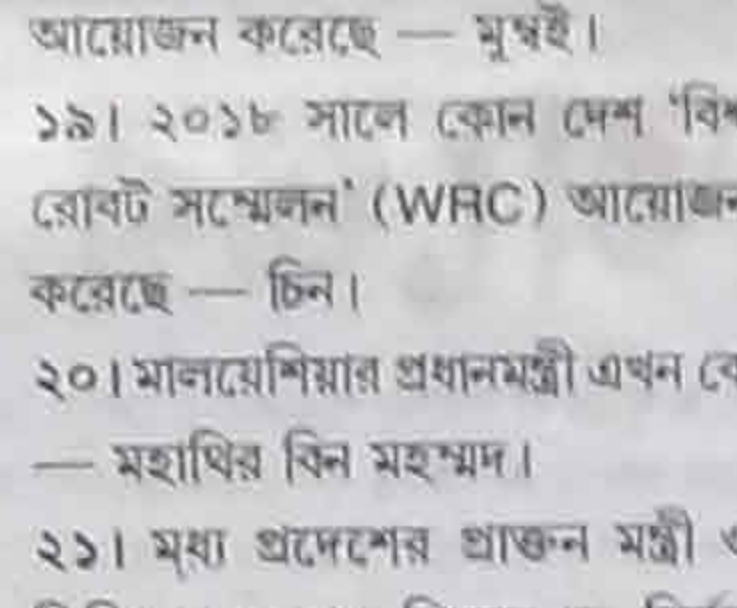
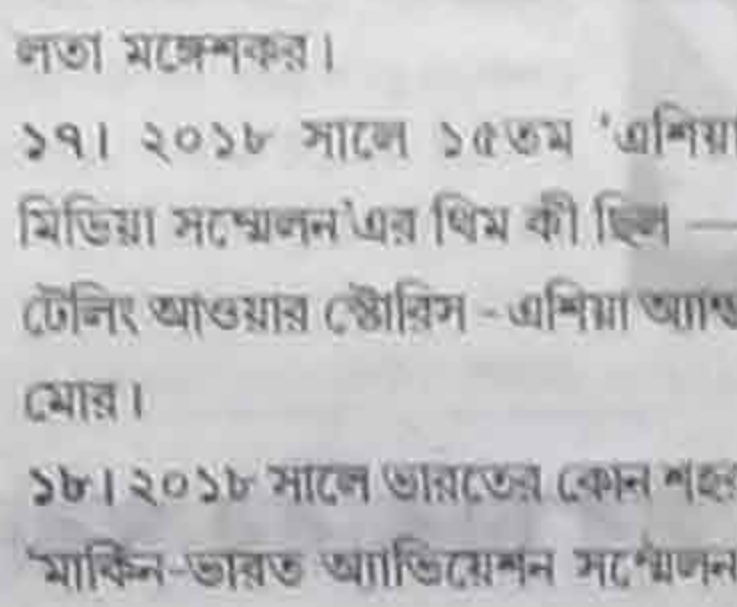
৮২। 'বঙ্গসূচী' কার রচনা — অশ্বমেধ।

৮৩। অর্ঘ্যরা কোন দেবতার পূজা করত — প্রাকৃতিক শক্তি।

৮৪। 'কল্পসূত্র' কী — জৈনগ্রন্থ।

৮৫। পৌত্তম বুদ্ধের ধর্মমত প্রচারের ঘটনা বৌদ্ধশাস্ত্রে কী নামে পরিচিত —

সম্মেলন : পলি দেওয়ান



— তালবন্দি।

৯১। ইকন বতুতা কার সময়ে ভারতে আসেন — মহম্মদ বিন তুঘলক।

৯২। মহম্মদ ঘোরী কে ছিলেন — গজনীর শাসনকর্তা।

ভূগোল

৯৩। পৃথিবী কোন দিক থেকে কোন দিকে আবর্তিত হয় — পশ্চিম থেকে পূর্বে।

৯৪। কোন দিন পৃথিবী থেকে সূর্যের দূরত্ব সবথেকে বেশি হয় — ৪ জুলাই।

৯৫। গ্রাফাইট কোন শিলার রূপান্তর — পাললিক শিলার।

৯৬। কোন শিলায় স্তর থাকে না — আগ্নেয় শিলা।

৯৭। গঙ্গা নদীর দৈর্ঘ্য কত — ২,৫১০ কিলোমিটার।

৯৮। নদীখাত খুব সংকীর্ণ ও গভীর হলে তাকে কী বলে — মিয়েন্ডার।

৯৯। হিমবাহের ক্ষয়কার্যের ফলে কোন হ্রদ সৃষ্টি হয় — করি হ্রদ।

১০০। নদীর কোন প্রবাহে জলপ্রপাতের সৃষ্টি হয় — পার্বত্য প্রবাহে।

১০১। হিমালয় যেখানে অবস্থিত, সেখানে আগে কী ছিল — টেথিস সাগর।

১০২। নদীপ্রবাহ পরিমাপের একককে কী বলে — কিউসেক।

১০৩। একটি নিয়ত বায়ুপ্রবাহের নাম কী — আয়ন বায়ু।

১০৪। পচা মৃত্তিকা ভারতের কোন রাজ্যে দেখা যায় — কেরল।

১০৫। ভারতের কোন রাজ্যে পলিমাটি সবথেকে কম দেখা যায় — মধ্য প্রদেশ।

১০৬। 'মপকিনী নদী'র উৎসস্থল কোথায় — কেদারনাথের কাছে ঘোড়াবাড়ি হিমবাহ।

১০৭। স্টিভেনসন স্ক্রিনের সাহায্যে কী

করা হয় — বায়ুর উষ্ণতা পরিমাপ করা হয়।

১০৮। ভারতে কোন ধরনের বামার চাষ হয় — নিবিড় পদ্ধতির।

১০৯। কবীরের প্রভাবে কাশ্মীরে শীতকালে বৃষ্টিপাত হয় — পশ্চিমী ঝঞ্ঝার প্রভাবে।

সম্মেলন : পলি দেওয়ান

সম্মেলন : পলি দেওয়ান

সম্মেলন : পলি দেওয়ান

সম্মেলন : পলি দেওয়ান

সম্মেলন : পলি দেওয়ান

রাজ্য পুলিশের কনস্টেবল পদে কীভাবে চাকরি পেয়েছি



সৌমেন সিংহ

ডাক্তার কিংবা ইঞ্জিনিয়ার নয় গোড়া থেকে আমার স্বপ্ন ছিল পুলিশ হওয়ায়। একদিকে পুলিশের পোশাক অন্যদিকে তাঁদের সামাজিক মর্যাদা — এই বিষয়টা আমাকে ছোটো থেকে টানত। ২০১১ সালে অনার্স নিয়ে বাণিজ্য শাখায় ডিগ্রি কোর্স পাশ করার পর বিভিন্ন ধরনের চাকরির পরীক্ষা য় বসেছিলাম। কিন্তু তার মধ্যে সব থেকে বেশি গুরুত্ব দিয়েছিলাম পুলিশে।

পুলিশ ও আবগারি পুলিশের চাকরির পরীক্ষায় বসেছিলাম, কিন্তু সফল হতে পারিনি। তবে আশা ছাড়িনি। ২০১৫ সালের বিজ্ঞপ্তি দেখে রাজ্য পুলিশের কনস্টেবল পদের জন্য দরখাস্ত করেছিলাম। এই পদের জন্য শিক্ষাগত যোগ্যতা চাওয়া হয়েছিল মাধ্যমিক পাশ। লিখিত পরীক্ষা ও শারীরিক সক্ষমতার পরীক্ষা — এই দুটি বিষয়েই শুরু থেকেই সমানভাবে গুরুত্ব দিয়েছিলাম। রোজ সকালে বিকালে নিয়মিত দৌড়ের অনুশীলন করেছিলাম। লিখিত পরীক্ষার জন্য মূলত মাধ্যমিক স্তরের বিভিন্ন বিষয়ের বই পড়েছিলাম। তবে আলাদাভাবে অঙ্কের জন্য আর. এস. আগরওয়াল ও চঞ্চল ঘোষের বই দেখে নিয়মিত অনুশীলন করতাম। অনুশীলনের জন্য একটি প্রতিষ্ঠানে ভরতিও হয়েছিলাম।

সাক্ষ্যের প্রস্তুতি

প্রার্থী বাছাইয়ের জন্য শুরুতে মাপজোখের পরীক্ষা, শারীরিক সক্ষমতার পরীক্ষা, লিখিত পরীক্ষা ও ইন্টারভিউ নেওয়া হয়েছিল। শারীরিক সক্ষমতার পরীক্ষায় সাড়ে ৬ মিনিটে ১,৬০০ মিটার দৌড় ছিল। ৫ মিনিট ৫২ সেকেন্ডের মধ্যে দৌড় শেষ করেছিলাম। ১০ নম্বরের লিখিত পরীক্ষায় ৭২ থেকে ৭৫টি প্রশ্নের উত্তর লিখেছিলাম। ইন্টারভিউয়ের জন্য মহড়া পরীক্ষার মাধ্যমে তৈরি হয়েছিলাম। ইন্টারভিউ নেওয়া হয়েছিল গত বছর ২৮ মে। বোর্ডে ছিলেন মোট ৮ জন সদস্য। শুরুতেই জানতে চাওয়া হয় কোথা থেকে আসছি, কতদূর পড়াশুনা করেছি, কী কী বিষয় নিয়ে পড়াশুনা করেছি? এরপর কমান্সের অ্যাকাউন্ট্যান্সি থেকে বেশ কিছু প্রশ্ন করা হয়েছিল। শেষে একজন সদস্য জানতে চেয়েছিলেন এখন কী করি? এর উত্তরে বলেছিলাম একটা চায়ের দোকান চালাই। সঙ্গে সঙ্গে জানতে চাওয়া হয় কত লাভ হয়? লাভের পরিমাণ নির্দিষ্ট বলতে পারিনি দেখে একজন সদস্য বলেন একজন কমান্সের ছাত্র হয়েও কেন সঠিক হিসাব বলতে পারছেন না। শেষে জানতে চাওয়া হয় দেশের একজন বিখ্যাত মানুষ

জেনারেল ও সাম্প্রতিক ঘটনাবলীর জন্য নিয়মিত পড়তাম 'কর্মসংস্থান' ও 'Appointment & Career News'.

আছেন, যার কেরিয়ার শুরু হয় চা. বিক্রেন্তা হিসাবে, তার নাম কী? উত্তরে জবাব দিয়েছিলাম প্রধানমন্ত্রী নরেন্দ্র মোদী। চূড়ান্ত সফল হয়ে গত বছর ৩০ জুলাই চাকরিতে যোগ দিয়েছি। শুরুতে পশ্চিম মেদিনীপুরের সালুয়ায় সাড়ে ৬ মাস ট্রেনিংয়ে ছিলাম। এরপর পোস্টিং হয় পুরুলিয়ার ছররায় এস.এ.পি ১১ ব্যাটেলিয়নে। এখানে পোস্টিং হয়েছে এবছরের ১৭ ফেব্রুয়ারি। কনস্টেবল পদের মূল মাইনে : ৫,২০০-২৬,৪০০ টাকা। গ্রেড পে ২,৬০০ টাকা। এবছর কনস্টেবল পদের পরীক্ষার পদ্ধতি বদল হয়েছে। শুরুতেই হবে প্রিলিমিনারি পরীক্ষা, তারপর শারীরিক সক্ষমতার পরীক্ষা, মেইন পরীক্ষা ও শেষে ইন্টারভিউ। সফল হতে হলে লিখিত পরীক্ষার

পাশাপাশি দৌড়ের অনুশীলনে বিশেষভাবে গুরুত্ব দিতে হবে। কারণ, বেশিরভাগ ছেলেমেয়েই শারীরিক সক্ষমতার পরীক্ষাতেই ব্যতিল হয়ে যায়।

Kalyani Pvt. ITI





2018-20 শিক্ষাবর্ষে ভর্তি চলছে
কোর্স : ফিটার
ও ইলেক্ট্রিশিয়ান
কোর্স শেষে প্লেসমেন্টে সহায়তা
দত্তপুকুর, হাটখোলা, উঃ ২৪ পরগনা
মো : 7890114569

R.P.F এ কনস্টেবল এবং সাব-ইন্সপেক্টর এর জন্য সঠিক প্রশিক্ষণ
এখানে বিভিন্ন প্রকারের মডার্ন পদ্ধতিতে সেরা একই কক্ষ প্রদান
- বিভিন্ন নিকট-নিষ্কাশন মডার্ন হাউস নির্মাণ ক্রম টেপ ও মস্টার এন্ড ব্লক আছে।
- উচ্চপদের অফিসার (প্রশাসনিক মন্ত্রণালয়) কর্তৃক সন্তোষ প্রদর্শিত শারীরিক সক্ষমতা 'Training' কমান্ডো হয়।
- প্রতি ব্যাচে স্ট্র ১৫ জন। [অন্য সন্তোষ সীমিত]
- জার্মানি যোগাযোগ করুন উচ্চ শাখায়।
- দুইবর্ষীয়ে মেয়েদের হোস্টেলের ব্যবস্থা আছে।
NETAJI SUBHAS DEFENCE ACADEMY (Mee)
দমদম-9830859046 & বারাসাত-9804820827

JLD PRIVATE ITI
আই.টি.আই. কোর্সে আগস্ট 2018 সেশনে নিচের ট্রেডগুলিতে ভর্তির জন্য যোগাযোগ করুন —
ELECTRICIAN FITTER SURVEYOR
College Campus
Betberia, P.S. Baruipur, 24 Pgs. (S) চাকরির গ্যারান্টি
(033) 2481-6491, 9831220905

কর্মখালি
অল্পপূর্ণা এগ্রোপ্ল্যাণ্টেক ইন্ডিয়া প্রাঃ লিঃ
website : www.aapilagro.com
বাঁকুড়া, বর্ধমান, বীরভূম, পূর্ব ও পশ্চিম মেদিনীপুর জেলার বিভিন্ন এলাকায় ডাইরেস্ট সেলস-এর কাজের জন্য অভিজ্ঞ / অনভিজ্ঞ, H.S PASS উদ্যোগী ও পরিশ্রমী যুবক প্রয়োজন। মাসিক বেতন Rs- 7000/- থেকে 10000/-। ইচ্ছুক ব্যক্তির শীঘ্রই যোগাযোগ করুন। বয়স সীমা 25-35 Year। নিজস্ব মোটর বাইক আবশ্যিক।
Contact No - 8348314314 / 8001575000

হোটেল ও বিদেশী জাহাজে চাকরীর শেষ ঠিকানা হস্পিটাল ও করপোরেটে চাকরীর শেষ ঠিকানা

 Anee @ Hilton Sydney, Australia	 Raghunath Maity @ Abudhabi National Hotels	 Manjusree Majumder @ The Westin Kolkata	 Sunandita @ Naryana Hospital	 Suravi Kumari Paswan @ Columbiasia Hospital Kolkata	 Sandip Parui @ Kothari Medical Centre
 Sovon Kulia @ Carnival Cruise Lines	 Barun @ Swisotel	 Nabarun @ Carnival	 Rohit @ GEAV Technologies Delhi	 Subhajit Adhya @ Columbiasia Pune	 Anwesa Das @ Columbiasia Hospitals

HOTEL MANAGEMENT
(6 Month/ 1 Yr./ 2 Yr./ 3 Yr.)
CRUISELINE MANAGEMENT

গান্ধী ইনস্টিটিউট দেশে ও বিদেশে বিভিন্ন পাঁচতারা হোটেলে (Oberoy, Taj, Hilton, ITC, Raddisson, Hyatt...etc.) ও বিলাসবহুল যাত্রীবাহী জাহাজে (Carnival, P&O, Royal Caribbean, Canard...etc.) চাকরী দিয়ে এক অনন্য নজির সৃষ্টি করেছে। হোটেলের ক্ষেত্রে ভারতবর্ষে বেতন শুরু হয় ১৫০০০-১৮০০০ টাকা ও বিদেশে ৩০০০০ টাকা। জাহাজের ক্ষেত্রে তাহা ৭০০-৯০০ ডলার। প্রশিক্ষণ, জব ট্রেনিং ও চাকরীর লিখিত বন্ড দেওয়া হয়।

HOSPITAL MANAGEMENT
(6 Month/ 1 Yr./ 2 Yr./ 3 Yr.)
BUSINESS ADMINISTRATION
(HR/Marketing/Finance)

গান্ধী ইনস্টিটিউট বিভিন্ন হাসপাতালে ও মাল্টিন্যাশনাল কম্পানিতে চাকরী দিয়ে থাকে। গ্রাম ও শহরতলীর ছেলেমেয়েদের আজকের দিনে প্রশিক্ষণ ও জব ট্রেনিং-এর দ্বারা দেশে ও বিদেশে ১২০০০-২৫০০০ টাকা বেতনের চাকরী করিয়ে দেওয়া হয়।

গান্ধী ইনস্টিটিউট
এজি-৭, বৈশাখী আইল্যান্ড, সল্ট লেক • Ph : 84799 13243

Job Guarantee
Incredible India

১৭ অ্যাপ্রেন্টিস

ব্রহ্মপুত্র ভ্যালি ফাটলাইজার কর্পোরেশন লিমিটেড 'অ্যাপ্রেন্টিস' হিসাবে ১৭ জন লোক নিচ্ছে। কারা কোন ট্রেডের জন্য যোগ্য : ট্রেড অ্যাপ্রেন্টিস -ইলেক্ট্রিশিয়ান : মাধ্যমিক পাশরা আই.টি.আই. থেকে ইলেক্ট্রিশিয়ান ট্রেডের সার্টিফিকেট কোর্স পাশ হলে যোগ্য। শূন্যপদ : ২টি (জেনাঃ)।

ট্রেড অ্যাপ্রেন্টিস -ওয়ারম্যান : মাধ্যমিক পাশরা আই.টি.আই. থেকে ওয়ারম্যান ট্রেডের সার্টিফিকেট কোর্স পাশ হলে যোগ্য। শূন্যপদ : ১টি (জেনাঃ)।

ট্রেড অ্যাপ্রেন্টিস -ফিটার : মাধ্যমিক পাশরা আই.টি.আই. থেকে ফিটার ট্রেডের সার্টিফিকেট কোর্স পাশ হলে যোগ্য। শূন্যপদ : ২টি (জেনাঃ)।

ট্রেড অ্যাপ্রেন্টিস -ইলেক্ট্রনিক মেকানিক : মাধ্যমিক পাশরা আই.টি.আই. থেকে ইলেক্ট্রনিক মেকানিক ট্রেডের সার্টিফিকেট কোর্স পাশ হলে যোগ্য। শূন্যপদ : ২টি (জেনাঃ)।

ট্রেড অ্যাপ্রেন্টিস -ড্রাফটসম্যান মেকানিক : মাধ্যমিক পাশরা আই.টি.আই. থেকে ড্রাফটসম্যান মেকানিক ট্রেডের সার্টিফিকেট কোর্স পাশ হলে যোগ্য। শূন্যপদ : ১টি (জেনাঃ)।

ট্রেড অ্যাপ্রেন্টিস -মেশিনিস্ট : মাধ্যমিক পাশরা আই.টি.আই. থেকে মেশিনিস্ট ট্রেডের সার্টিফিকেট কোর্স পাশ হলে যোগ্য। শূন্যপদ : ২টি (জেনাঃ)।

ট্রেড অ্যাপ্রেন্টিস -ওয়ারেন্ডার : মাধ্যমিক পাশরা আই.টি.আই. থেকে ওয়ারেন্ডার ট্রেডের সার্টিফিকেট কোর্স পাশ হলে যোগ্য। শূন্যপদ : ২টি (জেনাঃ)।

ট্রেড অ্যাপ্রেন্টিস -ফিটার : মাধ্যমিক পাশরা আই.টি.আই. থেকে ফিটার ট্রেডের সার্টিফিকেট কোর্স পাশ হলে যোগ্য। শূন্যপদ : ৩টি (জেনাঃ ২, ও.বি.সি. ১)।

ট্রেড অ্যাপ্রেন্টিস -রেফ্রিজারেশন অ্যান্ড এয়ার কন্ডিশনিং মেকানিক : মাধ্যমিক পাশরা আই.টি.আই. থেকে এয়ার কন্ডিশনিং ট্রেডের সার্টিফিকেট কোর্স পাশ হলে যোগ্য। শূন্যপদ : ১টি (জেনাঃ)।

ট্রেড অ্যাপ্রেন্টিস -মেকানিক ডিজেল : মাধ্যমিক পাশরা আই.টি.আই. থেকে মেকানিক ডিজেল ট্রেডের সার্টিফিকেট কোর্স পাশ হলে যোগ্য। শূন্যপদ : ১টি (জেনাঃ)।

ওপরের সব ক্ষেত্রে শিক্ষাগত যোগ্যতায় অন্তত ৫০% (তপশিলী, প্রতিবন্ধী হলে ৪৫%) নম্বর পেয়ে থাকতে হবে। আশে কোনো অ্যাপ্রেন্টিস ট্রেনিং নিজে থাকলে যোগ্য নন। বয়স হতে হবে ৩১-৩-২০১৮'র হিসাবে ১৮ থেকে ২৪ বছরের মধ্যে। তপশিলীরা ৫ বছর, ও.বি.সি.রা ৩ বছর ও প্রতিবন্ধীরা ১০ বছর বয়সে ছাড় পাবেন। ১২ মাসের ট্রেনিং। প্রার্থী বাছাই হবে মাধ্যমিক ও আই.টি.আই. কোর্সে পাওয়া নম্বর দেখে। এরপর হবে ইন্টারভিউ। পরীক্ষা সংক্রান্ত বিস্তারিত তথ্য পাবেন এই ওয়েবসাইটে : www.bvfd.com প্রার্থীকে প্রথমে নাম নথিভুক্ত করতে হবে, ৬ জুনের মধ্যে। এই ওয়েবসাইটে

www.apprenticeship.gov.in আরো বিস্তারিত তথ্য পাবেন ওই ওয়েবসাইটে।

NANDIGRAM Pvt. ITI

রোয়াপাড়া শিরমন্দির, পূর্ব মেদিনীপুর

ইলেক্ট্রিশিয়ান - ২ বছর

ফিটার - ২ বছর

সার্ভেয়ার - ১ বছর

ভর্তি চলিতেছে

যোগাযোগ করুন -

03224-271433

8159956005

শিক্ষান্তে নিশ্চিত

কর্মসংস্থানের সহায়তা



TAGORE SCHOOL OF RURAL DEVELOPMENT AND AGRICULTURE MANAGEMENT

A unit of "Tagore Education & Rural Development Trust"

Affiliated to "UNIVERSITY OF KALYANI"

বিধানচন্দ্র কৃষি বিশ্ববিদ্যালয়ের প্রাক্তন উপাচার্য এবং অধ্যাপকদের তত্ত্বাবধানে গত ২০১০ সাল থেকে University of Kalyani দ্বারা স্বীকৃত পশ্চিমবঙ্গের সর্বপ্রথম ডিপ্লোমা কৃষি শিক্ষা প্রতিষ্ঠান Tagore School of Rural Development & Agriculture Management সাফল্যের সঙ্গে চলছে। উক্ত প্রতিষ্ঠান থেকে পাশ করা সকল ছাত্রছাত্রীদের দিচ্ছে চাকরীর নিশ্চয় সুযোগ।

COURSES -

TSRDAM এর চাকরীসূচী ২ বছরের Diploma কোর্সগুলি হল

- Seed & Nursery Management
- Soil & Plant Health Management
- Plant Protection
- Financing & Agri-business Management

উপরোক্ত কোর্সগুলির জন্য ন্যূনতম শিক্ষাগত যোগ্যতা ১০+২ কে কোন শাখা থেকে। শ্রাতক ডিগ্রি অধ্যয়ন।

WHY TSRDAM -

- বিধানচন্দ্র কৃষি বিশ্ববিদ্যালয় এবং উত্তম কৃষি বিশ্ববিদ্যালয়ের প্রাক্তন এবং বর্তমান শিক্ষকগণের।
- সুশিক্ষিত অধ্যাপক
- ল্যাবরেটরি কোর্সের জন্য স্বতন্ত্র Practical Lab
- শিক্ষা Agriculture farm and Agro-Industry 26 Training.
- Education Loan available from your nearest Bank.

PRINCIPAL DR. T. P. MUKHOPADHYAY (Ex-Dean BCKV)

PLACEMENT

All final year students are placed in following organisation through campus interview

- Bayer Crop Science
- Dupont
- United Phosphorus Ltd.
- Pan Seed Pvt. Ltd.
- Krisi Rasayan
- Indofil Industries Ltd.
- Syngenta
- Nava Kisan Bio Plantec Ltd.

চাকরীর নিশ্চয় সুযোগ

- স্পোকেন ইন্সট্রুশন ও Personality Development ক্লাস
- আধুনিক কম্পিউটার ল্যাবরেটরি
- সু-সজ্জিত লাইব্রেরি
- দক্ষ Agriculture Practical Field
- ছাত্র-ছাত্রীদের জন্য কম খরচে পুস্তক ছোঁস্টেলের ব্যবস্থা
- জেলরেটোরের ব্যবস্থা

Campus B-7/308, Kalyani, Nadia, WB. Pin : 741235

Web : www.tsrdam.co.in | Email : training.tsrdam@gmail.com

Phone : 03325820216, 9433250698, 9836320828

GSM School of Management

A unit of Kalyani Swamijee Welfare Mission • An ISO 9001:2015 Certified

HOTEL & HOSPITALITY PROGRAM * MBA

AUTHORISED TRAINING CENTRE OF "BHARAT SEVAK SAMAJ"
A National Development Agency, Established in 1952 by Planning Commission, Govt. of India

রেকর্ড : প্রতিটি ব্যাচের সব ছেলেমেয়েকে দেশে ও বিদেশে চাকরি দিয়ে নজির সৃষ্টি করেছে কল্যাণীর এই প্রতিষ্ঠান

5* হোটেল হসপিটাল জাহাজ এয়ারলাইন মাল্টিন্যাশনাল কোম্পানিতে চাকরি

Admissions
OPEN

PLACEMENT RECORD OF 2017-18

 Sanghati Saha Guest Service Associate J W Marriott Pune	 Sk. Niruddin Senior Room Attendant The Royal Le Meridien Saudi Arabia	 Aftab Alam Restaurant Mgr. The Kempinski Iraq	 Supriya Bhowmik Flight Attendant Air India	 Goutam Goral Guest Room Associate Crystal Cruise Line England
--	--	--	--	--

বিদেশে চাকরি
ইতালি, কানাডা, জাপান, সিঙ্গাপুর
ইউ.এ.ই. এবং গান্ধ দেশ গুলিতে

 Bhaskar Choudhury Floor Supervisor DoubleTree by Hilton Goa	 Md. Shahbaz Ansari Restaurant Asst. Steward Sheraton Bangalore
 Anubhav Mukherjee Room Attendant The Westin Hyderabad	 Raju Gk Specialty Service Associate Courtyard Marriott Pune

- শুরুতেই বেতন ১৫,০০০/- থেকে ৬৫,০০০/- টাকা
- প্রজেক্টের মাধ্যমে ক্লাস
- কোর্স শেষ হওয়ার ৬ মাস আগে চাকরী
- ছেলে ও মেয়েদের জন্য পৃথক হোস্টেল

পড়তে পড়তে আয়
২০০০/- টাকা থেকে ৪০০০/- টাকা প্রতিমাসে স্টাইপেন্ড

94339 47225
90622 69582

A-1/56, Kalyani, Nadia, Pin - 741235
www.globalschoolmgt.com

সাপ্তাহিক ঘটনাপ্রবাহ

গত সপ্তাহের পর
১২ মে: পাক-ই-স্তান হকি দলের প্রাক্তন অধিনায়ক মনসুর আহমেদ (৪৯ বছর) মারা গেলেন।
□ ব্রিটেনের দেবার নেত্রী ও প্রাক্তন মন্ত্রী টেসা ডানে হেলেন ডগলাস জোয়েল (৭০ বছর) মারা গেলেন।
□ দক্ষিণ মহাসাগরের ক্যাম্পাবেল দ্বীপের কাছে

৭৮ ফুট উঁচু দৈত্যাকার সামুদ্রিক ডেউ রেকর্ড করলেন গবেষকরা। দক্ষিণ নিউজিল্যান্ড থেকে ৭০০ কিলোমিটার দূরে অবস্থিত এই দ্বীপে সেইসময় প্রচণ্ড ঝড় উঠেছিল। এর আগে ২০১২ সালে ২২.৩ মিটার উঁচু একটি ডেউ রেকর্ড করা হয়েছিল। এর আগে এটি ছিল সবথেকে উঁচু ডেউ। কিন্তু এই ডেউটি সবথেকে উঁচু ডেউ বলে মনে করা হচ্ছে। এদিনের এই ডেউটি ছিল প্রায় ৮ তলা বাড়ির সমান।

□ মঙ্গল গ্রহে প্রথম হেলিকপ্টার পাঠানোর সিদ্ধান্ত নিল 'ন্যাশনাল অ্যারোনটিক্যাল স্পেস অ্যাডমিনিস্ট্রেশন' (NASA)। হেলিকপ্টারটি নাসার মার্স রোভারে যুক্ত হবে। এটি মঙ্গল গ্রহের আবহাওয়ায় গড়ার মতো করেই তৈরি করা হচ্ছে। হেলিকপ্টারটিতে দুটি পাখা বা ব্লেড আছে। এই দুটি প্রতি মিনিটে ৩,০০০ বার ঘুরবে। এটিতে কোনো পাইলট থাকবে না। পৃথিবী থেকে প্রায় ২৫ মিলিয়ন কিলোমিটার দূরে উড়ে যাবে হেলিকপ্টারটি।

□ রাজারহাটে যে 'ফিন্যান্সিয়াল হান' গড়ে উঠেছে, সেখানে আলাদা করে 'ফিনটেক হাব' গড়ার উদ্যোগ নিল পশ্চিমবঙ্গ সরকার।

□ ২০১৮ সালে 'আন্তর্জাতিক নার্স দিবস' এর থিম ছিল 'নার্সেস এ ভয়েস টু লিড - হেলথ ইজ এ হিউম্যান রাইট'।
□ এ বছর প্রায় ২০০টি ইঞ্জিনিয়ারিং কলেজ বন্ধ ঘোষণা করার সিদ্ধান্ত নিল 'অল ইন্ডিয়া টেকনিক্যাল এডুকেশন কাউন্সিল'।

□ নতুন ধরণের সরঞ্জাম ব্যবহার করে সীমান্ত সুরক্ষা ব্যবস্থাকে আরও শক্তিশালী করার সিদ্ধান্ত নিল চীনের সামরিক বাহিনী। এর মধ্যে রয়েছে স্যাটেলাইট আগাম সতর্ক সঙ্কেত ব্যবস্থা। যেকোনো আবহাওয়ার সীমান্ত এলাকা পর্যবেক্ষণ করতে পারবে এই স্যাটেলাইট।

□ দুর্নীতির অভিযোগ থাকায় মালয়েশিয়ার প্রাক্তন প্রধানমন্ত্রী নাজিব রজাকের দেশের বাইরে যাওয়া নিষিদ্ধ হল।
□ 'সাঁউথ এশিয়ান ফুটবল ফেডারেশন' এর (স্যাফ) সঙ্গে মিলিত হতে চলেছে 'সাঁউথ ওয়েস্ট এশিয়ান ফুটবল ফেডারেশন' (SWAFF)।

১৩ মে: 'ইংলিশ প্রিমিয়ার লিগ'এ 'সেরা গোলদাতা'র পুরস্কার হিসাবে সোনার বুট পেলেন লিভারপুলের তারকা ফরোয়ার্ড মহম্মদ সালাহ।

অস্টিয়ার ডমিনিক থিয়েরমকে ৬-৪ ও ৬-৪ ব্যবধানে হারিয়ে 'মাদ্রিদ ওপন'এ পুরুষদের সিঙ্গেলসে চ্যাম্পিয়ন হলেন জার্মানির আলেক্সান্ডার জেভেরেভ।



□ নেদারল্যান্ডসের কিরিক বার্টেনকে ৭-৬ (৮-৬), ৪-৬ ও ৬-৩ ব্যবধানে হারিয়ে 'মাদ্রিদ ওপন'এ মহিলাদের সিঙ্গেলসে চ্যাম্পিয়ন হলেন চেজ রিপারিকের পেত্রা কিতোভা।
□ 'স্বরমৌলি' সম্মান পেলেন কিংবদন্তি গায়িকা লতা মঙ্গেশকর।
□ হিন্দি চলচ্চিত্রের গীতিকার, কবি ও রাজনীতিবিদ নন্দরাম দাস বৈরাগী (৮৭ বছর) মারা গেলেন।
□ সাধারণ বাজেনারেল ক্যাটিগিরি ছাত্রছাত্রীরা আর ২৫ বছরের বেশি বয়সে 'ন্যাশনাল এলিজিবিলিটি কাম এন্ট্রান্স টেস্ট'এ বসতে পারবেন না বলে এক রায়ে জানালো 'দিমি হাই কোর্ট'। একইভাবে সংরক্ষিত (এসসি, এসটি, ওবিসি)

ছাত্রছাত্রীরা ৩০ বছরের বেশি বয়সে এই পরীক্ষায় বসতে পারবেন না।

□ রেলওয়ে কাউন্টার থেকে কটা টিকিট এবার অনলাইনে বাতিল করতে পারলেন রেলযাত্রীরা। এমনই সিদ্ধান্ত নিল রেলমন্ত্রক। তবে টিকিট বাতিলের পর যে টাকা ফেরত পাবেন সংশ্লিষ্ট যাত্রী, সেটি তাঁকে নির্দিষ্ট রেলওয়ে কাউন্টারে গিয়েই সংগ্রহ করতে হবে। যদিও যাত্রী সতর্কতায় কেন্দ্র থেকে টিকিট কাটার সময় কেউ যদি সঠিক মোবাইল নম্বর না দেন, তাহলে তিনি এই পরিবেশা পাবেন না।


□ ব্রিটেনের ধনী ব্যক্তিদের তালিকা প্রকাশ করল 'সানডে টাইমস'। এই তালিকায় দ্বিতীয় স্থানে রয়েছেন লন্ডনের ভারতীয় বংশোদ্ভূত দুই ভাই শ্রীচাঁদ ও গোপীচাঁদ হিন্দুজা। চলতি বছর ব্রিটেনের ১০০ জন ধনীর তালিকায় রয়েছেন ৪৭ জন ভারতীয় বংশোদ্ভূত।

□ সিঙ্গাপুরে তামিল ভাষা সরকারি স্বীকৃতি পেল।
□ আধুনিক পৃথিবী ও যুব সম্প্রদায়কে মাথায় রেখে নতুন টেলিভিশন চালু হল সৌদি আরবে। 'ব্র্যান্ডেড এসবিসি' নামের এই চ্যানেলে চলচ্চিত্র, সাক্ষাৎকার ও গ্রামা শেখানোর শো সম্প্রচার করা হবে।

□ তাজাক-ই-স্তানকে ৪-২ ব্যবধানে হারিয়ে সার্বিয়ায় অনুষ্ঠিত চার দেশীয় অনূর্ধ্ব-১৬ ফুটবল'এ চ্যাম্পিয়ন হল ভারত।

১৪ মে: মালয়ালম অভিনেতা কালাসালা বাবু (৬৮ বছর) মারা গেলেন।

ফ্রান্সে খেলা 'বর্ষসেরা ফুটবলার'এর পুরস্কার পেলেন নেইমার দ্য সিলভা স্যান্তোস জুনিয়র।



□ ইঞ্জিনিয়ারিংয়ের ডিগ্রির গুরুত্ব আরও বাড়াতে নতুন সিদ্ধান্ত নিল 'অল ইন্ডিয়া কাউন্সিল ফর টেকনিক্যাল এডুকেশন' (AICTE)। এবার থেকে অনলাইন কোর্সে ৪ বছর ২০ ক্রেডিট পয়েন্ট পেলে বি.টেক অনার্স ডিগ্রি পাওয়া যাবে। প্রসঙ্গত উল্লেখ্য, এতদিন ৪ বছরের স্নাতক পাশ করলে একজন ইঞ্জিনিয়ারিং পড়ুয়া বি.টেক ডিগ্রি পেতেন। কিন্তু এবার থেকে বি.টেক 'অনার্স' ডিগ্রি পাওয়ার সুযোগ থাকবে। অর্থাৎ, বাড়তি ডিগ্রি পাওয়া যাবে।

□ ২০১৮ সালে 'বিশ্ব খ্যালাসেমিয়া দিবস'এর (WTD) থিম ছিল 'খ্যালাসেমিয়া পাস্ট, প্রেজেন্ট অ্যান্ড ফিউচার: ডকুমেন্টি প্রোগ্রাম অ্যান্ড পেশেন্টস নিউস ওয়ার্ল্ডওয়াইড'।

□ কর্ণাটক, তামিলনাড়ু, কেরাল ও পুদুচেরির মধ্যে সৃষ্টিভাবে কাবেরীর জল বন্টনের লক্ষ্যে সুপ্রিম কোর্টে 'কাবেরী ম্যানেজমেন্ট প্রকল্প'এর খসড়া জমা দিল কেন্দ্রীয় সরকার। কেন্দ্রের খসড়া প্রস্তাব খতিয়ে দেখে এ ব্যাপারে চূড়ান্ত সিদ্ধান্ত নেবে সুপ্রিম কোর্ট।

□ ইজরায়েলে মার্কিন দূতাবাস তেল আবিব থেকে সরিয়ে নিয়ে যাওয়া হল জেরুজালেমে।

□ হ্যানোভারে অনুষ্ঠিত 'আন্তর্জাতিক শ্যাটিং চ্যাম্পিয়নশিপ'এ ১০ মিটার এয়ার পিস্তল বিভাগে সোনার পদক পেলেন ভারতের হিনা সিধু।

□ 'আন্তর্জাতিক টেনিস সংস্থা'র ওয়ার্ল্ড জুনিয়র সার্কিটের অন্তর্গত 'তাইল্যান্ড জুনিয়র ও ক্যাডেট ওপন'এ সোনার পদক পেলেন ভারতের হাবিস আসরানি।

□ রাশিয়া বিশ্বকাপে দক্ষিণ কোরিয়া দলের অধিনায়কের দায়িত্ব নিলেন টটেনহাম-তারকা সন হিউঙ মিন।

□ জাপানের দাসুকি যুজিহারাকে ২১-১৭, ১৭-২১ ও ২১-

বিশেষ বিজ্ঞপ্তি

কর্মসংস্থান পত্রিকায় প্রকাশিত যে কোনো বিতর্কিত আলোচনা বা, নিবন্ধের যাবতীয় দায়িত্ব লেখকের। কর্মসংস্থান কর্তৃপক্ষ কোনোভাবেই এজন্য দায়ী থাকবে না। ওই মতামত কারো পছন্দসই না হলে, প্রতিবাদ জানাতে পারেন। সৌকর্যে তাও যথাযোগ্য মর্বাদায় জ্ঞাপা হবে। কারণ, এটি গণমাধ্যম।

১৭ ব্যবধানে হারিয়ে তুরস্কয় অনুষ্ঠিত 'আন্তর্জাতিক প্যারা ব্যাডমিন্টন'এ পুরুষদের সিঙ্গেলসে সোনার পদক পেলেন বাঙালি প্যারা ব্যাডমিন্টন তারকা মনোজ সরকার।

২০১৮ সালের আই.সি.এস.ই ও আই.এস.সি পরীক্ষার ফলাফল প্রকাশিত হল। আই.সি.এস.ই পরীক্ষার মেটি প্যাশের হার ৯৮.৫১% ও আই.এস.সি পরীক্ষার মেটি প্যাশের হার ৯৬.২১%। দেশে আই.এস.সি'তে ৭ জন যুগ্মভাবে প্রথম হয়েছেন। তার মধ্যে রাজ্য থেকে রয়েছেন পানিহাটির সেন্ট জেভিয়ার্সের কৌশিকী দাশগুপ্ত চৌধুরি। তাঁর প্রাপ্ত নম্বর ৯৯.৫০%। আই.সি.এস.ই'তে দেশের মধ্যে তৃতীয় হয়েছেন ১২ জন। তার মধ্যে রাজ্য থেকে ২ জন রয়েছেন।



□ রোমার বিরুদ্ধে গোলশূন্য ড্র করে 'ইতালিয়ান লিগ'এ চ্যাম্পিয়ন হল জুভেন্টাস।

১৫ মে: ভারতের প্রধানমন্ত্রী নরেন্দ্র দামোদরদাস মোদীর নেতৃত্বাধীন লোকপাল প্যানেলের নির্বাচন কমিটিতে নিযুক্ত হলেন আইনজীবী মুকুল রোহতগি।

□ বিনা প্রতিদ্বন্দ্বিতায় 'ইন্টারন্যাশনাল ক্রিকেট কাউন্সিল'এর (ICC) স্বাধীন দায়িত্বপ্রাপ্ত চেয়ারম্যান মনোনীত হলেন শশাঙ্ক মনোহর।

□ ৫০ কোটি টাকা বিনিয়োগে হলদিয়ায় চালু হল ভোজ্য তেলের কারখানা। প্রতিদিন ৫০ টন ভোজ্য তেল বাজারজাত করা হবে এখন থেকে। মাসে উৎপাদন হবে ১,৫০০ টন।
□ বেঙ্গল চেম্বার অ্যাজিত এক অনুষ্ঠানে, এদেশে থাকা ঘনান হাই কমিশনার মাইকেল এএনএন ওকুয়াই জেএনআর জনালেন, এদেশ থেকে টেলি মেডিসিন ও চিকিৎসা সংক্রান্ত পণ্য আমদানি করবে ঘানা।

□ কেন্দ্রীয় কর্মসংস্থান মন্ত্রকের রাষ্ট্রমন্ত্রী জিতেন্দ্র সিং জনালেন, অবসরভাতা তোলার জন্য কেন্দ্রীয় সরকারি কর্মীদের আধার কার্ড দেওয়া বাধ্যতামূলক নয়।

□ বিজ্ঞাপন ও প্রচারের কাজে ৪,০০০ কোটি টাকা খরচ করেছে নরেন্দ্র দামোদরদাস মোদী সরকার। মুম্বইয়ের আরটিআই কর্মী অনিল গলগলির করা মামলার পরিপ্রেক্ষিতে এই তথ্য প্রকাশ্যে এসেছে।

□ বাংলাদেশে গাড়ি তৈরির একটি ইউনিট প্রতিষ্ঠার পরিকল্পনা নিল 'টাটা মোটরস'। এই ইউনিটে তারা প্রতি বছর ৫০,০০০ গাড়ি তৈরি করবে। তা' সরবরাহ করা হবে বাংলাদেশ ও মায়ানমারের বাজারে।

□ ইতালির জাতীয় দলের কোচ হলেন রবার্তো মানচিনি।
□ ২০২২ সালের 'কাতার বিশ্বকাপ' পর্যন্ত জার্মানির কোচ থাকছেন জোয়াকিম লো।

১৬ মে: 'বঙ্গবিভূষণ পুরস্কার' পেতে চলেছেন সুব্রত ভট্টাচার্য।

□ 'ইন্ডিয়ান সুপার লিগ' চ্যাম্পিয়ন চেম্বাইয়ান এফসি'র প্রধান কোচ জন শ্রেগরিকে 'স্পেশাল অ্যাচিভমেন্ট পুরস্কার' দিয়ে সম্মানিত করল 'ইংল্যান্ড লিগ ম্যানেজার্স অ্যাসোসিয়েশন' (LMA)।

□ সুইজারল্যান্ডের জেনেভায় নিলামে উঠল এক বিরল নীল হীরে। বিক্রি হল সাড়ে ৪০০ কোটি টাকায়। ভারতের বিখ্যাত গোলকোন্ডা বনি থেকে উত্তোলিত ৬.১ ক্যারেটের এই হীরের টুকরোটি ১৭১৫ সালে পারমার ডিউক কন্যা এলিজাবেথ ফার্নেসের বিয়েতে তাঁকে উপহার দেওয়া হয়েছিল। জানা গেছে, একসময় হীরেটি ফরাসি রানি মেরি অ্যান্টোনিটের মুকুটে শোভা পেত। তবে হীরেটি কে কিনেছে, তাঁর নাম-পরিচয় প্রকাশ করা হয়নি।

□ পোকের আকারের উড়ন্ত রোবট তৈরি করে নজির গড়লেন ভারতীয় ও মার্কিন বিজ্ঞানীরা। এদের দেখতে অনেকটা আসল কীটপতঙ্গের মতোই। এদের মধ্যে রয়েছে লেজার রশ্মি। কৃষিজমির ফলন কিংবা গ্যাস লিক করলেও সহজেই অনুমান করে ফেলতে পারবে এই রোবট পোকের দল।
□ চলচ্চিত্র ও চলচ্চিত্রের সঙ্গে জড়িত লোকজন ও চলচ্চিত্রকে কেন্দ্র করে তৈরি হওয়া সব প্রতিষ্ঠানের সামগ্রিক উন্নয়নের কথা মাথায় রেখে 'চলচ্চিত্র আকাদেমি' গড়ার সিদ্ধান্ত নিল পশ্চিমবঙ্গ সরকার। এই আকাদেমির চেয়ারম্যান হতে

চলেছেন রাজ্যের পূর্ত, ক্রীড়া ও যুবকল্যাণ দফতরের সচী অরুণ বিশ্বাস। এছাড়াও এখানে সদস্য হিসাবে থাকছেন বিশিষ্ট অভিনেতা-অভিনেত্রী, পরিচালক, প্রযোজক, বিভিন্ন সংগঠনের প্রতিনিধি ও সরকারি আমলারা।

□ রমজান মাসে কাশ্মীর উপত্যকার অস্ত্রবিরতির কথা ঘোষণা করল কেন্দ্রীয় স্বরাষ্ট্রমন্ত্রক। তবে নিরাপত্তাবাহিনী আক্রান্ত হলে অথবা সাধারণ মানুষকে রক্ষা করার জন্য প্রয়োজনীয় ব্যবস্থা নেওয়া হবে বলে কেন্দ্র জানিয়েছে।

□ এবার থেকে ক্লাসে নাম ডাকার সময় আর 'প্রেজেন্ট প্রিন্স' বা, 'ইয়েস স্যার' বলতে পারবেন না পড়ুয়ারা। তার বদলে বলতে হবে 'জয় হিন্দ'। আগামী শিক্ষাবর্ষ থেকে স-সরকারি স্কুলে এই নিয়ম বাধ্যতামূলক করতে চলেছে মধ্য প্রদেশ সরকার।

□ নতুন রাজনৈতিক দল তৈরি করলেন 'কলকাতা হাই কোর্ট'এর অবসরপ্রাপ্ত বিচারপতি চিন্মাস্বামী স্বামীনাথন কারণে। তাঁর দলের নাম 'অ্যান্টি করাপশন ডায়নামিক পার্টি'।

□ সারা দেশে হোমিওপ্যাথির চূড়ান্ত নীতি নির্ধারক সংস্থা 'সেন্ট্রাল কাউন্সিল অফ হোমিওপ্যাথি'কে (CCH) ঢেলে সাজাতে একটি অধ্যাদেশে অনুমোদন দিল কেন্দ্রীয় মন্ত্রিসভা।

□ আবাস ও শহর সংক্রান্ত কেন্দ্রীয় মন্ত্রকের (হাউসিং অ্যান্ড আর্বাণ অ্যাক্যুয়ার্স) তথ্য অনুযায়ী, দেশের সবথেকে বহু শহরের তকমা পেল ইন্দোর। দ্বিতীয় ও তৃতীয় স্থানে রয়েছে যথাক্রমে ভোপাল ও ইন্দোর।

□ মহিলারা যাতে আরও বেশি করে রাজনীতিতে যোগ দিতে পারেন, সেজন্য নতুন আইন আনার সিদ্ধান্ত নিল জাপান সরকার। প্রসঙ্গত উল্লেখ্য, এই নতুন নিয়ম অনুযায়ী, সমান মহিলা ও পুরুষ প্রার্থী দিতে হবে প্রতিটি রাজনৈতিক দলকে। তবে তা না পারলে কোনো শাস্তির কথা বলা হয়নি।

□ বেলারুশের ডায়নামো ব্রেস্ট ফুটবল ক্লাবের চেয়ারম্যান হলেন কিংবদন্তি আর্জেন্টাইন ফুটবলার দিয়েগো আর্মান্দো মারাদোনা ফ্র্যাঙ্কো।

□ 'ইন্টারন্যাশনাল ক্রিকেট কাউন্সিল'এর (ICC) বিশ্ব একাদশে জায়গা পেলেন নেপালের ১৭ বছর বয়সি স্পিনার সন্দীপ লামিচানে।

১৭ মে: একবিংশ শতকের দীর্ঘতম চন্দ্রগ্রহণ হতে চলেছে আগামী ২৭ জুলাই। ওইদিন চাঁদ ঘুরতে ঘুরতে একেবারে পৃথিবীর ছায়ার মধ্যে প্রবেশ করবে। ১ ঘণ্টা ৪৩ মিনিট পর্যন্ত স্থায়ী হবে এটি। আফ্রিকা, মধ্যপ্রাচ্য, ভারত, অস্ট্রেলিয়া ও ইউরোপের কিছু দেশ থেকে এই চন্দ্রগ্রহণ দেখা যাবে।

২২ বার এভারেস্টের শীর্ষে পা রেখে নজির তৈরি করলেন ৪৮ বছর বয়সি এক নেপালি শেরপা কামি রিটা।



□ হৃদরোগে আক্রান্ত হয়ে প্রখ্যাত হোমিওপ্যাথি চিকিৎসক প্রশান্ত বন্দ্যোপাধ্যায় (৮৪ বছর) মারা গেলেন।

□ 'এশীয় ব্যাডমিন্টন সংস্থা'র ভাইস প্রেসিডেন্ট হলেন হেমন্ত বিশ্ব শর্মা।

□ 'এডুকেশন ওয়ার্ল্ড' নামে এক বেসরকারি সংস্থার সমীক্ষা অনুযায়ী, দেশের ১০০টি সেরা কলেজের তালিকায় স্থান পেল রাজ্যের ১৩টি শিক্ষাপ্রতিষ্ঠান। এর মধ্যে রয়েছে 'কলকাতা বিশ্ববিদ্যালয়'এর অধীন ১১টি কলেজ। রাজ্যের নিরিখে এই তালিকায় কলেজ হিসাবে দ্বিতীয় স্থানে রয়েছে 'লেডি ব্রেবোন কলেজ'।

□ বৃদ্ধ-বৃদ্ধা, অসুস্থ কিংবা কোনোভাবে জখম মানুষদের ব্যাঙ্ক আফাউন্ট খোলার জন্য আধার কার্ড পরিচয়পত্র হিসাবে পেশ করা আর বাধ্যতামূলক নয় বলে জানালো কেন্দ্রীয় সরকার।

□ ফ্রান্সের মার্চেইকে ৩-০ গোলে হারিয়ে 'ইউরোপা লিগ'এ চ্যাম্পিয়ন হল আতলেতিকো মাদ্রিদ।

□ মামেলোডি সানডাউনসকে ৩-১ ব্যবধানে হারিয়ে 'নেলসন ম্যান্ডেলা শতবার্ষিকী কাপ'এ চ্যাম্পিয়ন হল বার্সেলোনা।

এর পর আগামী সপ্তাহে

হিন্দী গান্ধী জাতীয় মুক্ত বিশ্ববিদ্যালয়ে

১ পাতার পর পৃ

- গ্রাজুয়েটেরা যোগ্য। ২ থেকে ৫ বছরের কোর্স।
- (৫) মাস্টার অফ আর্টস (এডুকেশন) : এডুকেশন বিষয় নিয়ে যে কোনো শাখার গ্রাজুয়েটেরা যোগ্য। ডিগ্রি কোর্সে এডুকেশন বিষয় না থাকলেও যোগ্য। ২ থেকে ৫ বছরের কোর্স।
- (৬) এম.এ. ডিস্ট্যান্স এডুকেশন : যে কোনো শাখার গ্রাজুয়েটেরা যোগ্য। ২ থেকে ৫ বছরের কোর্স।
- (৭) মাস্টার অফ আর্টস (ইকনমিক্স) : যে কোনো শাখার গ্রাজুয়েটেরা যোগ্য। ২ থেকে ৫ বছরের কোর্স।
- (৮) মাস্টার অফ আর্টস (ইতিহাস) : যে কোনো শাখার গ্রাজুয়েটেরা যোগ্য। ২ থেকে ৫ বছরের কোর্স।
- (৯) মাস্টার অফ আর্টস (রাষ্ট্রবিজ্ঞান) : যে কোনো শাখার গ্রাজুয়েটেরা যোগ্য। ২ থেকে ৫ বছরের কোর্স।
- (১০) মাস্টার অফ আর্টস (সোশিওলজি) : যে কোনো শাখার গ্রাজুয়েটেরা যোগ্য। ২ থেকে ৫ বছরের কোর্স।
- (১১) মাস্টার অফ লাইব্রেরি অ্যান্ড ইনফর্মেশন সায়েন্স : লাইব্রেরি সায়েন্সের ডিগ্রি কোর্স পাশেরা যোগ্য। ১ থেকে ৪ বছরের কোর্স।
- (১২) এম.এ. (কম্পিউটার ডেভেলপমেন্ট) : যে কোনো শাখার গ্রাজুয়েটেরা যোগ্য। ২ থেকে ৫ বছরের কোর্স।
- (১৩) এম.এ. (দর্শন) : যে কোনো শাখার গ্রাজুয়েটেরা যোগ্য। ২ থেকে ৫ বছরের কোর্স।
- (১৪) এম.এ. (এক্সটেনশন অ্যান্ড ডেভেলপমেন্ট স্টাডিজ) : যে কোনো শাখার গ্রাজুয়েটেরা যোগ্য। ২ থেকে ৫ বছরের কোর্স।
- (১৫) এম.এ. (জেন্ডার অ্যান্ড ডেভেলপমেন্ট স্টাডিজ) : যে কোনো শাখার গ্রাজুয়েটেরা যোগ্য। ২ থেকে ৫ বছরের কোর্স।
- (১৬) এম.এ. (সাইকোলজি) : যে কোনো শাখার গ্রাজুয়েটেরা যোগ্য। ২ থেকে ৫ বছরের কোর্স।
- (১৭) এম.এ. (পাবলিক অ্যাডমিনিস্ট্রেশন) : যে কোনো শাখার গ্রাজুয়েটেরা যোগ্য। ২ থেকে ৫ বছরের কোর্স।
- (১৮) এম.এ. (টারিফ ম্যানেজমেন্ট) : যে কোনো শাখার গ্রাজুয়েটেরা যোগ্য। ২ থেকে ৫ বছরের কোর্স।
- (১৯) এম.এ. (অ্যাডভান্স এডুকেশন) : যে কোনো শাখার গ্রাজুয়েটেরা যোগ্য। ২ থেকে ৫ বছরের কোর্স।
- এছাড়াও মাস্টার অফ কম্পিউটার অ্যানালিসিস (এম.সি.এ.), এম.এসসি. (জ্যুনিয়র অ্যান্ড ফুড সার্ভিসেস ম্যানেজমেন্ট) ও এম.এসসি. (কাউন্সেলিং অ্যান্ড ফ্যামিলি থেরাপি) কোর্সে ভর্তি চলছে।

ডিগ্রি কোর্স পড়ানো হবে এইসব বিষয়ে :

- (১) ব্যাচেলর অফ কম্পিউটার অ্যানালিসিস : উচ্চমাধ্যমিক পাশেরা যোগ্য। ৩ থেকে ৬ বছরের কোর্স।
- (২) ব্যাচেলর অফ আর্টস : মেজর বিষয় হিসাবে হিন্দি, ইংরিজি, উর্দু, অর্থনীতি, ইতিহাস, অর্থ, দর্শন, সাইকোলজি, পাবলিক অ্যাডমিনিস্ট্রেশন, রাষ্ট্রবিজ্ঞান, সোশিওলজি। উচ্চমাধ্যমিক পাশেরা যোগ্য। ইগনু থেকে ব্যাচেলর প্রিপারেটরি (বি.পি.পি.) কোর্স পাশ হলেও যোগ্য। ৩ থেকে ৬ বছরের কোর্স।
- (৩) ব্যাচেলর অফ সায়েন্স : মেজর বিষয় হিসাবে ফিজিক্স, কেমিস্ট্রি, অর্থ, বটনি ও জুলজি বিষয় নিতে পারবেন। সায়েন্স শাখায় উচ্চমাধ্যমিক পাশেরা যোগ্য। ৩ থেকে ৬ বছরের কোর্স।
- (৪) ব্যাচেলর অফ কমার্স : উচ্চমাধ্যমিক পাশেরা যোগ্য। ইগনু থেকে ব্যাচেলর প্রিপারেটরি (বি.পি.পি.) কোর্স পাশ হলেও যোগ্য। ৩ থেকে ৬ বছরের কোর্স।
- (৫) ব্যাচেলর অফ সোশ্যাল ওয়ার্ক : উচ্চমাধ্যমিক পাশেরা যোগ্য। ইগনু থেকে ব্যাচেলর প্রিপারেটরি (বি.পি.পি.) কোর্স পাশ হলেও যোগ্য। ৩ থেকে ৬ বছরের কোর্স।
- (৬) ব্যাচেলর অফ ট্যুরিজম স্টাডিজ : উচ্চমাধ্যমিক পাশেরা যোগ্য। ৩ থেকে ৬ বছরের কোর্স।
- (৭) ব্যাচেলর অফ লাইব্রেরি অ্যান্ড ইনফর্মেশন সায়েন্স : মোট অন্তত ৫০% নম্বর পেয়ে ডিগ্রি কোর্স পাশেরা আবেদন করতে পারেন। যে কোনো শাখার গ্রাজুয়েটেরা লাইব্রেরি সায়েন্সের ডিপ্লোমা কোর্স পাশ হলেও যোগ্য। যে কোনো শাখার গ্রাজুয়েটেরা লাইব্রেরি অ্যান্ড ইনফর্মেশন সেন্টারে ২ বছর কাজের অভিজ্ঞতা থাকলেও যোগ্য। ১ থেকে ৪ বছরের কোর্স।
- এছাড়াও এখানে ম্যানেজমেন্ট প্রোগ্রামে ভর্তির OPENMAT-XLIII পরীক্ষার জন্য দরখাস্ত নেওয়া হচ্ছে। এই পরীক্ষা হবে ২৪ জুন। ভর্তি সক্রান্ত বিস্তারিত তথ্য পাবেন ওই ওয়েবসাইটে।
- ভর্তির ফর্ম ও প্রস্পেক্টাস পাবেন হাতে-হাতে, 'ইগনু'র রিজিওন্যাল সেন্টার থেকে। দাম ১,০০০ টাকা। এছাড়াও দরখাস্তের ফর্ম ডাউনলোড করতে পারেন এই ওয়েবসাইট থেকে : www.ignou.ac.in / www.ignoukolkatarc.com ডাকে ফর্ম নিতে হলে যে চিঠি লিখবেন তার সঙ্গে দেবেন ১,০০০ টাকার ডিম্যান্ড ড্রাফট। 'IGNOU'র অনুকূলে। ডিগ্রি ও মাস্টার ডিগ্রি কোর্সে অনলাইনে ভর্তির শেষ তারিখ ১৫ জুলাই। আরো বিস্তারিত তথ্য পাবেন ওই ওয়েবসাইটে। কলকাতা রিজিওন্যাল অফিসের ঠিকানা : IGNOU Regional Centre, Bikash Bhavan, North Block, 4th Floor, Salt Lake, Kolkata -91.

জেলা স্বাস্থ্যকেন্দ্রে ২,৮৪২ ১৭ পাতার পর পৃ

কোর্স পাশের পর কোনো হাসপাতাল বা স্বীকৃত ক্লিনিকে ১ বছরের ট্রেনিং নিয়ে থাকলে ভালো হয়। কোনো স্বীকৃত বিশ্ববিদ্যালয় থেকে পাবলিকইউস টেকনোলজির পোস্ট-গ্রাজুয়েট ডিপ্লোমা কোর্স পাশ হলেও যোগ্য। শূন্যপদ : ৩৭টি (জেনাঃ ১৭, তাজাঃ ২, তঃউজাঃ ২, ও.বি.সি. -এ ক্যাটেগরি ৪, ও.বি.সি. বি ক্যাটেগরি ৩, প্রতিবন্ধী ২)। মেডিক্যাল টেকনোলজিস্ট (ডায়ালিসিস) গ্রেড-III, ফিজিক্স, কেমিস্ট্রি ও বায়োলজি বিষয় নিয়ে উচ্চমাধ্যমিক পাশেরা ডায়ালিসিস টেকনিকের ২ বছরের ডিপ্লোমা কোর্স পাশ হলে আবেদন করতে পারেন। ডিপ্লোমা কোর্স পাশের পর কোনো হাসপাতাল বা স্বীকৃত ক্লিনিকে ১ বছরের ট্রেনিং নিয়ে থাকলে ভালো হয়। কোনো স্বীকৃত বিশ্ববিদ্যালয় থেকে ডায়ালিসিস টেকনিকের পোস্ট-গ্রাজুয়েট ডিপ্লোমা কোর্স পাশ হলেও যোগ্য। শূন্যপদ : ৩৪টি (জেনাঃ ১৭, তাজাঃ ৮, তঃউজাঃ ২, ও.বি.সি. -এ ক্যাটেগরি ৩, ও.বি.সি. বি ক্যাটেগরি ৩, প্রতিবন্ধী ১)। মেডিক্যাল টেকনোলজিস্ট (ক্যাথ ল্যাব) গ্রেড-III, ফিজিক্স, কেমিস্ট্রি ও বায়োলজি বিষয় নিয়ে উচ্চমাধ্যমিক পাশেরা ক্যাথ ল্যাব টেকনোলজির ২ বছরের ডিপ্লোমা কোর্স পাশ হলে আবেদন করতে পারেন। ডিপ্লোমা কোর্স পাশের পর কোনো হাসপাতাল বা স্বীকৃত ক্লিনিকে ১ বছরের ট্রেনিং নিয়ে থাকলে ভালো হয়। কোনো স্বীকৃত বিশ্ববিদ্যালয় থেকে ক্যাথ ল্যাব টেকনোলজির পোস্ট-গ্রাজুয়েট ডিপ্লোমা কোর্স পাশ হলেও যোগ্য। শূন্যপদ : ৩২টি (জেনাঃ ১৫, তাজাঃ ৮, তঃউজাঃ ২, ও.বি.সি. -এ ক্যাটেগরি ৩, ও.বি.সি. বি ক্যাটেগরি ৩, প্রতিবন্ধী ১)। মেডিক্যাল টেকনোলজিস্ট (ক্রিটিক্যাল কেয়ার) গ্রেড-III, ফিজিক্স, কেমিস্ট্রি ও বায়োলজি বিষয় নিয়ে উচ্চমাধ্যমিক পাশেরা ক্রিটিক্যাল কেয়ার টেকনোলজির ২ বছরের ডিপ্লোমা কোর্স পাশ হলে আবেদন করতে পারেন। ডিপ্লোমা কোর্স পাশের পর কোনো হাসপাতাল বা স্বীকৃত ক্লিনিকে ১ বছরের ট্রেনিং নিয়ে থাকলে ভালো হয়। কোনো স্বীকৃত বিশ্ববিদ্যালয় থেকে ক্রিটিক্যাল কেয়ার টেকনোলজির পোস্ট-গ্রাজুয়েট ডিপ্লোমা কোর্স পাশ হলেও যোগ্য। শূন্যপদ : ৫১৭টি (জেনাঃ ২৬৫, তাজাঃ ১১৫, তঃউজাঃ ৩২, ও.বি.সি. -এ ক্যাটেগরি ৫৩, ও.বি.সি. বি ক্যাটেগরি ৩৬, প্রতিবন্ধী ১৬)। মেডিক্যাল টেকনোলজিস্ট (ল্যাব) : ফিজিক্স, কেমিস্ট্রি ও বায়োলজি বিষয় নিয়ে উচ্চমাধ্যমিক পাশেরা ল্যাব টেকনোলজির ২ বছরের ডিপ্লোমা কোর্স পাশ হলে যোগ্য। বি.এসসি. কোর্স পাশেরা ল্যাব টেকনোলজির ১ বছরের ডিপ্লোমা কোর্স পাশেরাও যোগ্য। ডিপ্লোমা কোর্স পাশের পর কোনো হাসপাতাল বা, ক্লিনিকে ১ বছর ট্রেনিং নিয়ে থাকতে হবে। কম্পিউটারে জ্ঞান থাকতে হবে। শূন্যপদ : ৭২৫টি (জেনাঃ ৩৭৩, তাজাঃ ১৬২, তঃউজাঃ ৪৩, ও.বি.সি. -এ ক্যাটেগরি ৭২, ও.বি.সি. বি ক্যাটেগরি ৫২, প্রতিবন্ধী ২৩)। ফিজিওথেরাপিস্ট, গ্রেড-III : ফিজিক্স, কেমিস্ট্রি ও বায়োলজি বা, অর্থ নিয়ে উচ্চমাধ্যমিক পাশেরা ফিজিওথেরাপির ২ বছরের ডিপ্লোমা কোর্স পাশ হলে যোগ্য। ফিজিওথেরাপির ডিগ্রি কোর্স পাশ হলে ভালো হয়। শূন্যপদ : ১৯৩টি (জেনাঃ ৯৯, তাজাঃ ৪৪, তঃউজাঃ ১১, ও.বি.সি. -এ ক্যাটেগরি ১৯, ও.বি.সি. বি ক্যাটেগরি ১৪, প্রতিবন্ধী ৬)। ফার্মাসিস্ট, গ্রেড-III : ফিজিক্স, কেমিস্ট্রি ও বায়োলজি বা, অর্থ নিয়ে উচ্চমাধ্যমিক পাশেরা ফার্মাসিস ২ বছরের ডিপ্লোমা কোর্স পাশ হলে যোগ্য। শূন্যপদ : ৫৯০টি (জেনাঃ ৩০৪, তাজাঃ ১৩১, তঃউজাঃ ৩৫, ও.বি.সি. -এ ক্যাটেগরি ৫৯, ও.বি.সি. বি ক্যাটেগরি ৪২, প্রতিবন্ধী ১৯)। ওপরের ওইসব পদের জন্য সরকারিভাবে বিজ্ঞপ্তি বেরোনোর তারিখ ঠিক হয়েছে। এই পদের বিজ্ঞপ্তি নং : R/MT/Phar/Physio/48/2018. দরখাস্ত করবেন অনলাইনে, এই ওয়েবসাইটে : www.wbhrb.in মেডিক্যাল টেকনোলজিস্ট (এক্স-রে-রেডিওডায়গনস্টিক্স), মেডিক্যাল টেকনোলজিস্ট (ই.সি.জি.) গ্রেড-III, মেডিক্যাল টেকনোলজিস্ট (ডায়ালিসিস) গ্রেড-III, মেডিক্যাল টেকনোলজিস্ট (পারফিউশনিস্ট), গ্রেড-III, মেডিক্যাল টেকনোলজিস্ট (রেডিওথেরাপিস্ট), গ্রেড-III, মেডিক্যাল টেকনোলজিস্ট (ক্রিটিক্যাল কেয়ার) গ্রেড-III, মেডিক্যাল টেকনোলজিস্ট (ক্যাথ ল্যাব) গ্রেড-III, মেডিক্যাল টেকনোলজিস্ট (ই.ই.জি./ই.এম.জি.) পদের বিজ্ঞপ্তি বেরোবে ২৮ মে। দরখাস্ত করার শেষ তারিখ ৬ জুন। মেডিক্যাল টেকনোলজিস্ট (ল্যাব) গ্রেড-III পদের বিজ্ঞপ্তি বেরোবে ৮ জুন। দরখাস্ত করার শেষ তারিখ ১৮ জুন। ফার্মাসিস্ট গ্রেড-III পদের বিজ্ঞপ্তি বেরোবে ১৯ জুন। দরখাস্ত করার শেষ তারিখ ২৮ জুন। ফিজিওথেরাপিস্ট গ্রেড-III পদের বিজ্ঞপ্তি বেরোবে ৩০ জুন। দরখাস্ত করার শেষ তারিখ ৯ জুলাই। মেডিক্যাল টেকনোলজিস্ট (অপ্টোমেট্রি) গ্রেড-III পদের বিজ্ঞপ্তি বেরোবে ১১ জুলাই। দরখাস্ত করার শেষ তারিখ ২০ জুলাই। ওপরের ওইসব পদের বেলায় বিজ্ঞপ্তি বেরোলে তখন বিস্তারিত শিক্ষাগত যোগ্যতা, বয়স, মূল মাইনে, প্রার্থী বাছাই পদ্ধতি ইত্যাদি 'কর্মসংস্থানে' দেওয়া হবে।

১২৯ অ্যাসিস্ট্যান্ট ১ পাতার পর পৃ

যোগ্য। মূল মাইনে : ৯,০০০-১৬,৪০০ টাকা। শূন্যপদ : ভাতিজা ইউনিটে (পোস্ট কোড 01) ১০টি (জেনাঃ ৭, তাজাঃ ৩)। পানিপথ ইউনিটে (পোস্ট কোড 01) ৪০টি (জেনাঃ ২২, তাজাঃ ৭, ও.বি.সি. ১১)। বিজয়পুর ইউনিটে (পোস্ট কোড 01) ১০টি (জেনাঃ ৫, তাজাঃ ২, তঃউজাঃ ২, ও.বি.সি. ১)। জুনিয়র ইঞ্জিনিয়ারিং অ্যাসিস্ট্যান্ট গ্রেড-II (মেকানিক্যাল) : মেকানিক্যাল ইঞ্জিনিয়ারিংয়ের ৩ বছরের ডিপ্লোমা কোর্স পাশেরা যোগ্য। মূল মাইনে : ৯,০০০-১৬,৪০০ টাকা। শূন্যপদ : ভাতিজা ইউনিটে (পোস্ট কোড 02) ১২টি (জেনাঃ ৭, তাজাঃ ৩, ও.বি.সি. ২)। পানিপথ ইউনিটে (পোস্ট কোড 02) ১০টি (জেনাঃ ৭, তাজাঃ ১, ও.বি.সি. ২)। বিজয়পুর ইউনিটে (পোস্ট কোড 02) ১৫টি (জেনাঃ ৮, তাজাঃ ২, তঃউজাঃ ৩, ও.বি.সি. ২)। জুনিয়র ইঞ্জিনিয়ারিং অ্যাসিস্ট্যান্ট গ্রেড-II (ইলেক্ট্রিক্যাল) : ইলেক্ট্রিক্যাল বা, ইলেক্ট্রিক্যাল অ্যান্ড ইলেক্ট্রনিক্স ইঞ্জিনিয়ারিংয়ের ৩ বছরের ডিপ্লোমা কোর্স পাশেরা যোগ্য। মূল মাইনে : ৯,০০০-১৬,৪০০ টাকা। শূন্যপদ : ভাতিজা ইউনিটে (পোস্ট কোড 03) ৫টি (জেনাঃ ৩, তাজাঃ ১, ও.বি.সি. ১)। পানিপথ ইউনিটে (পোস্ট কোড 03) ৩টি (জেনাঃ ২, তাজাঃ ১)। বিজয়পুর ইউনিটে (পোস্ট কোড 03) ৪টি (জেনাঃ ২, তাজাঃ ১, ও.বি.সি. ১)। জুনিয়র ইঞ্জিনিয়ারিং অ্যাসিস্ট্যান্ট গ্রেড-II (ইন্সট্রুমেন্টেশন) : ইন্সট্রুমেন্টেশন, ইন্সট্রুমেন্টেশন অ্যান্ড কন্ট্রোল, ইলেক্ট্রনিক্স অ্যান্ড ইন্সট্রুমেন্টেশন, ইলেক্ট্রনিক্স অ্যান্ড কন্ট্রোল, ইন্সট্রুমেন্টেশন অ্যান্ড কন্ট্রোল, ইন্সট্রুমেন্টেশন, প্রসেস কন্ট্রোল ইন্সট্রুমেন্টেশন, ইলেক্ট্রনিক্স অ্যান্ড ইলেক্ট্রিক্যাল, অ্যাপ্রায়ড ইলেক্ট্রনিক্স অ্যান্ড ইন্সট্রুমেন্টেশন, ইলেক্ট্রনিক্স অ্যান্ড কমিউনিকেশন, ইলেক্ট্রনিক্স অ্যান্ড কন্ট্রোল ইঞ্জিনিয়ারিংয়ের ৩ বছরের ডিপ্লোমা কোর্স পাশেরা যোগ্য। মূল মাইনে : ৯,০০০-১৬,৪০০ টাকা। শূন্যপদ : ভাতিজা ইউনিটে (পোস্ট কোড 04) ৪টি (জেনাঃ ৩, তাজাঃ ১)। পানিপথ ইউনিটে (পোস্ট কোড 04) ৯টি (জেনাঃ ৫, তাজাঃ ১, ও.বি.সি. ৩)। বিজয়পুর ইউনিটে (পোস্ট কোড 04) ৫টি (জেনাঃ ৪, তঃউজাঃ ১)। ফায়ারম্যান : মাধ্যমিক পাশেরা এলিমেন্টারি ফায়ার ফাইটিংয়ের

অন্তত ৬ মাসের কোর্স পাশ হলে যোগ্য। মাধ্যমিক পাশেরা ন্যূনতম ন্যাশনাল ফায়ার সার্ভিস কলেজ থেকে সার্ব-অফিসার রেগুলার কোর্স পাশ হলেও যোগ্য। শারীরিকভাবে সুস্থ থাকতে হবে। শরীরের মাপজোশ হতে হবে লম্বায় অন্তত ১৬৫ সেমি, বুকের ছাতি না-ফুলিয়ে ৮১ সেমি ও ফুলিয়ে ৮৫ সেমি আর ওজন অন্তত ৫০ কেজি। দৃষ্টিশক্তি মরফার ৬/৬। মূল মাইনে : ৯,০০০-১৬,৪০০ টাকা। শূন্যপদ : নাজাল ইউনিটে ২টি (জেনাঃ)। ওপরের সব ক্ষেত্রে শিক্ষাগত যোগ্যতার অন্তত ৫০% (তপশিলী, প্রতিবন্ধী হলে ৪৫%) নম্বর পেয়ে থাকতে হবে। বয়স হতে হবে ৩১-৫-২০১৮-এর হিসাবে ১৮ থেকে ৩০ বছরের মধ্যে। তপশিলী, ও.বি.সি. স্বাধীনতা বয়সে ছাড় পাবেন। প্রার্থী বাছাই হবে কম্পিউটার বেসড অনলাইন অবজেক্টিভ টাইপের টেস্টের মাধ্যমে। পরীক্ষা হবে ৭ জুলাই। অ্যাডমিট কার্ড ডাউনলোড করতে পারবেন ২৪ থেকে ২৬ জুনের মধ্যে। ২ ঘণ্টার পরীক্ষার ১৫০টি প্রশ্ন হবে। এর মধ্যে ১০০টি প্রশ্ন হবে সংশ্লিষ্ট শাখার ওপর আর ৫০টি প্রশ্ন হবে জেনারেল ইংলিশ, কোয়ালিটি টেস্টিং অ্যাপ্রিটিউড, রিজনিং ও জেনারেল নলেজ বা, অ্যাওয়ারেনেস বিষয়ে। নেপেটিভ মার্কিং নেই। দরখাস্ত করবেন অনলাইনে, ১৭ জুনের মধ্যে। এই ওয়েবসাইটে : www.nationalfertilizers.com এজন্য বৈধ একটি ই-মেল আই ডি. থাকতে হবে। এছাড়াও পাশপোর্ট মাপের ফটো ও সিগনেচার জে.পি.ই.জি. ফর্ম্যাটে স্ক্যান করে নেবেন। এবার পরীক্ষা ফী বাবদ

২৩৫ টাকা ডেবিট কার্ড, ক্রেডিট কার্ড বা, ইন্টারনেট ব্যাঙ্কিংয়ের মাধ্যমে জমা দিতে হবে। তপশিলী, প্রতিবন্ধী ও প্রাক্তন সশস্ত্রবাহিনীর ফী লাগবে না। টাকা জমা দেওয়ার পর সিস্টেম জেনারেটেড অ্যাপ্রিকেশন ফর্ম প্রিন্ট করে নেবেন। আরো বিস্তারিত তথ্য পাবেন ওই ওয়েবসাইটে।

6-8 মাসের মধ্যে সরকারি চাকরির পরীক্ষায় সাফল্যের গ্যারান্টি দিচ্ছে "itee"।
B.TECH, DIPLOMA & I.T.I. নাম student দেব সরকারি চাকরির প্রশিক্ষণ (CE, ME, EE, ECE, AE ইত্যাদি)
SAIL, DCL, TCI, DRDO, RAIL (JE & SSE) ইত্যাদি।
মাধ্যমিক, উচ্চমাধ্যমিক ও গ্রাজুয়েট পাস student দেব সরকারি চাকরির প্রশিক্ষণ
RAIL (GR - D, ASM), BANK, P.O., CLERK ইত্যাদি।
দমদম → 9830859046
বারাসাত → 9804820827

১৩২ পাতার **কর্মসংস্থান** গোষ্ঠীর **দাম ২৫ টাকা**

মে সংখ্যা **সাফল** বেরিয়েছে

রেলের গ্রুপ 'ডি' স্পেশাল
 সেট সম্ভাব্য প্রশ্নোত্তর

রেলের ড্রাইভার ও টেকনিশিয়ান
 পদের পরীক্ষার ১ সেট সম্ভাব্য প্রশ্নোত্তর

কম্বাইন্ড গ্রাজুয়েট লেভেল
 পরীক্ষার ১ সেট সম্ভাব্য প্রশ্নোত্তর

রাজ্য পুলিশের কনস্টেবল
 পদের পরীক্ষার ২ সেট সম্ভাব্য প্রশ্নোত্তর

আবগারি দফতরে সাব-ইন্সপেক্টর
 পদের পরীক্ষার ১ সেট সম্ভাব্য প্রশ্নোত্তর

স্টেট ব্যাঙ্কের ক্লার্ক
 পরীক্ষার ১ সেট সম্ভাব্য প্রশ্নোত্তর

কী করে ইংরিজি বলা শিখবেন
ভারতীয় সংবিধান ও ইংরিজি নিবন্ধ
 সাম্প্রতিক সব পরীক্ষার নয়া প্রশ্নোত্তরের হৃদিশ
 ফোন : ৯৮৩০৬২৪১৭০

কেরিয়ার

আজকের দিনে জীববিজ্ঞানের সবচেয়ে সম্ভাবনাময় শাখা হল বায়োটেকনোলজি বা, জৈব প্রযুক্তি। এককথায়, জৈব প্রযুক্তি হল জীববিজ্ঞানের সঙ্গে প্রযুক্তির মেলবন্ধন। জীববিজ্ঞানের অত্যাধুনিক সব বিক নিয়ে যারা জানতে, শিখতে ও কাজ করতে চান, তাঁরা জৈবপ্রযুক্তি বিষয় নিয়ে পড়লে উচ্চল কেরিয়ার গড়তে পারেন।

এই বিষয়টিকে অনেকে আজকের সভ্যতার মূল চাবিকাঠি বা, জিননকাঠি বলেন। কারণ কৃষি, শিল্প থেকে চিকিৎসা জগতে

জৈবপ্রযুক্তির প্রয়োগ ও ব্যবহার যুগান্তকারী পরিবর্তন এনেছে। উদ্ভিদ ও প্রাণীসেহের গঠনের একক হল কোশ। কোশের মধ্যে থাকা ডি-অক্সিরাইনোনিউক্লিক অ্যাসিড বা, ডি.এন.এ জীবজগতের ব্যবহৃত মূল নৈশিষ্ট্য বহন করে। এই ডি.এন.এ'র গঠনে সূক্ষ্ম পরিবর্তন ঘটলে জীবজগতে যুগান্তকারী পরিবর্তন আনা হচ্ছে। কৃষিক্ষেত্রে উচ্চফলনশীল ফসল উৎপাদন, ক্রোনিয়ের মাধ্যমে কৃত্রিমভাবে প্রাণীর জন্ম দেওয়া, চিকিৎসাক্ষেত্রে রোগের ক্ষেত্রে নির্ধারিত কোশ বা, সেলটিকে চিকিত্সা করে এর বিরুদ্ধে প্রতিরোধী ওষুধ তৈরি — প্রতিটি ক্ষেত্রেই জৈব প্রযুক্তি বৈপ্লবিক পরিবর্তন এনেছে। আধুনিক পৃথিবীতে কৃষি, শিল্প, পরিবেশ, স্বাস্থ্য — সবক্ষেত্রেই জৈবপ্রযুক্তির ব্যবহার হয়।

সারা দেশে জনসংখ্যা বাড়ছে কিন্তু সেই তুলনায় চাষের জমি বাড়ছে না বরং নগরায়ণের জন্য চাষের জমি ক্রমশ কমছে। এজন্য একই জমিতে বেশি খাদ্য সংস্থানের জন্য দরকার হচ্ছে উচ্চফলনশীল ফসল। শাক-সবজি-ফসল হবে পুষ্টিওৎসম্পন্ন। আবার উচ্চফলনশীল ফসলের সঙ্গে সঙ্গে গাছও হতে হবে এমন যাতে ভাইরাস বা, ছত্রাকের আক্রমণ হবে না। আর এসবই সম্ভব হচ্ছে জৈবপ্রযুক্তির জন্য। শিল্পের উন্নতি ও সেইসঙ্গে কৃষিক্ষেত্রে বীচালোর জন্য জৈবপ্রযুক্তিই একমাত্র পথ। জৈবপ্রযুক্তির প্রয়োগই একদিন দুরারোগ্য রোগের নিরাময় হবে। সত্যি বলতে কি, জৈবপ্রযুক্তির ক্ষেত্রে আমরা এখনও পর্যন্ত অল্প জেনেছি, আরও অনেক অজানা দিক রয়ে গেছে।

কারা পড়তে পারেন : কোনো কোনো কলেজে (বেসরকারি কলেজে) ডিগ্রি কোর্সে বায়োটেকনোলজি বিষয়ে বি.এসসি. বা, বি.টেক. পড়ানো হয় কিন্তু বেশিরভাগ বিশ্ববিদ্যালয়ে পোস্ট গ্রাজুয়েশনেই বিষয়টি পড়ানো হয়। ডিগ্রি কোর্সে জীবন বিজ্ঞানের যে কোনো শাখায় বা, ফিজিওলজি, কেমিস্ট্রি, ম্যাথমেটিক্স বা, স্ট্যাটিসটিক্স নিয়ে ডিগ্রি কোর্স পাশ বা, অ্যাগ্রিকালচার সায়েন্স নিয়ে ডিগ্রি কোর্স পাশ ছেলেমেয়েরা বায়োটেকনোলজির পোস্ট গ্রাজুয়েট কোর্সে ভরতি হতে পারেন। এমনকী এম.বি.বি.এস. বা, বি.বি.এস. কোর্স পাশ ছেলেমেয়েরাও পড়তে পারেন।

নীতাবে ভরতি নেওয়া হয় : সরাসরি বা, প্রবেশিকা পরীক্ষার মাধ্যমে ভরতি নেওয়া হয়। এছাড়াও সর্বাঙ্গীণ বিশ্ববিদ্যালয়ের নিয়ম প্রযোজ্য হয়। এছাড়াও কম্বাইন্ড বায়োটেকনোলজির এন্ট্রান্স পরীক্ষার মাধ্যমে ভরতির সুযোগ আছে। এই প্রবেশিকা পরীক্ষার নাম 'কম্বাইন্ড

বায়োটেকনোলজি এন্ট্রান্স এক্সামিনেশন'। পশ্চিমবঙ্গে পরীক্ষার কেন্দ্র কলকাতা ও শিলিগুড়ি। পরিচালনা করে 'জ ও হ র লাল নেহরু বিশ্ববিদ্যালয়'।

কম্বাইন্ড বায়োটেকনোলজি এন্ট্রান্স পরীক্ষার মাধ্যমে এইসব পোস্ট গ্রাজুয়েট কোর্সে ভরতি হওয়া যায় : (১) এম.এসসি. বায়োটেকনোলজি, (২) এম.এসসি. অ্যাগ্রিকালচারাল বায়োটেকনোলজি, (৩) মাস্টার অফ ডেভেলপমেন্টাল সায়েন্স (বায়োটেকনোলজি), (৪) এম.টেক বায়োটেকনোলজি।

এরাজে কলকাতা বিশ্ববিদ্যালয়ে প্রথম ১৯৯৮ সালে পোস্ট গ্রাজুয়েশনে বায়োটেকনোলজি কোর্সে পড়ানো শুরু হয়। সীট : ১০টি। এর মধ্যে ৬০% সীট এই

ডিগ্রি কোর্স পোস্ট-গ্রাজুয়েট পাশ ছেলেমেয়েদের জন্য

জৈব প্রযুক্তি কৃষি থেকে চিকিৎসা ক্ষেত্রে কাজের ক্ষেত্রে এনেছে নতুন দিগন্ত

দেশের শিল্প ক্ষেত্রে জৈব প্রযুক্তি এনেছে এক অন্য দিক। কেন্দ্রীয় সরকারের বিজ্ঞান ও প্রযুক্তি মন্ত্রক এই ক্ষেত্রে গুরু টাকা বিনিয়োগ করেছে ও এই শাখার মেধাবী ছেলেমেয়েদের নতুন-নতুন সুযোগ দিচ্ছে। শিল্পের সেই রাজ্য সরকারও। কারা, নীতাবে এই পেশায় আসতে পারেন, তা নিয়ে বিস্তারিত আলোচনা করা হল এই প্রতিবেদনে।



বিদ্যালয়ের ছাত্রছাত্রীদের জন্য সরেক্ষিত ও বাকি ৪০% সীট অন্য বিশ্ববিদ্যালয়ের ছাত্রছাত্রীদের জন্য। ভরতি নেওয়া হয় ১০০ নম্বরের একটি প্রবেশিকা পরীক্ষার মাধ্যমে। এই বিশ্ববিদ্যালয়ের ছাত্রছাত্রীদের ক্ষেত্রে ডিগ্রি কোর্সের নম্বরও দেখা হয়।

বায়োটেকনোলজি বা, জৈব প্রযুক্তি একটি ইন্টারডিসিপ্লিনারি বা, বহুমুখী বিষয়ের সমন্বয়। জৈবপ্রযুক্তির অন্তর্ভুক্ত বিষয়ে আছে : ফিজিওলজি, কেমিস্ট্রি, ম্যাথমেটিক্স, সংখ্যাতত্ত্ব, মাইক্রোবায়োলজি, সেলবায়োলজি, জেনেটিক্স, মলিকুলার বায়োলাজি, তেমনি আছে, অ্যাগ্রিকালচার ফুড প্রোডাকশন, ইঞ্জিনিয়ারিং টেকনোলজি বিষয়। বিষয়টি পুরোপুরি ফলিত বিজ্ঞান।

উচ্চশিক্ষার সুযোগ : বায়োটেকনোলজি বিষয় নিয়ে এম.এসসি. কোর্স পাশ করার পর পিএইচ.ডি. করা যায়। এছাড়াও এম.টেকের কোর্সে ভরতি হওয়া যায়।

কাজের ক্ষেত্র : জৈব প্রযুক্তি নিয়ে পোস্ট-গ্রাজুয়েট কোর্স পাশ করার পর কাজের সুযোগ আছে এই ২টি ক্ষেত্রে : (১) গবেষণা-শিক্ষকতা ও (২) শিল্পক্ষেত্রে। 'নেট' বা, 'সেট' পরীক্ষায় সফল হয়ে কলেজ বা, বিশ্ববিদ্যালয়ে সহ-অধ্যাপক পদে আবেদন করা যায়। পশ্চিমবঙ্গ স্কুল সার্ভিস কমিশনের SLST পরীক্ষায় বায়োটেকনোলজি বিষয়টি অন্তর্ভুক্ত হওয়ায় সহ-শিক্ষক পদের পরীক্ষায় আবেদন করা যায়। 'নেট' বা, 'সেট' পরীক্ষায় সফল হয়ে বিভিন্ন বিশ্ববিদ্যালয় ও জাতীয় গবেষণা প্রতিষ্ঠানে রিসার্চ ফেলো হিসাবে কাজের ভালো সুযোগ আছে। দেশ ও বিদেশে কেন্দ্রীয় সরকারের ডিপার্টমেন্ট অফ বায়োটেকনোলজির তথ্য অনুসারে, কেমিস্ট্রি, বায়োসায়েন্স, মাইক্রোবায়োলজি, মলিকুলার বায়োলাজি, ইমিউনোলজি, জেনেটিক ইঞ্জিনিয়ারিং, ফুড টেকনোলজি,

অ্যাগ্রিকালচার, আনিম্যাল সায়েন্স, পরিবেশ বিজ্ঞান ইত্যাদি ক্ষেত্রে জৈব প্রযুক্তি নিয়ে গবেষণায় অনেক সুযোগ ও কাজ আছে।

সরকারি ও বেসরকারি এইসব শিল্পক্ষেত্রে জৈব প্রযুক্তি ভালো সুযোগ আছে : ফার্মাসিউটিক্যাল শিল্প, কেমিক্যাল ও বায়োকেমিক্যাল শিল্প, অ্যাগ্রিকালচারাল ও

বায়োকেমিক্যাল ইত্যাদি, জৈব প্রযুক্তি, ফুড প্রোডাকশন ডিপার্টমেন্ট, প্রফিটিল মিল, বৃক্ষ চিকিৎসা, জলসুচ্ছন্ন, পরিষ্কার উৎপাদন, পলিসি, জলস্বাস্থ্য, পুষ্ণ শিল্প ইত্যাদি। বিভিন্ন বিশ্ববিদ্যালয়ে জৈবপ্রযুক্তি শাখায় বায়ো টেকনোলজি ইন্টারডিসিপ্লিনারি কোর্সে ডিপ্লোম্যা 'ইন্টার-মিডিয়ট' অফ পিডি কুলতে পারেন। সরকার থেকে আর্থিক সাহায্য দেওয়া হয়। প্রতি বছর এই বিশ্ববিদ্যালয়ের জৈব প্রযুক্তি বিভাগ থেকে ডিপ্লোম্যা মিল পাওয়া জৈব প্রযুক্তি ক্ষেত্রে কেরিয়ার সংশ্লিষ্ট সায়েন্স/সেভেন্থ স্ট্রীটের পরীক্ষার আয়োজন করা হয়। জাতীয় স্তরের পরীক্ষা এই সিস্টেমে চালানো হয়েছে। উচ্চল কেরিয়ার গড়তে চাইলে : জৈব প্রযুক্তি বিষয়ে উচ্চল কেরিয়ার গড়তে চাইলে সংশ্লিষ্ট বিষয়ে পোস্ট গ্রাজুয়েট কোর্সে পাস করার পর পিএইচ.ডি. করা বরকার। সারা বিশ্বজুড়েই জৈবপ্রযুক্তিবিদদের চাহিদা বাড়ছে। কারণ জৈবপ্রযুক্তির ব্যবহার ও প্রয়োগ ছাড়া শিল্প ও কৃষির উন্নতি সম্ভব নয়। শিল্প ও কৃষিক্ষেত্রে পলি সামগ্রী উৎপাদনের ক্ষেত্রে সরকার বৈচিত্র্যকেন্দ্র। উন্নত স্বাস্থ্য, পরিবেশ, স্যানিটেশন, ভূপৃষ্ঠ ও ময়ূরের সংগ্রহ সংরক্ষণ, গবেষণার জন্য ল্যাম 'ইন্টারনেশন ও কমিউনিটিস টেকনোলজি'র জন্য, বা জৈব প্রযুক্তি থেকে পাওয়া যায়। ফলে বিশ্বজুড়ে কারও জালোড়ানে পড়ে যারা ভালো কাজ করার দক্ষতা সেখানেই তাঁদের জন্য দেশে ও বিদেশে কাজের ও গবেষণার সুযোগ ক্রমশ বাড়ছে। কলকাতা বিশ্ববিদ্যালয়ে বহু কৃতি বিদেশে বিশেষত মার্কিন যুক্তরাষ্ট্র ও ইউরোপে গবেষণা করছে।

শিলাদিত্য

০৪ ২০১৮

বর্ষাবন্দনা

শ্রেয়সিং

এটি বিশেষ রচনা
৩টি বছর
কবিতাভাষ্য

বায়োটেকনোলজির কোথায় কী ধরনের কোর্স পড়ানো হয়

- ডিগ্রি কোর্স :** বায়োটেকনোলজির ডিগ্রি কোর্স পড়ানো হয় এইসব কলেজে : ইনস্টিটিউট অফ জেনেটিক ইঞ্জিনিয়ারিং, হেরিটেজ ইনস্টিটিউট অফ টেকনোলজি, হলদিয়া ইনস্টিটিউট অফ টেকনোলজি, দুর্গাপুর কলেজ অফ কমার্স অ্যান্ড সায়েন্স, দুর্গাপুর ইনস্টিটিউট অফ সায়েন্স অ্যান্ড টেকনোলজি, কল্যাণী মহাবিদ্যালয়, পাঁশকুড়া বনমালী কলেজ।
- পোস্ট গ্রাজুয়েট কোর্স :** (১) কলকাতা বিশ্ববিদ্যালয়, বালিগঞ্জ সার্কুলার রোডের ক্যাম্পাস। www.caluniv.ac.in। (২) লাইফ সায়েন্স অ্যান্ড বায়োটেকনোলজি বিভাগ, যাদবপুর বিশ্ববিদ্যালয়। www.jaduniv.edu.in। (৩) কল্যাণী বিশ্ববিদ্যালয়। www.klyuniv.ac.in। রাজ্যের একমাত্র এখানে বায়োটেকনোলজিতে বি.এসসি. অনার্স কোর্স পড়ানো হয়। বিশ্ববিদ্যালয়ের মলিকুলার বায়োলাজি ও বায়োটেকনোলজি বিভাগে পোস্ট গ্রাজুয়েট কোর্স পড়ানো হয়। (৪) বিশ্বভারতী বিশ্ববিদ্যালয়। www.visyabharati.ac.in। (৫) উত্তরবঙ্গ বিশ্ববিদ্যালয়। www.nbu.ac.in। (৬) বর্ধমান বিশ্ববিদ্যালয়। www.buruniv.ac.in।
- রাজ্যের যেসব বেসরকারি বিশ্ববিদ্যালয়ে পড়ানো হয় : (১) জি.আই.এস. বিশ্ববিদ্যালয়, (২) নেওটিয়া বিশ্ববিদ্যালয়।
- রাজ্যের বাইরে পড়ানো হয় : (১) আমামালাই ইউনিভার্সিটি, (২) বেনারস হিন্দু বিশ্ববিদ্যালয়, (৩) কালিকট বিশ্ববিদ্যালয়, (৪) এলাহাবাদ বিশ্ববিদ্যালয়, (৫) দেবী অহল্যা বিশ্ববিদ্যালয়, (৬) কালিকট বিশ্ববিদ্যালয়, (৭) গোয়া বিশ্ববিদ্যালয়, (৮) হিমাচল প্রদেশ বিশ্ববিদ্যালয়, (৯) হায়দরাবাদ বিশ্ববিদ্যালয়, (১০) জওহরলাল নেহরু বিশ্ববিদ্যালয়, (১১) মাদুরাই কামরাজ বিশ্ববিদ্যালয়, (১২) পুণে বিশ্ববিদ্যালয়, (১৩) তেজপুর বিশ্ববিদ্যালয়, (১৪) লাক্ষ্মী বিশ্ববিদ্যালয়, (১৫) উৎকল বিশ্ববিদ্যালয়, (১৬) কুমায়ুন বিশ্ববিদ্যালয়।

রেলের গ্রুপ 'ডি' পদের সম্ভাব্য প্রশ্নোত্তর



কলকাতা, গুয়াহাটি, পটনা, রাঁচি, ভুবনেশ্বর-সহ সারা ভারতের ১৭টি রেলওয়ে রিক্রুটমেন্ট বোর্ডের মাধ্যমে রেল 'হেল্পার / ইলেক্ট্রিক্যাল (ওয়ার্কশপ)', 'হেল্পার / ইলেক্ট্রিক্যাল / এ.সি.', 'হেল্পার / ইলেক্ট্রিক্যাল / জেনারেল মার্জিনেস', 'হেল্পার / ইলেক্ট্রিক্যাল / পাওয়ার', হেল্পার / ইলেক্ট্রিক্যাল / ট্রেন লাইটিং, হেল্পার / ইলেক্ট্রিক্যাল / টি.আর.ডি., হেল্পার / ইলেক্ট্রিক্যাল / টি.আর.এস., হেল্পার / ব্রিজ, হেল্পার / সিভিল, হেল্পার / সিভিল (ওয়ার্কশপ), হেল্পার / শি.ওয়ে, হেল্পার / ট্রাক মেশিন, হেল্পার / অয়ার ট্রাক মেশিনার গ্রেড-IV, হেল্পার / মেকানিক্যাল, হেল্পার / মেকানিক্যাল / ক্যারিয়ার অ্যান্ড ওয়ারশপ, হেল্পার / মেকানিক্যাল / ডিজেল ইলেক্ট্রিক্যাল, হেল্পার / মেকানিক্যাল / ডিজেল মেকানিক্যাল, হেল্পার / মেকানিক্যাল (পাওয়ার), হেল্পার / এস অ্যান্ড টি, হেল্পার / এস অ্যান্ড টি (ওয়ার্কশপ), হেল্পার / সিগন্যাল, হেল্পার / টেলিকমিউনিকেশন, হেল্পার / মেডিক্যাল, হসপিটাল অ্যাটেন্ড্যান্ট, অ্যানিস্টার পয়েন্টম্যান, গেটম্যান, পোর্টার / হামাল / সুইপার কাম পোর্টার পদে ৬২,৯০৭ জন ছেলেমেয়ে নেওয়া হচ্ছে। এই পদের বেলায় গ্রুপে কন্সিডারেশন বেসড টেস্ট হবে অনলাইনে, মে থেকে জুন মাসের মধ্যে। অনলাইন পরীক্ষায় ১০০টি অলজেক্টিভ মাল্টিপল চয়েজ টাইপের প্রশ্ন হবে এইসব বিষয়ে:

(১) জেনারেল অ্যাওয়ারনেস (কারেন্ট অ্যাফেয়ারস), (২) অঙ্ক, (৩) জেনারেল ইন্টেলিজেন্স অ্যান্ড রিজনিং, (৪) জেনারেল সায়েন্স। সময় থাকলে সেভে যটা। কলকাতা, রাঁচি, গুয়াহাটি রেল রিক্রুটমেন্ট বোর্ডের বেলায় প্রশ্ন হবে বাংলায়। নেগেটিভ মার্কিং আছে। ৩টি প্রশ্নের ভুল উত্তরের জন্য প্রাপ্ত নম্বর থেকে ১ নম্বর কাটা হবে। এই প্রিলিমিনারি পরীক্ষার প্রস্তুতির জন্য বাছাই করা ১ সেট প্রশ্নের উত্তর নিয়ে বিশ্লেষণ করে সেন্সাless প্রতিশোধিতামূলক পরীক্ষার বিশেষজ্ঞ সৌমিত্র দে।

১. ভারতীয় ক্রিকেট দলের কোন ব্যক্তির সঙ্গে যুক্ত?
 - (a) ভারতীয় ক্রিকেট দল (b) ভারতীয় সৌখিনী (c) ভারতীয় ক্রিকেট দল (d) ভারতীয় ক্রিকেট দল
২. কোন দেশে ক্রিকেট দলের কোন ব্যক্তির সঙ্গে যুক্ত ছিলেন?
 - (a) ইংল্যান্ড (b) স্কটল্যান্ড (c) ইন্ডিয়া (d) ভারত
৩. ভারতের কোন শহরে ক্রিকেট দলের কোন ব্যক্তির সঙ্গে যুক্ত ছিলেন?
 - (a) কলকাতা (b) গুয়াহাটি (c) পটনা (d) রাঁচি
৪. ভারতের কোন শহরে ক্রিকেট দলের কোন ব্যক্তির সঙ্গে যুক্ত ছিলেন?
 - (a) কলকাতা (b) গুয়াহাটি (c) পটনা (d) রাঁচি
৫. কোন দেশে স্পর্শিত পক্ষ কমনওয়েলথ দেশের ব্রিজ প্রতিযোগিতায় অংশগ্রহণ করে?
 - (a) ভারত (b) ইন্ডিয়া (c) স্কটল্যান্ড (d) অস্ট্রেলিয়া
৬. স্পর্শিত ভারতের কোন অঞ্চলে ইন্ডিয়ান স্ট্রীট লাইট প্রকল্প চালু হবে?
 - (a) উত্তর-পূর্ব (b) মধ্য (c) উত্তর (d) উত্তর-পশ্চিম
৭. Taiwan ভারতের কোন রাজ্যের সঙ্গে Technology Partnership Agreement স্বাক্ষর করে?
 - (a) অসম (b) অন্ধ্রপ্রদেশ (c) মেঘালয় (d) মিজোরাম
৮. 'সুন্দর' কী?
 - (a) পদ্ম (b) কুমুদ (c) পদ্ম (d) কুমুদ
৯. পদ্ম (b) কুমুদ (c) পদ্ম (d) কুমুদ
১০. কোন দেশে স্পর্শিত ইন্ডিয়ান স্ট্রীট লাইট প্রকল্প চালু হবে?
 - (a) উত্তর-পূর্ব (b) মধ্য (c) উত্তর (d) উত্তর-পশ্চিম
১১. ভারতের কোন রাজ্যে স্পর্শিত ইন্ডিয়ান স্ট্রীট লাইট প্রকল্প চালু হবে?
 - (a) উত্তর-পূর্ব (b) মধ্য (c) উত্তর (d) উত্তর-পশ্চিম
১২. ভারতের কোন রাজ্যে স্পর্শিত ইন্ডিয়ান স্ট্রীট লাইট প্রকল্প চালু হবে?
 - (a) উত্তর-পূর্ব (b) মধ্য (c) উত্তর (d) উত্তর-পশ্চিম
১৩. ভারতের কোন রাজ্যে স্পর্শিত ইন্ডিয়ান স্ট্রীট লাইট প্রকল্প চালু হবে?
 - (a) উত্তর-পূর্ব (b) মধ্য (c) উত্তর (d) উত্তর-পশ্চিম
১৪. ভারতের কোন রাজ্যে স্পর্শিত ইন্ডিয়ান স্ট্রীট লাইট প্রকল্প চালু হবে?
 - (a) উত্তর-পূর্ব (b) মধ্য (c) উত্তর (d) উত্তর-পশ্চিম
১৫. ভারতের কোন রাজ্যে স্পর্শিত ইন্ডিয়ান স্ট্রীট লাইট প্রকল্প চালু হবে?
 - (a) উত্তর-পূর্ব (b) মধ্য (c) উত্তর (d) উত্তর-পশ্চিম
১৬. ভারতের কোন রাজ্যে স্পর্শিত ইন্ডিয়ান স্ট্রীট লাইট প্রকল্প চালু হবে?
 - (a) উত্তর-পূর্ব (b) মধ্য (c) উত্তর (d) উত্তর-পশ্চিম
১৭. ভারতের কোন রাজ্যে স্পর্শিত ইন্ডিয়ান স্ট্রীট লাইট প্রকল্প চালু হবে?
 - (a) উত্তর-পূর্ব (b) মধ্য (c) উত্তর (d) উত্তর-পশ্চিম
১৮. ভারতের কোন রাজ্যে স্পর্শিত ইন্ডিয়ান স্ট্রীট লাইট প্রকল্প চালু হবে?
 - (a) উত্তর-পূর্ব (b) মধ্য (c) উত্তর (d) উত্তর-পশ্চিম
১৯. ভারতের কোন রাজ্যে স্পর্শিত ইন্ডিয়ান স্ট্রীট লাইট প্রকল্প চালু হবে?
 - (a) উত্তর-পূর্ব (b) মধ্য (c) উত্তর (d) উত্তর-পশ্চিম
২০. ভারতের কোন রাজ্যে স্পর্শিত ইন্ডিয়ান স্ট্রীট লাইট প্রকল্প চালু হবে?
 - (a) উত্তর-পূর্ব (b) মধ্য (c) উত্তর (d) উত্তর-পশ্চিম

২০. ভারতের কোন শহরে স্পর্শিত ভারত-কোরিয়া বাণিজ্য সংশোধন অনুষ্ঠিত হল?
 - (a) গুয়াহাটি (b) শ্রীহাট (c) চণ্ডীগড় (d) সিমলা
২১. ভারতের কোন শহরে স্পর্শিত রাষ্ট্রীয় সংস্কৃতি মহোৎসব অনুষ্ঠিত হল?
 - (a) মধ্য প্রদেশ (b) তেলঙ্গানা (c) অন্ধ্র প্রদেশ (d) মধ্যপ্রদেশ
২২. কোথায় সপ্তম যুব উৎসব অনুষ্ঠিত হল?
 - (a) বীহার (b) মিজোরাম (c) অসম (d) গুয়াহাটি
২৩. ভারতের কোন শহরে স্পর্শিত সজল যোজনা চালু হল?
 - (a) হরিয়ানা (b) রাজস্থান (c) পঞ্জাব (d) অসম
২৪. ভারতের কোন রাজ্যে আত্ম টু-ইয়ার প্রকল্প চালু হল?
 - (a) কর্ণাটক (b) তেলঙ্গানা (c) তামিলনাড়ু (d) কেরালা
২৫. কবে সেন্ট্রাল এক্সাইজ দিবস পালিত হল?
 - (a) ২৩ ফেব্রুয়ারি (b) ২৪ ফেব্রুয়ারি (c) ২৫ ফেব্রুয়ারি (d) ২৬ ফেব্রুয়ারি
২৬. বালাইয়ের কাজে কী ব্যবহৃত হয়?
 - (a) ইথিলিন (b) মিথেন (c) বেঞ্জিন (d) অ্যাসিটিলিন
২৭. গ্যালভানাইজেশন পদ্ধতিতে লোহার পাতে কোন পদার্থের প্রলেপ দেওয়া হয়?
 - (a) রুপা (b) তামা (c) জিঙ্ক (d) সিসা
২৮. অপ্রবাজে হাইড্রোক্লোরিক অ্যাসিড ও নাইট্রিক অ্যাসিডের অনুপাত কত?
 - (a) ১ : ৩ (b) ৩ : ১ (c) ১ : ১ (d) ২ : ৩
২৯. রেফ্রিজারেটরে শীতলীকারক হিসাবে কী ব্যবহৃত হয়?
 - (a) ফ্রিয়ন (b) ট্রাইক্লোরো ফ্লুরো কার্বন (c) CFC (d) শুধু বরফ
৩০. পাণ্ডুরে চুন কী?
 - (a) কুইক লাইম (b) জিপসাম (c) স্ল্যাঙ্ক লাইম (d) কোনোটিই নয়
৩১. সাধারণ তাপমাত্রায় জলের সঙ্গে বিক্রিয়া করে
 - (a) Mg (b) Cu (c) K (d) C
৩২. ন্যাপথলিনে বেঞ্জিন বলায়ের সংখ্যা কটি?
 - (a) ১টি (b) ২টি (c) ৩টি (d) ৪টি
৩৩. নিষ্ক্রিয় গ্যাস কী?
 - (a) হিলিয়াম (b) নিয়ন (c) আর্গন (d) সবগুলিই
৩৪. পর্যায় সারণিতে পর্যায় সংখ্যা কত?
 - (a) ৭ (b) ৮ (c) ৯ (d) ১০
৩৫. মদ প্রস্তুতিতে কী ব্যবহৃত?
 - (a) ইথাইল অ্যালকোহল (b) মিথাইল অ্যালকোহল (c) পিরিডিন (d) ইথার
৩৬. হাইড্রোজেন জ্বলে শিখার রং কী হয়?
 - (a) লাল (b) নীল (c) হলুদ (d) বেগুনি
৩৭. ম্যাগনেশিয়ামের ফ্লুরাইডে বাতাসে পোড়ালে ওজন কী হয়?
 - (a) বাড়ে (b) কমে (c) একই থাকে (d) বলা সম্ভব নয়
৩৮. অ্যারোমেটিক যৌগের সরলতম যৌগ কী?
 - (a) পিরিডিন (b) টলুইন (c) ফেনল (d) বেঞ্জিন
৩৯. প্রতিস্থাপনযুক্ত হাইড্রোজেন পরমাণু থাকে
 - (a) ফুরে (b) ফুরফে (c) অ্যানিডে (d) লবণে
৪০. জায়মান হাইড্রোজেন সাধারণ হাইড্রোজেন অপেক্ষা ——— সক্রিয়।
 - (a) কম (b) বেশি (c) সমান (d) নিষ্ক্রিয়
৪১. ক্যালসিয়াম ক্লোরাইড ও পটাশিয়াম ডাইক্রোমেট মিশ্রণকে ঘন H₂SO₄ সহ উত্তপ্ত করলে কী হয়?
 - (a) লাল ধোঁয়া তৈরি হয় (b) দইয়ের মতো সাদা অধঃক্ষেপ পড়ে (c) নীল শিখা দেখা যায় (d) কোনো পরিবর্তন হয় না
৪২. ক্রোমিক ফিল্মে উপস্থিত মৌলটি কী?
 - (a) পারদ (b) প্রাটিনাম (c) ম্যাগনেশিয়াম (d) রুপা
৪৩. অ্যাসিটিক অ্যাসিড কে আবিষ্কার করেন?
 - (a) কোলবে (b) হোলার (c) প্রিন্সলে (d) বার্বেলো
৪৪. উভধর্মী অক্সাইড হল —
 - (a) অ্যালুমিনা (b) CO₂ (c) NaOH (d) নাইট্রোজেন
৪৫. বিস্ফোরক লোহার রঙ সাধারণত কী হয়?
 - (a) বাদামি (b) লাল (c) ধূসর সাদা (d) কালো
৪৬. সাইট্রিক অ্যাসিড পাওয়া যায় কীসে?
 - (a) তেঁতুলে (b) লেবুতে (c) আপেল (d) পিঁপড়ের ছলে
৪৭. ব্র্যাকফুট রোগের কারণ কী?
 - (a) আর্সেনিক (b) লেড (c) সালফার (d) ক্রোমিয়াম
৪৮. বৃষ্টির জল কী জাতীয়?
 - (a) আর্সিক (b) ক্ষারীয় (c) প্রথম (d) উভধর্মী
৪৯. অতিবেগুনি রশ্মি শোষণ করে
 - (a) O₂ (b) O₃ (c) CO₂ (d) C
৫০. উচ্চ তাপমাত্রায় প্রস্তুত কী ব্যবহৃত হয়?
 - (a) ক্যালসিয়াম (b) সোডিয়াম (c) পটাশিয়াম (d) ক্রোমিয়াম
৫১. দুটি সংখ্যার অনুপাত ৫ : ৪, সংখ্যা দুটি থেকে ৪ বিয়োগ করলে অনুপাত হয় ১ : ২, জোড়ের সংখ্যাটি কত?
 - (a) ১৬ (b) ৪ (c) ১০ (d) ২
৫২. A ও B-এর আয়ের অনুপাত ৫ : ৬ ও ব্যয়ের অনুপাত ৭ : ৮, যদি উভয়েই ১,৫০০ টাকা করে সঞ্চয় করে, তাহলে দু'জনের আয়ের যোগফল কত টাকা?
 - (a) ১১,০০০ (b) ৯,০০০ (c) ১০,০০০ (d) ১২,০০০
৫৩. A, ৫ মিনিটে ১০০টি চিঠি টাইপ করে। B ও C একত্রে ২ মিনিটে ৫০টি চিঠি টাইপ করে। তিনজনে একত্রে কাজ করলে কত মিনিটে ৯০টি চিঠি টাইপ হবে?
 - (a) ২ (b) ৪ (c) ৫ (d) ১০
৫৪. একটি ঘরের বিক্রয় মূল্য ১১৪০ টাকা থেকে হ্রাস করে ১১২০ টাকা করা হলে ক্ষতি ৫% বৃদ্ধি পায়। কতটি ক্রয়মূল্য কত?
 - (A) ১০৫০ (B) ১০৬০ (C) ১০৭০ (D) ১০৮০
৫৫. এক বিক্রয় দুটি মূল্য ৫০০ টাকা করে বিক্রি করে। প্রথমটিকে সে ১৪% লাভ করে ও দ্বিতীয়টিকে ১৪% ক্ষতি করে। তার মোট লাভ বা ক্ষতি কত?
 - (A) $\frac{64}{25}$ % লাভ (B) $\frac{49}{25}$ % লাভ (C) $\frac{64}{25}$ % ক্ষতি (D) $\frac{49}{25}$ % ক্ষতি
৫৬. একটি টিভি ৫৪০০০ টাকায় বিক্রয় করা হল। সেটির মুদ্রিত মূল্য ক্রয়মূল্যের ওপর ৪০% বৃদ্ধি করা হয়েছিল। টিভিতে মুদ্রিত মূল্যের ওপর ২০% ছড়ে বিক্রয় করা হয়েছিল। বিক্রয়কার শতকরা লাভ কত?
 - (A) ১০% (B) ১১% (C) ১৫% (D) ১২%
৫৭. একটি পরিবারের ৭ টি সদস্যের গড় বয়স ২২ বছর। পরিবারের কনিষ্ঠতম সদস্যের বর্তমান বয়স ৬ বছর। তার জন্মের ঠিক আগে ওই পরিবারের গড় বয়স কত বছর ছিল?
 - (A) ১৮ (B) ১৭ (C) ২০ (D) ২৪
৫৮. কিছু টাকার ওপর সরাসরি সুদের হার ৫ $\frac{1}{3}$ বছরে যে সুদ পাওয়া যায়, তা আসলে $\frac{4}{9}$ অংশ সুদের হার নির্ণয় করুন।
 - (A) ৫.৫% (B) ৭.১% (C) ৭.৬% (D) ৫.৩%
৫৯. ১১৪ টাকা ৫০ টি ডেলে ও মেয়ের মধ্যে একটা ডালে রাখা করে দেওয়া হল, যাতে প্রত্যেকটি মেয়ে ২.৫০ টাকা ও প্রত্যেকটি ডালে ১.৪০ টাকা পায়। মেয়েদের সংখ্যা নির্ণয় কর।

কলকাতা, গুয়াহাটি, পটনা, রাঁচি-সহ ১৭টি রেল রিট্রুটমেন্ট বোর্ডের মাধ্যমে

রেলের গ্রুপ 'ডি' পদের সম্ভাব্য প্রশ্নোত্তর

(A) 15 (B) 25

(C) 30 (D) 35

60. দুই কী অনুপাতে জন মেশালে তা ক্রয়মূল্যে বিক্রি করলে ৪০% লাভ হবে।

(A) 3 : 5 (B) 5 : 3

(C) 2 : 5 (D) 3 : 2

61. $456 \div 24 \times 38 - 958 + 364 = ?$

(A) 126 (B) 127

(C) 128 (D) 138

62. $5616 \div 18 \div 8 = ?$

(A) 34 (B) 39

(C) 38 (D) 37

63. $12.5 \times 14 \div 8.75 + 12 = 20 + ?$

(A) 14 (B) 11

(C) 12 (D) 18

64. $5610 \div 35.0625 \times 25 = ?$

(A) 3000 (B) 2000

(C) 5000 (D) 4000

65. $184 \div 46 \div 0.008 \div 12.5 = ?$

(A) 30 (B) 40

(C) 60 (D) 80

নির্দেশ (প্রশ্ন 66 - 70) : নীচের টেবিলটি থেকে পরবর্তী প্রশ্নগুলির উত্তর কর।

কোম্পানির নাম	শ্রমিক সংখ্যা	মোট কর্মচারী সংখ্যা	পুরুষ ও মহিলা কর্মীর সংখ্যার অনুপাত	পোস্ট গ্রাজুয়েট কর্মী সংখ্যার শতাংশ
A	16	2568	5:7	75%
B	18	2880	11:5	65%
C	14	2310	10:11	40%
D	22	3575	3:2	60%
E	13	2054	7:6	50%
F	17	2788	20:21	75%
G	24	3720	8:7	55%
H	21	3360	9:5	80%

66. যদি H কোম্পানিতে পুরুষ পোস্ট গ্রাজুয়েট কর্মচারীর সংখ্যা 1800 হয়, তাহলে ওই কোম্পানীর মহিলা কর্মীদের কত শতাংশে পোস্ট গ্রাজুয়েট?

(A) 74% (B) 76%

(C) 75% (D) 73%

67. কোন কোম্পানিতে মহিলা কর্মীদের সংখ্যা ও মোট কর্মী সংখ্যার অনুপাত দ্বিতীয় ক্ষুদ্রতম?

(A) G (B) B

(C) E (D) H

68. B ও H কোম্পানিতে মোট পুরুষ কর্মী সংখ্যা ও C ও D কোম্পানীর মোট মহিলা কর্মীর সংখ্যার অনুপাত কত?

(A) 63 : 51 (B) 51 : 48

(C) 77 : 63 (D) 69 : 44

69. A, B ও D কোম্পানির পোস্ট গ্রাজুয়েট কর্মী সংখ্যার গড় ও F, G ও H কোম্পানির পোস্ট গ্রাজুয়েট কর্মী সংখ্যার গড়ের অন্তর কত?

(A) 272 (B) 312

(C) 294 (D) 346

70. কোন কোম্পানির অফিস প্রতি কর্মী সংখ্যা সর্বাধিক?

(A) F (B) H

(C) B (D) C

71. ছিঁড় জলে ওক ব্যক্তির সাঁতারের গতিবেগ 10 কিলোমিটার/ঘন্টা ও স্রোতের গতিবেগ 6 কিলোমিটার/ঘন্টা। তারা একটি স্থানে পিঠে দ্বিগুণ আসতে 10 ঘন্টা সময় লাগে। স্থানটির দূরত্ব কত কিলোমিটার?

(A) 32 (B) 24

(C) 16 (D) 10

72. পাঁচটি সংখ্যার গড় 42। একটি সংখ্যা বাদ দিলে গড় 35। বাদ দেওয়া সংখ্যাটি কত?

(A) 7 (B) 40

(C) 70 (D) 20

73. সরল সুদের হার 8% থেকে বৃদ্ধি করে 12% করা হল। এর ফলে 4800 টাকা সুদ হিসাবে বেশি পাওয়া গেল। আসল টাকা কত?

(A) 90000 (B) 96000

(C) 88000 (D) 100000

74. একটি ক্রাসের 30 জন ছাত্রের গড় বয়স 20 বছর। তাদের মধ্যে 25 জনের গড় বয়স 15 বছর। বাকি 5 জনের গড় বয়স কত বছর?

(A) 42 (B) 54

(C) 34 (D) 45

75. 4.10 টাকা/কেজি ও 4.60 টাকা/কেজি দরের দুই প্রকার চিনি কী অনুপাতে মেশালে তার দাম হবে 4.30 টাকা/কেজি।

(A) 3 : 2 (B) 2 : 3

(C) 5 : 3 (D) 3 : 5

76. যদি $25 + 33 = 19$ ও $22 + 28 = 20$ হয়, তাহলে $15 + 16$ এর মান কত হবে?

(A) 10 (B) 11

(C) 12 (D) 13

77. যদি $13 + 15 = 10$ ও $27 + 1.1 = 11$ হয়, তাহলে $15 + 21$ এর মান কত হবে?

(A) 8 (B) 9

(C) 10 (D) 7

78. যদি $325 + 25 = 67$ ও $415 + 12 = 47$ হয়, তাহলে $921 + 13$ এর মান কত হবে?

(A) 93 (B) 94

(C) 95 (D) 96

79. যদি $143 + 153 = 27$ ও $621 + 123 = 18$ হয়, তাহলে $232 + 121$ এর মান কত হবে?

(A) 12 (B) 13

(C) 14 (D) 15

80. যদি $542 + 314 = 28$ ও $643 + 721 = 58$ হয়, তাহলে $342 + 341$ এর মান কত হবে?

(A) 9 (B) 10

(C) 11 (D) 12

81. যদি PEOPLE = OFNOKF হয়, তাহলে PUBLIC এর কোড কী হবে?

(A) OVAMHD (B) OWAMHD

(C) OVCMHD (D) OVALHD

82. যদি DUSTER = SFUTVE হয়, তাহলে POINT এর কোড কী হবে?

(A) SOJPOQ (B) UOJPOQ

(C) UOKPOQ (D) UOJPP

83. যদি MOBILE = ILEMOB হয়, তাহলে INTEREST এর কোড কী হবে?

(A) RESTHNTTE (B) RGSTINE

(C) RESVINTE (D) RESTINTE

84. যদি POSITION = RQUKVKQP হয়, তাহলে NEGATIVE এর কোড কী?

(A) PGICVKVG (B) PGICVKXE

(C) PGICVKXG (D) PGICWKXG

85. যদি MARKING = IPKMTCO হয়, তাহলে COLLEGE এর কোড কী?

(A) GIGMNOQ (B) GIGMNOE

(C) GIGMPOE (D) GIGMNOE

নির্দেশ (86 - 93) : নীচের সিরিজগুলি পূর্ণ কর।

86. 22, 23, 27, 36, 7, 77

(A) 50 (B) 52

(C) 54 (D) 56

87. 29, 39, 51, 65, 7, 99

(A) 70 (B) 79

(C) 81 (D) 89

88. 37, 42, 52, 67, 87, 9

(A) 110 (B) 112

(C) 114 (D) 116

89. 52, 59, 7, 94, 122, 157

(A) 63 (B) 73

(C) 75 (D) 69

90. 48, 95, 189, 377, 7

(A) 753 (B) 683

(C) 833 (D) 913

91. 6, 14, 30, 62, 7, 254

(A) 123 (B) 124

(C) 126 (D) 128

92. 11, 34, 103, 310, 7

(A) 731 (B) 831

(C) 931 (D) 1031

93. 7, 10, 8, 9, 9, 8, 10, 7, 11, 7

(A) 12 (B) 10

(C) 8 (D) 6

নির্দেশ (94 - 100) : শূন্যস্থান পূরণ কর।

94. a_cab_dca_ad_ab

(A) dacb (B) dacb

(C) acbd (D) abdc

95. da_bad_bba_ab_a

(A) babd (B) bdab

(C) badb (D) abdb

96. a_cddaa_d_a_cdd

(A) acad (B) aoda

(C) cada (D) aacd

97. c_babcd_ab_db_b

(A) dbac (B) bdca

(C) dcba (D) dbca

98. ac_bda_c_d_cdbd

(A) ocba (B) ocab

(C) abcc (D) cabc

99. da_cb_abc_d_bcb

(A) dbba (B) bbad

(C) bbda (D) dbba

100. a_adb_cad_ac_db

(A) caab (B) cabr

(C) cbaa (D) acba

চটপট উত্তরের বিশ্লেষণ

1(C), 2(D), 3(C), 4(B), 5(D), 6(A), 7(D), 8(C), 9(C), 10(C), 11(A), 12(B), 13(C), 14(B), 15(B), 16(A), 17(A), 18(C), 19(D), 20(A), 21(A), 22(B), 23(B), 24(C), 25(B), 26(D), 27(C), 28(B), 29(C), 30(A), 31(C), 32(B), 33(D), 34(B), 35(A), 36(B), 37(A), 38(D), 39(C), 40(B), 41(D), 42(D), 43(A), 44(A), 45(C), 46(B), 47(A), 48(A), 49(B), 50(A), 51(C), ধরা যাক

সংখ্যা দুটি $5x$ ও $8x$ শর্তানুসারে $\frac{5x-4}{8x-4}$

$= \frac{1}{2}$ সমাধান করে পাই, $x = 2$ তাহলে ছোটো সংখ্যাটি = $5x = 5 \times 2 = 10$ 52(A), ধরা যাক, তাদের আয় $6x$ ও $5x$ ও তাদের ব্যয় $9y$ ও $7y$ শর্তানুসারে, $6x - 9y = 1500$... (1) না সমীকরণ $5x - 7y = 1500$... (2) না সমীকরণ সমাধান করে পাই, $x = 1000$ ও $y = 500$

দু'জনের আয়ের যোগফল = $6x + 5x = 11x = 11 \times 1000 = 11000$ টাকা 53(A), A 1 মিনিটে টাইপ করে $\frac{100}{50} = 20$ টি চিঠি B ও C একত্রে 1 মিনিটে টাইপ করে $\frac{50}{2} = 25$ টি চিঠি A + B + C 1 মিনিটে করে $20 + 25 = 45$ টি। তাহলে 90 টি চিঠি টাইপ করবে 2 মিনিটে। 54(B), শর্তানুসারে $5\% = 1180 - 1126 = 54$

তাহলে $100\% = \frac{54}{5} \times 100 = 1080$ টাকা। 55(D), শটকটি ফর্মুলা : ক্ষতি = $\frac{14^2}{100} = \frac{49}{25}\%$

56(D), ধরা যাক, ক্রয়মূল্য = 100 টাকা তাহলে মুদ্রিত মূল্য = 140 টাকা তাহলে 20% ছাড়ে বিক্রয়মূল্য = 112 টাকা তাহলে শতকরা লাভ = $(112 - 100)\% = 12\%$ ।

57(A), বর্তমানে 9 জনের মোট বয়স = $9 \times 22 = 198$ বছর তাহলে 6 বছর আগে মোট বয়স = $198 - (9 \times 6) = 144$ বছর তাহলে সেই সম্পর্কের গড় = $\frac{144}{8} = 18$

বছর 58(D), সরল সুদ = $\frac{\text{সুদের হার} \times \text{সময়} \times \text{আসল}}{100}$ এই

ফর্মুলা ব্যবহার করলে 59(D), প্রত্যেকে গড়ে পারে $\frac{118}{50} = 2.36$ টাকা Link up method অনুসারে,

$\frac{2.60}{0.56} \times \frac{1.80}{0.24}$ তাহলে মেয়ে : ছেলে $0.56 : 0.24 = 7 : 3$ তাহলে মেয়েদের সংখ্যা = $50 \times \frac{7}{(7+3)} = 35$

জন। 60(C), শটকটি ফর্মুলা : $40 : 100 = 2 : 5$ 61(C), 62(B), 63(C), 64(D), 65(B), 66(A), 67(D), 68(D), 69(C), 70(D), 71(A), তার অনুকূল গতিবেগ = $(10 + 6) = 16$ কিলোমিটার ও প্রতিকূল গতিবেগ = $(10 - 6) = 4$

কিলোমিটার। শটকটি ফর্মুলা : স্থানটির দূরত্ব = $\frac{16 \times 4}{16+4} \times 10 = 32$ কিলোমিটার 72(C), বাদ দেওয়া সংখ্যাটি = $(5 \times 42) - (35 \times 4) = 70$ 73(B), শর্তানুসারে, $(13 - 8) = 5\% = 4800$ তাহলে $100\% = \frac{4800}{5} \times 100$ 74(D),

শটকটি, $\frac{(30 \times 20) - (25 \times 15)}{5} = 45$ বছর। 75(A), Link up Method অনুসারে,

$\frac{4.10}{0.30} \times \frac{4.60}{0.20} = 3 : 2$ 76(B), $(2 \times 5) + (3 \times 3) = 19$ 77(B), $1 + 3 + 1 + 5 = 10$ 78(D), $3^2 + 2^2 + 5^2 + 2^2 + 5^2 = 67$ 79(C), $(1 \times 4 \times 3) + (1 \times 5 \times 3) = 27$ 80(D), $(5 \times 4 \times 2) - (3 \times 1 \times 4) = 28$ 81(A), 82(B), 83(D), 84(C), 85(B), 86(B), সিরিজটি হল $1^2 + 2^2 + 3^2 + 4^2 + \dots$ 87(C), সিরিজটি হল $10 + 12 + 14 \dots$ 88(B), সিরিজটি হল $5 + 10 + 15 + 20 \dots$ 89(B), সিরিজটি হল $7, 14 + 21 + 28 \dots$ 90(A), সবকটি ক্ষেত্রে $\times 2 - 1$ 91(C), সবকটি ক্ষেত্রে $\times 2 + 2$ 92(C), সবকটি ক্ষেত্রে $\times 3 + 1$ 93(D), এখানে দুটি সিরিজ আছে। প্রথমটি হল 7, 8, 9, 10, 11, ... ও দ্বিতীয়টি হল 10, 9, 8, 7, ...। 94(A), 95(C), 96(B), 97(D), 98(A), 99(D), 100(B).

জেনারেল ইংলিশ

চাকরির পরীক্ষার গাইড

Direction (Qs. 1-10) : Read the following passage and answer the given questions. Certain words or phrases are given in bold to help you locate them while answering some of the questions.

Power corrupts. So too does a resource-rich economy, like Nigeria's, where easy access to oil revenues opens the door to palm-greasing. Of 168 countries surveyed by Transparency International, an anti-corruption group in Germany, in its annual Corruption Perception Index, ranks 32nd from the bottom. Whistle-blowers sometimes try to

estimate how much cash has gone missing from Nigeria's public purse. In 2014, a respected former central bank governor lost his job after claiming that \$20 billion had been stolen. But this captures only a small share of the damage done by corruption. The much bigger question is where Nigeria could be if its politicians and officials were a little more honest. One answer comes from economists at PricewaterhouseCoopers (PwC). They compared Nigeria to three other resource-producing countries that are somewhat less corrupt than it, though by no means squeaky clean : Ghana, Malaysia and Colombia. PwC concluded that Nigeria's economy, which was worth \$513 billion in 2014, might have been 22% bigger if its level of corruption were closer to Ghana's, a nearby West African country.

By 2030, the size of Africa's biggest economy should triple in real terms come what may. Yet if Nigeria manages to reduce corruption to levels comparable to Malaysia (itself hardly above suspicion), its economy could be some 37% bigger still. The additional gain would be worth some \$534 billion (adjusted for inflation), or about as much as the economy is currently worth. If it does nothing to change then the cost of corruption in Nigeria would amount to almost \$2,000 per person a year by 2030, PwC reckons.

Some of this damage is visible. When public cash—most of which comes from oil pumped in the southern Niger delta — is siphoned off, investment in health, education and roads suffers. But corruption also affects the economy in more surreptitious ways. Public institutions often hire the family and friends of the boss rather than the best candidates. In turn those institutions become more inefficient, and deliver less of what they are meant to, whether it is education or roads. In addition, countries where corruption is high attract less foreign investment. Given rampant theft, many people are reluctant to pay their taxes on the ground that the money will just be squandered.

This may in part explain why, despite its oil wealth, there is a rising share of Nigerians who are classified as below the poverty line. A survey of living standards (using data from 2010, the most recent figures available) suggested that 61.2% of the population lives in absolute poverty, an increase of over six percentage points on the previous figures from 2004. At least 25 million people who should have been lifted into low- or middle-income still reside below the breadline, thanks to 'excess corruption', says PwC's chief economist in Nigeria.

Last year, the president swept to power on the votes

of Nigerians. Since then, anti-fraud agencies have arrested senior politicians and sidekicks accused of embezzlement, and new corruption bills have been put before parliament. Such measures to clean up Nigeria will be an Herculean task. But the rewards are equally fabulous.

1. Which of the following is the **SAME** in meaning as the word **SUFFERS** as used in the passage ?

- (A) cries (B) diagnosed with
(C) is impaired (D) endures
(E) None of these

2. Which of the following is the **OPPOSITE** of the word **SURREPTITIOUS** as used in the passage ?

- (A) open (B) devious (C) mean
(D) vulnerable (E) None of these

3. What can be concluded from the PwC statistics cited in the passage ?

- (A) Corruption has had a tremendous economic cost on Nigeria (B) Despite heavy investment in education and healthcare, these facilities are poor in Nigeria (C) Nigeria is the worst corrupt out of 168 countries (D) Half of Nigeria's population is poor (E) Nigeria has the largest economy in Africa.

4. Which of the following is the **OPPOSITE** of the word **CLEAN** as used in the passage ?

- (A) hygienic (B) dull (C) nasty
(D) dishonest (E) fair

5. Which of the following is the author's view about Nigeria's efforts to clean up corruption ?

- (i) It will be difficult.
(ii) The steps taken in recent times are steps in the right direction.
(iii) More reforms should be implemented.

- (A) Only i (B) Only ii (C) All i, ii and iii
(D) Only ii and iii (E) Only i and ii

6. Which of the following is the central idea of the passage ?

- (A) Nigeria has been badly affected by corruption (B) Nigeria is the poorest of the African countries and in dire need of aid (C) Nigeria's economy is tremendously dependent on oil (D) The standard of living is improving in Nigeria's cities (E) Cutting subsidies and raising taxes will benefit Nigeria

7. Which of the following is the **SAME** in meaning as the word **SHARE** as used in the passage ?

- (A) divide (B) allocate
(C) segment (D) contribute (E) reveal

8. Which of the following has/have been the impact(s) of corruption in Nigeria ?

- (i) Poverty has been exacerbated.
(ii) Foreign investment has been deferred.
(iii) Organisations have become inefficient.

- (A) Only i (B) Only ii
(C) Only i and ii (D) Only ii and iii (E) All i, ii and iii

9. Which of the following conveys the meaning of the phrase 'Some of this damage is visible' ?

- (A) Exploitation of Nigeria's resources has damaged the environment irreparably (B) There will damage to the economy after the recession is lifted (C) The arrest of government officers has hampered the economy (D) Resources in countries of Africa have been excessively exploited by Asian countries (E) None of the given options

10. Which of the following is true in the context of the passage ?

- (A) Over 25 million Nigerians have risen out of poverty (B) Nigeria has tremendous potential which is not being appropriately harnessed (C) Nigeria's

banking system is on the verge of collapse (D) There has been tremendous protest against the current President and his government (E) None of the given options is true in the context of the passage

Direction (Qs. 11-20) : Read each sentence to find out whether there is any grammatical error in it. The error, if any, will be in one part of the sentence. Mark the part with the error as your answer. If there is no error, mark 'No error' as your answer. Ignore the errors of punctuation, if any.

11. The principal of the (A)/ college was arrested by the (B)/ police yesterday evening on (C)/ charging fraud. (D)/ No error (E)

12. Recently, the Railways has devised (A) / a technique that enable trains to (B)/ move safely through fog (C)/ and will soon commercialise it. (D)/ No error (E)

13. E-commerce has huge growth (A)/ potential in India, given the (B)/ current's demographics and (C)/ the country's diversity. (D)/ No error (E)

14. If not properly deal (A)/ with, termites can be a menace (B)/ as these can reduce (C)/ wooden furniture to dust. (D)/ No error (E)

15. As per an amendment in the (A)/ law, the salaries of all employee (B)/ of any firm are supposed to be (C)/ paid by digital means. (D)/ No error (E)

16. The cricket stadium in our (A)/ was renovated a few (B)/ years ago and made compliant (C)/ with international sporting standards. (D)/ No error (E)

17. As per a report from (A)/ WHO, the number of cases (B)/ of HIV among the lower (C)/ class has reduced drastically. (D)/ No error (E)

18. A probe has been (A)/ ordered to look in the (B)/ accident that occurred at (C)/ the dockyard yesterday. (D)/ No error (E)

19. It seems the next food (A)/ trend would be not only (B)/ about the ingredients, but also (C)/ the cutlery used to serve it. (D)/ No error (E)

20. Using LPG as a fuel for automobiles (A)/ is not that beneficial, as using (B)/ the same increases the levels (C)/ of carbon monoxide to the air. (D)/ No error (E)

Direction (Qs. 21-30) : In the following passage, there are blanks each of which has been numbered. For each blank five words have been suggested, one of which fits the blank appropriately. Find out the appropriate word in each case.

Fast trains in Europe ended 2014 with a flourish. In December Eurostar, which connects London, Paris and Brussels, started selling tickets for a new, year-round service to the Mediterranean, starting this May. Poland (21) its first high-speed

service, between Warsaw and Krakow; Serbia signed an agreement with China to build a fast line from Belgrade to Budapest; and Turkey inaugurated a line from Istanbul to Konya, having opened one between Istanbul and Ankara in July.

High-speed rail is controversial. This week, as work began on California's 'bullet train' project, taxpayer groups (22) it as a monstrous waste of money. Indeed, high-speed trains usually (23) on public subsidy, yet their tickets are often (24) for many potential users, so they may not fill enough seats to avoid (25). The counter-argument is that over distances of 300-800km, fast trains between big-population centres are quicker and less polluting than most forms of transport. No one is keener on them (26) the European Commission.

(27) by the EU and national subsidies, Europe has added more than 6,000 km of high-speed track—on which trains travel at least some of the time at 250 km/hr (155 mph) or more—to the 1,000 km or so it had in 1990. Much more is under construction or planned. In 2015, a new line opened from Leipzig to Erfurt. A Milan-Brescia service may (28) in 2016. By 2017 no fewer than four new French lines will (29) into service. The EU, which is itching to (30) more on infrastructure, plans to finance a €4.5-billion (\$5.3 billion) fast-rail link between Estonia, Latvia, Lithuania and Poland.

21. (A) receive (B) starting (C) begun (D) acquainted (E) introduced

22. (A) colluded (B) toadied (C) condemned (D) saddened (E) hurried

23. (A) allow (B) independent (C) outside (D) depend (E) inside

24. (A) affordable (B) unaffordable (C) inaccessible (D) accessible (E) excessive

25. (A) casualty (B) losses (C) fortune (D) bankrupt (E) disaster

26. (A) than (B) as of (C) that (D) their (E) then

27. (A) expensive (B) growth (C) supported (D) case (E) spend

28. (A) hung (B) stopped (C) begin (D) introduced (E) impulse

29. (A) fall (B) under (C) come (D) shed (E) handled

30. (A) get (B) earn (C) begin (D) spend (E) heal

উত্তর

- 1(C). 2(A). 3(A). 4(D). 5(A). 6(A). 7(C). 8(E). 9(E). 10(B). 11(D). 'charging' এর বদলে 'charge of' হবে। 12(B). 'enable' এর বদলে 'enables' হবে। 13(C). 'current's' এর বদলে 'current' হবে। 14(A). 'deal' এর বদলে 'deal' হবে। 15(B). 'employee' এর বদলে 'employees' হবে। 16(A). 'our' এর পরে 'state' or 'country' হবে। 17(E). 18(B). 'in' এর বদলে 'into' হবে। 19(D). 'the cutlery' এর আগে 'about' হবে। 20(D). 'to' এর বদলে 'in' হবে। 21(E). 22(C). 23(D). 24(B). 25(E). 26(A). 27(C). 28(C). 29(C). 30(D).

কাজে যোগ্য। বিভিন্ন কনস্ট্রাকশনের কাজে অন্তত ৪ বছরের অভিজ্ঞতা থাকতে হবে। শূন্যপদ : ৬টি (জেনাঃ ৩, ও.বি.সি. ২, তঃউঃজাঃ ১)।

কোড নং SA-02: আর্কিটেকচার : আর্কিটেকচার, আর্কিটেকচারাল ড্রয়িং/ইঞ্জিনিয়ারিং ও বছরের ডিপ্লোমা কোর্স পাশরা মোট অন্তত ৬০% নম্বর পেয়ে থাকলে যোগ্য। ড্রয়িং ও ক্যাড ডিজাইন অফিসে অন্তত ৪ বছর কাজের অভিজ্ঞতা থাকতে হবে। শূন্যপদ : ১টি (জেনাঃ)।

কোড নং SA-03: সফটওয়্যার : সিভিল, মেকানিক্যাল, ইলেক্ট্রিক্যাল, মেকানিক্যাল ইঞ্জিনিয়ারিংয়ের ডিপ্লোমা কোর্স পাশরা মোট অন্তত ৬০% নম্বর পেয়ে থাকলে যোগ্য। ফিজিক্স বা, কেমিস্ট্রি বিষয় নিয়ে বি.এসসি. কোর্স পাশরা মোট অন্তত ৬০% নম্বর পেয়ে থাকলেও যোগ্য। ইন্ডাস্ট্রিয়াল সফটওয়্যার ১ বছরের ডিপ্লোমা কোর্স পাশ আর ইন্ডাস্ট্রিয়াল সফটওয়্যার কাজে অন্তত ৪ বছর কাজের অভিজ্ঞতা থাকতে হবে। শূন্যপদ : ৬টি (জেনাঃ ৩, ও.বি.সি. ২, তঃউঃজাঃ ১)।

স্টাইপেন্ডিয়ারি ট্রেনি ক্যাটেগরি -I'এ নেওয়া হবে এইসব ট্রেডে: কোড নং CAT-1/01: মেকানিক্যাল : মোট অন্তত ৬০% নম্বর পেয়ে মেকানিক্যাল ইঞ্জিনিয়ারিংয়ের ডিপ্লোমা কোর্স পাশরা যোগ্য। শূন্যপদ : ২৭টি (জেনাঃ ১৪, ও.বি.সি. ৮, তঃউঃজাঃ ৫)।

কোড নং CAT-1/03: ইলেক্ট্রিক্যাল : মোট অন্তত ৬০% নম্বর পেয়ে ইলেক্ট্রিক্যাল বা, ইলেক্ট্রিক্যাল অ্যান্ড ইলেক্ট্রিক্যাল ইঞ্জিনিয়ারিংয়ের ডিপ্লোমা কোর্স পাশরা যোগ্য। শূন্যপদ : ১৮টি (জেনাঃ ৯, ও.বি.সি. ৫, তঃউঃজাঃ ৪)।

কোড নং CAT-1/04: ইলেক্ট্রিক্যাল : মোট অন্তত ৬০% নম্বর পেয়ে ইলেক্ট্রিক্যাল, ইলেক্ট্রিক্যাল অ্যান্ড কমিউনিকেশন ইঞ্জিনিয়ারিংয়ের ডিপ্লোমা কোর্স পাশরা যোগ্য। শূন্যপদ : ৪টি (জেনাঃ ২, ও.বি.সি. ১, তঃউঃজাঃ ১)।

কোড নং CAT-1/05: ইন্সট্রুমেন্টেশন : মোট অন্তত ৬০% নম্বর পেয়ে ইন্সট্রুমেন্টেশন অ্যান্ড ইন্সট্রুমেন্টেশন ইঞ্জিনিয়ারিং, ইন্সট্রুমেন্টেশন টেকনোলজি, ইন্সট্রুমেন্টেশন অ্যান্ড কন্ট্রোল ইঞ্জিনিয়ারিংয়ের ডিপ্লোমা কোর্স পাশরা যোগ্য। শূন্যপদ : ১০টি (জেনাঃ ৫, ও.বি.সি. ৩, তঃউঃজাঃ ২)।

কোড নং CAT-1/06: কেমিক্যাল : মোট অন্তত ৬০% নম্বর পেয়ে কেমিক্যাল ইঞ্জিনিয়ারিং বা, কেমিক্যাল টেকনোলজির ডিপ্লোমা কোর্স পাশরা যোগ্য। শূন্যপদ : ৯টি (জেনাঃ ৫, ও.বি.সি. ২, তঃউঃজাঃ ২)।

কোড নং CAT-1/07: কেমিস্ট্রি : মোট অন্তত ৬০% নম্বর পেয়ে কেমিস্ট্রি বি.এসসি. কোর্স পাশরা যোগ্য। শূন্যপদ : ৮টি (জেনাঃ ৪, ও.বি.সি. ২, তঃউঃজাঃ ২)।

কোড নং CAT-1/08: ফিজিক্স : মোট অন্তত ৬০% নম্বর পেয়ে ফিজিক্সের বি.এসসি. কোর্স পাশরা যোগ্য। শূন্যপদ : ৭টি (জেনাঃ ৪, ও.বি.সি. ২, তঃউঃজাঃ ১)।

স্টাইপেন্ডিয়ারি ট্রেনি ক্যাটেগরি -II পদে নেওয়া হবে এইসব ক্যাটেগরিতে :

কোড নং CAT-II/01: প্লান্ত অপারেটর : বিজ্ঞান ও অস্ত্র বিষয় নিয়ে উচ্চমাধ্যমিক পাশরা মোট অন্তত ৬০% নম্বর পেয়ে থাকলে আর আই.টি.আই. থেকে অ্যাটেন্ড্যান্ট অপারেটর (কেমিক্যাল প্লান্ত)এর এক বছরের সার্টিফিকেট কোর্স পাশ হলে যোগ্য। ফিজিক্স, কেমিস্ট্রি ও অস্ত্র বিষয় নিয়ে উচ্চমাধ্যমিক পাশরা মোট অন্তত ৬০% নম্বর পেয়ে থাকলেও যোগ্য। শূন্যপদ : ২৩টি (জেনাঃ ৮, ও.বি.সি. ৬, তঃউঃজাঃ ৯)।

কোড নং CAT-II/02: ইলেক্ট্রিশিয়ান: বিজ্ঞান ও অস্ত্র বিষয় নিয়ে উচ্চমাধ্যমিক পাশরা মোট অন্তত ৬০% নম্বর পেয়ে থাকলে কিংবা ফিজিক্স, কেমিস্ট্রি ও অস্ত্র বিষয় নিয়ে উচ্চমাধ্যমিক পাশরা মোট অন্তত ৬০% নম্বর পেয়ে থাকলে যোগ্য। আই.টি.আই. থেকে ইলেক্ট্রিশিয়ান ট্রেডের এক বছরের সার্টিফিকেট কোর্স পাশ হতে হবে। শূন্যপদ : ১৬টি (জেনাঃ ৭, ও.বি.সি. ৪, তঃউঃজাঃ ৫)।

কোড নং CAT-II/03: ইলেক্ট্রিক মেকানিক : বিজ্ঞান ও অস্ত্র বিষয় নিয়ে উচ্চমাধ্যমিক পাশরা মোট অন্তত ৬০% নম্বর পেয়ে থাকলে কিংবা ফিজিক্স, কেমিস্ট্রি ও অস্ত্র বিষয় নিয়ে উচ্চমাধ্যমিক পাশরা মোট অন্তত ৬০% নম্বর পেয়ে থাকলে যোগ্য। আই.টি.আই. থেকে ইলেক্ট্রিক মেকানিক ট্রেডের এক বছরের সার্টিফিকেট কোর্স পাশ হতে হবে। শূন্যপদ : ৫টি (জেনাঃ ২, ও.বি.সি. ১, তঃউঃজাঃ ২)।

কোড নং CAT-II/04: ওয়েল্ডার : বিজ্ঞান ও অস্ত্র বিষয় নিয়ে উচ্চমাধ্যমিক পাশরা মোট অন্তত ৬০% নম্বর পেয়ে থাকলে

কিংবা ফিজিক্স, কেমিস্ট্রি ও অস্ত্র বিষয় নিয়ে উচ্চমাধ্যমিক পাশরা মোট অন্তত ৬০% নম্বর পেয়ে থাকলে যোগ্য। আই.টি.আই. থেকে ওয়েল্ডার ট্রেডের এক বছরের সার্টিফিকেট কোর্স পাশ হতে হবে। শূন্যপদ : ৪টি (জেনাঃ ২, ও.বি.সি. ১, তঃউঃজাঃ ১)।

কোড নং CAT-II/05: মেকানিক্যাল মেশিন টুল মেন্টেন্যান্স : বিজ্ঞান ও অস্ত্র বিষয় নিয়ে উচ্চমাধ্যমিক পাশরা মোট অন্তত ৬০% নম্বর পেয়ে থাকলে কিংবা ফিজিক্স, কেমিস্ট্রি ও অস্ত্র বিষয় নিয়ে উচ্চমাধ্যমিক পাশরা মোট অন্তত ৬০% নম্বর পেয়ে থাকলে যোগ্য। আই.টি.আই. থেকে 'মেকানিক মেশিন টুল মেন্টেন্যান্স ট্রেডের এক বছরের সার্টিফিকেট কোর্স পাশ হতে হবে। শূন্যপদ : ৪টি (জেনাঃ ২, ও.বি.সি. ১, তঃউঃজাঃ ১)।

কোড নং CAT-II/06: ইন্সট্রুমেন্ট মেকানিক : বিজ্ঞান ও অস্ত্র বিষয় নিয়ে উচ্চমাধ্যমিক পাশরা মোট অন্তত ৬০% নম্বর পেয়ে থাকলে কিংবা ফিজিক্স, কেমিস্ট্রি ও অস্ত্র বিষয় নিয়ে উচ্চমাধ্যমিক পাশরা মোট অন্তত ৬০% নম্বর পেয়ে থাকলে যোগ্য। আই.টি.আই. থেকে ইন্সট্রুমেন্ট মেকানিক ট্রেডের এক বছরের সার্টিফিকেট কোর্স পাশ হতে হবে। শূন্যপদ : ১৪টি (জেনাঃ ৬, ও.বি.সি. ৩, তঃউঃজাঃ ৫)।

কোড নং CAT-II/07: ফিটার : বিজ্ঞান ও অস্ত্র বিষয় নিয়ে উচ্চমাধ্যমিক পাশরা মোট অন্তত ৬০% নম্বর পেয়ে থাকলে কিংবা ফিজিক্স, কেমিস্ট্রি ও অস্ত্র বিষয় নিয়ে উচ্চমাধ্যমিক পাশরা মোট অন্তত ৬০% নম্বর পেয়ে থাকলে যোগ্য। আই.টি.আই. থেকে ফিটার ট্রেডের এক বছরের সার্টিফিকেট কোর্স পাশ হতে হবে। শূন্যপদ : ২০টি (জেনাঃ ৩, ও.বি.সি. ৫, তঃউঃজাঃ ১২)।

কোড নং CAT-II/08: ড্রাকটসম্যান (মেকানিক্যাল) : বিজ্ঞান ও অস্ত্র বিষয় নিয়ে উচ্চমাধ্যমিক পাশরা মোট অন্তত ৬০% নম্বর পেয়ে থাকলে কিংবা ফিজিক্স, কেমিস্ট্রি ও অস্ত্র বিষয় নিয়ে উচ্চমাধ্যমিক পাশরা মোট অন্তত ৬০% নম্বর পেয়ে থাকলে যোগ্য। আই.টি.আই. থেকে ড্রাকটসম্যান (মেকানিক্যাল) ট্রেডের এক বছরের সার্টিফিকেট কোর্স পাশ হতে হবে। শূন্যপদ : ৫টি (জেনাঃ ২, ও.বি.সি. ১, তঃউঃজাঃ ২)।

কোড নং CAT-II/09: রেফ্রিজারেশন অ্যান্ড এ.সি. মেকানিক : বিজ্ঞান ও অস্ত্র বিষয় নিয়ে উচ্চমাধ্যমিক পাশরা মোট অন্তত ৬০% নম্বর পেয়ে থাকলে কিংবা ফিজিক্স, কেমিস্ট্রি ও অস্ত্র বিষয় নিয়ে উচ্চমাধ্যমিক পাশরা মোট অন্তত ৬০% নম্বর পেয়ে থাকলে যোগ্য। আই.টি.আই. থেকে রেফ্রিজারেশন অ্যান্ড এ.সি. মেকানিক ট্রেডের এক বছরের সার্টিফিকেট কোর্স পাশ হতে হবে। শূন্যপদ : ১টি (জেনাঃ)।

কোড নং CAT-II/10: মেশিনিস্ট : বিজ্ঞান ও অস্ত্র বিষয় নিয়ে উচ্চমাধ্যমিক পাশরা মোট অন্তত ৬০% নম্বর পেয়ে থাকলে কিংবা ফিজিক্স, কেমিস্ট্রি ও অস্ত্র বিষয় নিয়ে উচ্চমাধ্যমিক পাশরা মোট অন্তত ৬০% নম্বর পেয়ে থাকলে যোগ্য। আই.টি.আই. থেকে মেশিনিস্ট ট্রেডের এক বছরের সার্টিফিকেট কোর্স পাশ হতে হবে। শূন্যপদ : ২টি (জেনাঃ)।

কোড নং CAT-II/12: ল্যাব অ্যাসিস্ট্যান্ট (ফিজিক্স/কেমিস্ট্রি) : ফিজিক্স, কেমিস্ট্রি ও অস্ত্র বিষয় নিয়ে উচ্চমাধ্যমিক পাশরা মোট অন্তত ৬০% নম্বর পেয়ে থাকলে আবেদন করতে পারেন। শূন্যপদ : ১৯টি (জেনাঃ ৭, ও.বি.সি. ৫, তঃউঃজাঃ ৭)।

কোড নং ADM-01: আপার ডিভিশন ক্লার্ক : মোট অন্তত ৫০% নম্বর পেয়ে যে কোনো শাখার গ্র্যাজুয়েটরা যোগ্য। ইংরিজি টাইপিংয়ে মিনিটে অন্তত ৩০টি শব্দ তোলার গতি থাকলে ভালো হয়। কম্পিউটারে জটা প্রসেসিংয়ের কাজে জ্ঞান

থাকতে হবে। শূন্যপদ : ৭টি (জেনাঃ ৬, তঃউঃজাঃ ১)।

কোড নং ADM-02: স্টেনোগ্রাফার গ্রেড-III : মোট অন্তত ৫০% নম্বর পেয়ে মাধ্যমিক পাশরা ইংরিজি টাইপিং ও শর্টহ্যান্ডে মিনিটে অন্তত যথাক্রমে ৩০টি ও ৮০টি শব্দ তোলার গতি থাকলে যোগ্য। শূন্যপদ : ১০টি (জেনাঃ)।

বয়স হতে হবে 'সায়েন্টিফিক অ্যাসিস্ট্যান্ট -C' পদের বেলায় ১৮ থেকে ৩০ বছরের মধ্যে, 'আপার ডিভিশন ক্লার্ক' পদের বেলায় ১৮ থেকে ২৫ বছরের মধ্যে, 'স্টাইপেন্ডিয়ারি ট্রেনি ক্যাটেগরি -I' পদের বেলায় ১৮ থেকে ২৪ বছরের মধ্যে, 'স্টাইপেন্ডিয়ারি ট্রেনি ক্যাটেগরি II' পদের বেলায় ১৮ থেকে ২২ বছরের মধ্যে, 'স্টেনোগ্রাফার পদের বেলায় ১৮ থেকে ২৮ বছরের মধ্যে। সব ক্ষেত্রে বয়স গণতে হবে ১৭-৬-২০১৮'র হিসাবে। তপশিলীরা ৫ বছর, ও.বি.সি.'রা ৩ বছর বয়সে ছাড় পাবেন। মূল মাইনে — সায়েন্টিফিক অ্যাসিস্ট্যান্ট পদে ৪৪,৯০০ টাকা, টেকনিশিয়ান -সি, স্টেনোগ্রাফার ও আপার ডিভিশন ক্লার্ক পদে ২৫,৫০০ টাকা, টেকনিশিয়ান -বি পদে ২১,৭০০ টাকা। এই পদের বিজ্ঞপ্তি নং : 3/2018.

প্রার্থী বাছাই হবে লিখিত পরীক্ষার মাধ্যমে। লিখিত পরীক্ষায় প্রশ্ন হবে অবজেক্টিভ টাইপের। সায়েন্টিফিক অ্যাসিস্ট্যান্ট-সি ও স্টাইপেন্ডিয়ারি ট্রেনি ক্যাটেগরি -I পদের বেলায় ২ ঘণ্টার লিখিত পরীক্ষায় ১০০টি অবজেক্টিভ টাইপের প্রশ্ন হবে সংশ্লিষ্ট বিষয়ের ওপর। নেগেটিভ মার্কিং আছে। ৩টি প্রশ্নের ডুল উত্তরের জন্য ১ নম্বর কাটা হবে।

স্টাইপেন্ডিয়ারি ট্রেনি ক্যাটেগরি -II পদের বেলায় প্রিলিমিনারি পরীক্ষায় ১ ঘণ্টার ৫০টি প্রশ্ন হবে এইসব বিষয়ে : অস্ত্র -২০টি, বিজ্ঞান -২০টি প্রশ্ন, জেনারেল অ্যাওয়ারেনেস - ১০টি প্রশ্ন।

আপার ডিভিশন ক্লার্ক পদের দেড় ঘণ্টার পরীক্ষায় ১০০টি প্রশ্ন হবে এইসব বিষয়ে : জেনারেল ইংলিশ, জেনারেল নলেজ, জেনারেল ইন্টেলিজেন্স অ্যান্ড রিজনিং, কোয়ান্টিটেটিভ অ্যাপ্টিটিউট। এরপর হবে ৩ ঘণ্টার ইংলিশ ল্যাঙ্গুয়েজ ও কম্প্রিহেনশন বিষয়ে।

স্টেনোগ্রাফার গ্রেড-III পদের বেলায় দেড় ঘণ্টার পরীক্ষায় ১০০টি প্রশ্ন হবে এইসব বিষয়ে : জেনারেল ইংলিশ, জেনারেল নলেজ, জেনারেল ইন্টেলিজেন্স অ্যান্ড রিজনিং, কোয়ান্টিটেটিভ অ্যাপ্টিটিউট। এরপর হবে স্ক্রিপ্ট টেস্ট। পরীক্ষা হবে কলকাতা, পটনা, রীটা, ওয়াহাটি, ভুবনেশ্বরে।

দরখাস্ত করবেন অনলাইনে, ১৭ জুনের মধ্যে। এই ওয়েবসাইটে : www.igcar.gov.in এজন্য বৈধ একটি ই-মেল আই.ডি. থাকতে হবে। এছাড়াও পাশপোর্ট সাইজের ফটো (৫০ কে.বি.র মধ্যে, মাপ উচ্চতা ৪.৫x চওড়া ৩.৫ সেমির মধ্যে) ও সিগনেচার (৫০ কে.বি.র মধ্যে, মাপ উচ্চতা ৪.৫x চওড়া ৩.৫ সেমির মধ্যে) স্ক্যান করে নেন। প্রথমে ওপরের ওই ওয়েবসাইটে গিয়ে যাবতীয় তথ্য দিয়ে সাবমিট করলেই নাম রেজিস্ট্রেশন হয়ে যাবে। এবার পরীক্ষা ফী বাবদ সায়েন্টিফিক অ্যাসিস্ট্যান্ট ও স্টাইপেন্ডিয়ারি ট্রেনি ক্যাটেগরি -I পদের বেলায় ২০০ টাকার আর অন্যান্য পদের বেলায় ১০০ টাকা অনলাইনে দিতে হবে। তপশিলী, প্রতিবন্ধী ও মহিলাদের ফী লাগবে না। আরো বিস্তারিত তথ্য পাবেন ওই ওয়েবসাইটে।

প্রধান শিক্ষক


১ পাতার পর

কমিশন সূত্রে জানানো হয়, এবারই প্রথম সার্টিফিকেট ভেরিফিকেশন অনুষ্ঠানে বসে নেও। কলকাতা, পোস্ট গ্রাজুয়েট কোর্সে ৫০% নম্বর নেই এমন প্রার্থীও আবেদন করে সফল হয়েছেন। তাঁদের বেলায় সার্টিফিকেট ভেরিফিকেশনে ব্যতিল করা হবে। এছাড়াও কমিশন মনে করছে অনেক প্রার্থী যেখান থেকে বি.এড.বা, মাস্টার ডিগ্রি করেছেন, সেই সার্টিফিকেটের বৈধতা নিয়ে যথেষ্ট সন্দেহ অবকাশ আছে। তাই ওই সার্টিফিকেট যথেষ্টভাবে খুঁটিয়ে দেখা হবে। কমিশন সূত্রে জানানো হয়, সার্টিফিকেট ভেরিফিকেশন খুব শিগগিরই শুরু হবে। বিস্তারিত তথ্য ওয়েবসাইটে দেওয়া হবে। ইন্টারভিউ কবে থেকে শুরু হবে তাও ওয়েবসাইটে জানতে পারবেন। তবে চূড়ান্ত তালিকা প্রকাশ করে এবার পূজোর আগেই নিয়োগ করতে চাইছে স্কুল সার্ভিস কমিশন।

অ্যাকাডেমিক স্কোরে পাওয়া নম্বর (২৮ নম্বরের মধ্যে), অভিজ্ঞতার জন্য (৫ নম্বরের মধ্যে), পার্সোনালিটি টেস্টে (৭ নম্বরের মধ্যে) পাওয়া নম্বর যোগ করে চূড়ান্তভাবে প্রকাশ করা হবে। এর মধ্যে ওয়েটিং তালিকায় থাকা প্রার্থীরা চাকরি পেতেও পারেন, আবার নাও পেতে পারেন। তারপর হবে কাউন্সেলিং।

প্রধান শিক্ষক
নিউ ব্যাচ ও
ইন্টারভিউয়ের
প্রস্তুতি
APPEX
9830159080

বেলের
পরীক্ষার
নতুন সিলেবাসের প্রস্তুতির
সফল **সফল**
সাপারণ জান
বিশেষ সংখ্যা
বেলের ৮৯,৯২৬ গ্রুপ-ডি, ডিভিভার,
টেকনিশিয়ান পদের অনলাইন পরীক্ষার নতুন
সিলেবাস অনুযায়ী সম্ভাব্য প্রস্তুতির, পরীক্ষার
টিপস, বিশেষজ্ঞদের মতামত সহ বিশেষ সংখ্যা
আইডি পৌঁছ
করুন নিকটবর্তী
কাগজের ঠিকানা
ফোন : ৯৮৩০৬২৪১৭০



বয়স সীমার

■ ইংলিশে কখনো ছিল। কেটে দিয়ে ৩০৯ নম্বর নিয়ে ডি/ডি কোর্স পাশ করি। এখন ডি/ডি কোর্সে কবে ৩০৯ নম্বর এই ডি/ডি ডেখিয়ে বি.এ. করতে ও নম্বর ও কনসে. একাংশ ও মাসিক জেপির পরীক্ষা নিতে পারব কি? — রমা হক, বিবেকানন্দ শরী, শেখরপুর, কলকাতা - ১৫০/১

■ হ্যাঁ, পারবেন।

■ আপনার গ্রাইমারি ইন্টারডিউটে কবে হবে? — জহাজ দাস, বগুড়া।

■ এখনো তারিখ ঠিক হয়নি। তবে শিশিরই ইন্টারডিউটের ডালিকা প্রকাশ করা হবে।

আর.পি.এফ. এর

■ আর.পি.এফ. এর কনস্টেবল ও সাব-ইন্সপেক্টর পদের জন্য কবে দরখাস্ত নেওয়া হবে? বিজ্ঞপ্তি কবে বেরোবে? বিজ্ঞপ্তি সিবকাম জার্নালে। — শহীদ মোহ, হাটজাঙ্গা, বোকাই, উত্তর ২৪ পরগণা।

■ রেলওয়ে প্রোটেকশন ফোর্স বা, রেলওয়ে মোটোকশন স্পেশাল ফোর্সের কনস্টেবল পদে ৮,৬১৯ জন লোক নেওয়ার বিজ্ঞপ্তি বেরিয়েছে। মাধ্যমিক পাশ ছেলেমেয়েরা ১-৭-

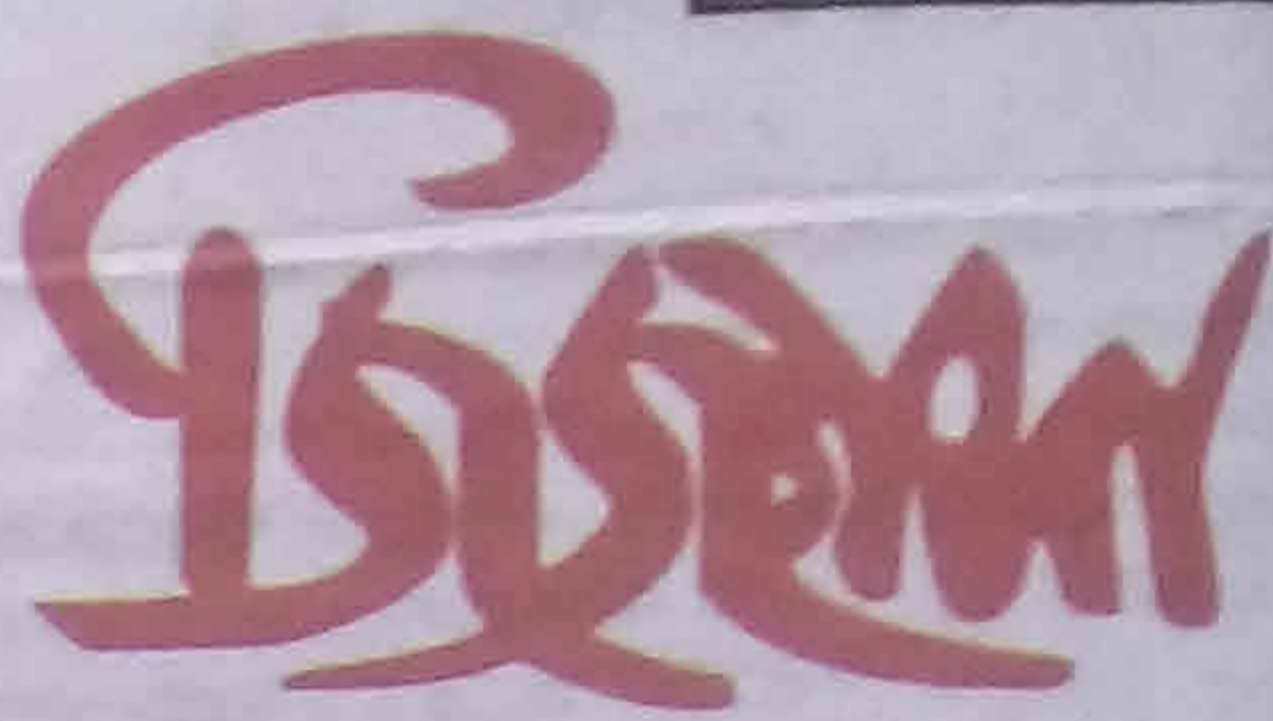
১৮-১৯ হিসাবে ১৮ থেকে ২৫ বছরের মধ্যে বয়স থাকলে আবেদন করতে পারেন শরীরের মাপজোখ হতে হবে ছেলের বয়স ১৬৫ সেমি., বনের লম্বায় অন্তত ১৬৫ সেমি., বনের ছাতি না-কুলিয়ে অন্তত ৮০ সেমি. আর কুলিয়ে ৮৫ সেমি. তপশিলীরা লম্বায় ৫ সেমি., বনের ছাতিতে ৫.৮ সেমি ছাড় থাকবে। প্রার্থী বাছাইয়ের জন্য প্রথমে অনলাইন কম্পিউটার বেসড টেস্ট (CBT), শারীরিক সক্ষমতার পরীক্ষা, শারীরিক মাপজোখের পরীক্ষা ও ম্যাট্রিককেট ডেরিকফেশন হবে। অনলাইন কম্পিউটার বেসড টেস্ট হবে সপ্টেম্বর-অক্টোবরে। এই পরীক্ষায় ৯০ মিনিটের ১২০টি অর্ধজটিল মাল্টিপল চয়েজ টাইপের প্রশ্ন হবে এইসব বিষয়ে। (১) জেনারেল অ্যাওয়ারেনেস - ৫০টি প্রশ্ন হবে এইসব বিষয় থেকে। কারেন্ট অ্যাফেয়ার সহ ভারতীয় ইতিহাস, আর্ট অ্যান্ড কালচার, ভূগোল, অর্থনীতি, জেনারেল পলিটি, ভারতীয় সংবিধান, স্পোর্টস ও জেনারেল সায়েন্স। (২) আরিথমেটিক - ৫০টি প্রশ্ন হবে এইসব বিষয়ে নাম্বার সিস্টেম, হোল নম্বর, ডেসিমেল ও ফ্রাকশন, নম্বরের মধ্যে সম্পর্ক, ফ্যাক্টোরিয়াল আরিথমেটিক্যাল অপারেশন, (৩) পশিলী, প্রাক্তন সমরকর্মী, মহিলা, সংখ্যালঘু ও অর্থনৈতিকভাবে পিছিয়ে পড়াদের জন্য ২৫০ টাকা অনলাইনে বা, অফলাইনে দিতে হবে। অনলাইনে টাকা দেবেন নেট ব্যাঙ্কিং, ডেবিট কার্ড, ক্রেডিট কার্ডে ২ জুলাইয়ের মধ্যে। অফলাইনে টাকা দেবেন স্টেট ব্যাঙ্ক অফ ইন্ডিয়ায় চালানে কিংবা প্রোস্ট্রাক্সিমের চালানে ৫ জুলাইয়ের মধ্যে। আরো বিস্তারিত তথ্য ওই ওয়েবসাইটে পাবেন। কম্পিউটার বেসড টেস্ট দিলে ৪০০ (তপশিলী, প্রাক্তন সমরকর্মী, মহিলা, সংখ্যালঘু ও অর্থনৈতিকভাবে দুর্বল প্রার্থীরা ২৫০) টাকা ফেরৎ পাবেন। আরো বিস্তারিত তথ্য পাবেন ওই ওয়েবসাইটে।

কোর্স ও ট্রেনিং

■ বি.এস.সি.নাসিং কোর্স করতে চাই। কখন কীভাবে ভরতি করা হয়? উচ্চমাধ্যমিক কত শতাংশ নম্বর থাকতে হবে? প্রার্থী বাছাই কীভাবে হয়? কোন কোন কলেজে পড়ানো হয়? — রওশান জামিন, বাঙ্গাবাড়ি হাই স্কুল, জম্মিপুর ব্যারোজ, মুর্শিদাবাদ।

■ পশ্চিমবঙ্গ বি.এস.সি.নাসিং কোর্সে ভরতি হতে হলে পশ্চিমবঙ্গ জয়েন্ট এন্ট্রান্স বোর্ডের JENPAUH পরীক্ষা দিয়ে সফল হতে হয়। ইংরিজি, ফিজিক্স, কেমিস্ট্রি ও বায়োলজি বিষয় নিয়ে উচ্চমাধ্যমিক পাশ তরুণীরা মোট অন্তত ৫০% (তপশিলী হলে ৪০%) নম্বর পেয়ে থাকলে আর প্রতিটি বিষয়ে আলাদাভাবে উত্তীর্ণ হয়ে থাকলে আবেদন করতে পারেন। ওইসব বিষয় নিয়ে সেই বছরের উচ্চমাধ্যমিক পরীক্ষার্থীরাও আবেদনের যোগ্য। সরকারি কলেজে ভরতির জন্য প্রার্থীকে বা, তাঁর পিতামাতাকে পশ্চিমবঙ্গে ১০ বছরের স্থায়ী বাসিন্দা হতে হবে। পশ্চিমবঙ্গের বাইরের প্রার্থীরা বেসরকারি নাসিং কলেজ / ইনস্টিটিউশনে ভরতির জন্য যোগ্য। বয়স হতে হবে ন্যূনতম ১৭ বছর। JENPAUH পরীক্ষা হয় সাধারণত মে মাস নাগাদ। এই পরীক্ষায় থাকে এই দুটি পেপার : (১) ফিজিক্স ও কেমিস্ট্রি (১০০ নম্বর), (২) বায়োলজিক্যাল সায়েন্স (১০০ নম্বর)। প্রশ্ন হয় বাংলা ও ইংরিজিতে, এম.সি.কিউ. টাইপের। নেগেটিভ মার্কিং আছে। পড়ানো হয় এইসব কলেজে : সরকারি কলেজগুলি হল — (১) এস.এস.কে.এম. হসপিটাল ক্যাম্পাস, (২) কলকাতা মেডিক্যাল কলেজ অ্যান্ড হসপিটাল, (৩) আর.জি. কর মেডিক্যাল কলেজ অ্যান্ড হসপিটাল, (৪) নীল রতন সরকার মেডিক্যাল কলেজ, (৫) বর্ধমান মেডিক্যাল কলেজ অ্যান্ড হসপিটাল, (৬) বীকুড়া সম্মিলিত মেডিক্যাল কলেজ অ্যান্ড হসপিটাল, (৭) মেদিনীপুর মেডিক্যাল কলেজ অ্যান্ড হসপিটাল। বেসরকারি

চাকরির পরীক্ষার কোনো প্রশ্ন আছে? দরখাস্ত করেও কোনো খবর পাচ্ছেন না, নাসিং পরীক্ষা দিয়েও ফল কবে বেরোবে জানতে পারছেন না? দরখাস্ত বাতিল হয়ে যাবে কিনা ভাবছেন? কবে, কোথায় পরীক্ষা হবে? কী কী বিষয় থাকবে? অ্যাডমিট কার্ড এখনো পাননি, কবে পাবেন বুঝতে পারছেন না? কোথায় যোগাযোগ করবেন? এইসব সাত-সতেরো প্রশ্নের উত্তর ধারাবাহিকভাবে দিচ্ছেন রঞ্জিত মোহ।



কলেজগুলি হল — (১) ইনস্টিটিউট অফ প্যারামেডিক্যাল অ্যান্ড থেরাপেউটিক সায়েন্স অ্যান্ড টেকনোলজি, দুর্গাপুর, (২) নোপানি ইনস্টিটিউট অফ হেলথ কেয়ার স্টাডিজ, (৩) কলেজ অফ ফিজিওথেরাপি (পিন্নারলেন্স হসপিটাল), (৪) বিবেকানন্দ ইনস্টিটিউট অফ মেডিক্যাল সায়েন্সেস, কলকাতা, (৫) হলদিয়া ইনস্টিটিউট অফ হেলথ কেয়ার সায়েন্সেস, হলদিয়া, (৬) বর্ধমান ইনস্টিটিউট অফ মেডিক্যাল অ্যান্ড লাইফ সায়েন্সেস, বর্ধমান। বিজ্ঞপ্তি বেরোর ফেব্রুয়ারি-মার্চে। তখন দরখাস্ত করবেন অনলাইনে এই ওয়েবসাইটে : www.wbjeeb.in

■ বি.এ. অনার্স পাশ করেছি। এন.সি.টি.ই. স্বীকৃত বেসরকারি কলেজে ডি.এল.এড. কোর্সে ভরতি হয়েছি। এখন কন্যাশী বিশ্ববিদ্যালয় থেকে ডিপ্লোমে এম.এ. করতে চাই। এই দুটি কোর্স একই সঙ্গে করতে পারব কি? — জহরুল আলী, রায়পুর, দক্ষিণ চাটরা।

■ নিয়মানুযায়ী একটি রেগুলার ও আরেকটি ডিপ্লোমা কোর্স করতে পারেন।

সেবা দায়, যে কোর্সটি করছেন, সেই কোর্সটি যে দক্ষতর করে করছেন, সেখানে প্রয়োজনে লাগে না। এমন হলে অনুমতি না নিয়েও করা যায়।

রেল চাকরির

■ রেলের নন-টেকনিক্যাল ক্যাটেগরিতে টিকিট কালেক্টর, কমার্শিয়াল ক্লাক ইত্যাদি পদের জন্য বিপুল সংখ্যা শূন্যপদ এবার পূরণ করা হবে। সংশ্লিষ্ট প্রার্থীদের বয়স কি বাড়ানো হবে? — অর্পিত দাস, চন্দীতলা, কালিকাবাজার, বড়বজ, দক্ষিণ ২৪ পরগণা।

■ রেলের নন-টেকনিক্যাল ক্যাটেগরির পরীক্ষার বয়স বাড়ানোর সম্ভাবনা আছে। তবে এখনই কিছু জানানো বাচ্ছে না।

■ এবছর সায়েন্স শাখার উচ্চমাধ্যমিক পরীক্ষা দিয়েছি। রেলের গাইলট হতে চাই। কোথায় যোগাযোগ করব? কত বয়স পড়বে? এই পদে মাসে মাইনে কত? — অরুণিমা পাল, জনবা, বোকাড়া, পূর্ব মেদিনীপুর।

■ রেলের অ্যাসিস্ট্যান্ট লোকো পাইলট পদের বেলায় মাধ্যমিক পাশ ও আই.টি.আই. পাশ হতে হবে এইসব ট্রেডে : ফিটার, ইলেক্ট্রিশিয়ান, ইন্সট্রুমেন্ট মেকানিক, মিল রাইট / মেন্টেন্যান্স মেকানিক, মেকানিক রেডিও অ্যান্ড টি.ভি., ইলেক্ট্রিক্স মেকানিক্স, মেকানিক মোটর ভেহিক্যাল, ওয়ারহাউস ট্রাক্টর মেকানিক, আর্মেচার অ্যান্ড কয়েল ওয়াইভার, মেকানিক ডিজেল, হিট ইঞ্জিন, টার্নার, মেশিনিস্ট বা, রেফ্রিজারেশন অ্যান্ড এ.সি. মেকানিক। থেকে মেকানিক্যাল, ইলেক্ট্রিক্যাল, ইলেক্ট্রিক্স বা, ইলেক্ট্রিক্স অটোমোবাইল বা, ইলেক্ট্রিক্স ইঞ্জিনিয়ারিংয়ের ডিপ্লোমা কোর্স পাশ হলেও আবেদন করার যোগ্য। ইলেক্ট্রিক্যাল, ইলেক্ট্রিক্স বা, থাকতে হবে।

অটোমোবাইল ইঞ্জিনিয়ারিংয়ের উচ্চ শিক্ষাগত যোগ্যতার (বি.ই. বা, বি.টেক.) ছেলেমেয়েরাও আবেদন করতে পারেন। দুটিশত দরকার A-1. বয়স হতে হবে ১৮ থেকে ৫০ বছরের মধ্যে। তপশিলীরা ৫ বছর, ও.বি.সি.রা ৩ বছর, বিধবা, বিবাহ-বিচ্ছিন্না মহিলারা পুনর্বিবাহ না করলে ৩৫ (তপশিলী হলে ৪০, ও.বি.সি. হলে ৩৮) বছর বয়স পর্যন্ত, প্রতিবেদী আর রেলের কর্মী ও প্রাক্তন সমরকর্মীরা বখারীতি বয়সে ছাড় পাবেন। মূল মাইনে : ১২,২০০ টাকা।

■ রেলের অ্যাসিস্ট্যান্ট লোকো পাইলট ও জুনিয়র ইঞ্জিনিয়ার পদের বিজ্ঞপ্তি কবে বেরোবে? — তরুণ দাস, বহরনপুর, মুর্শিদাবাদ।

■ এই পদের বিজ্ঞপ্তি অনেক আগেই বেরিয়েছে। এখনো পরীক্ষার তারিখ ঠিক হয়নি।

■ রেলের প্র-প-ডি পদের পরীক্ষা কবে হবে? — পার্থ দাস, বারাসাত, উত্তর ২৪ পরগণা।

■ এখনো তারিখ ঠিক হয়নি।

সেনাবাহিনীর

■ সেনাবাহিনীর সোলজার জেনারেল ডিউটি পদের শিক্ষাগত যোগ্যতা উচ্চতর হলে বসা বাবে কি? — রামপ্রসাদ দেবগাথ, ক্যানিং মিঠামালী রামকৃষ্ণ শরী, দক্ষিণ ২৪ পরগণা।

■ হ্যাঁ, বসাবে। তবে ন্যূনতম যোগ্যতা থাকতে হবে। যেমন মোট অন্তত ৪৫% নম্বর পেয়ে মাধ্যমিক পাশ ছেলেরা মাধ্যমিকের প্রতিটি বিষয়ে অন্তত ৩০% (অতিরিক্ত বিষয় ছাড়া) নম্বর পেয়ে থাকলে এই পদের জন্য যোগ্য। উচ্চমাধ্যমিক পাশ বা, উচ্চ শিক্ষাগত যোগ্যতা থাকলে মাধ্যমিকে নম্বরের কোনো কড়াকড়ি নেই। তবে সব ক্ষেত্রেই মাধ্যমিকের প্রতিটি বিষয়ে অন্তত ৩৩% নম্বর পেয়ে থাকতে হবে।

অন্যান্য চাকরির

■ নেতাজী মুক্ত বিশ্ববিদ্যালয়ে ভরতির বিজ্ঞপ্তি কবে বেরোবে? ৩ বছরের ডিগ্রি কোর্স শেষ হওয়ার কতদিন পর মার্কশীট পাওয়া যায়? ইউ.পি.এস.সি. 'র পরীক্ষার জন্য গ্রহণযোগ্য কি? — শুভজিৎ বর্মন, ইন্দ্রপুর, বীকুড়া।

■ নেতাজী সুভাষ মুক্ত বিশ্ববিদ্যালয়ের ডিগ্রি কোর্সের ভরতি নেওয়া হয় জুন-জুলাই মাস নাগাদ। ডিগ্রি কোর্সের ফাইনাল বর্ষের পরীক্ষা হওয়ার ১ বছরের মধ্যে চূড়ান্ত মার্কশীট পাওয়া যায়। এখন থেকে পাশ করলে রাজ্য ও কেন্দ্রীয় সরকারের সব পরীক্ষায় গ্রহণযোগ্য হয়।

■ সরকারি প্রাথমিক বিদ্যালয়ে কর্মরত। নেতাজী সুভাষ মুক্ত বিশ্ববিদ্যালয় থেকে ডিগ্রি কোর্স করতে চাইলে উর্দুন কর্তৃপক্ষের অনুমতি নিতে হবে কি? — শুকলাল হেত্রম, ডাহিগাজাড়, মিঠামাল, বীকুড়া।

■ কোনো সরকারি দফতরে কর্মরত প্রার্থীদের উচ্চশিক্ষার জন্য অবশ্যই সেই কর্তৃপক্ষের অনুমতি নেওয়া প্রয়োজন। অনেক ক্ষেত্রে

উত্তর পেতে শুধুমাত্র পোস্ট কার্ড পাঠানো ও তাতে নিজের নাম-ঠিকানা ও ফোন নং লিখবেন। পোস্ট কার্ডে ঠিকানার জায়গায় নিচের অংশটি কেটে আঠা দিয়ে সেঁটে দেবেন।

কর্মসংস্থান

জিজ্ঞাসা বিভাগ

১২/৩/৪, জামির লেন
কলকাতা-৭০০ ০১৯

তা লিখে দেবেন।

রাজ্য ও কেন্দ্রীয় সরকারের যে সব পদে এখনো দরখাস্ত করতে পারবেন

রাজ্য ও কেন্দ্রীয় সরকারের বিভিন্ন দফতরে লোক নেওয়ার খবর বেরোলেই তা যথাসময়ে 'কর্মসংস্থানে' দেওয়া হয়। অনেক ক্ষেত্রে দেখা যায়, প্রার্থী সেই সংখ্যা সংগ্রহ করতে না পারার জন্য দরখাস্ত করতে পারেন না। তাই প্রার্থীদের সুবিধান জন্য এখনো কোন কোন পদে দরখাস্ত করার সুযোগ আছে, তা এক নজরে দেখা শুরু হল।

পদ	যোগ্যতা	শূন্যপদ	শেষ তারিখ	ওয়েবসাইট
কম্পিউটার অ্যাজুয়েট লেভেলের মাধ্যমে অফিসার ও ইন্সপেক্টর	গ্র্যাজুয়েট	-	৪.৬.২০১৮	www.ssc.nic.in
আর.পি.এফ. 'এ' কনস্টেবল	মাধ্যমিক	৮,৬১৯	৩০.৬.২০১৮	www.indianrailways.gov.in
আর.পি.এফ. 'এ' সাব-ইন্সপেক্টর	গ্র্যাজুয়েট	১,১২০	৩০.৬.২০১৮	www.indianrailways.gov.in
কোষ্ট গার্ডে অ্যাসিস্ট্যান্ট কম্যান্ড্যান্ট	গ্র্যাজুয়েট	-	১.৬.২০১৮	www.joincoastguard.gov.in
বিহার স্টেট পাওয়ার 'জুনিয়র (হোল্ডিং) কোম্পানিতে অ্যাকাউন্টস	গ্র্যাজুয়েট	৪৪০	২৯.৫.২০১৮	www.bsphcl.bih.nic.in
জি.আই.সি. 'তে' স্কেল - I অফিসার' পদে ২৪ ক্লাক' ও 'অ্যাসিস্ট্যান্ট'	গ্র্যাজুয়েট ও মাস্টার ডিগ্রি	২৪	২৯.৫.২০১৮	www.gicofindia.in
এম.এস.টি.সি. লিমিটেড 'ম্যানেজমেন্ট ট্রেনিং'	গ্র্যাজুয়েট	৩৫	২৭.৫.২০১৮	www.mstcindia.co.in
আই.সি.এস.সি.আর-এ 'ক্লাক'	উচ্চমাধ্যমিক	১২	৪.৬.২০১৮	www.lcssr.org
এয়ারকোর্সের ওয়েস্টান এয়ার কমান্ডে	মাধ্যমিক, এইচ.এস.	৮৭	৩.৬.২০১৮	
এলাহাবাদ হাই কোর্টে	আইনের গ্র্যাজুয়েট	৩৭	১৪.৬.২০১৮	www.allahabadhighcourt.in
ডি.আর.ডি.ও. বর্ত সায়েন্সিষ্ট	গ্র্যাজুয়েট	৪১	১.৬.২০১৮	https://rac.gov.in