

কর্মসংস্থান

★★ ২৪ পাতার সংখ্যা (দাম: ৪ টাকা)

www.karmosangsthan.com

MODERN INSTITUTE OF ENGINEERING & TECHNOLOGY
Bandel, Hooghly, Pin- 712123

B.TECH & LATERAL ENTRY
CSE, ECE, EE, ME, CE

DIPLOMA
ME, EE

ADMISSION ENQUIRY
8017095555 / 8017105555 / 8336070583 / 8336070584

www.mietcollege.org
info@mietcollege.org

Vol. 31 ■ Issue No. 14 ■ 7th April 2018 ■ Saturday ■ R.N.I. 44167/88

দক্ষিণ রেল ২,৬৫২ অ্যাপ্রেন্টিস

আই.টি.আই. থেকে পাশ ছেলেদের

দক্ষিণ রেল 'অ্যাপ্রেন্টিস' হিসাবে ২,৬৫২ জন লোক নিচ্ছে। কারা কোন ট্রেডের জন্য যোগ্য: মাধ্যমিক পাশরা আই.টি.আই. থেকে ফিটার, মেশিনিস্ট ও টার্নার ট্রেডের সার্টিফিকেট কোর্স পাশ হলে ফিটার, মেশিনিস্ট ও টার্নার ট্রেডের জন্য যোগ্য। শূন্যপদ: ফিটারে ৫৮৭টি (জেনা: ২৯৯, ও.বি.সি. ১৫৬, তাজা: ৮৯, তউজা: ৪৩)। এর মধ্যে প্রতিবছরী ১০, প্রাসংক্য: ৭। মেশিনিস্ট ৫৭টি (জেনা: ২৯, ও.বি.সি. ১৫, তাজা: ৯, তউজা: ৪)। টার্নার ৩০টি (জেনা: ১৫, ও.বি.সি. ৮, তাজা: ৫, তউজা: ২)।

ক্রাস এইট পাশরা আই.টি.আই. থেকে কাপেন্টার, পেইন্টার, ওয়েল্ডার (গ্যাস অ্যান্ড ইলেক্ট্রিক), ওয়ারম্যান ট্রেডের সার্টিফিকেট কোর্স পাশ হলে কাপেন্টার, পেইন্টার, ওয়েল্ডার (গ্যাস অ্যান্ড ইলেক্ট্রিক) বা ওয়ারম্যান ট্রেডের জন্য যোগ্য। শূন্যপদ: ওয়েল্ডার ১ এরপর ২১ পাতায়

গীতা মেডতলা
এডুকেশন ফলেয়া

পুলিশ ও রেলের সেরা কোচিং

RAIL (SSE+JE+ALP+TECH)
CRPF+BSF+CISF+KP+WBP

900 2222 544

পশ্চিমবঙ্গ পুলিশে কনস্টেবল পদে দরখাস্ত নেওয়া শুরু

পশ্চিমবঙ্গ রাজ্য পুলিশে 'কনস্টেবল' পদে ৫,৭০২ জন লোক নেওয়া হচ্ছে। রাজ্য সরকার বা, কেন্দ্রীয় সরকার স্বীকৃত কোনো পর্বদ থেকে মাধ্যমিক পাশ ছেলেরা আবেদন করতে পারেন। উচ্চ চশিক্ষাপাত যোগ্যতার প্রার্থীরাও আবেদনের যোগ্য। বয়স হতে হবে ১-১-২০১৮'এর হিসাবে ১৮ থেকে ২৭ বছরের মধ্যে। তপশিলীরা ৫ বছর, ও.বি.সি. সম্প্রদায়ের প্রার্থীরা ৩ বছর বয়সে ছাড় পাবেন। এন.ভি.এফ. ও হোম গার্ডে কর্মরত প্রার্থীরা সরকারি নিয়মানুযায়ী বয়সে ছাড় পাবেন। অন্য রাজ্যের তপশিলী আর ও.বি.সি. সার্টিফিকেটধারীরা বয়সে কোনো ছাড় পাবেন না ও তাঁদের বেলায় 'সাধারণ প্রার্থী' হিসাবে দরখাস্ত করতে হবে। শরীরের মাপজোখ হতে হবে লম্বায় অন্তত ১৬৭ সেমি, বুকের ছাতি না-ফুলিয়ে ৭৮ সেমি ও ফুলিয়ে ৮৩ সেমি। ওজন হতে হবে অন্তত ৫৭ কেজি। গোঁবা, গাড়েয়ালিস, রাজবংশী ও তপশিলী উপজাতিদের বেলায় লম্বায় অন্তত ১৬০ সেমি, বুকের ছাতি না-ফুলিয়ে ৭৬ সেমি ও ফুলিয়ে ৮১ সেমি আর ওজন থাকতে হবে ও অন্তত ৫৩ কেজি। মূল মাইনে: ৫,৪০০-২৫,২০০ টাকা। গ্রেড পে ২,৬০০ টাকা।

এরপর ১১ পাতায়

৩৯ ট্রেনি ডিপ্লোমা

কেন্দ্রীয় সরকারের অধীন সংস্থা, পাওয়ার গ্রিড কর্পোরেশন অফ ইন্ডিয়া লিমিটেডের পশ্চিমবঙ্গ ট্রান্সমিশন সিস্টেম-১। 'ডিপ্লোমা ট্রেনি (ইলেক্ট্রিক্যাল)', 'ডিপ্লোমা ট্রেনি (সিভিল)' ও 'জুনিয়র

এরপর ৯ পাতায়

কেন্দ্রীয় সংস্থা নিউক্লিয়ার পাওয়ার কর্পোরেশনে ২০০ এক্সিকিউটিভ ট্রেনি

নিউক্লিয়ার পাওয়ার কর্পোরেশন অফ ইন্ডিয়া লিমিটেড 'এক্সিকিউটিভ ট্রেনি' পদে ২০০ জন লোক নিচ্ছে। ইলেক্ট্রিক্যাল, ইলেক্ট্রনিক্স অ্যান্ড কমিউনিকেশন, মেকানিক্যাল, কেমিক্যাল, সিভিল বা, ইন্সট্রুমেন্টেশন ইঞ্জিনিয়ারিংয়ের ৪ বছরের ডিগ্রি (বি.ই. / বি.টেক. / বি.এসসি. ইঞ্জিনিয়ারিং) কোর্স পাশরা মোট অন্তত ৬০% নম্বর পেয়ে থাকলে ইঞ্জিনিয়ারিংয়ের সংশ্লিষ্ট শাখার জন্য আবেদন করতে পারেন। তবে প্রোডাকশন ইঞ্জিনিয়ারিংয়ের

এরপর ৭ পাতায়

রাজ্য স্বাস্থ্য দফতরে ৫১২

পশ্চিমবঙ্গ সরকারের স্বাস্থ্য ও পরিবার কল্যাণ সমিতির অধীন রাষ্ট্রীয় বল স্বাস্থ্য কার্যক্রমে কাজের জন্য 'ফার্মাসিস্ট' পদে ৫১২ জন ছেলেমেয়ে নিচ্ছে।

ভারতীয় ফার্মাসি কাউন্সিল বা, এ.আই.সি.টি.ই. 'র অনুমোদিত প্রতিষ্ঠান থেকে ফার্মাসির ডিপ্লোমা (ডি. ফার্মা) (অ্যালোপ্যাথিক) কোর্স পাশ হলে আবেদন করতে পারেন। ফার্মাসির ডিগ্রি ও ফার্মাসির মাস্টার ডিগ্রি কোর্স পাশ

এরপর ৩ পাতায়

বেবে

এপ্রিল সংখ্যা

নতুন সিলেবাসের প্রশ্নোত্তর

সাফল সাফল

সাধারণ জ্ঞান

বিশেষ সংখ্যা

রেলের ৮৯,৯২৬ গ্রুপ-ডি, ড্রাইভার, টেকনিশিয়ান পদের অনলাইন পরীক্ষার নতুন সিলেবাস অনুযায়ী সম্ভাব্য প্রশ্নোত্তর, পরীক্ষার টিপস, বিশেষজ্ঞদের মতামত সহ বিশেষ সংখ্যা

কোন: ৮০১৭০৯৬৩৪৬

১৯১ ক্লার্ক ও নার্স

টাটা মেমোরিয়াল সেন্টার 'লোয়ার ডিভিশন ক্লার্ক' ও 'ফিমেল নার্স-এ' পদে ১৯১ জন লোক নিচ্ছে। কারা কোন পদের জন্য যোগ্য: লোয়ার ডিভিশন ক্লার্ক: উচ্চমাধ্যমিক পাশরা অন্তত ৩ মাসের কম্পিউটার কোর্স পাশ হলে আবেদন করতে পারেন। কোনো সংস্থায় অন্তত ১ বছরের ক্লার্কিয়াল কাজে অভিজ্ঞতা থাকতে হবে। বয়স হতে হবে ২৭ বছরের মধ্যে। মূল মাইনে: ১৯,৯০০ টাকা। শূন্যপদ: ১৫ (জেনা: ৭, ও.বি.সি. ৪, তাজা: ২, তউজা: ১, অস্থি প্রতিবছরী ১)। ফিমেল নার্স-এ: জেনারেল নার্সিং অ্যান্ড মিডওয়াইফারি কোর্স পাশরা অনকোলজি নার্সিংয়ের ডিপ্লোমা কোর্স পাশ হলে আর ৫০ শয্যার হাসপাতালে অন্তত ২ বছর কাজের অভিজ্ঞতা থাকলে যোগ্য। বি.এসসি. (নার্সিং) এর বেসিক ও পোস্ট-বেসিক কোর্স পাশ হলে আর অন্তত ২ বছরের ক্লিনিক্যাল অভিজ্ঞতা থাকলেও যোগ্য। ভারতীয় নার্সিং কাউন্সিল বা, রাজ্য নার্সিং কাউন্সিলে নাম

এরপর ৯ পাতায়

ব্লকে ২৬ অ্যাসিস্ট্যান্ট

পুরুলিয়া জেলার এম.জি.এন.আর.ই.জি.এস. প্রকল্পে কাজের জন্য 'কম্পিউটার অ্যাসিস্ট্যান্ট', 'প্রোগ্রাম অ্যাসিস্ট্যান্ট' ও 'টেকনিক্যাল অ্যাসিস্ট্যান্ট' পদে

এরপর ৯ পাতায়

৩৬ জুনিয়র অ্যাসিস্ট্যান্ট

ইন্ডিয়ান ইনস্টিটিউট অফ টেকনোলজি রুরকি 'জুনিয়র সুপারভাইজেন্ট' ও 'জুনিয়র অ্যাসিস্ট্যান্ট' পদে ৩৬ জন লোক নিচ্ছে। কারা কোন পদের জন্য

যোগ্য: এরপর ৯ পাতায়

রাজ্যের ১২১টি সরকারি আই.টি.আইয়ে ভরতির নিয়মকানুনে বদল হল

এইট ও মাধ্যমিক পাশদের

রঞ্জিত ঘোষ: পশ্চিমবঙ্গের ১২১টি সরকারি আই.টি.আই. / আই.টি.সি. / জুনিয়র পলিটেকনিক / পি.পি.পি. সরকারি আই.টি.আই. তে কেন্দ্রীয় সরকারের ন্যাশনাল কাউন্সিল ফর ডোকেশনাল ট্রেনিংয়ের (এন.সি.ডি.টি) অনুমোদিত ক্র্যাফটসম্যান ট্রেনিং

স্কিমে প্রায় ৪৪টি ট্রেডের সার্টিফিকেট কোর্সে ভরতির ফর্ম দেওয়া শুরু হয়েছে। সেশন শুরু ১ আগস্ট। আই.টি.আই. গুলিতে ২ বিভাগের ট্রেড কোর্স পড়ানো হয়: M গ্রুপ ও E গ্রুপ। কারা কোন গ্রুপে ভরতির জন্য যোগ্য: গ্রুপ-E: ক্রাস এইট পাশ ছেলেমেয়েরা এই গ্রুপের ট্রেডের জন্য আবেদন করতে পারেন। 'ই' গ্রুপে ভরতি হতে পারবেন

এরপর ১৩ পাতায়

রাজ্য পুলিশে কনস্টেবল ও সাব-ইন্সপেক্টর সাফল্যে রাজ্যের শীর্ষে

ICS ডিফেন্স অ্যাকাডেমি

786-400-2150
9800-65-27-35
9046-28-38-18

আই.সি.এস. বিল্ডিং, পাঁজির মোড়, চাকদহ, নদিয়া

আর কোন শাখা নেই। নিজস্ব হস্টেল ফেসিলিটি

রাজ্য পুলিশের লিখিত পরীক্ষা ও ফিজিক্যাল কোচিং (মাঠ)

একবারে চাকরি পেয়ে তারপর ছুটি পুলিশের পরীক্ষায় রাজ্যের সর্বাধিক সাফল্য ICS -এ বিশেষতঃ কনস্টেবলের পরীক্ষায় ICS থেকে ব্যর্থ হওয়ার নজির নেই বললেই চলে

WBP স্পেশাল ব্যাচ 16 এপ্রিল থেকে কোর্স-ফি 4800 টাকা, ভর্তি চলছে

কর্মসংস্থান, সাক্ষ্য ইত্যাদি রাজ্যের প্রথম শ্রেণীর পত্র-পত্রিকার লেখক-লেখিকা ও গবেষকদের দ্বারা পরিচালিত রাজ্যের সেরা প্রশিক্ষণ

সব জেলার ছেলেদের জন্য নূনতম খরচে হস্টেলে থাকা ও খাওয়ার ICS -এর নিজস্ব ব্যবস্থা

কম্বাইন্ডের নতুন ব্যাচ 17 এপ্রিল থেকে

কর্নসংস্থান
 সাপ্তাহিক পত্রিকা
 প্রধান কার্যালয়
 ১২/৩/৪ জমির লেন,
 কলকাতা - ৭০০ ০১৯
 বালিগঞ্জ বাস টার্মিনাসে
 গড়িয়াহাট মালের মুখোমুখি
হেল্প লাইন
 ☎ : (০৩৩) ২৪৬০ ৬২১১/
 ৬২১২/৮২৩৪
 ফ্যাক্স নং : ২৪৬০ ৮২৩৩
নয়াদিল্লি কার্যালয়
 রুম নং - ১০২ অ্যানেন্স,
 আই.এন.এস বিল্ডিং, রফি মার্গ
 নয়াদিল্লি-১১০ ০০১
 ফোন : ০৯৮১৮৬৭৫২৮৩
ঝাড়খণ্ড কার্যালয়
 পিস রোড নং ৩,
 হোলি ক্রস স্কুল রোড,
 লালপুর, রাঁচি-৮৩৪০০১
 ফোন : ৯০৯৩০৩৮৭০২

কুল-কলেজ-শিক্ষা
CARREOGRAPH
 Medical Representative
 Training for Graduates
 below 24 Years.
 Kolkata - 9836970475,
 Asansol - 9874197671,
 Durgapur - 9874182795.
15 বছরের অভিজ্ঞ
 জয়ন্ত রায়, পড়িয়া, শিয়ালদহ,
 ইসলামপুর (উঃ দিঃ) WBCS,
 Rail (Gr. D), CGL, Bank,
 ইত্যাদি Maths (সেঃ উত্তর
 কৌশল) G.I ও G.K, huge
 Success. M-9748032827

কর্মখালি
Airport ও মেট্রোরেল
 বিভিন্ন PVT. ব্যাঙ্কে (DSA) তে
 বিনা ডোনেশনে কন্স্ট্রাক্টরের
 অধীনে Airport ও মেট্রোতে
 M/F নিয়োগ চলছে। যোগ্যতা
 ৮ম - স্নাতক। বেতন - 14700/-
 - 42500/- ফর্ম দেওয়া চলছে।
 যোগাযোগ-M: 7718718137

T.M.S. PVT, LTD
AIRPORT ROAD Kol-52
L/C/No.- 301590
 এয়ারপোর্ট, জাহাজ বন্দর ও
 মেট্রোরেল কন্স্ট্রাক্টরের অধীনে
 বিভিন্ন পদে সরকারি নিয়ম
 অনুযায়ী মেডিকেল ফিট প্রার্থীরা
 আবেদন করতে পারেন। শূন্য পদ-
 263 M/F যোগ্যতা অনুসারে
 পদ। বেতন, (16,500 -
 28,300), বয়স - (17-48)।
 বিশদ জানতে ফোন করুন -
 Mob - 9733441698.

কন্স্ট্রাক্টরের অধীনে
এয়ারপোর্ট ও Pvt. ব্যাঙ্কে
PERMANENT JOB
 Govt. Regd. L.No. 793306.
 স্ট্যাম্প পেপারে লিখিত-
 সহ জয়েনিং-এর সুবিধা।
 যোগ্যতানুযায়ী পোস্টিং। বেতন :
 15700 - 52600/- PF, ESI,
 OT, বোনাস-সহ থাকা-খাওয়ার
 সুবিধা। পদ - গ্রাউন্ডস্টাফ, কার্গো
 কুক, SV, চেকিংবয়, লেবার,
 মেকানিক-সহ বিশদ জানতে ফোন
 করুন। BC - 7718159729.

কুল-কলেজ-শিক্ষা
Math, G.I, GK বেলঘরিয়া
 CGL, রেল (Gr.D/SM), Police,
 ব্যাঙ্ক (ক্লার্ক/PO), WBCS, PSC,
 600PM. চম্প স্মার-9903500682

LLB উড়িষ্যা
 যেকোনো ব্যাসে, নিশ্চিত পাশ।
 M.A / M.Sc (Kanpur Reg.)
 বহরমপুর (BE)M: 8372057281

নেতাজী ওপেন-এর
গ্র্যাজুয়েশন, PG, BLIS
 নোটস, সাজেশন, প্রমোশন বই
 Contact For Franchise
 www.ambitioninstitute.org
 শিয়ালদহ অফিস-9232352893

ANM, GNM, B.Sc নার্সিং
D/B/M. Pharma, LLB
 M.Ed, M.P.Ed, B.P.Ed, B.Ed,
 D.L.Ed, ITI. Cont.- H.O. :
 8420657379, 8981214707,
 মহলদপুর : 9732641717,
 SRU, ঘড়ির মোড়, চুঁচুড়া, ঝলি।

G.A.C.E
MATH/ENG/G.I/GK -
 ALL SUBJECTS. WBCS,
 SSC, RAIL, BANK, S.I and
 CONSTABLE. PSC ইত্যাদি
 বিষয়ে প্রশিক্ষণ দেওয়া হয়।
 Sealdah, M- 7604058855

TET, WBCS, WBSSC, স্কুল
 সার্ভিস, রেল, Bank, PSC, SSC.
 মাসে 500/- শিয়ালদহ, কৃষ্ণনগর,
 রাণাঘাট, বড় জাতলি, কাচরাপাড়া,
 শ্যামনগর। P.H - 7584006555.

কর্মখালি
চাকরি পেতে একটি
ফোনের অপেক্ষা। বেতন
(10600 - 28700)
 শহর থেকে গ্রামের প্রত্যেক
 কর্মপ্রার্থীদের জন্য বিনা ডোনেশনে
 চাকরি। যোগ্যতা অষ্টম - স্নাতক।
 পশ্চিমবঙ্গের প্রত্যেকটি জেলাতে
 স্থায়ী কাজ। অফিসিয়াল ও
 অন্যান্য পদে নিয়োগ চলছে।
 পোস্ট : S/V, অফিস বয়, ক্লার্ক,
 ইনচার্জ, পিও, ATM গার্ড, PVT
 (BANK)-এ প্রচুর লোক
 প্রয়োজন। PF, ESI, OT,
 বোনাস, থাকা ও খাওয়া ফ্রী।
 যোগাযোগের সাথে সাথে
 কর্মপ্রার্থীকে লিখিতভাবে পোস্টিং
 এরিয়া জানানো হবে। AG - (M)
 8348222418

Airport, মেট্রোরেল ও
প্রাইভেট BANK (DSA) সংস্থার
কন্স্ট্রাক্টরের অধীনে স্পট জয়েনিং।
 Govt. Regd. L/No. - WB-
 3045. সম্পূর্ণ বিনা ডোনেশনে
 উত্তরবঙ্গ-সহ পশ্চিমবঙ্গের সমস্ত
 বেকার কর্মপ্রার্থীদের শিক্ষাগত
 যোগ্যতানুযায়ী সরাসরি
 কোম্পানির Direct পে-রোলে
 স্থায়ী পদে ছেলে/মেয়ে নিয়োগ
 চলছে। যোগ্যতা: নামসই-স্নাতক।
 বেতন - (12500 - 48700)।
 OT, PF, ESI, ছুটি, বোনাস,
 প্রমোশন-সহ থাকা-খাওয়ার সু-
 বিধা আছে। কাজ পেতে অতি
 সস্তা যোগাযোগ করুন। পরিচয়পত্র
 ও যোগ্যতার কাগজপত্র-সহ।
 M : 9734828490

কুল-কলেজ-শিক্ষা
FUTURE GUIDE LINE
 B.Ed / M.Ed / D.El.Ed / LLB
 / D.Pharm / GNM / B.Sc
 Nursing / B.Sc Agriculture /
 BA/MA/BSW/MSW/B.Lis
 / M.Lis. Mob-9836302957.

উইমেন্স মন্টেরি ট্রেনিং
 অ্যাফিলিয়েটেড 45 বছরের বিশ্বস্ত
 প্রতিষ্ঠান। অল ইন্ডিয়া ইনস্টিটিউটে
 মন্টেরি ট্রেনিংয়ে ভর্তি। 59/C,
 সুভেন রায় রোড, বেহালা, কলি-34.
 2348-2855, 9831395169

WBCS, Govt - Jobs
At ICE Ballygunge
 Best Faculty, Study Mat &
 Mock Test. Sure Success!
 New Batch-9163191187.

Math & Eng সোনারপুর
 Rail (সেশনাল), WBCS, SSC,
 আইয়ারি, পুলিশ। সেকেন্ড কৌশল।
 Alakesh Sir - 9836045234

HALDAR ACADEMY
 ভর্তি চলছে- B.Ed, D.El.Ed,
 M.Ed, D.Pharm, MP, HS,
 BA, MA, B.Sc, M.Sc etc
 7890017038, 9007700707

প্যারা মেডিক্যাল-এ ভর্তি
 DPT, DMLT, ECG, Nursing
 Assist, OT Tech., D.Opt
 Approved - B.S.S (Govt. of
 India স্বীকৃত)। MIPS-
 Berhampore, Msd, M :
 9732326360, 7478893802.

কর্মখালি
স্থায়ী চাকরি
 JIO 4G টাওয়ার, প্রাঃ ব্যাঙ্ক, Co.
 ও বিভিন্ন সংস্থার কাজের জন্য M/
 F কর্মী চাই। বেতন : 12-29.
 যোগ্যতা-৮ম-স্নাতক। রেজিঃ 101
 + ফর্ম। RCM -9163462100

আর্জেন্ট ভ্যাকান্সি
Airport, মেট্রো ও
Pvt. ব্যাঙ্কে স্থায়ী জব
 বিনা ডোনেশনে কন্স্ট্রাক্টরের
 অধীনে স্ট্যাম্প পেপারে লিখিত-
 সহ বিভিন্ন অফিসিয়াল পদে M/F
 কর্মী নিয়োগ চলছে। যোগ্যতা ৮ম
 - স্নাতক। বেতন 18700 -
 45500. এছাড়াও PF, ESI,
 OT-সহ থাকা-খাওয়ার সুব্যবস্থা
 আছে। সস্তা যোগাযোগ করুন -
 M : 8768473942.

পঃ বঙ্গের মাল্টিপ্ল্যানাল, Bank
(ATM), টাওয়ার কোম্পানিতে
প্রচুর ছেলে প্রয়োজন
 পুজের বোনাস-সহ স্পট জয়েনিং।
 পশ্চিমবঙ্গের প্রতিটি ন্যাশনাল,
 মাল্টিপ্ল্যানাল কোম্পানি, Bank,
 টাওয়ার, আয়রন Co., Steel
 Co., টেকনোলজিক্যাল Co. তে
 প্রচুর ছেলে প্রয়োজন। যোগ্যতা
 নামসই - স্নাতক। জেলাভিত্তিক
 পোস্টিং। বেতন- MP - (8600 -
 10600), MP-HS (10600 -
 16800), HS-স্নাতক (16800
 -24600), স্নাতকোত্তর (24600
 - 29600)। নো ডোনেশন।
 রেজিঃ ১০১ + ফর্ম। স্পট
 জয়েন্ট। M : 9775972898.

আর্জেন্ট ভ্যাকান্সি
Airport, মেট্রো ও Pvt
Bank (DSA) স্থায়ী জব
 বিনা ডোনেশনে কন্স্ট্রাক্টরের
 অধীনে স্ট্যাম্প পেপারে লিখিত
 সহ বিভিন্ন অফিসিয়াল পদে M/F
 কর্মী নিয়োগ চলছে। যোগ্যতা -
 ৮ম - স্নাতক, বেতন - (17,700-
 42,600)। এছাড়া PF, OT,
 ESI, বোনাস, থাকা-খাওয়ার
 সুব্যবস্থা আছে। R.C -
 7797607280.

কুল-কলেজ-শিক্ষা
 WBCS (Pre+Main) ও অন্যান্য
 পরীক্ষার জন্য General Studies
 (Eng, Math, Science বাদে)
 পড়াই। হাওড়া - 9836535497

CRACK FOR BANK / SSC
 (CGL / HSL) / RAIL / PSC.
 26 Years Experience, DI,
 Kestopur, M - 9903246165.

সোনারপুর
 পাশ নিশ্চিত- MP, HS, BA, MA,
 B.Sc, M.Sc, B.Ed, D.El.Ed,
 M.Ed, D.Pharm. Call-(USS)
 8167264452, 9836371321

চাকরির English মানসই কার্তিক
 স্মার -9830110281. Bank-30,
 CGL-180(Tier -II) নিশ্চিত।
 WBCS (Pre+Main), Bank
 etc. Writing Skill ধরে ধরে সম
 করে শেখানো হয়। বেলঘরিয়া,
 গড়িয়াহাট, বড়লা, কলেজস্ট্রিট।

আলিগড় মুসলিম বিশ্ববিদ্যালয়
NAAC A+ Distance Courses
 • Central University হওয়ায়
 পরীক্ষাকেন্দ্রে আপনার নিকটবর্তী শহরে।
 • SSC-সহ সমস্ত সরকারি চাকুরীতে 100%
 গ্রহণযোগ্য। • ভর্তি চলছে BA [ENG,
 HIST, POL.Sc, SOCIO, ARABIC,
 ISLAMIC STUDIES] B.COM, MA
 [ENG, HIST, POL.Sc, HINDI,
 ARABIC], M.COM এবং B.Lis
 • মুসলিম ছাত্রছাত্রীদের জন্য 10% ছাড়।
TECHNO GLOBAL EDUSERVE
 20/30 গ্রাহ্যমস জ্যাড. টালিগঞ্জ
 মেট্রো স্টেশনের সামনে, কলকাতা
 033 2481 0186. 9064827292

কর্মখালি
আর্জেন্ট ভ্যাকান্সি
এয়ারপোর্ট ও মেট্রোতে
 কন্স্ট্রাক্টরের অধীনে স্থায়ী চাকরি
 সম্পূর্ণ বিনা ডোনেশনে অষ্টম -
 স্নাতক পর্যন্ত। বেতন : 12600/-
 - 42700/- PF, ESI, OT-
 সহ থাকা ও খাওয়ার সুব্যবস্থা
 আছে। Mob : 9593360655.

ফোন করলেই নিশ্চিত চাকরি
 কন্স্ট্রাক্টরের অধীনে Airport,
 মেট্রোরেল ও প্রাইভেট Bank সংস্থার
 Govt. Regd. No. L/No. - WB
 - 6668. সম্পূর্ণ বিনা ডোনেশনে
 শিক্ষাগত যোগ্যতানুযায়ী স্ট্যাম্প
 পেপারে লিখিত-সহ কোম্পানির
 Direct পে-রোলে সরাসরি লোক
 নিয়োগ চলছে। যোগ্যতা - নামসই
 - স্নাতক। বেতন - (9500 -
 48700)। সবকটি পদে OT,
 PF, ESI, ছুটি, বোনাস, প্রমোশন-
 সহ থাকা এবং খাওয়ার
 সুব্যবস্থা আছে। যোগাযোগ -
 9734828617.

আর্জেন্ট ভ্যাকান্সি
Airport, মেট্রো ও Pvt
Bank (DSA) স্থায়ী জব
 বিনা ডোনেশনে কন্স্ট্রাক্টরের
 অধীনে স্ট্যাম্প পেপারে লিখিত
 সহ বিভিন্ন অফিসিয়াল পদে M/F
 কর্মী নিয়োগ চলছে। যোগ্যতা -
 ৮ম - স্নাতক, বেতন - (17,700-
 42,600)। এছাড়া PF, OT,
 ESI, বোনাস, থাকা-খাওয়ার
 সুব্যবস্থা আছে। R.C -
 7797607280.

কুল-কলেজ-শিক্ষা
 WBCS, রেল, পুলিশ, TET
 পড়াই। ADSR, কনস্টেবলে চাকরি
 পেয়েছে অনেকেই। সাগর রায় -
 9874069897, হাওড়াময়দান।

Vision Institute
B.Ed & M.Ed.
Ph.D, LLB, Pharmacy
Engg. & Management
 এছাড়া সব বিষয়ে ডিগ্রি ও মাস্টার
 ডিগ্রি কোর্স (Regular & Distance)
 কলকাতা -
 7603004971, 7603004973
 দুর্গাপুর : 9007829310
 শিলিগুড়ি : 8370897985

Kalyani Reliable
 D-Pharm, B-Pharm, GNM,
 B.Sc (নার্সিং), X-Ray, ECG,
 DMLT, D-Opto etc. কোর্সে
 ভর্তি চলছে। এছাড়াও MP / HS
 From NIOS. Contact : KR,
 7003007707, 9007309541.

সরকারি চাকরি প্রস্তুতি
 বিনামূল্যে। Only SC/ST/OBC/
 Minority-র জন্য WBCS, Rail,
 Police, PSC, Primary TET-
 9163621655, 8777049068
 রবীন্দ্র পাঠশালন-B.Ed, D.El.Ed,
 M.Ed, Ph.D, BBA, BCA,
 MBA, GNM, B.Sc, M.Sc,
 নার্সিং, D.Pharm, B.Pharm,
 B.A, M.A, B.Sc, M.Sc,
 B.Com, M.Com. সোনারপুর -
 8017449650, 9088283860

কর্মখালি
আর্জেন্ট ভ্যাকান্সি
এয়ারপোর্ট, মেট্রো
ও ব্যাঙ্ক DSA চাকরি
 কন্স্ট্রাক্টরের অধীনে স্থায়ী চাকরি,
 M/F চাই, No Donation, (৮ম
 - স্নাতক) বেতন : 14600/- -
 42700/-, বয়স (18-45) বিভিন্ন
 সুযোগ-সহ থাকা-খাওয়া সুব্যবস্থা
 আছে। M : 7797496471

Shine Pvt. Ltd. কলি-52,
Govt. Regd. L. No. 099631
এয়ারপোর্ট ও মেট্রোরেল
 বিভিন্ন পদে সরাসরি নিয়োগ।
 শূন্য পদ - 270, M/F চাই।
 যোগ্যতা অনুসারে পদ ও বেতন
 (16700 - 19900 - 27000)
 প্রয়োজন। কর্মপ্রার্থী বায়োডাটা-
 সহ নিজ সাক্ষাৎ। কলি-52, Mob
 : 9732408834 (Sudip Sen)

TREDEX PVT. LTD
বশোর রোড-কোলি-52
L/C - No. - 36925
 এয়ারপোর্ট, জাহাজ ও মেট্রোরেল
 কন্স্ট্রাক্টরের অধীনে সরকারি
 নিয়মানুযায়ী চুক্তিপত্রের মাধ্যমে
 Medical fitt কর্মপ্রার্থীদের
 যোগ্যতার ওপর নির্ভর করে
 সরাসরি নিয়োগ চলছে। যোগ্যতা
 ৮ম থেকে স্নাতক। বয়স - 17
 থেকে 42-এর মধ্যে। যোগ্যতা
 অনুযায়ী পদ ও বেতন - 15300
 - 36800, বিস্তারিত আরো
 জানতে কথা বলুন। M :
 7872053066.

কুল-কলেজ-শিক্ষা
350/- মাসে
 Rail, PSC, ক্লার্ক, CGL,
 (WBCS - 1000/-)। শিয়ালদহ,
 ঢাকুরিয়া। PA - 9804861270

LLB (3Yrs.), যে কোনো ব্যাসে।
 প্রাজুয়েট/মাস্টার ডিগ্রি 45% নম্বর,
 SC/ST-40%, OBC-42%। পাশ
 100%। 'ল' পরীক্ষা-9836922534

প্রচুর সার্ফল্য, Math, GI, GK,
 Eng, PSC, WBCS, স্টাফ সিং,
 K.P., P.O., Bank, 400/-
 A.R. 9804591884. পড়িয়া।

GNM - B.Sc. নার্সিং ট্রেনিং INC
 স্বীকৃত। H.S পাশ। অনলাইন
 (gnmnursingjyoti.org) ভর্তি
 চলছে। JECT - জ্যোতি নার্সিং
 হোম। নলহাটি। 9232034121

LLB, B.ED., D.ED., I.T.I., D.
 PHARM, B.P.ED., M.ED.,
 PH.D, BA, B.SC, B.COM,
 MA, M.SC, M.COM (H.S/
 MP-NIOS) ডিপ্লোমা ও রেজিষ্ট্রারে
 ভর্তি চলছে আপনাদের বিশ্বস্ত
 প্রতিষ্ঠানে (B.E.I.)। কোচবিহার -
 7076350148, ডালখোলা -
 8001191486. নতুন ব্র্যাকের
 জন্য 6301285075 কল করুন।

কর্মখালি
এয়ারপোর্ট ও মেট্রো
 গভঃ লাইসেন্সপ্রাপ্ত কন্স্ট্রাক্টরের
 অধীনে Airport ও মেট্রোতে
 D গ্রুপে কর্ম দেওয়া চলছে।
 যোগ্যতা ৮ম - স্নাতক। বেতন -
 16,800 - 45,800. বয়স - 18-
 45. M : 8768473851.

URGENT
REQUIREMENT
 ও স্টার 5 স্টার হোটেল ও প্রাঃ
 ব্যাঙ্ক-এ বিভিন্ন কাজের জন্য M/F
 নিয়োগ করা হচ্ছে। বেতন (15500
 - 26200)। M : 7718707682

রুটিক জায়গায় ফোন করে
কাজ নিয়ে যান। স্ট্যাম্প
পেপারে লিখিত গ্যারান্টি-সহ
 4 দিনের মধ্যে নিজের জেলায়
 স্থায়ী কাজ। Govt. Regd. L/
 No. - G.B.L.39526. সম্পূর্ণ
 বিনা ডোনেশনে উত্তরবঙ্গ-
 সহ পশ্চিমবঙ্গের সমস্ত জেলায়
 বেকার কর্মপ্রার্থীদের শিক্ষাগত
 যোগ্যতানুযায়ী কন্স্ট্রাক্টরের
 অধীনে Airport, মেট্রোরেল ও
 BANK (DSA) সংস্থার সরাসরি
 M/F নিয়োগ চলছে। এছাড়া
 Tower গার্ড, ATM গার্ড, SV-
 সহ বিভিন্ন কোম্পানিতে M/F
 নিয়োগ চলছে। যোগ্যতা : নামসই
 - স্নাতক। বেতন : (10500 -
 46800)। OT, PF, ESI, ছুটি,
 বোনাস, প্রমোশনের সুবিধা-সহ
 থাকা-খাওয়া ফ্রী। কাজ পেতে
 অথবা কাজের বিশদ জানতে
 যোগাযোগ-M : 9734828710

All disputes regarding
 sales and advertisement
 of all publications of
 Sangsthaan Prakashan
 Pvt. Ltd. are subject to
 Kolkata Jurisdiction only.

কুল-কলেজ-শিক্ষা
কানপুরে ভর্তি চলছে
 M.A / M.Sc কৃষোল-সহ সমস্ত
 বিষয়। যোগাযোগ - বহরমপুর (BE)
 Mob : 8372057281.

ভর্তি চলিতেছে
 B.Ed, D.El.Ed, M.Ed, MP,
 HS, UG, PG, ITI, Polytechnic,
 BBA, MBA, BCA, MCA
 B.Tech-9073075123 (SR)

ভারত সরকার স্বীকৃত নার্সিং
ট্রেনিং কলেজ (বালিগঞ্জ)-
এ ভর্তির বিজ্ঞপ্তি
 ANM Nursing (2 Years)
 ট্রেনিং-এ সরাসরি ভর্তি চলছে।
 কোর্সের শেষে নিশ্চিত চাকরি।
 Installment-সহ অন্যান্য অনেক
 সুযোগ সুবিধা। Approved by
 BSS / NSDC Govt. of India.
 রবীন্দ্র পাঠ ভবন, বালিগঞ্জ :
 9732684328, 9732937726.

কর্মখালি
Airport ও মেট্রো
 R/L No. - 2379. সম্পূর্ণ বিনা
 ডোনেশনে কন্স্ট্রাক্টরের অধীনে
 Airport, মেট্রো Pvt. ব্যাঙ্ক M/
 F নিয়োগ চলছে। যোগ্যতা - ৮ম
 - স্নাতক। বেতন - 15700/-
 - 42900/-। বিশদ জানতে -
 M : 7797573426.

Pvt. ব্যাঙ্ক ও এয়ারপোর্টে
 গভঃ লাইসেন্স প্রাপ্ত কন্স্ট্রাক্টরের
 অধীনে Airport এবং Pvt. ব্যাঙ্ক
 (DSA) তে সরাসরি নিয়োগ
 চলছে। ৮ম - স্নাতক। বেতন
 ১৩৭০০ - ৪২৫০০। বয়স ১৮-
 ৪৮। থাকা ও খাওয়ার সুব্যবস্থা।
 শহর রায়, M : 9734824648.

কন্স্ট্রাক্টরের অধীনে এয়ারপোর্ট
ও মেট্রোতে নিয়োগ
 সম্পূর্ণ পেপার সহ জয়েনিং।
 নামসই-স্নাতক। M/F কর্মপ্রার্থী
 প্রয়োজন। বয়স : ১৭ থেকে ৪২।
 বেতন : ১৪৫০০/- - ৩৬৩০০/-,
 ESI, OT, PF, বোনাস-সহ থাকা
 খাওয়ার সুব্যবস্থা। 7797609745

দোহাই, আর ঠকবেন না
 বেকার ছেলেমেয়েরা যাতে না
 ঠকেন, সেজন্য ট্রেড লাইসেন্স-
 সহ যাবতীয় তথ্যাদি দেখে
 নিশ্চিত হয়েই বিজ্ঞাপন নেওয়া
 হয়। তবু কিছু সংস্থা ড্রেস ও
 এখনই চাকরি দেওয়ার লোভ
 দেখিয়ে হাজার-হাজার টাকা
 নেওয়ার চেষ্টা করছেন বলে
 অভিযোগ আসছে। লোভে পড়ে
 টাকা দেবেন না। আর তা সত্ত্বেও
 টাকা দিলে নিজ দায়িত্বেই দেনে।
 তার জন্য আমরা দায়ী নই। বেশি
 টাকার চাহিদা স্কেলেই সংস্থাটি ও
 ব্যক্তির নাম-ঠিকানা জানিয়ে
 লিখিত অভিযোগ স্থানীয় থানায়
 জানাবেন। এছাড়া পাঠাবেন এই
 ঠিকানায় : সি.আই.ডি. বিভাগ,
 ভবানী ভবন, আলিপুর,
 কলকাতা-২৭। কলকাতার সংস্থা
 হলে এই ঠিকানায় : ডি.সি.,
 ডি.ডি. - ১, লালবাজার, ১৮,
 লালবাজার স্ট্রিট, কলকাতা-১।
 নিজ দায়িত্বে টাকা দেওয়ার পর
 আর ফোনে অভিযোগ জানাবেন
 না। যাবতীয় যোগাযোগ করতে
 পারেন টাকা দেওয়ার আগে।
 - সম্পাদক, কর্ণসংস্থান।

কেন্দ্রীয় সংস্থায় স্পেশাল এডুকেশনের বিভিন্ন পেশাদারি কোর্সে ভরতি

কেন্দ্রীয় সরকারের সামাজিক বিচার ও ক্ষমতায়ন মন্ত্রকের অধীন ন্যাশনাল ইনস্টিটিউট ফর দি এমপাওয়ারমেন্ট অফ পার্সন উইথ ইন্টেলেকচুয়াল ডিসএবিলিটিস (আগে নাম ছিল ন্যাশনাল ইনস্টিটিউট ফর দি মেটালি হ্যান্ডিক্যাপড) ভরতি নিচ্ছে নিচের এইসব কোর্সে : (১) এম. ফিল ইন রিহাবিলিটেশন সাইকোলজি। গড়ে ৫৫% (তপশিলী হলে ৫০%) নম্বর নিয়ে সাইকোলজি বিষয়ে পোস্ট-গ্রাজুয়েট ডিগ্রি কোর্স পাশ ছেলেমেয়েরা আবেদন করতে পারেন। ২ বছরের কোর্স। সীট : ১৪টি। প্রার্থী বাছাই করা হবে এপ্রিল পরীক্ষার মাধ্যমে। এই পরীক্ষার সন্তাব্য দিন ১৭-৬-২০১৮। (২) এম.এড ইন স্পেশাল এডুকেশন (এম.আর)। আর.সি.আই স্বীকৃত কোনো প্রতিষ্ঠান থেকে গড়ে ৫০% (তপশিলীদের বেলায় ৪৫%) নম্বর নিয়ে বি.এড. ইন স্পেশাল এডুকেশন (এম.আর) বা, বি.এড জেনারেল সঙ্গে ১ বছরের স্পেশাল এডুকেশনের ডিপ্লোমা থাকলে আবেদন করতে পারেন। ২ বছরের কোর্স। সীট : ২৫টি। প্রার্থী বাছাইয়ের পরীক্ষার সন্তাব্য দিন ১৭-৬-২০১৮। (৩) বি.এড. ইন স্পেশাল এডুকেশন (এম.আর)। কোনো স্বীকৃত বিশ্ববিদ্যালয় থেকে গড়ে ৫০% (তপশিলীদের বেলায় ৪৫%) নম্বর পেয়ে যে কোনো শাখার ডিগ্রি কোর্স পাশ ছেলেমেয়েরা আবেদন করতে পারেন। সীট : ২৫টি। মোট : ২ বছর। প্রার্থী বাছাইয়ের পরীক্ষার সন্তাব্য দিন ১৭-৬-২০১৮। (৪) পোস্ট-গ্রাজুয়েট ডিপ্লোমা ইন আলি ইন্টারভেনশন। এম.বি.বি.এস, বি.এম.আর /

বি.আর.এস (এম.আর) / বি.এড ইন স্পেশাল এডুকেশন (এম.আর) / বি.এসসি (নোর্সিং) / মাস্টার ইন চাইল্ড ডেভেলপমেন্ট / ব্যাচেলর ইন অকুপেশনাল থেরাপি / ব্যাচেলর ইন ফিজিওথেরাপি / ব্যাচেলর ইন প্লিচ থেরাপি / মাস্টার ইন চাইল্ড সাইকোলজি বিষয়ের পাশ ছেলেমেয়েরা আবেদন করতে পারেন। এইসব বিষয়ের ডিগ্রি কোর্সে সংশ্লিষ্ট বিষয়ে ৫০% (তপশিলী হলে ৪৫%) নম্বর পেতে হবে। ১ বছরের কোর্স। সীট : ২০টি। প্রার্থী বাছাইয়ের সন্তাব্য তারিখ ১৭-৬-২০১৮। দ্বিতীয় ৪টি কোর্স ওসমানিয়া ইউনিভার্সিটি স্বীকৃত। (৫) ডি.এড স্পেশাল এডুকেশন। ৫০% নম্বর নিয়ে (তপশিলীদের বেলায় ৪৫%) উচ্চমাধ্যমিক পাশ ছেলেমেয়েরা আবেদন করতে পারেন। ১ বছরের কোর্স। সীট : ২৫টি। ইন্টারভিউ ও মেধার ভিত্তিতে প্রার্থী বাছাই করা হবে। (৬) ডিপ্লোমা ইন আলি চাইল্ড স্পেশাল এডুকেশন (এম.আর)। এক্ষেত্রে শিক্ষাগত যোগ্যতা, প্রার্থী বাছাই ও সীট আশের মতোই। (৭) ডিপ্লোমা ইন ভোকেশনাল রিহাবিলিটেশন (এম.আর)। শিক্ষাগত যোগ্যতা, প্রার্থী বাছাই ও সীট আশের মতোই।

সংস্থার আঞ্চলিক কেন্দ্র কলকাতায় ভরতি নেওয়া হচ্ছে এইসব কোর্সে : (১) বি.এড ইন স্পেশাল এডুকেশন। গড়ে ৫০% (তপশিলী হলে ৪৫%) নম্বর পেয়ে যে কোনো শাখার ডিগ্রি কোর্স পাশ ছেলেমেয়েরা আবেদন করতে পারেন। সীট : ৩০টি। ২ বছরের কোর্স। কোর্সটি পশ্চিমবঙ্গ রাজ্য বিশ্ববিদ্যালয় স্বীকৃত।

পরীক্ষার মাধ্যমে ভরতি নেওয়া হবে। (২) ডিপ্লোমা ইন স্পেশাল এডুকেশন। গড়ে ৫০% (তপশিলী হলে ৪৫%) নম্বর পেয়ে যে কোনো শাখার উচ্চমাধ্যমিক বা, সমতুল কোর্স পাশ ছেলেমেয়েরা আবেদন করতে পারেন। সীট : ২৫টি। ২ বছরের কোর্স। ইন্টারভিউয়ের মাধ্যমে ভরতি নেওয়া হবে। (৩) ডিপ্লোমা ইন ভোকেশনাল রিহাবিলিটেশন (এম.আর)। শিক্ষাগত যোগ্যতা, প্রার্থী বাছাই ও সীট আশের মতো।

ছাত্র-ছাত্রীদের থাকার জন্য হোস্টেলের ব্যবস্থা আছে। সেই সঙ্গে আছে স্কলারশিপের ব্যবস্থা। দরখাস্ত জমা দেওয়ার শেষ তারিখ ১৯ মে। ১০০ টাকা লেট ফী দিয়ে জমা দেওয়ার শেষ দিন ৩১ মে। মূল কেন্দ্রে ভরতির জন্য যোগাযোগ করতে হবে এই ঠিকানায় : ন্যাশনাল ইনস্টিটিউট ফর দি এমপাওয়ারমেন্ট অফ পার্সন উইথ ইন্টেলেকচুয়াল ডিসএবিলিটিস, মনোবিকাশ নগর, সেকেন্দরাবাদ - ৫০০০০৯। ফোন : ০৪০-২৭৭৫১৭৪১ বিস্তারিত তথ্য পাবেন এই ওয়েবসাইটে : www.niepid.nic.in

কলকাতা কেন্দ্রের ঠিকানা : ন্যাশনাল ইনস্টিটিউট ফর দি এমপাওয়ারমেন্ট অফ পার্সন উইথ ইন্টেলেকচুয়াল ডিসএবিলিটিস, এন.আই.ও.এইচ ক্যাম্পাস, বি.টি রোড, বনহুগলী, কলকাতা - ৭০০০২০। ফোন : (০৩৩) ২৫৩১১০৫৭



রায়গঞ্জ বিশ্ববিদ্যালয়ে
রায়গঞ্জ বিশ্ববিদ্যালয়ে টিচিং ও অ্যাডমিনিস্ট্রেশন পদে কিছু লোক নিচ্ছে। কোন পদের জন্য কেমন শিক্ষাগত যোগ্যতা, বয়স, প্রার্থী বাছাই পদ্ধতি ইত্যাদি দরকার তা পাবেন এই ওয়েবসাইটে : www.raiganjuniversity.ac.in দরখাস্ত করার শেষ তারিখ ২০ এপ্রিল।

পৌরসভায় নাম
জয়নগর-মাজিলপুর পৌরসভা নাম পদে ১ জন তরুণী নিচ্ছে। বিস্তারিত তথ্যের জন্য যোগাযোগ করুন এই ঠিকানায় : পোঃ জয়নগর-মাজিলপুর, জেলা- দক্ষিণ ২৪ পরগণা। ওয়েবসাইটে : www.joynagar.mozilpurmunicipality.com দরখাস্ত করার শেষ তারিখ ৮ এপ্রিল।

রাজ্যে কনসালট্যান্ট
ওয়েস্ট বেঙ্গল রেনুয়েবেল এনার্জী ডেভেলপমেন্ট সোসাইটি কনসালট্যান্ট পদে ৪ জন লোক নিচ্ছে। ইঞ্জিনিয়ারিং গ্রাজুয়েট বা, এম.এসসি. (ফিজিক্স) পাশরা যোগ্য। বয়স হতে হবে ৪০ বছরের মধ্যে। প্রার্থী বাছাইয়ের সরাসরি ইন্টারভিউ হবে ১০ এপ্রিল। বিস্তারিত তথ্য পাবেন এই ওয়েবসাইটে : www.wbreda.org

রাজ্য স্বাস্থ্য দফতরে
পশ্চিমবঙ্গ রাজ্য স্বাস্থ্য ও পরিবার কল্যাণ সমিতি ডিস্ট্রিক্ট ডাটা ম্যানেজার পদে কিছু লোক নিচ্ছে। কেমন শিক্ষাগত যোগ্যতা, বয়স, প্রার্থী বাছাই পদ্ধতি ইত্যাদি দরকার তা পাবেন এই ওয়েবসাইটে : www.wbhealth.gov.in

ব্যুরো অফ ইন্ডিয়ানে
ব্যুরো অফ ইন্ডিয়ান স্ট্যান্ডার্ডে স্বল্পমেয়াদি ভিত্তিতে ইন্টার্ন, গ্রাজুয়েট ইঞ্জিনিয়ার ট্রেনিং, সায়েন্স গ্রাজুয়েট ট্রেনিং, ডিপ্লোমা ট্রেনিং ও তরুণ পেশাদার নিয়োগ করছে। বিস্তারিত শিক্ষাগত যোগ্যতা, বয়স, অভিজ্ঞতা ইত্যাদি পাবেন এই ওয়েবসাইটে : www.bis.gov.in

উত্তর দমদম পৌরসভায় নিয়োগ
নর্থ দমদম মিউনিসিপ্যালিটিতে সাব-অ্যাসিস্ট্যান্ট ইঞ্জিনিয়ার (সিভিল) পদে ২ জন লোক নিচ্ছে। চাকরি হবে চুক্তিতে। কেমন শিক্ষাগত যোগ্যতা, বয়স, প্রার্থী বাছাই পদ্ধতি ইত্যাদি দরকার তা পাবেন এই ওয়েবসাইটে : www.northdumdummunicipality.org

এক্সপোর্ট-ইমপোর্ট ব্যাঙ্কে
এক্সপোর্ট-ইমপোর্ট ব্যাঙ্ক অফ ইন্ডিয়া 'অফিসার -লিগ্যাল', 'অফিসার - ইনফর্মেশন টেকনোলজি' ও 'অ্যাডমিনিস্ট্রেশন অফিসার' পদে ১৩ জন লোক নিচ্ছে। কোন পদের জন্য কেমন শিক্ষাগত যোগ্যতা, বয়স, প্রার্থী বাছাই পদ্ধতি ইত্যাদি দরকার তা পাবেন এই ওয়েবসাইটে : www.eximbankofindia.in/careers

উত্তর দিনাজপুর জেলা স্বাস্থ্য দফতরে
উত্তর দিনাজপুর জেলা স্বাস্থ্য ও পরিবার কল্যাণ সমিতি বিভিন্ন পদে কিছু লোক নিচ্ছে। কোন পদের জন্য কেমন শিক্ষাগত যোগ্যতা, বয়স, প্রার্থী বাছাই পদ্ধতি ইত্যাদি দরকার তা পাবেন এই ওয়েবসাইটে : www.wbhealth.gov.in/www.uttardinajpur.nic.in

বসিরহাট জেলা স্বাস্থ্য দফতরে
বসিরহাট জেলা স্বাস্থ্য ও পরিবার কল্যাণ সমিতি অ্যাসিস্ট্যান্ট কাউন্সেলর, ডিস্ট্রিক্ট ফিন্যান্স অ্যান্ড লজিস্টিক অফিসার, স্টাফ নার্স ইত্যাদি পদে কিছু লোক নিচ্ছে। কোন পদের জন্য কেমন শিক্ষাগত যোগ্যতা, বয়স, প্রার্থী বাছাই পদ্ধতি ইত্যাদি দরকার তা পাবেন এই ওয়েবসাইটে : www.wbhealth.gov.in

চাকরির টুকরো খবর

আলিয়া বিশ্ববিদ্যালয়ে বিভিন্ন পদে
আলিয়া বিশ্ববিদ্যালয়ে টিচিং ও নন-টিচিং পদে কিছু লোক নেওয়া হচ্ছে। নন-টিচিং পদে নেওয়া হবে এইসব পদে : প্র-প-ডি, টেকনিক্যাল অ্যাসিস্ট্যান্ট (গ্রেড- I), অ্যাসিস্ট্যান্ট লাইব্রেরিয়ান, সিকিউরিটি অফিসার। প্রফেসর, অ্যাসোসিয়েট প্রফেসর, অ্যাসিস্ট্যান্ট প্রফেসর নেওয়া হবে এইসব বিষয়ে : ইংরিজি, উর্দু, ইসলামিক থিওলজি, ইতিহাস, অর্থনীতি, জার্নালিজম অ্যান্ড ম্যাগ কমিউনিকেশন, ভূগোল, ল, কেমিস্ট্রি, অর্থ, স্ট্যাটিস্টিক্স, বায়ো-সায়েন্স, সিভিল, ইলেক্ট্রিক্যাল, মেকানিক্যাল, ইলেক্ট্রনিক্স অ্যান্ড কমিউনিকেশন, কম্পিউটার সায়েন্স অ্যান্ড ইঞ্জিনিয়ারিং, এডুকেশন। কোন পদের জন্য কেমন শিক্ষাগত যোগ্যতা, বয়স, অভিজ্ঞতা ইত্যাদি থাকা দরকার তা পাবেন এই ওয়েবসাইটে : www.aliah.ac.in দরখাস্ত করার শেষ তারিখ ২৫ এপ্রিল।

বিদ্যাসাগর বিশ্ববিদ্যালয়ে
বিদ্যাসাগর বিশ্ববিদ্যালয়ে অ্যাসোসিয়েট প্রফেসর ও অ্যাসিস্ট্যান্ট প্রফেসর পদে কিছু লোক নেওয়া হচ্ছে। কোন পদের জন্য কেমন শিক্ষাগত যোগ্যতা, বয়স, অভিজ্ঞতা ও মূল মাইনে ইত্যাদি পাবেন এই ওয়েবসাইটে : www.vidyasagar.ac.in দরখাস্ত করার শেষ তারিখ ২০ এপ্রিল। পূরণ-করা দরখাস্তের সঙ্গে দেবেন ৬০০ / ৮০০ টাকার (পদ অনুযায়ী) ব্যাঙ্ক ড্রাফট। 'Vidyasagar University'র অনুকূলে ও পেয়েবল অ্যাট লিখবেন 'Midnapore'. আরো বিস্তারিত তথ্য পাবেন ওই ওয়েবসাইটে।

মুর্শিদাবাদ জেলা স্বাস্থ্য দফতরে
মুর্শিদাবাদ জেলা স্বাস্থ্য ও পরিবার কল্যাণ সমিতি বিভিন্ন পদে কিছু লোক নিচ্ছে। কোন পদের জন্য কেমন শিক্ষাগত যোগ্যতা, বয়স, প্রার্থী বাছাই পদ্ধতি ইত্যাদি দরকার তা পাবেন এই ওয়েবসাইটে : www.wbhealth.gov.in/www.murshidabad.nic.in দরখাস্ত করার শেষ তারিখ ২৪ এপ্রিল।

পূর্ব বর্ধমান জেলা স্বাস্থ্য দফতরে
পশ্চিমবঙ্গের পূর্ব বর্ধমান জেলা স্বাস্থ্য ও পরিবার কল্যাণ সমিতি ল্যাব টেকনিশিয়ান, ফিন্যান্স কাম লজিস্টিক অফিসার, কাউন্সেলর, ডেন্টাল অ্যাসিস্ট্যান্ট পদে কিছু লোক নিচ্ছে। কোন পদের জন্য কেমন শিক্ষাগত যোগ্যতা, বয়স, প্রার্থী বাছাই পদ্ধতি ইত্যাদি দরকার তা পাবেন এই ওয়েবসাইটে : www.bardhaman.nic.in/www.wbhealth.gov.in

ইউনিয়ন ব্যাঙ্কে
ইন্ডিয়ান ব্যাঙ্ক স্পেশালিস্ট অফিসার পদে কিছু লোক নেওয়া হচ্ছে। নেওয়া হবে এইসব পদে : ইনফর্মেশন টেকনোলজি, রিস্ক ম্যানেজমেন্ট, স্ট্যাটিস্টিক্স, ট্রেজারি ক্রেডিট, আর্কিটেক্ট, সিভিল, ইলেক্ট্রিক্যাল ও সিকিউরিটি স্পেশালাইজেশন ইত্যাদি। দরখাস্ত করবেন অনলাইনে, ১০ এপ্রিল থেকে ২ মে'র মধ্যে। বিস্তারিত তথ্য পাবেন এই ওয়েবসাইটে : www.indianbank.in

রাজ্য হাইওয়ে ডেভেলপমেন্টে
ওয়েস্ট বেঙ্গল হাইওয়ে ডেভেলপমেন্ট কর্পোরেশন লিমিটেড 'ম্যানেজার (লিগ্যাল) পদে কিছু লোক নিচ্ছে। নিয়োগ হবে চুক্তিতে। বিস্তারিত তথ্য পাবেন এই ওয়েবসাইটে : www.wbhdcl.gov.in

রাজ্য স্বাস্থ্য দফতরে ৫১২ ১ পাতার পর

টাকা। শূন্যপদ : ৫১২টি (জেনাঃ ২৭২, তজঃ ১১৪, তউঃ ৩০, ও.বি.সি.-এ ক্যাটেগরি ৪৯, ও.বি.সি.-বি ক্যাটেগরি ৩৪, প্রতিবন্ধী ১৩)। এই পদের বিজ্ঞপ্তি নং : SHFWS/2018/141, Date : 29.3.2018.

শিক্ষাগত যোগ্যতা দেখে বাছাই প্রার্থীদের মেধা তালিকা তৈরি হবে। এরপর হবে বালো টেস্ট। কোন যোগ্যতার কীভাবে স্কোরিং করা হবে : মাসিকের জন্য ২০ নম্বর, উচ্চমাধ্যমিকের জন্য ২০ নম্বর, ফর্মাসির ডিপ্লোমা কোর্সের জন্য ৩০ নম্বর, ফর্মাসির ডিগ্রি কোর্সের জন্য ২০ নম্বর, ফর্মাসির মাস্টার ডিগ্রির জন্য ১০ নম্বর। দরখাস্ত করবেন অনলাইনে, ১৭ এপ্রিলের মধ্যে। এই ওয়েবসাইটে : www.wbhealth.gov.in এজন্না বৈধ একটি ই-মেল আই.ডি. থাকতে হবে। প্রথমে ওপরের ওই ওয়েবসাইটে গিয়ে যাবতীয় তথ্য দিয়ে সাবমিট করলেই নাম রেজিস্ট্রেশন হয়ে যাবে। তখন সিস্টেম জেনারেটেড অ্যাক্সেসেশন ফর্ম প্রিন্ট করে নেবেন। এবার পরীক্ষা ফী বাবদ ১০০ (তপশিলী, ও.বি.সি., প্রতিবন্ধী হলে ৫০) টাকা অনলাইনে বা, অফলাইনে দিতে হবে। অনলাইনে টাকা জমা দিতে পারবেন ডেবিট কার্ড, ক্রেডিট কার্ড বা, নেট ব্যাঙ্কিংয়ের মাধ্যমে। অফলাইনে টাকা জমা দেবেন ইউনাইটেড ব্যাঙ্ক অফ ইন্ডিয়া কোম্পানি লিমিটেড ই-চালানে ১৯ এপ্রিলের মধ্যে। চূড়ান্তভাবে ফর্ম জমা দেওয়ার শেষ তারিখ ২১ এপ্রিল। আরো বিস্তারিত তথ্য পাবেন এই ওয়েবসাইটে।

১৩২ পাতার দাম ২৫ টাকা এপ্রিল সংখ্যা বেরোল	কর্মসংস্থান গোষ্ঠীর সাফল্য
রেলের গ্রুপ 'ডি' স্পেশাল ৭ সেট সন্তাব্য প্রশ্নোত্তর	
রেলের ড্রাইভার ও টেকনিশিয়ান পদের পরীক্ষার ১ সেট সন্তাব্য প্রশ্নোত্তর	
কেন্দ্রীয় ৫ পুলিশ সংস্থায় সাব-ইন্সপেক্টর পদের পরীক্ষার ১ সেট সন্তাব্য প্রশ্নোত্তর	
আবগারি দফতরে সাব-ইন্সপেক্টর পদের পরীক্ষার ১ সেট সন্তাব্য প্রশ্নোত্তর	
স্টেট ব্যাঙ্ক অফ ইন্ডিয়ান ক্লার্ক পরীক্ষার ১ সেট সন্তাব্য প্রশ্নোত্তর	
কী করে ইংরিজি বলা শিখবেন	
ভারতীয় সংবিধান ও ইংরিজি নিবন্ধ	
G.I ও অঙ্কের নিমেষে উত্তর করার কৌশল	

কর্মখালি
EARN MONEY
Contact architect builders promoters contractors to market Catex wall plaster mesh etc (m) 9153671797. amaxint1@gmail.com

কর্মখালি
Voda / JIO কাস্টমার কেয়ারে Job করুন। বেতন 9600/-, ৮ম-মাসিক। সল্টলেফ - 9804153204, সোনারপুর - 8478055312.

কর্মখালি
শুমা, হাবড়া প্রাইভেট সংস্থায় কাজের জন্য BSC (কেমিস্ট্রি) পাশ চাই। লোকাল অগ্রগণ্য Mob: 9474007995

কর্মখালি
হোটেল 8200-16700/- 3-5 স্টার হোটেল স্থায়ী পদে FREE থাকা-খাওয়া-সহ বিভিন্ন পদে প্রচুর কাজের সুযোগ। PRIDE, Kol. : 9831343039, বহরমপুর : 9748835074, বীরভূম : 9609908663.

কর্মখালি
অতি সম্ভর শূন্য পদে লোক নিয়োগ পশ্চিমবঙ্গ সরকার কর্তৃক নথিভুক্ত কোম্পানির জন্য অতি সম্ভর ৭৮ জন পুরুষ / মহিলা প্রয়োজন। বয়স : ১৮-৩০। পূর্ব অভিজ্ঞতার প্রয়োজন নেই। পদ - স্থায়ী Management, Official & Unofficial. যোগ্যতা : মাধ্যমিক থেকে স্নাতক। মাসিক আয় : ৫০০০, ৭০০০, ৩০০০০ অবধি। কোনো টাকা লাগে না। থাকা ফ্রী। যোগাযোগ : লেকটাউন : 8334850487, বেহালা : 8336889469, হাবড়া : 9333197089, কৃষ্ণনগর : 9609900400, রায়গঞ্জ : 9732035832, শিলিগুড়ি : 9002455329, কালিম্পাং : 9775957316

কর্মখালি
OFFICE JOB
www.gcajob.co.in বিনা ডোনেশনে নিজ জেলায় ATM, শপিং মল, Tower 4G ও MNC তে (৪র্থ-মাসিক) স্থায়ী M/F চাই। বেতন : (10200 - 32700). GCA - 7718452562.

কর্মখালি
Pvt. ব্যাঙ্কের অফিসিয়াল পদে প্রার্থী চাই (NC)। বারাসাত / বনগাঁ - 8017418654, মধ্যমগ্রাম / বসিরহাট - 8420888113, ব্যারাকপুর / সোদপুর - 7449702185, নৈহাটি / কল্যাণী - 9748494791, হাওড়া / হুগলী - 8697595917, শ্রীরামপুর / ব্যাংকল - 8583865904, গড়িয়া / সোনারপুর - 8697616060, বারুইপুর / শিয়ালদহ - 8697616100.

কর্মখালি
যে কোনো সংস্থার দরখাস্ত পাঠানোর আগে দরখাস্তটি জেরার করে এক কপি নিজের কাছে রাখবেন ও কোনো কিছু লেখা না থাকলে দরখাস্ত সব সময় সাধারণ ডাকে পাঠাবেন।

কর্মখালি
বিশেষ বিজ্ঞপ্তি
'কর্মসংস্থান' পত্রিকায় প্রকাশিত বিজ্ঞাপনের বিষয়বস্তু ও যথার্থতার যাবতীয় দায়িত্ব বিজ্ঞাপনদাতাদের। কোনো সংস্থার বিজ্ঞাপন, আইনী সমস্যা সৃষ্টি করলে বা, কারো আর্থিক ক্ষতির জন্য দায়ী হলে, তার যাবতীয় দায়-দায়িত্ব পুরোপুরি বিজ্ঞাপনদাতার সংস্থার ওপরই বর্তাবে। 'কর্মসংস্থান' পত্রিকা বা, 'সংস্থান প্রকাশন প্রাইভেট লিমিটেড' তার জন্য কোনোভাবেই দায়ী নয়।
— সম্পাদক, কর্মসংস্থান।

কর্মখালি
হোটেল স্থায়ী চাকরি
(কেন্দ্র ও রাজ্য সরকার অনুমোদিত ও ISO স্বীকৃত) আয় 6000/- থেকে শুরু + থাকা-খাওয়া ফ্রী। লিখিত গ্যারান্টি। গড়িয়া : 8981994477, শিলিগুড়ি : 9434495134, বারাসাত : 7044286532.

কর্মখালি
স্থায়ী কাজ
3 স্টার 5 স্টার হোটেল কাজের জন্য কর্মী চাই। (বেতন ১৪৫০০ - ২৫৫০০)। M : 8697456315

কর্মখালি
SBI/JIO/VODA কাস্টমার কেয়ারে বাংলাভাষী নিয়োগ
কল রিসিভ করার জন্য (১৮-৩৫), MP-Post Graduate ছেলেমেয়েদের স্পট জয়েনিং চলছে। বেতন-যোগ্যতানুসারে Inc+OT Bonus সহ 10,950 + অন্যান্য সুবিধা। দমদম (H.O.): 8420666060, বর্ধমান : 9830188881, দমদম (উঃ): 9903223211, শিলিগুড়ি - 9830771003

কর্মখালি
স্থায়ী চাকরি
জেলায় জেলায় ATM গার্ড, টাওয়ার Co., নারসিংহোম, প্রাইভেট Co., হোটেল, শোরুম কাজের জন্য কর্মী চাই। বেতন : ১২৫০০ - ১৮৫০০। R.J.S - (M) - 8436485750.

কর্মখালি
সরাসরি নিয়োগ
প্রতিটি জেলায় টাওয়ার Co., ব্রোড মার্কেট, ATM, বিভিন্ন অফিসে কাজের জন্য কর্মী চাই। বেতন - ১২৫০০ - ১৮৫০০। M : 8348727948.

কর্মখালি
যোগ্যতানুযায়ী কাজ
নিজ জেলায় প্রাইভেট হাসপাতাল, নারসিংহোম, BANK (DSA) ও টাওয়ার Co. তে বিভিন্ন পদে কাজের জন্য কর্মী চাই। বেতন (৯৫০০ - ২২৫০০)। M - 8371817593.

কর্মখালি
প্রতি শনিবারের কর্মসংস্থান
এখন প্রতি বৃহস্পতিবার বোরোয় বিজ্ঞাপন দিতে হবে ১ সপ্তাহ আগে শনিবারের মধ্যে বিজ্ঞাপন জমা না দিতে পারলে, ওই বিজ্ঞাপন বোরোনের নিশ্চয়তা বিষয়ে কর্তৃপক্ষ দায়ী থাকবে না। আগামী ১৪ এপ্রিল সংখ্যায় বিজ্ঞাপন বের করতে হলে, বিজ্ঞাপন জমা দিতে হবে ৭ এপ্রিল, বিকেল ৫টার মধ্যে। একমাত্র পত্রিকা দপ্তরে। প্রতি রবিবার অফিস বন্ধ।

কর্মখালি
বিশেষ বিজ্ঞপ্তি
'কর্মসংস্থান' পত্রিকায় প্রকাশিত বিজ্ঞাপনের বিষয়বস্তু ও যথার্থতার যাবতীয় দায়িত্ব বিজ্ঞাপনদাতাদের। কোনো সংস্থার বিজ্ঞাপন, আইনী সমস্যা সৃষ্টি করলে বা, কারো আর্থিক ক্ষতির জন্য দায়ী হলে, তার যাবতীয় দায়-দায়িত্ব পুরোপুরি বিজ্ঞাপনদাতার সংস্থার ওপরই বর্তাবে। 'কর্মসংস্থান' পত্রিকা বা, 'সংস্থান প্রকাশন প্রাইভেট লিমিটেড' তার জন্য কোনোভাবেই দায়ী নয়।
— সম্পাদক, কর্মসংস্থান।

কর্মখালি
নো ডোনেশন স্থায়ী কাজ
নিজ জেলায় প্রাইভেট হাসপাতাল, নারসিংহোম ও টাওয়ার সংস্থায় বিভিন্ন পদের জন্য প্রচুর কর্মী চাই। বেতন (১২৫০০ - ১৮৫০০)। ESI, PF, OT, বোনাস-সহ সমস্ত সুবিধা আছে। M - 9734700739.

কর্মখালি
সরাসরি ব্যাঙ্কের ভিতরে বসে বিভিন্ন পদে প্রচুর প্রার্থী চাই।
SCS-বারাসাত-8276801422, দমদম - 8335963681, নৈহাটি - 9073145817, বেলঘড়িয়া - 8013520781, হাওড়া - 9874757021, হুগলী - 8481032673, ব্যাংকল - 8334896736, সোনারপুর - 8621074312, রায়গঞ্জ - 7059879018, বেহালা - 8697046169, বর্ধমান - 8420471831.

কর্মখালি
৩০ বছর বয়স পর্যন্ত স্বাস্থ্যকর কর্মীদের জন্য কর্মী চাইছে - (1) Field Officer (2) Accounts Officer (3) Hardware Networking (4) Logistic Officer. Promotion, PF, Gratuity, Pension সমস্ত সুযোগ বিদ্যমান। যোগাযোগ : K.D.S., শান্তনুড়ী, অরবিন্দপল্লী, পো - বারাসাত, কলকাতা - ১২৪ ফোন - ৯২৩০৩২৭৪৫৫

কর্মখালি
এক জিনলায়
বীরভূম, মুর্শিদাবাদ, মালদা, পুরুলিয়া, বাঁকুড়ার জন্য **কর্মসংস্থান, খবর ও Appointment & Career News** এর বিজ্ঞাপন গ্রহণ করে

কর্মখালি
বীরভূম ও মুর্শিদাবাদ
UNIQUE MEDIA CHANNEL
"Uttaran", Vivekananda Pally, (Near Vivekananda High School), Bolpur-Santiniketan, Birbhum, PIN - 731204, W.B Mob: 9051120373 / 9531785874 * MANJURI' KALIBARI MORE (EAST SIDE), KANDI, MURSHIDABAD PIN - 742137 Mob : 9531785874 / 9051120373 Email : bkrishnapal@gmail.com

কর্মখালি
মুর্শিদাবাদ ও মালদা
Add Tech Solution
N23, K.N. Road, 3rd Floor, Block-A Church More, MMC, Berhampore, PIN - 742 101 Mob. : 8001277337 Email : addtechwb@gmail.com addtechmail@gmail.com

কর্মখালি
পুরুলিয়া ও বাঁকুড়া
Manorama Ad Agency
Manorama Collection, P.N.Ghosh Street, Punulia - 723 101 Mob. : 9434219781/9851559301 Email : manoramaadagency@gmail.com kunaldutta858@gmail.com

কর্মখালি
উত্তর কলকাতা
SUPRIYA PUBLICITY
100, Aurobindo Sarani, Room No. E-15 Hatibagan, Kolkata - 700 006 Mob. : 9830261403 Ph. : 033 2533 5320 Email : astimchowdhury12@gmail.com

কর্মখালি
সংবাদ প্রকাশনের বিজ্ঞাপন গ্রহণ করে খোঁসার জন্য জরুরি ভিত্তিতে এই ই-মেইল ঠিকানা appointmentnews@gmail.com অথবা 9874922004

জেলা স্বাস্থ্য কেন্দ্রে ৭ টেকনিশিয়ান

পশ্চিমবঙ্গ জেলা স্বাস্থ্য ও পরিবার কল্যাণ সমিতি 'ল্যাবরেটরি টেকনিশিয়ান' পদে ৭ জন লোক নিচ্ছে। যে কোনো শাখায় উচ্চমাধ্যমিক পাশের মেডিক্যাল ল্যাবরেটরি টেকনোলজির সার্টিফিকেট বা, ডিপ্লোমা কোর্স পাশ কিংবা ল্যাবরেটরি টেকনোলজির ডিপ্লোমা কোর্স পাশ হলে যোগ্য। আর এন.টি.সি.পি. বা, স্পুটাম বিষয়ে ১ বছরের অভিজ্ঞতা থাকলে অগ্রাধিকার পাবেন। বয়স হতে হবে ২২ থেকে ৬২ বছরের মধ্যে। পারিশ্রমিক মাসে ১৬,৮৬০ টাকা। শূন্যপদ : ৭টি (জেনাঃ ১, তঃজাঃ ২, তঃউঃজাঃ ১, ও.বি.সি.-এ ক্যাটেগরি ১, ও.বি.সি. - বি ক্যাটেগরি ১, প্রতিবন্ধী ১)। চাকরি হবে কলকাতা ও শিলিগুড়িতে।

শিক্ষাগত যোগ্যতা ও পেশাগত যোগ্যতার পাওয়া নম্বর দেখে মেধা তালিকা তৈরি হবে। এরপর হবে সার্টিফিকেট ভেরিফিকেশন। উচ্চমাধ্যমিকের জন্য ১০ নম্বর, ডি.এম.এল.টি. বা, ডি.এল.টি.র জন্য ১০ নম্বর, ডিগ্রি কোর্সের জন্য ১০ নম্বর, অভিজ্ঞতার জন্য ১০ নম্বর বরাদ্দ থাকবে।

দরখাস্ত করবেন অনলাইনে ১০ এপ্রিল থেকে ২১ এপ্রিল পর্যন্ত। এই ওয়েবসাইটে : www.wbhealth.gov.in এজন্না বৈধ একটি ই-মেল আই.ডি. থাকতে হবে। প্রথমে ওপরের ওই ওয়েবসাইটে গিয়ে যাবতীয় তথ্য দিয়ে সাবমিট করলেই নাম রেজিস্ট্রেশন হয়ে যাবে। তখন সিস্টেম জেনারেটেড অ্যাপ্লিকেশন ফর্ম প্রিন্ট করে নেবেন। এবার পরীক্ষা ফী বাবদ ১০০ (ত পশিলী, ও.বি.সি., প্রতিবন্ধী হলে ৫০) টাকা অনলাইনে বা, অফলাইনে দিতে হবে। অনলাইনে টাকা জমা দিতে পারবেন ডেবিট কার্ড, ক্রেডিট কার্ড বা, নেট ব্যাঙ্কিংয়ের মাধ্যমে। অফলাইনে টাকা জমা দেবেন ইউনাইটেড ব্যাঙ্ক অফ ইন্ডিয়ায় যে কোনো শাখায় ই-চালানে ১৯ এপ্রিলের মধ্যে। চূড়ান্তভাবে ফর্ম জমা দেওয়ার শেষ তারিখ ২১ এপ্রিল। আরো বিস্তারিত তথ্য পাবেন এই ওয়েবসাইটে।

পাঠকের কথা

করিমপুর আছে সেই করিমপুরেই

নদিয়া জেলার একেবারে সীমান্তে ৭৭ নম্বর করিমপুর বিধানসভা কেন্দ্র। আর এই ৭৭ নম্বর বিধানসভা কেন্দ্রের এখনকার বিধায়ক মাননীয়া মহুয়া মৈত্র মহাশয়া। করিমপুর আছে সেই করিমপুরেই। করিমপুর হাসপাতাল অপরিষ্কার, হাসপাতাল চম্বর নোংরা

আবজ্ঞনায় পরিপূর্ণ। করিমপুর দাঁড়ের মাঠ রুটের বাস পরিষেবা বন্ধ হয়েছে টোটে আর অটোর নিষ্ঠুর দস্ত বিকৃতিতে। নাটনা মোড় থেকে করিমপুর বাদস্ত্যান্ড হয়ে নাতিডাঙ্গা মোড় পর্যন্ত অটো আর টোটোর চলাচলের ফলে সবসময় ভিড় লেগেই থাকছে মেন রোডে। ৯ ফুট থেকে ১০ ফুট চওড়া রাস্তা পার হতেই হিমশিমখেতে হয় করিমপুর ও পার্শ্ববর্তী মুর্শিদাবাদ ও তেহট বিধানসভা কেন্দ্রের জনগণকে। এত যানজটের করিমপুর রাস্তাস্ত্যান্ডে কোনো সিভিক থাকেননা কেন? আর থাকলেও তাঁরা চায়ের সোকান বা, অন্যান্য দোকানে চুপ করে বসে থেকে কেন সময় কাটান জানিনা? সড়ো নামলেই অটো বা, টোটো চালকরা একটু দূরে ১০-১২ কিলোমিটার গেলেই ২০০-৩০০ বা, ৫০০-১,০০০ টাকা চেয়ে বসেন। করিমপুরের শিকারপুর এলাকার শিকারপুর পোস্ট অফিসের বেহাল দশা। দিনের পর দিন লিঙ্ক থাকেনা, ক্যাশ থাকেনা। বহু দরকারে টাকা তুলতে গিয়ে বৃদ্ধ মানুষরা এই গরমে শূন্য হাতেই ফিরে আসেন। এখানকার কর্মীরাও সঠিক সময়ে অফিসে আসেন না। তাঁদের কোনো কাজ না থাকলেও কাস্টমারদের অথবা দাঁড় করিয়ে রাখেন। এঁরা খুচরো পয়সা নিতে চাননা আর ১০০ বা, ৫০ টাকার নোট দিলেও তা খুচরো করে দিতে চাননা। তাহলে জনগণ কী করবে? এখানে নিয়মিত ক্যাশ ও লিঙ্ক থাকুক। বৃদ্ধ মানুষগুলোর দরকার মিটুক ও কর্মীরা সঠিক সময়ে এখানে আসুক ও কাস্টমারদের সঙ্গে সঠিক ব্যবহার করুক। এখানকার বিধায়ক মাননীয়া মহুয়া মৈত্র মহাশয়ার কাছে করিমপুরবাসীর পক্ষ থেকে অনুরোধ যে, আপনি এইসব সমস্যার দিকে দৃষ্টি দিন। — মুজিবর রহমান মোল্লা, নদিয়া।

'যুবশ্রী' প্রকল্পের টাকা পাচ্ছি না

বাবার সাহচর্য থেকে বঞ্চিত হয়ে ছোটবেলা থেকে খুব কষ্টের মধ্যে জীবন কাটিয়েছি। পড়াশোনায় খারাপ নই। ছোটবেলা থেকে নিজের চেষ্টায় পড়াশোনা করেছি। স্বপ্ন ছিল সরকারি চাকরি করব। সেই চেষ্টায় বেশ কয়েকবার কয়েকটি পরীক্ষায় উত্তীর্ণ হয়েছি। কিন্তু শেষপর্যন্ত নিজের জায়গা করে নিতে পারিনি। মাননীয়া মুখ্যমন্ত্রী মমতা বন্দ্যোপাধ্যায়ের কাছে আমার একটি সমস্যার

কথা তুলে ধরতে চাই, যা অনেকেরই একটি সমস্যা। মাননীয়া মুখ্যমন্ত্রী যখন ২০১২ সালে এমপ্লয়মেন্ট ব্যাঙ্ক তৈরি করলেন, তখন তাতে নাম নথিভুক্ত করেছিলাম। তারপর 'যুবশ্রী' প্রকল্পের প্রথম ধাপেই আমি ২০১৩ সালের অক্টোবর থেকেই ভাতা পেতে শুরু করি। ২০১৪ সালের মার্চ পর্যন্ত ভাতা পেয়েছি। এরপর আর কোনো টাকা পাইনি। এর কিছু মাস পর আমি ঝাড়গ্রাম সাব ডিভিশনাল অফিসের যুবশ্রী সেল ও এমপ্লয়মেন্ট এজেন্টে ঝাড়গ্রাম অফিসে যোগাযোগ করি। ওনার Annexature III জমা দেওয়ার messege পেয়েছি কিনা জিজ্ঞাসা করেন। কিন্তু আমি তখন ওই messege পাইনি। কারণ ওইসময় আমার মোবাইলটি সিমকার্ড-সহ হারিয়ে গিয়েছিল। এরপর যুবশ্রী Helpline এ ফোন করে জানতে পারি, Annexature III জমা না দেওয়ার টাকা আসা বন্ধ হয়ে গেছে। আমি অত্যন্ত নিরুপায় হয়ে আমার এই সমস্যাটি মাননীয়া মুখ্যমন্ত্রীর দৃষ্টিগোচর করছি, তিনি আমার এই অবস্থার কথা বুঝবেন ও যথাযথ ব্যবস্থা নেন, যাতে আমি আবার এই প্রকল্পের সুবিধা পেতে পারি। — পুলক দাস, ঝাড়গ্রাম, পশ্চিম মেদিনীপুর।

নিয়মিত সাম্মানিকি পাওয়ার ব্যবস্থা করা হোক

আমি হরিজন সম্প্রদায়ের (শূদ্র) একজন দুঃস্থ মহিলা। আমি বীরভূম জেলার নলহাটি ১ নম্বর ব্লকের অন্তর্গত বরলা পঞ্চায়েতের স্থায়ী বাসিন্দা। ২০০৮ সালের ১৬ নভেম্বর বারমারই ডোমপাড়া শিশু শিক্ষাকেন্দ্রে শিক্ষা সহায়িকা পদে প্রার্থী নেওয়ার বিজ্ঞপ্তি দেওয়া হয়। আমি প্রার্থী হিসাবে দরখাস্ত করি ও সরকারি সবরকম শর্ত মেনে এই কেন্দ্রে ৩ নম্বর শিক্ষা সহায়িকা পদে নিয়োগ হই। নিয়োগ করেন সরকার স্বীকৃত পরিচালন কমিটি। আমার নিয়োগের তারিখ ২০০৯ সালের ৩ জানুয়ারি। আমাকে মাত্র ৭২,৩০৬ টাকা সাম্মানিকি দেওয়া হয়। ও আমাকে বিনা নোটিশে আমার পদে একজন উচ্চবর্ণের মহিলাকে নিয়োগ করা হয়। সেই মহিলা পুরসভার বাসিন্দা। বিজ্ঞপ্তির শর্ত ছিল, প্রার্থীকে গ্রাম পঞ্চায়েতের বাসিন্দা হতে হবে। ওই মহিলা মাধ্যমিক পাশ ও আমি উচ্চ মাধ্যমিক পাশ। এই মহিলা নিয়মিত সাম্মানিকি পাচ্ছেন। কিন্তু আমাকে দেওয়া হচ্ছে না। আমার সব পেপারস নলহাটি ১ নম্বর ব্লকের সমষ্টি উন্নয়ন আধিকারিক ও পঞ্চায়েত সমিতি দেখেন ও রেজুলেশন পাস করান। তাতে উল্লেখ আছে, আমিই ৩ নম্বর বৈধ সহায়িকা। এই কেন্দ্রে ১৩৩ জন ছাত্রছাত্রী। এই রেজুলেশন কপির জেরস্ব, নলহাটি ১ নম্বর পঞ্চায়েত সমিতি রামপুরহাট মহকুমার এস.ডি.ও অফিসে পাঠান। আমি যখন নিয়োগ হই, তখন সাম্মানিকি ছিল ২,০০০ টাকা। এখন হয়েছে ৫,৯৫৪ টাকা। আমাকে যেন যোগ্য বৈধতা ও সাম্মানিকি দেওয়া হয়। — সুলেখা দাস মহাস্ব, নলহাটি, বীরভূম।

পাঠক-পাঠিকাদের নিজেদের অভাব-অভিযোগ প্রকাশনের কানে পৌঁছে দেওয়ার জন্য এই বিভাগ। পাঠক-পাঠিকারা যে যা জানাবেন, তা না ছেঁটে সরাসরি ছাপানো হবে। তবে নাম-ঠিকানা গোপন রেখে কেউ চিঠি পাঠাবেন না। চিঠি পাঠাবেন এই ঠিকানায় : কর্মসংস্থান, ১২/৩/৪ জামির লেন, কলকাতা - ৭০০০১৯। চিঠিভরা বামের ওপর বড় হরফে লিখে দেবেন: 'আমাদের কথা'।

ডব্লু.বি.সি.এস গ্রুপ 'সি'তে কীভাবে সফল হয়ে রেভিনিউ অফিসার পদে চাকরি পেলাম



মহম্মদ হাসানুল ইসলাম কলেজ পড়তে-পড়তে ঠিক করেছিলাম সরকারি চাকরি হবে জীবনের লক্ষ্য। আর সরকারি চাকরির ক্ষেত্রে আমার প্রথম পছন্দ ছিল ডব্লু.বি.সি.এস আধিকারিক হওয়ার। কারণ একমাত্র এই চাকরির মাধ্যমেই সরাসরি মানুষের জন্য কাজ করা যায় ও সেইসঙ্গে রয়েছে আকর্ষণীয় মাইনে আর সামাজিক পদমর্যাদা। প্রথম থেকেই আমি মানুষের জন্য কাজ করতে ভালোবাসি। বারাসাত গভর্নমেন্ট কলেজ থেকে ২০১৪ সালে ইংরিজি বিষয়ে অনার্স নিয়ে ডিগ্রি কোর্স পাশ করার পরই ২০১৫ সালে প্রথম ডব্লু.বি.সি.এস পরীক্ষায় বসেছিলাম। প্রিলি.তে সফল হয়েছিলাম কিন্তু 'মেইন'এ সফল হতে পারিনি। এরপরে ২০১৬ সালের পরীক্ষার জন্য শুরু থেকেই পরিকল্পনামাফিক প্রস্তুতি নিয়ে এগিয়েছিলাম। এক্ষেত্রে আমার মেন্টর ছিল আমার কাকা মোদাসসের মোল্লা। তিনি প্রতি মুহূর্তে আমাকে অনুপ্রাণিত করেছে। প্রস্তুতির প্রথম পর্বে ঠিক করেছিলাম কোন কোন বিষয় পড়ব আর কোন কোন বিষয় পড়ব না। প্রিলিমিনারি ও মেইন পরীক্ষার মধ্যে সময়ের ব্যবধান খুব কম থাকে বলে দুটি ক্ষেত্রেই কমন সব বিষয়ের জন্য একযোগে পড়াশুনা করেছিলাম। প্রথমেই মাধ্যমিক স্তরে ভূগোল, বিজ্ঞান, ইতিহাস ইত্যাদি সব বিষয় পড়ে একটা প্রাথমিক ধারণা তৈরি করে নিয়েছিলাম। এরপর বিভিন্ন বিষয়ের জন্য একাধিক লেখকের বই পড়েছিলাম। যেমন ইতিহাসের জন্য পড়তাম পি.মাইতি, রাজীব আহির ও স্পেন্ড্রাম পাব্লিকেশনের বই। ভূগোলের জন্য পড়তাম নাজিদ হোসেনের বই। এছাড়াও নিয়মিত সমগ্র সংক্রান্ত পত্র-পত্রিকা পড়তাম। এইসব পত্রিকা পড়ে পশ্চিমবঙ্গের ভূগোল সম্পর্কে সচেতন হয়েছিলাম। জেনারেল সায়েন্সের জন্য মাধ্যমিক ও উচ্চমাধ্যমিকের ফিজিক্স, কেমিস্ট্রি ও বায়োলজির বই পড়েছিলাম। এছাড়াও দেখেছিলাম আরিহস্ত পাব্লিকেশনের বই। ভারতীয় সংবিধানের জন্য পড়েছিলাম লক্ষ্মীকান্তের বই। পাশাপাশি

সিভিল সার্ভিস ট্রেনিংকাল পড়েছিলাম। অর্থনীতির জন্য পড়েছিলাম তুজাম্মেল হোসেনের বই। পাশাপাশি রেফারেন্স হিসাবে দেখেছিলাম 'প্রতিযোগিতা দর্পন', রমেশ সিংয়ের বই। অঙ্কের জন্য আর.এস. আগরওয়ালের বই দেখে চর্চা করেছিলাম। এছাড়াও জেনারেল স্টাডিজ ও সাম্প্রতিক ঘটনাবলীর জন্য নিয়মিত পড়তাম 'কর্মসংস্থান' ও 'Appointment & Career News'। ধারাবাহিকভাবে প্রস্তুতির মধ্যে থাকার জন্য কলেজ স্ট্রিটের এক নামী প্রতিষ্ঠানে ভরতি হয়েছিলাম। প্রিলিমিনারি পরীক্ষার প্রস্তুতির জন্য এইসব পদ্ধতি বিশেষভাবে অনুসরণ করেছিলাম: (১) প্রশ্নপত্রে সেট ধরে নিয়মিত অনুশীলন করতাম। (২) মহড়া পরীক্ষার মাধ্যমে নিজের ভুল ত্রুটিগুলি সংশোধন করতাম। (৩) উত্তর লেখার ক্ষেত্রে শটকাট পথ অবলম্বন করতাম। প্রিলিমিনারির ২০০ নম্বরের মধ্যে ১১০ নম্বরের উত্তর লিখেছিলাম। নেগেটিভ নম্বর এড়ানোর জন্য শুধুমাত্র জানা প্রশ্নের উত্তর লিখেছিলাম। অনুমানভিত্তিক কোনো প্রশ্নের উত্তর লিখিনি। মেইন পরীক্ষার জন্য ওপরের কমন সব বিষয়ের ক্ষেত্রে আরো গভীরভাবে পড়েছিলাম। এইসব বিষয়েরও প্রশ্ন হয় মাস্কিপল চেয়েজ টাইপের। বাংলা ও ইংরিজির জন্য নিয়মিত বাংলা ও ইংরিজি দৈনিক সংবাদপত্র বিশেষ করে সম্পাদকীয় বিষয়গুলি খুব মন দিয়ে পড়তাম। ইংরিজি সাহিত্যের ছাত্র হওয়ায় ইংরিজি ও বাংলা দুটি বিষয়েই আমার লেখার স্বাভাবিক ক্ষমতা ছিল। এক্ষেত্রে অন্য ছাত্রছাত্রীদের উচিত নিয়মিত লেখার অভ্যাস তৈরি করা ও লেখার ক্ষেত্রে যেন মৌলিকতা থাকে। এনভায়রনমেন্ট স্টাডিজ আমার খুব প্রিয় বিষয় হওয়ায় এক্ষেত্রে একাধিক লেখকের বই পড়েছিলাম। উচ্চমাধ্যমিকের বায়োসায়েন্সের পাঠ্যবইটি মূল বই হিসাবে পড়ি ও পাশাপাশি রেফারেন্স হিসাবে লুসেন্ট, আরিহস্ত পাব্লিকেশনের বই পড়েছিলাম। ঐচ্ছিক বিষয় হিসাবে নিয়েছিলাম ইতিহাস। ঐচ্ছিক বিষয়ের জন্য পুরনো প্রশ্নপত্র দেখেছিলাম। এই বিষয়ের জন্য ডিগ্রি কোর্সের অনার্সের বই পড়েছিলাম। তাছাড়া প্রিলিমিনারি ও মেইন পরীক্ষায় ইতিহাসের অংশ থাকায় খুব বেশি চাপ নিতে হয়নি। ঐচ্ছিক বিষয়টি সাবজেক্টিভ ছিল বলে নিজের মতো নোটস তৈরি করে এগিয়েছিলাম। ইন্টারভিউয়ের জন্য ডিগ্রি কোর্সের বিষয় ও ঐচ্ছিক বিষয় আবার খুঁটিয়ে পড়েছিলাম। পাশাপাশি কোচিংয়ের মহড়া ইন্টারভিউয়ে অংশ নিয়েছিলাম। এক্ষেত্রে বিশেষভাবে পরামর্শ পেয়েছিলাম ডব্লু.বি.সি.এস আধিকারিক শামিম সরকারের কাছ থেকে। চাকরির ক্ষেত্রে আমার প্রথম পছন্দ ছিল জয়েন্ট বি.ডি.ও আর দ্বিতীয় পছন্দ ছিল রেভিনিউ

অফিসার। ইন্টারভিউ নেওয়া হয় পাব্লিক সার্ভিস কমিশনের সদর কার্যালয়ে। শুরুতে নথিপত্র যাচাই করা হয়। এরপর কিছুটা দুশ্চিন্তায় ছিলাম। তখন মনে মনে নিজেকে পরীক্ষক সাজিয়ে নিজের পরীক্ষা নিই। এই পদ্ধতি অবলম্বন করে আত্মবিশ্বাস তৈরি করেছিলাম। লোর্ডে ছিলেন মোট ৩ জন সদস্য। এর মধ্যে ছিলেন পি.এস.সি'র চেয়ারম্যান প্রদীপ ব্যাস। এই আই.এ.এস অফিসারের সামনে পরীক্ষা দেওয়ার সুযোগ পেয়ে খুব খুশি হয়েছিলাম। শুরুতে জানতে চাওয়া হয় নাম, কোথা থেকে আসছি, বাড়িতে কে কে আছে, বাবা কী করেন ইত্যাদি। বাবা লোকানদার শুনে জানতে চাওয়া হয় জি.এস.টি কী? এই বিষয়ে কী জানি? ছোট ছোট লোকানদাররা কীভাবে জি.এস.টি'র হিসাব করেন? এরপর অন্য সদস্যরা একে একে প্রশ্ন করা শুরু করেন। আমার ডিগ্রি কোর্সে ইংরিজি বিষয়ে অনার্স ছিল শুনে দ্বিতীয় সদস্য এই বিষয়ে খুঁটিনাটি প্রশ্ন করেন। জ্যামাটিক যুগের দু'জন কবির নাম, গ্যার্ডসওয়ার্থ ও কীটসের কবিতার মূল বিশেষ্য কী? কীটস কেন জনপ্রিয়? দু'জন

সাক্ষরতার প্রস্তুতি

আধুনিক লেখকের নাম করণ খাঁরা ইংরিজি বিষয় নিয়ে লেখেন? লেখক ছাড়া অরক্ষণীয় রায়ের অন্য পরিচয় কী? এরপর তৃতীয় সদস্য আমাকে সমসাময়িক বিষয় নিয়ে প্রশ্ন করেন। এরপর তৃতীয় সদস্য আমাকে সমসাময়িক বিষয় নিয়ে প্রশ্ন করেন। দক্ষিণ ভারতে নন্দা বাঁধ আন্দোলন নিয়ে খুঁটিনাটি বিষয়ে জানতে চাওয়া হয়। চেমাইয়ের বন্যা রোধ কীভাবে করা যায়? কোন নদীকে

চিনের দুগ্ধ বলা হয়? কোন নদীকে বাংলার দুগ্ধ বলা হয় ও কেন? এরপর জানতে চাওয়া হয় এ রাজ্যে যদি দক্ষিণ ভারতের মতো বাঁধ নিয়ে আন্দোলন করা হয় আর সেখানে আমাকে সরকারি প্রতিনিধি হিসাবে পাঠানো হয় সেক্ষেত্রে কীভাবে সমস্যার মোকাবিলা করবেন? শেষে আমার হবি বিষয়ে জানতে চাওয়া হয়। চূড়ান্ত পরীক্ষার ফল বেরিয়েছে গত মাসের ২৪ তারিখে। 'সি' গ্রুপে সফল হয়ে রেভিনিউ অফিসার পদে চাকরি পেয়েছি। আমার মতে, ডব্লু.বি.সি.এস পরীক্ষায়

সাক্ষরতার জন্য সরকার কর্তিন অধ্যবসায়, 'সার্ট' প্রকল্পিক ও সঠিক গাইডেন্স।

B.Ed. D.El.Ed
Admission 2018-20
● NCTE ও WBUTTEPA / WBBPE অনুমোদিত কলেজ
● কর্মরত ছাত্র-ছাত্রীদের জন্য বিশেষ ব্যবস্থা
Mob : 8585005109

ভর্তির বিজ্ঞপ্তি
CHINSURAH PVT. ITI
NCVT, Govt. of India স্বীকৃত
(FITTER, ELECTRICIAN)
9432067572, (033) 2686-0071,
9732552726, 9433535299
NCTE স্বীকৃত
WBBPE ও বর্ধমান বিশ্ববিদ্যালয় অনুমোদিত
D.El.Ed এবং B.Ed
Chinsurah College of Education
জগন্নাথবাটী, চুঁচুড়া স্টেশন রোড, হুগলী
(PHE জলের ট্যাঙ্কের কাছে)
7550880866, (033) 2686-0001
9732552726, 9433535299

Railway Group-D & Locopilot
পরীক্ষায় **TIIME Group** এর দৈর্ঘনীয় সাক্ষরতার কারণ -
কারিগরি ও প্রফেশনাল শিক্ষার ক্ষেত্রে দীর্ঘদিনের অভিজ্ঞতা।
অত্যাধুনিক কম্পিউটার ল্যাব-এ অনলাইন মক টেস্ট এর সুবিধা।
অভিজ্ঞ প্রফেসরদের দ্বারা তৈরী Study Material & Class এর ব্যবস্থা।
সীমিত আসনে আগে আসার ভিত্তিতে নতুন ব্যাচে ভর্তি চলছে।
TIIME College of Competitive Exam.
139 Feeder Road, Belgharia, Kol-56.
PH-03325444644, 9163850359.
9143611891, 8697263515.

SOUTH CALCUTTA POLYTECHNIC
Approved by AICTE (Govt. of India) & Affiliated to WBCTE (Govt. of W.B.)
Campus : Atghara, Baruipur, Kol - 144
Courses : 1st Shift : 1) Civil Eng. 2) Mech. Eng. 3) Elec. Eng.
2nd Shift : 1) Civil Eng. 2) Mechanical Engineering
MEGA CAMPUS RECRUITMENT DRIVE
WILL BE HELD ON 07.04.2018
COMPANY NAME : (1) JAYASHREE POLYMERS PVT. LTD. DEPT. MECHANICAL
Helpline
(033) 2423 3031, 8116707612, 7044444427, 8981490232
www.southcalcuttapolytechnic.com

Admission in B.Ed 2018
JIS University Campus, Kolkata, 81, Nilgunj Road, Agarpara
Kolkata - 700109 | Ph: 8697743361/ 8697743362
National Council of Teacher Education (NCTE) দ্বারা স্বীকৃত JIS বিশ্ববিদ্যালয় ২০১৮-১৯ শিক্ষাবর্ষে ভর্তির জন্য বিজ্ঞপ্তি। সীমিত আসন সংখ্যা। BA/B.Sc অথবা MA/M.Sc অথবা B.Com/M.Com তে মূলতঃ ৫০ শতাংশ নম্বর আবশ্যিক। ইচ্ছুক প্রার্থীরা ভর্তির জন্য JIS বিশ্ববিদ্যালয়ে সরাসরি অথবা যেকোন যোগাযোগ কর্তৃক পরবেন। বিজ্ঞপ্তি জানার জন্য www.jisuniversity.ac.in দেখুন। *কোর্সে স্থিতির উপরে মেয়াদ ভিত্তিতে জলরাশিদের ব্যবস্থা। শিক্ষার্থে Placement Assistance দেয়া হয়।

কর্মসংস্থান পত্রিকার পাঠক-পাঠিকার অনুরোধ-আকারে এখন বিনা খরচায় প্রতিদিন আপনার ঘরে
সুখবর
দৈনিক সংবাদপত্র
কম্পিউটারে গুগল সার্চ'এ গিয়ে একবার ক্লিক করুন www.sukhabar.in পেয়ে যাবেন এই online সংস্করণ। পাবেন চাকরির পরীক্ষার উপযোগী প্রতিদিনের এ রাজ্য, অন্যান্য রাজ্য, বিদেশ, অর্থনৈতিক ও খেলার খবর।

শিলাদিত্য এপ্রিল ২০১৮
সম্প্রতি বাংলা সাহিত্য হারাল তার অন্যতম অলংকার সাহিত্যিক মণীন্দ্র গুপ্তকে। তাঁকে নিয়ে শিলাদিত্যের বিশেষ সংখ্যা।
বাক্যগত জীবনের উর্ধ্ব সাহিত্যদৃষ্টিতে লেখকের প্রতিভার মূল্যায়নে দেবারতি মিত্র।
লেখক যখন ধরের মানুষ, আপনজনের কথায় দেবার্তনা সরকার।
মণীন্দ্র গুপ্ত রচিত অবিস্মরণীয় চারটি উপন্যাস। পাতা ওলটালেন বাণী বসু।
দীর্ঘ বন্ধু ও এক বছরের শ্রেষ্ঠ কবিতা সম্পাদনার দিনগুলি নিয়ে রঞ্জিত সিংহ।
মণীন্দ্র গুপ্তের অন্দর ও অন্তরমহলের ছবিতে অনুজপ্রতিম সাহিত্যবন্ধু অরুণি বসু।
রং কীকর রামকিঙ্কর। কেবল সুসাহিত্য নয়, শিল্পইতিহাসে এই বই উজ্জ্বল সম্পদ।
বিলম্বণে সুশোভন অধিকারী।
বাংলা সাহিত্যে এক অনন্য স্মৃতিকথা 'অক্ষয় মালবেরি'। ফিরে পড়লেন রুশতী সেন।
বাংলা কবিতায় নতুন চিন্তার উদ্গাতা তিনি।
তার কবিতাভূমি পর্য্যালোচনায় সংযম পাল।
'পরমা' সাহিত্যপত্র বাংলার পত্রিকা সাহিত্যে এক দৃষ্টান্ত। লিখেছেন শ্রীকুমার চট্টোপাধ্যায়।
কবি দম্পতির সামান্য যাপন। অসামান্য চিন্তা। লিখেছেন দেবজ্যোতি মুখোপাধ্যায়।



চাকরির পরীক্ষার গাইড

1. The radius of base and slant height of a cone are in the ratio 3 : 7. If its curved surface area is 1,056 cm², then the radius (in cm) of its base is

$$\left(\pi = \frac{22}{7}\right) =$$

- (A) 16 (B) 12 (C) 18 (D) 24

2. The area of an equilateral triangle, inscribed in a circle is 16√3 cm². The area of the circle in terms of π will be-

- (A) 3 $\frac{1}{21}$ π² cm (B) 3π² cm

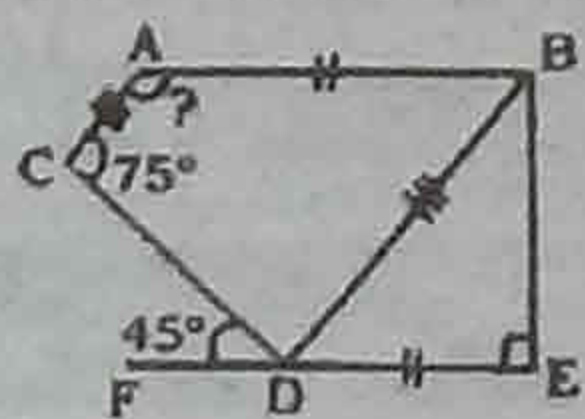
- (C) 18 $\frac{1}{3}$ π² cm (D) 21 $\frac{1}{21}$ π² cm

3. The distance of the point (12, -9) from the origin is -

- (A) 13 units (B) 15 units
(C) 12 units (D) 17 units

4. In the given figure AB || DE, AC ||

BD, DE ⊥ BE, ∠FDC = 45° and ∠C = 75°.



What is the measure of ∠A?

- (A) 120° (B) 150° (C) 45° (D) 135°

5. ABCD is a rhombus whose three vertices A, D and C lie on a circle while the 4th vertex B lies on its centre. If the area of rhombus is 8√3 cm². Find the radius of the circle.

- (A) 6 cm (B) 8 cm (C) 2 cm (D) 4 cm

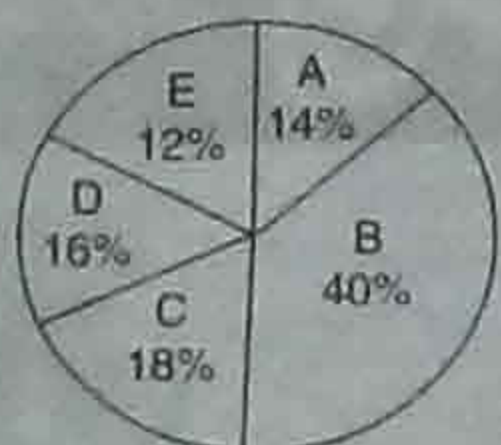
6. The value of sin² 15° + sin² 30° + sin² 45° + sin² 60° + sin² 75° + sin² 90° is -

- (A) $\frac{3}{2}$ (B) $\frac{5}{2}$ (C) $\frac{7}{2}$ (D) $\frac{9}{2}$

7. From a cliff 120 m above the shore of a sea, the angle of depression of a ship is 60°. Find the distance from the ship to a point on the shore directly below the observer.

- (A) 40√2 m (B) 40√3 m (C) 33√3 m (D) 50√3 m

Direction (8 - 12): Read the following pie-diagram carefully and answer the questions based on it-



Total number of employees = 12,400

- A : 1st level employee
B : 2nd level employee
C : 3rd level employee
D : Executive level employee
E : New employee

8. What is the difference between the number of second level and 3rd level employees?

- (A) 2,700 (B) 2,822 (C) 2,728 (D) 2,278

9. What is the difference between the number of first level employee and new employees?

- (A) 244 (B) 246 (C) 248 (D) 256

10. If the organisation appoints another 1,600 second level employees, what would be the approximate percentage of first level employees?

- (A) 12.4% (B) 13.4% (C) 14.4% (D) 11.4%

11. What is the ratio of new employee and third level employee?

- (A) 3 : 2 (B) 2 : 3 (C) 1 : 3 (D) 2 : 1

12. What percent is number of 2nd level employee more than the number of executive level employee?

- (A) 200% (B) 50% (C) 150% (D) 100%

13. If a single discount is equivalent to three successive discount of 30%, 60% and 70%, then the single discount

is -

- (A) 88.20% (B) 74% (C) 91.60% (D) 78%

14. The boys and girls in a college are in the ratio of 3 : 2. If 80% of the boys and 75% of the girls are adults. Then, what is the percentage of the students who are not adult?

- (A) 22% (B) 22.5% (C) 23% (D) 23.5%

15. The batting average of a cricket player for 30 innings is 40 runs. His highest score exceeds his lowest score by 100 runs. If these two innings are not included, the average of the remaining 28 innings is 38 runs. The lowest score of the players is -

- (A) 12 (B) 15 (C) 18 (D) 20

16. The ratio of ages of A, B and C is 5 : 8 : 9. If the sum of the ages of A and C is 56 years. Then, the age of B is -

- (A) 21 yrs (B) 32 yrs (C) 12 yrs (D) 23 yrs

17. If 2x = 3y = 4z, find x : y : z.

- (A) 4 : 3 : 2 (B) 2 : 3 : 4
(C) 3 : 4 : 6 (D) 6 : 4 : 3

18. If $\frac{4p}{p^2 - 4p + 4} = \frac{1}{4}$. Then the value

$$\text{of } p^2 + \frac{16}{p^2}$$

- (A) 390 (B) 392 (C) 396 (D) 398

19. If $\frac{a}{b} = \frac{4}{7}$ and $\frac{c}{b} = \frac{3}{7}$ then the value

$$\text{of } \frac{3a + 2c}{3a - 2c}$$

- (A) 0 (B) 1 (C) 3 (D) 2

20. A man purchases two T.V. Sets for Rs. 47,908. By selling one T.V. at profit of 17% and the other at a loss of 11%, he neither gains nor loses in the whole transaction. The cost price of each T.V. (in Rs.) is

(A) Rs. 18,821 and Rs. 29,187 (B) Rs. 18,821 and Rs. 29,087 (C) Rs. 18,021 and Rs. 29,887 (D) Rs. 34,000 and Rs. 13,908

21. By selling an article for Rs.96, a shopkeeper bears a loss of 12%. If shopkeeper sells that article for Rs. 132, then the profit percent is

- (A) 21% (B) 13% (C) 19% (D) 16%

22. Pipe A can fill a tank in 3 hours but there is a leakage also, due to which it takes 3.5 hours for the tank to be filled. How much time will the leakage take in emptying the full tank?

- (A) 21 hrs (B) 20 hrs
(C) 18 hrs (D) 10.5 hrs

23. A sum of money becomes 3 times in 5 years at simple interest. In how many years will the same sum become 6 time at the same rate of simple interest?

- (A) 10 yrs (B) 12 yrs
(C) 12.5 yrs (D) 10.5 yrs

24. A man buys 200 oranges for Rs. 1,000. How many oranges for Rs. 100 can he sell so that his profit percentage is 25%?

- (A) 10 (B) 14 (C) 16 (D) 20

25. If 90 men can do a certain job in 16 days, working 12 hours/day, then the part of that work which can be completed by 70 men in 24 days working 8hrs/ day.

- (A) $\frac{1}{3}$ (B) $\frac{2}{3}$ (C) $\frac{7}{9}$ (D) $\frac{5}{8}$

আরিথমেটিক

সেকেন্ডে উত্তরের কৌশল


1(B). বক্র তলের ক্ষেত্রফল πrl = 1,056

$$\pi \times 3r \times l = 1,056$$

$$x^2 = \frac{1056 \times 7}{22 \times 21} = 16 \Rightarrow x = 4.$$

$$\text{ব্যাসার্ধ} = 4 \times 3 = 12.$$

2(D). $\frac{\sqrt{3}}{4} a^2 = 16\sqrt{3} = P$



$$\text{উচ্চতা} = \frac{\sqrt{3}}{2} \times 3$$

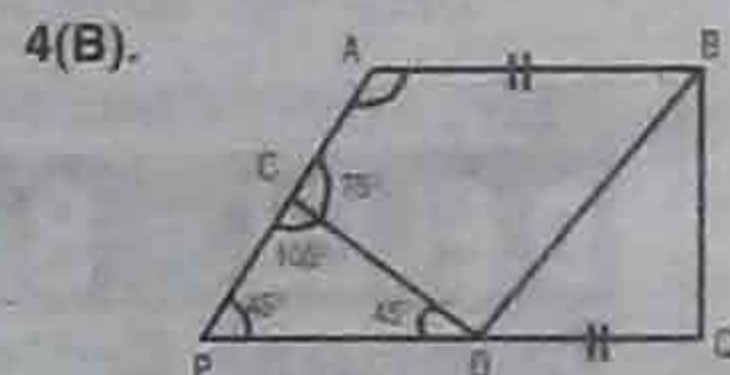
$$= \frac{\sqrt{3}}{2} \times 8 = 4\sqrt{3}$$

$$\text{ভূমির ব্যাসার্ধ} = 4\sqrt{3} \times \frac{2}{3} = \frac{2}{\sqrt{3}}$$

$$\text{ক্ষেত্রফল} = \frac{C^4}{Q} \text{ N বর্গ সেন্টিমিটার} =$$

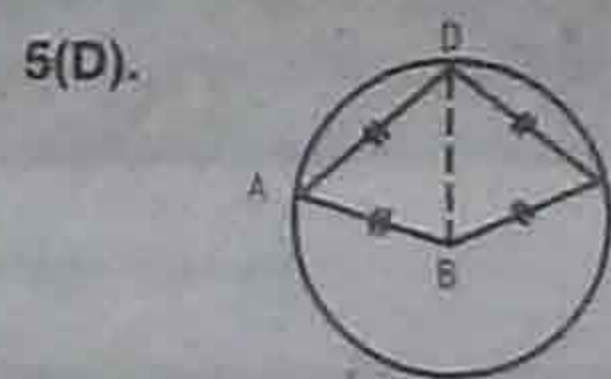
$$121 \frac{1}{3} \text{ বর্গ সেন্টিমিটার।}$$

3(B). $\sqrt{12^2 + 7^2} = \sqrt{144 + 49} = \sqrt{193}$



$$\angle CPD = 180 - (45 + 105) = 180 - 150 = 30$$

$$\Delta A = 180 - 30 = 150.$$



$$AB = BC = DC = AD = a.$$

$$\square ABCD \text{ এর ক্ষেত্রফল} = \Delta ABD + \Delta ADC$$

$$= \frac{\sqrt{3}}{4} a^2 + \frac{\sqrt{3}}{4} a^2 = \frac{\sqrt{3}}{2} a^2$$

$$\Rightarrow \frac{\sqrt{3}}{2} a^2 = 8\sqrt{3} \Rightarrow a = 4.$$

6(C). Sin²15° + Sin² 30° + Sin² 45° + Sin²60° + Sin² 75° + Sin² 90°

$$= \text{Sin}^2 15^\circ + \text{Sin}^2 30^\circ + \text{Sin}^2 45^\circ + \text{Sin}^2 60^\circ + \text{Sin}^2 75^\circ + \text{Sin}^2 90^\circ$$

$$= 1 + \left(\frac{1}{2}\right)^2 + \frac{1}{2} + \frac{3}{4} + 1 = \frac{3}{2} + \frac{1}{4} =$$

$$7 \times \frac{14}{4} = \frac{7}{2}$$

7(B). $\frac{AC}{BC} = \tan 60^\circ$
 $\frac{120}{BC} = \sqrt{3}$

$$\text{বা, } BC = \frac{120}{\sqrt{3}} = 40\sqrt{3} \text{ সেন্টিমিটার।}$$

8(C). 9(C). 10(A). 11(B). 12(C).

13(C). মোট = 100.

$$\text{প্রথম ছাড়} - 30\% \rightarrow 100 - 30 = 70.$$

$$\text{দ্বিতীয় ছাড়} - 60\% \rightarrow 70 - 42 = 28.$$

$$\text{তৃতীয় ছাড়} \rightarrow 70\% \rightarrow 28 \times \frac{30}{100} = 19.6$$

$$(28 - 19.6) = 8.4. \text{ সব মিলিয়ে ছাড়} = (100 -$$

8.4) = 91.6%.

14(A). মেয়ে : ছেলে = 3 : 2 = 8x, 2x, 300, 200.

নারালিকা 20%, নাবালক 25%.

$$\text{মোট নাবালক} + \text{নারালিকা} = 300 \times \frac{20}{100} + 200 \times \frac{25}{100} = 60 +$$

$$100 = 110.$$

$$\% = \frac{110}{800} \times 100 = 22\%. \text{ 15(C).}$$

$$30 \text{ ইনসেস গড় রান } 40 \rightarrow \text{মোট} = 1,200$$

$$28 \text{ ইনসেস গড় রান } 38 \rightarrow \text{মোট} = 1,064$$

$$\text{তফাৎ} = 186$$

$$\text{সর্বনিম্ন স্কোর} = \frac{136 - 118}{2} = 18.$$

16(B). A : B : C = 5 : 8 : 9

A + C = 14x = 56 বা, x = 4. তাহলে, B এর বয়স = 32 বছর।

$$17(D). \frac{x}{4} = \frac{3 \times 2}{2 \times 2} \cdot \frac{y}{2} = \frac{4}{3} \cdot \frac{z}{3} \Rightarrow x : y : z = 6 : 4 : 3.$$

$$18(B). \frac{4p}{p^2 - 4p + 4} = \frac{1}{4}$$

$$\frac{p^2 - 4p + 4}{p} = 16$$

$$\frac{p^2}{p} - \frac{4p}{p} + \frac{4}{p} = 16$$

$$p + \frac{4}{p} = 16 + 4 \Rightarrow \left(p + \frac{4}{p}\right)^2 = (20)^2$$

$$p^2 + 2 \cdot p \cdot \frac{4}{p} + \frac{16}{p^2} = 400$$

$$p^2 + \frac{16}{p^2} = 400 - 8 = 392.$$

$$19(C). \frac{a}{b} = \frac{4}{7} \cdot \frac{b}{c} = \frac{7}{3} \cdot \frac{3a + 2c}{2a - 2c} \cdot \frac{12 + 6}{12 - 6} = \frac{18}{6} = 3.$$

20(B). 17% (লাভ) (+) (-) 11% (ক্ষতি)

$$\frac{11}{28} \times 47,908 \quad \frac{17}{28} \times 42,908$$

$$= 18,821 \quad = 29,089$$

21(A). বিক্রয়মূল্য = 96 ক্ষতি = 12%

$$\text{ক্রয়মূল্য} = \frac{100}{8} \times 96 = \frac{100 \times 12}{11}$$

বদি বিক্রয়মূল্য = 132 টাকা হয়, তাহলে ক্রয়মূল্য =

$$\frac{132 \times 11 \times 100}{12 \times 100} = 121. \text{ তাহলে, লাভ} = 21\%.$$

22(A). পুরো জলাধারটি 3 ঘন্টার ভরতি হয়। 1 ঘন্টায় ভরতি হয়

$$\text{জলাধারটি } \frac{1}{3} \text{ অংশ। পুরো জলাধারটি খালি হতে সময় লাগে } \frac{7}{2} \text{ ঘন্টা।}$$

তাহলে, 1 ঘন্টায় জলাধারটির খালি হয় $\frac{2}{7}$ অংশ। তাহলে, এরপর 1

$$\text{ঘন্টায় জলাধারটি ভরতি হয় } \frac{1}{3} - \frac{2}{7} = \frac{7 - 6}{21} = \frac{1}{21} \text{ অর্থাৎ নতুন}$$

খোলা থাকলে জলাধারটি ভরতি হবে 21 ঘন্টায়।

23(A). মনে করি, মোট টাকা 100.

$$S.D = 200 - 5 \text{ বছর।} \quad S.D = 100 - 2.5 \text{ বছর।}$$

$$\text{অর্থাৎ, } S.D = 500 = (2.5 \times 5) = 12.5 \text{ বছর।}$$

24(C). 200 কমলালেবুর ক্রয়মূল্য = 1,000. 25% লাভে 200টি

$$\text{কমলালেবুর বিক্রয়মূল্য} = \frac{125}{100} \times 1000 = 1,250.$$

1,250 টাকায় বিক্রি হয় 200টি কমলালেবু।

$$100 \text{ টাকায় বিক্রি হয় } \rightarrow \frac{200}{1250} \times 100 = 16 \text{ টি কমলালেবু।}$$

25(C). মোট কাজ = 16 × 12 × 90. এখনো পর্যন্ত কাজ হয়েছে =

$$70 \times 24 \times 8. \text{ কাজ বাকি আছে} = \frac{70 \times 24 \times 8}{16 \times 12 \times 90} = \frac{7}{9} \text{ অংশ।}$$

মেয়েদের হাতের কাজের ট্রেনিং

নিজস্ব প্রতিনিধি : বারুইপুর হিউম্যান ডেভেলপমেন্ট অ্যান্ড সোল্ফ এমপ্লয়মেন্ট সোসাইটি (BHDSES) মেয়েদের স্বনির্ভরতার লক্ষ্যে ৯টি ট্রেডে হাতের কাজের ট্রেনিং দিচ্ছে। এর মধ্যে আছে ৭টি ৬ মাসের বেসিক কোর্স আর ২টি ১ বছরের ডিপ্লোমা কোর্স। ৭টি বেসিক কোর্স হল : (১) বিউটিশিয়ান, (২) টেলারিং, (৩) সফট টয়েজ, (৪) কডের ব্যাগ, (৫) গ্লাস পেইন্টিং, (৬) ফেব্রিক, (৭) বাঁধানি। ২টি ডিপ্লোমা কোর্স হল : (১) ফ্যাশন ডিজাইনিং, (২) বিউটিশিয়ান। কোর্স অনুসারে শিক্ষাগত দরকার ক্লাস এইট পাশ থেকে উচ্চমাধ্যমিক পাশ। বয়সের কোনো কড়াকড়ি নেই। আগে আসার ভিত্তিতে সুযোগ। সংস্থার সম্পাদক রত্না সাহা জানান, ট্রেনিং শেষে সফল প্রার্থীদের স্বনিযুক্তির পরামর্শ দেওয়া হয়। ভরতির জন্য যোগাযোগ করতে হবে এই ঠিকানায় : বারুইপুর হিউম্যান ডেভেলপমেন্ট অ্যান্ড সোল্ফ এমপ্লয়মেন্ট সোসাইটি, কলপুকুর স্টেশন রোড, বারুই পুর। ফোন : ৯০৮৮৭৭৪৪০২ ৮৬৬৬৭১৪০০ (সকাল ১০টা থেকে বিকেল ৪টে পর্যন্ত)।

খরগোশের ব্যবসা করে আয়

বাণিজ্য ফার্মস ডেভেলপমেন্ট ট্রাস্ট অফ ইন্ডিয়া কর্তৃক অসিত ৩৪ পাড় জয়নাম, উদ্যোগী ছেলেমেয়েরা কম পুষ্টিতে বিশেষ রকমের খরগোশের চাষ করে মাসে কয়েক হাজার টাকা আয় করতে পারেন। নিম্নলিখিত ট্রেনিং ও ব্যবসার পরামর্শের জন্য যোগাযোগ করতে পারেন এই নম্বরে : ৮০০১৭৪৭১০০৩, ৭৪০৭৯৮৭৬৮৪। ওয়েবসাইট : www.rfdol.in।

২০০ এক্সিকিউটিভ ট্রেনিং ১ পাতার পর

ইলেক্ট্রনিক্স অ্যান্ড কমিউনিকেশন, ইলেক্ট্রনিক্স অ্যান্ড টেলিকমিউনিকেশন, ইলেক্ট্রনিক্স অ্যান্ড কন্ট্রোল, ইলেক্ট্রনিক্স অ্যান্ড ইনস্ট্রুমেন্টেশন ইঞ্জিনিয়ারিংয়ের প্রার্থীরা ইলেক্ট্রনিক্স শাখার জন্য যোগ্য। সব ক্ষেত্রেই ২০১৭/২০১৮ সালের 'গেট' পরীক্ষায় সফল হয়ে থাকতে হবে। বয়স হতে হবে ১৮-৪০-৩১৮'র হিসাবে ২ বছরের মধ্যে। তপশিলীরা ৫ বছর, ও.বি.সি.রা ৩ বছর বয়সে ছাড় পাবেন। শূন্যপদ : মেকানিক্যাল ৮৪টি (জেনাঃ ৩৫, ও.বি.সি. ২৩, অজাঃ ১৫, তঃউজাঃ ১১)। কেমিক্যাল ১৫টি (জেনাঃ ৬, ও.বি.সি. ৪, অজাঃ ৩, তঃউজাঃ ২)। ইলেক্ট্রিক্যাল ২০টি (জেনাঃ ২০, ও.বি.সি. ১৪, অজাঃ ১০, তঃউজাঃ ৬)। ইলেক্ট্রনিক্স অ্যান্ড কমিউনিকেশন ১৫টি (জেনাঃ ৬, ও.বি.সি. ৪, অজাঃ ৩, তঃউজাঃ ২)। ইনস্ট্রুমেন্টেশন ৮টি (জেনাঃ ৩, ও.বি.সি. ২, অজাঃ ২, তঃউজাঃ ১)।

১)। সিভিলে ২৭টি (জেনাঃ ১১, ও.বি.সি. ৮, অজাঃ ৫, তঃউজাঃ ৩)। মেটালুর্জিতে ৩১টি (জেনাঃ ৮-১, ও.বি.সি. ৫৫, অজাঃ ৩৯, তঃউজাঃ ২৫)। শুরুতে ১ বছরের ট্রেনিং। তখন স্টাইপেন্ড মাসে ৩৫,০০০ টাকা। তাতে সফল হলে 'সায়োফিজিক অফিসার' পদে চাকরি পাবেন। তখন Level 10 পে ম্যাট্রিক্সে মাইনে পাবেন। এই পদের বিজ্ঞপ্তি নং : NPCIL/HRM/ET/2018/02। প্রার্থী বাছাই হবে 'গেট' পরীক্ষায় পাওয়া স্কোর দেখে। সফল হলে ইন্টারভিউ হবে। মনোনীত প্রার্থীদের তালিকা পাবেন ওয়েবসাইটে। ইন্টারভিউয়ের কল লেটার ওয়েবসাইটে থেকে ডাউনলোড করতে পারবেন। দরখাস্ত করবেন অনলাইনে ৪ এপ্রিল থেকে ১৮ এপ্রিল পর্যন্ত, এই ওয়েবসাইটে : www.npcilcareers.co.in অনলাইনে দরখাস্ত করার আগে বৈধ ই-মেল আইডি, থাকতে হবে। এছাড়াও পরীক্ষা ফী বাবদ ৫০০ টাকা দিতে হবে। তপশিলী, মহিলা, প্রতিবন্ধীদের খী লাগবে না। টাকা

প্রগতি ITI-এ ভর্তি
বহরমপুর ও কৃষ্ণনগরে
NCVT অনুমোদিত বহরমপুর প্রগতি ITI ও কৃষ্ণনগর প্রগতি ITI-এ আগস্ট ২০১৮ সেশনে নিচের ট্রেডগুলিতে ভর্তির জন্য যোগাযোগ করুন:
কোর্স : ইলেক্ট্রিশিয়ান ও ফিটার
বহরমপুর : 9434900500
কৃষ্ণনগর : 9434900700

ফায়ার এন্ড সেফটি ইন্টারন্যাশনাল সংস্থা
JIFSA
Govt. of India
Education and Technical Services Pvt. Ltd.
www.jifsa.in
jifsamedinipur1980@gmail.com
মেচেদা • রাধামণি • পূর্ব মেদিনীপুর
• ফায়ার সেক্টি কোর্স ৬ মাস ও ১ বছর সার্টিফিকেট কোর্সের জন্য মাধ্যমিক পাশ ও ১৮-৩০ বছর হলে ভর্তি চলছে।
• কোর্স শেষে প্রতিটি student দের ৪ বার ক্যাম্পাসের সুযোগ করে দেওয়া হবে।
• RAIL, WBP, KP, ARMY সরকারি চাকরির পরীক্ষার আমাদের সার্টিফিকেট বোনাস নম্বর পাওয়া যাবে।
• এই সমস্ত চাকরির পরীক্ষার জন্য কোর্স শেষে ব্যবস্থা আছে।
পশ্চিমবঙ্গের সমস্ত জেলায় ২টি করে ফ্র্যাঞ্চাইজি দেওয়া হবে (Placement এর পরিধা রয়েছে)
Office : 9635573744, 9083862007
Mob : 9775688561, 8145587254
জেলাভিত্তিক লাক্স এর জন্য - 8768325859

জমা দেওয়ার পর সিস্টেম জেনারেটেড অ্যাপ্লিকেশন ফর্ম প্রিন্ট করে নেন। আরো বিস্তারিত তথ্য পাবেন ওই ওয়েবসাইটে।

বিনা খরচে সার্ভেয়ার ট্রেনিং
পশ্চিমবঙ্গ সরকারের উৎসর্গ বাংলা প্রোজেক্টে সম্পূর্ণ বিনা খরচে সার্ভেয়ার কোর্সে ট্রেনিং দেওয়া হবে। যোগাযোগ : বহরমপুর প্রগতি ITI, 9434900500. কৃষ্ণনগর প্রগতি ITI, 9434900700. কোর্স শেষে NCVT-র সার্টিফিকেট দেওয়া হবে।

SUNITI EDUCATIONAL TRUST
KALYANI, NADIA
NCTE RECOGNIZED
B.Ed. & D.El.Ed. Course
Admission 2018-'20
Contact : 8334866979, 9674965751, 9875397040

POLICE RAIL
S.I & CONSTABLE Gr-D,ASM,Loco Pilot
ফ্রী কোচিং
All Bengal Talent Search জেনারেল বেসিক M.K. Education-এ ইন্ডিয়া স্টাডিজ স্টাডিজ কোর্স সফলতা SC, ST ও মাইনোরিটিদের জন্য বিশেষ সুবিধা। অসীম প্রার্থীরা স্বল্প নম্বর নির্ধারিত পদে।
For Online Registration visit www.indiasias.com OR Call
MK IAS ACADEMY 8420709094 9830991008

এয়ারপোর্টে বিভিন্ন পদে চাকরি
বিশেষ সর্বোদাতা : কলকাতা, দিল্লি ও গোয়া, ব্যাল্লুক, মুম্বাই এয়ারপোর্টে এয়ার হস্টেস, গার্ডিয়ান স্টফ (CSA, PSA, Tag Boy, Loader), টিকেটিং ও Driver ইত্যাদি পদে ZET AIRLINK ২০১০ সাল থেকে চাকরি দিয়ে আসছে। ওইসব পদে চাকরি করতে ইচ্ছুক প্রার্থীরা ভারতের ১ নং প্রেসমেন্ট অ্যাসিস্ট, আই.এস.ও. (২০০১ : ২০১৫) সার্টিফিকেটে ইন্সটিটিউটে সরাসরি ইন্টারভিউয়ের জন্য আসুন। ক্লাস এইট পাশ / মাধ্যমিক পাশ / H.S. পাশ / গ্রাজুয়েট ছেলেমেয়েরা যোগ্য। শুরুতে ১২ দিনের ট্রেনিং। সরাসরি ইন্টারভিউ হবে ৬ই এপ্রিল থেকে ১৪ই এপ্রিল। আসন সংখ্যা ২৫টি। যোগাযোগ : Zet Airlink, Chinarpark, New Town, Pinnacle Tower (5th Floor), Besides Spencers Mall, Kolkata- 700 136. Mob : 8961099980 (HR, Annu), (033) 6555 5072. Website : www.zetaairlink.com. (বিঃদ্রঃ- বিস্তারিত তথ্য জানতে চোখ রাখুন CTVN চ্যানেলে প্রতি বৃহস্পতিবার রাত্রি ৮.৩০-৯.০০টা লাইভ শো) ও R Plus News চ্যানেলে প্রতি শনিবার বিকেল ৫.৩০-৬.০০টা লাইভ program. বিজ্ঞাপন

১২৫ নার্স

ইন্দিরা গান্ধী ইনস্টিটিউট অফ মেডিক্যাল সায়েন্সেস 'সিস্টার গ্রেড-11' পদে ১২৫ জন লোক নিচ্ছে। মাধ্যমিক পাশেরা জেনারেল নার্সিং অ্যান্ড মিজিওয়াইফারি সার্টিফিকেট কোর্স পাশ হলে আবেদন করতে পারেন। রাজা নার্সিং কলেজে 'এ' গ্রেড নার্স হিসাবে নাম নথিভুক্ত থাকতে হবে। বয়স হতে হবে ২০-৪২-২০১৮'র হিসাবে ১৮ থেকে ৩০ বছরের মধ্যে। তপশিলীরা ৫ বছর, ও.বি.সি.রা ৩ বছর আর মহিলারা ৩ বছর বয়সে ছাড় পাবেন। শূন্যপদ : ১২৫টি (জেনাঃ ৬১, জেনাঃ মহিলা ২২, ই.বি.সি. ১৩, ই.বি.সি. মহিলা ৯, বি.সি. ৯, বি.সি. মহিলা ৫, অজাঃ ১২, তঃউজাঃ মহিলা ৮, তঃউজাঃ ১, বি.সি. মহিলা ৯)। প্রার্থী বাছাই হবে লিখিত পরীক্ষার মাধ্যমে। দরখাস্ত করবেন নির্দিষ্ট ফর্মে। দরখাস্তের বয়ান পাবেন এই ওয়েবসাইটে : www.igims.org তখন সঙ্গে দেবেন যাবতীয় প্রমাণপত্রের প্রত্যয়িত নকল আর ৫০০ (তপশিলী হলে ১২৫) টাকার ডিমান্ড ড্রাফট। 'The Director, IGIMS, Patna'র অনুকূলে। দরখাস্ত পাঠাবেন রেজিস্ট্রি ডাকে, স্পিড ডাকে বা, কুরিয়ারে। পৌছানো চাই ২০ এপ্রিলের মধ্যে। এই ঠিকানায় : The Director, IGIMS, Patna -14.

কুল সার্ভিস নাইটেরিয়ান ও CBSE নোট/সেট/BLIS/MLIS
অতিরিক্ত চক্রবর্তী সুশীল মোহন প্রযুক্তি ও তথ্যবিজ্ঞানের ক্ষেত্রে - ৫০০ (বাল্য ও ইংরিজি উভয় ভাষায়) ড. সোমনাথ বন্দ্যোপাধ্যায় প্রযুক্তি ও তথ্যবিজ্ঞানের MCO -৩৫০ সপ্তম রায়চৌধুরী প্রযুক্তি ও তথ্যবিজ্ঞান, সনস্ক্রিপ্ট রপোর্ট - ৩৫০
Dr. Sudip Ranjan Hatua
Library and Information Science : Infomine -400
প্রভা প্রকাশনী
১২, বনানী মার্গের দোকান, কলকাতা - ১২
ফোন : ৯৮৩৩১৯৪২১৮

সারা ভারতের সব ধরনের বাংলা পত্রিকার মধ্যে আজও

১ নম্বর কর্মসংস্থান

কলকাতা, শিলিগুড়ি বা, বর্ধমানের মতো শহরভিত্তিক বাংলা পত্রিকার প্রচার সংখ্যার ক্রমানুসারের কোনো তালিকা IRS বা কোনো সংস্থাই করে না। পরিসংখ্যান থেকে মন গড়া শীর্ষস্থান প্রচারের লোক ঠিকানো চমক থেকে সাবধান হন। শুধুমাত্র কাজের খবরের পত্রিকার মধ্যেই নয়, সব ধরনের সাপ্তাহিক, পাদিক ও মাসিক বাংলা পত্রিকার মধ্যে 'কর্মসংস্থান' এখন শীর্ষে। আর সারা ভারতের সব ভাষা মিলিয়ে সেরা ১০টি পত্রিকার মধ্যে একমাত্র বাংলা পত্রিকা হিসাবে রয়েছে **কর্মসংস্থান**
* As per Indian Readership Survey, 2017

WEST BENGAL SCHEDULED CASTES, SCHEDULED TRIBES AND OTHER BACKWARD CLASSES DEVELOPMENT & FINANCE CORPORATION & CIPET: CENTER FOR SKILLING AND TECHNICAL SUPPORT (CSTS), HALDIA

(Ministry of Chemicals and Fertilizers, Govt. of India)
AN ISO 9001: 2008 CERTIFIED INSTITUTE

ANNOUNCES
Six (6) months' free of cost Residential Skill Development Training Programme on Plastics for unemployed Scheduled Tribe (ST) candidates for the State of West Bengal having annual family income not exceeding Rs.120000/- in Urban Areas & Rs.98000/- in Rural Areas. The programme is sponsored by the West Bengal Scheduled Castes, Scheduled Tribes and Other Backward Classes Development & Finance Corporation (A Govt. of West Bengal Undertaking). There is scope of employment after successful completion of training. The Course details are as follows :

Sl. No.	Name of the Course	Eligibility Criteria		No of Seats	Date & Time of Interview	Venue
		Educational Qualification	Age Limit			
1	Machine Operator- Injection Moulding (MO-IM)	8th / 10th Pass	18 - 35 Yrs	200	11-04-2018, 12-04-2018	CIPET, HALDIA
2	Machine Operator- Extrusion Process (MO-EP)	8th / 10th Pass	18 - 35 Yrs	100	19-04-2018, 20-04-2018	
3	Machine Operator- Plastic Processing (MO-PP)	8th / 10th Pass	18 - 35 Yrs	100	(10.00 AM ONWARDS)	
4	Machine Operator- Blow Moulding (MO-BM)	8th / 10th Pass	18 - 35 Yrs	100		

Interested candidates may attend walk in interview on the dates & time indicated above at the following address, along with original and attested copies of certificates related to Educational Qualifications, Age Proof, Family Income, Caste certificate, ID Proof (Voter ID/PAN/DL/AADHAR etc.) and 5(five) copies of recent passport size colour photographs. For further details please contact : 9434039466/8008558644/8170044113/9474306377/9836127016 (9AM to 5.30PM ONLY). Address: CIPET : CSTS, City Centre, P.O - Debhog, Haldia, Dist-Purba Medinipur (WB), Pin-721 657, Phone - 03224-255534, E-mail: cipet.haldia.stc@gmail.com
Sd/- Director & Head, CIPET : CSTS, Haldia

জেনারেল ইন্টেলিজেন্স

চাকরির পরীক্ষার গাইড

1. Select the related word from the given alternatives :

Aviator : Aviates :: Senator : ?

- (A) Diagnosis (B) Legislates
(C) Checks (D) Commands

2. Select the related letters from the given alternatives :

ABDG : CDFI :: EFHK : ?

- (A) GHJM (B) HILN (C) HIMN (D) HIKM

3. Select the related number from the given alternatives :

26 : 48 :: 82 : ?

- (A) 125 (B) 122 (C) 115 (D) 120

4. Find the odd word from the given alternatives :

- (A) Cow (B) Buffalo (C) Horse (D) Goat

5. Find the odd letters from the given alternatives :

- (A) BDFH (B) ACEG (C) IKMO (D) RTVW

6. Find the odd number from the given alternatives :

- (A) 93 (B) 79 (C) 97 (D) 89

7. Arrange the following words as per order in the dictionary:

1. Eyelid 2. Eyeless 3. Eyesore 4. Eyesight

- (A) 2, 1, 4, 3 (B) 2, 1, 3, 4 (C) 4, 3, 1, 2 (D) 4, 2, 3, 1

8. A series is given, with one term missing. Choose the correct alternative from the given ones that will complete the series :

NOA, PQB, RSC, ?

- (A) TUD (B) TVD (C) TUE (D) TVE

9. A series is given, with one term missing. Choose the correct alternative from the given ones that will complete the series.

10, 18, 28, 40; ?

- (A) 58 (B) 46 (C) 52 (D) 54

10. The age of the father 4 years ago was 8 times the age of his son. At present, the father's age is 4 times that of his son. Find the present age of son.

- (A) 9 years (B) 7 years (C) 14 years (D) 18 years

11. Prema is Ajay's sister. Benita is Ajay's mother. Benjamin is Benita's father. Leela is Benjamin's mother. How is Prema related to Leela ?

- (A) Daughter-in-law (B) Daughter (C) Grand Daughter (D) Great Grand Daughter

12. From the given alternative words, select the word which cannot be formed using the letters of the given word.

ENCYCLOPEDIA

- (A) OPEN (B) PLEASE (C) CANOPY (D) PLEAD

13. If POPULAR is coded as QPQVMBS then FAMOUS will be coded as :

- (A) GBNPUT (B) GNBPTV (C) GBNPVS (D) GBNPVT

14. If $1 \times 3 \times 5 = 1925$ and $7 \times 9 \times 11 = 4981121$, then find the value of $19 \times 21 \times 23 = ?$

- (A) 361529441 (B) 361441289

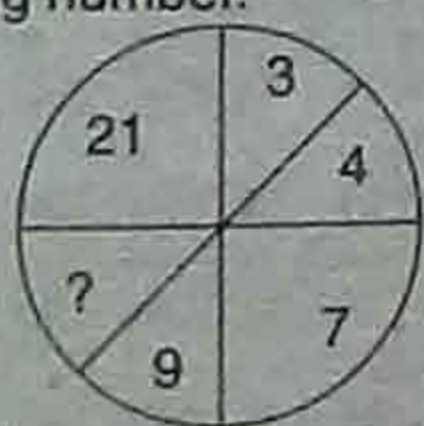
- (C) 441361289 (D) 361441529

15. If - stands for division, + for multiplication, + for subtraction and x for addition, then which of the following equations is correct ?

- (A) $20 - 4 + 6 \div 9 \times 4 = 25$ (B) $20 + 6 - 4 \times 9 \div 6 = 32$

- (C) $20 + 9 \times 9 - 4 + 6 = 33$ (D) $20 \times 4 - 6 - 4 + 9 = 20$

16. Find the missing number.



- (A) 15 (B) 12 (C) 11 (D) 16

17. P, Q, R and S are playing a game of carrom. P, R and S, Q are partners. 'S' is to the right of 'R'. If 'R' is facing West, then 'Q' is facing which direction?

- (A) North (B) South (C) East (D) West

18. Consider the given statements to be true and

decide which of the given Conclusions/assumptions can definitely be drawn from the given statements.

Statements :

Nutritious food is delicious and good for health. Honey is nutritious.

Conclusions :

I. Honey is good for health.

II. Delicious foods are nutritious.

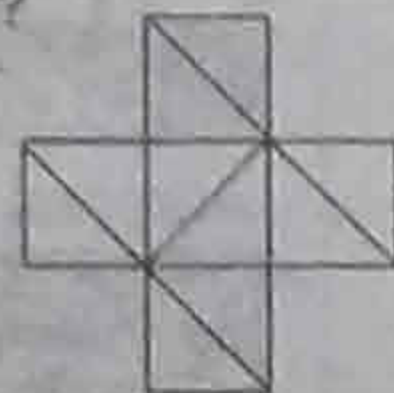
(A) Only Conclusion I follows

(B) Only Conclusion II follows

(C) Neither Conclusion I nor Conclusion II follows

(D) Both Conclusion I and Conclusion II follow

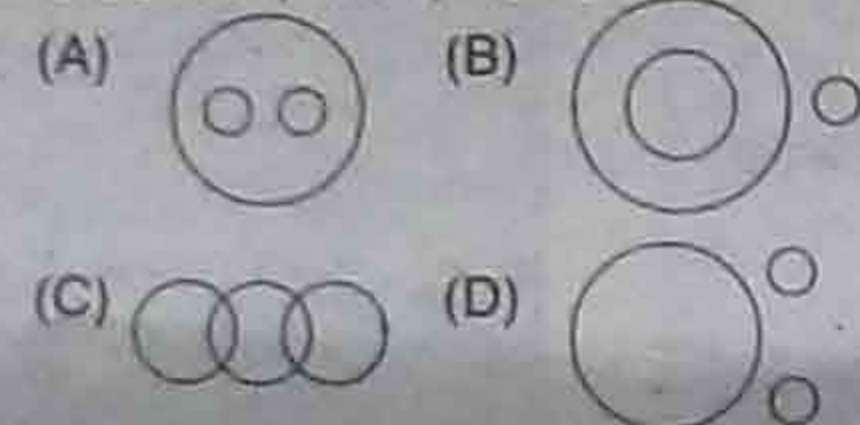
19. How many triangles are there in the given figure ?



- (A) 10 (C) 15 (B) 12 (D) 16

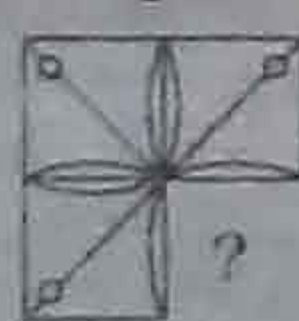
20. Identify the diagram that best represents the relationship among classes given below :

DOCTOR, MAN, ACTOR

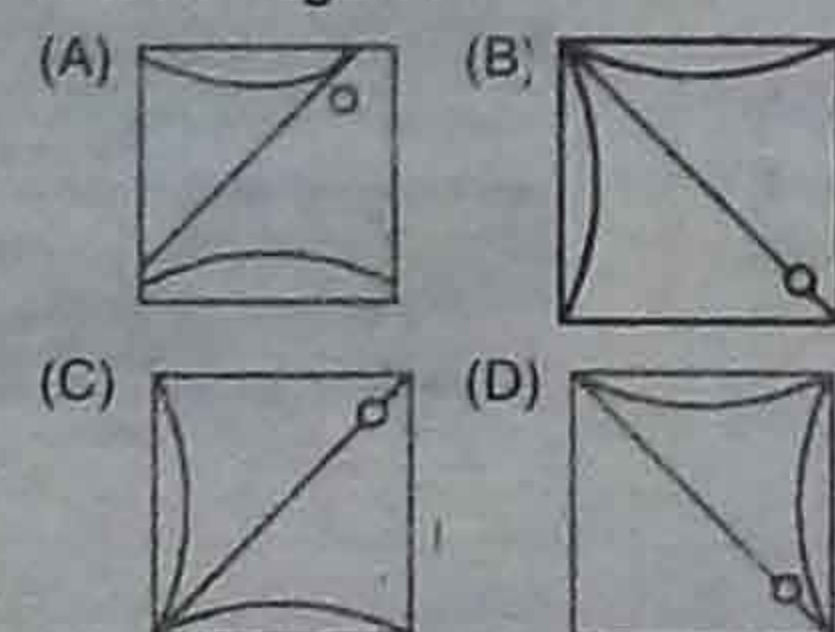


21. Which answer figure will complete the pattern in the question figure?

Question Figure :



Answer Figures

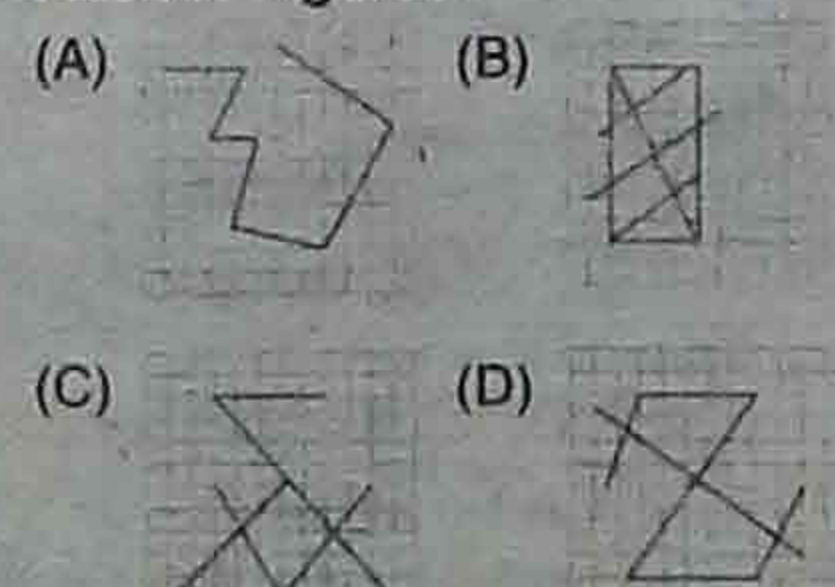


22. From the given answer figures, select the one in which the question figure is hidden/embedded.

Question Figure :



Answer Figures :

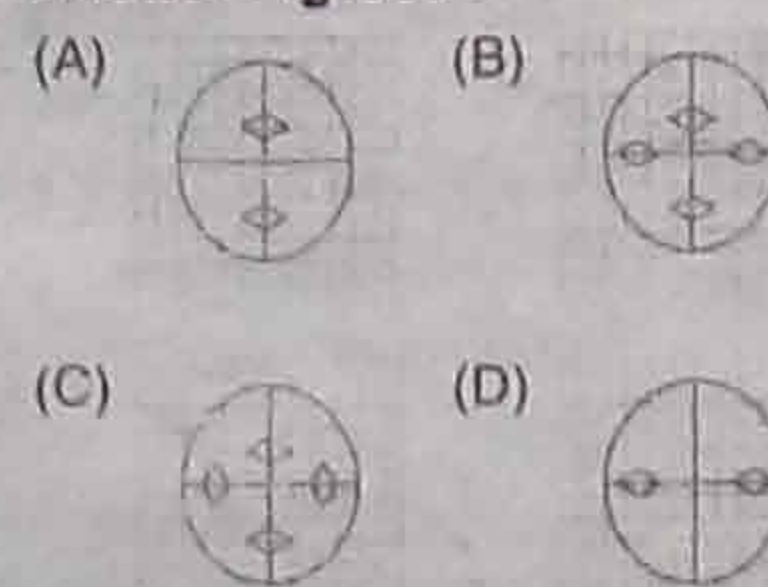


23. A piece of paper is folded and cut as shown in the question figures. From the given answer figures, indicate how it will appear when opened.

Question Figures :

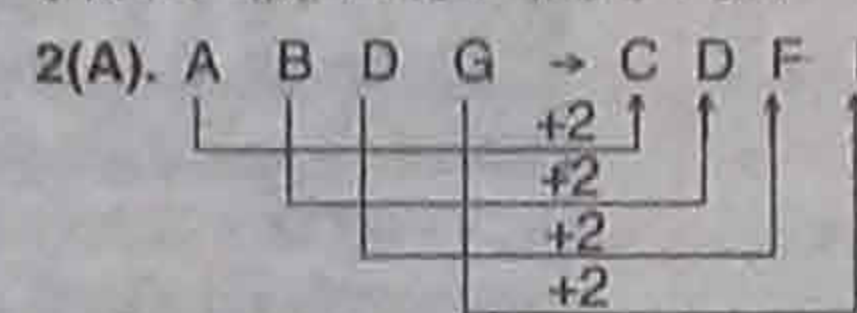


Answer Figures :

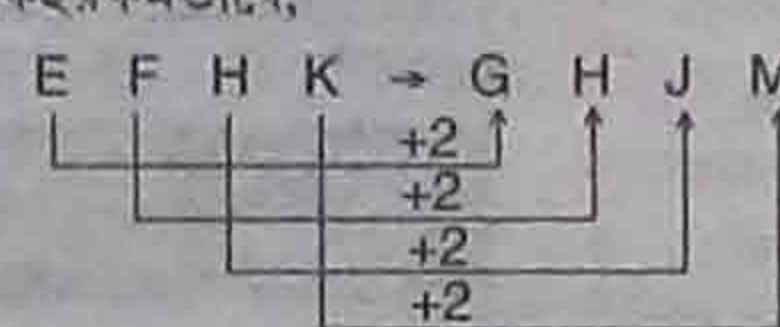


সকোডে উত্তরের কৌশল

1(B). পাইলট যেমন এরোপ্লেন চালায় সেনেটর সেরকম আইনি কাজে সাহায্য করে।



একইরকমভাবে,



3(D). $(5)^2 + 1 = 26$

$(7)^2 - 1 = 48$

$(9)^2 + 1 = 82$

তাহলে, $(11)^2 - 1 = 120$. 4(C).

5(D). B $\xrightarrow{+2}$ D $\xrightarrow{+2}$ F $\xrightarrow{+2}$ H

A $\xrightarrow{+2}$ C $\xrightarrow{+2}$ E $\xrightarrow{+2}$ G

I $\xrightarrow{+2}$ K $\xrightarrow{+2}$ M $\xrightarrow{+2}$ O

কিন্তু, R $\xrightarrow{+2}$ T $\xrightarrow{+2}$ V $\xrightarrow{+1}$ W

6(A). 93 ছাড়া বাকি সব মৌলিক সংখ্যা। $\frac{93}{3}$

= 31. 7(A). ইংরিজি অভিধানে বর্ণানুক্রমে সাজালে হয়,

2. Eyeless

↓

1. Eyelid

↓

4. Eyesight

↓

3. Eyesore

8(A). N $\xrightarrow{+2}$ P $\xrightarrow{+2}$ R $\xrightarrow{+2}$ T

O $\xrightarrow{+2}$ Q $\xrightarrow{+2}$ S $\xrightarrow{+2}$ U

A $\xrightarrow{+1}$ B $\xrightarrow{+1}$ C $\xrightarrow{+1}$ D

9(D). $10 + 8 = 18$

$18 + 10 = 28$

$28 + 12 = 40$

$40 + 14 = 54$

10(B). মনে করি, ছেলের এখনকার বয়স x

বছর। তাহলে বাবার এখনকার বয়স = 4x বছর।

প্রশ্নানুসারে, 4 বছর আগে,

$8(x - 4) = 4x - 4$

$\Rightarrow 8x - 32 = 4x - 4$

$\Rightarrow 8x - 4x = 32 - 4$

$\Rightarrow 4x = 28$

$x = \frac{28}{4} = 7$

ছেলের এখনকার বয়স = 7 বছর।

11(D). বিনীতা হল অজয় ও প্রেমার মা।

বেঞ্জামিন হল বিনীতার বাবা। লীলা হল

বেঞ্জামিনের মা। আবার, লীলা হল বিনীতার

ঠাকুরমা। তাহলে, প্রেমা হল লীলার নাতনি।

12(B). প্রদত্ত শব্দটিতে কোনো 'S' অক্ষর নেই।

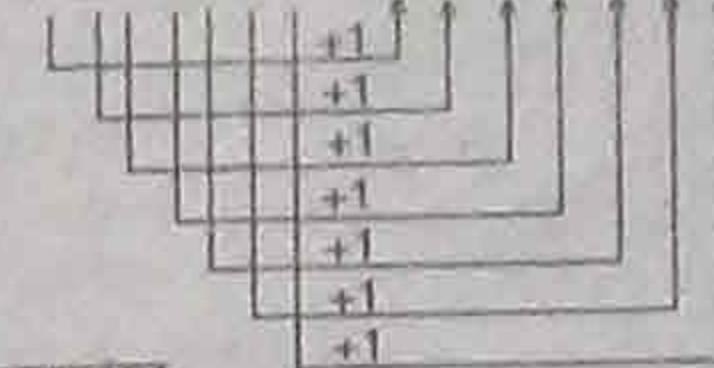
তাই PLEASE শব্দটি তৈরি করা যাবে না।

ENCYCLOPEDIA \rightarrow OPEN

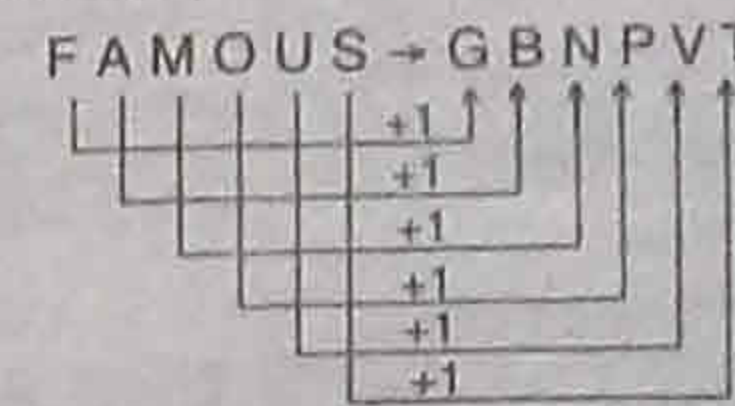
E IN CYCLOPEDIA \rightarrow CANOPY

EN CYCLOPEDIA \rightarrow PLEAD

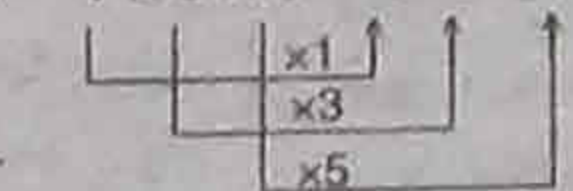
13(D). POPULAR \rightarrow QPQVMBS



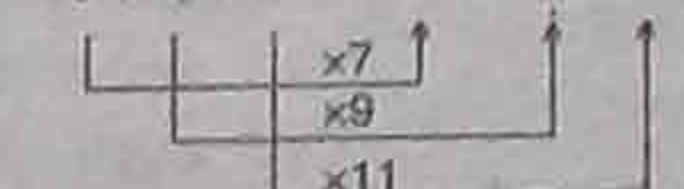
একইরকমভাবে,



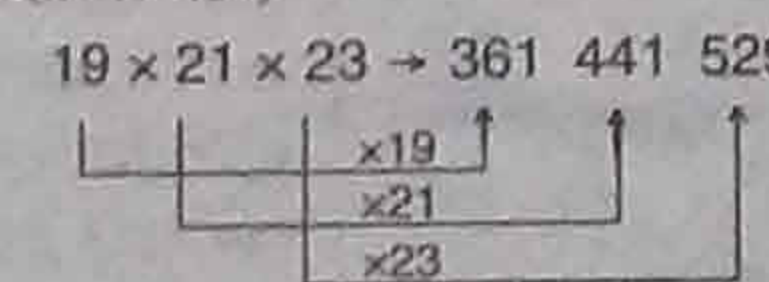
14(D). $1 \times 3 \times 5 = 1925$



$7 \times 9 \times 11 \rightarrow 4981121$



একইরকমভাবে,



15(A).

-	+	+	x
+	-	x	+

Option (A)

$20 - 4 + 6 \div 9 \times 4 = 25$

$\Rightarrow 20 \div 4 \times 6 \div 9 + 4 = 25$

$\Rightarrow 5 \times 6 - 9 + 4 = 25$

$\Rightarrow 30 - 9 + 4 = 25$

Option (B)

$20 + 6 - 4 \times 9 \div 6 = 32$

$\Rightarrow 20 \times 6 + 4 + 9 - 6 = 32$

$\Rightarrow 30 + 9 - 6 = 32$

Option (C)

$20 \div 9 \times 9 - 4 + 6 = 33$

$\Rightarrow 20 - 9 + \frac{9}{4} + 4 \times 6 = 33$

$\Rightarrow 20 - 9 + \frac{27}{2} = 33$

$\Rightarrow \frac{40 - 18 + 27}{2} = 33 \Rightarrow 49 \neq 2 \times 33$

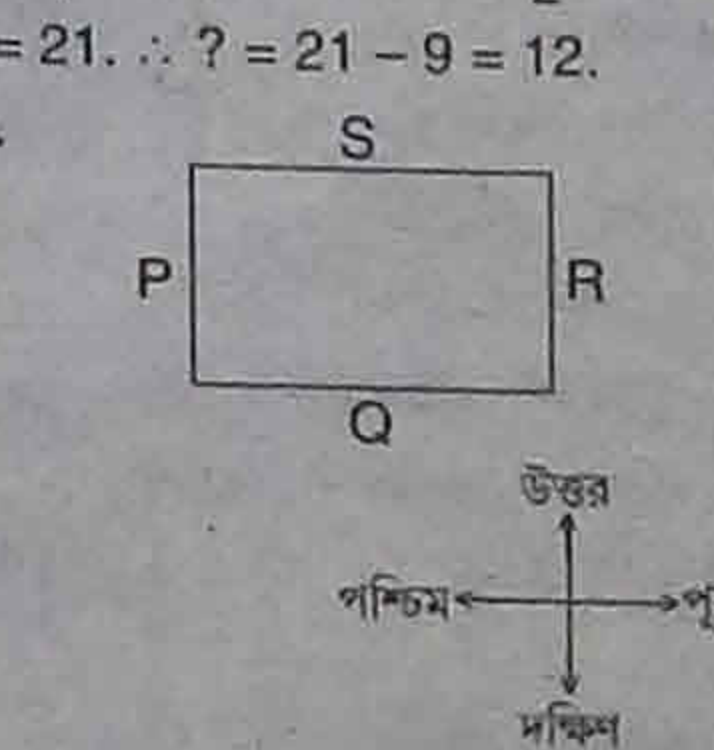
Option (D)

$20 \times 4 - 6 - 4 + 9 = 20 \Rightarrow 20 + 4 \div 6 \div 4 \times 9 = 20 \Rightarrow 20$

$+ \frac{4}{6} \times \frac{1}{4} \times 9 = 20 \Rightarrow 20 + \frac{3}{2} \neq 20$. 16(B). $3 + 4 = 7$.

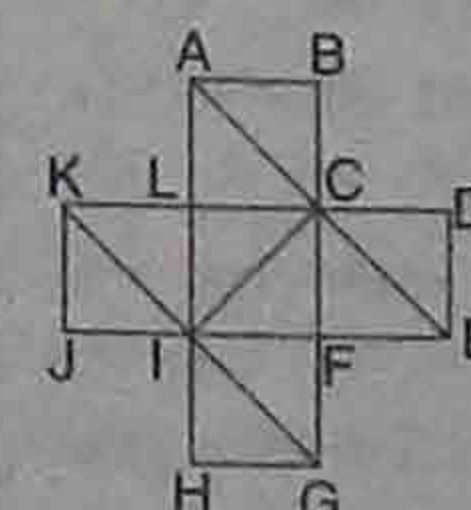
$9 + ? = 21$. $\therefore ? = 21 - 9 = 12$.

17(A).



Q উত্তর দিকে মুখ করে আছে।

18(A). 19(D).



ত্রিভুজগুলি হল :

ΔALC ; ΔABC ; ΔDCE ; ΔCFE ;

ΔKJI ; ΔKLI ; ΔIHG ; ΔIFG ;

ΔCLI ; ΔIPC ; ΔCAI ; ΔCIE ;

ΔIGC ; ΔICK ; ΔAIE ; ΔKCG ;

20(C).



21(B). 22(C). 23(A).

ব্লকে ২৬ অ্যাসিস্ট্যান্ট

১ পাতার পর পি

২৬ জন লোক নিচ্ছে। কারা কোন পদের জন্য যোগ্য : কম্পিউটার অ্যাসিস্ট্যান্ট : উচ্চমাধ্যমিক পাশরা কম্পিউটারের ৬ মাসের কোর্স পাশ হলে যোগ্য। ভাটা এন্ট্রির কাজে অসুস্থ ৬০০০ কী ভিত্তিতে গতি থাকতে হবে। পরিশ্রমিক মাসে ১১,৯৯০ টাকা। শূন্যপদ : ৫টি।

প্রোগ্রাম অ্যাসিস্ট্যান্ট : বিভিন্ন ও অধ বিষয় নিয়ে সার্বেস শাখায় উচ্চমাধ্যমিক পাশরা মোট অসুস্থ ৬০% নম্বর পেয়ে থাকলে যোগ্য। সব ক্ষেত্রে ৬ মাসের কম্পিউটার সার্টিফিকেট কোর্স পাশ হতে হবে। পরিশ্রমিক মাসে ১১,৯৯০ টাকা। শূন্যপদ : ১০টি।

প্রোগ্রাম অ্যাসিস্ট্যান্ট : সার্বেস শাখায় উচ্চমাধ্যমিক পাশরা মোট অসুস্থ ৬০% নম্বর পেয়ে থাকলে আর কম্পিউটারের ৬ মাসের কোর্স পাশ হলে যোগ্য। পরিশ্রমিক মাসে ১১,৯৯০ টাকা। শূন্যপদ : ৫টি।

টেকনিক্যাল অ্যাসিস্ট্যান্ট : সিভিল ইঞ্জিনিয়ারিংয়ের ডিপ্লোমা কোর্স পাশরা যোগ্য। পরিশ্রমিক মাসে ১৯,৬২০ টাকা। শূন্যপদ : ৪টি।

ওপরের সব পদের বেলায় বয়স হতে হবে ১-১-২০১৮'র হিসাবে ১৮ থেকে ৪০ বছরের মধ্যে। চাকরি হবে চুক্তিতে। তবে প্রতি ৬ মাস পরপর চুক্তির মেয়াদ পুনর্নবীকরণ হবে। প্রার্থী বাছাই হবে টেস্ট ও ইন্টারভিউয়ের মাধ্যমে। লিখিত পরীক্ষার অব্যাহত মাস্ট্রিপল চয়েজ টাইপের। কম্পিউটার অ্যাসিস্ট্যান্ট পদের বেলায় এই পরীক্ষার থাকবে : জেনারেল ইংলিশ - ১৫ নম্বর, বাংলা - ১০ নম্বর, জেনারেল নলেজ - ১৫ নম্বর, আরিথমেটিক, সার্বেস, লজিক্যাল রিজনিং সংক্রান্ত - ২৫ নম্বর।

প্রোগ্রাম অ্যাসিস্ট্যান্ট পদের বেলায় এই পরীক্ষার থাকবে : জেনারেল ইংলিশ - ২০ নম্বর, বাংলা - ১০ নম্বর, জেনারেল নলেজ - ২০ নম্বর, আরিথমেটিক, সার্বেস, লজিক্যাল রিজনিং সংক্রান্ত - ২৫ নম্বর।

টেকনিক্যাল অ্যাসিস্ট্যান্ট পদের বেলায় থাকবে এইসব বিষয় : জেনারেল ইংলিশ - ১০ নম্বর, জেনারেল নলেজ - ১০ নম্বর, আরিথমেটিক, সার্বেস, লজিক্যাল রিজনিং সংক্রান্ত - ১০ নম্বর।

প্রোগ্রাম অ্যাসিস্ট্যান্ট পদের বেলায় থাকবে : জেনারেল ইংলিশ - ১০ নম্বর, জেনারেল নলেজ - ১০ নম্বর, আরিথমেটিক, সার্বেস, লজিক্যাল রিজনিং সংক্রান্ত - ১০ নম্বর। সব ক্ষেত্রেই সফল হলে ১০ (কম্পিউটার অ্যাসিস্ট্যান্ট পদের বেলায় ২০) নম্বরের কম্পিউটার অ্যাপ্টিটিউড টেস্ট ও ১৫ নম্বরের

৩৯ ট্রেনি ডিপ্লোমা

১ পাতার পর পি

অফিসার ট্রেনি (হিউমান রিসোর্স) পদে ৩৯ জন লোক নিচ্ছে। কারা কোন পদের জন্য যোগ্য : ডিপ্লোমা ট্রেনি (ইলেক্ট্রিক্যাল) : পলিটেকনিক থেকে ইলেক্ট্রিক্যাল, ইলেক্ট্রিক্যাল (পাওয়ার), ইলেক্ট্রিক্যাল অ্যান্ড ইলেক্ট্রনিক্স, পাওয়ার সিস্টেম, পাওয়ার ইঞ্জিনিয়ারিং (ইলেক্ট্রিক্যাল)-এর ডিপ্লোমা কোর্স পাশরা মোট অসুস্থ ৭০% (তপশিলী ও প্রতিবন্ধী হলে সাধারণভাবে পাশ) নম্বর পেয়ে থাকলে আবেদন করতে পারেন। স্টাইপেন্ড মাসে ১৬,৫০০ টাকা। মূল মাইনে : ১৬,০০০-৩৫,৫০০ টাকা। শূন্যপদ : ৩০টি (জেনা: ১৫, ও.বি.সি. ৮, তঃজা: ৩, তঃউঃজা: ৪)। এর মধ্যে বধির প্রতিবন্ধী ১, অধি প্রতিবন্ধী ১, প্রাঃসংকঃ ৩। পোস্ট আই.ডি. : ০১।

জুনিয়র অফিসার ট্রেনি (হিউমান রিসোর্স) : হিউমান রিসোর্স, পার্সোনেল ম্যানেজমেন্ট, ইন্ডাস্ট্রিয়াল রিলেশন, পার্সোনেল ম্যানেজমেন্ট অ্যান্ড ইন্ডাস্ট্রিয়াল রিলেশন স্পেশালাইজেশন - সহ এম.এস.ডব্লিউ. বিষয় নিয়ে এম.বি.এ বা, পোস্ট-গ্রাজুয়েট ডিগ্রি বা, পোস্ট-গ্রাজুয়েট ডিপ্লোমা কোর্স পাশরা মোট অসুস্থ ৫৫% (তপশিলী উপজাতি ও প্রতিবন্ধী হলে পাশ নম্বর) পেয়ে থাকলে আবেদন করতে পারেন। স্টাইপেন্ড মাসে ১৬,৫০০ টাকা। মূল মাইনে : ১৬,০০০-৩৫,৫০০ টাকা। শূন্যপদ : ৪টি (জেনা: ২ ও.বি.সি. ১, তঃউঃজা: ১)। এর মধ্যে দুটিইন ১। পোস্ট আই.ডি. : ০৩।

ডিপ্লোমা ট্রেনি (সিভিল) : পলিটেকনিক থেকে

ইন্টারভিউ। লিখিত পরীক্ষার কল লেটার ৮ ফেব্রুয়ারি থেকে ডাউনলোড করতে পারবেন। দরখাস্ত করবেন অনলাইনে, ১৪ এপ্রিলের মধ্যে। এই ওয়েবসাইটে : www.purulia.nic.in এজন্য বৈধ একটি ই-মেল আই.ডি. থাকতে হবে। এছাড়াও পাশপোর্ট মাপের ফটো ও সিগনেচার জ্ঞান করে নেন। অনলাইনে দরখাস্ত করার পর সিস্টেম জেনারেটেড অ্যাপ্লিকেশন ফর্ম প্রিন্ট করে নেন। আরো বিস্তারিত তথ্য পাবেন ওই ওয়েবসাইটে।

সিভিল ইঞ্জিনিয়ারিংয়ের ডিপ্লোমা কোর্স পাশরা মোট অসুস্থ ৭০% (তপশিলী ও প্রতিবন্ধী হলে সাধারণভাবে পাশ) নম্বর পেয়ে থাকলে আবেদন করতে পারেন। স্টাইপেন্ড মাসে ১৬,৫০০ টাকা। মূল মাইনে : ১৬,০০০-৩৫,৫০০ টাকা। শূন্যপদ : ৫টি (জেনা: ৩, ও.বি.সি. ১, তঃজা: ১)। এর মধ্যে প্রাঃসংকঃ ১। পোস্ট আই.ডি. : ০২।

সব পদের বেলায় বয়স হতে হবে ১৯-৪-২০১৮'র হিসাবে ২৭ বছরের মধ্যে। তপশিলীরা ৫ বছর, ও.বি.সি.রা ৩ বছর বয়সে ছাড় পাবেন। এই পদের বিজ্ঞপ্তি নং : WR-1 / 01/2018, Date : 28-3-2018.

প্রার্থী বাছাই হবে লিখিত পরীক্ষার মাধ্যমে। লিখিত পরীক্ষার থাকবে দুটি পাঠ : প্রথম পাঠে থাকবে ১২০টি প্রশ্ন। সংশ্লিষ্ট টেকনিক্যাল বিষয়ের ওপর। দ্বিতীয় পাঠে ৫০টি প্রশ্ন থাকবে ভোকাবুলারি, ভার্সাল কমপ্রিহেনশন, কোয়ান্টিট্যাটিভ অ্যাপ্টিটিউড, রিজনিং এবিলিটি, ভাটা সাফিসিয়েন্সি, ইন্টারপ্রিটেশন.

K.M.C. -র Spl. ব্যাচ শুরু হচ্ছে।

GURUKUL STUDY CENTRE

FOR TECHNICAL SERVICE EXAMINATION

B.Tech, Diploma, ITI

Rail-এর Loco-pilot, Technician & Gr-D স্পেশাল কোর্সিং চলছে

Combined প্রস্তুতি নিয়ে কেন্দ্র ও রাঙা Police-এর চাকরিতে সক্ষম। আসে।

Garia Stn. 9874074233
Kol-84 8013958966

নিউমেরিক্যাল এবিলিটি। সেগেটিভ মার্কিং আছে। প্রতিটি প্রশ্নের কুল উত্তরের জন্য প্রাপ্তনম্বর থেকে ১ নম্বর কাটা হবে। পরীক্ষা হবে দুইদিনে। নাগপুর, পুনে, রায়পুর, দুর্গাবা, ভিলাই। সফল হলে ইন্টারভিউ। পরীক্ষা সংক্রান্ত বিস্তারিত তথ্য পাবেন ওয়েবসাইটে।

দরখাস্ত করবেন অনলাইনে ১৯ এপ্রিল পর্যন্ত। এই ওয়েবসাইটে : www.powergridindia.com এজন্য বৈধ একটি ই-মেল আই.ডি. থাকতে হবে। এছাড়াও পাশপোর্ট মাপের ফটো ও সিগনেচার জে.পি.ই.জি. ফর্ম্যাটে জ্ঞান করে নেন। অনলাইনে দরখাস্ত করার আগে পরীক্ষা ফী বাবদ ৩০০ টাকা ইন্টারনেট ব্যান্ডিং, ডেভিট কার্ড, ক্রেডিট কার্ডে জমা দেবেন। তপশিলী, প্রতিবন্ধী ও প্রাক্তন সমরকর্মীদের ফী লাগবে না। অনলাইনে দরখাস্ত করার পর ওয়েবসাইটে থেকে সিস্টেম জেনারেটেড অ্যাপ্লিকেশন ফর্ম প্রিন্ট করে নেন। আরো বিস্তারিত তথ্য ওয়েবসাইটেই পাবেন।

6-8 মাসের মধ্যে সরকারি চাকরির পরীক্ষায় সাফল্যের গ্যারান্টি দিচ্ছে "itee"। নতুন ব্যাচে ভর্তি চলছে। সস্তার বোধ্যোগ্য করুন।

B.TECH, DIPLOMA & I.T.I. পাস student দেব সরকারি চাকরির প্রশিক্ষণ (CE, ME, EE, ECE, CS, AE ইত্যাদি)

মাধ্যমিক, উচ্চমাধ্যমিক ও গ্রাজুয়েট পাস student দেব সরকারি চাকরির প্রশিক্ষণ (মাসিক মাহিনার মাধ্যমে)

Combined Course : TCL, DCL, SAIL, PSC-JE, KMDA, KMC, ISRO, OFB ইত্যাদি।

Combined Course : BANK, P.O., CLEER, COURT, RAIL (GR-C & D, ASM) ইত্যাদি।

SSC JE (PART - 2)

এর জন্য ক্লাস শুরু হচ্ছে। সস্তার বোধ্যোগ্য করুন।

দমদম 9830859046

বারাসাত 9804820827

RAIL (LOCOPILOT, TECHNICIAN & GROUP - D)

এর জন্য নতুন ব্যাচ শুরু হচ্ছে। সপ্তাহে ২ টি করে ONLINE MOCK TEST & STUDY MATERIAL সহ ক্লাসকর্ম কোর্সিং। সীট সংখ্যা সীমিত, সস্তার নাম নতিভুক্ত করুন।

৩৬ জুনিয়র অ্যাসিস্ট্যান্ট

১ পাতার পর পি

৩৬ জন লোক নিচ্ছে। কারা কোন পদের জন্য যোগ্য : জুনিয়র অ্যাসিস্ট্যান্ট : উচ্চমাধ্যমিক পাশরা 'জুনিয়র সূপারভাইজেন্ট' পদের জন্য আবেদন করতে পারেন। যে কোনো শাখার গ্রাজুয়েটেরা ২ বছর কাজের অভিজ্ঞতা থাকলেও যোগ্য। কম্পিউটার অফিস অ্যাপ্লিকেশন ও সেক্রেটারিয়েল প্রোগ্রামিং জ্ঞান থাকতে হবে। বয়স হতে হবে ১৮ থেকে ৩২ বছরের মধ্যে। মূল মাইনে : ৩৫,৪০০-১,১২,৪০০ টাকা। শূন্যপদ : ১৭টি (জেনা: ৭, তঃজা: ২, তঃউঃজা: ২, ও.বি.সি. ৩)।

বিজ্ঞপ্তি, কেমিস্ট্রি ও অসুস্থ বা, কম্পিউটার সার্বেস বিষয় নিয়ে ডিগ্রি কোর্স পাশরা 'জুনিয়র ল্যাব অ্যাসিস্ট্যান্ট' পদের জন্য যোগ্য। কম্পিউটার সার্বেস, ইলেক্ট্রিক্যাল, বা, সিভিল ইঞ্জিনিয়ারিংয়ের ডিপ্লোমা কোর্স পাশরাও যোগ্য। কম্পিউটার অ্যাপ্লিকেশনের জ্ঞান থাকতে হবে। বয়স হতে হবে ১৮ থেকে ২৭ বছরের মধ্যে। মূল মাইনে : ২১,৭০০-৬৯,১০০ টাকা। শূন্যপদ : ১১টি (জেনা: ৫, তঃজা: ১, তঃউঃজা: ১, ও.বি.সি. ৪)।

যে কোনো শাখার গ্রাজুয়েটেরা কম্পিউটার অ্যাপ্লিকেশনের জ্ঞান থাকলে 'জুনিয়র অ্যাসিস্ট্যান্ট' পদের জন্য যোগ্য। বয়স হতে হবে ১৮ থেকে ২৭ বছরের মধ্যে। মূল মাইনে : ২১,৭০০-৬৯,১০০ টাকা। শূন্যপদ : ১২টি (জেনা: ১০, তঃজা: ২, তঃউঃজা: ২, ও.বি.সি. ৫)।

১৯১ ক্লার্ক ও নার্স

১ পাতার পর পি

১৯১ জন লোক নিচ্ছে। কারা কোন পদের জন্য যোগ্য : ক্লার্ক : উচ্চমাধ্যমিক পাশরা 'জুনিয়র সূপারভাইজেন্ট' পদের জন্য আবেদন করতে পারেন। যে কোনো শাখার গ্রাজুয়েটেরা ২ বছর কাজের অভিজ্ঞতা থাকলেও যোগ্য। কম্পিউটার অফিস অ্যাপ্লিকেশন ও সেক্রেটারিয়েল প্রোগ্রামিং জ্ঞান থাকতে হবে। বয়স হতে হবে ১৮ থেকে ৩২ বছরের মধ্যে। মূল মাইনে : ৩৫,৪০০-১,১২,৪০০ টাকা। শূন্যপদ : ১৭টি (জেনা: ৭, তঃজা: ২, তঃউঃজা: ২, ও.বি.সি. ৩)।

বিজ্ঞপ্তি, কেমিস্ট্রি ও অসুস্থ বা, কম্পিউটার সার্বেস বিষয় নিয়ে ডিগ্রি কোর্স পাশরা 'জুনিয়র ল্যাব অ্যাসিস্ট্যান্ট' পদের জন্য যোগ্য। কম্পিউটার সার্বেস, ইলেক্ট্রিক্যাল, বা, সিভিল ইঞ্জিনিয়ারিংয়ের ডিপ্লোমা কোর্স পাশরাও যোগ্য। কম্পিউটার অ্যাপ্লিকেশনের জ্ঞান থাকতে হবে। বয়স হতে হবে ১৮ থেকে ২৭ বছরের মধ্যে। মূল মাইনে : ২১,৭০০-৬৯,১০০ টাকা। শূন্যপদ : ১১টি (জেনা: ৫, তঃজা: ১, তঃউঃজা: ১, ও.বি.সি. ৪)।

যে কোনো শাখার গ্রাজুয়েটেরা কম্পিউটার অ্যাপ্লিকেশনের জ্ঞান থাকলে 'জুনিয়র অ্যাসিস্ট্যান্ট' পদের জন্য যোগ্য। বয়স হতে হবে ১৮ থেকে ২৭ বছরের মধ্যে। মূল মাইনে : ২১,৭০০-৬৯,১০০ টাকা। শূন্যপদ : ১২টি (জেনা: ১০, তঃজা: ২, তঃউঃজা: ২, ও.বি.সি. ৫)।

SHRIRAM City

MONEY WHEN YOU NEED IT MOST

Let Your Career Shine with Prestige, Challenge & Money

Shriram City Union Finance Ltd. is one of the fastest growing NBFC in India with demonstrated records, in providing superlative financial services in every segment of economy, & as a company we do not offer only the job but a steady career for our employees. We are looking for the team mates with flair of matured business sense & sincerity for the following positions are across all locations of Asansol, Burdwan, Durgapur, Kharagpur, Mednipur, Krishnanagar, Ranaghat & Palashi, Howrah, South Kolkata & Central Kolkata, Barasat, Baruipur, Thakurpukur, Diamond Harbour.

MARKETING EXECUTIVE

BUSINESS LOAN / PERSONAL LOAN

- Good Communication Skill & Integrity To Create Career In Future. Age : 24 To 30
- Graduation In Any Stream Basic Knowledge Ms-excel & Ms-word
- Laptop & Own Two Wheeler Compulsory-Android Phone

RECOVERY EXECUTIVE

- Good Communication Skill & Integrity To Create Career In Future. Age 25 To 30
- Graduation In Any Stream Basic Knowledge Ms-excel & Ms-word
- Guarantors -2- Indemnity Bond Formality On Stamp Paper Compulsory Provide Once Selected & Ready 2 Good Financial Guarantors

CREDIT EXECUTIVE

- Good Communication Skill & Integrity To Create Career In Future. Age 25 To 32
- Graduation In Any Stream Preferable Knowledge Pivot/v-look Up (ms-excel Skills)

Minimum 1 or 2 Year Experience required..

SHRIRAM CITY UNION FINANCE LTD.

CIN : L65191TN1986PLC012840

Interview Date 9th April.2018 TIME :10.30 AM to 3.30 PM.
Landmark" 7Building, 1st Floor, Opposite City Central Library
Shahid Khudiram Sarani, City Centre, **Durgapur-713216.**
Tel. 0343-2547654/8617635143

Interview Date 10th April.2018 TIME :10.30 AM to 3.30 PM.
G.p.auto Centre 2nd Floor, R.N.Tagore Road (High Street)
Krishnanagar Nadia 741101. Tel.0347-2255033/8388992081

Interview Date 11th April.2018 TIME :10.30 AM to 3.30 PM.
9th floor, Mira Tower, Salt Lake, Sector 5, **Kolkata - 700091.**
Tel.033-40347113/7003268997

Interview Date 12th April.2018 TIME :10.30 AM to 3.30 PM.
Atwal Real Estate Pvt Ltd, OT Road India, Post Office Inda,
Ps- Kharagpur Town, Near **Kharagpur, College Distt.**
Paschim Medinipur. Pin Code 721305. **Tel. 7866891715/9332466650**

সাধারণ জ্ঞান

সাম্প্রতিক ঘটনা

১। ২০১৮ সালে 'রাষ্ট্রপুঞ্জ'এর তরফ থেকে করা বিশ্বের ১৫৬টি দেশের সুখ সমীক্ষায় ভারতের স্থান কত — ১৩৩।

২। ২০১৮ সালে কে 'নাইটহুড



সম্মান' পেলেন — 'বিটলস' তারকার রিডো স্টার।

৩। পাক-ই-স্তানের বায়ুসেনা প্রধান এখন কে — আনওয়ার খান।

৪। ভারতের কোন রাজ্যের মুখ্যমন্ত্রী সম্প্রতি রাজ্যের প্রভাবশালী লিঙ্গায়ত জাতকে আলাদা ধর্ম হিসাবে স্বীকৃতি দিলেন — কর্নাটকের মুখ্যমন্ত্রী সিদ্ধারামাইয়া।

৫। ক্যান্সারের চিকিৎসার জন্য দেশের সব সরকারি হাসপাতালের মধ্যে প্রথম অত্যাধুনিক প্রযুক্তির রেডিও থেরাপি যন্ত্র বসতে চলেছে পশ্চিমবঙ্গের ৪টি সরকারি হাসপাতালে। এই যন্ত্রটির নাম কী — 'লিনার অ্যাকসিলারেটর' বা, 'লিন্যাক'।

৬। কোন দেশে ষোড়াদের জন্য এই প্রথম পাঁচতারা রিসর্ট বা, আস্তবল চালু হল — কাতারে।

৭। ইন্ডিয়ান কাউন্সিল অফ ফরেষ্ট্রি রিসার্চ অ্যান্ড এডুকেশন'এর (ICFRE) সদর দফতর ভারতের কোন শহরে আছে — দেহাদুন।

৮। 'বিশ্ব কবিতা দিবস' কবে পালিত হয় — ২১ মার্চ।

৯। ২০১৮ সালে 'আন্তর্জাতিক সুখ দিবস'এর থিম কী ছিল — শেয়ার হ্যাপিনেস।

১০। ঝাড়খণ্ডের কোন জেলায় সম্প্রতি কেন্দ্রীয় সরকার 'প্রাস্টিক উদ্যান' গড়ার অনুমোদন দিয়েছে — দেওঘর।

১১। ২০১৯ সালে ভারতের কোন রাজ্য 'ভারতীয় বিজ্ঞান কংগ্রেস'

(ISC) আয়োজন করতে চলেছে — মধ্য প্রদেশ।

১২। ২০১৮ সালে ভারতের কোন রাজ্যে 'নবকলেবর উৎসব' অনুষ্ঠিত হয়েছে — ওড়িশা।

১৩। ২০১৮ সালে ভারতের কোন শহর 'ন্যাশনাল কনফ্রেড অন মাইনস অ্যান্ড মিনারেলস' আয়োজন করেছে — নয়াদিল্লি।

১৪। প্রখ্যাত হিন্দি কবি কেদারনাথ সিং (৮৪ বছর) কবে মারা যান — ২০১৮ সালের ১৯ মার্চ।

১৫। ২০১৮ সালে ভারতের কোন রাজ্য সপ্তম 'মহিলা বিজ্ঞান কংগ্রেস' (WSC) আয়োজন করেছে — মণিপুর।

১৬। 'বিশ্ব চড়াই দিবস' কবে পালিত হয় — ২০ মার্চ।

১৭। সুনীল শর্মা (৪৯ বছর), যিনি ২০১৮ সালের ১৯ মার্চ মারা গেলেন, তিনি কোন পেশার সঙ্গে যুক্ত ছিলেন — সাংবাদিকতা।

১৮। 'বিশ্ব যক্ষ্মা দিবস' কবে পালিত হয় — ২৪ মার্চ।

১৯। সংশোধনাগারে কয়েদির সঙ্গে পরিজনের কথা বলার সুবিধার জন্য ভারতের কোন রাজ্যে সম্প্রতি 'ই-মুলাকাত পরিষেবা' চালু হল — পশ্চিমবঙ্গ (এই পরিষেবার ফলে এবার বাড়িতে বসেই পরিচিতরা নির্দিষ্ট সময়ে স্মার্ট ফোনের মাধ্যমে সংশ্লিষ্ট বন্দিদের সঙ্গে কথা বলতে পারবেন)।

২০। ২০১৮ সালে ইউএস এয়ার কোয়ালিটি ইনডেক্স'এর (AQI) সমীক্ষার তথ্য অনুযায়ী, বিশ্বের সবথেকে দূষিত নগরীর তালিকায় কোন দেশের কোন শহর শীর্ষ স্থানে রয়েছে — নেপালের রাজধানী কাঠমান্ডু শহর।

২১। জনসংযোগে সেরা হওয়ার জন্য সম্প্রতি কোন প্রচারবিভাগ মার্কিন যুক্তরাষ্ট্রের অন্যতম শ্রেষ্ঠ সম্মান পেল — 'উই আর শিখ' প্রচারবিভাগ (মার্কিন যুক্তরাষ্ট্রে শিখদের ওপর অত্যাচার কমানোর উদ্দেশ্যে এই প্রচারবিভাগ তৈরি করা হয়েছিল)।

২২। চিনের প্রধানমন্ত্রী এখন কে —



লি কেকিয়াং।

২৩। কে সম্প্রতি পাক-ই-স্তানের সেনেটে বিরোধী দলনেত্রীর পদে এলেন — 'পাক-ই-স্তান পিপলস পার্টির (PPP) নেত্রী শেরি রহমান (পাক সেনেটে এই প্রথম কোনো মহিলা এই পদ পেলেন)।

২৪। 'পূর্ব রেল'এর ডিরেক্টর জেনারেল অফ অডিট এখন কে — সায়ন্তনী জামা।

২৫। 'সুপ্রিম কোর্ট' স্বেচ্ছামত্বের পক্ষে রায় দেওয়ার পর কে সম্প্রতি ভারতের প্রথম ব্যক্তি হিসাবে নিজের লিভিং উইল নথিভুক্ত করলেন — আইনজীবী শরদকুমার ত্রিপাঠী (তবে নিজের লিভিং উইলে পরিবারের কেউ নন, শরদকুমার নাম রেখেছেন তাঁর জুনিয়র অমিতেশ সিংয়ের)।

২৬। মায়ানমারের প্রথম গণতান্ত্রিক পদ্ধতিতে নির্বাচিত প্রেসিডেন্ট সম্প্রতি পদত্যাগ করলেন। তাঁর নাম কী — হথিন কিয়াও।

২৭। ২০১৮ সালে 'বিশ্ব যক্ষ্মা দিবস'এর থিম কী ছিল — ওয়াস্টেড : লিডারস ফর আ টিবি-ফ্রি ওয়ার্ল্ড।

২৮। ২০১৮ সালে, ১০৫তম 'ভারতীয় বিজ্ঞান কংগ্রেস'এ (ISC) কোন ভারতীয় সংস্থা 'সর্বাধিক তথ্যবহুল প্যাভিলিয়ন'এর সম্মান পেল — ডিফেন্স রিসার্চ অ্যান্ড ডেভেলপমেন্ট অর্গানাইজেশন (DRDO)।

২৯। ভারতের কোন রাজ্যে সম্প্রতি বিশ্বের সবথেকে দীর্ঘতম বেলেপাথরের গুহা আবিষ্কৃত হয়েছে — মেঘালয়।

৩০। ২০১৮ সালে 'পঞ্চম ভারত মাইজে সম্মেলন' ভারতের কোন শহরে অনুষ্ঠিত হয়েছে — নয়াদিল্লি।

৩১। ২০১৮ সালে কে 'অ্যাবেল পুরস্কার' পেলেন — মার্কিন-কানাডিয়ান অঙ্কবিদ রবার্ট ফেলান ল্যাংল্যান্ডস।

৩২। বাংলাদেশের স্বাধীনতা দিবস কবে পালিত হয় — ২৬ মার্চ।

৩৩। পেরুর প্রেসিডেন্ট এখন কে —

মার্টিন আলবের্তো ভিজকারা কর্নেজো।

৩৪। টেলিকম পরিষেবা দেওয়ার ক্ষেত্রে সারা দেশের মধ্যে পশ্চিমবঙ্গের স্থান কত — ১৩ (এক্ষেত্রে দেশের মধ্যে শীর্ষে রয়েছে দিল্লি)।

৩৫। ২০১৮ সালে ভারতের কোন রাজ্য 'রাষ্ট্রীয় রাইফেলস দ্বিবার্ষিক সম্মেলন' আয়োজন করেছে — জম্মু-কাশ্মীর।

খেলাধুলা

৩৬। ২০১৮ সালে 'বে হিলে আর্নল্ড পামার আমদ্রুপী টুর্নামেন্ট'এ চ্যাম্পিয়ন হলেন ররি ম্যাককলরয়।

৩৭। ২০১৮ সালে 'ইন্ডিয়ান ওয়েলস'এ মহিলাদের সিঙ্গেলসে কে চ্যাম্পিয়ন হলেন — জাপানের নাওমি ওসাকা (রাশিয়ার দারিয়া কাসাতকিনাকে ৬-৩ ও ৬-২ ব্যবধানে হারিয়ে)।


৩৮। ২০১৮ সালে 'সিঙ্গাপুর জাতীয় এজ গ্রুপ সীতার চ্যাম্পিয়নশিপ'এ ৫০ মিটার ফ্রিস্টাইলে কে সোনার পদক পেলেন — ভারতের বীরদয়াল খাড়ে।

৩৯। ২০১৮ সালে 'অল ইংল্যান্ড ওপন ব্যাডমিন্টন'এ পুরুষদের সিঙ্গেলসে কে চ্যাম্পিয়ন হলেন — শি যুকি (চিনের তারকা লিন ডানকে ২১-১৯, ১৬-২১ ও ২১-৯ ব্যবধানে হারিয়ে)।

৪০। খেলার মাঝেই বৃকে বল লেগে ফ্রোয়েশিয়ান ফুটবলার ক্রুনো বোবান (২৫ বছর) কবে মারা যান — ২০১৮

সালের ২৪ মার্চ।

৪১। ২০১৮ সালে 'এশিয়ান বিলিয়ার্ডস চ্যাম্পিয়নশিপ'এ কে চ্যাম্পিয়ন হলেন




— ভারতের পঙ্কজ আর্জন আদবানী (বি. ভাস্করকে ৬-১ ব্যবধানে হারিয়ে)।

৪২। ২০১৮ সালে 'গোল্ড কোস্ট কমন্ওয়েলথ গেমস'এর উদ্বোধনী অনুষ্ঠানে কে ভারতীয় দলের পতাকা বহন করেছেন — ভারতের ব্যাডমিন্টন খেলোয়াড় পুসারলা ভেঙ্কটা সিদ্ধু।

৪৩। ২০১৮ সালে সিডনিতে অনুষ্ঠিত 'জুনিয়র শ্যাটিং বিশ্বকাপ'এ মেয়েদের ১০ মিটার এয়ার পিস্তল ব্যক্তিগত বিভাগে কে সোনার পদক পেলেন — ভারতীয় শ্যটার মনু ভাস্কর।

৪৪। ২০১৮ সালে 'জাতীয় হকি চ্যাম্পিয়নশিপ'এ কোন দল চ্যাম্পিয়ন হল — পঞ্জাব (পেট্রোলিয়াম স্পোর্টস প্রমোশন বোর্ডকে ২-১ ব্যবধানে হারিয়ে)।

৪৫। ২০১৮ সালে 'অস্ট্রেলিয়ান গ্র্যান্ড প্রিন্স'এ কে চ্যাম্পিয়ন হলেন —




জার্মান রেসিং ড্রাইভার সেবাস্তিয়ান ভেটেল।

৪৬। ২০১৮ সালে 'বিশ্বকাপের যোগ্যতা অর্জন টুর্নামেন্ট'এ কোন দল চ্যাম্পিয়ন হল — আফগান-ই-স্তান (ওয়েস্ট ইন্ডিজকে ৭ উইকেটে হারিয়ে)।

সাধারণ বিজ্ঞান

৪৭। 'মাইক্রো প্রসেসর' কে আবিষ্কার করেন — রবার্ট ননসেন্ড গার্ডন মুর।

৪৮। 'ক্যান্সার ডেড' কোন বিজ্ঞানীর



গবেষণার ফসল — হোমি জাহাঙ্গীর জহা।

৪৯। কী থেকে রেয়ন তৈরি করা হয় — সুলোজ।

৫০। কোন জাতীয় শস্য মাটিতে নাইট্রোজেনের পরিমাণ বাড়তে সাহায্য করে — ডাল জাতীয় শস্য।

৫১। কোনো মৌলের যোজ্যতা স্থির

করতে একক হিসাবে কী ধরা হয় —

হাইড্রোজেনের যোজ্যতা।

৫২। পোড়া চূনের রাসায়নিক নাম কী —

ক্যালসিয়াম অক্সাইড।

৫৩। সব আলোকজ্জ্বল বিজ্ঞাপনের ক্ষেত্রে কোন গ্যাস ব্যবহার করা হয় — নিয়ন।

৫৪। কোনো গ্যাসকে তরলে পরিণত করার শর্ত কী কী — কম তাপমাত্রা ও উচ্চ চাপ।

৫৫। কোন মৌল দেশলাই তৈরিতে ব্যবহৃত হয় — ফসফরাস।

৫৬। অ্যাসপিরিনের রাসায়নিক নাম কী — অ্যাসিটাইল স্যালিসাইলিক অ্যাসিড।

৫৭। কীসের মধ্যে দিয়ে শব্দ সবথেকে দ্রুত গতিতে যায় — ইস্পাত।

৫৮। 'ডেসিবেল' কীসের একক — শব্দের প্রাবল্য।

৫৯। অনুবীক্ষণ যন্ত্রে কোন লেন্স ব্যবহৃত হয় — উত্তল লেন্স।

৬০। তিমির শ্বাস অঙ্গের নাম কী — ফুসফুস।

৬১। মেডেল বর্ণিত জিনের প্রকৃতি কী — ফ্যাক্টর।

৬২। স্নায়ুকোশের কোথায় নিজল দানা দেখা যায় — কোশদেহ অংশে।

৬৩। 'ফোবিয়া সেন্ট্রালিস' মানুষের দেহের কোন অঙ্গে দেখা যায় — চোখে।

৬৪। মানুষের চোখের কোন কোশ রাত্রিকালীন দৃষ্টিতে সাহায্য করে — রড কোশ।

ইতিহাস

৬৫। মহাকবি কালিদাস কোন যুগের কবি ছিলেন — গুপ্ত যুগ।

৬৬। 'দায়ভাগ' গ্রন্থের রচয়িতা কে ছিলেন — জীমুতবাহন।

৬৭। 'কৌলিন্য প্রথা' কে প্রচলন করেন — বম্বাল সেন।

৬৮। পল্লব বংশের শেষ রাজা কে ছিলেন — অপরাজিত।

৬৯। 'গান্ডা যুদ্ধ' কথটি কার উক্তি —



ওয়াল্টার লিপম্যান।

৭০। রাশিয়ায় কার নেতৃত্বে সমাজতান্ত্রিক বিপ্লব হয় — লেনিনের।

৭১। 'বান্দুং সম্মেলন' কবে অনুষ্ঠিত হয় — ১৯৫৫ সালে।

৭২। কাদের 'নর্ডিক' বলা হত — আর্বাঁদের।

৭৩। 'নানাঘাট শিলালিপি' কার সময়ে খোদিত হয় — সাতবাহন রাজা প্রথম সাতকর্ণী।

৭৪। কলহন রচিত 'রাজতরঙ্গিনী' গ্রন্থ থেকে ভারতের কোন রাজ্যের ইতিহাস সম্পর্কে জানা যায় — কাশ্মীরের ইতিহাস।


৭৫। 'ঋগ্বেদ'এ 'বলি' শব্দটি কী অর্থে

ব্যবহৃত হত — কর নেওয়া অর্থে।

৭৬। 'নিগম' কথার অর্থ কী — ঋণিক

সঙ্ঘ।

৭৭। কার শাসনকালে 'রাজস্ব বোর্ড'



স্থাপিত হয় — লর্ড ওয়ারেন হেস্টিংস।

৭৮। কোন আইনের মাধ্যমে ভারতে ইস্ট ইন্ডিয়া কোম্পানির একচেটিয়া বাণিজ্যের অবসান ঘটে — ১৮১৩ খ্রিস্টাব্দের চার্টার আইন।

৭৯। 'ফরাজি আন্দোলন' কে শুরু করেছিলেন — হাজি শরিয়ত উল্লাহ।

৮০। ভারতের কোন অঙ্গরাজ্যে 'ফরাজি আন্দোলন' আত্মপ্রকাশ করে — বাংলায়।

৮১। 'সত্যার্থ প্রকাশ' গ্রন্থের রচয়িতা কে — স্বামী দয়ানন্দ সরস্বতী।

৮২। 'ভারতসভা'র প্রতিষ্ঠাতা কে — সুরেন্দ্রনাথ বন্দ্যোপাধ্যায়।

ভূগোল

৮৩। 'শত্রুঞ্জয়' নদীর উৎপত্তিস্থল কোথায় — গির পর্বত।

৮৪। হলদিয়া মৌরিগ্রামে কী সংরক্ষণ করা হয় — তেল।

৮৫। ডুয়ার্সের স্থানীয় নাম কী — মোরং।

৮৬। ভারতের খনিজ তেল প্রথম কোথায় আবিষ্কৃত হয় — ডিগবয়।

৮৭। নিরক্ষরেখায় পৃথিবীর গতিবেগ কত — ঘন্টায় ১,৬৩০ কিলোমিটার।

৮৮। আবর্তন গতির অন্য নাম কী — আক্ষিক গতি।

৮৯। বছরের কোন দিনটি 'জলবিষুব' নামে পরিচিত — ২৩ সেপ্টেম্বর।

৯০। গঙ্গা নদীর দৈর্ঘ্য কত — ২,৫১০ কিলোমিটার।

৯১। গ্রাফাইট কোন শিলার রূপান্তর — পাললিক শিলায়।

৯২। হর্নরেন্ড কোন জাতীয় শিলা — রূপান্তরিত।

৯৩। নদীখাত খুব সংকীর্ণ ও গভীর হলে তাকে কী বলে — মিয়েস্তার।

৯৪। হিমবাহের ক্ষয়কার্যের ফলে কোন হ্রদ সৃষ্টি হয় — করি হ্রদ।

৯৫। লুনি নদী কোথায় পড়েছে — কচ্ছের রাণ অঞ্চলে।

৯৬। ভারতের উচ্চতম জলপ্রপাতের নাম কী — গারসোপ্পা/যোগ।

৯৭। শাল, সেঙ্গু, চন্দন প্রভৃতি গাছ কী জাতীয় বনভূমির অন্তর্গত — পর্ণমোচী বনভূমি।

৯৮। বায়ুর চাপ কোন যন্ত্রের সাহায্যে মাপা হয় — ব্যারোমিটার।

৯৯। 'হ্যারিকেন' কী — পশ্চিম ভারতীয় ধীপপুঞ্জের ক্রান্তীয় ঘূর্ণবাত।

১০০। বায়ুমণ্ডলে শতকরা কত ভাগ নাইট্রোজেন থাকে — শতকরা ৭৮ ভাগ।

চাকরি

নিজস্ব প্রতিনিধি : সারা বিশ্বজুড়ে খাবার নিয়ে নানান পরীক্ষানিরীক্ষা চলছে। আর এই প্রেক্ষাপটে ফুড সায়েন্স বা, ফুড ম্যানেজমেন্ট আজ এক গুরুত্বপূর্ণ পেশা হয়ে উঠেছে। অল্পশিক্ষিত থেকে মেধাবী ও উচ্চশিক্ষিত সব ধরনের ছেলেমেয়েরা এই পেশায় বিভিন্ন পদে বৈচিত্র্যময় কেরিয়ার গড়ার সুযোগ নিতে পারেন।

ফুড ম্যানেজমেন্ট কী : খাদ্য ব্যবস্থাপনা মানে শুধুমাত্র ভালো-ভালো খাবার তৈরি করে রসনার তৃপ্তি করা নয়। ফুড ম্যানেজমেন্ট বা, ব্যাপক অর্থে ফুড সায়েন্স হল বহুমুখী বিষয়ের

সমষ্টি। এর একদিকে যেমন আছে খাদ্য তৈরি, খাদ্যের গুণগতমান পরীক্ষা, খাদ্য প্রক্রিয়াকরণ, খাদ্যের পুষ্টিগুণ নির্ণয়, জনস্বাস্থ্য, সুস্বাদু ও সুপাচ্য পথ্য আর থামোময়ন তেমনি অন্যদিকে আছে রসায়ন, পদার্থবিজ্ঞান, শরীরবিদ্যা, জীববিদ্যা, শিশুবিকাশ, সমাজতত্ত্ব, ফুড টেকনোলজি, মানবসম্পদ উন্নয়ন, খাদ্য প্রযুক্তি ও হোমসায়েন্স। এই ব্যবস্থাপনার মূল লক্ষ্য হল, খাদ্য ব্যবস্থাপনার মাধ্যমে মানুষের জীবনের উন্নতি ঘটানো। ন্যূনতম সম্পদকে কাজে লাগিয়ে সময়, শক্তি, অর্থ, স্থান সাশ্রয় করে মানুষের খাদ্যনীতি পরিচালনা ও ব্যবস্থাপনা। এই কাজের গুরুত্বপূর্ণ পদ : ফুড সায়েন্স বা, ফুড ম্যানেজমেন্ট বিভিন্ন শাখার সমন্বয়ে গড়ে ওঠায় এই ক্ষেত্রে কেরিয়ার গড়ার সুযোগ আছে এইসব পদে : ফুড প্রসেসর, ফুড টেকনোলজিস্ট, কোয়ালিটি কন্ট্রোলার, ফুড ম্যানেজার, নিউট্রিশনিস্ট, ডায়ারেটিক্স, ফুড প্রিজার্ভার, ক্রিটিক্যাল কেয়ার নিউট্রিশন ম্যানেজার, ফুড কন্সাল্ট্যান্ট, ফুড রিসার্চ অ্যান্ড ডেভেলপমেন্ট, ফুড রিসার্চ অ্যানালিস্ট, ফুড সায়েন্সিস্ট, অ্যানালিস্ট অ্যান্ড প্রফেসর ও ফ্যামিলি কাউন্সেলর।

কাজের ক্ষেত্র : ওপরের ওইসব পদে চাকরির সুযোগ আছে এইসব সংস্থায় : (ক) সরকারি সংস্থা : কেন্দ্রীয় ও রাজ্য সরকারের স্বাস্থ্য ও পরিবার কল্যাণমন্ত্রক খাদ্য দপ্তরের অধীন বিভিন্ন প্রকল্প ও কর্মসূচিতে খাদ্য ও পুষ্টিনীতি পরিকল্পনা, রূপায়ণ, পরিচালনা ও তদারকির কাজের জন্য খাদ্য ও পুষ্টিবিজ্ঞানের পেশাদার লোক নেয়। (খ) হাসপাতাল : নামি বেসরকারি ও কর্পোরেট হাসপাতালে রোগীদের পথ্য তালিকা তৈরি, রোগ অনুযায়ী ও সুস্বাস্থ্যের জন্য খাদ্য তালিকা তৈরির জন্য নিউট্রিশনিস্ট ও ডায়ারেটেশিয়ান পদে লোক নেওয়া হয়।

(গ) শিল্পক্ষেত্র : নানান ধরনের খাদ্য তৈরির সংস্থা, বেভারেজ সংস্থা, ডেয়ারি, বেকারিতে খাদ্যপ্রক্রিয়াকরণ, খাদ্যপ্রযুক্তি, খাদ্যের গুণগতমান পরীক্ষা বিপণন ও গবেষণার কাজে লোক নেওয়া হয় ফুড টেকনোলজিস্ট কোয়ালিটি কন্ট্রোলার, ফুড প্রোডাকশন ম্যানেজার, প্রোজেক্ট ম্যানেজার, মার্কেটিং ম্যানেজার ও ফুড রিসার্চার পদে। (ঘ) হোটেল-রেস্তুরী : হোটেল, রেস্তুরী, হাসপাতাল, ক্যাটারিং, রেল, বিমান, কর্পোরেট অফিস, অর্থাৎ যে সব প্রতিষ্ঠানে ক্যাফিটিন বা, ক্যাফেটেরিয়া থাকে, সেখানে ফুড টেকনোলজির ছেলেমেয়েদের নেওয়া হয়।

(ঙ) স্বৈচ্ছাসেবী বা, উন্নয়নমূলক সংস্থা : বিভিন্ন স্বৈচ্ছাসেবী সংস্থা বা, উন্নয়নমূলক সংস্থায় শিশু, মহিলা আর বয়স্কদের প্রকল্পে খাদ্য তৈরি, পরিকল্পনা ও ব্যবস্থাপনার কাজে হোম সায়েন্সের প্রার্থী নেওয়া হয়।

(চ) ক্রিটিক্যাল কেয়ার নিউট্রিশন ম্যানেজমেন্ট : অসুস্থ মানুষদের জন্য এমন খাদ্যের ব্যবস্থা করা উচিত, যাতে তিনি ভালোবেসে তার পথ্যটি খেতে পারেন। যেমন, অনেকসময় দেখা যায় শরীরে যথেষ্ট পরিমাণে প্রোটিনের দরকার অথচ রোগী মাছ-মাংস-ডিম ভুঁয়েও দেখছেন না। এরকম অবস্থায় এমন ধরনের নিরামিষ খাদ্যের কথা ভারতে হবে, যে সব খাদ্যে প্রোটিনের উপাদান বেশি থাকে। একইসঙ্গে সংশ্লিষ্ট রোগীর অসুখ ও তার মনস্তত্ত্ব অনুসারে খাদ্যের উপকরণ নির্বাচন যেমন গুরুত্বপূর্ণ, তেমনি জরুরি যাবতীয় উপকরণের সাহায্যে খাদ্যটিকে তৈরি করাও দরকার। এজন্য বড় হাসপাতাল, নার্সিংহোমে ক্রিটিক্যাল কেয়ার নিউট্রিশন ম্যানেজমেন্টের পেশাদার লোক নেওয়া হয়। আগামী দিনে আরো অনেক স্পেশালাইজড লোকের দরকার হবে।

(ছ) শিক্ষকতা ও গবেষণা : হোম সায়েন্স, ফুড সায়েন্স, ফুড টেকনোলজির পোস্ট-গ্রাজুয়েট কোর্স পাশ ছেলেমেয়েদের কলেজ বা, বিশ্ববিদ্যালয় ও বিভিন্ন শিক্ষা প্রতিষ্ঠানে শিক্ষকতা ও গবেষণার ভালো সুযোগ আছে।

(জ) স্বনিযুক্তির ক্ষেত্র : ধরাধারা চাকরি করতে না চাইলে নিজের উদ্যোগে করতে পারেন ক্যাটারিং সার্ভিস, রেস্তুরী, খাদ্য উৎপাদন ও প্রক্রিয়াকরণ কেন্দ্র, ফুড টেকচার ইত্যাদি। খাদ্য প্রক্রিয়াকরণের ব্যবসা করতে চাইলে সরকারি প্রকল্প থেকে আর্থিক সাহায্য ও ব্যাঙ্ক থেকে ঋণ

মাধ্যমিক থেকে ডিগ্রি কোর্স যোগ্যতার ছেলেমেয়েদের জন্য

খাদ্য প্রক্রিয়াকরণ ও ব্যবস্থাপনায় কাজের সুযোগ

এই মুহূর্তে খাদ্য প্রক্রিয়াকরণ সবচেয়ে সম্ভাবনাময় শিল্প। এই শিল্পে চাকরি ও স্বনিযুক্তির সুযোগ নিয়ে এই প্রতিবেদনে আলোচনা করা হল।



পাওয়া যায়।

পেশা অনুসারে কোর্স : কাজের প্রকৃতি ও পদ অনুসারে পেশাগত যোগ্যতা দরকার হয়। ফুড ম্যানেজমেন্টের ক্ষেত্রে পেশাদার এইসব কোর্স পড়ানো হয় : হোম সায়েন্স, নিউট্রিশন অ্যান্ড ডায়ারেটিক্স, ফুড টেকনোলজি, ফুড প্রসেসিং, ক্রিটিক্যাল কেয়ার নিউট্রিশন ম্যানেজমেন্ট।

হোম সায়েন্স (জেনারেল / অনার্স) : সায়েন্স বা, হোম সায়েন্স নিয়ে উচ্চমাধ্যমিক পাশের পর হোম সায়েন্সের ডিগ্রি কোর্স পড়া যায়। ডিগ্রি কোর্স পড়ানো হয় এইসব কলেজে : বিদ্যাসাগর কলেজ, কলকাতা কলেজ, দেশবন্ধু কলেজ ফর গার্লস, বেহালা কলেজ, যোগমায়াসেবী কলেজ, জে ডি বিড়লা ইনস্টিটিউট, কাঁচড়াপাড়া কলেজ।

এই বিষয়ে মাস্টার ডিগ্রি কোর্স পড়ানো হয় কলকাতা বিশ্ববিদ্যালয়ের বিহারীলাল কলেজ অফ সায়েন্সে। ডিগ্রি কোর্সের প্রাপ্ত নম্বরের ভিত্তিতে প্রার্থী বাছাই করা হয়।

ক্রিটিক্যাল নিউট্রিশন ও ডায়ারেটিক্স : পিওর সায়েন্স বা, বায়ো-সায়েন্স বা, নিউট্রিশন বিষয় নিয়ে উচ্চমাধ্যমিক পাশ ছেলেমেয়েরা ক্রিটিক্যাল অ্যান্ড ডায়ারেটিক্স বিষয়ে ডিগ্রি কোর্স পড়তে পারেন। এই বিষয় নিয়ে পড়ানো হয় এইসব কলেজে : গোস্বেল মেমোরিয়াল কলেজ, বিদ্যাসাগর কলেজ ফর উইমেন, বিহারীলাল কলেজ, মহারানী কাশীশ্বরী কলেজ।

নিউট্রিশন ও ডায়ারেটিক্স বিষয়ে পোস্ট-গ্রাজুয়েট ডিপ্লোমা কোর্স পড়ানো হয় অল ইন্ডিয়া ইনস্টিটিউট অফ হেল্থ অ্যান্ড হাইজিন, চিত্তরঞ্জন অ্যান্ডিনিউ, কলকাতা - ৭০০ ০৭৩।

ফুড টেকনোলজি : কেমিস্ট্রি বিষয় নিয়ে বি.এসসি. পাশ ছেলেমেয়েরা ফুড টেকনোলজির ডিগ্রি কোর্সে ভরতি হতে পারেন। পড়ানো হয় : ফুড টেকনোলজি অ্যান্ড বায়ো কেমিক্যাল ইঞ্জিনিয়ারিং বিভাগ, যাদবপুর বিশ্ববিদ্যালয়, কলকাতা- ৩২। এছাড়াও ফুড টেকনোলজি পড়ানো হয় এইসব প্রতিষ্ঠানে : খড়্গপুর আই.আই.টি, জে.আই.এস ইন্ডিয়াসিটি, টেকনো ইন্ডিয়া।

খাদ্য প্রক্রিয়াকরণ শিল্পের পেশায় আসতে চাইলে

ভারতের খাদ্য প্রক্রিয়াকরণ শিল্পকে 'সানরাইজ ইন্ডাস্ট্রি' হিসাবে চিহ্নিত করা হয়। দক্ষতা ও যোগ্যতা অনুসারে এই শিল্পে সব ধরনের ছেলেমেয়েদের বিভিন্ন ক্ষেত্রে কাজের সুযোগ আছে। তবে কেরিয়ার গড়তে চাইলে বিষয়টি সম্পর্কে ভালো ধারণা থাকা দরকার। গোটা বিষয়টি হল ফুড সায়েন্স বা, খাদ্য বিজ্ঞান। খাদ্য বিজ্ঞান হল একটা ধারণা। কোন খাদ্য কী কী উপাদান দিয়ে তৈরি, ও তার গঠন কেমন এটাই

খাদ্যবিজ্ঞানের মূল কথা। খাদ্য বিজ্ঞানের অন্তর্ভুক্ত খাদ্য প্রক্রিয়াকরণ, খাদ্য প্রযুক্তি ও খাদ্য ব্যবস্থাপনা হল ফলিত বিষয়। কাঁচামাল, সবজি বা, যেকোনো খাদ্যকে বিশেষ রাসায়নিকের সঙ্গে মিশিয়ে অন্যরকম খাদ্য হিসাবে রূপান্তর ঘটানোই হল খাদ্য প্রক্রিয়াকরণ। খাদ্য ব্যবস্থাপনা হল সংশ্লিষ্ট শিল্পক্ষেত্রে মানব সম্পদ ও আর্থিক বিষয়ের ব্যবস্থাপনা। খাদ্য প্রক্রিয়াকরণ করার পদ্ধতির ক্ষেত্রে যে প্রযুক্তির আশ্রয় নেওয়া হয়, সেটাই খাদ্য প্রযুক্তি বা, ফুড টেকনোলজি। দ্বিতীয় বিশ্বযুদ্ধের সময় যুদ্ধক্ষেত্রে জোয়ানদের তিনজাত খাবার সরবরাহ করা হত, যাতে খাবার নষ্ট না হয়। মূলত এই ধারণা থেকেই খাদ্য প্রযুক্তির বিষয়টি আসে। পরবর্তীকালে বাণিজ্যিকীকরণের জন্য বিভিন্ন খাদ্য প্রস্তুতকারক সংস্থা এই প্রযুক্তির আশ্রয় নেয়। যেকোনো ফসল বা, সবজি উৎপাদন থেকে গুদামজাতকরণ এমনকি বিপণনের সময় পর্যন্ত বিভিন্ন ক্ষেত্রে অন্ততপক্ষে ৪০% নষ্ট হয়। এটার মধ্যে যেমন অপচয় আছে, তেমনই আছে পচন। খাদ্যকে দ্রুত পচানোর হাত থেকে রক্ষা করা ও দীর্ঘস্থায়ী ব্যবহারযোগ্য করে তোলার জন্য খাদ্য প্রযুক্তির ব্যবহার হয়। আজকাল যেকোনোই খাদ্য প্রস্তুতকারক সংস্থা এই পদ্ধতির সাহায্য নিচ্ছে। খাদ্য প্রক্রিয়াকরণ ক্ষেত্রের মধ্যে আছে : ফল ও সবজি প্রক্রিয়াকরণ, মাছ ও মাছজাত দ্রব্য প্রক্রিয়াকরণ, মাংসজাত দ্রব্য প্রক্রিয়াকরণ, নরম পানীয় ও অন্যান্য ফলের রসের প্রক্রিয়াকরণ, চটজলদি খাবার প্রক্রিয়াকরণ, দুগ্ধ ও দুগ্ধজাত খাবার প্রক্রিয়াকরণ।

বড় ও বহুজাতিক খাদ্য প্রস্তুতকারক সংস্থায় এই মুহূর্তে সবথেকে ভালো কাজের সুযোগ আছে ফুড সেফটি অডিটর, ফুড সেফটি অ্যান্ডিগোরেন্স, কোয়ালিটি কন্ট্রোলার, ফুড ল্যাবরেটরি টেকনিশিয়ান পদে। ফুড টেকনোলজির মাস্টার ডিগ্রি বা, ডিগ্রি কোর্স পাশ ছেলেমেয়েরা অডিটর, অ্যান্ডিগোরেন্স, কোয়ালিটি কন্ট্রোলার পদে চাকরি পেতে পারেন। অন্যদিকে ফুড প্রসেসিং টেকনোলজির ডিপ্লোমা কোর্স পাশ ছেলেমেয়েদেরও ছোটখাটো সংস্থায় ওইসব ক্ষেত্রের সহকারি পদে চাকরির সুযোগ আছে। বায়ো কেমিস্ট্রি বা, মাইক্রো বায়োলজি কিংবা বায়ো টেকনোলজি পাশ ছেলেমেয়েদের ফুড প্রসেসিং ল্যাবরেটরিতে ল্যাবরেটরি অ্যানালিস্ট হিসাবে কাজের সুযোগ আছে। পাশাপাশি যেকোনো খাদ্য প্রস্তুতকারক সংস্থা পণ্য বাছাই, চিহ্নিতকরণ ও পণ্য প্রস্তুতের পর তা লেবেলিংয়ের জন্য অল্প শিক্ষিত পাশ ছেলেমেয়েদের নেওয়া হয়। বিভিন্ন হাসপাতাল, নার্সিংহোম ও স্বাস্থ্যকেন্দ্রগুলোতে ফুড অ্যান্ড ক্রিটিক্যাল কেয়ার নিউট্রিশন ম্যানেজমেন্ট পাশ ছেলেমেয়েদের অনেক কাজের সুযোগ আছে ও ভবিষ্যতে এক্ষেত্রে আরও সুযোগ তৈরি হবে।

খাদ্য প্রক্রিয়াকরণ শিল্পে চাকরির তুলনায় ব্যবসার সুযোগ অনেক বেশি। সরকারি ভর্তুকি ও ব্যাঙ্ক ঋণ নিয়ে উদ্যমী ছেলেমেয়েরা স্থানীয় এলাকায় খাদ্য প্রক্রিয়াকরণের ছোটখাটো ইউনিট গড়ে তুলতে পারেন। সম্প্রতি কেন্দ্রীয় সরকারের বাজেটে খাদ্য প্রক্রিয়াকরণের ক্ষেত্রে ১০০% বিদেশি বিনিয়োগে সুযোগ দেওয়া হয়েছে। এইক্ষেত্রে উদ্যমীরা গ্রামের কৃষকদের সংঘবদ্ধ করে বিদেশি বিনিয়োগের সাহায্য নিয়ে বড় ধরনের উদ্যোগ গড়ে তুলতে পারেন। চিনে বিভিন্ন গ্রামে উদ্যমী ছেলেমেয়েরা এই ধরনের কৃষিভিত্তিক উদ্যোগ গড়ে তুলেছে। আগামী দিনে এ দেশেও এ ধরনের শিল্পের জোয়ার আসবে। বড় শিল্পের তুলনায় খাদ্য প্রক্রিয়াকরণে ক্ষুদ্র শিল্পে কর্মসংস্থানের সুযোগ অনেক বেশি থাকে। বড় শিল্পক্ষেত্রে পণ্য তৈরির জন্য অটোমোশনের সাহায্য নেওয়া হয়, সেক্ষেত্রে ক্ষুদ্র শিল্পক্ষেত্রে মানব সম্পদকে বেশি কাজে লাগানো হয়।

চাকরি বা, ব্যবসা — যাই করতে চান, তার জন্য এই ক্ষেত্রে প্রশিক্ষণ নেওয়াটা জরুরি। বিজ্ঞান শাখার উচ্চমাধ্যমিক পাশ ছেলেমেয়েরা জয়েন্ট এন্ট্রাপের মাধ্যমে ফুড টেকনোলজির ডিগ্রি কোর্সে ভরতি হতে পারেন। মাধ্যমিক পাশ ছেলেমেয়েরা JEXPO পরীক্ষার মাধ্যমে বিভিন্ন পলিটেকনিকে ফুড প্রসেসিং টেকনোলজির ডিপ্লোমা কোর্সে ভরতি হতে পারেন। ডিগ্রি ও পলিটেকনিকের ডিপ্লোমা কোর্সে ভর্তির জন্য ৬ মাসের একটি কাউন্সিলিং কোর্স শুরু করা হচ্ছে ড. সুভাষ মুখার্জি মেমোরিয়াল ইনস্টিটিউটে। ২০১৭ সালে যারা পরীক্ষা দেননি তারা এই প্রশিক্ষণ নিতে পারেন। এই পাশ বা, মাধ্যমিক যোগ্যতায় স্বল্পমোদি সার্টিফিকেট কোর্সে ভরতি হওয়া যায়। ব্যবসা করতে চাইলে গতানুগতিকতার বাইরে বেরিয়ে অন্য ধরনের খাদ্যপণ্য তৈরির কথা ভাবতে হবে। এক্ষেত্রে মাধ্যম রাখতে হবে ক্রেতাদের রুচি ও পছন্দের ওপর। খাদ্য প্রযুক্তি বিষয়টি বিজ্ঞানের অংশ, কিন্তু নতুন উদ্যোগ গড়ে তুলতে গেলে বৈজ্ঞানিক জ্ঞান, দৃষ্টিভঙ্গির পাশাপাশি থাকতে হবে সাহিত্যপ্রীতি বা, সৃজনশীল ক্ষমতা। এই ক্ষেত্রে যেকোনো ছোটখাটো উদ্যোগ গড়ে তুলতে চাইলে আগ্রহীরা সংশ্লিষ্ট জেলা শিল্পক্ষেত্রে যোগাযোগ করতে পারেন। এছাড়াও বিভিন্ন প্রকল্প ও সরকারি আর্থিক সাহায্যের বিষয় জানতে যোগাযোগ করতে পারেন এই ঠিকানার : খাদ্য প্রক্রিয়াকরণ শিল্প ও উদ্যান পালন বিভাগ, ময়ূধ ভবন, বিধাননগর, কলকাতা- ৭০০০৯১।

কোথায় কী কোর্স পড়ানো হয় :

ফুড টেকনোলজির ডিগ্রি ও মাস্টার ডিগ্রি কোর্স : (১) ফুড টেকনোলজি অ্যান্ড বায়ো কেমিক্যাল ইঞ্জিনিয়ারিং বিভাগ, যাদবপুর বিশ্ববিদ্যালয়, কলকাতা- ৭০০০৩২ (২) গুরুনানক ইনস্টিটিউট অফ টেকনোলজি, সোদপুর, (৩) টেকনো ইন্ডিয়া, সল্টলেক, (৪) হলদিয়া ইনস্টিটিউট অফ টেকনোলজি, হলদিয়া, (৫) ইন্ডিয়ান ইনস্টিটিউট অফ টেকনোলজি (IIT), খড়্গপুর। জয়েন্ট এন্ট্রাপের মাধ্যমে মেডিকেল কোর্সে ভরতি নেওয়া হয়। ডিগ্রি কোর্স পাশ করার পর GATE পরীক্ষার মাধ্যমে মাস্টার ডিগ্রিতে ভরতি হওয়া যায়।

ফুড টেকনোলজির ডিপ্লোমা কোর্স : ফুড প্রসেসিং টেকনোলজির ডিপ্লোমা কোর্স পড়ানো হয় রাজ্যের এইসব পলিটেকনিকে : (ক) এ.পি.সি. রায় পলিটেকনিক, যাদবপুর, (খ) ফালাকাটা পলিটেকনিক, জলপাইগুড়ি, (গ) মালদা পলিটেকনিক, মালদা, (ঘ) সাহিকপাড়া এ.আর.এম. পলিটেকনিক, মুর্শিদাবাদ, (ঙ) মীরমদন মোহনলাল গভর্নমেন্ট পলিটেকনিক, নদিয়া, (চ) জিয়াগঞ্জ কলেজ অফ ইঞ্জিনিয়ারিং অ্যান্ড ম্যানেজমেন্ট, মুর্শিদাবাদ।

স্বল্পমোদি কোর্স : এইট পাশ বা, মাধ্যমিক পাশ ছেলেমেয়েরা খাদ্য প্রক্রিয়াকরণের সার্টিফিকেট কোর্সে ভরতি হতে পারেন। খাদ্য প্রক্রিয়াকরণ শিল্পে ছোটখাটো উদ্যোগ গড়ে তোলার জন্য এই ধরনের প্রশিক্ষণ দেওয়া হয় এইসব প্রতিষ্ঠানে : (১) নরেন্দ্রপুর লোকশিক্ষা পরিষদ, মন্দির গেট, রামকৃষ্ণ মিশন, নরেন্দ্রপুর, কলকাতা- ৭০০১০৩। ফোন : (০৩৩) ২৪৭৭ ২০৭। (২) মাল্টি ডিসিপ্লিনারি ট্রেনিং সেন্টার, খাদি ও থামোদ্যোগ কমিশন, অভয় আশ্রম, বিরাটি, কলকাতা- ৭০০০৫১। ফোন : (০৩৩) ২৫৩৯ ০৫৫৪। (৩) প্রণবানন্দ ইনস্টিটিউট অফ ম্যানেজমেন্ট অ্যান্ড টেকনোলজি, ভারত সেবাশ্রম সঙ্ঘের উইং, ৮ অনিল মিত্র রোড, কলকাতা- ৭০০০১৯। ফোন : ৯৩৩১ ২৫ ৬৩৩৪। (৪) ড. সুভাষ মুখার্জি মেমোরিয়াল ইনস্টিটিউট, বেহালা ইন্ডাস্ট্রিয়াল স্টেট, ৬২০ ডায়মন্ডহারবার রোড, কলকাতা- ৭০০০৩৪। ফোন : ৯৮৩০৫ ২২০৭৯। এখানে বিভিন্ন ধরনের পঁাপড় তৈরির পাশাপাশি পটেটো চিপস, কুরকুরে, বিভিন্ন ধরনের আচার, জ্যাম-জেলি, গাজরের রসগোল্লা, সোয়াবিনের দুধ, দই তৈরি শেখানো হয়। এছাড়াও এখানে একটি ১ বছরের কর্মমুখি পেশাদার ট্রেনিং দেওয়া হয়। কোর্সের নাম মেডিসিনাল ফুড অ্যান্ড ক্রিটিক্যাল কেয়ার নিউট্রিশন ম্যানেজমেন্ট। বিজ্ঞানের যেকোনো শাখার ডিগ্রি কোর্স পাশ ছেলেমেয়েরা ভরতি হতে পারেন। (৫) বরফ শিকাকেন্দ্র, যাদবপুর বিশ্ববিদ্যালয়, কলকাতা- ৩২। এখানে ফুড প্রসেসিংয়ের অর্থেপ্রেনিওরশিপ ডেভেলপমেন্টের ট্রেনিং দেওয়া হয়।

রাজ্যের ১২১টি সরকারি আই.টি.আইয়ে

১ পাতার পর

এইসব ট্রেডে : কাপড়কাটা, মাসন, শীট মেটাল ওয়াকার, ওয়েল্ডার, পেইন্টার জেনারেল, ওয়্যারম্যান, কাটিং অ্যান্ড সিউরিং/সিউরিং টেকনোলজি। পেইন্টার জেনারেল ও ওয়্যারম্যান ট্রেড ২ বছরের আর অন্যান্য ট্রেড হল ১ বছরের।

গ্রুপ-ম : মাধ্যমিক পাশ ছেলেমেয়েরা আবেদন করতে পারেন। মাধ্যমিকে অঙ্ক ও বিজ্ঞান বিষয় না থাকলে ইঞ্জিনিয়ারিং ট্রেডের জন্য যোগ্য নন। 'এম' গ্রুপে ভর্তি হতে পারবেন এইসব ট্রেডে —

১ বছরের ট্রেডগুলি হল : মেকানিক (ডিজেল), ফাউন্ড্রি/ফাউন্ড্রিয়ার টেকনিশিয়ান, প্লাস্টিক প্রসেসিং অপারেটর, প্লাস্টার, মেকানিক মোটর সাইকেল, সার্ভিসার, কম্পিউটার হার্ডওয়্যার অ্যান্ড নেটওয়ার্ক মেন্টেন্যান্স, মেকানিক অটো বডি রিপেয়ার, ওয়েল্ডার পাইপ, বেকার অ্যান্ড কনফেকশনার, কম্পিউটার অপারেটর অ্যান্ড প্রোগ্রামিং অ্যাসিস্ট্যান্ট, ক্রাফটসম্যান ফুড প্রোডাকশন (জেনারেল)/ফুড প্রোডাকশন (জেনারেল), ডেপুটি টপ পারিশিং অপারেটর, ড্রেস মেকিং, ফ্যাশন টেকনোলজি/ফ্যাশন ডিজাইন টেকনোলজি, হেয়ার অ্যান্ড স্কিন কেয়ার/বেসিক কসমেটোলজি, হেলথ স্যানিটারি ইনস্পেক্টর, হটিকালচার, প্রিজার্ভেশন অফ ফুটস অ্যান্ড ডেজিটেবিলস/ক্রাফটসম্যান ফুট অ্যান্ড ডেজিটেবিল প্রসেসিং, সেক্রেটারিয়েল প্রাক্টিস (ইংলিশ), স্ফুর্ড/ফুড অ্যান্ড বেভারেজ গেস্ট সার্ভিস অ্যাসিস্ট্যান্ট, কম্পিউটার অ্যাডভেড এমগ্রয়ডারি অ্যান্ড ডিজাইনিং, ফ্রন্ট অফিস অ্যাসিস্ট্যান্ট ও ফুড বেভারেজ।

২ বছরের ট্রেডগুলি হল : চানার, ফিটার, ইলেক্ট্রিশিয়ান, অ্যাটেন্ড্যান্ট অপারেটর (কেমিক্যাল প্ল্যান্ট), ড্রাফটসম্যান (সিভিল), ড্রাফটসম্যান (মেকানিক্যাল), ইলেক্ট্রিশিয়ান মেকানিক, ইলেক্ট্রিক্যাল মেকানিক, ইলেক্ট্রিক্যাল মেকানিক (কেমিক্যাল প্ল্যান্ট), আই.টি.ই.এস.এম./ আই.সি.টি.এস.এম, ল্যাবরেটরি অ্যাসিস্ট্যান্ট (কেমিক্যাল প্ল্যান্ট), মেশিনিস্ট, মেশিনিস্ট গ্রাইন্ডার, মেন্টেন্যান্স মেকানিক (কেমিক্যাল প্ল্যান্ট), মেকানিক কম্পিউটার হার্ডওয়্যার, মেকানিক মোটর ভেহিক্যাল, মেকানিক আর.এস.সি., টুল অ্যান্ড ডাই মেকার (ডাইস অ্যান্ড মোল্ড), টুল অ্যান্ড ডাই মেকার (প্রেস টুলস, ড্রাগস অ্যান্ড ফিল্ডার), ইনফর্মেশন টেকনোলজি।

সব ক্ষেত্রেই বয়স হতে হবে ১৮-২০১৮-১৯ হিসাবে ন্যূনতম ১৪ বা, তার বেশি অর্থাৎ জন্ম-তারিখ হতে হবে ১৮-২০০৪ বা, তার আগে। উর্ধ্বতম বয়সের কোনো কড়াকড়ি নেই। যে কোনো বয়সের প্রার্থীরাই আবেদনের যোগ্য। নির্দিষ্ট কয়েকটি ট্রেডে মহিলা প্রার্থী না পাওয়া গেলে ছেলেরা ওই চারটি মহিলা ইন্সটিটিউট ট্রেনিং ইনস্টিটিউটে ভর্তির জন্য আবেদন করতে পারবেন।

তপশিলী জাতির প্রার্থীদের জন্য ২২%, তপশিলী উপজাতি প্রার্থীদের জন্য ৬%, শারীরিক প্রতিবন্ধীদের জন্য ৩% ও মহিলাদের জন্য সাধারণ আই.টি.আই./আই.টি.সি.তে ১০% সীট সংরক্ষিত। টিউশন ফী প্রথম ৬ মাস মাসে ৩০ টাকা করে। ভর্তি ফী ১০০ টাকা। রেজিস্ট্রেশন ফী ৩০ টাকা (কন্যাস্বী প্রার্থীদের জন্য ১৫ টাকা)। ক্যানন মানি ১০০ টাকা। ভেরিফিকেশন চার্জ ১০০ টাকা।

প্রার্থী বাছাই পদ্ধতি : দুই গ্রুপের বেলায়ই প্রার্থী বাছাই করবে 'ওয়েস্ট বেঙ্গল স্টেট কাউন্সিল অফ টেকনিক্যাল অ্যান্ড ভোকেশনাল এডুকেশন অ্যান্ড স্কিল ডেভেলপমেন্ট'।

'M' গ্রুপের বেলায় প্রার্থী বাছাই হবে মাধ্যমিকে পাওয়া নম্বর দেখে। এক্ষেত্রে আগের মতো এবার থেকে আর 'এন্ট্রান্স পরীক্ষা' দিতে হবে না। শুধুমাত্র মাধ্যমিকে পাওয়া নম্বরের ভিত্তিতে মেধা তালিকা তৈরি হবে। মেধা তালিকায় র‍্যাঙ্ক অনুযায়ী পছন্দ মতো প্রতিষ্ঠানে ভর্তি হতে পারবেন ও ট্রেড বেছে নিতে পারবেন।

'E' গ্রুপের বেলায় প্রার্থী বাছাই হবে 'কমন এন্ট্রান্স টেস্ট'এর মাধ্যমে। পরীক্ষা হবে ২৪ জুন, বেলা ১২টায়। সময় থাকবে ২ ঘণ্টা। লিখিত পরীক্ষায় থাকবে এইসব বিষয় : অঙ্ক, ইংরিজি, সায়েন্স, জেনারেল স্টাডিজ। প্রশ্ন হবে ক্লাস এইট পাশ মানে।

লিখিত পরীক্ষার অ্যাডমিট কার্ড ডাউনলোড করতে পারবেন ১৮ জুন থেকে, এই ওয়েবসাইটে : www.webscte.org চূড়ান্ত মেধা তালিকা আপলোড করা হবে জুলাইয়ে। অনলাইন কাউন্সেলিং হবে জুলাইয়ে।

দরখাস্তের ফর্ম পাবেন হাতে-হাতে, নিচে দেওয়া আই.টি.আই. কলেজগুলি থেকে, ২৭ এপ্রিল পর্যন্ত। পূরণ করা ও.এম.আর. অ্যাপ্লিকেশন ফর্ম জমা দেওয়ার শেষ তারিখ ২৭ এপ্রিল। ২০১৮ সালে যারা মাধ্যমিক পরীক্ষায় সফল হবেন, তাঁদের ও.এম.আর. অ্যাপ্লিকেশন ফর্ম জমা দেওয়ার শেষ তারিখ মাধ্যমিকের ফল ঘোষণার দিন থেকে ৭ দিন পর্যন্ত। আই.টি.আই. কলেজগুলির ঠিকানা :

- (1) ITI Gariahat, 10 & 10/A Gariahat Road, Kolkata - 700 091.
- (2) ITI Tollygunj, 24, Chandi Ghosh Road, Kolkata - 700 040.
- (3) ITI for PCBG, Kolkata.
- (4) Women ITI Kolkata, 10 & 10/1 Gariahat Road, Kolkata

NCVT স্বীকৃত কল্যাণী প্রাইভেট আই-এ ভর্তি

NCVT স্বীকৃত কল্যাণী আই.টি.আই. (দত্তপুকুর) ২০১৮ সেশনে ফিটার ও ইলেক্ট্রিশিয়ান কোর্সে ভর্তি শুরু হয়েছে। ২ বছরের রেগুলার কোর্স। যোগ্যতা : মাধ্যমিক। কোর্স শেষে চাকরিতে সহায়তা করা হয়। যোগাযোগ : কল্যাণী প্রাইভেট আই.টি.আই., দত্তপুকুর। ফোন: 7890114568, 7890114569.

- 700 019. (5) ITI Howrah Homes, P.O. Santragachi, Howrah. (6) ITI Hooghly, P.O. Sahagunj, Hooghly. (7) ITI Kalyani, Ghoshpara Road, Kalyani, Dist. Nadia, Nadia - 741 235. (8) ITI Durgapur, Muchipara, P.O. Durgapur, Dist. Burdwan, Durgapur - 713 222. (9) ITI Purulia, P.O. Raghunathpur, Dist. Purulia, Purulia - 723 133. (10) ITI Suri, P.O. Suri, Dist. Birbhum, Birbhum - 731 101. (11) ITI Midnapur, P.O. Rangamati, Dist. Paschim, Midnapur-721 101. (12) ITI Haldia, P.O. Durgachak, Dist. Purba Midnapur. (13) ITI Jhargram, P.O. Jhargram, Dist. Paschim Midnapur - 721 507. (14) ITI Berhampore, P.O. Kashimbazar Raj, Dist. Murshidabad - 742 102. (15) ITI Malda, P.O. & Dist. Malda - 732 101. (16) ITI Raigunj, P.O. Karnajora. Dist. Uttar Dinajpur - 733 130. (17) ITI Siliguri, Sevoke Road, P.O. Estiasal, Dist. Darjeeling - 734 401. (18) ITI Coochbehar, P.O. & Dist. Coochbehar - 736 101. (19) Women ITI Burdwan Alisha, By-pass More, G.T. Road, Burdwan. (20) Women ITI Siliguri, Sevoke Road, P.O. Ektiasal, Dist. Darjeeling - 734 401. (21) Women ITI Banipur, P.O. Banipur, North 24 Parganas. (22) ITI Chhatna Kalaiberia, Bankura. (23) Basic Training Centre (Chemical), Hooghly, P.O. Sahagunj, Hooghly. (24) P.Roy ITI, Amtala, P.O. Bishnupur, Amtala, South 24 Parganas. (25) ITI Alipurduar, P.O. Alipurduar, Jalpaiguri. (26) ITI Shibpur, P.O. Shibpur, Howrah. (27) ITI Barrackpore, P.O. B.D.Sopan, Khardah, 24 Paragans (N). (28) ITI Fulia, P.O. Fulia, Nadia. (29) ITI Balurghat, P.O. Beltala Park, Dakshin Dinajpur. (30) Bipradas Pal Chowdhury ITI, Arabida Sarani, P.O. - Krishnagar, Nadia. (31) ITI Jalpaiguri, Jalpaiguri. (32) ITI Rupnarayanpur, P.O. - Hindustan Cables, Burdwan. (33) ITI Hijil, P.O. - Kharagpur (IIT Campus), Midnapore. (34) ITI Chinsurah (Hooghly ITC), Hooghly. (35) ITI Chhotajagulia, P.O. - Chhotajagulia, North 24 PGS. (36) Satish Chandra ITI, P.O. - Kalanabagram, Burdwan. (37) ITI Kaliagunge, P.O. - Kaliagunge, Uttar Dinajpur. (38) ITI Kanyapur, P.O. - Asansol - 4, Burdwan. (39) ITI Sabrakone, P.O. - Sabrakone, Bankura. (40) Sevayatan ITC, P.O. - Sevayatan, Via - Jhargram, Paschim Medinipur. (41) Asansol Junior Government Polytechnic, P.O. - Dakshin Dadka, Asansol. (42) ITI Habibpur, Dist. malda. (43) ITI Subhasnagar, Dist. Hooghly. (44) ITI Saraju Prasad, Dist. Purulia. (45) Government ITI Ausgram II, Ausgram. (46) Government ITI Bagda, Bagda. (47) Government ITI

- Balarampur, Balarampur. (48) Government ITI Banshihari, Banshihari. (49) Government ITI Basanti, Basanti. (50) Government ITI Bauria, Bauria. (51) Government ITI Bhatar, Bhatar. (52) Government ITI Binpur-II, Binpur-II. (53) Government ITI Canning I, Canning. (54) Government ITI Canning II, Canning. (55) Government ITI Chanchal, Chanchal. (56) Government ITI Chopra, Chopra. (57) Government ITI Debra, Debra. (58) Government ITI Deshapran, Deshapran. (59) Government ITI Dhupguri, Dhupguri. (60) Government ITI Dinhat, Dinhat. (61) Government ITI Falta, Falta. (62) Government ITI Gaighata, Gaighata. (63) Government ITI Garbeta, Garbeta. (64) Government ITI Raghunathganj II, Raghunathganj. (65) Government ITI Itahar, Itahar. (66) Government ITI Kumargram, Kumargram. (67) Government ITI Kushmandi, Kushmandi. (68) Government ITI Mangalkote, Mangalkote. (69) Government ITI Chhatna Kalaiberia, Chhatna. (70) Government ITI Tufanganj, Tufanganj. (71) Government ITI Halisahar, Halishar. (72) Government ITI Harirampur, Harirampur. (73) Government ITI Haroa, Haroa. (74) Government ITI Hilli, Hilli. (75) Government ITI Illambazar, Illambazar. (76) Government ITI Indpur, Indpur. (77) Government ITI Islampur, Islampur. (78) Government ITI Jangipara, Jangipara. (79) Government ITI Joynagar II, Joynagar. (80) Government ITI Kaliachak, Kaliachak. (81) Government ITI Kalligunj, Kalligunj. (82) Government ITI Keshpur, Keshpur. (83) Government ITI Khatra, Khatra. (84) Government ITI Khoyrasole, Khoyrasole. (85) Government ITI Krishnanagar I, Krishnanagar. (86) Government ITI Kulpi, Kulpi. (87) Government

- ITI Kumarganj, Kumarganj. (88) Government ITI Mal, Mal. (89) Government ITI Manbazar, Manbazar. (90) Government ITI Mandirbazar, Mandirbazar. (91) Government ITI Mathabhanga, Mathabhanga. (92) Government ITI Maynaguri, Maynaguri. (93) Government ITI Mayureswar I, Mayureswar. (94) Government ITI Meckhilganj, Meckhilganj. (95) Government ITI Nakashipara, Nakashipara. (96) Government ITI Nayagram, Nayagram. (97) Government ITI Pandua, Pandua. (98) Government ITI Patharpratima, Patharpratima. (99) Government ITI Purbasthali-I, Purbasthali. (100) Government ITI Purbasthali-II, Purbasthali. (101) Government ITI Pursurah, Pursurah. (102) Government ITI Rampurhat I, Rampurhat. (103) Government ITI Ranaghat II, Ranaghat. (104) Government ITI Ranibandh, Ranibandh. (105) Government ITI Raninagar I, Raninagar. (106) Government ITI Sagar, Sagar. (107) Government ITI Sagardighi, Sagardighi. (108) Government ITI Salboni, Salboni. (109) Government ITI Shyampur, Shyampur. (110) Government ITI Simlapal, Simlapal. (111) Government ITI Sonamukhi, Sonamukhi. (112) Government ITI Tapan, Tapan. (113) Government ITI Tehatta, Tehatta. (114) Government ITI Udaynarayanpur, Udaynarayanpur. (115) Government ITI Barasat I, Barasat. (116) Government ITI Ghatal, Ghatal. (117) Government ITI Goalpokhor, Goalpokhor. (118) Government ITI Samsergunj, Samsergunj. (119) Government ITI Magrahat-II, Magrahat. (120) Government ITI Hura, Hura. (121) Government ITI Dubrajpur, Dubrajpur. (122) Government ITI Binpur I, Binpur.

সুবর্ণ সুযোগ
2018-20 সেশন
B.Ed - 55,000
M.Ed - 75,000
 পশ্চিমবঙ্গে **D.L.Ed.**
 কোর্সে ভর্তি চলছে।
 সবুজ যোগাযোগ করুন।
M.: 9609148600

Diploma, B.Tech & ITI
 পাশদের গভ: চাকরির প্রশিক্ষণ
SAIL, HTPC, OFB, IOCL, DRDO, DCL, DELHI METRO, PSC-JE ইত্যাদি।
 এখন **BARC, BSNL, SAIL & RAIL** ইঞ্জিনিয়ারদের তত্ত্বাবধানে ক্লাস হয়।
 9-12 মাসের মধ্যে এখানকার পূর্ণ প্রশিক্ষণ নিয়ে চাকরি না পেলে সম্পূর্ণ কোর্স ফি ফেরত দেওয়া হবে।
RAIL - প্রশিক্ষণ
ALP, TECHNICIAN & Gr-D
 স্পেশাল নতুন ব্যাচে ভর্তি চলছে।
DITE (দমদম জং)
 No. 1 Technical Govt. Job Institute
9836227449

INSTITUTE OF RAIL TRANSPORT
 Room No.104, North Central Railway Project Unit, Shivaji Bridge, Behind Shankar Market, Near I.R.W.O. Office, New Delhi - 110001.
 Ph. Nos.: 01123416832/23416833
 E-mail: irtindia3@gmail.com
 Website: www.irt-india.com, www.irt.indianrailways.gov.in

On Popular demand, the Institute of Rail Transport (IRT) extends the date for receipt of application upto 31st May, 2018 for the Transport Economics & Management diploma course. Also invites Fresh Application for the following diploma courses by correspondence.

1. MULTI-MODAL TRANSPORT (CONTAINERISATION) & LOGISTICS MANAGEMENT

2. RAIL TRANSPORT & MANAGEMENT

Course Fee: ₹ 7,000/- (Including Study Material & Contact Classes).

ELIGIBILITY: Graduate or Three Years Diploma in any discipline from any recognized University/Institute/State Govt. with relaxation to Central/State Govt. employees/Armed Service Personnel (Serving & Retired), these candidates should have completed Sr. Sec. School with three year working experience.

EXAMINATION CENTRES: Delhi, Mumbai, Kolkata, Chennai, Secunderabad, Lucknow, Guwahati and Bhubaneswar. (Subject to sufficient number of students appearing in any centre).

Refer prospectus for details, on payment of ₹ 200/- including postal charges by Demand Draft in favour of Institute of Rail Transport, payable at New Delhi. Write full name and address in capital on the reverse of the draft and the name of the course.


Prospectus also available by cash payment of ₹150/- at the following counters & apart from above counter also:

1. IRT Library and Study Centre, Dy. C. Engg./Bridge Line Office, Near Tilak Bridge Railway Station and Railway Police Post, Mahawat Khan Road, New Delhi-110002. Ph.: 011-23214362
2. IRT office C/o General Manager Office, Rail Sadan, South Block, Chandrashekharpur, Bhubaneswar, Odisha-17

Prospectus and admission is also available on online at www.irt.indianrailways.gov.in. The course fee for online Admission is ₹ 6500/-.

The last date for receipt of Application is 31st May, 2018

The Institute will remain closed on Saturdays, Sundays & Gazetted Holidays.



গত সপ্তাহের পর
১৯ মার্চ: পাক-ই-স্তানের
নতুন বায়ুসেনা প্রধান
হলেন আনওয়ার খান।
□ কর্মপ্রার্থীদের সাহায্যের
জন্য জেলায় জেলায়
মডেল কেরিয়ার সেন্টার
তৈরি করার সিদ্ধান্ত নিল
পশ্চিমবঙ্গ সরকার।
'ডাই রেকর্ডেট অফ
এমপ্লয়মেন্ট'এর অধীনে

তৈরি হবে এই কেরিয়ার সেন্টার।

□ পশুখাদ্য কেলেকারির চতুর্থ মামলাতেও দোষী সাব্যস্ত
হলেন বিহারের প্রাক্তন মুখ্যমন্ত্রী ও আরজেডি প্রধান
লালুপ্রসাদ যাদব। তবে এই মামলায় আরও এক অভিযুক্ত
তথা বিহারের প্রাক্তন মুখ্যমন্ত্রী জগন্নাথ মিশ্র-সহ আরও
৭জন রেহাই পেয়েছেন।

□ রাজ্যের প্রভাবশালী লিঙ্গায়ত জাতকে আলাদা ধর্ম
হিসাবে স্বীকৃতি দিলেন কনটিকের মুখ্যমন্ত্রী সিদ্ধারামাইয়া।

□ চিনের বিদেশমন্ত্রী ওয়াং ই'কে স্টেট কাউন্সিলরের
দায়িত্বে বহাল করল চীন। এই প্রথম কোনো চীনা কর্মী

একইসঙ্গে বিদেশমন্ত্রী ও স্টেট কাউন্সিলরের দায়িত্ব পেলেন।

□ সুইজারল্যান্ডের রাজার ফেডেরারকে ৬-৪, ৬-৭ ও
৭-৬ ব্যবধানে হারিয়ে 'ইন্ডিয়ান ওয়েলস মাস্টার্স টেনিস
টুর্নামেন্ট'এ পুরুষদের সিঙ্গলসে চ্যাম্পিয়ন হলেন

আর্জেন্টিনার জুয়ান মার্টিন দেল পোত্রো।

□ চিনের তারকা লিন ডানকে ২১-১৯, ১৬-২১ ও ২১-
৯ ব্যবধানে হারিয়ে 'অন ইন্ডিয়ান ওপন ব্যাডমিন্টন'এ
পুরুষদের সিঙ্গলসে চ্যাম্পিয়ন হলেন শি যুকি।

□ সিঙ্গাপুর জাতীয় এজ গ্রুপ সীতার চ্যাম্পিয়নশিপ'এ ৫০
মিটার ফ্রিস্টাইলে সোনার পদক পেলেন ভারতের বীরদয়াল
খাড়ে।

□ রাশিয়ার দারিয়া কাসাতকিনাকে ৬-৩ ও ৬-২ ব্যবধানে
হারিয়ে 'ইন্ডিয়ান ওয়েলস'এ মহিলাদের সিঙ্গলসে
চ্যাম্পিয়ন হলেন জাপানের নাওমি ওসাকা।

২০ মার্চ: 'পূর্ণ স্বশাসিত বিশ্ববিদ্যালয়'এর মর্যাদা পেল
'বদরপুর বিশ্ববিদ্যালয়'।

□ রেলের সব ক্যাটারিং সংস্থার অতিরিক্ত দাম নেওয়ার
প্রবণতা রুখতে এবার থেকে বিল না দিলে যাত্রীদের
কিনামূল্যে খাবার দেওয়ার সিদ্ধান্ত নিল রেল কর্তৃপক্ষ। ৩১
মার্চ থেকে এই নতুন নিয়ম চালু হতে চলেছে।

□ লিবিয়ার প্রাক্তন ও প্রয়াত প্রেসিডেন্ট মুয়াম্মর গদাফির
থেকে জোর করে অর্থ আদায় করে সেই অর্থ নিজের
নির্বাচনী প্রচারণে কাজে লাগিয়েছিলেন বলে অভিযোগ ওঠায়
গ্রেফতার হলেন প্রাক্তন ফরাসি প্রেসিডেন্ট নিকোলাস
সারকোজি।

□ 'নাইটহুড সন্মান' পেলেন 'বিতলস' তারকা রিস্তা স্টার।

□ 'জুনিয়র রাজা টেবল টেনিস লিগ'এর প্রচারদূত হলেন
জাতীয় চ্যাম্পিয়ন সূতীর্থা মুখোপাধ্যায়।

২১ মার্চ: 'পূর্ব রেল'এর ডিরেক্টর জেনারেল অফ অডিট
হিসাবে দায়িত্ব নিলেন সায়ন্তনী জাফা।

□ চাষীদের কাছ থেকে খান সংগ্রহের জন্য স্বনির্ভর গোষ্ঠীর
মহিলাদের প্রশিক্ষণ দেওয়ার সিদ্ধান্ত নিল পশ্চিমবঙ্গ
সরকার।

□ ভারতের প্রধানমন্ত্রী নরেন্দ্র দামোদরদাস মোদীর জাতীয়
স্বাস্থ্য সুরক্ষা প্রকল্প 'আয়ুধান ভারত' প্রকল্পে অনুমোদন দিল
কেন্দ্রীয় মন্ত্রিসভা। প্রসঙ্গত উল্লেখ্য, দেশের প্রায় ১০ কোটি
গরিব পরিবারকে প্রতি বছর ৫ লাখ টাকা স্বাস্থ্যবিমা
দেওয়ার কথা বলা হয়েছে এই প্রকল্পে।

□ 'সুপ্রিম কোর্ট' বেঞ্চামৃত্যুর পক্ষে রায় দেওয়ার পর
দেশের প্রথম লিভিং উইল নথিভুক্ত হল। দেশের প্রথম
ব্যক্তি হিসাবে কানপুরে নিজের লিভিং উইল নথিভুক্ত
করলেন আইনজীবী শরদকুমার ত্রিপাঠী। তবে নিজের
লিভিং উইলে পরিবারের কেউ নন, শরদকুমার নাম
রেখেছেন তাঁর জুনিয়র অমিতেশ সিংয়ের।

□ উত্তর প্রদেশে রাজ্য কংগ্রেস সভাপতির পদ ছাড়লেন
৬৫ বছর বয়সি অভিনেতা রাজ ববুর। তাঁর জায়গায়
আসতে চলেছেন প্রাক্তন কেন্দ্রীয় মন্ত্রী জিতিন প্রসাদ।

□ মায়ানমারের প্রথম গণতান্ত্রিক পদ্ধতিতে নির্বাচিত
প্রেসিডেন্ট হুইন কিয়াও পদত্যাগ করলেন।

□ একাদশ 'ইন্ডিয়ান প্রিমিয়র লিগ'এ 'ডিসিশন রিভিউ
সিস্টেম' (DRS) চালু হতে চলেছে।

২২ মার্চ: রাজস্থানের পোখরান পরীক্ষামূলক এলাকায়
সকাল ৮:৪২ মিনিটে, বিশ্বের দ্রুততম সুপারসনিক ক্রুজ
ব্রহ্মস ক্লেপপাত্র'এর পরীক্ষামূলক উৎক্ষেপণ সফল হল।
এই উৎক্ষেপণের ফলে দেশের প্রতিরক্ষা ব্যবস্থা আরও
উন্নত ও শক্তিশালী হল। এই ক্লেপপাত্র যেকোনো দিক
থেকে শত্রুপক্ষের ক্লেপপাত্র প্রতিরোধ ব্যবস্থায় আঘাত
হনতে পারে। শোপন জমিখাটিও ধ্বংস করতে পারে এটি।

□ রাশিয়ার বিজ্ঞানীরা নতুন একটি কৃষ্ণগহ্বরের খোঁজ
পেলেন। একটি নক্ষত্রের ধসের ফলে এই কৃষ্ণগহ্বরটি তৈরি
হয়েছে। সদ্য প্রয়াত প্রবাদপ্রতিম বিজ্ঞানী স্টিফেন হকিংকে
এটি উৎসর্গ করা হয়েছে।

□ রাজা রবি বর্মার আঁকা ছবি 'তিলোত্তমা' নিউ ইয়র্কের
সদবি নিলামে ৫.১৭ কোটি টাকায় বিক্রি হল। হিন্দুপুরাণের
একজন স্বর্গীয় জলপরিকের নিয়ে এই ছবিটি আঁকা হয়েছিল।

□ 'মেট্রো রেল'এর চিফ অপারেশনস ম্যানেজার হলেন
সাত্যকি নাথ।

□ ১০০ দিনের কাজের কর্মীদের মাইনে ১০০ টাকা থেকে
বাড়িয়ে ১৪৪ টাকা করল পশ্চিমবঙ্গ সরকার।
সুপারভাইজরদের মাইনে ১২০ টাকা থেকে বাড়িয়ে ১৭২
টাকা করা হল। প্রায় ৮ বছর পর এই প্রকল্প খাতে কর্মীদের
মাইনে বাড়ল।

□ কেন্দ্রীয় সামাজিক ন্যায় মন্ত্রী খাওয়ার চাঁদ গেহলট
জানালেন, তিখারি সংখ্যায় শীর্ষে রয়েছে পশ্চিমবঙ্গ।
ভারতে মোট ৪,১৩,৬৭০ জন তিখারি রয়েছে, যার মধ্যে
পশ্চিমবঙ্গেই রয়েছে ৮১,০০০ জন তিখারি।

□ জনসংযোগে সেরা হওয়ার জন্য মার্কিন যুক্তরাষ্ট্রের
অন্যতম শ্রেষ্ঠ সন্মান পেল 'উই আর শিখ' প্রচারবিভান।
প্রসঙ্গত উল্লেখ্য, মার্কিন যুক্তরাষ্ট্রে শিখদের ওপর অত্যাচার
কমানোর উদ্দেশ্যে এই প্রচারবিভান তৈরি করা হয়েছিল।

□ ভোট কেনার অভিযোগ প্রমাণিত হওয়ার পেরুর
প্রেসিডেন্ট পোদ্রো পাবলো কুজেনস্কি পদত্যাগ করলেন।

□ পেরুর প্রেসিডেন্ট হলেন মার্টিন আলবের্তো ভিজকার
কর্নেজো।

□ রাজ্যের খাদ্য প্রক্রিয়াকরণ ও উদ্যানপালন মন্ত্রী রেজ্জাক
মোম্বা জানালেন, বাংলার তাজা ফল ও সবজি ইউরোপের
বিভিন্ন দেশে রফতানি হবে। এজন্য প্রায় ১৫ কোটি টাকা
খরচ করে 'হট ওয়াটার প্র্যান্ট' তৈরি করা হয়েছে।

□ গুজরাতের দ্বাদশ শ্রেণির রাষ্ট্রবিজ্ঞানের পাঠ্যবই থেকে
'অ্যাফি মুসলিম' শব্দটি বাদ দিল 'ন্যাশনাল কাউন্সিল অফ
এডুকেশনাল রিসার্চ অ্যান্ড ট্রেনিং' কর্তৃপক্ষ। নতুন অধ্যায়ের
নাম হতে চলেছে 'পলিটিজ ইন ইন্ডিয়া সিঙ্গ ইন্ডিপেন্ডেন্স'।


□ শিক্ষা প্রতিষ্ঠানে বোরখা পড়ার ওপর নিষেধাজ্ঞা
চাপানোর জন্য আইন আনার সিদ্ধান্ত নিল নরওয়ে সরকার।
প্রসঙ্গত উল্লেখ্য, এই প্রস্তাব অনুযায়ী, সব স্কুল,
বিশ্ববিদ্যালয়ে নিকাব ও বোরখা পড়া যাবে না। দেশের
প্রতিটি শিক্ষা প্রতিষ্ঠান এই নিষেধাজ্ঞার আওতায় থাকবে।

□ অস্ট্রেলিয়ার 'পোল্ড কোস্ট কমন্ওয়েলথ গেমস'এর
উদ্বোধনী অনুষ্ঠানে ভারতের পতাকা বহন করলেন ভারতের
মহিলা শাটলার পুসারলা ভেঙ্কটা সিদ্ধু।

□ ভি. ভাস্করকে ৬-১ ব্যবধানে হারিয়ে 'এশিয়ান
বিলিয়ার্ডস চ্যাম্পিয়নশিপ'এ চ্যাম্পিয়ন হলেন ভারতের
পঞ্চজ আর্জুন আদবানী।

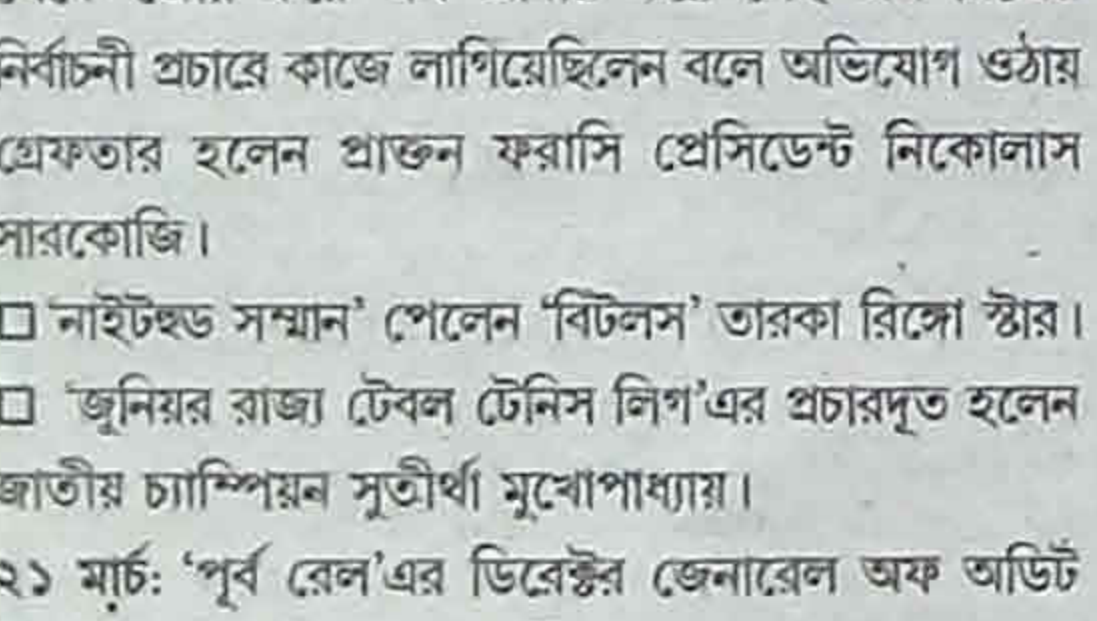
২৫ মার্চ : রহস্যজনকভাবে দক্ষিণ কোরিয়ার বিখ্যাত পপ
তারকা সিও মিন ওউ (৩৩ বছর) মারা গেলেন।
□ জলে আপেক্ষালীন অবস্থায় পর্যটকদের উদ্ধারের জন্য
'সি স্কুটার' কেনার সিদ্ধান্ত নিল পশ্চিমবঙ্গ সরকার।
□ পথ দুর্ঘটনাগ্রস্তদের বাঁচাতে জাতীয়, রাজ্য সড়ক ও
অন্যান্য গুরুত্বপূর্ণ রাস্তার ওপর ৮টি ট্রমা সেন্টার চালু করার
সিদ্ধান্ত নিলেন রাজ্যের মুখ্যমন্ত্রী মমতা বন্দ্যোপাধ্যায়। এর
মধ্যে ৬টি তৈরি হচ্ছে কেন্দ্র-রাজ্য যৌথ অর্থ সাহায্যে।
বাকি দুটির অর্থভার বহন করবে পশ্চিমবঙ্গ সরকার।
□ আঙুলের ছাপ, চোখের মণির পর এবার থেকে তৃতীয়
বিকল্প হিসাবে আধার কার্ড তৈরির সময় মুখের ছবিও
নেওয়া হবে। ১ জুলাই থেকে এই নিয়ম চালু করতে
চলেছে 'ইউনিক আইডেন্টিফিকেশন অথরিটি অফ ইন্ডিয়া'
(UIDAI)।
□ দেশের ১৮তম রাজ্য হিসাবে প্রান্তিকের ব্যবহার নিষিদ্ধ
করল মহারাষ্ট্র সরকার।
□ ১ ঘণ্টা এগিয়ে দেওয়া হল ইতালির ঘড়ির কাঁটা। এদিন
স্থানীয় সময় রাত দুটোয় এই বদল ঘটানো হয়। প্রসঙ্গত
উল্লেখ্য, প্রতি বছর এই দেশটিতে দু'বার ঘড়ির কাঁটা ১
ঘণ্টা করে বদল করা হয়। তাই ঘড়িতে যখন রাত দুটো
বাজবে, তখন ১ ঘণ্টা এগিয়ে রাত ৩টে করা হবে।
□ পেট্রোলিয়াম স্পোর্টস প্রমোশন বোর্ডকে ২-১
ব্যবধানে হারিয়ে 'জাতীয় হকি চ্যাম্পিয়নশিপ'এ চ্যাম্পিয়ন
হল পঞ্জাব।
□ 'অস্ট্রেলিয়ান গ্র্যান্ড প্রিন্স'এ চ্যাম্পিয়ন হলেন জার্মান
রেসিং ড্রাইভার সেবাস্তিয়ান ভেটেল।
□ ওয়েস্ট ইন্ডিজকে ৭ উইকেটে হারিয়ে 'বিশ্বকাপের
যোগ্যতা অর্জন টুর্নামেন্ট'এ চ্যাম্পিয়ন হল আফগান-ই-
স্তান।
□ হংকংকে ৪-২ গোলে হারিয়ে 'অনুর্ধ্ব-১৬ জকি কাপ'এ
চ্যাম্পিয়ন হল ভারত।
২৬ মার্চ : পঞ্চায়েত এলাকায় শৌচালয় তৈরি ও ব্যবহারে
দেশের সব রাজ্যকে পিছনে ফেলে প্রথম সারিতে জায়গা
করে নিল পশ্চিমবঙ্গের 'মিশন নির্মল বাংলা'।
□ পরমাণু নিরস্ত্রীকরণ চুক্তি না মানায় পাক-ই-স্তানের ৭টি
সংস্থার ওপর নিষেধাজ্ঞা জারি করল মার্কিন যুক্তরাষ্ট্র।
□ ফাঁসি দেওয়ার ৮৭ বছর পর ভারতের স্বাধীনতা
সংগ্রামের বীর বিপ্লবী শহীদ ভগৎ সিংয়ের বিচার সংক্রান্ত
মামলার নথি প্রদর্শনীর ব্যবস্থা করল পাক-ই-স্তান সরকার।
প্রসঙ্গত উল্লেখ্য, এই প্রথম ভগৎ সিংয়ের বিরুদ্ধে বিচার
সংক্রান্ত মামলার নথি প্রকাশ করল পাক-ই-স্তান।
□ সিডনিতে অনুষ্ঠিত 'জুনিয়র শ্যাটিং বিশ্বকাপ'এ
ছেলেদের ২৫ মিটার র্যাপিড ফায়ার পিস্তলে সোনার পদক
পেলেন ভারতের অনীশ ভানওয়াল।
২৭ মার্চ : 'মরিকা সেনগুপ্ত জাতীয় কবিতা পুরস্কার'
পেলেন কাশ্মীরি কবি নিঘাত সাহিবা।

বিশেষ বিজ্ঞপ্তি
কর্মসংস্থান পত্রিকায় প্রকাশিত যে কোনো
বিতর্কিত আলোচনা বা, নিবন্ধের যাবতীয় দায়িত্ব
লেখকের। কর্মসংস্থান কর্তৃপক্ষ কোনোভাবেই এজন্য
দায়ী থাকবে না। ওই মতামত কারো পছন্দসই না হলে,
প্রতিবাদ জানাতে পারেন। সেক্ষেত্রে তাও যথাযোগ্য
মর্যাদায় ছাপা হবে। কারণ, এটি গণমাধ্যম।



'বে হিলে
আর্নল্ড
পামার
আমন্ত্রণী
টুর্নামেন্ট'এ
চ্যাম্পিয়ন
হলেন ররি
ম্যাকলরয়।

সিডনিতে অনুষ্ঠিত 'জুনিয়র শ্যাটিং বিশ্বকাপ'এ
মেয়েদের ১০ মিটার এয়ার রাইফলে সোনার পদক
পেলেন ভারতের এলাভেনিল ভালারিভান।
২৩ মার্চ : সংশোধনগারে কয়েদির সঙ্গে পরিজনের কথা
বলার সুবিধার জন্য 'ই-মুলাকাত পরিষেবা'র সূচনা করলেন
রাজ্যের কারামন্ত্রী 'উজ্জ্বল বিশ্বাস। প্রসঙ্গত উল্লেখ্য, এই
পরিষেবার ফলে এবার বাড়িতে বসেই পরিচিতরা নির্দিষ্ট
সময়ে স্মার্ট ফোনের মাধ্যমে সংশ্লিষ্ট বন্দিদের সঙ্গে কথা
বলতে পারবেন। অনলাইনেও আবেদন করা যাবে।

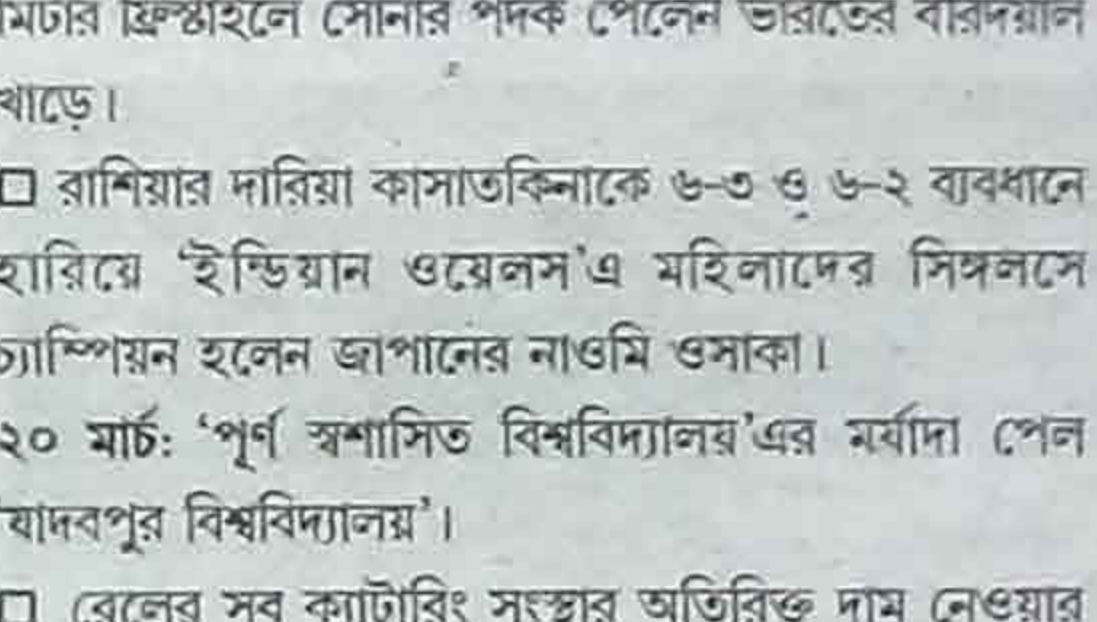


সিডনিতে অনুষ্ঠিত 'জুনিয়র শ্যাটিং বিশ্বকাপ'এ
মেয়েদের ১০ মিটার এয়ার রাইফলে সোনার পদক
পেলেন ভারতের এলাভেনিল ভালারিভান।

সিডনিতে অনুষ্ঠিত 'জুনিয়র শ্যাটিং বিশ্বকাপ'এ
মেয়েদের ১০ মিটার এয়ার রাইফলে সোনার পদক
পেলেন ভারতের এলাভেনিল ভালারিভান।

২৩ মার্চ : সংশোধনগারে কয়েদির সঙ্গে পরিজনের কথা
বলার সুবিধার জন্য 'ই-মুলাকাত পরিষেবা'র সূচনা করলেন
রাজ্যের কারামন্ত্রী 'উজ্জ্বল বিশ্বাস। প্রসঙ্গত উল্লেখ্য, এই
পরিষেবার ফলে এবার বাড়িতে বসেই পরিচিতরা নির্দিষ্ট
সময়ে স্মার্ট ফোনের মাধ্যমে সংশ্লিষ্ট বন্দিদের সঙ্গে কথা
বলতে পারবেন। অনলাইনেও আবেদন করা যাবে।

□ আবগারি দফতরের কর্মীদের সব সংগঠন ভেঙে দিয়ে
তাঁদের জন্য নতুন কল্যাণ পর্ষদ গঠনের সিদ্ধান্ত নিল অর্থ
দফতর। এই পর্ষদের চেয়ারম্যান হতে চলেছেন আবগারি
কমিশনার।
□ এই প্রথম ইজরায়েল যাওয়ার জন্য রাষ্ট্রায়ত্ত্ব বিমান
সংস্থা 'এয়ার ইন্ডিয়া'কে তাদের আকাশ পথ ব্যবহারে
অনুমতি দিল সৌদি আরব। প্রসঙ্গত উল্লেখ্য, এতদিন
লোহিত সাগর ও এডেন সাগর হয়ে ঘুরপথে ইজরায়েলে
পৌঁছাতো ভারতীয় বিমান। সৌদির অনুমতি পাওয়ায় এবার
থেকে ২ ঘণ্টা ১০ মিনিট সময় সাশ্রয় হবে।
□ পশ্চিমবঙ্গের মধ্যে দিয়ে বয়ে চলা ১৭টি নদীর বিদ্যুৎ
অংশকে দূষিত বলে ঘোষণা করল কেন্দ্রীয় সরকার।
প্রসঙ্গত উল্লেখ্য, এই ১৭টি নদী হল, বরাক, চুর্ণি, দামোদর,
ঘারকেশ্বর, ঘারকা, গঙ্গা, জলঙ্গি, কালজানি, কোশি, করলা,
মহানন্দা, মাথাভাড়া, ময়ূরাক্ষী, রূপনারায়ণ, শিলাবতী, তিস্তা
ও বিদ্যাধরী।
□ ঘুস নেওয়ার অভিযোগে দক্ষিণ কোরিয়ার প্রাক্তন
প্রেসিডেন্ট লি ম্যাং ব্যাকের বিরুদ্ধে গ্রেফতারি পরোয়ানা
জারি করল সেনদেশের আদালত।
□ মার্কিন প্রেসিডেন্ট ডোনাল্ড ট্রাম্পের ব্যক্তিগত
আইনজীবী দলের প্রধান জন ডাওড তাঁর পদ থেকে ইস্তফা
দিলেন।
□ 'ইউএস এয়ার কোয়ালিটি ইন্ডেক্স'এর (AQI) সর্বাধিক
তথ্য অনুযায়ী, বিশ্বের সবথেকে দূষিত নগরীর তালিকায়
শীর্ষ স্থানে রয়েছে নেপালের রাজধানী কাঠমান্ডু শহর।
□ সংস্থা, কোম্পানির স্পনসর করা ৪৫৭ ভিসা স্কিম
বাতিল করে দিল অস্ট্রেলিয়া। তার জায়গায় আনা হল
'টেম্পোরারি স্কিলস শর্টেজ' ভিসা প্রোগ্রাম। প্রসঙ্গত
উল্লেখ্য, এই ভিসার মাধ্যমে বিদেশি কর্মীরা কাজ করতে
পারবেন। তবে যাঁরা পাকাপাকিভাবে থাকার পরিকল্পনা
করতেন, তাঁদের এক্ষেত্রে অসুবিধা হতে পারে। পাশাপাশি
যাঁরা নতুন কাজের খোঁজে সেনদেশে যান, অথবা যেসব
ভারতীয় পড়ুয়া অস্ট্রেলিয়ার শিক্ষা প্রতিষ্ঠান থেকে
পড়াশোনা করছেন, তাঁদের ক্ষেত্রেও এবার চাকরি পাওয়া
কঠিন হয়ে উঠবে।
□ মেয়েদের ফুটবল ব্যক্তিগত শীর্ষ স্থান পেল মার্কিন
যুক্তরাষ্ট্র।
□ সিডনিতে অনুষ্ঠিত 'জুনিয়র শ্যাটিং বিশ্বকাপ'এ পুরুষদের
ট্রাপ ইভেন্টে ব্রঞ্জ পদক পেলেন ভারতের ভিভান কাপুর।
২৪ মার্চ : খেলার মাঝেই বৃষ্টি বন্যে লেগে ক্রোয়েশিয়ান
ফুটবলার ব্রনো বোবান (২৫ বছর) মারা গেলেন।



সিডনিতে অনুষ্ঠিত 'জুনিয়র শ্যাটিং বিশ্বকাপ'এ
মেয়েদের ১০ মিটার এয়ার পিস্তল ব্যক্তিগত
বিভাগে সোনার পদক পেলেন ভারতের মনু ভাকের।

□ পেরুর প্রেসিডেন্ট হলেন মার্টিন আলবের্তো ভিজকার
কর্নেজো।

□ রাজ্যের খাদ্য প্রক্রিয়াকরণ ও উদ্যানপালন মন্ত্রী রেজ্জাক
মোম্বা জানালেন, বাংলার তাজা ফল ও সবজি ইউরোপের
বিভিন্ন দেশে রফতানি হবে। এজন্য প্রায় ১৫ কোটি টাকা
খরচ করে 'হট ওয়াটার প্র্যান্ট' তৈরি করা হয়েছে।

□ গুজরাতের দ্বাদশ শ্রেণির রাষ্ট্রবিজ্ঞানের পাঠ্যবই থেকে
'অ্যাফি মুসলিম' শব্দটি বাদ দিল 'ন্যাশনাল কাউন্সিল অফ
এডুকেশনাল রিসার্চ অ্যান্ড ট্রেনিং' কর্তৃপক্ষ। নতুন অধ্যায়ের
নাম হতে চলেছে 'পলিটিজ ইন ইন্ডিয়া সিঙ্গ ইন্ডিপেন্ডেন্স'।

□ শিক্ষা প্রতিষ্ঠানে বোরখা পড়ার ওপর নিষেধাজ্ঞা
চাপানোর জন্য আইন আনার সিদ্ধান্ত নিল নরওয়ে সরকার।
প্রসঙ্গত উল্লেখ্য, এই প্রস্তাব অনুযায়ী, সব স্কুল,
বিশ্ববিদ্যালয়ে নিকাব ও বোরখা পড়া যাবে না। দেশের
প্রতিটি শিক্ষা প্রতিষ্ঠান এই নিষেধাজ্ঞার আওতায় থাকবে।

□ অস্ট্রেলিয়ার 'পোল্ড কোস্ট কমন্ওয়েলথ গেমস'এর
উদ্বোধনী অনুষ্ঠানে ভারতের পতাকা বহন করলেন ভারতের
মহিলা শাটলার পুসারলা ভেঙ্কটা সিদ্ধু।

□ ভি. ভাস্করকে ৬-১ ব্যবধানে হারিয়ে 'এশিয়ান
বিলিয়ার্ডস চ্যাম্পিয়নশিপ'এ চ্যাম্পিয়ন হলেন ভারতের
পঞ্চজ আর্জুন আদবানী।

২৫ মার্চ : রহস্যজনকভাবে দক্ষিণ কোরিয়ার বিখ্যাত পপ
তারকা সিও মিন ওউ (৩৩ বছর) মারা গেলেন।

□ জলে আপেক্ষালীন অবস্থায় পর্যটকদের উদ্ধারের জন্য
'সি স্কুটার' কেনার সিদ্ধান্ত নিল পশ্চিমবঙ্গ সরকার।

□ পথ দুর্ঘটনাগ্রস্তদের বাঁচাতে জাতীয়, রাজ্য সড়ক ও
অন্যান্য গুরুত্বপূর্ণ রাস্তার ওপর ৮টি ট্রমা সেন্টার চালু করার
সিদ্ধান্ত নিলেন রাজ্যের মুখ্যমন্ত্রী মমতা বন্দ্যোপাধ্যায়। এর
মধ্যে ৬টি তৈরি হচ্ছে কেন্দ্র-রাজ্য যৌথ অর্থ সাহায্যে।
বাকি দুটির অর্থভার বহন করবে পশ্চিমবঙ্গ সরকার।

□ আঙুলের ছাপ, চোখের মণির পর এবার থেকে তৃতীয়
বিকল্প হিসাবে আধার কার্ড তৈরির সময় মুখের ছবিও
নেওয়া হবে। ১ জুলাই থেকে এই নিয়ম চালু করতে
চলেছে 'ইউনিক আইডেন্টিফিকেশন অথরিটি অফ ইন্ডিয়া'
(UIDAI)।

□ দেশের ১৮তম রাজ্য হিসাবে প্রান্তিকের ব্যবহার নিষিদ্ধ
করল মহারাষ্ট্র সরকার।

□ ১ ঘণ্টা এগিয়ে দেওয়া হল ইতালির ঘড়ির কাঁটা। এদিন
স্থানীয় সময় রাত দুটোয় এই বদল ঘটানো হয়। প্রসঙ্গত
উল্লেখ্য, প্রতি বছর এই দেশটিতে দু'বার ঘড়ির কাঁটা ১
ঘণ্টা করে বদল করা হয়। তাই ঘড়িতে যখন রাত দুটো
বাজবে, তখন ১ ঘণ্টা এগিয়ে রাত ৩টে করা হবে।

□ পেট্রোলিয়াম স্পোর্টস প্রমোশন বোর্ডকে ২-১
ব্যবধানে হারিয়ে 'জাতীয় হকি চ্যাম্পিয়নশিপ'এ চ্যাম্পিয়ন
হল পঞ্জাব।

□ 'অস্ট্রেলিয়ান গ্র্যান্ড প্রিন্স'এ চ্যাম্পিয়ন হলেন জার্মান
রেসিং ড্রাইভার সেবাস্তিয়ান ভেটেল।

□ ওয়েস্ট ইন্ডিজকে ৭ উইকেটে হারিয়ে 'বিশ্বকাপের
যোগ্যতা অর্জন টুর্নামেন্ট'এ চ্যাম্পিয়ন হল আফগান-ই-
স্তান।

□ হংকংকে ৪-২ গোলে হারিয়ে 'অনুর্ধ্ব-১৬ জকি কাপ'এ
চ্যাম্পিয়ন হল ভারত।

২৬ মার্চ : পঞ্চায়েত এলাকায় শৌচালয় তৈরি ও ব্যবহারে
দেশের সব রাজ্যকে পিছনে ফেলে প্রথম সারিতে জায়গা
করে নিল পশ্চিমবঙ্গের 'মিশন নির্মল বাংলা'।

□ পরমাণু নিরস্ত্রীকরণ চুক্তি না মানায় পাক-ই-স্তানের ৭টি
সংস্থার ওপর নিষেধাজ্ঞা জারি করল মার্কিন যুক্তরাষ্ট্র।

□ ফাঁসি দেওয়ার ৮৭ বছর পর ভারতের স্বাধীনতা
সংগ্রামের বীর বিপ্লবী শহীদ ভগৎ সিংয়ের বিচার সংক্রান্ত
মামলার নথি প্রদর্শনীর ব্যবস্থা করল পাক-ই-স্তান সরকার।
প্রসঙ্গত উল্লেখ্য, এই প্রথম ভগৎ সিংয়ের বিরুদ্ধে বিচার
সংক্রান্ত মামলার নথি প্রকাশ করল পাক-ই-স্তান।

□ সিডনিতে অনুষ্ঠিত 'জুনিয়র শ্যাটিং বিশ্বকাপ'এ
ছেলেদের ২৫ মিটার র্যাপিড ফায়ার পিস্তলে সোনার পদক
পেলেন ভারতের অনীশ ভানওয়াল।

২৭ মার্চ : 'মরিকা সেনগুপ্ত জাতীয় কবিতা পুরস্কার'
পেলেন কাশ্মীরি কবি নিঘাত সাহিবা।

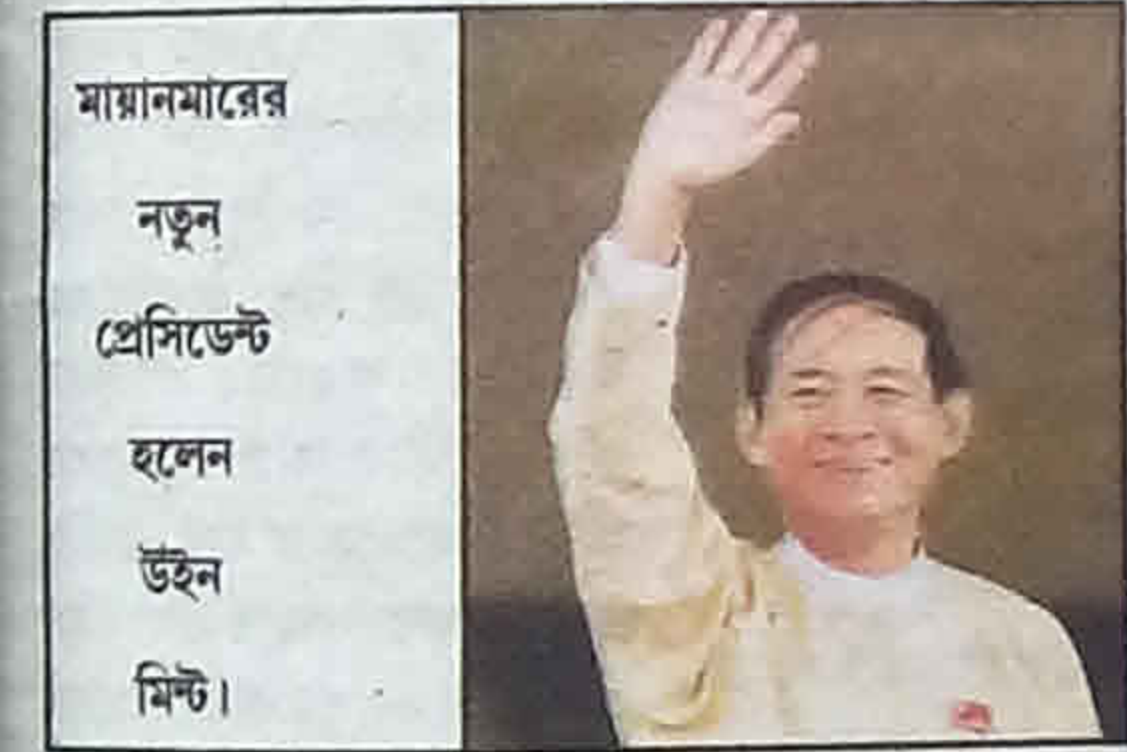
□ পশ্চিমবঙ্গের আইপিএস অফিসার অনিল কুমার (৫০
বছর) মারা গেলেন। স্বরাষ্ট্র দফতরের সচিব (সমন্বয়) পদে
কর্মরত ছিলেন তিনি।

বর্ষবিষয়ে বিরোধী আন্দোলনের অন্যতম মুখ লিন্ডা ব্রাউন (৭৬ বছর) মারা গেলেন।
 বিশ্বব্যাপ্তির নির্দেশিকা মেনে শিল্পক্ষেত্রে ইতিবাচক পদক্ষেপ করার ক্ষেত্রে শতকরা ১০০ নম্বর পেয়ে শিল্পবাহুব রাজা হিসাবে প্রথম স্থানে উঠে এল পশ্চিমবঙ্গ সরকার।




পাক-ই-স্তানের টেলিভিশন চ্যানেলে প্রথম রূপান্তরকারী সঞ্চালক হলেন মার্ভিয়া মালিক।

সিডনিতে অনুষ্ঠিত 'জুনিয়র স্টাটিং বিশ্বকাপ'এ ১০ মিটার এয়ার পিস্তল বিভাগে মিজড ডাবলসে সোনার পদক পেলেন ভারতের মনু ভাকের ও আনমোল জুটি।
 ২৮ মার্চ: ইথিওপিয়ান প্রধানমন্ত্রী হতে চলেছেন ড. আবি আহমেদ আলি।
 সাউথ সিটির পিছনে বিক্রমগড় ঝিলে শহরের প্রথম ভাসমান সৌরবিদ্যুৎ প্রকল্প তৈরি হতে চলেছে। এমনই অভিনব পরিকল্পনা নিয়েছে কলকাতা পুর নিগম ও রাজ্য বিদ্যুৎ দফতর।
 ভারতের বিভিন্ন শহরে ও প্রত্যন্ত এলাকায় পানীয় জল পৌঁছে দিতে এক নতুন পরিকল্পনা চালু করার সিদ্ধান্ত নিল মার্কিন প্রশাসন। প্রসঙ্গত উল্লেখ্য, নয়াদিল্লির মার্কিন দূতাবাসে সাংবাদিক বৈঠকে জানা গেছে, সারা দেশে কয়েকশো জলশোধনাগার কেন্দ্র গড়া হবে। এছাড়াও, দেশের বিভিন্ন রেল স্টেশন, বাসস্টপ, শপিং মল, কলেজ ও স্কুলে 'ওয়াটারহেলথ ডেভেলপমেন্ট' বসানো হবে। এই মেশিন থেকে একবারে ৩০০ মিলিলিটার থেকে ৫ লিটার পর্যন্ত জল পাওয়া যাবে।



মায়ানমারের নতুন প্রেসিডেন্ট হলেন উইন মিন্ট।

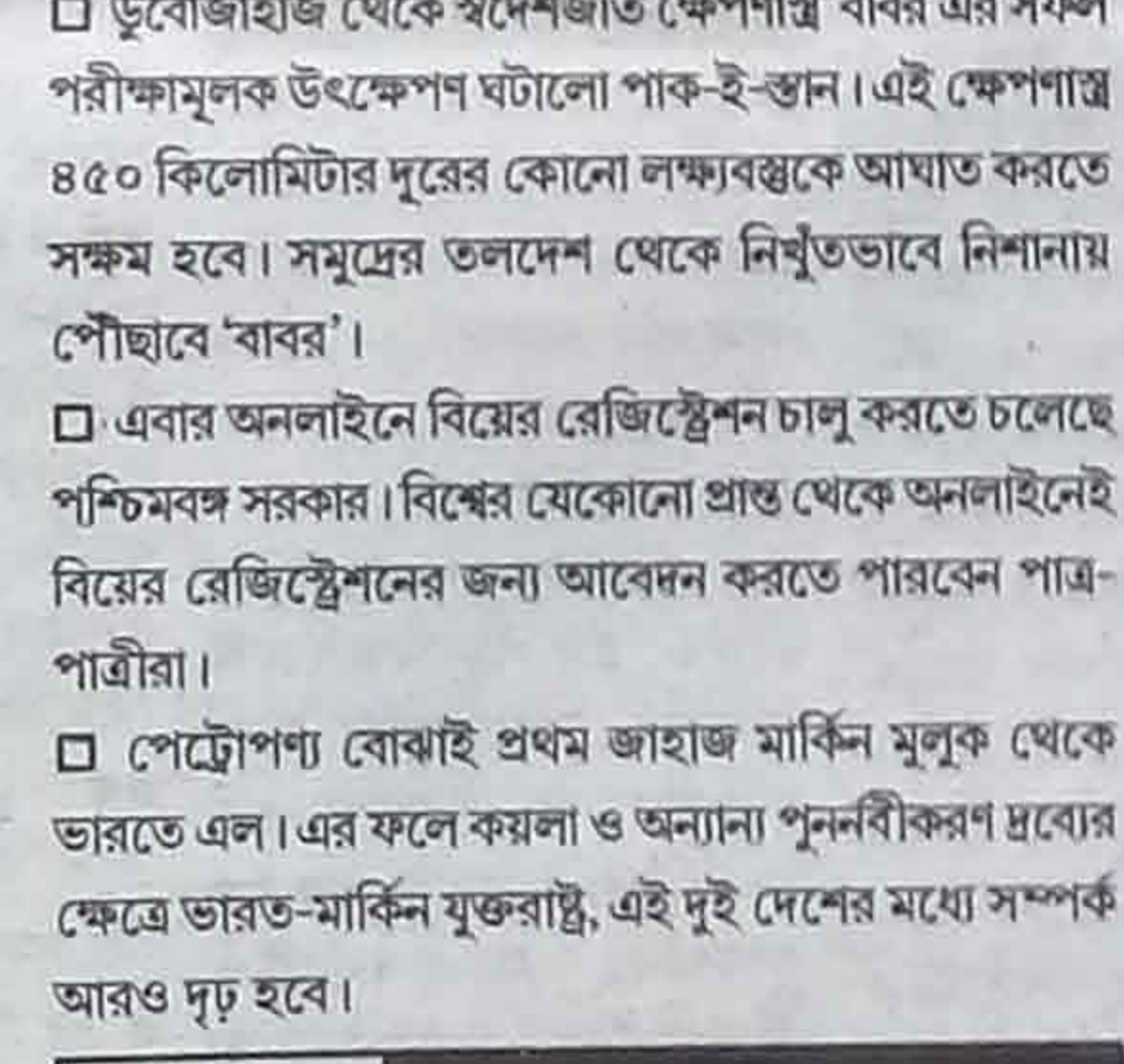
'জুনিয়র স্টাটিং বিশ্বকাপ'এ মেয়েদের ২৫ মিটার পিস্তল বিভাগে সোনার পদক পেলেন ভারতের মুসকান ভানওয়াল।
 দিল্লির 'মাদাম তুসো'র জাদুঘরে জায়গা পেতে চলেছে ভারতীয় ক্রিকেট দলের অধিনায়ক বিরাট কোহলির মোমের মূর্তি।



বল বিক্রতি কাণ্ডে ৩ ক্রিকেটার স্তিত শ্মিথ, ডেভিড ওয়ার্নার ও ক্যামেরন ব্যানক্রফটকে দৃষ্টান্তমূলক শাস্তি দিল ক্রিকেট অস্ট্রেলিয়া। ১ বছরের জন্য আন্তর্জাতিক ও প্রথম শ্রেণির ক্রিকেটে খেলতে পারবেন না স্তিত শ্মিথ ও ডেভিড ওয়ার্নার। ৯ মাসের জন্য নির্বাসিত করা হয়েছে ক্যামেরন ব্যানক্রফটকে।

২৯ মার্চ: আন্ধ্রা প্রদেশের শ্রীহরিকোটোর সতীশ ধাওয়ান মহাকাশ কেন্দ্র থেকে বিকেল ৪.৫৬ মিনিটে জিএসএলভি-০৮ রকেটের পিঠে চেপে মহাকাশে পৌঁছে গেল দেশীয় প্রযুক্তিতে তৈরি 'জিস্যাট-০৬ এ' যোগাযোগ উপগ্রহ। উৎক্ষেপণের ১৭ মিনিট পর, নির্দিষ্ট কক্ষপথে অত্যন্ত সাক্ষরতার সঙ্গে 'জিস্যাট-৬ এ' উপগ্রহকে প্রতিস্থাপন করা হয়। দেশের মোবাইল যোগাযোগ ব্যবস্থাকে দ্রুততর করে তোলা ও সেনাবাহিনীর টেলিযোগাযোগ ব্যবস্থাকে আরও উন্নত করে

তোলাই এটির লক্ষ্য।
 রাজ্য সরকার স্বীকৃত সাংবাদিকদের জন্য অবসরভাতা প্রকল্পের বিস্তৃতি বের হল। তাতে বলা হয়েছে, কমপক্ষে ১০ বছর রাজ্য সরকার স্বীকৃত কার্ড ধারক হতে হবে উপভোক্তা সাংবাদিককে। ৬০ বছর বয়সের পর থেকে প্রতি মাসে আড়াই হাজার টাকা করে সরাসরি সাংবাদিকের ব্যাঙ্ক অ্যাকাউন্টে যাবে। এছাড়াও, যাদের স্বীকৃত কার্ড নেই, তাঁরাও ৬০ বছরের পর সংশ্লিষ্ট সংবাদমাধ্যমে ১৫ বছরের কাজের প্রমাণ দেখাতে পারলেই অবসরভাতা পাবেন।
 কলকাতা পুর নিগমের মেয়র শোভন চট্টোপাধ্যায় জানালেন, কলকাতা শহরে যারা নতুনভাবে ব্যবসা শুরু করবেন, তাঁদের পরপর ৫ বছর সম্পত্তি করে ৫০% ছাড় দেওয়া হবে।
 যেসব সরকারি অধিকারিকের বিরুদ্ধে অপরাধ বা, দুর্নীতির অভিযোগ রয়েছে, তাঁদের পাসপোর্ট দেওয়া হবে না বলে জানালো কেন্দ্রীয় কর্মসূচিবিভাগ।
 আশ্বেদকরের নামের মধ্যে 'রামজি' ঢোকানোর সিদ্ধান্ত নিল উত্তর প্রদেশ সরকার। প্রসঙ্গত উল্লেখ্য, সংবিধানের অষ্টম ধারা মেনে আশ্বেদকরের পুরো নাম 'ভীমরাও রামজি আশ্বেদকর' লেখা হবে সরকারি কাজকর্মে। এছাড়া, হিন্দিতে এবার থেকে 'আশ্বেদকর' শব্দটি উচ্চারিত হবে 'আশ্বেডকর' হিসাবে।
 কারাগারের ভিতরে বিশৃঙ্খলা ও অগ্নিসংযোগে অন্তত ৬৮ জন মারা গেলেন ভেনেজুয়েলায়।
 পৃথিবীকে ভবিষ্যৎ প্রজন্মের জন্য সুরক্ষিত ও বাসযোগ্য করে তোলার ডাক দিল বিশ্বের প্রথম মানব রোবট 'সোফিয়া'।
 'বিশ্ব স্টাটিং প্যারা স্পোর্টস বিশ্বকাপ'এ ৫০ মিটার রাইফেল বিভাগে সোনার পদক পেলেন ইরানের মহিলা স্টার্টার সারে জাতানমারদি।
 ইন্ডিয়ান প্রিমিয়র লিগ'এ সানরাইজার্স হায়দরাবাদ দলের অধিনায়ক হলেন কেন উইলিয়ামসন।
 ৩০ মার্চ: মণিপুরের প্রাক্তন মুখ্যমন্ত্রী রাজ কুমার দোরেন্দ্র সিং (৮৩ বছর) মারা গেলেন।
 ডুবোজাহাজ থেকে স্বদেশজাত ক্ষেপণাস্ত্র 'বাবর'এর সফল পরীক্ষামূলক উৎক্ষেপণ ঘটালো পাক-ই-স্তান। এই ক্ষেপণাস্ত্র ৪৫০ কিলোমিটার দূরের কোনো লক্ষ্যবস্তুকে আঘাত করতে সক্ষম হবে। সমুদ্রের তলদেশ থেকে নিখুঁতভাবে নিশানায় পৌঁছাবে 'বাবর'।
 এবার অনলাইনে বিয়ের রেজিস্ট্রেশন চালু করতে চলেছে পশ্চিমবঙ্গ সরকার। বিশ্বের যেকোনো প্রান্ত থেকে অনলাইনেই বিয়ের রেজিস্ট্রেশনের জন্য আবেদন করতে পারবেন পাত্র-পাত্রীরা।
 পেট্রোপণ্য বোঝাই প্রথম জাহাজ মার্কিন মূলক থেকে ভারতে এল। এর ফলে কয়লা ও অন্যান্য পুনর্নির্মাণ দ্রব্যের ক্ষেত্রে ভারত-মার্কিন যুক্তরাষ্ট্র, এই দুই দেশের মধ্যে সম্পর্ক আরও দৃঢ় হবে।




কর্ণাটক বিধানসভা নির্বাচনে ক্রিকেটার রাহুল দ্রাবিড়কে প্রচারদূত করল নির্বাচন কমিশন।

মধ্য প্রদেশে সরকারি কর্মচারীদের অবসরের বয়স ৬০ বছর থেকে বাড়িয়ে ৬২ বছর করার কথা ঘোষণা করলেন মুখ্যমন্ত্রী শিবরাজ সিং চৌহান। এর ফলে রাজ্যের ৫ লাখ নিয়মিত সরকারি কর্মচারী উপকৃত হবেন।
 পাক-ই-স্তান সীমান্তের কাছে পরিকাঠামো নির্মাণ জোরদার করার অংশ হিসাবে ভারতীয় বিমান বাহিনীর জন্য গুজরাতে বনসকাছা জেলার দিসা এলাকায় এক নতুন ফ্রন্টলাইন এয়ারবেস গড়ার সিদ্ধান্ত নিল কেন্দ্রীয় সরকার। এটি তৈরি করতে ১,০০০ কোটি টাকা খরচ করা হবে বলে ধারণা করা হচ্ছে।
 পৃথিবীর সবথেকে দীর্ঘতম সেতু তৈরি করার সিদ্ধান্ত নিল চীন। এটি হংকং, ম্যাকাও, মেন ল্যান্ডচায়নার সঙ্গে সংযোগ স্থাপন করবে।
 সিরিয়া থেকে শীঘ্রই সেনা প্রত্যাহার করার কথা ঘোষণা করলেন মার্কিন প্রেসিডেন্ট ডোনাল্ড ট্রাম্প।

পাক-ই-স্তানের পিরকো টোয়েন্টি-২০ সিরিজে তরোস্ত ইন্ডিজ ক্রিকেট দলকে নেতৃত্ব দেন জেসন মহম্মদ।
 ৩১ মার্চ: 'বোর্ড অফ কন্ট্রোল ফর ক্রিকেট ইন ইন্ডিয়া'এর (BCCI) দুর্নীতি দমন শাখার প্রধান হলেন অজিত সিং।
 ১৯৭১ সালে কাশ্মীরের হাতে জিনতাই হওয়া ইন্ডিয়ান এয়ারলাইন্স' বিমানের শাইলট ক্যাপ্টেন এম.কে. কাছক (৯৩বছর) মারা গেলেন।
 মার্কিন যুক্তরাষ্ট্রের 'মেরিল্যান্ড বিশ্ববিদ্যালয়'এর বিজ্ঞানীদের সমীক্ষা অনুযায়ী, আবহাওয়ার বদলের কারণে ১৯২০ সালের নিরিখে সাহারা মরুভূমির আয়তন বেড়েছে ১০%। এজন্য দায়ী মানুষ। দলের অন্যতম ভারতীয় বংশোদ্ভূত বিজ্ঞানী সুমন্ত নিগম জানিয়েছেন, এটা যেকোনো মরুভূমির জন্যই প্রযোজ্য। মরু অঞ্চলে বছরে ১০০ মিলিমিটার বা, তার কম বৃষ্টি হয়। তা কমছে।
 নদিয়া জেলার কল্যাণীর কাছে 'দিশ্বর গুপ্ত' সেতুর পাশে এক নতুন সেতু তৈরি করার সিদ্ধান্ত নিল পশ্চিমবঙ্গ সরকার। প্রসঙ্গত উল্লেখ্য, ডানকুনি থেকে মগুরা হয়ে ৩৪ নম্বর জাতীয় সড়ক পর্যন্ত এই সেতুর ওপর ছা লেনের নতুন রাস্তা তৈরি হবে। এজন্য পশ্চিমবঙ্গ সরকার ১,৭৫০ কোটি টাকা ব্যয় করবে।
 ঢাকা থেকে এবার সরাসরি বাস চলেবে কাঠমাণ্ডু পর্যন্ত। মাঝে ছুয়ে যাবে শিলিগুড়ি। এই প্রথম শিলিগুড়ি হয়ে তিনটি দেশের মধ্যে সরাসরি বাস চলাচল শুরু হচ্ছে। প্রসঙ্গত উল্লেখ্য, ২৩ এপ্রিল ঢাকা থেকে ছেড়ে 'শ্যামলী পরিবহন'এর একটি বাস শিলিগুড়ি এসে পৌঁছাবে। ২৪ এপ্রিল শিলিগুড়িতে রাত্রিযাপন। ২৫ এপ্রিল বাসটি পানিট্যাঙ্ক-কাঁকড়ডাঙা হয়ে পৌঁছাবে নেপালের নারায়ণঘাটে। সেখানে রাত্রিযাপন করে বাসটি কাঠমাণ্ডু পৌঁছাবে ২৬ এপ্রিল।
 রাজ্যের যেসব গ্রামে কোনো ব্যাঙ্কের শাখা নেই, সেখানে সব ঋণদানকারী সমবায় সমিতিতে ব্যাঙ্কের মর্যাদা দিতে চলেছে রাজ্য সমবায় দফতর। মোট ২,৬০০টি সমিতি ব্যাঙ্কের মর্যাদা পাবে। এইসব সমিতি থেকে ঋণের পাশাপাশি ব্যাঙ্কের যাবতীয় সুযোগসুবিধা পাওয়া যাবে।
 পুরনো দিল্লি রেলস্টেশন থেকে জম্মু মেলে ৬ জন যাত্রীকে নিয়ে এই প্রথম বেসরকারি সংস্থার বিলাসবহুল সেলুন কোচ প্রথম যাত্রা শুরু করল। প্রসঙ্গত উল্লেখ্য, শীতাতপ নিয়ন্ত্রিত ঘর-সহ ডালে পরিবেশ ও অ্যাটচড শৌচাগারও রয়েছে এই কোচে। আপাতত রেলওয়ে অফিসার ও ভিআইপিরা এই কোচে সফর করতে পারবেন।
 'উজ্জল স্পিড টেস্ট রিপোর্ট'এর তথ্য অনুযায়ী, মোবাইল ডেটা ব্যবহারের নিরিখে বিশ্বে বৃহত্তম হলেও ইন্টারনেট ডাউনলোড স্পিডের নিরিখে ১০৯তম স্থানে রয়েছে ভারত।
 নিযোজ্ঞা এড়িয়ে উত্তর কোরিয়াকে পণ্য পাচার ও সহযোগিতা করার জন্য ২১টি জাহাজ সংস্থা ও ২৭টি জাহাজকে 'কালো তালিকাভুক্ত' করল রাষ্ট্রসভার নিরাপত্তা পরিষদ। প্রসঙ্গত উল্লেখ্য, নিষিদ্ধ তালিকায় থাকা এইসব তেলবাহী ট্যাঙ্কার ও পণ্যবাহী কার্গো জাহাজ পৃথিবীর কোনো দেশের বন্দরে পণ্য নিয়ে যেতে পারবে না। আর তালিকায় নাম থাকা উত্তর কোরিয়ার এইসব প্রতিষ্ঠানের সম্পত্তি বাজেয়াপ্ত করা হবে।
 ১ এপ্রিল: শ্রীলঙ্কার ত্রিনকোমালি শোভাভরমে জলের ৩৫ ফুট গভীর থেকে উদ্ধার হল দ্বিতীয় বিশ্বযুদ্ধের সময় জাপানি বিমানবাহিনীর হামলায় ডুবে যাওয়া ব্রিটিশ যাত্রীবাহী জাহাজ 'দ্য এস এস সাগাইং' নামের এই জাহাজটি ১৯৪২ সালে জাপানের হামলার কবলে পড়ে ডুবে যায়। প্রায় ৭৫ বছর পর এই জাহাজটিকে উদ্ধার করল শ্রীলঙ্কার নৌবাহিনী। এই জাহাজটিকে ভাসিয়ে রাখার জন্য নৌবাহিনী জাহাজকে জেটি হিসাবে ব্যবহার করা হয়েছে।
 রাজ্যের ৬টি জেলার বেশ কয়েকটি খাল ও নদী সংস্কারের সিদ্ধান্ত নিল পঞ্চায়েত ও গ্রামোন্নয়ন দফতর। সেচ দফতরের সঙ্গে যৌথ উদ্যোগে ২০১৮-১৯ আর্থিক বছর থেকে এই প্রকল্পের কাজ শুরু হবে।
 রাজ্য সড়কে চলাচলকারী ব্যক্তিগত যানকে টোল ট্যাক্সের আওতাভুক্ত রাখার সিদ্ধান্ত নিল রাজস্ব সচিব। প্রসঙ্গত উল্লেখ্য, সরকারি হিসাবে দেখা গেছে, মোট ৫৬টি রাজ্য সড়কে প্রতিদিন প্রায় ১ লাখ

২৫ হাজার ব্যক্তিগত যান চলাচল করে। একাধিক সড়কপথে মোট ১৩৪টি টোল প্রকল্প করা হয়েছে।
 'ইন্ডিয়ান সেলুলার অ্যাসোসিয়েশন'এর তথ্য অনুযায়ী, কেন্দ্রীয় টেলি যোগাযোগ মন্ত্রী মনোজ সিনহা ও তথ্য প্রযুক্তি মন্ত্রী রবিশঙ্কর প্রসাদ জানালেন, চীনের পরেই দ্বিতীয় বৃহত্তম মোবাইল প্রস্তুতকারী দেশ হিসাবে জায়গা করে নিল ভারত।
 জাতীয় নিরাপত্তার কারণে মেসেজিং অ্যাপ্লিকেশন 'টেলিগ্রাম' বন্ধ করে দিয়ে তার বদলে নিজস্ব মেসেজিং অ্যাপ চালু করার সিদ্ধান্ত নিল ইরান সরকার।
 এইচ-ওয়ান বি ভিসা দেওয়ার ক্ষেত্রে নিয়ম আরও কঠোর করার সিদ্ধান্ত নিল মার্কিন প্রশাসন। প্রসঙ্গত উল্লেখ্য, এই ভিসা প্রদানকারী সংস্থা 'ইউএস সিটিজেনশিপ অ্যান্ড ইমিগ্রেশন সার্ভিসেস'এর (USCIS) তরফ থেকে জানানো হয়েছে, একই ব্যক্তির নামে একাধিক ভিসার আবেদন নাগত করে দেওয়া হবে।
 বাংলাদেশে টাইট্রিকারে ৪-২ ব্যবধানে হারিয়ে 'সস্তো ট্রফি'তে চ্যাম্পিয়ন হল কোরাল।
 লাটভিয়ার জেলেনা অস্ত্রশেঙ্কোকে ৭-৬ (৭-৫) ও ৬-১ ব্যবধানে হারিয়ে 'মিয়ামি ওপন টেনিস'এ মহিলাদের সিঙ্গেলসে চ্যাম্পিয়ন হলেন মার্কিন যুক্তরাষ্ট্রের গ্লোরিয়া স্টিফেন্স।
 জার্মানির আলেক্সান্ডার জেভেরেডকে ৬-৭ (৪-৭), ৬-৪ ও ৬-৪ ব্যবধানে হারিয়ে 'মিয়ামি ওপন টেনিস'এ পুরুষদের সিঙ্গেলসে চ্যাম্পিয়ন হলেন মার্কিন যুক্তরাষ্ট্রের জন রবার্ট ইসনের।
 মোনাকোকে ৩-০ গোলে হারিয়ে ফ্রান্সের 'কুপ দে ল লিগ'এ চ্যাম্পিয়ন হল প্যারিস সেইন্ট জার্মেইন।
 এর পর আগামী সপ্তাহে সঞ্চালক: পঙ্কজ দেওয়ান



কর্মসংস্থান গোষ্ঠীর
১৩২ পাতা
দাম: ১০ টাকা
সফল
 মার্চ সংখ্যা
 বেরিয়েছে **সাধারণ জ্ঞান**

রেলের গ্রুপ 'ডি' পরীক্ষার
 ৪ সেট সম্ভাব্য প্রশ্নোত্তর

আবগারি দফতরে সাব-ইন্সপেক্টর
 পদের পরীক্ষার ২ সেট সম্ভাব্য প্রশ্নোত্তর

প্রাইমারি টিচারের 'TET'
 পরীক্ষার ১ সেট সম্ভাব্য প্রশ্নোত্তর

● ভারত ও ভারতীয়দের বিশ্বরেকর্ড ● একনজরে ইতালি
 ● শিরোনামে আসা বই ● ইংরিজি, G.I. ও অফের শর্টকাট
 টিপস ● জীবন গড়ার মানেজমেন্ট ● খেলতে খেলতে
 নিজের গড়া ● তথ্যের মোড়কে জানা অজানা ● নোটবুক

ভারতীয়
 লেখকদের
 বিখ্যাত ইংরিজি
 বই

সেরা
 বিজ্ঞানীদের
 অভিধান

ফুল সার্ভিসের

■ ফিজিক্যাল এডুকেশন বিষয়ের পরীক্ষার ফল বেরিয়েছে। ওয়েবসাইটে জানতে পারলাম আমার রেজাল্ট 'Rejected Due to the Overage'. বিষয়টি জানতে চাই। আমি প্যারা টিচার, বয়স ৫০ বছর। — রঞ্জিত পাল, রায়গঞ্জ, উত্তর দিনাজপুর।

■ যে তারিখের হিসাবে বয়স চাওয়া হয়েছিল, সেই তারিখের হিসাবে বয়স বেশি হয়ে যাচ্ছে কিনা দেখুন। পরীক্ষার না হলে স্কুল সার্ভিস কমিশনের অফিসে যোগাযোগ করুন।

নেট ও সেট'এর

■ ও.বি.সি. - এ ক্যাটেগরির প্রার্থী। মাধ্যমিকে ৫৭%, উচ্চমাধ্যমিকে ৬১%, বি.এ. পাস কোর্সে ৫৬%, বি.এড. 'এ' ৬০%, এম.এ. বাংলা বিষয়ে ৫৪% নম্বর আছে। 'নেট' বা 'সেট' পরীক্ষা দিতে পারব কি? 'নেট' বা 'সেট' এ সফল হলে বাংলা বিষয়ে অ্যাসিস্ট্যান্ট প্রফেসর হতে পারব কি? — সদবুল ইসলাম, গৌরবাজার, বাঁকুড়া।

■ হ্যা, পারবেন।

ইউ.পি.এস.সি.'র

■ আর্টস শাখায় থ্রাজুয়েট হওয়ার পর আই.পি.এস. পরীক্ষার জন্য দরখাস্ত করতে পারব কি? এই পরীক্ষার জন্য শারীরিক সক্ষমতা কেমন থাকতে হবে? এই পরীক্ষার জন্য মাধ্যমিক, উচ্চমাধ্যমিক বা ডিগ্রি কোর্সে কেমন নম্বর পেতে হবে? — অর্ধ সরকার, করিমপুর, নদিয়া।

■ যে কোনো শাখার থ্রাজুয়েটরা ইউ.পি.এস.সি.'র আই.পি.এস. পরীক্ষার জন্য দরখাস্ত করতে পারবেন। বয়স হতে হবে ২১ থেকে ৩২ বছরের মধ্যে। তপশিলীরা ৫ বছর, ও.বি.সি. সম্প্রদায়ের প্রার্থীরা ৩ বছর, দৈহিক প্রতিবন্ধীরা ১০ বছর আর প্রাক্তন সমরকর্মীরা যথারীতি বয়সে ছাড় পাবেন। সাধারণ প্রার্থীরা ৬ বার, ও.বি.সি.'র ৯ বার ও তপশিলীরা যতবার খুশি এই পরীক্ষা দিতে পারেন। ইউ.পি.এস.সি.'র সিভিল সার্ভিস পরীক্ষায় সফল হলে মাধ্যমিক, উচ্চমাধ্যমিক ও ডিগ্রি কোর্সে

পাওয়া নম্বরের কোনো কড়াকড়ি নেই।

প্রাইমারির

■ ২০১৫ সালে উচ্চমাধ্যমিক 'টেট'এর অ্যাডমিট কার্ড হারিয়ে গেছে। ইন্টারভিউয়ের কল লেটার পেতে অসুবিধা হবে কি? — কমল দাস, রুপুর, বোলপুর, বীরভূম।

■ ইন্টারভিউয়ের কল লেটার পেলে অ্যাডমিট কার্ড দেখতে চাওয়া হয়। সেক্ষেত্রে না দেখতে পারলে অসুবিধা হবে। তাই এখনই স্থানীয় পুলিশ স্টেশন জেনারেল ডায়েরি করে রাখুন।

■ প্রাইমারি 'টেট'এর পরীক্ষার দিন ঠিক হয়েছে কি? কোনো এক ওয়েবসাইটে দেওয়া হয়েছে প্রাইমারি 'টেট'এর পরীক্ষা হবে ২৯ এপ্রিল। এই তথ্যটি কি সঠিক? — বিকাশ দাস, হাওড়া।

■ পশ্চিমবঙ্গ প্রাথমিক শিক্ষা পর্ষদের সভাপতি মানিক ভট্টাচার্য জানান, প্রাইমারি টিচার পদের 'টেট'এর পরীক্ষার তারিখ এখনো ঠিক হয়নি। তবে পরীক্ষা নেওয়া হবে তাও এখনো জানানো যাচ্ছে না। তবে প্রাথমিক শিক্ষা পর্ষদের

ওয়েবসাইট জাল করে সেখানে পর্ষদের সচিব রঞ্জা বাগচির স্বাক্ষর-সহ এক বিজ্ঞপ্তি প্রকাশ করেছে যে প্রাইমারি 'টেট' হবে ২৯ এপ্রিল। আর ১৫ এপ্রিল থেকে অ্যাডমিট কার্ড অনলাইনে ডাউনলোড করতে পারবেন। পর্ষদের পক্ষ থেকে সব প্রার্থীদেরকে জানানো যাচ্ছে, প্রাইমারি 'টেট'এর কোনো পরীক্ষার তারিখ এখনো ঠিক হয়নি। পর্ষদের ওয়েবসাইট জাল করে এই তথ্য প্রকাশ করা হয়েছে। এ বিষয়ে পুলিশ স্টেশন লিখিত অভিযোগ করা হয়েছে। পুলিশ তদন্ত করছে।

প্রতিরক্ষা কারখানায়


■ অর্ডিন্যান্স ফ্যাক্টরিতে ট্রেড অ্যাপ্রেন্টিস নেওয়ার বিজ্ঞপ্তি কবে বেরোবে? শিক্ষাগত যোগ্যতা কি থাকবে? — বিশ্বজিৎ কুমার, পশ্চিম মেদিনীপুর।

■ জয়ন্ত ভৌমিক, ঘোষ কলোনি, হুগলি।

■ কেন্দ্রীয় সব কাঁচের প্রতিরক্ষা মন্ত্রকের অধীন পশ্চিমবঙ্গ-সহ দেশের ৩৯টি অস্ত্র তৈরির কারখানা 'ট্রেড অ্যাপ্রেন্টিস' হিসাবে প্রতি বছরই কয়েক হাজার ছেলেমেয়ের ট্রেনিং দেওয়া হয়। অস্ত্র ও বিজ্ঞান অন্যতম বিষয় হিসাবে নিয়ে মাধ্যমিক পাশ ছেলেরা এই দুই বিষয়ের প্রতিটিতে ৪০% ও মাধ্যমিকে মোট অস্ত্র ৪০% নম্বর পেয়ে থাকলে 'নন-আই.টি.আই. ক্যাটেগরি' হিসাবে আবেদন করতে পারেন। এন.সি.ডি.টি. বা, এস.সি.ডি.টি.'র স্বীকৃত আই.টি.আই. থেকে যে কোনো একটি ট্রেডে ২ বছরের সার্টিফিকেট কোর্স পাশ ছেলেরা 'আই.টি.আই. ক্যাটেগরি' হিসাবে আবেদনের যোগ্য। সব ক্ষেত্রে বয়স হতে হবে ১৪ থেকে ২২ বছরের মধ্যে। তপশিলীরা ৫ বছর, ও.বি.সি. সম্প্রদায়ের প্রার্থীরা ৩ বছর, প্রতিবন্ধীরা ১০ বছর বয়সে ছাড় পাবেন। ট্রেনিংয়ে সফল হলে চাকরি হতে পারে। তবে চাকরি দেওয়াটা বাধ্যতামূলক নয়। হস্টেল নেই। ট্রেনিং চলাকালীন ডাক্তারি খরচ পাবেন। প্রার্থী বাছাই হবে লিখিত পরীক্ষার মাধ্যমে। পরীক্ষা হবে পূর্ব-ভারতে কলকাতায়। 'নন-আই.টি.আই. বা, ফ্রেসার' আর আই.টি.আই. প্রার্থীদের বেলায় এক প্রশ্নপত্রে ১৫০টি অবজেক্টিভ মাল্টিপল চয়েজ টাইপের পরীক্ষা হবে এইমত বিষয়ে: (১) ইংরিজি, (২) জেনারেল নলেজ, (৩) অস্ত্র ও অ্যাপ্টিটিউড/রিজনিং। প্রশ্ন হবে মাধ্যমিক মানের। সময় থাকবে ৩ ঘণ্টা। নেগেটিভ মার্কিং নেই। কোনো ইন্টারভিউ নেই। সব ক্ষেত্রে প্রশ্ন হবে বাংলা, ইংরিজি, হিন্দি বা, ওড়িয়ায়। সফল হলে ডাক্তারি পরীক্ষা। বিজ্ঞপ্তি বেরোলে দরখাস্ত করবেন অনলাইনে, এই ওয়েবসাইটে: www.ofb.gov.in

চাকরির পরীক্ষার

কোনো প্রয় আছে? দরখাস্ত করেও কোনো খবর পাচ্ছেন না, নাকি পরীক্ষা দিয়েও ফল কবে বেরোবে জানতে পারছেন না? দরখাস্ত বাতিল হয়ে যাবে কিনা ভাবছেন? কবে, কোথায় পরীক্ষা হবে? কী কী বিষয় থাকবে? অ্যাডমিট কার্ড এখনো পাননি, কবে পাবেন বুঝতে পারছেন না? কোথায় যোগাযোগ করবেন? এইসব সাত-সতেরো প্রশ্নের উত্তর ধারাবাহিকভাবে দিচ্ছেন রঞ্জিত ঘোষ।



পুলিশে চাকরির

■ এবছর রাজ্য পুলিশ, কলকাতা পুলিশ ও জঙ্গল মহল পুলিশে লোক নেওয়া হবে কি? — শঙ্কর দাস, রামচন্দ্রপুর, বাঁকুড়া।

■ হ্যা, এবছর রাজ্য পুলিশে কনস্টেবল পদে প্রায় ৫,৭০২ জন লোক নেওয়ার বিজ্ঞপ্তি বেরিয়েছে। বিস্তারিত তথ্য এই সংখ্যায় দেওয়া হয়েছে। কলকাতা পুলিশ ও জঙ্গল মহলে নিয়োগের বিষয়ে আপাতত কোনো সিদ্ধান্ত হয়নি।

■ পশ্চিমবঙ্গ পুলিশে লেডি কনস্টেবল পদের প্রিলিমিনারি পরীক্ষা কবে হবে? — বাবলি বর্মন, দিনহাটা, কোচবিহার।

■ এখনো পরীক্ষার তারিখ ঠিক হয়নি।

জন্ম ২০১৮ সালের ডব্লিউ.বি.সি.এস. পরীক্ষার দরখাস্ত নেওয়া শুরু হয়েছে। কোনো স্বীকৃত বিশ্ববিদ্যালয় থেকে যে কোনো শাখার থ্রাজুয়েট ছেলেমেয়েরা আবেদন করতে পারেন। বয়স হতে হবে 'এ', 'সি' গ্রুপের বেলায় ২১ থেকে ৩৬ বছরের মধ্যে। আর 'বি' গ্রুপের বেলায় ২০ থেকে ৩৬ বছরের মধ্যে। 'ডি' গ্রুপের বেলায় ২১ থেকে ৩৯ বছরের মধ্যে। ২০১৯ সালের পরীক্ষার জন্য সব ক্ষেত্রেই বয়স গুণতে হবে '১-১-২০১৯' এর হিসাবে। ডব্লিউ.বি.সি.এস. পরীক্ষার বিজ্ঞপ্তি বেরোয় সাধারণত আগস্ট-সেপ্টেম্বর মাস নাগাদ। পরীক্ষা হয় জানুয়ারিতে।

■ ২০১৬ সালের জুনিয়র ইঞ্জিনিয়ার পদের মেকানিক্যাল শাখার ইন্টারভিউ হয়েছে। ফল কবে বেরোবে? — দীপক সরকার, হুগলি।

■ এ মাসেই ফল বেরোনোর সম্ভাবনা আছে।

■ ডব্লিউ.বি.সি.এস. পরীক্ষার ক্ষেত্রে দরখাস্ত করার সময় থেকে কতদিন সময়ে নিয়োগ হয়? — রঞ্জিত মোদক, চান্দামারী, কোচবিহার।

■ বিজ্ঞপ্তি বেরোনোর দিন থেকে নিয়োগ হতে অস্ত্র দেড় বছর সময় লাগে।

■ ডব্লিউ.বি.সি.এস. পরীক্ষায় 'বি' গ্রুপে সফল হলে কী কী পদে চাকরি পাওয়া যায়? — সাইন সেখ, বানীপুর, মিয়াপুর, মুর্শিদাবাদ।

■ 'বি' গ্রুপে সফল হলে রাজ্য পুলিশের 'ডি.এস.পি.' পদে চাকরি পাওয়া যায়।

বেলডাঙ্গা, মুর্শিদাবাদ।

■ হ্যা, পারবেন।

■ মাধ্যমিকে ৩৩%, ইংরিজিতে ২৫, অঙ্কে ৩৩ নম্বর আছে। পশ্চিমবঙ্গ স্টেট কাউন্সিল অফ টেকনিক্যাল অ্যান্ড ভোকেশনাল থেকে উচ্চমাধ্যমিক পাশ করেছি। সেনাবাহিনীতে ব্রাঞ্চ পদে যোগ্য কি? — শাকিব সুমন হক, নেহেরা, দক্ষিণ দিনাজপুর।

■ না, যোগ্য নন।

অন্যান্য চাকরির

■ রাজ্য সরকারের ম্যারেজ রেজিস্ট্রার হওয়ার জন্য কেমন শিক্ষাগত যোগ্যতা থাকা দরকার? বিজ্ঞপ্তি কবে বেরোবে? — শুক্লা ঘোষ, এয়ারপোর্ট ১নম্বর, কলকাতা - ৭৯।

■ পশ্চিমবঙ্গ সরকারের বিচার বিভাগের অধীন রাজ্যের সব ব্লক, পৌরসভা ও পৌরনিগম এলাকায় কাজের জন্য 'নন-অফিসিয়াল ম্যারেজ অফিসার' পদে লোক নেওয়া হয়। যে কোনো শাখায় উচ্চমাধ্যমিক পাশ ছেলেমেয়েরা আবেদন করতে পারেন। কম্পিউটারে কাজ চালানোর মতো জ্ঞান থাকতে হবে। স্থানীয় ভাষায় দক্ষতা থাকতে হবে। বয়স হতে হবে ২৫ থেকে ৪০ বছরের মধ্যে। যে এলাকার শূন্যপদের জন্য দরখাস্ত করবেন সেখানকার স্থায়ী বাসিন্দা হতে হবে। মিনি দরখাস্ত করবেন, তাঁকে অফিসে নিজের খরচে টেলিফোন সংযোগ করার ব্যবস্থা করতে হবে। অস্ত্র ১০০ বর্গফুটের মতো অফিস করার জায়গা থাকতে হবে। একাধিক ব্লকের জন্য দরখাস্ত করবেন না। সপ্তাহে অস্ত্র ৬ দিন কাজ করতে হবে বেলা ১০টা থেকে সাড়ে ৫টা পর্যন্ত। দরখাস্ত দেখে বাছাই প্রার্থীদের ডাকা হয়। বিজ্ঞপ্তি বেরোনোর নির্দিষ্ট কোনো সময়সীমা নেই। বিজ্ঞপ্তি বেরোলে তখন বিস্তারিত তথ্য পাবেন এই ওয়েবসাইটে: www.banglarmukh.gov.in

রাজ্য ও কেন্দ্রীয় সরকারের যে যে পদে এখনো দরখাস্ত করতে পারবেন

রাজ্য ও কেন্দ্রীয় সরকারের বিভিন্ন দফতরে লোক নেওয়ার খবর বেরোলেই তা খবাসময়ে 'কর্মসংস্থান' দেওয়া হয়। অনেক ক্ষেত্রে দেখা যায়, প্রার্থী সেই সংখ্যা সংগ্রহ করতে না পারার জন্য দরখাস্ত করতে পারেন না। তাই প্রার্থীদের সুবিধার জন্য এখনো কোন কোন পদে দরখাস্ত করার সুযোগ আছে, তা এক নজরে দেওয়া শুরু হল।

পদ	যোগ্যতা	শূন্যপদ	শেষ তারিখ	ওয়েবসাইট
পুনে ক্যান্টনমেন্ট বোর্ডে ক্লার্ক, নার্স, ড্রাইভার	মাধ্যমিক, নার্সিং উচ্চমাধ্যমিক	৭১	৭.৪.২০১৮	www.punecantonmentboard.org
কলকাতা পুর নিগম সাব-অ্যাসি. ইঞ্জিনিয়ার	ডিপ্লোমা	৫৭	১৬.৪.২০১৮	www.msccwb.org
কলকাতা পুর নিগমে সাব-অ্যাসি. ইঞ্জিনিয়ার	পলিটেকনিক	৫৭	১৬.৪.২০১৮	www.msccwb.org
ফরেন্স্ট রিসার্চ ইনস্টিটিউটে ক্লার্ক, টেকনিশিয়ান,	মাধ্যমিক, উচ্চমাধ্যমিক	৮৯	২১.৪.২০১৮	http.fri.res.in
কোচবিহার ডিস্ট্রিক্ট জজ কোর্টে স্টেনোগ্রাফার	মাধ্যমিক	৫৭	২৫.৪.২০১৮	https://cbdcjobs.net
কুমিল্লা নগর, বৃন্দাবনপুর বর্ধমান, কামারহাটি পুরসভায় ক্লার্ক ও পিওন	এইট পাশ ও মাধ্যমিক	১৮৫	২ থেকে ১০-৪-২০১৮	www.burdwanmunicipality.gov.in www.kamarhatimunicipality.org www.wbdma.gov.in www.krishnanagarmunicipality.com
এয়ারপোর্টে জুনিয়র এন্সিকিউটিভ	ইঞ্জিনিয়ারিংয়ের ডিগ্রি	৫৪২	২৭.৪.১৮	www.aai.aero
পূর্ববঙ্গ পুলিশ কনস্টেবল	মাধ্যমিক	৭০২	৩০.৪.২০১৮	www.policewb.gov.in
UPSC ইন্ডিয়ান ইকনমিক স্ট্যাটিস্টিক্যাল সার্ভিসেস	পোস্ট-গ্রাজুয়েট	৪৬	১৬.৪.২০১৮	www.upsconline.nic.in
UPSC জিও-সার্ভিসেস জিওলজিস্ট	পোস্ট-গ্রাজুয়েট	৭০	১৬.৪.২০১৮	www.upsconline.nic.in
সুপ্রিম কোর্টে জুনিয়র কোর্ট অ্যাস্ট্যান্ট	মাধ্যমিক	৭৮	১৫.৪.২০১৮	www.sci.gov.in
অ্যাটমিক এনার্জি এডুকেশন সোসাইটিতে শিক্ষক	উচ্চমাধ্যমিক গ্রাজুয়েট, পি.জি.	৫০	৭.৪.২০১৮	www.aees.gov.in
যাদবপুর বিশ্ববিদ্যালয়ে সহ-অধ্যাপক	পোস্ট-গ্রাজুয়েট	১১২	২৭.৪.২০১৮	www.jaduniv.edi.in

পারিক সার্ভিসের

■ ডব্লিউ.বি.সি.এস. পরীক্ষার বিজ্ঞপ্তি কবে বেরোবে? এই পদের জন্য কেমন শিক্ষাগত যোগ্যতা ও বয়স থাকা দরকার? — গোলাম সায়ওয়াল জাহান, বর্ধনপুর, মুর্শিদাবাদ।

■ পশ্চিমবঙ্গ সরকার বিভিন্ন ব্লকের 'ব্লক ডেভেলপমেন্ট অফিসার', 'কমার্শিয়াল ট্যাক্স অফিসার', 'অ্যাগ্রিকালচারাল ইনকাম ট্যাক্স অফিসার', 'এজাইজ অফিসার', 'কো-অপারেটিভ সোসাইটির অ্যাসিস্ট্যান্ট রেজিস্ট্রার', 'লেবার অফিসার', 'ফুড অ্যান্ড সাপ্লাই অফিসার', 'এমপ্লয়মেন্ট অফিসার (টেকনিক্যাল বাদে)', 'রেজিস্ট্রেশন অ্যান্ড স্ট্যাম্প রেভিনিউ অফিসার', 'রাজ্য পুলিশের ডি.এস.পি.', 'জয়েন্ট ব্লক ডেভেলপমেন্ট অফিসার', 'ডেপুটি অ্যাসিস্ট্যান্ট ডিরেক্টর অফ কনজিউমার্স অ্যাফেয়ার্স অ্যান্ড ফেরার বিজনেস প্র্যাক্টিসেস', 'অ্যাসিস্ট্যান্ট ক্যানাল রেভিনিউ অফিসার (ইরিগেশন)', 'জুনিয়র সোশ্যাল ওয়েলফেয়ার অফিসার', 'সাব-অর্ডিনেট ল্যান্ড রেভিনিউ অফিসার', 'অ্যাসিস্ট্যান্ট কমার্শিয়াল ট্যাক্স অফিসার', 'কারেকশনাল সার্ভিসের চীফ কন্স্ট্রোলার অফিসার', 'কো-অপারেটিভ সোসাইটি'র ইন্সপেক্টর', 'পঞ্চায়তের এগ্রটেনশন অফিসার', 'পঞ্চায়ত ডেভেলপমেন্ট অফিসার' ও 'রি-হ্যাবিলিটেশন অফিসার' পদে কয়েকশো ছেলেমেয়ে নেওয়ার

সেনাবাহিনীর

■ এন.আই.ও.এস. থেকে মাধ্যমিক পাশ করেছি। সেনাবাহিনীতে যোগ দিতে পারব কি? — অমর মন্ডল, কালিতলা,

উত্তর পেতে শুধুমাত্র পোস্ট কার্ড পাঠাবেন ও তাতে নিজের নাম-ঠিকানা ও ফোন নং লিখবেন। পোস্ট কার্ডে ঠিকানার জায়গায় নিচের অংশটি কেটে আঠা দিয়ে সের্বিটে দেবেন। জিজ্ঞাসা বিভাগের পত্রের শূন্যস্থানে কোন বিভাগের চিঠি (রেল, ব্যাঙ্ক, পি.এস.সি. কিনা) তা লিখে দেবেন।

কর্মসংস্থান
জিজ্ঞাসা বিভাগ
১২/৩/৪, জামির লেন
কলকাতা-৭০০ ০১৯

সম্ভাব্য প্রশ্নোত্তর

CHILD DEVELOPMENT & PEDAGOGY

- কোনটা বুদ্ধির প্রকার নয়?
 - (A) মানবিক বুদ্ধি (B) অমর্ত্য বুদ্ধি
 - (C) মূর্ত্য বুদ্ধি (D) সামাজিক বুদ্ধি
- শিক্ষকদের নিজেদের শিক্ষার্থীদের সামূহিক গতিবিধিতে शामिल করার পরামর্শ দেওয়া হয়ে থাকে কারণ শেখাকে সৃণম করে তোলা ছাড়া এটাতেও সহায়তা প্রদান করে —
 - (A) মূল্য স্বদ্ধ (B) আক্রামকতা
 - (C) দৃষ্টিভঙ্গি (D) সমাজীকরণ
- পিয়াজের মতনুসারে, সংজ্ঞানায়ক বিকাশের কোন পর্যায়ে বাচ্চা বৈষ্ণু স্থায়ী প্রদর্শিত করে?
 - (A) সংবেদী প্রেরক পর্যায় (B) প্রাক-সংক্রিয়ানায়ক পর্যায় (C) মূর্ত্য সংক্রিয়ানায়ক পর্যায় (D) অপারেশনাল সংক্রিয়ানায়ক পর্যায়
- সীমা সকল পাঠ অত্যন্ত দ্রুত শিখে নেয় অন্য দিকে লীনা শিখতে বেশী সময় দেন। এটা বিকাশের সিদ্ধান্তের প্রদর্শন করে —
 - (A) নিরন্তরতা (B) স্বাভাবিক থেকে বিশিষ্টের প্রতি (C) ব্যক্তিগত ভিন্নতা (D) অল্প সম্বন্ধ
- ক্লোহেলবার্গের মতনুসারে, সঠিক আর ভুল প্রক্রের ব্যাপারে নির্ণয় গ্রহণ করতে शामिल চিন্তন প্রক্রিয়াকে কী বলা হয়?
 - (A) নৈতিক যথার্থবাদ (B) নৈতিক সুবিধা (C) সহযোগের নৈতিকতা (D) নৈতিক যুক্তি
- এক ভালো পাঠ্য-পুস্তক..... এড়িয়ে চলে।
 - (A) লৈঙ্গিক পূর্বপ্রহ্ন (B) লৈঙ্গিক সংবেদনশীলতা
 - (C) লৈঙ্গিক সমানতা (D) সামাজিক দায়িত্ব
- ডাইক্রেনিয়া মুখ্য রূপের সমস্যার সাথে সম্বন্ধিত হয় —
 - (A) বলা (B) বলা আর শোনা
 - (C) শোনা (D) পড়া
- ব্রহ্ম হ্রাসে গ্রন্থ বাচ্চাদের ক্লাসে সব থেকে বেশি কোন নৈরাশ্য (কুটা)র মুখোমুখি হতে হয়?
 - (A) প্রস্তাবিত পাঠ্য-পুস্তক পড়ার অক্ষমতা (B) খেলাধুলার অংশ গ্রহণ করার অক্ষমতা (C) অন্যদের সাথে সম্প্রেশন ভাবে আদান প্রদান করার আর তথ্য ভাগ করে নেওয়ার অক্ষমতা (D) অন্যান্য বিদ্যার্থীদের সাথে পরীক্ষা দেওয়ার অক্ষমতা
- সৃজনায়ক মুখ্য রূপে র সাথে সম্বন্ধিত হয় —
 - (A) অভিসারী চিন্তন (B) অপসারী (বহুবিধ) চিন্তন (C) মডেলিং (D) অনুকরণ
- শিক্ষকদের নিজেদের শিক্ষার্থীদের ক্রটির অধ্যয়ন করা উচিত, কারণ তারা প্রায়ই র প্রতি সংকেত করে —
 - (A) তাদের জ্ঞানের সীমা (B) আবশ্যিক নিরাময়কারী যুক্তি (C) যোগ্যতা অনুসারে শিক্ষার্থীদের ভিন্ন গাইড লাইন (D) ভিন্ন প্রকারের পাঠ্যচার আবশ্যিকতা
- যখন অতীতের শিক্ষণ নতুন পরিস্থিতির শেখাকে একেবারেই প্রভাবিত করে না তখন সেটাকে ... বলা হয় :
 - (A) শিক্ষণের ইতিবাচক স্থানান্তর (B) শিক্ষণের নেতিবাচক স্থানান্তর (C) শিক্ষণের শূন্য স্থানান্তর (D) শিক্ষণের নিরপেক্ষ স্থানান্তর
- সৃজনায়ক শিক্ষার্থী হচ্ছে সে, যে —
 - (A) উইং আর পেটিংয়ে কুশল (B) অত্যন্ত বুদ্ধিমান (C) পরীক্ষায় প্রতি বার ভালো নম্বর প্রাপ্ত করার যোগ্য (D) পার্স (ল্যাটারাল) চিন্তন আর সমস্যা সমাধানে ভালো
- প্রত্যেক বিদ্যার্থী নিজের বিশিষ্ট হয়। এর অর্থ?
 - (A) যে কোন দু'জন বিদ্যার্থী নিজেদের যোগ্যতা, রুচি আর প্রতিভায় এক সমান হয় না (B) শিক্ষার্থীদের মধ্যে না তো এক সমান বিশেষ্য থাকে আর না-ই তাদের লক্ষ্য এক সমান হয় (C) সকল শিক্ষার্থীদের জন্য এক সমান পাঠ্যচার সম্ভবপর হয় না (D) এক বিষয় রূপ-ক্লাসে শিক্ষার্থীদের ক্ষমতা বিকশিত করা অসম্ভব হয়
- সিদ্ধান্তের রূপে রচনাবাদ —
 - (A) অনুকরণের ভূমিকার ওপর কেন্দ্রিত হয় (B) দুনিয়ার ব্যাপারে নিজেদের দৃষ্টিকোণ নির্মাণ করার শিক্ষার্থীদের ভূমিকার ওপর জোর দেয় (C) তথ্য মনে রাখা আর পুনঃস্মরণ মাধ্যমে পরীক্ষা করার ওপর জোর দেয় (D) শিক্ষকের প্রভূত্বশালী ভূমিকার ওপরে জোর দেয়
- অবধারণাত্মক বিকাশ মুখ্য রূপে বের অংশ হয় —
 - (A) সংবেদনায়ক বিকাশ (B) বৌদ্ধিক বিকাশ (C) শারীরিক বিকাশ (D) সামাজিক বিকাশ

প্রাথমিক শিক্ষক-শিক্ষিকা পদের এবছরের সম্ভাব্য ১ সেট প্রশ্নোত্তর

পশ্চিমবঙ্গে প্রায় ১৫ হাজার প্রাথমিক শিক্ষক ও শিক্ষিকা পদের জন্য 'TET' এর দরখাস্ত নেওয়া হয়েছে। NCTE-র নতুন নিয়ম অনুযায়ী এবার শুধুমাত্র প্রশিক্ষণপ্রাপ্ত প্রার্থীরা 'TET' দিতে পারবেন। প্রার্থী বাছাইয়ের জন্য প্রথমে ১৫০ নম্বরের এই 'টিচার্স এলিজিবিলিটি টেস্ট (TET)'এ থাকবে এই ৫টি বিষয় : (১) শিশু মনস্তত্ত্ব ও উন্নয়ন - ৩০ নম্বর, (২) প্রথম ভাষা (যে মাধ্যমের স্কুলে দরখাস্ত করবেন সেই ভাষা) - ৩০ নম্বর, (৩) দ্বিতীয় ভাষা (ইংরেজি) - ৩০ নম্বর, (৪) অঙ্ক - ৩০ নম্বর, (৫) পরিবেশ বিজ্ঞান - ৩০ নম্বর। প্রশ্ন হবে অবজেক্টিভ মাল্টিপল চয়েজ টাইপের। প্রতিটি প্রশ্নে থাকবে ১ নম্বর। নেগেটিভ মার্কিং নেই। এই পরীক্ষায় ঠিক যে ধরনের প্রশ্ন আসার সম্ভাবনা, তেমন ১ সেট প্রশ্ন ও তার চটপট উত্তর বের করার বিশ্লেষণ দেওয়া হল।

- সব থেকে গভীর আর জটিল সমাজীকরণ হয় —
 - (A) যুক্তির গোটা জীবনে (B) কিশোরাবস্থায়
 - (C) প্রাক-বাল্যাবস্থায় (D) পৌঢ়াবস্থায়
- শিক্ষার্থী যা কিছু আগে শিখেছে সেটার পুনরাবৃত্তি আর প্রত্যাহরণে শিক্ষার্থীদের সহায়তা করাটা গুরুত্বপূর্ণ হয়, কারণ —
 - (A) এটা যে কোন ক্লাস-অনুমোদনের পক্ষে এক সুবিধাজনক সূত্রপাত হয় (B) নতুন তথ্যকে আগের তথ্যের সাথে যুক্ত করা শেখাকে সমৃদ্ধ করে তোলে (C) এটা পূর্ব পাঠের পুনরাবৃত্তি করার এক প্রত্যাশালী পদ্ধতি হয় (D) এটা শিক্ষার্থীদের স্মৃতিকে বাড়িয়ে তোলে ... যার ফলে শেখা সূত্র হয়
- পিয়াজের মতনুসারে বিকাশের প্রথম অবস্থা (জন্ম থেকে প্রায় ২ বছর বয়স পর্যন্ত) - তে বাচ্চা ... সব থেকে ভালো ভাবে শেখে —
 - (A) ইন্দ্রিয়গুলো প্রয়োগের মাধ্যমে (B) নিষ্ক্রিয় শব্দগুলো বোঝার মাধ্যমে (C) অমূর্ত্য পদ্ধতিতে চিন্তনের মাধ্যমে (D) ভাবের নতুন অর্জিত জ্ঞানের অনুপ্রয়োগের মাধ্যমে
- ভারতীয় সমাজের বহুভাষিক বিশেষত্বকে — দেখা উচিত।
 - (A) শিক্ষণ-প্রক্রিয়ায় বাধার রূপে (B) বিদ্যালয় জীবনে সমৃদ্ধ করে তোলার সংশোধনের রূপে (C) বিদ্যার্থীদের শেখার জন্য প্রেরিত করতে শিক্ষক - যোগ্যতার চ্যালেঞ্জার রূপে (D) শিক্ষার্থীদের জন্য বিদ্যালয় জীবনে এক জটিল অভিজ্ঞতা হিসাবে পেশ করার এক কারকের রূপে
- নীচের কোন উক্তিকে শেখার উপলক্ষিত ব্যাপারে মানা যেতে পারে না?
 - (A) শেখা হচ্ছে এক প্রক্রিয়া ... যেটা ব্যবহারে মধ্যস্থতা করে (B) শেখা এমন জিনিস হয় ... যেটা কিছু অভিজ্ঞতার পরিণাম স্বরূপ ঘটে (C) ব্যবহারকে অধ্যয়ন শেখায় (D) শিক্ষণও শেখার এক অংশ হয়
- নীচের কোনটা বোঝার জন্য শিক্ষণ - কে প্রদর্শিত করে না?
 - (A) শিক্ষার্থীদের অবধারণাকে নিজের শব্দে অভিযুক্ত করতে বলা (B) নিয়ম কি ভাবে কাজ করে, সেটা স্পষ্ট করার জন্য উদাহরণ প্রস্তুত করার জন্য বিদ্যার্থীদের পড়ানো (C) সমানতা আর পার্থক্য দেখা ও সাদৃশ্যতা স্থাপিত করার জন্য বিদ্যার্থীদের সহায়তা করা (D) বিদ্যার্থীদের তথ্য আর প্রক্রিয়া মনে করার যোগ্য করে তোলা
- পুরস্কার হচ্ছে —
 - (A) বাহ্যিক প্রেরণা (B) আভ্যন্তরীণ প্রেরণা
 - (C) জন্মগত (D) সবই সঠিক
- দুর্বল বাচ্চাদের জন্য সমেকিত শিক্ষার কেন্দ্রীয় প্রক্রের উদ্দেশ্য হচ্ছে তে দুর্বল বাচ্চাদের শৈক্ষিক সুযোগ প্রদান করা —
 - (A) রেগুলার স্কুল (B) স্পেশাল স্কুল (C) ওপেন স্কুল (D) মাইন্ড রিফ্রেশন-এর স্কুল
- শৈক্ষিক প্রযুক্তির অর্থ হচ্ছে —
 - (A) শিক্ষণ ত্রিমাত্রের যাত্রীকরণ করা (B) জ্ঞানের প্রচার করা (C) জ্ঞান সঞ্চয় করা (D) জ্ঞানের বিকাশ করা
- চেয়ারে বসার সময় ছাত্রদের উরুর সাথে পায়ের কত ডিগ্রি কোণ তৈরি হওয়া উচিত?
 - (A) ৯০ ডিগ্রি (B) ৬০ ডিগ্রি
 - (C) ৪৫ ডিগ্রি (D) ৭৯ ডিগ্রি
- বিদ্যালয় সমন্বয়ন প্রক্রের বিশেষত্ব হচ্ছে?
 - (A) শৈক্ষিক প্রবৃত্তিগুলোর ওপরেই বিশেষ জোর দেওয়া (B) শিক্ষা যোজনায় গুণগত উন্নতি নিয়ে আসা (C) শিক্ষকদের ভালোর ওপরে দৃষ্টি দেওয়া (D) কো-এডুকেশন প্রবৃত্তির ওপরে বিশেষ মনোযোগ দেওয়া
- শেখার উপযুক্ত প্রক্রিয়া কেমন?
 - (A) সরল থেকে কঠিন
 - (B) কঠিন থেকে সরল (C) সরল (D) কঠিন
- গোষ্ঠীত্ববাদীদের মতনুসারে অসুদৃষ্টিকে প্রভাবিত করে —
 - (A) বুদ্ধি (B) সমস্যার রচনা
 - (C) প্রত্যক্ষীকরণ (D) সবকটা
- কোহলর নিজের শিক্ষণ সিদ্ধান্ত প্রতিপাদিত করার জন্য কার ওপর প্রয়োগ করেছিলেন?
 - (A) অ্যালবার্ট নামক বাদরের ওপরে
 - (B) অ্যালবার্ট নামক শিম্পাঞ্জীর ওপরে (C) সুলতান নামক বাদরের ওপরে
 - (D) সুলতান নামক শিম্পাঞ্জীর ওপরে
- ৬ বনমানুষ আর কলার প্রয়োগ করেছিলেন কে?
 - (A) কোহলর (B) স্কিনার
 - (C) গুড (D) ডেভিস

ভাষা : বাংলা

- 'রতন' শব্দটি ধ্বনি পরিবর্তনের কোন রীতিতে হয়েছে?
 - (A) ব্যঞ্জনগম (B) অপিনিহিত
 - (C) অভিশ্রুতি (D) স্বরাভক্তি
- পিণ্ডিনা চরিত্রটি কার সৃষ্টি?
 - (A) নারায়ণ গঙ্গোপাধ্যায় (B) নারায়ণ দেবনাথ
 - (C) আশুতোষ মুখোপাধ্যায় (D) নারায়ণ সান্যাল
- 'তা ভেবেই পাই না।' — কোন বাচ্চের অন্তর্গত?
 - (A) ভাববাচা (B) কর্তৃবাচা (C) কর্মবাচা (D) কর্তৃকর্মবাচা
- বঙ্কিমচন্দ্রের ইংরেজি উপন্যাসটির নাম কী?
 - (A) Raimohan's Wife (B) Rammohan's Wife
 - (C) Rajmohan's Wife (D) Laimohan's Wife
- 'মহেশ' পদে মহেশের মালিক কে ছিল?
 - (A) তর্কর মশাই (B) গফুর জোলা
 - (C) ফারুক হুসেন (D) মুস্তাফা
- শুভ্র বানান কোনটি?
 - (A) উৎকৃষ্ট (B) উৎকৃষ (C) উৎকৃষ্ট (D) উৎকৃষ্ট
- 'রেখো মা, দাসের মনে / এ মিনতি করি পদে' — এই চরণটি কোন কবির লেখা?
 - (A) মদনমোহন তর্কালকার (B) মধুসূদন দত্ত (C) ঈশ্বরচন্দ্র বিদ্যাসাগর (D) ঈশ্বরচন্দ্র গুপ্ত
- 'ই ই বসে যায়। শূন্যস্থানে উপযুক্ত শব্দ বসান।
 - (A) ক্ষীর বই (B) ক্ষীর দই (C) চিড়ে দই (D) মিষ্টি শৈ
- নিচের কোনটি শুদ্ধ বাংলা প্রত্যয়ের উদাহরণ?
 - (A) দুষ্ট + আমি = দুষ্টামি (B) দুষ্ট + আমি = দুষ্টালি
 - (C) খ্যা + জি = খ্যাতি (D) দা + তবা = দাতব্য
- 'ভায়ের মায়ের এত মেহ' — অংশটি কোন কবিতার অংশ?
 - (A) বসুন্ধরা (B) পৃথিবী
 - (C) মাটির গান (D) বই পড়ো
- 'মহামারির কবলে' — পদ্যংশটি শরৎচন্দ্রের কোন উপন্যাসের থেকে নেওয়া?
 - (A) পল্লীসমাজ (B) পন্ডিতমশাই
 - (C) বামনের মেয়ে (D) শুভ দা
- 'যদি আপনি ছাত্র ছাত্রীদের যা শেখাচ্ছেন তা বুঝতে তারা ব্যর্থ হয়, তাহলে তাদের সাহায্য করার শ্রেষ্ঠ উপায় কোনটি?
 - (A) সহজাত ভাষায় একই পাঠের পুনরাবৃত্তি (B) তাদের সমস্যাগুলি চিহ্নিতকরণ (C) শিক্ষকদের জন্য পথ প্রদর্শক বইগুলি পড়ে দেখা (D) তাদের পাঠ অভ্যাসের উন্নয়ন
- যদি কোনো ছাত্র ক্লাসে প্রায়ই অনুপস্থিত থাকে ও তার কোনো বোধগম্য কারণ না থাকে, তবে নিচের কোনটি যথার্থ ব্যবস্থা হবে?
 - (A) প্রধান শিক্ষককে ঘটনাটি বলা ও ছাত্রটিকে স্কুল বদলানোর নির্দেশ দেওয়া (B) ছাত্রের অভিভাবককে জানানো ও তাঁকে অনুরোধ করা যেন ছাত্রটিকে অন্য স্কুলে ভরতি করেন (C) পড়ানোর বিষয় ও ক্লাসে পড়ানোর পদ্ধতি সম্বন্ধে ছাত্রটির মনোভাব ভালো করে যাচাই করা (D) ছাত্রটিকে কোন কাউন্সেলিং সাইকোলজিস্টের কাছে পাঠানো ও তার পরামর্শ অনুযায়ী ব্যবস্থা নেওয়া
- ফ্রয়েডেবল শিক্ষাতত্ত্বের মূলভাবাদর্শ কোনটি?
 - (A) অবাধ স্বাধীনতা প্রদান (B) প্রক্ষেপমূলক আচরণের সংবেদন
 - (C) প্রতিযোগিতামূলক পরিবেশের সৃষ্টি (D) দৈহিক সুস্থতার বন্দোবস্থ
- নিবিড় (Integrated) শিক্ষার সাফল্য কিসের ওপর নির্ভরশীল?
 - (A) শিক্ষকের চেষ্টা (B) শিক্ষার সাজসরঞ্জাম উন্নত করা
 - (C) পাঠ্যবইয়ের উৎকর্ষ (D) সরকারের সমর্থন
- উত্তরপত্র দেখার সময় কী দেখে বেশি নম্বর দেওয়া উচিত শিক্ষকদের?
 - (A) ছব্ব বইয়ের লেখা লিখেছি কি না (B) ক্লাসে দেওয়া নোট ছব্ব লিখেছি কি না (C) সঠিক উত্তরটি নিজের ভাষায় লিখেছি কি না (D) রেফারেন্স বই কতটা পড়িয়েছি
- যৌবনগম শৈশবের পুনরাবৃত্তি-কে বলেছেন?
 - (A) আনেস্টি জেমস (B) কোহলর
 - (C) ফ্রয়েড (D) স্ট্যানলি হল
- নিচের কোনটি তৎসম শব্দ নয়?
 - (A) কৃষ (B) সূর্য (C) গিলি (D) প্রভাত
- নিচের কোনটি ভুল —
 - (A) জলরাশি (B) শিক্ষক রাশি
 - (C) ছাত্রবৃন্দ (D) শোরহুলি
- 'আহা' — কোন ধরণের অব্যয়?
 - (A) উচ্চারণ (B) স্পেশাল স্কুল (C) ওপেন স্কুল (D) মাইন্ড রিফ্রেশন-এর স্কুল

- (A) ফন্যাক (B) অনন্য
(C) সমুচ্চরী (D) পদানয়ী

56. 'বাবুরাম সাপুড়ে / কোথা যাস বাপু' — কোন কবির লেখা?

- (A) সুকুমার রায় (B) যোগীন্দ্রনাথ সরকার
(C) সুকুমার সেন (D) সমরেশ রায়

57. 'ইছামতী' উপন্যাসটি কার লেখা?

- (A) বিভূতিভূষণ মুখোপাধ্যায় (B) বিভূতিভূষণ বন্দ্যোপাধ্যায় (C) বিমল করা (D) বিমল মিত্র

58. 'আমি' — কোন ধরনের সর্বনাম?

- (A) নির্দেশক (B) ব্যক্তিব্যাক্য
(C) অনির্দেশক (D) আত্মব্যাক্য

59. 'অরণ্যে রোদন' বাগধারাটির অর্থ কী?

- (A) সবার সামনে কাঁদা (B) খারাপ সময় (C) নিম্নলি
প্রার্থনা (D) অবান্তর কথা

60. এঁদের মধ্যে সবচেয়ে নবীন কে?

- (A) মধুসূদন দত্ত (B) দীনবন্ধু মিত্র
(C) ঈশ্বরচন্দ্র বিদ্যাসাগর (D) বঙ্কিমচন্দ্র চট্টোপাধ্যায়

LANGUAGE : ENGLISH

61. Comprehensive Evaluation refers to assessment to

- (A) co-curricular activities (B) academic subjects (C) both scholastic and co-scholastic areas (D) summative assessment tests

62. A mixed ability group is heterogeneous in

- (A) economic status (B) gender and age (C) social strata (D) knowledge and skill

63. When a teacher asks her students to write a letter after having a group discussion, she is

- (A) adopting the Direct Method of language teaching (B) integrating different languages skills (C) following a traditional method (D) likely to confuse the students

64. Seating arrangement should be flexible in a language classroom because

- (A) it facilitates pair work and group work (B) it reduces the responsibility of the teacher (C) it helps the teacher in maintaining discipline (D) it helps learners change their places frequently

65. All round development of a child implies.

- (A) Providing vocational education for the learner to function in any work environment (B) Harmonious development of physical emotional and mental faculties (C) Specialized training to make the learner a 'Jack of all Trades' (D) Following the natural stages of child development

66. The most important feature of an effective language classroom is opportunity for learners to

- (A) relax (B) interact (C) evaluate (D) imitate

67. In learning a new language, multilingualism is

- (A) a methodology (B) an assist (C) an interference (D) a burden

Direction (Qs. 68-77) : Read the passage given below and answer the questions that follow by choosing the most appropriate option.

The study of history provides us many benefits. First, we learn something from the past. We may repeat mistakes, but, at least, we have the opportunity to avoid them. Second, history teaches us what questions we may ask about the present. Contrary to some people's view, the study of history is not the memorization of names, dates and places. It is the thoughtful examination of the forces that have shaped the courses of human life. We can examine events from the past and then draw inferences about current events. History teaches us about likely outcomes. Another benefit of the study of history is the broad range of human experience which is covered. War and peace are certainly covered as out national and international affairs. However, matters of culture (art,

প্রাথমিক শিক্ষক-শিক্ষিকা পদের
এবছরের সম্ভাব্য ১ সেট প্রশ্নোত্তর

literature and music) are also included in historical study. Human nature is an important part of history : emotions like passion, greed and insecurity have influenced the shaping of world affair. Anyone who thinks that the study of history is boring has not really studies history.

68. By studying history we can
(A) question the authority (B) repeat mistakes
(C) predict the future (D) avoid mistakes

69. Which method of teaching history would the author of this passage support ?

- (A) Analyzing wards and their causes (B) Applying historical events to modern society (C) Using flash cards to remember specific facts (D) Weekly quizzes of dates and events

70. History is all about

- (A) maps, information and detailed data (B) memorizing names, dates and places (C) understanding international affairs (D) studying about a broad range of human experience

71. History is not boring because

- (A) it is about the mistakes we make (B) it covers both war and peace (C) it studies human nature and culture (D) it is full of historical events

72. What is the main idea of this passage ?

- (A) Students should study both national and international history (B) Studying history helps us to learn from the past (C) Studying history is not just memorization (D) The role of history is to help students deal with real life

73. Pick out a word from the first paragraph that means the same as 'result'

- (A) Outcomes (B) Benefit (C) Inferences (D) Forces

74. What according to the passage is the duty of human beings ?

- (A) To digest knowledge (B) To study correctly (C) To acquires knowledge and develops the mind (D) To make ourselves cultured

75. Mind has been compared to

- (A) a perennial spring (B) a bucket (C) a deep well (D) a deep sea

76. For human beings, their brain is one of the two products of evolution, The other is their

- (A) self-culture and knowledge (B) keener sense of sight (C) instinct for living in a society (D) physical strength

77. What is man like if he does not develop and use his brain ?

- (A) He is greater than gods (B) He is akin to the motionless statues (C) He is like an angel (D) He is akin to the

beasts

Direction (Qs. 78-83) : Read the passage carefully and answer the questions given below :

A pundit was visiting a remote town. The people of the town worried him every day with invitations for lunch or dinner. 'I will only eat in a house where no one had ever told a lie,' said the pundit. A very rich man stepped up and said, 'Come to my house, Oh Master. No one in my home has ever told a lie.' The pundit accepted the invitation. Before going to the rich man's house, the pundit inquired about the rich man and learned everyday he could about him. Walking along with the rich man, the pundit asked, 'How many children do you have ?' 'Only one son,' replied the rich man. 'The people of this town said he had three sons ! Why is he saying he had only one ? Is he lying ?' Wondered the pundit, 'but I should not be too hasty to judge him. Perhaps he is telling the truth the truth. Let me wait.' 'How old are you now ?' asked the pundit. 'I am ten years old,' answered the rich man. 'There he goes again ! His hair is grey, his face has wrinkles, he can barely walk, and he says he is only ten years old ! No, No, I should not come to a rushed conclusion, I shall give him one more chance,' decided the pundit. 'How many acres of land do you have ?' asked the pundit. 'I have only six feet of land for myself,' said the rich man. 'This is like trying to hide a whole pumpkin in a spoonful of rice !' thought the pundit. 'this man is indeed the king of liars ! How can I eat in his house ? Will it turn me into a liar as well ? Let me see how far he can go.'

When they arrived at the house the rich man told his wife, we have a special guest today so make him your best lunch. I will take him to the lake for a walk. We will be back soon. On their way back from the river, they passed an orchard. The rich man plucked two ripe mangoes, and cut a bunch of ripe bananas. 'Whose orchard belongs to the ones who do not sleep a wink at night, replied the rich man. At the house, the rich man's wife had laid out the lunch. 'Please come and eat' she said. 'I need to clarify a few things first' declared the pundit. 'What is it ?' asked the rich man. 'I know you have three sons, why did you say you had only one ?' demanded the pundit. The rich man immediately called for his sons and gave them a task. The eldest and the youngest both said,

'Father, you are forever ordering us around.' Only the middle son promptly agreed to obey. 'Did you see that, Oh Master ?' asked the rich man. 'I do have three sons, but only one of them truly listens to me.' 'Fine, but why did you claim that you were ten years old ?' asked the pundit. 'I am over sixty', replied the rich man. 'But for the ten years, I have devoted myself to a spiritual life. I believe that it is only then since I have truly lived,' replied the rich man.

Excellent answer applauded the pundit, 'But you own thousands of acres of fertile land. Why did you claim to have only six feet ?' 'I have acquired thousands of acres of land, I did every trick in the trade to become rich, but it has only made my sons proud and arrogant. What use is all this wealth to me? When I die, the six feet of land where I will be buried is all that will truly be mine,' said the rich man. The pundit sat to eat. As he was taking his leave : he asked the rich man, 'What did you mean when you said the orchard belongs to the ones who do not sleep a wink at night ?' 'I do own to orchard and work hard tending to my trees, but at night, I am so tired that I fall asleep. Meanwhile the thieves, who stay awake all night, steal most of my yield. So, in the truth the orchard belongs to them' said the rich man.

78. On what condition did the pundit agree to invitations for lunch or dinner?

- (A) He would only eat from a rich man's plate (B) He would only eat in a house where no one had lied (C) He would eat in a house that cooked only vegetarian food (D) He would only eat from a banana leaf

79. Which of the following is said to be true of the rich man ?

- I. The rich man had three sons.
II. The rich man was fifty years old.
III. The rich man owned vast acres of land.

(A) Only I (B) Only II (C) Only III (D) Only I and III

80. What was the rich man trying to imply when he said that he was only ten years old ?

- (A) He had a near death experience ten years ago (B) The rich man was trying to appear younger than his actual age (C) He had truly lived only after he devoted himself of spiritual life (D) The rich man was trying to convey his innocence to the pundit

81. In the passage, why did the rich man say that he had only six feet of land, when he owned the whole orchard ?

- (A) He did not want the pundit to know tht the orchard belongs to him (B) The orchard as distributed equality among his sons and he had only six feet for himself (C) He believed that when he died, he would have only six feet of land that would truly be his (D) The land that was productive in the whole orchard was only six feet long

82. In the passage, what did the pundit imply by saying the phrase trying to hide a pumpkin in a spoonful of rice ?

- I. That only pumpkin and rice were served from dinner.
II. That the rich man was a liar.
III. That the rich man grew only pumpkins in the orchard.

(A) Only I (B) Only II (C) Only III (D) Only II & III

83. What did the rich man mean he said that the orchard belongs to the ones who do not sleep a wink at night ?

- (A) The orchard belonged to his sons who looked after it (B) The orchard belonged to the thieves who robbed from it (C) The owls looked after the orchard during the night (D) The orchard belonged to the neighbours

Direction (Qs. 84-88) : Read the passage given below and answer the questions that follow by choosing the most appropriate option.

Each sentence below has a blank/s; each blank indicated that something has been omitted. Choose the word/s that best fit(s) the meaning of the sentence as a whole.

84. Sunita had _____ been out of the hospital _____ she slipped and fractured her arm.
(A) hardly, when (B) just, as (C) well, and (D) then, when

85. During the strike, all work at the factory came to a _____.
(A) stoppage (B) close (C) decline (D) halt

86. A parable is a story with a moral, the story being _____ of the underlying moral.
(A) familiar (B) identical
(C) irrelevant (D) illustrative

87. Jason promised to _____ an attempt to get better grades this year.
(A) give (B) make
(C) take (D) keep

88. The teachers read _____ the children the story of the 'Titanic'.
(A) also (B) to
(C) again (D) well

Direction (Qs. 89-90) : Choose the word which is most nearly the SAME in meaning.

89. Close
(A) Near (B) Best
(C) determined (D) Secure

90. Route
(A) Road (B) Lane
(C) Path (D) Side

MATHEMATICS

91. এক দোকানে 239টি খেলনা রয়েছে। দোকানে আর 70টি খেলনা যোগ করা হল। সেগুলোর মধ্যে 152টি খেলনা বিক্রি হয়ে পড়ল। অবশিষ্ট খেলনার সংখ্যা কত?

- (A) 239 - 70 + 152 (B) 239 + 70 - 152
(C) 239 - 70 - 152 (D) 239 + 70 + 152

92. একটা পেন্সিলের মূল্য 2.5 টাকা। অমিত সেট ২০জন পেন্সিল কিনল আর দোকানদারকে 100 টাকার একটা নোট দিল। ও কত টাকা ফেরত পাবে?

- (A) 65 টাকা (B) 30 টাকা
(C) 55 টাকা (D) 45 টাকা

93. 3759×9573 -এর গুণফলে, দশক আর একক অঙ্কের যোগফল কত?

- (A) 9 (B) 16 (C) 0 (D) 7

94. 19 হাজার +19 শতক +19 একক-এর সমান কত?

- (A) 20919 (B) 19919 (C) 191919 (D) 21090

95. $\frac{1}{2}$ তে কত $\frac{1}{8}$ রয়েছে?

- (A) 4 (B) 2 (C) 16 (D) 8

96. কোন পাত্রের $\frac{1}{4}$ ভাগ করা হয়েছে। যখন সেটার থেকে 45

লিটার জল বার করে নেওয়া হবে... তখন সেটার ঠিক $\frac{1}{5}$ ভাগ জলে ভরা থাকবে। পাত্রের মোট ক্ষমতা কত?

- (A) 85 লিটার (B) 75 লিটার (C) 100 লিটার (D) 90 লিটার

97. যদি $2^x + 2^{x+1} + 2^{x+2} + 2^{x+3} = 30$ হয় তাহলে X-এর মান বার করুন :

- (A) 2 (B) 0 (C) 1 (D) 2

98. যদি রাজ প্রতি ঘন্টার 60 কিলোমিটার গতিতে আগ্রা থেকে গুরা গিয়ে প্রতি ঘন্টার 40 কিলোমিটার গতিতে ফিরে আসে... তাহলে সম্পূর্ণ সফর পুরো করার জন্য তার গড়গড়তা গতি কী হবে?

- (A) প্রতি ঘন্টার 77 কিলোমিটার
(B) প্রতি ঘন্টার 57 কিলোমিটার

(C) প্রতি ঘন্টার 48 কিলোমিটার (D) কোনোটিই নয়

99. কোন ব্যক্তি কোন বস্তুর 80 টাকার কিনে সেটার মূল্য 120 টাকা অর্ধিত করলেন। সেই বস্তু যদি 40% ছাড়ে বিক্রি করা হল, তাহলে তাঁর লাভ বা ক্ষতি কত হবে?

**প্রাথমিক শিক্ষক-শিক্ষিকা পদের
এবছরের সম্ভাব্য ১ সেট প্রশ্নোত্তর**

(A) 12% লাভ (B) 12% ক্ষতি (C) 10% লাভ (D) 10% ক্ষতি

100. যদি $\sqrt{a} + \sqrt{b} = 17$ ও $\sqrt{a} - \sqrt{b} = 1$ তাহলে \sqrt{ab} -এর মান কত?
(A) 72 (B) 17
(C) 18 (D) কোনোটিই নয়

101. দুই উত্তরোক্তর ছাড় 20% আর 15% -এর সমতুল্য এক ছাড় কত হবে?
(A) 38% (B) 35% (C) 20% (D) 32%

102. উদয়ের বেতন অবশেষের বেতনের থেকে 40% কম। অবশেষের বেতন উদয়ের বেতনের থেকে কত শতাংশ বেশি?
(A) $66\frac{2}{3}$ (B) $33\frac{2}{3}$
(C) 66 (D) 33

103. পণিত শিক্ষার উদ্দেশ্য হল -
(A) ব্যবহারিক (B) কৃষ্টিমূলক
(C) শৃঙ্খলামূলক (D) প্রতিটি সত্য

104. যদি $-\sqrt{24}$ এর মান প্রায় 4.898 হয়, তাহলে $\sqrt{\frac{8}{3}}$ -এর মান নীচের বিকল্পগুলোর মধ্যে কোনটার সব থেকে কাছের?
(A) 2.666 (B) 1.333
(C) 1.633 (D) 0.544

105. পণিত পাঠ্যক্রমের একটি নীতি হল -
(A) ভৌগোলিক নীতি নির্ধারণ (B) প্রাকৃতিক বিপর্যয়ের পূর্বানুভূতি (C) প্রাকৃতিক সম্পদের হিসাবনিকাশ (D) প্রাকৃতিক নিয়মাবলীর উত্তম ব্যাখ্যা সহায়তা

106. 1 থেকে 100 পর্যন্ত অভাজ্য সংখ্যা কত হবে?
(A) 31 (B) 19
(C) 25 (D) 23

107. এক বছর আগে এক ব্যক্তির বয়স তাঁর পুত্রের বয়সের চার গুণ ছিল। যদি 8 বছর পরে তাঁর আয়ু পুত্রের আয়ুর ঝিগুপের থেকে 9 বছর বেশি হয়... তাহলে সেই ব্যক্তির বর্তমান বয়স কত?
(A) 42 বছর (B) 36 বছর
(C) 33 বছর (D) 27 বছর

108. দুধ আর জলের 729 মিলি লিটার মিশ্রণে দুধ আর জলের অনুপাত হচ্ছে 7 : 2. আর কতটা জল ঢালা হলে দুধ আর জলের অনুপাত 7 : 3 হবে?
(A) 710 মিলি (B) 600 মিলি
(C) 520 মিলি (D) 81 মিলি

109. মডেল ব্যবহার কোন ধরনের শিক্ষণের ক্ষেত্রে অধিক উপযোগী?
(A) সাহিত্য (B) বিজ্ঞান
(C) সমাজ বিজ্ঞান (D) শিক্ষা বিজ্ঞান

110. কোন আয়তক্ষেত্রের দৈর্ঘ্য 60% বাড়িয়ে দেওয়া হল। সেটার প্রস্থ কত শতাংশ কম করে দিলে মোট ক্ষেত্রফলে কোন পার্থক্য হবে না?
(A) 37.5% (B) 75%
(C) 120% (D) 60%

111. দুটি ট্রেনের গতি ক্রমশ তাহলে ঘন্টার 45 কিলোমিটার ও প্রতি সেকেন্ডে 10 মিটার। তাদের গতির অনুপাত কত?
(A) 2 : 9 (B) 9 : 2

(C) 4 : 5 (D) 5 : 4

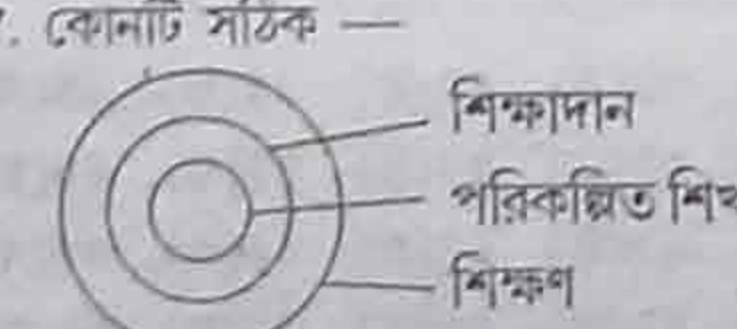
112. যদি $x = \sqrt{1 + \sqrt{1 + \sqrt{1 + \sqrt{1 + \dots}}}}$ হয়... তাহলে-এর ধনাত্মক মান কত?
(A) $\frac{\sqrt{7} + 1}{2}$ (B) $\frac{\sqrt{6} + 1}{2}$
(C) $\frac{\sqrt{3} + 1}{2}$ (D) $\frac{\sqrt{5} + 1}{2}$

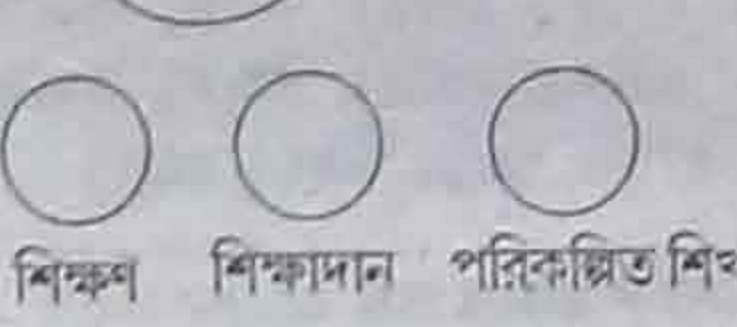
113. যদি $\frac{a}{3} = \frac{b}{4} = \frac{c}{7}$ হয়... তাহলে $\frac{a+b+c}{c}$ -এর মান কত হবে?
(A) 0 (B) 1 (C) 2 (D) 3

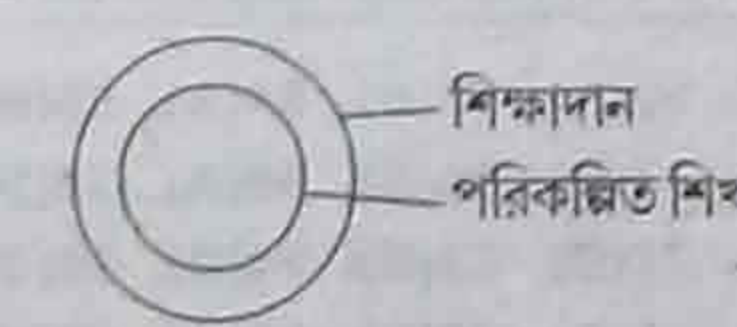
114. এক আয়তক্ষেত্রের পরিমিতি 78 মিটার আর সেটার ক্ষেত্রফল 350 বর্গ মিটার। সেটার দৈর্ঘ্য কত হবে?
(A) 21 মিটার (B) 24 মিটার
(C) 25 মিটার (D) 128 মিটার

115. যদি $a + \frac{1}{a} = 2$ হয়... তাহলে $a^3 + \frac{1}{a^3}$ -এর মান কত হবে?
(A) 2 (B) $2\sqrt{2}$ (C) 6 (D) 8

116. $\frac{573 \times 573 \times 573 + 227 \times 227 \times 227}{573 \times 573 - 573 \times 227 + 227 \times 227}$ -এর মান কত হবে?
(A) 800 (B) 827 (C) 576 (D) 900

117. কোনটি সঠিক -
(A) 

(B) 

(C) 

(D) কোনোটিই সঠিক নয়

118. শ্রী শর্মা নিজের মালিক উপার্জনের 30% বাড়ি ভাড়া ওপরে, 10% বাচ্চাদের শিক্ষণ ওপরে ও বাকি অর্ধের 50% ভোজন আর জামাকাপড়ের ওপরে খরচ করেন। যদি 3000 টাকাকে ব্যাঙ্কে জমা করা হয়... তাহলে শ্রী শর্মার প্রতি বছরের উপার্জন কত?
(A) 12,000 টাকা (B) 10,000 টাকা
(C) 1,20,000 টাকা (D) 1,40,000 টাকা

119. কোন সংখ্যার আট ভাগের পাঁচ ভাগ অন্য কোন সংখ্যার 50% -এর সমান। প্রথম আর দ্বিতীয় সংখ্যার মধ্যে অনুপাত কত হবে?
(A) 5 : 6 (B) 2 : 5 (C) 3 : 4 (D) 4 : 5

ENVIRONMENTAL STUDIES

120. খাদ্য সিরিজের প্রকরণ পড়ানোর বিদ্যার্থীদের অধিকতম অংশীদারীর জন্য নীচের কোন শিক্ষণ ব্যুহ রচনা সব থেকে প্রভাবশালী হবে?
(A) ব্ল্যাকবোর্ডে লেখা বিভিন্ন খাদ্য সিরিজের সকল উদাহরণ দেখে বিদ্যার্থীদের লেখার জন্য বলা (B) জীবেদের প্লে-কার্ডস বানানো আর

বিদ্যার্থীদের সমূহকে বিভিন্ন খাদ্য-সিরিজের চিত্র করে সেগুলোকে ব্যবস্থিতকরণের জন্য বলা (C) বিদ্যার্থীদের বিভিন্ন বাসস্থানে চলতে থাকার সম্ভাবিত খাদ্য-সিরিজের অনুসন্ধান করার জন্য বলা (D) বিদ্যার্থীদের ইন্টারনেট থেকে সম্বন্ধিত তথ্য একত্রিত করার জন্য বলা

121. পরিবেশ অধ্যয়নের শিক্ষিকা 'বায়ু' প্রকরণ পড়ানোর সময় এটা প্রদর্শিত করতে চাইলেন যে, বায়ুতে ওজন থাকে আর সেটা জায়গা গিয়ে থাকে। ওনার সহযোগী এই উদ্দেশ্যের জন্য ওনাকে নীচের চার আলাদা আলাদা পতিবিধির পরামর্শ দিলেন -

I. খালি ওপ্টানো বাক্যকে জলের তলদেশের ওপরে রাখা আর তারপর সেটাকে নীচের দিকে ধাক্কা দেওয়া।

II. স্ট্রোর মাধ্যমে জুস টানা।

III. বেলুনে হাওয়া ডরা।

IV. দুটো ফোলানে বেলুনকে একটা ছড়ির সাথে বাঁধা আর সামান্যদায় নিয়ে আসা। তারপর কোন একটা বেলুন ফাটিয়ে দেওয়া উপরোক্ত পতিবিধিগুলোর মধ্যে কোনটা বাঙ্কনীয় পরিণাম প্রদর্শিত করবেন?

(A) I আর IV (B) II আর IV

(C) I আর III (D) I আর II

122. নীচে উল্লেখিত কোনটা মাসোহারী ঘটক?
(A) ছাগল (B) হরিণ
(C) খরগোশ (D) লেকড়ে

123. নীচের কোনটা চাঁদের তলদেশের বিশেষত্বের ব্যাপারে সব থেকে ভালো বর্ণনা করে?
(A) জল নেই, পর্যাপ্ত হাওয়া, উঁচু পাহাড় (B) জল নেই, পড়ীর গর্ত, উঁচু পাহাড় (C) হাওয়া নেই, মাধ্যাকর্ষণ শক্তি নেই, জল নেই (D) হাওয়া নেই, মাধ্যাকর্ষণ শক্তি নেই, সমতল তলদেশ

124. সকল বড় শহরকে রাস্তায় ভারী সংখ্যায় বাহনের কারণে পরিবেশ প্রদূষণের মুখোমুখি হতে হচ্ছে। পরিবেশ সংরক্ষণের জন্য শহরের লোকেরা ব্যক্তিগত সহযোগ প্রদান করতে পারেন -
(A) আসা যাওয়া করার জন্য বাতায়ন ব্যবহার প্রয়োগ করা (B) বাড়ীর বাইরে যতটা সম্ভব কম বার হওয়া (C) ব্যক্তিগত বাহন, যেমন - স্কুটার গাড়ি ইত্যাদি না রাখা (D) পরিবেশ সুরক্ষিত সীমার জন্য নিয়মিত রূপে ব্যক্তিগত বাহনের ইঞ্জিন পরীক্ষা করানো

125. 'বায়ু সব জায়গায় রয়েছে' - প্রকরণ পড়ানোর সময় এক শিক্ষক বিদ্যার্থীদের নীচের প্রশ্ন করলেন :

(A) মাটিতে কি বায়ু আছে?

(B) জলের মধ্যে কি বায়ু আছে?

(C) আমাদের শরীরে কি বায়ু আছে?

(D) আমাদের হাড়ে কি বায়ু আছে?

শিক্ষক শিক্ষার্থীদের মধ্যে নীচের কোন কৌশল বিকশিত করার চেষ্টা করলেন?
(A) চিন্তন কৌশল (B) সংবেগাত্মক কৌশল
(C) অবলোকন কৌশল (D) বর্ণীকরণ কৌশল

126. এক ক্লাসের ভাগ 'ক'কে পেট্রোলিয়াম আর কয়লার ভাঙার খালি করা' প্রকরণ পড়ানোর জন্য মাল্টিমিডিয়া ক্যাপসুল - যের প্রয়োগ করা হয় ও ভাগ 'খ' কে গ্রীণ বোর্ডের ওপরে ডুইং তৈরি করে পড়ানো হল। পরে এটা দেখতে পাওয়া গেল যে, ভাগ 'ক'য়ের বিদ্যার্থীরা এক ভালো সীমা পর্যন্ত প্রকরণ বুঝতে পেরেছে। এমনটা হওয়ার পেছনে কারণ এটা হতে পারে -

(A) নিকট দৈনিক জীবনের অনেকটা (B) মাল্টি মিডিয়া সামগ্রীর প্রয়োগ অপেক্ষাকৃত মিতব্যয়ী (economical) হয় (C) অডিও ভিসুয়াল সামগ্রী বোঝার জন্য সকল ইন্দ্রিয়গুলোকে শামিল করে (D) গ্রীণ বোর্ড এক ভালো ভিসুয়াল সামগ্রী নয়

127. ভারতে সমৃদ্ধ বনস্পতিজাত আর প্রাণীজাত-য়ের ব্যাপারে পড়ার পরে, বিদ্যালয়ের মাধ্যমে প্রাথমিক ক্লাসের বিদ্যার্থীদের রণধর্মের ন্যাশনাল পার্কে নিয়ে যাওয়া হল। এটা বিদ্যার্থীদের...তে সহায়তা করবে -

(A) ক্লাসের বিষয়কে বাস্তবিক জীবনের অবস্থার সাথে যুক্ত করতে (B) পরিবেশ সংরক্ষণের জন্য কৌশলের বিকাশ করতে (C) বাইরের ভ্রমণে বন্ধুদের সাথে মজা করতে (D) প্রকৃতির প্রতি সম্মান বিকশিত করতে

128. অফিসিয়াল পরিবেশীয় শিক্ষার অর্থ কী?
(A) প্রাথমিক উচ্চতরীয় শিক্ষায় পাঠ্যক্রমের মাধ্যমে শিক্ষা (B) ব্যাখ্যান মাধ্যমে পরিবেশীয় শিক্ষা (C) ব্যাখ্যান মাধ্যমে পরিবেশীয় শিক্ষা (D) উপরোক্ত সব কটাই

প্রাথমিক শিক্ষক-শিক্ষিকা পদের এবছরের সম্ভাব্য ১ সেট প্রশ্নোত্তর

129. মনুস্মৃতির প্রোটোকল, ১৯৮৭-৭৯-এর মূখ্য উদ্দেশ্য কী ছিল?
(A) পরিবেশ সংরক্ষণ (B) ওজন পরত সংরক্ষণ
(C) জৈব সংরক্ষণ (D) কোনোটাই নয়
130. জলবায়ু পরিবর্তন আন্তর্জাতিক সন্ধি কোথায় সাক্ষরিত হয়েছিল?
(A) বনে (B) বার্লিনে
(C) কোটোতে (D) রিও-ডি-জেনেরোতে
131. চক্রবাতের কারণে সর্বাধিক বিনাশ কোন যন্ত্রের মাধ্যমে করা হয়?
(A) হিমালয় ক্ষেত্র (B) গাঙ্গেয় সমতল
(C) সমুদ্র তট (D) পার্বত্য ক্ষেত্র
132. গুজরাতের ভূজ শহর কোন প্রাকৃতিক বিপর্যয়ের কারণে ধ্বংস হয়েছিল?
(A) ভূমিকম্প (B) চক্রবাত
(C) বন্যা (D) আকাল
133. ভারতে মোট কতগুলি রাষ্ট্রীয় পার্ক আছে?
(A) 82 (B) 84
(C) 103 (D) 94
134. পরিবেশীয় শিক্ষার মূখ্য উদ্দেশ্য কী?
(A) পরিবেশীয় শিক্ষা মানবের পরিবেশ জনিত চেষ্টানকে জাগ্রত করে তুলে মানবিক আচরণকে সম্বলিত করে (B) পরিবেশীয় শিক্ষা হচ্ছে খোলা পরিবেশ গাছের নীচে বসে প্রদান করা শিক্ষা (C) পরিবেশীয় শিক্ষায় পরিবেশের তত্ত্বগুলি (ভৌতিক, জৈবিক, সাংস্কৃতিক)-এর শিক্ষা প্রদান করা হয় (D) পরিবেশীয় শিক্ষায় বায়ুমন্ডলের তত্ত্বগুলোর জ্ঞান প্রদান করা হয়
135. পরিবেশীয় শিক্ষায় কিসের শিক্ষা প্রদান করা হয়?
(A) পরিবেশীয় জ্ঞান (B) পরিবেশীয় সমস্যা (C) পরিবেশীয় ব্যবস্থাপনা ও লাগাতার উন্নতি (D) উপরোক্ত সব কটা
136. গন্যকে প্রদূষণ মুক্ত করার জন্য কেন্দ্রীয় পন্থা ডেভেলপমেন্টের গঠন করা হয়েছিল?
(A) 1972 সালে (B) 1982 সালে
(C) 1986 সালে (D) 1988 সালে
137. নীচের কোনটি প্রাকৃতিক বিপর্যয় নয়?
(A) বন্যা (B) ভূমিকম্প (C) অগ্নিকাণ্ড (D) ভূ-স্থলন
138. ভূ-স্থলন মাধ্যমে প্রভাবিত ক্ষেত্র
(A) ধর মরুভূমি (B) সমুদ্র তট
(C) হিমালয় ক্ষেত্র (D) গাঙ্গেয় সমতল
139. ভারতে বনে বাস করা আদিবাসী জাতি হচ্ছে
(A) গোল্ড (B) পিপমী
(C) সকাই (D) বাঞ্জারা
140. পার্বত্য ক্ষেত্রে পর্যটকদের নিজেদের বিশ্রাম শিবির কোথায় লাগানো উচিত?
(A) পার্বত্য স্থলে (B) খাড়া ঢালের নীচে
(C) খোলা জায়গায় (D) পাহাড়ীতে
141. কুম কী?
(A) ব্যবসা (B) খনন
(C) কৃষি (D) পশুপালন
142. ভারত সরকার পরিবেশ বিভাগ স্থাপন করেছিলেন কবে?
(A) 1950 (B) 1970
(C) 1975 (D) 1980
143. বিংশ শতাব্দীতে গড় তাপমাত্রার কতটা বৃদ্ধি হয়েছে?
(A) 0.1°C (B) 0.2°C
(C) 0.3°C (D) 0.5°C
144. শুদ্ধ জলে রাসায়নিক দৃষ্টিতে হাইড্রোজেন আর অক্সিজেনের কোন অনুপাত সঠিক?
(A) 1 : 2 (B) 2 : 2
(C) 2 : 1 (D) 1 $\frac{1}{2}$: 2 $\frac{1}{2}$
145. সামুদ্রিক জলে প্রদূষণ হয়
(A) পালওয়াল পৌকার প্রায়োগ মাধ্যমে (B) জলযান মাধ্যমে শেটোলিয়াম প্রায়োগ মাধ্যমে (C) ইন্ধনের রূপে খনিজ তেলের প্রায়োগ মাধ্যমে (D) উপরোক্ত কোনটাই নয়
146. জলকে প্রদূষিত করা তত্ত্বে নীচের কোনটা প্রভাবশালী?
(A) জলে বাসি, খনিজ পদার্থ (B) জলে শিল্পজনিত প্রদূষক মেশা (C) জলে মল মূত্র মেশা (D) উপরোক্ত সব কটা
147. পৃথিবীর তাপমাত্রা বৃদ্ধির কারণে কনস্পিটরি ওপরে-কি প্রভাব পড়বে?

- (A) কন্যি বৃদ্ধি পাবে (B) গাছপালা শুকিয়ে যাবে
(C) পৃথিবী কনস্পিটরি বিহীন হয়ে উঠবে (D) উপরোক্ত সব কটা
148. পরিবেশের ওপরে শহরীকরণে কি প্রভাব পড়ে?
(A) জল প্রদূষণ বেড়ে ওঠে (B) বায়ু প্রদূষণ বেড়ে ওঠে (C) ধ্বনি প্রদূষণ বেড়ে ওঠে (D) উপরোক্ত সব কটা
149. পরিবেশের ওপরে খননকার্যের কি প্রভাব পড়ে?
(A) কন স্পন্দন নষ্ট হয় (B) বায়ু প্রদূষণ বৃদ্ধি পায় (C) ধ্বনি প্রদূষণ বৃদ্ধি পায় (D) উপরোক্ত সব কটা
150. নব্যকর্মণীয় এনার্জী সংসোধন হচ্ছে
(A) কয়লা (B) কাঠ
(C) আনবিক ইন্ধন (D) বায়ু

চটপট উত্তরের বিশ্লেষণ

PART-III CHILD DEVT & PEDAGOGY

- 1(A). 2(D). 3(C). 4(C). 5(D). 6(B). 7(D).
8(C). 9(B). 10(C). 11(C). 12(D). 13(A).
14(B). 15(B). 16(B). 17(B). 18(A).
19(B). 20(B). 21(D). 22(A). 23(A).
24(A). 25(A). 26(B). 27(A). 28(D).
29(D). 30(A).

PART-I BENGALI LANGUAGE

- 31(D). 32(A). 33(B). 34(B). 35(A).
36(D). 37(C). 38(B). 39(C). 40(B).
41(A). 42(B). 43(B). 44(A). 45(A).
46(A). 47(B). 48(C). 49(B). 50(D).
51(C). 52(A). 53(A). 54(A). 55(B).
56(A). 57(B). 58(B). 59(C). 60(D).

PART-II ENGLISH LANGUAGE

- 61(C). 62(A). 63(B). 64(A). 65(B).
66(B). 67(B). 68(D). 69(A). 70(D).
71(C). 72(D). 73(B). 74(D). 75(C).
76(B). 77(D). 78(B). 79(A). 80(C).
81(C). 82(B). 83(B). 84(A). 85(C).
86(D). 87(C). 88(B). 89(A). 90(D).

PART-IV MATHEMATICS

- 91(A). অবশিষ্ট খেলনার সংখ্যা $239 + 70 - 152$. 92(B). দেড় ডজন = 18 টি। 18টি পেন্সিলের মূল্য 18×2.5 টাকা = 45 টাকা। তাহলে, $(100 - 45)$ টাকা = 55 টাকা ফেরত পাবে।
93(A).
$$\begin{array}{r} 3759 \\ \times 9573 \\ \hline \dots 77 \\ \dots 3x \\ \dots xx \\ \dots xxx \\ \hline \dots 07 \end{array}$$

তাহলে, একক ও দশকের অঙ্কের যোগফল $7 + 0 = 7$.

- 94(D). কো নি ল অ হা শ দ এ
$$\begin{array}{r} 19 \\ \cdot 19 \\ \hline + 19 \\ \hline 20919 \end{array}$$

- 95(A). $\frac{1}{2} \div \frac{1}{8} = \frac{1}{2} \times \frac{8}{1} = 4$
তাহলে, 4 বার রয়েছে। 96(B). মনে করি, পাত্রের ক্ষমতা x লিটার। তাহলে, $\frac{x}{4} - 45 = \frac{x}{5} \Rightarrow \frac{x}{4} - \frac{x}{5} = 45 \Rightarrow \frac{x}{20} = 45 \Rightarrow x = 900$.
97(A). $2^x + 2^{x+1} + 2^{x+2} + 2^{x+3} = 30$
 $\Rightarrow 2^x + 2^x \cdot 2 + 2^x \cdot 4 + 2^x \cdot 8 = 30$
 $\Rightarrow 15 \cdot 2^x = 30 \Rightarrow 2^x = 2 = 2^1$
তাহলে, x = 1. 98(B). গড় গতি ঘণ্টায় = $\frac{60+140}{2}$ কিলোমিটার। ঘণ্টায় = $\frac{100}{2}$ কিলোমিটার = ঘণ্টায় 50 কিলোমিটার।
99(D). 40% ছাড়ে বিক্রি করলে বিক্রয়মূল্য = $\frac{60}{100} \times 120 = 72$ টাকা। তাহলে, 80

- টাকায় ক্ষতি হয় $(80 - 72) = 8$ টাকা।
তাহলে, 100 টাকায় ক্ষতি হয় $\frac{8}{80} \times 100$ টাকা = 10 টাকা। 100(C). $\sqrt{a} + \sqrt{b} = 17$
 $\Rightarrow (\sqrt{a} + \sqrt{b})^2 = 17^2$
 $\Rightarrow a + 2\sqrt{ab} + b = 289$ — (i)
 $\sqrt{a} - \sqrt{b} = 1 \Rightarrow (\sqrt{a} - \sqrt{b})^2 = 1^2$
 $\Rightarrow a - 2\sqrt{ab} + b = 1$ — (ii)
(i) - (ii) করে পাই $4\sqrt{ab} = 288$

- তাহলে, $\sqrt{ab} = 72$. 101(A). 20% ছাড় \Rightarrow বিক্রয় মূল্য 80 টাকা ধার্যমূল্য 100 টাকা হলে 15% ছাড় \Rightarrow 80 টাকা ধার্যমূল্য হলে বিক্রয়মূল্য $\frac{85}{100} \times 80 = 68$ টাকা। তাহলে, মোট ছাড় $(100 - 68)$ টাকা = 32 টাকা।
102(D). অবশেষের বেতন 100 টাকা হলে উদয়ের বেতন 60 টাকা। তাহলে, অবশেষের বেতন 60 টাকায় বেশি 40 টাকা। তাহলে, 100 টাকায় বেশি $\frac{40}{60} \times 100$ টাকা = $\frac{200}{3}$ টাকা $66\frac{2}{3}$ টাকা। 103(D).
104(A). $\sqrt{24} \approx 4.898$
 $\Rightarrow \sqrt{8} \cdot \sqrt{3} \approx 4.898$
 $\Rightarrow \frac{\sqrt{8} \cdot \sqrt{3}}{3} \approx \frac{4.898}{3} \Rightarrow \sqrt{\frac{8}{3}} \approx 1.632$.

- 105(D). 106(A). অবিভাজ্য অর্থাৎ মৌলিক সংখ্যা।
তাহলে, 1 থেকে 100 পর্যন্ত অবিভাজ্য সংখ্যা 25টি। 107(D). মনে করি, 1 বছর আগে পুত্রের বয়স x বছর। তাহলে, 1 বছর আগে পিতার বয়স 4x বছর। তাহলে, 6 বছর পরে পুত্রের বয়স হবে $x + 1 + 6$ বছর ও 6 বছর পরে পিতার বয়স হবে $4x + 1 + 6$ বছর।
প্রশ্নানুসারে, $4x + 7 = 2(x + 7) + 9$
 $\Rightarrow 4x + 7 = 2x + 14 + 9$
 $\Rightarrow 2x + 16 = x + 8$

- তাহলে, ব্যক্তির বর্তমান বয়স $4 \times x + 1 = 32 + 1 = 33$ বছর। 108(B). দুধ আছে $729 \times \frac{7}{9}$ মিলি লিটার = 567 মিলি লিটার।
আর জল আছে $729 \times \frac{2}{9}$ মিলি লিটার =

- 162 মিলি লিটার।
মনে করি, আরও x মিলি লিটার জল ঢালা হল। তাহলে,
$$\frac{567}{162+x} = \frac{7}{3}$$

 $\Rightarrow 1134 + 7x = 1701 \Rightarrow 7x = 567$
 $\Rightarrow x = 81$. 109(B).
110(A). মনে করি, দৈর্ঘ্য 100 ও প্রস্থ 100
তাহলে, ক্ষেত্রফল 100×100 . এখন দৈর্ঘ্য = 160. ক্ষেত্রফল পরিবর্তন না হলে প্রস্থ $\frac{100 \times 100}{160} = \frac{125}{2} = 62.5$. তাহলে, প্রস্থ $100 - 62.5 = 37.5\%$ কমাতে হবে। 111(D). ঘণ্টায় 45 কিলোমিটার = সেকেন্ডে $\frac{45 \times 1000}{3600}$ মিটার = $\frac{25}{2}$ সেকেন্ডে।
তাহলে, অনুপাত $\frac{25}{2} : 10 = 25 : 20$
 $= 5 : 4$. 112(D). $x = \sqrt{1 + \sqrt{1 + \sqrt{1 + \dots}}}$
 $\Rightarrow x = \sqrt{1+x} \Rightarrow x^2 = 1+x$
 $\Rightarrow x^2 - x - 1 = 0$
তাহলে, $x = \frac{1 \pm \sqrt{1+4}}{2} = \frac{1 \pm \sqrt{5}}{2}$. 113(C). $\frac{a}{3} = \frac{b}{4} = \frac{c}{7} = x$ (ধরি)
তাহলে, $a = 3x$, $b = 4x$, $c = 7x$

- তাহলে, $\frac{a+b+c}{c} = \frac{14x}{7x} = 2$. 114(C). মনে করি, দৈর্ঘ্য = x ও প্রস্থ = y
তাহলে, $xy = 350$
 $2(x+y) = 78$
 $\Rightarrow x+y = 39$
 $\Rightarrow x + \frac{350}{x} = 39$
 $\Rightarrow x^2 - 39x + 350 = 0$
 $\Rightarrow (x-25)(x-14) = 0$
 $\Rightarrow x = 25, 14$. 115(A). $a^3 + \frac{1}{a^3} = \left(a + \frac{1}{a}\right)^3 - 3a \cdot \frac{1}{a} \left(a + \frac{1}{a}\right) = 2^3 - 3 \times 2 = 8 - 6 = 2$. 116(A).

- $$\frac{(573)^3 + (227)^3}{(573)^2 - 573 \times 227 + (227)^2} = \frac{(573+227)((573)^2 - 573 \times 227 + (227)^2)}{((573)^2 - 573 \times 227 + (227)^2)} = 800$$
. 117(A).
118(B). মনে করি, শ্রী শর্মার উপার্জন x টাকা।
তাহলে, $x - \left(\frac{30}{100}x + \frac{10}{100}x\right)$
 $= x - \frac{40}{100}x = \frac{60}{100}x$
এখন, $\frac{60}{100}x \times \frac{50}{100} = 3000$
 $\Rightarrow x = 3000 \times \frac{100}{60} \times \frac{100}{50}$
 $= 10000$. 119(D). প্রথম সংখ্যা = x
দ্বিতীয় সংখ্যা = y
তাহলে, $\frac{5}{8}x = \frac{1}{2}y$
 $\Rightarrow 10x = 8y \Rightarrow 5x = 4xy$
তাহলে, $\frac{x}{y} = \frac{4}{5}$
তাহলে, $x : y = 4 : 5$.

PART-V EVS

- 120(B). 121(A). 122(D). 123(B). 124(D). 125(C).
126(C). 127(A). 128(D). 129(B). 130(D). 131(C).
132(A). 133(C). 134(A). 135(D). 136(C). 137(D).
138(C). 139(A). 140(C). 141(C). 142(D). 143(C).
144(C). 145(C). 146(D). 147(D). 148(D). 149(D).
150(D).

দক্ষিণ রেল ২,৬৫২ অ্যাপ্রেন্টিস

১ পাতার পর

৪৫৬টি (জেনা: ২৩১, ও.বি.সি. ১২২, তঃজা: ৬৮, তঃউঃজা: ৩৫)। এর মধ্যে প্রতিবন্ধী ৭, প্রাসংক: ৬। পেইন্টার ৬৪টি (জেনা: ৩৩, ও.বি.সি. ১৭, তঃজা: ৯, তঃউঃজা: ৫)। কার্পেন্টার ১৫৪টি (জেনা: ৭৮, ও.বি.সি. ৪১, তঃজা: ২৩, তঃউঃজা: ১২)। ওয়্যারম্যান ৬৮টি (জেনা: ৩৫, ও.বি.সি. ১৮, তঃজা: ১০, তঃউঃজা: ৫)।

বিজ্ঞান বিষয় নিয়ে মাধ্যমিক পাশরা আই.টি.আই. থেকে প্রাথমিক, ইলেক্ট্রিশিয়ান, ট্রেডের সার্টিফিকেট কোর্স পাশ হলে প্রাথমিক ও ইলেক্ট্রিশিয়ান ট্রেডের জন্য যোগ্য। প্রাথমিক ১০৮টি (জেনা: ৫৬, ও.বি.সি. ২৮, তঃজা: ১৬, তঃউঃজা: ৮)। ইলেক্ট্রিশিয়ান ৭৩৪টি (জেনা: ৩৭২, ও.বি.সি. ১৯৬, তঃজা: ১১২, তঃউঃজা: ৫৪)।

কর্মসংস্থান

বিক্রি বেড়েছে। এই সঙ্গে কাগজ ও আনুষঙ্গিক খরচ বেড়েছে ৪০%। ডুবু বিজ্ঞাপনদাতাদের ওপর যাতে বিশাল আর্থিক চাপ না পড়ে, সেজন্য বিজ্ঞাপন দর নামমাত্র বাড়ানো হচ্ছে।

২০১৮ সালের ১ এপ্রিল থেকে প্রযোজ্য দর হবে:

প্রদর্শন বিজ্ঞাপন	
প্রতি বর্গ সেমি (সাদা-কালো)	৪৯৫ টাকা
প্রতি বর্গ সেমি (রঙিন)	৫৬৫ টাকা
সংবাদ বিজ্ঞাপন	৬৫০ টাকা
প্রথম পাতায়	
*৩পত্রের ডান কোণের প্যানেল (রঙিন) (১০.৩ সেমি x ২.৫ সেমি)	৩০,০০০ টাকা
*১০৫ বর্গ সেমির বিজ্ঞাপন (রঙিন)	৯০,০০০ টাকা
*১০৫ বর্গ সেমির বিজ্ঞাপন (রঙিন, বাদিক)	৮৫,০০০ টাকা
দ্বিতীয় পাতায়	
৩মুদ্রা ২টি পত্রিকায় বিজ্ঞাপনের জন্য প্রতি বর্গ সেমি (রঙিন)	৬৬০ টাকা
শ্রেণিবদ্ধ বিজ্ঞাপন	
*প্রতি লাইন (শিক্ষা কলামের জন্য)	৩৫০ টাকা
*প্রতি লাইন (কর্মখালি কলামের জন্য)	৫০০ টাকা
*মোট হরফের প্রতি লাইন (৩মুদ্রা প্রথম ৩ লাইন)	বিভিন্ন
*নিজের ছবি (২.৫ x ২ সেমি) দিয়ে শিক্ষা কলামে বিজ্ঞাপন	৩,০০০ টাকা
*সর্বোচ্চ ১ সেমি উচ্চতার কালোর ডের সাদা হরফে লেখা বঙ্গ-সহ শ্রেণিবদ্ধ-প্রদর্শন বিজ্ঞাপন শিক্ষার ক্ষেত্রে (লাইন পিছু ব্যয় কিন্তু অতিরিক্ত)	২,২০০ টাকা
*সর্বোচ্চ ১.৫ সেমি উচ্চতার কালোর ডের সাদা হরফে লেখা বঙ্গ-সহ শ্রেণিবদ্ধ-প্রদর্শন বিজ্ঞাপন শিক্ষার ক্ষেত্রে (লাইন পিছু ব্যয় কিন্তু অতিরিক্ত)	২,২৫০ টাকা
*সর্বোচ্চ ১ সেমি উচ্চতার রঙিন বঙ্গ-সহ শ্রেণিবদ্ধ-প্রদর্শন বিজ্ঞাপন শিক্ষার ক্ষেত্রে (লাইন পিছু ব্যয় কিন্তু অতিরিক্ত)	২,৮০০ টাকা
*সর্বোচ্চ ১.৫ সেমি উচ্চতার রঙিন বঙ্গ-সহ শ্রেণিবদ্ধ-প্রদর্শন বিজ্ঞাপন শিক্ষার ক্ষেত্রে (লাইন পিছু ব্যয় কিন্তু অতিরিক্ত)	২,৫০০ টাকা
*সর্বোচ্চ ১ সেমি উচ্চতার কালোর ডের সাদা হরফে লেখা বঙ্গ-সহ শ্রেণিবদ্ধ-প্রদর্শন বিজ্ঞাপন কর্মখালির ক্ষেত্রে (লাইন পিছু ব্যয় কিন্তু অতিরিক্ত)	৩,৩০০ টাকা
*সর্বোচ্চ ১.৫ সেমি উচ্চতার কালোর ডের সাদা হরফে লেখা বঙ্গ-সহ শ্রেণিবদ্ধ-প্রদর্শন বিজ্ঞাপন কর্মখালির ক্ষেত্রে (লাইন পিছু ব্যয় কিন্তু অতিরিক্ত)	৩,২০০ টাকা
*সর্বোচ্চ ১ সেমি উচ্চতার রঙিন বঙ্গ-সহ শ্রেণিবদ্ধ-প্রদর্শন বিজ্ঞাপন কর্মখালির ক্ষেত্রে (লাইন পিছু ব্যয় কিন্তু অতিরিক্ত)	৩,৯০০ টাকা
*সর্বোচ্চ ১.৫ সেমি উচ্চতার রঙিন বঙ্গ-সহ শ্রেণিবদ্ধ-প্রদর্শন বিজ্ঞাপন কর্মখালির ক্ষেত্রে (লাইন পিছু ব্যয় কিন্তু অতিরিক্ত)	৩,৯০০ টাকা
*একটিমাত্র স্তরে ৩মুদ্রা	৭০০ টাকা
*রঙিন (একটিমাত্র রঙের ক্ষেত্রে)	১৫০০ টাকা
*একাদিক অতিরিক্ত রঙের ক্ষেত্রে (১ সেমি ও ১.৫ সেমি উচ্চতার রঙিন জায়গায় রঙিন হরফে লেখা)	১৬৫০ টাকা
*পছন্দসই জায়গায় বিজ্ঞাপনের জন্য	২৫% অতিরিক্ত

এর মধ্যে প্রতিবন্ধী ১২, প্রাসংক: ১০।

ফিজিক্স ও কেমিস্ট্রি বিষয় নিয়ে মাধ্যমিক পাশরা ইলেক্ট্রনিক্স মেকানিক ট্রেডের সার্টিফিকেট কোর্স পাশ হলে ইলেক্ট্রনিক্স মেকানিক ট্রেডের জন্য যোগ্য। শূন্যপদ : ১১২টি (জেনা: ৫৭, ও.বি.সি. ৩০, তঃজা: ১৬, তঃউঃজা: ৯)।

মাধ্যমিক পাশরা আই.টি.আই. থেকে মেকানিক (ডিজেল) মেন্টেন্যান্স, অ্যাডভান্স ওয়েল্ডার, ইলেক্ট্রনিক্স/ইনফর্মেশন টেকনোলজি, ইলেক্ট্রনিক্স মেকানিক ট্রেডের সার্টিফিকেট কোর্স পাশ হলে সংশ্লিষ্ট ট্রেডের জন্য যোগ্য। শূন্যপদ : মেকানিক ডিজেল ১০৪টি (জেনা: ৫৩, ও.বি.সি. ২৮, তঃজা: ১৫, তঃউঃজা: ৮)। অ্যাডভান্স ওয়েল্ডার ২৪টি (জেনা: ১২, ও.বি.সি. ৬, তঃজা: ৮, তঃউঃজা: ২)। ইলেক্ট্রনিক্স মেকানিক ১১২টি (জেনা: ৫৭, ও.বি.সি. ৩০, তঃজা: ১৬, তঃউঃজা: ৯)। ইলেক্ট্রনিক্স/ইনফর্মেশন টেকনোলজি ২৯টি (জেনা: ১৫, ও.বি.সি. ৮, তঃজা: ৮, তঃউঃজা: ২)। ইলেক্ট্রনিক্স মেকানিক ২০টি (জেনা: ১০, ও.বি.সি. ৫, তঃজা: ৩, তঃউঃজা: ২)।

ফিজিক্স ও কেমিস্ট্রি বিষয় নিয়ে মাধ্যমিক পাশরা আই.টি.আই. থেকে রেফ্রিজারেশন অ্যান্ড এ.সি. মেকানিক বা, ড্রাফটসম্যান (সিভিল) ট্রেডের সার্টিফিকেট কোর্স পাশ হলে রেফ্রিজারেশন অ্যান্ড এ.সি. মেকানিক ও ড্রাফটসম্যান (সিভিল) ট্রেডের জন্য যোগ্য। রেফ্রিজারেশন অ্যান্ড এ.সি. মেকানিক ১২টি (জেনা: ৬, ও.বি.সি. ৩, তঃজা: ২, তঃউঃজা: ১)। ড্রাফটসম্যান (সিভিল) ৫০টি (জেনা: ২৫, ও.বি.সি. ১০, তঃজা: ৮, তঃউঃজা: ৪)। ফিজিক্স, কেমিস্ট্রি ও বায়োলজি বিষয় নিয়ে উচ্চমাধ্যমিক পাশরা 'মেডিক্যাল ল্যাবরেটরি টেকনিশিয়ান (রেডিওলজি)' ও 'মেডিক্যাল ল্যাবরেটরি টেকনিশিয়ান (প্যাথলজি)' পদের জন্য যোগ্য। শূন্যপদ : মেডিক্যাল ল্যাবরেটরি টেকনিশিয়ান ৮টি (জেনা: ৪, ও.বি.সি. ২, তঃজা: ১, তঃউঃজা: ১)। মেডিক্যাল

ল্যাবরেটরি টেকনিশিয়ান (প্যাথলজি) ৮টি (জেনা: ৪, ও.বি.সি. ২, তঃজা: ১, তঃউঃজা: ১)।

বয়স হতে হবে ১২-৩-২০১৮'এর হিসাবে ১৫ থেকে ২৪ বছরের মধ্যে। তপশিলীরা ৫ বছর, ও.বি.সি.রা ৩ বছর, শারীরিক প্রতিবন্ধীরা ১০ বছর আর প্রাক্তন সমরকর্মীরা যথারীতি বয়সে ছাড় পাবেন। সব ট্রেডই ১ বছরের। এই পদের বিজ্ঞপ্তি নং : SGW/P.98/BTC/Vol.XIX Act / Trade Apprentice. Date: 12th March-2018.

১৯৬১ সালের অ্যাপ্রেন্টিস আইন ও ১৯৬২ সালের অ্যাপ্রেন্টিস নিয়মানুযায়ী ট্রেনিং। তখন স্টাইপেন্ড পাবেন। হস্টেল নেই। ট্রেনিং শেষে চাকরি পাওয়ার সম্ভাবনা থাকলেও কোনো বাধ্যবাধকতা নেই। মাধ্যমিকে পাওয়া নম্বর দেখে ও আই.টি.আই. কোর্স পাশের সার্টিফিকেট ও অন্যান্য প্রমাণপত্র দেখে প্রাথমিকভাবে বাছাই প্রার্থীদের মেধা তালিকা তৈরি হবে। কোনো লিখিত পরীক্ষা বা, ইন্টারভিউ হবে না। উচ্চ শিক্ষাগত যোগ্যতা থাকলে বাড়তি কোনো সুযোগ পাবেন না।

দরখাস্ত করবেন সাধারণ কাগজে, নিচের বয়ানে। তখন সঙ্গে দেবেন : (১) গেজেটেড অফিসারের প্রত্যয়িত করা ১ কপি পাশপোর্ট মাপের ফটো, (২) বয়স, শিক্ষাগত যোগ্যতা ও কাস্ট সার্টিফিকেটের প্রত্যয়িত নকল, (৩) এমপ্লয়মেন্ট এক্সচেঞ্জ কার্ডের রেজিস্ট্রেশন নম্বর, (৪) আধার কার্ডের প্রত্যয়িত নকল, (৫) এখনকার তোলা ৩.৫x৩.৫ সেমি মাপের রঙিন ফটো (দরখাস্তের নির্দিষ্ট জায়গায় স্টেটে), (৬) গেজেটেড অফিসারের দেওয়া কন্সট্রাক্ট সার্টিফিকেট, (৭) ১০০ টাকার পোস্টাল অর্ডার। 'Work Shop Personnel Officer / S&T Work Shop, Southern Railway-Podanur, Coimbatore - 641 023'এর অনুকূলে ও পেয়েবল আর্ট লিখবেন 'Coimbatore'. দরখাস্ত পাঠাবেন সাধারণ ডাকে। পৌছনো চাই ১১ এপ্রিলের মধ্যে। এই ঠিকানায় : The Work Shop Personnel Officer, Office of the Chief Work Shop Manager, Signal & Telecommunication Work Shop, Southern Railway - Podanur, Coimbatore - District, Tamil Nadu-641023. দরখাস্তের বয়ান :

SOUTHERN RAILWAY

Application Reg. No. [] Application Serial No. []
Application Form for engagement of Act/Trade Apprentice under the Apprentices Act, 1961 (Note: Please read the instructions carefully before filling up the application)
Application for EX. ITI [] Application for Fresher []
(Tick Mark) (Tick Mark)

Paste recent passport size photo (3.5cm x 3.5cm) not earlier than 3 months from the date of application with clear frontview without cap and sunglass. Should be attested by Gazetted officer

1 Name (in Block letter) (As in Matriculation certificate)	
2 Name of Father/Mother/Husband (As in Matriculation certificate)	
3 Full Postal Address (in block letters)	District: [] State: [] Pin code [] Mobile No: []
4 Aadhaar No (proof to be enclosed)	
5 Gender (Male/Female)	
6 Date of birth (in Christian era) & Age as applying	
7 Religion (Hindu/ Muslim/ Christian/ others)	
8 Community: General/ OBC/SC/ST (Attached certificate should not be older than one year from the date of closure of the Employment Notice with contain Non creamy layer clause)	
9 Whether Physically Challenged (Yes/No) If yes details	

Educational Qualification Act Apprentices (EX. ITI) candidates

Academic *8 th / 10 th Std	Total Mark out of	% of marks	Duration of Course	Name of the institution
Applying Trade (studied in ITI)	Total Mark out of	% of marks	Duration of Course	Name of the institution

(*8th std may be considered against Welder/ Painter/Carpenter/ Wireman Trades only the sufficient candidates had not applied at 10th std)
Educational Qualification for Trade Apprentices (Fresher to the Trade of Radiology / Pathology)

Mark secured in 12 th Std (Physics Chemistry and Biology Subject) out of	% of marks	Name of the institution	Applying Trad Radiology /Pathology

10 Whether enrolled as Apprentice earlier (YES/NO)	
11 Postal Order No & date for the amount of 100 (Exemption to SC/ST/PH/Women candidates)	Reason for exemption:
12 Personal Identification marks (as given in Transfer certificate)	1) 2)
13 Whether the wards of serving employee (Yes or no) if yes full fill the format annexed	
14 Ex-Servicemen (Yes or No)	
15 List of documents enclosed with Gazetted officer attestation	

Declaration of the candidate
I do hereby declare that all the Statements made in the application are true, complete and correct to the best of my knowledge and belief. I understand that in the event of any information being found false or incorrect or in case any ineligibility is detected before, during or after document verification my candidate will stand cancelled and all claims for engagement forfeited.

Signature of candidate (not in capital/Spaced out letter)	Left hand thumb impression	Date	Place

Check list (Office Use only)	Yes	No
Details		
Application is in the prescribed format		
Photo attestation by Gazetted officer		
Candidate signature in the application form		
Proof enclosed for Date of Birth, Community.		
Academic Qualification and Technical qualification (Attested by Gazetted officer)		
Crossed Postal order enclosed (General/ OBC)		

Grounds of rejection Pertaining to applicants

1 Applications, which are not submitted in format given	
2 Coloured Photograph as prescribed not pasted on the application / without photo Attested by Gazetted officer	
3 Not signed /incompletely signed / illegible signed application/incomplete or illegible application signed with capital / spaced out letters	
4 Under- age or Over- age, Date of birth or wrongly filled	
5 Crossed postal order not enclosed, less fees enclosed, invalid IPO, IPO Purchased before date of issue of notification and after closing/other than IPO/less	
6 Copy of OBC/SC/ST community certificate not enclosed belonging to the respective categories	
7 Left & right thumb impression not submitted/blurred/ smudged/only left or right thumb impression submitted and Identification marks column not filled up	
8 Non-enclosure of certificate/without Gazetted officer attestation on certificates/No proof enclosed 8 th /10 th /12 th Mark sheet/ITI mark sheet/Provisional certificate issued by NCVT/SCVT	
9 Not applied against trade mentioned on notification/ irrelevant trade	
10 Not possessing the prescribed % of mark (10 th /12 th ITI) 50% UR/OBC	
11 Polytechnic, Diploma and Drgree Graduate holders	
12 More than one application in single envelop/double or multiple applications	
13 Any wrong information entered in application form/ Non -compliance of any other instruction/requirement /Addressed to other unit	
14 Application received before the date of publication of notification and application received after the closing date of notification	
15	

Eligible [] Ineligible []
(Tick Mark) (Tick Mark)
Committee Member-1 Committee Member-2 Committee Member-3

রেলের গ্রুপ 'ডি' পদের সম্ভাব্য প্রশ্নোত্তর



- যে জৈব পদার্থ ভিটামিনের কার্যকরিতা বিনষ্ট করে, তাদেরকে কী বলে?
 - সিউডোভিটামিন
 - অ্যান্টিভিটামিন
 - প্রোভিটামিন
 - অ্যান্টিভিটামিন
- কোন ভিটামিনের অভাবে মানবদেহে ফ্রিনোডার্মা রোগ হয়?
 - ভিটামিন A
 - ভিটামিন C
 - ভিটামিন K
 - ভিটামিন E
- ব্যাকটেরিয়ার স্বসন কোথা হয়?
 - কোষ প্রাচীরে
 - নিউক্লিয়াসে
 - কোষপর্দায়
 - মাইটোকন্ড্রিয়াতে
- যে পদ্ধতিতে জীবকোষের প্রোটোপ্লাজমের রাসায়নিক গঠনের আকস্মিক পরিবর্তন ঘটে, তাকে কী বলে?
 - কালারেশন
 - স্ট্যাসিজেনেসিস
 - অ্যানাজেনেসিস
 - মিউটেশন
- আলোক স্বসন প্রক্রিয়া কোন অঞ্চলের উদ্ভিদে বেশি দেখা যায়?
 - পার্বত্য অঞ্চলে
 - নাতিশীতোষ্ণ অঞ্চলে
 - উষ্ণ মন্ডলে
 - হিম মন্ডলে
- ভিটামিন D-র রাসায়নিক নাম কী?
 - টোকোফেরল
 - রোটিনল
 - অ্যাসকরবিক অ্যাসিড
 - ক্যালসিফেরল
- ফাইলোকুইনন - কোন ভিটামিনের রাসায়নিক নাম?
 - ভিটামিন E
 - ভিটামিন K
 - ভিটামিন P
 - ভিটামিন B₂
- কোন খনিজ পদার্থের অভাবে মানবদেহে গলগন্ড রোগ হয়?
 - ক্রোরিন
 - আয়োডিন
 - পটাশিয়াম
 - সোডিয়াম
- মানবদেহের কোন অঙ্গ সোডিয়াম, পটাশিয়াম ইত্যাদি খনিজ মৌলের সাম্যতা বজায় রাখতে সাহায্য করে?
 - যকৃৎ
 - অগ্ন্যাশয়
 - বৃক্ক
 - পাকস্থলী
- মানবদেহের মাংসপেশি সংকোচনের জন্য কোন খনিজের প্রয়োজন?
 - পটাশিয়াম
 - সোডিয়াম
 - ম্যাগনেশিয়াম
 - আয়োডিন
- কোন ধাতু দিয়ে ইলেকট্রিক বাতের ফিলামেন্ট তৈরি হয়?
 - মিউনিয়াম
 - অ্যালুমিনিয়াম
 - তামা
 - টাংস্টেন
- কাগড় কাচার সোডার রাসায়নিক নাম কি?
 - সোডিয়াম বাই কার্বনেট
 - সোডিয়াম হাইড্রোক্সাইড
 - সোডিয়াম কার্বনেট
 - সোডিয়াম হাইপোসালফেট
- পাস্কাল - কীসের একক?
 - বায়ুপ্রবাহের অভিমুখ
 - বায়ুপ্রবাহের গতি
 - বায়ুমন্ডলের উচ্চতা
 - বায়ুমন্ডলের চাপ
- আর্গনের (Ar) পারমাণবিক সংখ্যা কত?
 - 16
 - 17
 - 18
 - 20
- ক্রোনোমিটার দিয়ে কী পরিমাপ করা হয়?
 - দূরত্ব
 - ভর
 - ওজন
 - সময়
- কোন সূত্র থেকে বলের ধারণা পাওয়া যায়?
 - নিউটনের প্রথম গতিসূত্র
 - নিউটনের দ্বিতীয় গতিসূত্র
 - নিউটনের তৃতীয় গতিসূত্র
 - আর্কিমিডিসের সূত্র
- কোনো বস্তুর রৈখিক ভরবেগ পরিবর্তনের হার বস্তুর ওপর প্রযুক্ত বলের সমানুপাতিক হয় ও বল যে দিকে প্রযুক্ত হয়, ভরবেগের পরিবর্তনও সেই দিকে হয়। - এটি কোন সূত্র?
 - নিউটনের প্রথম গতিসূত্র
 - নিউটনের দ্বিতীয় গতিসূত্র
 - নিউটনের তৃতীয় গতিসূত্র
 - পাস্কালের সূত্র
- নিচের কোনটিকে আইসোলেশন বলা হয়?
 - কোন কারণে জীবগোষ্ঠীর পৃথক হওয়ার ঘটনা
 - একটি অঞ্চলে একটি মাত্র জীবগোষ্ঠীর বসবাসের ঘটনা
 - জলাভূমিতে জীবগোষ্ঠীর বসবাসের ঘটনাকে
 - এগুলির কোনোটিই নয়
- জলে ভাসমান আনুবীক্ষণিক উদ্ভিদগোষ্ঠীকে কী বলা হয়?
 - জুপ্ল্যাংকটন
 - নেকটর
 - বেনথস
 - ফাইটোপ্ল্যাংকটন
- ইটাই - ইটাই রোগ কোন দূষণের ফলে হয়?
 - ক্যাডমিয়াম
 - অ্যাসবেস্টস
 - আর্সেনিক
 - পারদ
- কোয়ান্টাম ক্রিস্টালের রাসায়নিক নাম কি?
 - সিলিকন হাইড্রোক্সাইড
 - সিলিকন পার অক্সাইড
 - সিলিকন ডাই অক্সাইড
 - সিলিকন ডাই ফসফেট
- 1 নিউটন = কত ডাইন?
 - 10⁵
 - 10⁶
 - 10⁷
 - 10⁸
- ক্রোরোফিলের কেন্দ্রীয় খাতু কোনটি?
 - ম্যাগনেশিয়াম
 - পটাশিয়াম
 - সোডিয়াম
 - আয়রন
- নীচের কোন ভিটামিনটির মধ্যে কোবাল্ট খাতু আছে?
 - ভিটামিন B₂
 - ভিটামিন B₁₂
 - ভিটামিন B₆
 - ভিটামিন B₁₂
- নীচের কোন খনিজ পদার্থ মানবদেহের রক্তের অভিবাহী চাপ নিয়ন্ত্রণ করে?
 - সোডিয়াম
 - পটাশিয়াম
 - ম্যাগনেশিয়াম
 - ক্যালসিয়াম

কলকাতা, গুয়াহাটি, পটনা, রাঁচী, ভুবনেশ্বর-সহ সারা ভারতের ১৭টি রেলওয়ে রিক্রুটমেন্ট বোর্ডের মাধ্যমে রেল 'হেল্লার / ইলেক্ট্রিক্যাল (ওয়ার্কশপ)', 'হেল্লার / ইলেক্ট্রিক্যাল / এ.সি.', 'হেল্লার / ইলেক্ট্রিক্যাল / জেনারেল সার্ভিসেস', 'হেল্লার / ইলেক্ট্রিক্যাল / পাওয়ার', হেল্লার / ইলেক্ট্রিক্যাল / ট্রেন লাইটিং, হেল্লার / ইলেক্ট্রিক্যাল / টি.আর.ডি., হেল্লার / ইলেক্ট্রিক্যাল / টি.আর.এস., হেল্লার / ব্রিজ, হেল্লার / সিভিল, হেল্লার / সিভিল (ওয়ার্কশপ), হেল্লার / পি.ওয়ে, হেল্লার / ট্রাক মেশিন, হেল্লার / ওয়ার্ক, ট্রাক মেন্টেনার গ্রেড-IV, হেল্লার / মেকানিক্যাল, হেল্লার / মেকানিক্যাল / ক্যারোজ অ্যান্ড ওয়াগন, হেল্লার / মেকানিক্যাল / ডিজেল ইলেক্ট্রিক্যাল, হেল্লার / মেকানিক্যাল / ডিজেল মেকানিক্যাল, হেল্লার / মেকানিক্যাল (পাওয়ার), হেল্লার / এস অ্যান্ড টি, হেল্লার / এস অ্যান্ড টি (ওয়ার্কশপ), হেল্লার / সিগন্যাল, হেল্লার / টেলিকমিউনিকেশন, হেল্লার / মেডিক্যাল, হসপিটাল অ্যাটেন্ড্যান্ট, অ্যাসিস্ট্যান্ট পয়েন্টসম্যান, গেটম্যান, পোর্টার / হামাল / সুইপার কাম পোর্টার পদে ৬২,৯০৭ জন ছেলেমেয়ে নেওয়া হচ্ছে। এই পদের বেলায় প্রথমে কম্পিউটার বেসড টেস্ট হবে অনলাইনে, মে থেকে জুন মাসের মধ্যে। অনলাইন পরীক্ষায় ১০০টি অবজেক্টিভ মাল্টিপল চয়েজ টাইপের প্রশ্ন হবে এইসব বিষয়ে: (১) জেনারেল অ্যাওয়ারেনেস (কারেন্ট অ্যাফেয়ারস), (২) অঙ্ক, (৩) জেনারেল ইন্টেলিজেন্স অ্যান্ড রিজনিং, (৪) জেনারেল সায়েন্স। সময় থাকবে দেড় ঘণ্টা। কলকাতা, রাঁচী, গুয়াহাটি রেল রিক্রুটমেন্ট বোর্ডের বেলায় প্রশ্ন হবে বাংলায়। নেগেটিভ মার্কিং আছে। ৩টি প্রশ্নের ভুল উত্তরের জন্য প্রাপ্ত নম্বর থেকে ১ নম্বর কাটা হবে। এই প্রিলিমিনারি পরীক্ষার প্রস্তুতির জন্য বাছাই করা ১ সেট প্রশ্নের উত্তর নিয়ে বিশ্লেষণ করে দেখালেন প্রতিযোগিতামূলক পরীক্ষার বিশেষজ্ঞ **শুচিস্মিতা দে**।

- সম্প্রতি কোন দেশে সমুদ্রের তলদেশে বিস্তারিত বৃহত্তম গুহা আবিষ্কৃত হল?
 - রাশিয়া
 - মেক্সিকো
 - চীন
 - জাপান
- মঙ্গলজোড়ি ইকো ট্যুরিজম ট্রাস্ট কোন রাজ্যে অবস্থিত?
 - তামিলনাড়ু
 - হিমাচল প্রদেশ
 - ওড়িশা
 - সিকিম
- চন্দী লাইটু কী জন্য বিখ্যাত?
 - সরোবর বাদক
 - বাঁশি বাদক
 - কাটুনিষ্ট
 - নাট্যকার
- ভারত সরকারের কোন মন্ত্রক Liveability Index শীর্ষক সূচক তৈরির কথা সম্প্রতি ঘোষণা করল?
 - পরমাণু শক্তি মন্ত্রক
 - মানব সম্পদ উন্নয়ন মন্ত্রক
 - আবাসন ও শহর কার্য মন্ত্রক
 - রেল মন্ত্রক
- কেন্দ্রীয় পুলিশ বাহিনীগুলির সম্মিলিত নতুন গান (স্তোত্র) কোনটি?
 - ভারত কি সন্তান
 - ভারত কি সেনা
 - ভারত কি বীর
 - ভারত মাতা কি জয়?
- সম্প্রতি ভারতের কোন শহরে আন্তর্জাতিক সায়েন্স ফেস্টিভ্যাল অনুষ্ঠিত হল?
 - দিল্লি
 - বেঙ্গালুরু
 - চেন্নাই
 - লখনউ
- ভারতের সঙ্গে কোন দেশের মৈত্রী - 2 বাস সার্ভিস চালু হল?
 - নেপাল
 - মায়ানমার
 - বাংলাদেশ
 - ভূটান
- অনিন্দ্য সেনগুপ্ত কী জন্য বিখ্যাত?
 - সাংবাদিক
 - চিকিৎসক
 - চিত্রকর
 - অর্থনীতিবিদ
- কোন রাজনৈতিক দল 'যুব উদযোষ প্রকল্প' চালু করল?
 - জাতীয় কংগ্রেস
 - ভারতীয় জনতা পার্টি
 - রাষ্ট্রীয় জনতা দল
 - তৃণমূল কংগ্রেস
- নীচের কোন চলচ্চিত্রটি 2018 সালের ফিল্মফেয়ার পুরস্কারের Critics' Award for Best Film পেলে?
 - নিউটন
 - বেরিলী কি বরফি
 - খুজলি
 - তুমহারি সুমু
- কেন্দ্র সরকার 2018 সালকে কি বর্ষ হিসাবে ঘোষণা করল?
 - জাতীয় গম বর্ষ
 - জাতীয় ধান বর্ষ
 - জাতীয় মিলেট বর্ষ
 - জাতীয় তৈলবীজ বর্ষ
- অটোমেটেড মুরিংস ব্যবস্থাটি কী?
 - কৃত্রিম উপগ্রহ থেকে মহাসাগরের জীববৈচিত্র্য পর্যবেক্ষণ
 - সমুদ্র উপকূল অঞ্চলের দূষণ নিয়ন্ত্রণ
 - মহাসাগরগুলির দূষণ সংক্রান্ত তথ্য সংগ্রহ
 - স্বয়ংক্রিয় ব্যবস্থায় মহাকাশে কৃত্রিম উপগ্রহ প্রেরণ
- কোন রাজ্যে 2018 সালের কচড়া মহোৎসব অনুষ্ঠিত হল?
 - রাজস্থান
 - উত্তরপ্রদেশ
 - হরিয়ানা
 - ছত্রিশগড়
- ওয়ার্ল্ড ইকনমিক ফোরাম-এর মাধ্যমে প্রকাশিত ইনক্লুসিভ ডেভলপমেন্ট সূচকে ভারতের স্থান কত?
 - 62 তম
 - 47 তম
 - 26 তম
 - 34 তম
- কোন শহরে প্রোবাল ফেরাম ফর ফুড অ্যান্ড এগ্রিকালচার অনুষ্ঠিত হল?
 - বার্লিন
 - রোম
 - বেজিং
 - টোকিও
- ওম প্রকাশ রাওয়াল কে?
 - লোকসভার অধ্যক্ষ
 - সংসদের সেক্রেটারি
 - সুপ্রিম কোর্টের প্রধান বিচারপতি
 - মুখ্য নির্বাচন কমিশনার
- ভারতের কোন শহরে আন্তর্জাতিক বাঁধ সুরক্ষা কনফারেন্স অনুষ্ঠিত হল?
 - বেঙ্গলুরু
 - দেহাদুন
 - তিরুবনন্তপুরম
 - মানালি
- 2018 সালের আন্তর্জাতিক এশিয়া ইম্পাত কনফারেন্স কোথায় অনুষ্ঠিত হল?
 - ভুবনেশ্বর
 - জামশেদপুর
 - কলকাতা
 - ভিলাই
- নীচের কোন শহরকে ইউরোপিয়ান সংস্কৃতির রাজধানীর মর্যাদা দেওয়া হল?
 - বুদাপেস্ট
 - ডাবলিন
 - ভ্যালোটা
 - মোনাকো
- দিলীপ শিনয় নীচের কোন সংস্থায় ডিরেক্টর জেনারেল হলেন?
 - সেবি
 - ফিফি
 - প্রসার ভারতী
 - নীতি আয়োগ
- 'সচিন এ বিলিয়ন ড্রিমস' - এটি কী?
 - একটি আত্মজীবনীমূলক গ্রন্থ
 - সচিন তেডুলকরের জীবনী গ্রন্থ
 - একটি তথ্যচিত্র
 - একটি কবিতা
- 2018 সালের মহিলাদের T-20 বিশ্বকাপ কোন দেশে অনুষ্ঠিত হবে?
 - অস্ট্রেলিয়া
 - ওয়েস্ট ইন্ডিজ
 - ভারত
 - শ্রীলঙ্কা
- ওয়ান ডিস্ট্রিক্ট, ওয়ান প্রোডাক্ট - এটি কোন রাজ্যের প্রকল্প?
 - গুজরাত
 - পশ্চিমবঙ্গ
 - অসম
 - উত্তর প্রদেশ
- সম্প্রতি প্রকাশিত এনভায়রনমেন্টাল পারফরমেন্স সূচকে ভারতের অবস্থান কত?
 - 176 তম
 - 177 তম
 - 178 তম
 - 180 তম
- রাখি হালদার নীচের কোন খেলার সঙ্গে যুক্ত?
 - বক্সিং
 - কুস্তি
 - ওয়েটলিফটিং
 - হেপ্টাথলন
- 231 থেকে কোন ক্ষুদ্রতম সংখ্যা বিয়োগ করলে, বিয়োগফল 15 দিয়ে সম্পূর্ণরূপে বিভাজ্য হবে?
 - 6
 - 4
 - 3
 - 2
- 279 দিয়ে বিভাজ্য 5 অঙ্কের বৃহত্তম সংখ্যাটি কত?
 - 99603
 - 99882
 - 99550
 - কোনোটিই সঠিক নয়
- দুটি সংখ্যার লসাগু 1920 ও গসাগু 16, একটি সংখ্যা 128 হলে, অপরটি কত?
 - 204
 - 240
 - 260
 - 320
- একজন ফল বিক্রয় তার মোট ফলের 40% বিক্রি করার পর তার কাছে আরও 420টি ফল থেকে গেল। মোট কতগুলি ফল ছিল?
 - 520
 - 620
 - 700
 - 800
- একটি ক্ষুদ্রতম সংখ্যা নির্ণয় করুন যাকে 7, 8 ও 9 দিয়ে ভাগ করলে প্রতিফলিত ভাগশেষ থাকে।
 - 400
 - 480
 - 500
 - 510
- A ও B - এই দুটি সংখ্যা অপর একটি সংখ্যা C-এর চেয়ে যথাক্রমে 20% ও 50% বেশি। A ও B-র অনুপাত কত?
 - 1 : 2
 - 2 : 3
 - 3 : 4
 - 4 : 5
- কোন বৃহত্তম সংখ্যা দিয়ে 55, 127 ও 175 কে ভাগ করলে প্রতিফলিত একই ভাগশেষ থাকবে?
 - 24
 - 11
 - 16
 - 15
- কিছু টাকা সরল সুদে 15 বছরে চারগুণ হয়। বার্ষিক সুদের হার কত?
 - 10%
 - 15%
 - 20%
 - 40%
- $2x + \frac{1}{3x} = 4$ হলে, $9x^2 + \frac{1}{4x^2} = ?$
 - 35
 - 31
 - 30
 - 33
- চারটি ক্রমিক সমানুপাতী সংখ্যার প্রথম ও দ্বিতীয়টি যথাক্রমে 4 ও 16 হলে, চতুর্থ সংখ্যাটি কত?
 - 250
 - 254
 - 256
 - 260
- $a^2 + b^2 + c^2 = 77$, $ab + bc + ca = 74$ হলে, $a + b + c = ?$
 - 15
 - ±5
 - ±14
 - ±15
- $a^3 + b^3 = 200$ ও $a + b = 8$ হলে, $ab = ?$
 - 5
 - 13
 - 12
 - 11
- $a + b + c = 11$, $ab + bc + ca = 20$ হলে, $a^3 + b^3 + c^3 - 3abc = ?$
 - 121
 - 341
 - 671
 - 781
- $(32^{-1})^{\frac{-3}{5}}$ এর মান কত?
 - 4
 - 2
 - 8
 - 16
- একটি মনুমেট রং করতে প্রথম ফুটে 30 টাকা ও পরবর্তী প্রতি ফুটে অতিরিক্ত 3 টাকা খরচ হয়। 20 ফুট উচ্চতার মনুমেটটি রং করতে মোট কত টাকা খরচ হবে?
 - 1160
 - 1170
 - 1180
 - 1190
- $\left[(16)^{\frac{-3}{4}} \times (243)^{\frac{-3}{5}} \right]^{\frac{-1}{3}}$ এর মান কত?
 - 18
 - 12
 - 6
 - 24
- 25 টি সংখ্যার গড় 18, তাদের মধ্যে প্রথম 12 টি সংখ্যার গড় 14 ও শেষ 12 টির গড় 17 তাহলে 13 তম সংখ্যাটি কত?
 - 72
 - 78
 - 85
 - 28
- পরপর চারটি বিজোড় সংখ্যার গড় 12 হলে, সর্বনিম্ন কোনটি?
 - 9
 - 3
 - 5
 - অনির্ণেয়
- A, B ও C কোনো কাজ পৃথকভাবে যথাক্রমে 10 দিন, 12 দিন ও 15 দিনে করে। তারা একসঙ্গে করলে কত দিনে কাজটি শেষ হবে?
 - $2\frac{1}{2}$
 - 4
 - 3
 - $4\frac{1}{2}$
- একটি আয়তক্ষেত্রের পরিসীমা 120 মিটার। দৈর্ঘ্য 10 মিটার কমালে ও প্রস্থ 10 মিটার বাড়ালে এটি একটি বর্গক্ষেত্রে পরিণত হয়। আয়তক্ষেত্রের ক্ষেত্রফল কত বর্গমিটার?
 - 120
 - 125
 - 130
 - 135

রেলের গ্রুপ 'ডি' পদের সম্ভাব্য প্রশ্নোত্তর

$$\frac{x+x+2+x+4+x+6}{4} = 12$$

তাহলে $x = 9.69(B)$. A, B ও C 1 দিনে করে $\frac{1}{10} + \frac{1}{12} +$

$$\frac{1}{15} = \frac{1}{4}$$

তাহলে কাজটি শেষ হবে 4 দিনে। 70(B). মনে করি, দৈর্ঘ্য = a ও প্রস্থ = b

$$তাহলে a + b = \frac{120}{2} = 60 \dots\dots (1) \text{ নং সমীকরণ}$$

$$আবার শর্তানুসারে, a - 10 = b + 10$$

$$তাহলে a - b = 10 + 10 = 20 \dots\dots(2) \text{ নং সমীকরণ}$$

$$(1) \text{ ও } (2) \text{ নং সমীকরণ থেকে পাই}$$

$$a = 40, b = 20$$

$$তাহলে আয়তক্ষেত্রের ক্ষেত্রফল = 40 \times 20 = 800 \text{ বর্গ মিটার।}$$

$$71(A). \text{ লোকসংখ্যা} = \frac{72 \times 21 \times 100}{280 \times 18} = 30 \text{ 72(D). মনে করি}$$

$$\text{স্বাভাবিক সময়} = x \text{ মিনিট}$$

$$তাহলে \frac{4}{3}x - x = 15$$

$$তাহলে x = 45 \text{ মিনিট। 73(B). প্রথম 6 কিলোমিটার যেতে সময়}$$

$$= \frac{6}{4} \text{ ঘন্টা} = \frac{3}{2} \text{ ঘন্টা}$$

$$\text{পরবর্তী 4 কিলোমিটার যেতে সময়} = \frac{4}{3} \text{ ঘন্টা}$$

$$তাহলে মোট সময় = (\frac{3}{2} + \frac{4}{3}) = \frac{17}{6} \text{ ঘন্টা}$$

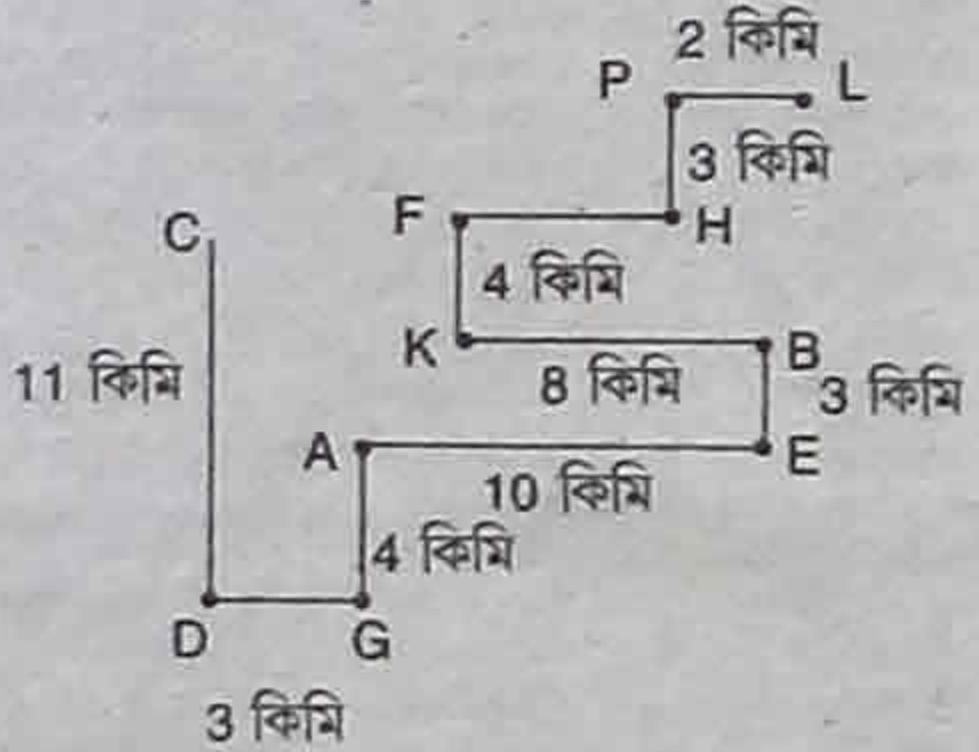
$$তাহলে গড় গতিবেগ = \frac{6+4}{\frac{17}{6}} = 3 \frac{9}{17} \text{ কিলোমিটার/ঘন্টা। 74(A).}$$

$$\text{চতুর্থ বিষয়ে প্রাপ্ত নম্বর} = (70 \times 4) - (81 + 66 + 66)$$

$$= 67. 75(D). \text{ শটকটি ফর্মুলা:}$$

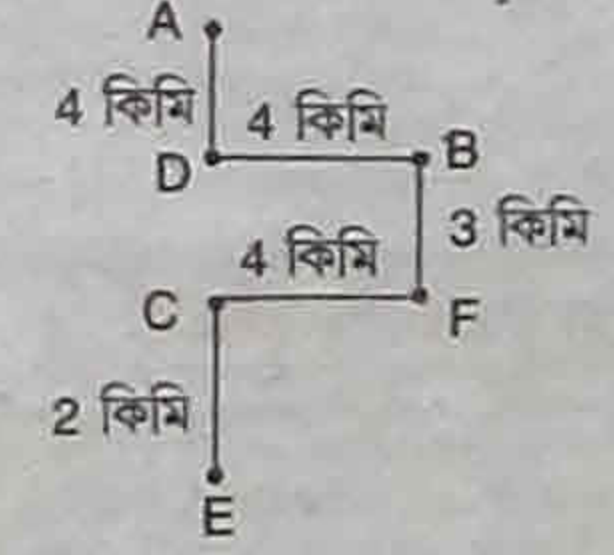
$$\text{অনুকূল বেগ} = \frac{50 \times 18 - 20 \times 30}{18 \times 10 - 30 \times 5} = 10 \text{ কিলোমিটার/ঘন্টা।}$$

76(C). 77(A). 78(A). 79(C). 80(D). 81(C). প্রত্যেকটি অক্ষর থেকে -4 করা হয়েছে। 82(A). প্রত্যেকটি অক্ষর থেকে +3, -3, +3, -3, ... হয়েছে। 83(C). প্রত্যেকটি অক্ষর থেকে +1, +2, +3, +4, ... হয়েছে। 84(B). প্রথম চারটি অক্ষর থেকে +4, পরের চারটি অক্ষর থেকে -4 হয়েছে। 85(A). প্রত্যেকটি অক্ষর থেকে +6, -7, +6, -7, ... হয়েছে। 86(D). প্রত্যেকটি অক্ষর থেকে -2 হয়েছে। প্রশ্ন 87-90 : চিত্রটি নীচের মতো হবে।



87(A). 88(D). 89(D). 90(C).

প্রশ্ন 91-95 : চিত্রটি নীচের মতো হবে।



91(B). 92(D). 93(C). 94(D). 95(C).

প্রশ্ন 96-100 : মনে করি, মনোজের বয়স x বছর। তাহলে রাণুর বয়স 2x বছর। তাহলে দিলীপের বয়স 4x বছর। তাহলে লীনার বয়স 8x বছর। তাহলে বর্মার বয়স $\frac{x}{2}$ বছর। তাহলে বড় থেকে

ছোটো = লীনা > দিলীপ > রাণু > মনোজ > বর্মা।

96(D). 97(C). 98(C). 99(D). 100(A).

B-র 3 কিলোমিটার দক্ষিণ দিকে E অবস্থিত।

H-র 6 কিলোমিটার পশ্চিম দিকে F অবস্থিত।

B-র 8 কিলোমিটার পশ্চিম দিকে K অবস্থিত।

H-র 3 কিলোমিটার উত্তর দিকে P অবস্থিত।

87. কোন দুটি বিন্দুর দূরত্ব সর্বাধিক?
(A) LD (B) CD (C) CA (D) HL

88. A ও D-র দূরত্ব কত কিলোমিটার?
(A) 3 (B) 10 (C) 13 (D) 5

89. A ও C-র দূরত্ব নীচের কোন দুটি বিন্দুর দূরত্বের সমান?
(A) AB (B) FB
(C) HK (D) কোনোটিই নয়

90. নীচের কোন বিন্দু দুটির মধ্যে দূরত্ব সবচেয়ে কম?
(A) PF (B) BH (C) LH (D) AD

নির্দেশ (প্রশ্ন 91 - 95) : ছয়টি গ্রাম A, B, C, D, E ও F নিচের মতো অবস্থিত। E গ্রামটি C গ্রামের 2 কিলোমিটার দক্ষিণে অবস্থিত। F গ্রামটি B গ্রামের 3 কিলোমিটার দক্ষিণে অবস্থিত। A গ্রামটি D গ্রামের 4 কিলোমিটার উত্তরে অবস্থিত। C গ্রামটি F গ্রামের 4 কিলোমিটার পশ্চিমে অবস্থিত। B গ্রামটি D গ্রামের 4 কিলোমিটার পূর্বে অবস্থিত।

91. নীচের কোন দুটি গ্রামের দূরত্ব F ও D -এর দূরত্বের সমান?
(A) E ও F (B) C ও B (C) A ও B (D) C ও A

92. নীচের কোন তিনটি গ্রাম একই সরলরেখায় অবস্থিত?
(A) D, F, E (B) E, C, B (C) F, C, B (D) D, E, C

93. B ও C গ্রাম দুটি দূরত্ব কত কিলোমিটার?
(A) 7 (B) 6 (C) 5 (D) 4

94. নীচের কোন সম্পর্কটি বাকিদের চেয়ে আলাদা?
(A) D ও E (B) F ও D (C) C ও B (D) A ও C

95. A থেকে E -র দূরত্ব কত?
(A) 7 (B) 8 (C) 9 (D) 10

নির্দেশ (প্রশ্ন 96 - 100) : দিলীপ, রাণু, মনোজ, বর্মা ও লীনা হল ৫ বন্ধু। দিলীপের বয়স রাণুর দ্বিগুণ। মনোজের বয়স রাণুর অর্ধেক। দিলীপের বয়স লীনার অর্ধেক। মনোজের বয়স বর্মার দ্বিগুণ।

96. কে সবচেয়ে ছোটো?
(A) দিলীপ (B) রাণু (C) মনোজ (D) বর্মা

97. কে সবচেয়ে বড়?
(A) মনোজ (B) বর্মা (C) লীনা (D) দিলীপ

98. দিলীপ কার চেয়ে ছোটো?
(A) মনোজ (B) রাণু (C) লীনা (D) কোনোটিই সঠিক নয়

99. কোন দু'জনের বয়স একই?
(A) রাণু ও বর্মা (B) দিলীপ ও রাণু
(C) রাণু ও মনোজ (D) কোনোটিই সঠিক নয়

100. যদি রাণুর বয়স 24 বছর হলে বর্মার বয়স কত?
(A) 6 বছর (B) 4 বছর (C) 8 বছর (D) 12 বছর

চটপট উত্তরের বিশ্লেষণ

1(D). 2(A). 3(C). 4(D). 5(B). 6(D). 7(B). 8(B). 9(C). 10(A). 11(D). 12(C). 13(D). 14(C). 15(D). 16(B). 17(B). 18(A). 19(D). 20(D). 21(C). 22(A). 23(A). 24(D). 25(A). 26(B). 27(C). 28(C). 29(C). 30(C). 31(D). 32(C). 33(A). 34(B). 35(A). 36(C). 37(C). 38(D). 39(A). 40(A). 41(D). 42(C). 43(A). 44(C). 45(B). 46(C). 47(B). 48(D). 49(B). 50(C).

51(A). 15 দিয়ে বিভাজ্য 231 এর নিকটমতী সংখ্যা = 225 তাহলে (231 - 225) = 6 বিয়োগ করতে হবে। 52(B). পাঁচ অঙ্কের বৃহত্তম সংখ্যা 99999 কে 279 দিয়ে ভাগ করলে 117 ভাগশেষ থাকে। তাহলে (99999 - 117) = 99882 সংখ্যাটি 279 দিয়ে বিভাজ্য

পাঁচ অঙ্কের বৃহত্তম সংখ্যা। 53(B). সংখ্যাটি হল $\frac{1920 \times 16}{128} = 240$. 54(C). 40% বিক্রি হলে বাকি থাকে 60% তাহলে শর্তানুসারে 60% = 420 তাহলে 100% = $\frac{420 \times 100}{60} = 700$. 55(D). নির্ণয় সংখ্যাটি হল 7, 8, 9 এর লসাগু + 6 = 504 + 6 = 510. 56(D). মনে করি, C = 100

KAUTILYA
CIVIL SERVICE ACADEMY
Dum Dum Cantonment, Kol-65
9836336298
9836041198
-এবছরের শেষ ব্যাচ-
Rail Gr. D
(Vacancy : 62907)
WBP, Constable, SI
UPSC-Civil Service
C-SAT & General Studies / Mains
WBCS'18 Mains
WBCS'19 Preli.
SBI Clerk, Police
PSC-Misc., Clerk
নিশ্চিত সাফল্যের জন্য এই বই দু'মাসের
এখানে আপনাকে আসতেই হবে

(A) 805 (B) 800 (C) 810 (D) 790

71. 72 জন লোক 280 মিটার লম্বা দেওয়াল 21 দিনে গাঁথতে পারে।

কত জন লোক 18 দিনে 100 মিটার দেওয়াল গাঁথতে পারবে?
(A) 30 (B) 10 (C) 18 (D) 28

72. স্বাভাবিক বেগের $\frac{3}{4}$ অংশ বেগে হাঁটলে, এক ব্যক্তি 15 মিনিট.

দেয়তে পৌঁছায়। তার পৌঁছানোর স্বাভাবিক সময় কত মিনিট?
(A) 42 (B) 30 (C) 60 (D) 45

73. এক ব্যক্তি ঘন্টায় 4 কিলোমিটার গতিবেগে 6 কিলোমিটার রাস্তা

ও ঘন্টায় 3 কিলোমিটার গতিবেগে 4 কিলোমিটার রাস্তা অতিক্রম

করে। সমগ্র যাত্রাপথের তার গড় গতিবেগ কত?
(A) $9 \frac{3}{17}$ কিলোমিটার/ঘন্টা (B) $3 \frac{9}{17}$ কিলোমিটার/ঘন্টা

(C) $5 \frac{9}{17}$ কিলোমিটার/ঘন্টা (D) $3 \frac{5}{9}$ কিলোমিটার/ঘন্টা

74. এক ছাত্র একটি পরীক্ষায় 70% নম্বর পেলে। সে চারটি বিষয়ের

পরীক্ষা দিয়েছিল। তিনটি বিষয়ে সে যথাক্রমে 81, 66 ও 66 নম্বর

পেয়েছিল। যদি প্রতি বিষয়ের পরীক্ষা 100 নম্বরে হয়ে থাকে, তাহলে

সে চতুর্থ বিষয়ে কত পেয়েছিল?
(A) 67 (B) 66 (C) 65 (D) 64

75. এক ব্যক্তির স্রোতের অনুকূলে 20 কিলোমিটার ও প্রতিকূলে 18

কিলোমিটার যেতে মোট 5 ঘন্টা সময় লাগে। আবার স্রোতের অনুকূলে

50 কিলোমিটার ও প্রতিকূলে 30 কিলোমিটার যেতে মোট 10 ঘন্টা

সময় লাগে। স্রোতের অনুকূলে নৌকার বেগ ঘন্টায় কত কিলোমিটার?
(A) 25 (B) 20 (C) 15 (D) 10

76. A হল B-র ভাই। C হল D-র পিতা। E হল B-র মাতা। A ও

D হল দুই ভাই। E, C-র কেহুয়?
(A) বোন (B) ভাইজি (C) স্ত্রী (D) মাতা

77. শূন্যস্থানটি পূরণ করুন : DHL, PTX, BFJ, ...?
(A) NRV (B) RVZ (C) CGK (D) KOS

78. অনিল একটি মিটিংয়ে যোগদান করার জন্য শুক্রবার দিল্লিতে

পৌঁছেছে। দিল্লি পৌঁছে সে জানতে পারল, সে নির্দিষ্ট দিনের 3 দিন

আগে এসে গেছে। যদি সে পরের রবিবার এসে পৌঁছত, তাহলে সে

মিটিংয়ের দিনের কতদিন আগে বা পরে পৌঁছত?
(A) 1 দিন আগে (B) 1 দিন পরে (C) 2 দিন পরে (D) 2 দিন আগে

79. শূন্যস্থানটি পূরণ করুন : AD, FC, HK, MJ, ...?
(A) NQ (B) OQ (C) OR (D) MP

80. নীচের কোন শব্দটি EXEMPLIFICATION শব্দটির অক্ষরগুলি

থেকে তৈরি করা যায় না?
(A) Fixation (B) Example (C) Axe (D) Extra

নির্দেশ (প্রশ্ন 81 - 86) : নীচের প্রদত্ত শব্দগুলির সঠিক কোড নির্ণয়

করুন।
81. NASTY = JWOPU, DEMAND = ?
(A) ZAIWJU (B) ZAIWEZ (C) ZAIWJZ (D) ZADWJZ

82. POLYGON = SLOVJLO, SERVANT = ?
(A) VBUSDKW (B) VBUSDKZ (C) VBUSHKW (D) VBUSDKS

83. ELEVEN = FNHZIT, TWELVE = ?
(A) UYHPBK (B) UYHPAM (C) UYHPAK (D) UYKPAK

84. MOSQUITO = QSWUQEPK, COMMERCE = ?
(A) GSQQIVGI (B) GSQQANYA
(C) GSQQIGVI (D) GSQQAYNA

85. CAREER = ITXXKK, NOTICE = ?
(A) THZBIX (B) THZBJX (C) THMBIX (D) TIZBIX

86. RADIO = PYBGM, SCHOOL = ?
(A) QAFNMJ (B) QAFMNJ(C) QAEMMJ (D) QAFMMJ

নির্দেশ (প্রশ্ন 87 - 90) : কিছু বিন্দু নিম্নরূপে অবস্থিত।

C-র 11 কিলোমিটার দক্ষিণ দিকে D অবস্থিত।

K-র 4 কিলোমিটার উত্তর দিকে F অবস্থিত।

A-র 10 কিলোমিটার পূর্ব দিকে E অবস্থিত।

L-র 2 কিলোমিটার পশ্চিম দিকে P অবস্থিত।

G-র 3 কিলোমিটার পশ্চিম দিকে D অবস্থিত।

G-র 4 কিলোমিটার উত্তর দিকে A অবস্থিত।